

# الوحدة الخامسة: القيمة المكانية

عنوان الدرس

الدّرس 3

العشرات



## ناتج التعلم



إيجاد عدد العشرات في عدد  
معين من الأحاد



## المفردات



# عشرة



الاستكشاف  
و  
الشرح



التاريخ : 2023-2-6

اليوم : الاثنين

نتائج التعلم : إيجاد عدد العشرات في عدد معين من

عنوان الدرس

العشرات

الأحاد

الدرس 3

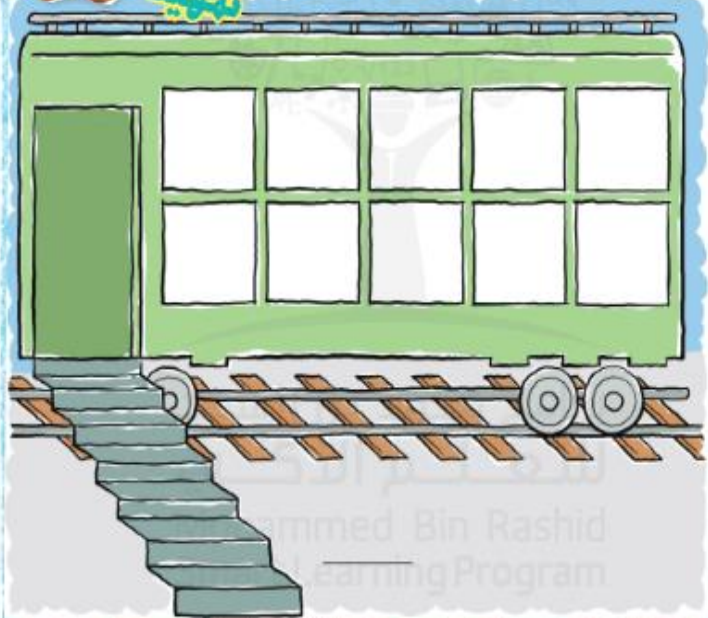
الأسئلة الأساسية  
كيف نكتب استخدام القيمة  
المكانية؟

العشرات



الاستكشاف والشرح

تمثيل الطريق!



359



الإمارات العربية المتحدة  
وزارة التربية والتعليم



2020-2021


الرياضيات

نسخة الإمارات العربية المتحدة



## الاستكشاف والشرح:



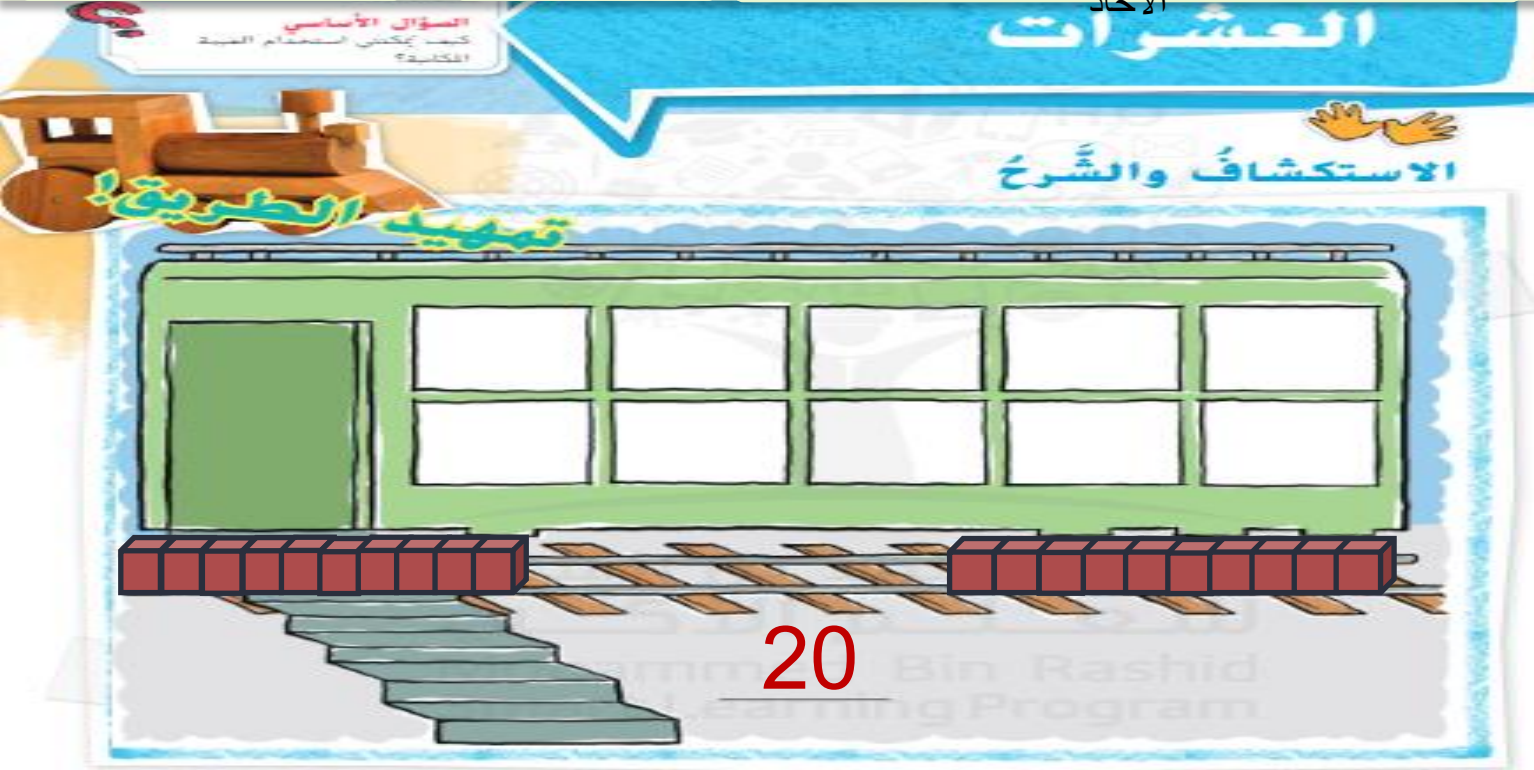
ضع  واحدة في كل نافذة من عربات القطار. ضم المكعبات إلى بعضها البعض لتكوين قطار ثم حرك هذا القطار على المسار. كرر العمل نفسه مرتين . ثم عد بالعشرات و اكتب العدد



صفحة

359





صفحة  
359

توجيهات المعلم: ضع قطعة 🧩 واحدة في كل نافذة من عربات القطار، ضم المكعبات إلى بعضها البعض لتكوين قطار ثم حرك هذا القطار على المسار. كرر العمل نفسه مرتين، ثم عد بالعشرات واكتب العدد.








التمارين  
الرياضية

## الملاحظة والحساب

يُمكنك تجميع 10 أحاد لتكوين عَشْرَة



=



30

ثلاثون

=

عشرات

3

### إرشاد مفيد

هذه المكعبات هي مجموعات مكونة  
من 10. عدّ بالعشرات لإيجاد عدد  
المكعبات الموجودة فيها جميعاً.

صفحة

360



## هيا نعد العشرات ..



## سؤال التحدي

مع سلامه 4 علب حلوى و في كل علبة 10 قطع من  
الحلوى. إذا أضافت 5 علب أخرى في كل علبة 10  
قطع. فما عدد كل قطع الحلوى إجمالاً؟

مهارات تفكير

90



# أتعلم بذاتي

إِسْتَحْدِمْ 🍪. كَوْنْ مَجْمُوعَاتٍ مِنْ عَشْرَاتٍ، ثُمَّ عُدَّ بِالْعَشْرَاتِ وَاكْتُبِ الْأَعْدَادَ.



صفحة


360



# حديث في الرياضيات



كيف أحدد عدد العشرات في 70  
مكعباً؟



70





فتح  
الكتاب  
أعتمد على نفسي

صفحة: 361





# أنشطة تفاعلي



## نشاط

ماذا نشاهد هنا؟  
ماذا يمكنني أن أفعل بهذه  
النقود؟

من سيرينا مجموعة  
من العشرات .



<https://www.liveworksheets.com/ie1476485xm>

ورقة عمل  
تفاعلية





# وحش الكوكيز

Cookies Monster



# 5 عشرات



15

50

5

# 8 عشرات









النماذج  
الرياضية

استعملوا!



سيارة

70

حل المسائل



9. مع يوسف 7 مجموعات من السيارات. يوجد 10 سيارات في كل مجموعة. فما عدد السيارات التي معه إجمالاً؟


10. تقوم موزة بإعداد غلب من كعكات التمر لتوزعها على 4 من صديقاتها بمناسبة عيد الفطر. مع العلم بأن كل غلبة منها تسع لـ 10 كعكات. فما عدد كعكات التمر التي سيلزم إعدادها؟

كعكة

40



ماذا تعلمنا من درس  
اليوم؟





# التقويم الختامي


تقييم ختامي

<https://wordwall.net/ar/resource/366553/%D8%B9%D8%AF-%D8%A7%D9%84%D8%B9%D8%B4%D8%B1%D8%A7%D8%A>  
A

لعبة

wordwall





استمتعت كثيراً برفعتكم أصدقائي  
الأطفال ، شكراً لتفاعلكم ونلقاكم  
غدا ان شاء الله

