

عد واكتب قيمة العملات يا صغيري -----::



..... فلسات فلساً فلساً فلساً فلساً فلساً فلساً = فلساً



..... فلسات فلساً فلساً فلساً فلساً فلساً فلساً = فلساً



..... درهم فلساً فلساً فلساً فلساً فلساً فلساً = فلساً



..... فلساً فلساً فلساً فلساً فلساً فلساً فلساً = فلساً

..... فلساً

..... فلساً فلساً فلساً فلساً فلساً فلساً فلساً

ربط الصورة بقيمة العملة

صورة النخلة = واحد فلساً صورة السمكة = 5 فلسات

صورة السفينة = 10 فلسات صورة الغزال = 25 فلساً

صورة الأبراج = 50 فلساً صورة دلة القهوة = درهم واحد



معلوماتي :-

العملة تعني القطعة المعدنية

الفئة تعني قيمة العملة (1-10-5-25) فلساً

100 فلس = 1 درهم

20 قطعة من فئة 5 فلس = 1 درهم

10 قطع من فئة 10 فلس = 1 درهم

4 قطع من فئة 25 فلس = 1 درهم

2 قطعة من فئة 50 فلس = 1 درهم

الفئة

العملة

ادخرت علياء في صندوق الاموال الخاص بها درهم و 3 عملات من فئة 10 فلسات فأخذت والدتها منها درهماً واحداً و 20 فلساً كم بقي مع خولة من العملات ؟

مع سامي 5 عملات من فئة 25 فلساً واعطاه صديقه عملتان من فئة 10 فلساً كم يمتلك سامي من العملات ؟

تريد خولة شراء دمية بمبلغ درهم واحد و 25 فلساً وخولة تمتلك 4 عملات من فئة 25 فلساً و 4 عملات من فئة 10 فلساً . هل سيكون المبلغ مع خولة لشراء الدمية ؟

مع راشد 8 عملات من فئة 25 فلساً و عملتان من فئة 5 فلساً و 4 عملات من فئة فلساً واحداً كم يمتلك راشد من المبلغ ؟

تريد خولة شراء دمية بمبلغ درهم واحد و 25 فلساً وخولة تمتلك 4 عملات من فئة 25 فلساً و 8 عملات من فئة 10 فلساً . هل سيكون المبلغ مع خولة لشراء الدمية ؟

الرجاء استخدام رسم العملات لحل المسائل الكلامية


عد واكتب قيمة العملات يا صغيري -----::




.... فلسات فلساً.....فلساً
..... فلساً فلساً.....فلساً..
فلساً.....فلساً = فلساً



..... فلسات فلساً فلساً
..... فلساً فلساً.....فلساً فلساً
.....فلساً.....فلساً = فلساً



.....درهم..... فلسات فلساً
فلساً.....فلساً = فلساً
.....



.....درهم..... فلسات فلساً
.....فلساً.....فلساً = فلساً

حوط يا صغيري الفلسات التي تساوي درهم واحد



حوظ الاجابة الصحيحة يا بطل :-

1 - عدد الفلسات



100 فلساً ☐

50 فلساً ☐

57 فلساً ☐

25 فلساً ☐

الفلسات



2 - عدد

4 فلساً ☐

51 فلساً ☐

40 فلساً ☐

4 فلساً ☐

3 - عملتان من فئة 25 فلساً تساوي بالفلسات

6 فلساً ☐

7 فلساً ☐

50 فلساً ☐

2 فلساً ☐

4 - 20 قطعة من فئة 5 فلساً تساوي



16 فلساً ☐

75 فلساً ☐

50 فلساً ☐

100 فلساً ☐

5- ادخرت خولة في صندوق الاموال الخاص بها عملة من فئة درهم و 3 عملات من فئة 10 فلساً فأخذت والدتها منها درهماً واحداً وعملتان من فئة 5 فلسات كم بقي مع خولة من العملات ؟

240 فلساً ☐

20 فلساً ☐

100 فلساً ☐

درهم و 20 فلساً ☐

6 - مع راشد 4 عملات من فئة 25 فلساً و عملتان من فئة 5 فلساً و 4 عملات من فئة فلساً واحداً كم يمتلك راشد من المبلغ ؟

141 فلساً ☐

درهم و 63 فلساً ☐

114 فلساً ☐

درهم و 44 فلساً ☐

7- عدت أمل 380 سيارة في ساحة سباق السيارات ، وعدت ايضا 170 سيارة في الملعب الثاني . كم عدد السيارات اجمالاً ؟

450 سيارة ☐ 414 سيارة ☐ 550 سيارة ☐ 101 سيارة ☐

8- قام الخباز بإعداد 100 كعكة يوميا . كم كعكة يعد الخباز لمدة أربعة أيام ، فما اجمالي عدد الكعكات؟

100 كعكة ☐ 404 كعكة ☐ 400 كعكة ☐ 100+100 كعكة ☐


9- لدى حصة 165 فلساً تريد شراء قلم رصاص وممحاة ومسطره تمتلك حصة درهم وعملتان من فئة 25 فلساً و10 عملة من فئة الفلس الواحد ما العملات التي لا تزال تحتاجها حصة لشراء القرطاسية ؟

درهم و 5 فلسات ☐ 14 فلساً ☐ 5 فلسات ☐ 65 فلساً ☐


معلوماتي : في اسئلة ضع دائرة نتعلم ان يقرأ الطالب ويخطط على الارقام ثم يجد مفتاح الحل ليسهل عليه الحل

وفي المسائل الكلامية لوحة النقود يجب رسم كل عملة وكتابة الفئة بداخلها

السؤال الثاني :- عد واكتب قيمة العملات يا صغيري -----::



..... فلسات فلساً فلساً فلساً فلساً فلساً فلساً
..... فلساً = فلساً



..... درهم فلسات فلساً فلساً فلساً فلساً فلساً
..... فلساً

حوط يا صغيري الفلسات التي تساوي درهم واحد



حوط يا صغيري الفلسات التي تساوي درهمين





1 - عدد الفلسات

25 فلساً ☐ 12 فلساً ☐ 51 فلساً ☐ 11 فلساً ☐



2 - عدد الفلسات

54 فلساً ☐ 75 فلساً ☐ 100 فلساً ☐ 11 فلساً ☐

3 - امتلاك عملتان من فئة 25 فلساً وعملتان من فئة 10 فلسات وعملتان من فئة فلس واحد انا امتلاك
الفلسات

125 فلساً ☐ 7 فلساً ☐ 6 فلساً ☐ 1 فلساً ☐

4 - 10 قطع من فئة 10 فلساً تساوي

100 فلساً ☐ 150 فلساً ☐ 75 فلساً ☐ 165 فلساً ☐

5- مع راشد 7 عملات من فئة 25 فلساً و عملتان من فئة 5 فلساً و 3 عملات من فئة فلساً واحد
كم يمتلك راشد من المبلغ ؟

درهم و 88 فلساً ☐ 138 فلساً ☐ 20 فلساً ☐ 143 فلساً ☐

6 - لدى حصة 65 فلساً تريد شراء قلم رصاص وممحاة ومسطره تمتلك حصة عملتان من فئة 10 فلسات وعملة من فئة 5 فلسات وعملتان فئة الفلس الواحد ما العملات التي لا تزال تحتاجها حصة لشراء القرطاسية ؟

م و 15 فلساً ☐ 183 فلساً ☐ هم و 83 فلساً ☐ 38 فلساً ☐



السؤال الرابع : هيا يا مبدع و مبدعة اجمع المئات :-

$$30 + 10 = \text{-----}$$

$$40 + 50 = \text{-----}$$

$$10 + 90 = \text{-----}$$

$$30 + 90 = \text{-----}$$

50	60	50	50	40	50
+ 20	+ 80	+ 10	+ 30	+ 50	+ 80
-----	-----	-----	-----	-----	-----

&&&&&&&&&&

$$300 + 100 = \text{-----}$$

$$400 + 500 = \text{-----}$$

$$100 + 900 = \text{-----}$$

$$300 + 200 = \text{-----}$$

500	600	500	500	500
+ 200	+ 800	+ 100	+ 300	+ 500
-----	-----	-----	-----	-----

اجمع يا صديقي ، واجراء عملية اعادة التجميع اذا لزم :

$$\begin{array}{r} 825 \\ + 535 \\ \hline \end{array}$$

$$\begin{array}{r} 815 \\ + 295 \\ \hline \end{array}$$

$$\begin{array}{r} 727 \\ + 565 \\ \hline \end{array}$$

أبدعت يا صغيري

$$137 + 965$$

$$\begin{array}{r} 362 \\ + 625 \\ \hline \end{array}$$

$$\begin{array}{r} 129 \\ + 355 \\ \hline \end{array}$$

$$\begin{array}{r} 629 \\ + 681 \\ \hline \end{array}$$

السؤال الرابع : اشرح يا بطل (^_^)

لا تنسى إعادة التجميع

$$\begin{array}{r} - 345 \\ 385 \\ \hline \end{array}$$

$$\begin{array}{r} 936 \\ -274 \\ \hline \end{array}$$

$$\begin{array}{r} 282 \\ - 983 \\ \hline \end{array}$$

$$\begin{array}{r} 67 \\ - 36 \\ \hline \end{array}$$

$$\begin{array}{r} 109 \\ - 376 \\ \hline \end{array}$$

$$\begin{array}{r} 23 \\ - 13 \\ \hline \end{array}$$

$$\begin{array}{r} 457 \\ - 353 \\ \hline \end{array}$$

$$\begin{array}{r} 451 \\ -932 \\ \hline \end{array}$$

$$\begin{array}{r} 451 \\ -932 \\ \hline \end{array}$$

$$\begin{array}{r} 900 \\ -732 \\ \hline \end{array}$$

$$\begin{array}{r} 469 \\ -732 \\ \hline \end{array}$$

$$\begin{array}{r} 500 \\ -332 \\ \hline \end{array}$$

أنا واثقة من طريقة

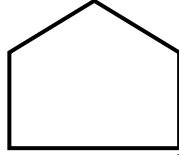
$$\begin{array}{r} 24 \\ 5 \\ - 136 \\ \hline \end{array}$$

$$\begin{array}{r} 457 \\ + 353 \\ \hline \end{array}$$



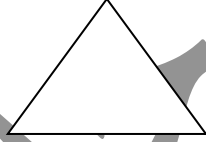
املاً الفراغات بما يناسبه يا صغيري

المجسم	الإسم	وجه المجسم	عدد الاضلاع	عدد الرؤوس
				
				
				



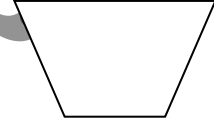
كم عدد الأضلاع ؟

كم عدد الزوايا ؟



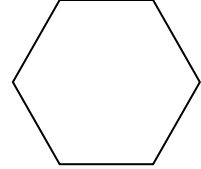
كم عدد الأضلاع ؟

كم عدد الزوايا ؟



كم عدد الأضلاع ؟

كم عدد الزوايا ؟

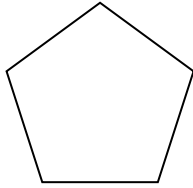


كم عدد الأضلاع ؟

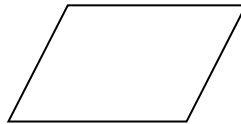
كم عدد الزوايا ؟

اكتب اسماء الأشكال الثنائية :-

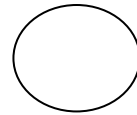
مربع - دائره - شبة المنحرف - سداسي - مستطيل - خماسي -




.....



.....

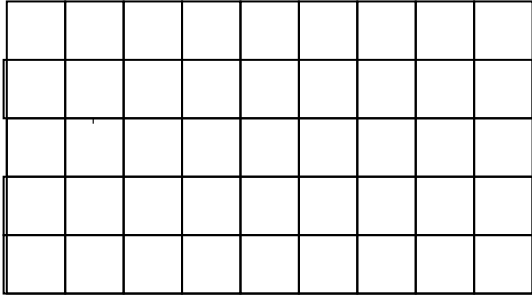


.....




.....

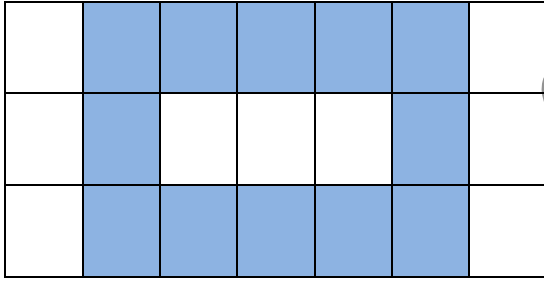
اوجد عدد المربعات واكتب مساحة الاشكال التالية يا بطل




المساحة :




المساحة:



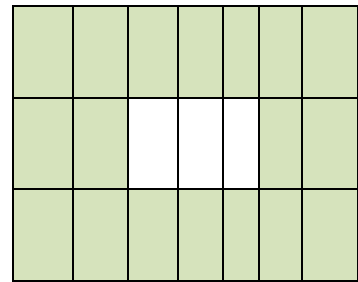
المساحة :



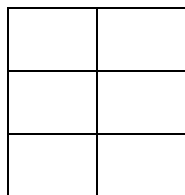
المساحة:




المساحة :



المساحة:

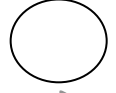

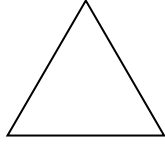


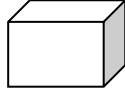


المساحة



المساحة:

صل كل شكل هندسي بوجهه يا مبدعي الصغير .:



ارسم خط التقسيم الى اثنان

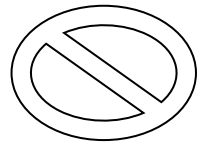
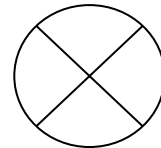
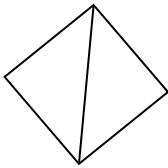


من انا ؟؟؟؟؟؟؟؟؟؟؟؟؟؟؟؟؟؟؟؟؟

امتلك خمس وجوه قاعدتي مربعة و اربع وجوه ولي خمس رؤوس

أمتلك اربع اضلاع متساوية الطول

اكتب تقسيم الاشكال التالية :


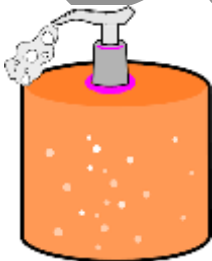


.....

.....



.....

.....



ارسم خط التقسيم الى ارباع

ارسم خط التقسيم الى اثنان



اختر الاجابة الصحيحة :

انا شكل ثلاثي امتلك ستة اوجه متساوية فمن انا

مكعب منشور مستطيل كره مربع

شكل من الاشكال الثنائية.....

هرم متوازي مستطيلات مكعب كره

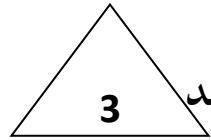
امتلك خمس زوايا وخمس اضلاع.....

سداسي ثماني مربع خماسي

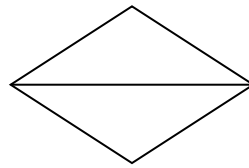
ترسم علياء شكل ليس لديه اضلاع ولا زوايا.....

سداسي دائرة مربع خماسي

يرسم أحمد مثلثات كم عدد الاضلاع



4 اضلاع 6 اضلاع 9 اضلاع 12 ضلعاً



يمثل الشكل التالي
أثلاث

نصفين أرباع أخماس

1- انا شكل ثلاثي امتلك اربع اوجه متساوية فمن انا

مكعب منشور مستطيل كره مربع

2- شكل من الاشكال الثنائية.....

هرم متوازي مستطيلات مكعب دائرة

3- أمتلك ستة زوايا وستة أضلاع

خماسي

مربع

ثمانى

سداسى

4- ترسم عائشة شكل ليس لديه أضلاع ولا زوايا.....

خماسى

مربع

كره

سداسى

5- يرسم أحمد مربعين كم عدد الاضلاع

12 ضلعاً

9 أضلاع

8 أضلاع

4 أضلاع

6- يمثل الشكل التالي

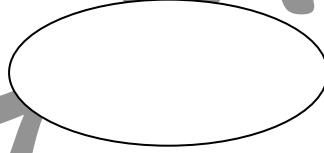
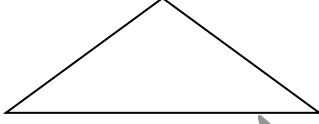
أثلاث

نصفين

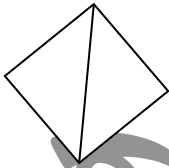
أرباع

أخماس


ارسم خط التقسيم الى نصفين



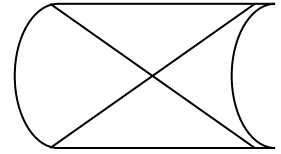
اكتب تقسيم الاشكال التالية :



.....



.....



.....



اجب عما يلي يا بطل
السهم الذي يشير الى الرقم 1

وجه مستطيل ضلع زاوية

2- شكل من الاشكال الثلاثية.....

هرم متوازي مستطيلات مكعب كره
السهم الذي يشير الى الرقم 3

وجه مستطيل ضلع زاوية
السهم الذي يشير الى الرقم 2

وجه مستطيل ضلع زاوية

3- أمتلك خمس زوايا وخمس أضلاع.....

سداسي ثماني مربع خماسي

4- ترسم علياء شكل ليس لديه أضلاع ولا زوايا.....

سداسي دائرة مربع خماسي
3

5- يرسم أحمد مربعين فكم عدد الاضلاع.....

4 أضلاع 12 ضلعاً 8 أضلاع 6 أضلاع

6- يمثل الشكل الثنائي التالي

مستطيل مربع هرم مكعب

أمتلك ست أضلاع وست زوايا.....

سداسي خماسي رباعي ثماني

