

موضوع الدرس:


العد بالخمسة باستخدام

5 فلوس

ناتج التعلم:

العد بالخمسات باستخدام الـ 5 فلوس

الاستكشاف



الربط بالحياة



ساعدو أمجد ..
كان أمجد يتسوق في المحل و أراد أن
يشترى علبة عصير بـ 5 فلوس



عصير

كاكاو

تفاح

الربط بالحياة



إضافة إلى ذلك طلبت أخت
أمجد منه أن يشتري لها
علبة كاكاو و سعرها 5 فلوس



عصير



كاكاو

تفاح

الربط بالحياة



قبل أن يخرج أحمد من المحل
تذكر أن أمه قالت له أن
يشترى تفاحة ب 5 فلوس



عصير



كاكاو



تفاح

الربط بالحياة



كم فلسا يحتاج ليشترى
أغراض الجمعية ؟

5 , 10 , 15



عصير



كاكاو



تفاح

في الدردشة

أخمن في
الدردشة: ما
قيمة عملة
السمكة؟

5 فلوس





هيا نقفز باستخدام 5 فلوس



فلوس 5 فلسا 10 فلسا 15 = 15 فلسًا إجماليًا



هيا نقفز باستخدام 4 عملات من فئة 5 فلوس



فلسًا إجمالًا **20** = 20 فلسًا 15 فلسًا 10 فلسًا 5 فلسًا.





2020-2021

الرياضيات

نسخة الإمارات العربية المتحدة



Mc
Graw
Hill

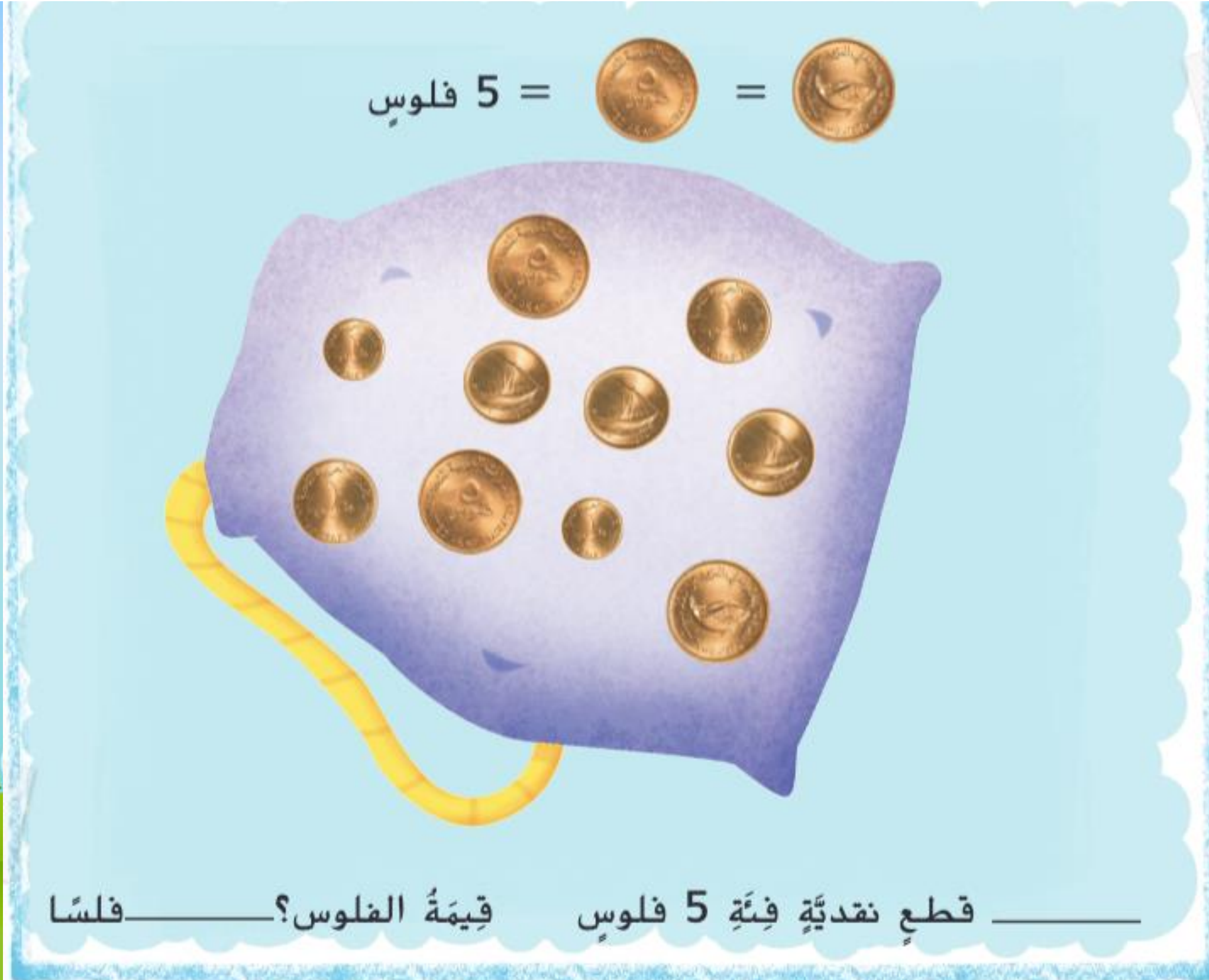
أجهز أدواتي

وكتاب

الرياضيات



توجيهات المعلم: حوِّطْ جميع القطع النقدية فئة 5 فلوس الموجودة داخل الحقيبة. ثم اكتب العدد . عُدّ بالخمسات
لاحتساب قيمة هذه الفلوس من فئة الخمسة فلوس. اكتب العدد .



كتاب الرياضيات
صفحة 403





الملاحظة والحساب

كتاب الرياضيات
صفحة 404



إِسْتَحْدِمْ 🪙. عُدَّ بِالْخُمْسَاتِ مَعَ كِتَابَةِ الْأَعْدَادِ. كَمْ مِقْدَارُهَا إِجْمَالًا؟

1.



$$\text{فلوس} \underline{5} \text{ فلوس} \underline{10} \text{ فلسًا} \underline{15} \text{ فلسًا} \underline{20} = \underline{20}$$

فلسًا إجمالًا

2.



$$\text{فلوس} \underline{5} \text{ فلوس} \underline{10} \text{ فلسًا} \underline{15} = \underline{15}$$

فلسًا إجمالًا

أعتمد على نفسي

إِسْتَخْدِمْ 🪙. عُدَّ بِالْخَمْسَاتِ مَعَ كِتَابَةِ الْأَعْدَادِ. كَمْ مِقْدَارُهَا إِجْمَالًا؟

3.



$$\text{فلوس} \underline{5} \text{ فلوس} \underline{10} = \underline{10} \text{ فلسًا إجمالًا}$$

4.



$$\text{فلوس} \underline{5} \text{ فلوس} \underline{10} \text{ فلسًا} \underline{15} \text{ فلسًا} \underline{20} \text{ فلسًا} \underline{25}$$




$$\text{فلسًا} \underline{30} \text{ فلسًا} \underline{35} = \underline{35} \text{ فلسًا إجمالًا}$$

أعتمد على نفسي

كتاب الرياضيات
صفحة 405





أعتمد على نفسي

كتاب الرياضيات
صفحة 405

5.



5 فلويس



10 فلويس



15 فلساً



20 فلساً



25 فلساً



30 فلساً



35 فلساً



40 فلساً

= 40

فلساً إجمالاً



نحن عباقرة القراءة نبدأ بتحويط
الأعداد عند حل كل مسألة كلامية





أَرَسَمُ صُورَةً لِإِجَادِ الْحَلِّ.

حل المسائل

كتاب الرياضيات
صفحة 406

6. مَعَ مِيزَةٍ 11 قِطْعَةً فِئَةً 5 فِلُوسٍ. فَمَا مِقْدَارُ الْمَالِ الَّذِي لَدَيْهَا؟

<https://www.liveworksheets.com/1-uc1629197dv>


فِلْسًا _____

7. إِشْتَرَى بَذْرٌ لَعْبَةً تَكْلِفُهَا 30 فِلْسًا. الْعُمْلَةُ الْوَحِيدَةُ الَّتِي اسْتُخْدِمَهَا هِيَ قِطْعٌ نَقْدِيَّةٌ فِئَةً 5 فِلُوسٍ. فَمَا عَدَدُ الْقِطْعِ النَقْدِيِّ الَّتِي اسْتُخْدِمَهَا لِشِرَاءِ اللَّعْبَةِ؟

قِطْعٌ نَقْدِيَّةٌ _____



مهارات تفكير عليا



مَسْأَلَةُ مَهَارَاتِ التَّفْكِيرِ الْعُلْيَا

مَعَ مِثَاءٍ ١٤ قِطْعَةً نَقْدِيَّةً فِئَةً ٥ فُلُوسٍ.
فَمَا مِقْدَارُ الْمَالِ الَّذِي تَمْتَلِكُهُ بِالْفُلُوسِ؟



العمل المتمايز

1.



_____ فلسًا _____ فلوسٍ _____ فلوسٍ = _____
فلسًا إجمالاً

2.



_____ فلسًا _____ فلسًا _____ فلسًا _____ فلوسٍ _____ فلوسٍ = _____
فلسًا إجمالاً

المجموعة الخضراء

أنا المعلم الصغير أكتب
سؤالاً عن الفلوس
لأصدقائي

المجموعة الصفراء

أقوم بحل المسألة
المطلوبة

المجموعة الحمراء

أقوم بحل المسألة
المطلوبة

نشاط لاصفي

مهارة الربط بالحياة

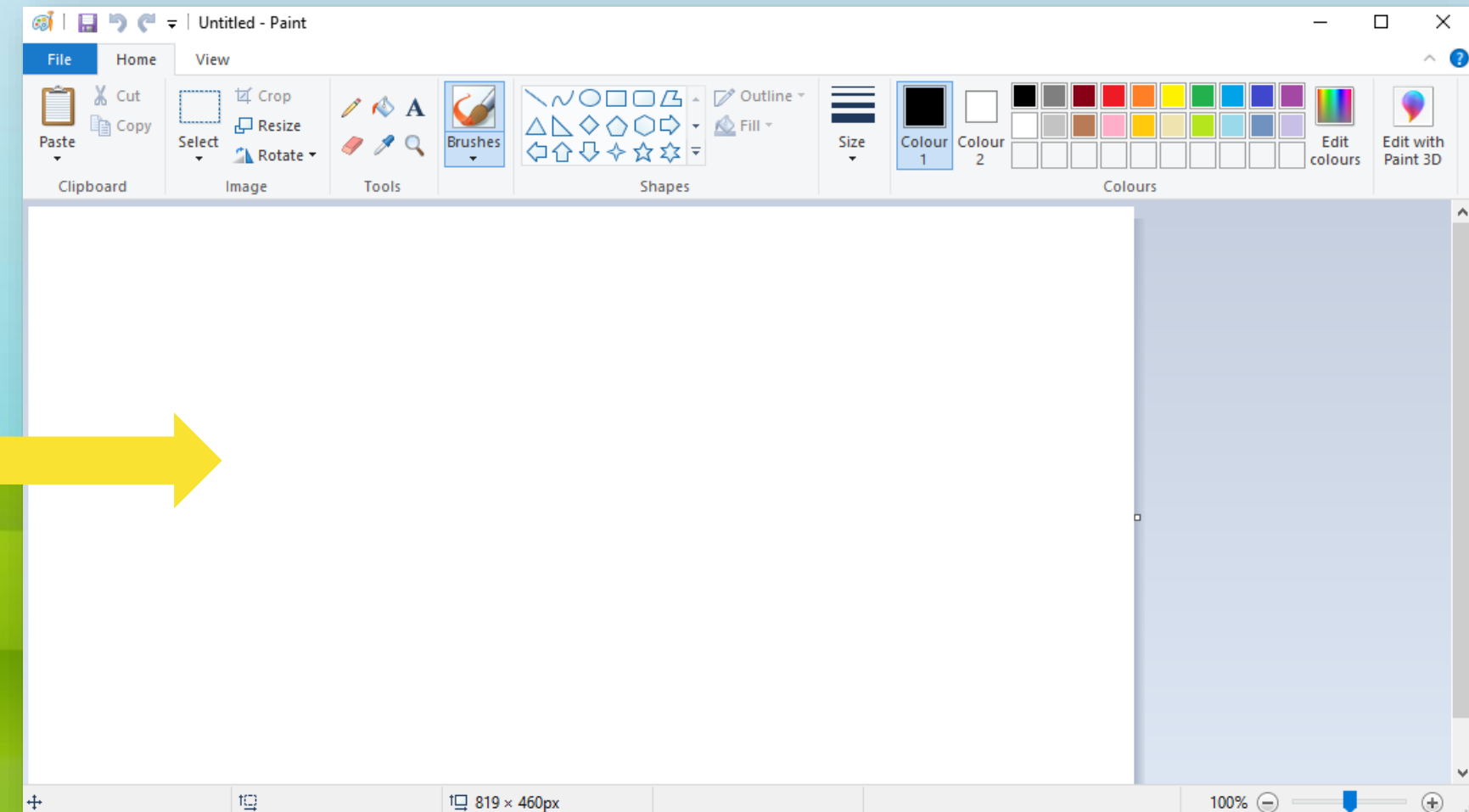
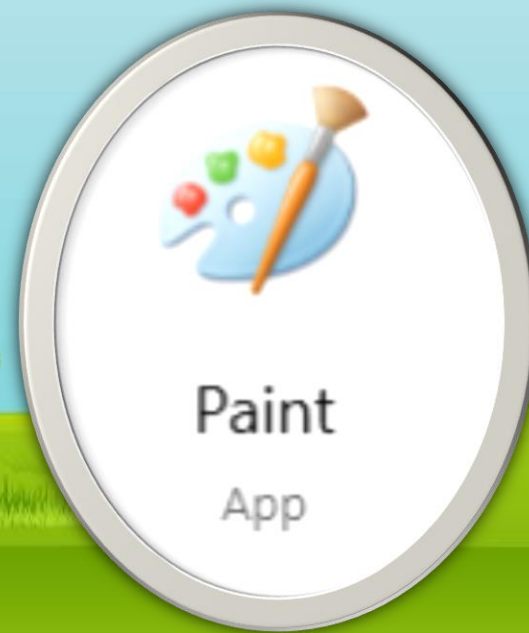
مستوى النضج

التعزيز



التفكير النقدي
3 نقطة/نقاط

ستحصل
على وسام
التفكير
النقدي



هيا يا مبتكر استخدم برنامج الرسم

و قم بتصميم / رسم مسألة عن العد بالخمسات و أرفق الصورة في
المقرر بالبوابة الذكية

التقويم الختامي
هيا بنا لنلعب معاً

matific



بطاقة
خروج

قم بحل النشاط
الموجود في بوابة
التعلم الذكي



بطاقة
خروج

أنا أقيم نفسي :

1



2



3



شكرا على حسن متابعيتكم

بطاقة خروج

