



الدراسات الاجتماعية

الفصل الدراسي الأول



المستوى العاشر



كتاب الطالب

المراجعة والتدقيق العلمي والتربوي

خبراء تربويون وأكاديميون من:

كلية التربية - جامعة قطر

إدارة المناهج الدراسية ومصادر التعلم

إدارة التوجيه التربوي

معلمي ومنسقي المدارس

الإشراف العام

إدارة المناهج الدراسية ومصادر التعلم


إشراق

www.eshraqgroup.com



طبعة 1447-2025

حقوق الملكية © - وزارة التربية والتعليم والتعليم العالي - دولة قطر

<http://www.edu.gov.qa>

قال تعالى:

اقْرَأْ بِاسْمِ رَبِّكَ الَّذِي خَلَقَ

[العلق: 1]



النشيد الوطني



حضرة صاحب السمو الشيخ تميم بن حمد آل ثاني
أمير دولة قطر

النشيد الوطني

قَسَمًا بِمَنْ رَفَعَ السَّمَاءَ قَسَمًا بِمَنْ نَشَرَ الضِّيَاءَ
قَطْرٌ سَتَبَقَى حُرَّةً تَسْمُو بِرُوحِ الأَوْفِيَاءِ
سِيرُوا عَلَى نَهْجِ الأَلَى وَعَلَى ضِيَاءِ الأنْبِيَاءِ
قَطْرٌ بِقَلْبِي سِيرَةٌ عِزٌّ وَأَمْجَادُ الإِبَاءِ
قَطْرُ الرَّجَالِ الأُولِينَ حَمَاتِنَا يَوْمَ النِّدَاءِ
وَحَمَائِمُ يَوْمِ السَّلَامِ جَوَارِحُ يَوْمِ الفِدَاءِ

بسم الله الرحمن الرحيم

الحمد لله رب العالمين، والصلاة والسلام على رسوله الأمين.

تنظر المجتمعات الحية المتطورة للمناهج المدرسية إلى كونها أهم وسائل إعداد الأجيال الناشئة إعداداً سليماً؛ للوصول إلى بناء المواطن الصالح، وهو ما هدفت إليه المناهج القطرية الحديثة؛ حيث سعت نحو تمكين المواطن القطري بتعليمه الجاد لأن يكون مواطناً فاعلاً، ومحققاً لآمال وتطلعات دولة قطر.

حرصت وزارة التربية والتعليم والتعليم العالي في دولة قطر على إعادة النظر في معايير ومناهج الدراسات الاجتماعية، بُعياً تحسين العملية التربوية وتجويدها، وعملت الكوادر الوطنية القطرية على بناء المعايير والمناهج الحديثة بمحتوى معرفي ومنهجي جديد لتحقيق ما تصبو إليه رؤية دولة قطر لسنة 2030، ولمواكبة التغيرات العالمية في ميدان التربية والتعليم، مع الحرص على بناء شخصية وطنية للنشء القطري مؤمنة بهويتها العربية، وقيمها الإسلامية، وهادفة لتعميق روح الانتماء لقضايا الوطن، والدفاع عنه، والمشاركة الفعالة في بنائه وصيانتته ونهضته.

تميّزت مصادر التعلم لمناهج الدراسات الاجتماعية بتوافقها مع المعايير العالمية، مع مراعاة التكامل الأفقي والعمودي في مصدر التعلم الواحد بين المجالات الدراسية الثلاثة، مع زيادة الترابط مع المناهج الدراسية الأخرى؛ لتكامل في تحقيق الأهداف التربوية العامة، إيماناً بقيمة هذا النهج في بناء المناهج الدراسية، وسعت إلى توظيف مهارات التقصي والبحث، ومهارات التعامل مع الأدوات التكنولوجية الحديثة، مع تضمين كفاية التفكير الإبداعي، والتفكير الناقد بشكل فاعل، وذلك من خلال إدماج الطلبة في كثير من المواقف التاريخية والجغرافية، ومضامين المواطنة.

شملت المجالات المعرفية لمصادر الدراسات الاجتماعية ثلاثة مجالات مترابطة، هي: الجغرافيا والتاريخ والمواطنة:

- فتكمن أهمية الجغرافيا في فهم العلاقات المكانية والطبيعية، وتفسيرها وتحليلها، وحل المشكلات الجغرافية المختلفة، كما تساعد الجغرافيا على معرفة معيشة الشعوب المختلفة، وفهم ثقافات المتباينة.

- وتُسهم دراسة التاريخ في تعريف الطالب بأحداث الماضي منطلقاً من المستوى المحلي، ثم الإقليمي، ثم العالمي، كما يُمكنه المنهج من دراسة الأحداث التاريخية وتحليلها، واستخلاص العبر منها؛ لمعرفة الماضي، وفهم الحاضر، واستشراف المستقبل.

- أما دراسة مادة المواطنة فتقوم على بناء شخصية الإنسان وعقله وروحه، وتنطلق من اعتباره مواطناً متفاعلاً مع مجتمعه، ولا بد من تنمية ارتباطه بوطنه ومجتمعه وأُمَّته وحضارته، فهي تُخاطب الوجدان، وتُركّز على الممارسات الإيجابية في البيت والمدرسة والمجتمع، وتهدف إلى إكساب الطلاب مواقف واتجاهات إيجابية؛ ليكونوا أعضاء ومواطنين صالحين في مجتمعهم.

ويبقى تحقيق الأهداف التربوية منوطاً بالتفاعل العلمي بين أركان العملية التعليمية الثلاثة (المعلم، والمتعلم، والمصدر التعليمي).

والله نسأل أن يكون ما قدمناه من جهد خالصاً لوجهه الكريم، وأن يُسهم بالنفع في بناء جيل متميز من بناتنا وأبنائنا الطلاب. والله ولي التوفيق.

المؤلفون.

مقدمة



الفهرس



1 الوحدة الأولى: (الخصائص الطبيعية لدولة قطر)

12 الدرس الأول: الموقع وأشكال السطح.

30 الدرس الثاني: المناخ - والحياة الفطرية وموارد المياه.

2 الوحدة الثانية: (تاريخ قطر الحديث)

54 الدرس الأول: الشيخ محمد بن ثاني ونشأة إمارة قطر.

64 الدرس الثاني: الشيخ جاسم بن محمد بن ثاني وتأسيس إمارة قطر.

3 الوحدة الثالثة: (الهوية الوطنية والتحديات العالمية)

80 الدرس الأول: الهوية الوطنية (أبعادها والمحافظة عليها).

92 الدرس الثاني: الهوية الوطنية والعولمة الثقافية.

4 الوحدة الرابعة: (الخصائص العامة للسكان في دولة قطر)

106 الدرس الأول: نمو وتركيب السكان في دولة قطر.

122 الدرس الثاني: توزيع السكان وكثافتهم في دولة قطر.

5 الوحدة الخامسة: (تاريخ قطر بين عامي 1913 - 1949م)

136 الدرس الأول: الأحوال الداخلية في عهد الشيخ عبدالله بن جاسم آل ثاني.

146 الدرس الثاني: السياسة الخارجية في عهد الشيخ عبد الله بن جاسم آل ثاني.

6 الوحدة السادسة: (مبادئ الديمقراطية)

160 الدرس الأول: الشورى ومبادئ الديمقراطية.

172 الدرس الثاني: الشفافية ومكافحة الفساد.

180 المصادر والمراجع

الخصائص الطبيعية لدولة قطر

- الدرس الأول: الموقع وأشكال السطح
- الدرس الثاني: المناخ، الحياة الفطرية، موارد المياه



في نهاية الوحدة سوف تتعلم

- توضيح الأهمية الإستراتيجية لموقع دولة قطر.
- مواقع توزيع الظاهرات الطبيعية والبشرية.
- توضيح العلاقة بين التركيب الجيولوجي وأشكال سطح الأرض في دولة قطر .
- أبرز الموارد الطبيعية في دولة قطر .
- أهمية تنوع الخصائص الطبيعية في دولة قطر
- استخدام الأدوات الجغرافية والتطبيقات التكنولوجية في جمع المعلومات وعرض أفكار.
- تحليل الجداول الإحصائية والبيانات والأشكال لاستخلاص المعلومات الجغرافية المختلفة .
- تحديد الظواهر الجغرافية على الخريطة .

القيم والقضايا

- تقدير عظمة الخالق.
- حسن استغلال الموارد الطبيعية.

المفاهيم

- الموقع الفلكي.
- الموقع الجغرافي.
- الروضات ، الكثبان الرملية.
- الدحول ، الخراسيع.
- التلال ، الأودية الجافة.
- الفشوت ، السبخات.
- الرؤوس الأرضية.
- الأخوار ، الخلجان.
- الدوحات ، الشواطئ الرملية.
- المناخ.
- المناخ القاري.
- الحياة الفطرية.
- النبات الطبيعي.
- النباتات الحولية (الموسمية).
- النباتات المعمرة (الدائمة).
- المحميات الطبيعية.
- المياه الجوفية.
- المياه المحلاة.

المهارات

- قراءة الخرائط والرسوم.
- تحليل الخرائط والرسوم البيانية.
- التنظيم والتصنيف.
- المقارنات.
- الاستنتاج.
- التوقع في ضوء المعلومات المتاحة.
- إبداء الرأي.
- التفسير.

الكفايات

- الكفاية اللغوية.
- التواصل.
- التفكير الإبداعي والناقد.
- التعاون والمشاركة.
- التقصي والبحث.

الدَّرْسُ الأَوَّلُ:

الموقع وأشكال السطح



الموقع وأشكال السطح

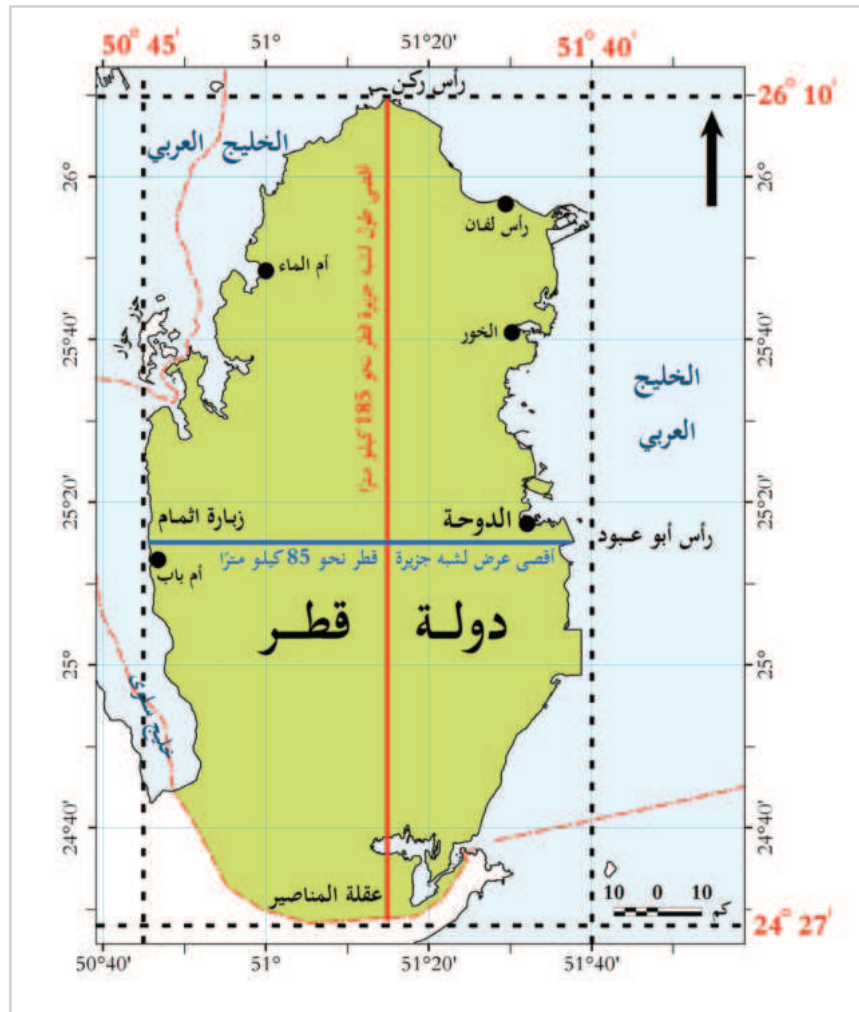
تمتلك دولة قطر موقعاً فريداً ومتميزاً أعطاهما العديد من المزايا التي تنفرد بها عن باقي دول المنطقة، كما تحتوي على تكوينات جيولوجية بها ثروات طبيعية، بالإضافة إلى تعدد المظاهر التضاريسية، فهيا بنا لتعرّف على أهم الملامح الجغرافية لدولة قطر.

أولاً: الموقع الفلكي:

لاحظ الخريطة شكل (1) وحدد الموقع الفلكي لدولة قطر.

تذكر أن:

الموقع الفلكي هو:
موقع الدولة بالنسبة
لخطوط الطول
ودوائر العرض.



شكل (1) الموقع الفلكي لدولة قطر

- نستنتج من الخريطة أن دولة قطر تقع بين دائرتي عرض $24^{\circ} 27'$ و $26^{\circ} 10'$ شمالاً، وخطي طول $50^{\circ} 45'$ و $51^{\circ} 40'$ شرقاً، وتمتد باتجاه الشمال في مياه الخليج العربي على شكل شبه جزيرة.

لاحظ واستنتج من خلال الخريطة شكل (1):

- ما أقصى طول لشبه جزيرة قطر؟

- حدد من خلال الخريطة أقصى نقطة شمالاً وأقصى نقطة جنوباً.

- ما أقصى عرض لشبه جزيرة قطر؟ وما هما أبعد نقطتين في اليابس القطري شرقاً وغرباً؟



لاحظ واستنتج

ثانياً: الموقع الجغرافي:

تقع دولة قطر في الركن الجنوبي الغربي من قارة آسيا، وتعد جزءاً من شبه الجزيرة العربية حيث تقع في منتصف الساحل الغربي للخليج العربي.

تذكّر

الموقع الجغرافي هو:
موقع الدولة بالنسبة
للمسطحات المائية
واليابس.



شكل (2) موقع دولة قطر بالنسبة لشبه الجزيرة العربية

المساحة والحدود:

1. **المساحة:** تبلغ مساحة دولة قطر نحو 11,637 كم² متضمّنة مساحة الجُزُر القطرية.
2. **الحدود:** لقطر نوعان من الحدود هما:

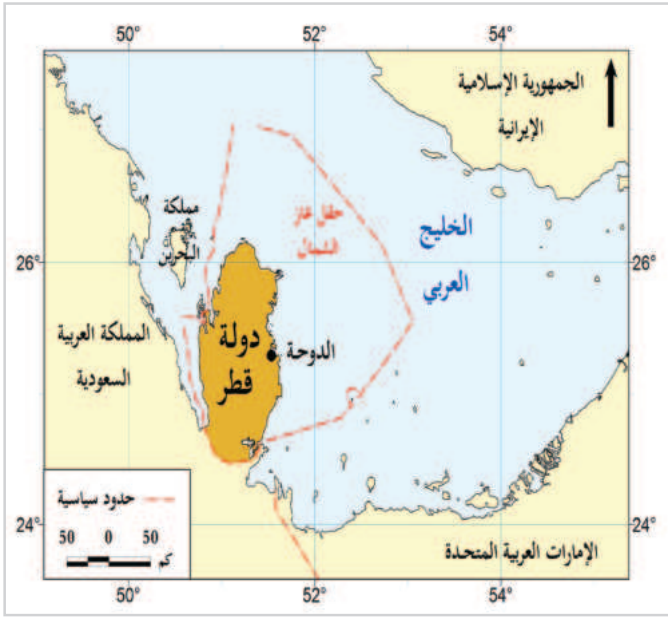
1- الحدود البحرية:

- تتصل دولة قطر بعددٍ من الدول المجاورة عبر المياه الإقليمية، تتمثّل في دولة الإمارات العربية المتحدة من جهة الشرق، ومملكة البحرين من جهة الغرب والشّمال الغربي، والمملكة العربية السعودية من الغرب والجنوب الغربي والجنوب الشرقي. ويحيط بها مياه الخليج العربي من الشمال والشرق والغرب.

- تمتلك دولة قطر أكثر من 700 كم من السواحل بسبب طبيعتها كشبه جزيرة، وكثيرة تعاريج سواحلها، كما تبلغ مساحتها البحرية نحو 10,434 كم².

2- الحدود البرية:

- ترتبط دولة قطر برّاً بالمملكة العربية السعودية من جهة الجنوب بحدود سياسية يبلغ طولها نحو 86 كم.



شكل (3) حدود دولة قطر

- تخيل لو تم بناء جسر بحري يربط بين دولة قطر ودول الخليج (دولة البحرين ودولة الإمارات العربية المتحدة).

- توقع التغيرات الإيجابية التي قد تحدث.



فكر وتخيّل

ثالثاً: الأهمية الإستراتيجية لموقع دولة قطر:

- يتضح من خلال الخريطة رقم (2) أن موقع دولة قطر يتمتع بأهمية إستراتيجية كبرى تتمثل فيما يأتي:
- 1 - سهولة الاتصال بشمال وجنوب منطقة الخليج العربي.
 - 2 - موقعها المتوسط في الخليج العربي جعلها محطة مهمة للسفن الملاحية.
 - 3 - غنى موقعها البحري بالموارد مثل اللؤلؤ ومصائد الأسماك وقربها من حقول البترول والغاز البحرية.

- من خلال دراستك لأهمية الموقع الجغرافي لدولة قطر استخراج منها ما يأتي:

- حقيقة جغرافية:

- حقيقة اقتصادية:



لاحظ واستنتج

رابعاً: التركيب الجيولوجي لدولة قطر:

- يغلب على تركيب طبقات الأرض في دولة قطر الصخور الجيرية الرسوبية.
- تُعدُّ شبه جزيرة قطر طيَّة محدَّبة ظهرت خلال الزمن الجيولوجي الثالث، وتنتشر بها الطيَّات المحدَّبة والمقعَّرة، والتي يوضِّحها الشكل التالي:

أضف لمعلوماتك:

الطيَّة:

هي انثناء يحدث لصخور القشرة الأرضية، وهذا الانثناء إما أن يكون مُحدَّباً ويكوِّن المرتفعات، أو يكون مُقعَّراً ويكوِّن المنخفضات، وهي من أهم أنواع التراكيب الجيولوجية.

- لاحظ أهم التراكيب الجيولوجية لشبه جزيرة قطر من خلال الشكل (4) الذي أمامك، ثم حدِّد أهم الطيَّات المحدَّبة والطيَّات المقعَّرة.



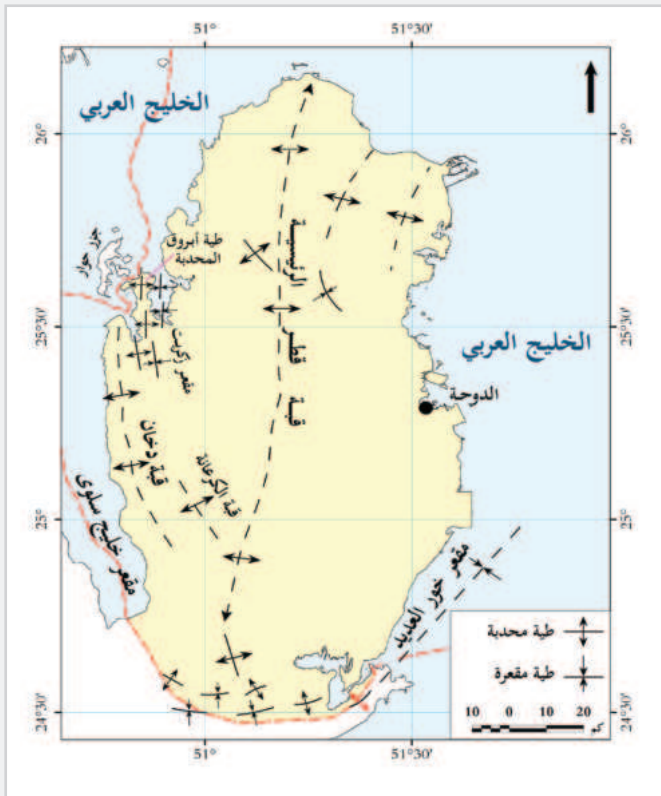
اقرأ وحدد



شكل (4) مقطع عرضي للتركيب الجيولوجي لدولة قطر

نلاحظ من الشكل (4) ما يلي:

- يمتدُّ عدد من الطيَّات المُحدَّبة والمقعَّرة في الجانب الغربي من ثنية قطر المُحدَّبة الرئيسيَّة مثل:
 - أ - طية سلوى المُقعَّرة، ويشغلها مياه خليج سلوى.
 - ب - طية دخان المُحدَّبة، ويُمثلها تلال دخان المرتفعة.
 - ج - طية زكريت المُقعَّرة، ويشغلها مياه خليج زكريت.
 - د - طية أبروق المُحدَّبة، ويُمثلها رأس أبروق.
- لم يتأثر الجانب الشرقي من دولة قطر بالحركات الأرضية إلا قليلاً، فهو بسيط البنية إلى حد كبير.



شكل (5) التركيب الجيولوجي لدولة قطر

- لاحظ خريطة شكل (5) واستخرج

منها طيات أخرى (محدبة ومقعرة):

- طيات محدبة.

.....

.....

- طيات مقعرة.

.....

.....



لاحظ واستنتج

العلاقة بين التركيب الجيولوجي وأشكال سطح الأرض بدولة قطر:

انعكس التركيب الجيولوجي الذي أدى إلى نشأة شبه جزيرة قطر على أشكال السطح بها؛ حيث أدى اختلاف صلابة الصخور دورًا مهمًا في مقاومة عوامل التَّعْرِية، وبالتالي تنوّعت أشكال سطح الأرض مثل:

- الدحول التي تكوّنت نتيجة تعرُّض طبقات الصخور الجيرية في باطن الأرض للإذابة في الزمن الجيولوجي الرابع خلال العصر المطير.
- التلال التي تتألف من تعاقب الصخور الصلبة والليننة مثل تلال دخان.
- الأودية التي تشكّلت في العصر المطير، ولكنها تعرّضت للجفاف في العصر الجاف؛ مثل: وادي مشيرب، وادي السيل.
- الرؤوس والخلجان؛ مثل رأس أبروق، وخليج زكريت.

ترجع أهمية دراسة التركيب الجيولوجي لدولة قطر إلى:

- أ - معرفة مناطق تجمُّع النفط والغاز الطبيعي.
- ب - معرفة مناطق تجمُّع المياه الجوفية.

- ما نوع الصخور الغالبة للتركيب الجيولوجي في دولة قطر؟

- ماذا يحدث لو: كانت دولة قطر مغطاة بالصخور النارية بدلًا من الرسوبية، كيف سيؤثر ذلك على

الوضع الاقتصادي للدولة؟

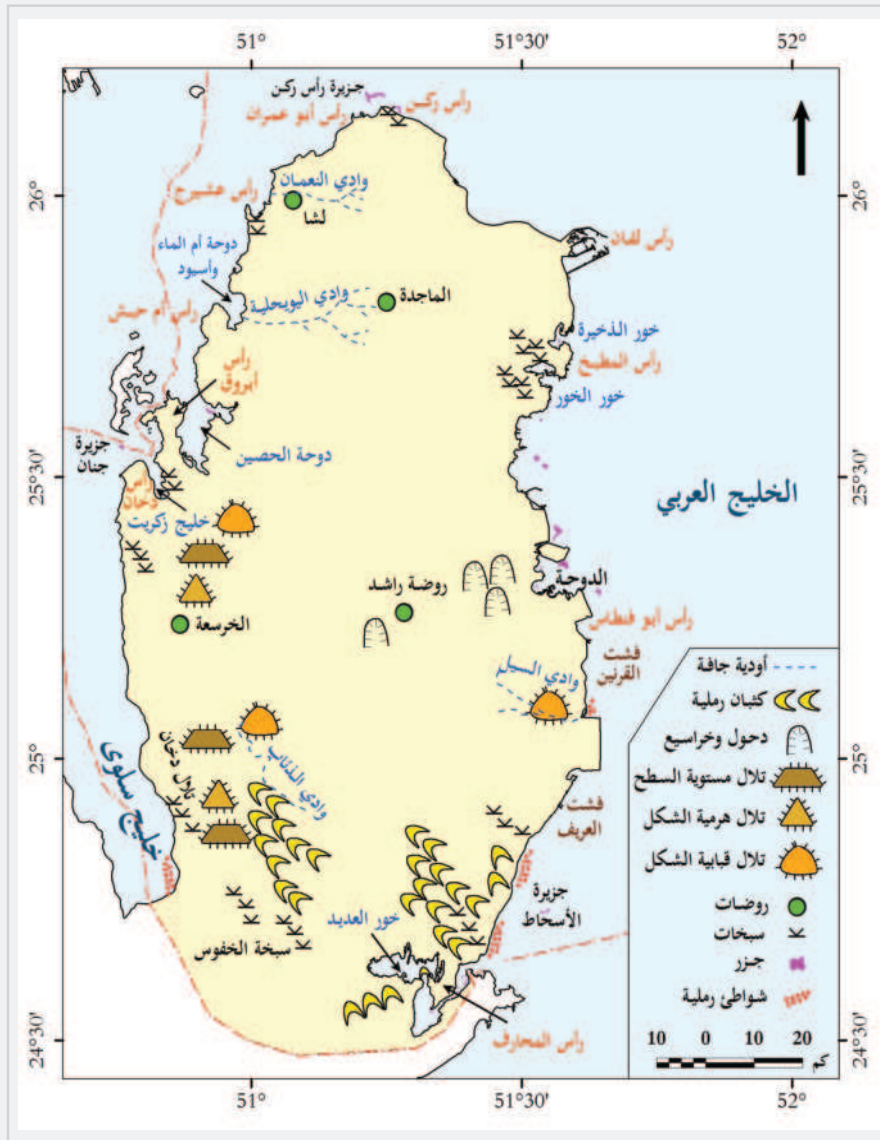


فكّر وأجب

خامساً: أشكال سطح الأرض بدولة قطر:

يظهر على سطح دولة قطر العديد من أشكال السطح المتباينة في أشكالها وتوزيعها.

- لاحظ الخريطة شكل (6) وتعرّف عليها.



شكل (6) أشكال سطح الأرض بدولة قطر

1 - أشكال سطح الأرض الصحراوية:

الدحول والخراسيع.

الكتبان الرملية.

الروضات.

الأودية الجافة.

التلال.





شكل (7) الروضات في دولة قطر

1 - أشكال سطح الأرض الصحراوية:

هي التضاريس الجغرافية التي تشكلت في المناطق الصحراوية نتيجة لظروف بيئية معينة وفيها:

- الروضات:

عبارة عن أراضٍ منخفضة نسبيًا عمَّا يجاورها، تتجمع فيها التربة التي جرفتها مياه السيول من الأراضي المجاورة. وهي ذات تربة صالحة للزراعة.



وتقع معظم الروضات في شمال دولة قطر ووسطها، وتصلح الروضات للاستقرار البشري والزراعة؛ بسبب وفرة المياه الجوفية وخصوبة التربة فيها، مثل: روضة راشد.

لاحظ الخريطة شكل (7) وحدد أسماء الروضات بها.




لاحظ واستنتج

- الكثبان الرملية (الطعوس أو النقيان):

وهي تجمُّعات رملية كوَّنتها الرياح.



وتنتشر الكثبان الرملية في أماكن متفرقة من دولة قطر. كما في الجنوب الشرقي في منطقة سيلين، وخور العُديد ومسيعيد، وتتنوع أشكالها المختلفة، فمنها: الكثبان الهلالية، والكثبان الطولية (السيوف والخيوط).



أحد الكثبان (السيوف - الخيوط) بخور العديد



الكثبان الهلالية بخور العديد

- الدحول والخراسيع:

دحل المسفر

الدحول: هي الكهوف الأرضية التي انهارت الأجزاء العليا منها؛ فكوّنت فتحات على سطح الأرض.




مثل: دحل الحمام، ودحل المظلم، ودحل المسفر الذي يُعدُّ أكبر الدحول في دولة قطر.

الخراسيع: هي كهوف مخفية تحت سطح الأرض، تكوّنت نتيجة ذوبان الصخور الجيرية بفعل المياه الجوفية والأمطار.



وتنتشر هذه الظاهرة في المناطق الغربية كمنطقة الخرسعة.

- التلال:

تلال دخان

هي أراضي مرتفعة عن سطح الأرض ذات جوانب متوسطة الانحدار أقل ارتفاعاً من الجبال. مثل تلال دخان.

**- الأودية الجافة:**

أحد الأودية الجافة بدولة قطر

هي مجارٍ مائية تمَّ حفرها بواسطة الأمطار الغزيرة في العصر المطير ثم جفَّت في العصر الجاف.



مثل: وادي العقدة في الشَّمال، ووادي الذئاب في الغرب.

- في رأيك إذا طلب منك سائح في دولة قطر اختيار أحد أشكال السطح الصحراوية لزيارتها والتمتع بجمال الطبيعة بها، فأي الأشكال ترشَّحها له؟ ولماذا؟



2 - أشكال سطح الأرض الساحلية:

هي الأشكال الجغرافية التي تشكلت على امتداد السواحل نتيجة تفاعل العوامل الطبيعية مثل حركة الأمواج، التيارات البحرية، المد والجزر.

- لاحظ المخطط التالي وتعرف عليها:

2 - أشكال سطح الأرض الساحلية:

الرؤوس الأرضية.

السبخات.

الجزر.

الفشوت.

الشواطئ الرملية.

الدوحات.

الخلجان.

الأخوار.

- الفشوت:

عبارة عن كتل وأرصفة وجُزُر مرجانية تنتشر أمام السواحل القطرية.



مثل: فشت الديبل بالساحل الشمالي الغربي بدولة قطر، وفشت العريف أمام مسيعيد، وفشت القرنين أمام الوكرة.

العوامل التي ساعدت على تكوّن الفشوت بسواحل شبه جزيرة قطر:

- صفاء المياه وارتفاع ملوحتها.

- ارتفاع حرارة المياه التي لا تقل عن 20°.

- توافر الحياة البحرية العضوية اللازمة لبناء المرجان.

- ضخالة المياه؛ حيث لا يزيد عمقها عادةً على ثلاثة أمتار.

تتمثل أهمية الفشوت فيما يأتي:

- يكمن في بعضها النفط، والغاز الطبيعي.

- تُعدُّ مصدرًا للغذاء ومأوى للعديد من الأسماك والكائنات البحرية؛ مما جعلها مصائد للأسماك.

- حماية الشواطئ والموانئ من التآكل بفعل أمواج البحر مثل: فشت العريف الذي يحمي ميناء

مسيعيد.

- الجُزُر:

جزيرة الأسحاط

هي قِطْعة من اليابس تُحيطُ بها المياه من جميع الجهات.



ومن الجزر: مجموعة جزر الأسحاط، وجزيرة جنان، وجزيرتي حالول وشراعوه، وجزيرتي العالية والسافلية.

- السبخات:

السبخات

عبارة عن أراضٍ منخفضة ومستوية السطح تتعرض لمعدلات عالية من تبخر مياه البحر ينتج عنها طبقة ملحية صلبة إلى السطح.



ومن أمثلتها: السبخات الساحلية، مثل سبخة مسيعيد و السبخات الداخلية مثل سبخة دخان.

- الرؤوس الأرضية:

رأس دخان

عبارة عن امتدادٍ لليابس في مياه البحر.



لاحظها على الخريطة شكل (6) مثل: رأس أبو عبود، ورأس أبو فنتاس، ورأس لفان على الساحل الشرقي، ورأس ركن في الشَّمال، ورأس دخان، ورأس عشيرج، ورأس أبروق على الساحل الغربي.

- كيف يمكن الاستفادة اقتصاديًا لكل من:

- السبخات:

- الرؤوس الأرضية:



اقرأ وناقش

- الأخوار:



الأخوار في دولة قطر

عبارة عن ألسنة من مياه البحر تتوغّل في اليابس من خلال فتحة ضيقة.



تقع الأخوار على الساحل الشرقي لدولة قطر مثل: خور العُديد، وخور مدينة الخور، وخور الذخيرة.

- الخلجان:



خليج زكريت

هي ألسنة من مياه البحر أكثر اتساعًا من الأخوار تتوغّل داخل اليابس.



وتقع الخلجان على الساحل الغربي لدولة قطر مثل خليج سلوى، وخليج زكريت.

- الدوحات:

عبارة عن تداخل ساحل البحر في اليابس على شكل مقوَّس أو شبه دائري؛ مثل دوحة الدَّوْحَة، ودوحة أم الماء.



دوحة الدوحة

- فسّر أسباب انتشار الأخوار والخلجان والدوحات في دولة قطر.



فكّر وناقش



شاطئ الغارية في قطر

- الشواطئ الرملية:

عبارة عن إرسابات رملية أرسبها التيارات البحرية والأمواج.



- قارن بين الأخوار والخلجان من حيث أوجه الاختلاف والشبه :

الخلجان	الأخوار	أوجه المقارنة
.....	الاختلاف
.....		الشبه



اقرأ وأجب



التدريبات

السؤال الأول: اختر الإجابة الصحيحة من بين البدائل التالية:

1- تقع دولة قطر في منتصف ساحل الخليج العربي من الجهة:

- أ- الشمالية.
ب- الجنوبية.
ج- الشرقية.
د- الغربية.

2- ترتبط دولة قطر بحدود برية مع:

- أ- الإمارات.
ب- السعودية.
ج- إيران.
د- البحرين.

3- تبلغ مساحة دولة قطر:

- أ- 12,600 كم².
ب- 15,600 كم².
ج- 17,600 كم².
د- 11,637 كم².

4- أي من الأشكال الآتية عبارة عن طية مقعرة؟

- أ- دوحة الحصين.
ب- تلال دخان.
ج- سبخة الخفوس.
د- رأس أبروق.

5- تنتشر الكثبان الرملية في دولة قطر في:

- أ- الجنوب الشرقي.
ب- الشمال الشرقي.
ج- الجنوب الغربي.
د- الشمال الغربي.

6- "أراض منخفضة ومستوية السطح تتعرض لمعدلات عالية من تبخر مياه البحر" يشير المفهوم

السابق إلى:

- أ- الجزر.
ب- السبخات.
ج- الأخوار.
د- الخلجان.



التدريبات

السؤال الثاني: برهن على صحة العبارة التالية:

«تتمتع دولة قطر بموقع استراتيجي مهم».

.....

.....

السؤال الثالث: ما الفرق بين كل من:

1 - الخليجان والدوحات؟

.....

.....

2 - الدحول والخراسيع؟

.....

.....

السؤال الرابع: عرّف المصطلحات الآتية:

1 - التركيب الجيولوجي:

2 - الأخوار:

3 - الأودية الجافة:

4 - الشواطئ الرملية:

السؤال الخامس: بم تفسّر:

1 - امتلاك دولة قطر أكثر من 700 كم من السواحل؟

.....



التدريبات

2 - أهمية دراسة التركيب الجيولوجي لدولة قطر؟

.....

.....

3 - صلاحية الروضات للزراعة؟

.....

4 - تكون الفشوت بسواحل شبه جزيرة قطر؟

.....

.....

5 - أهمية الفشوت؟

.....

.....

السؤال السادس:

صنّف أشكال السطح الآتية بدولة قطر في الجدول المقابل.

الفشوت.

خور العُديد .

دحل المسفر.

رأس أبروق.

جزيرة حالول.

سبخة مسيعيد.

الكتبان الهاللية.

الروضات.

أشكال السطح الساحلية	أشكال السطح الصحراوية
.....
.....
.....
.....
.....

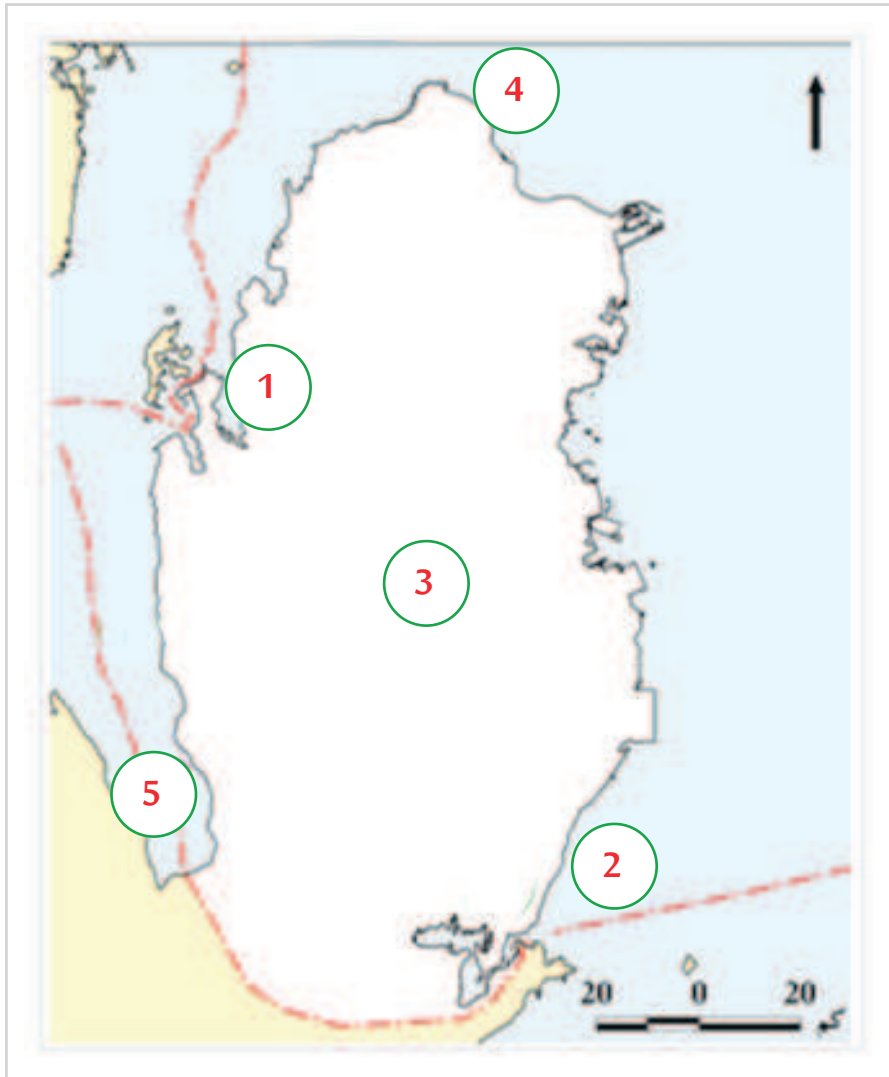


التدريبات

السؤال السابع:

- اكتب ما تدل عليها الأرقام الموضحة على خريطة دولة قطر:

1. دوحة
2. جزيرة
3. روضة
4. رأس
5. خليج



الدَّرْسُ الثَّانِي:

المناخ - والحياة الفطرية وموارد المياه



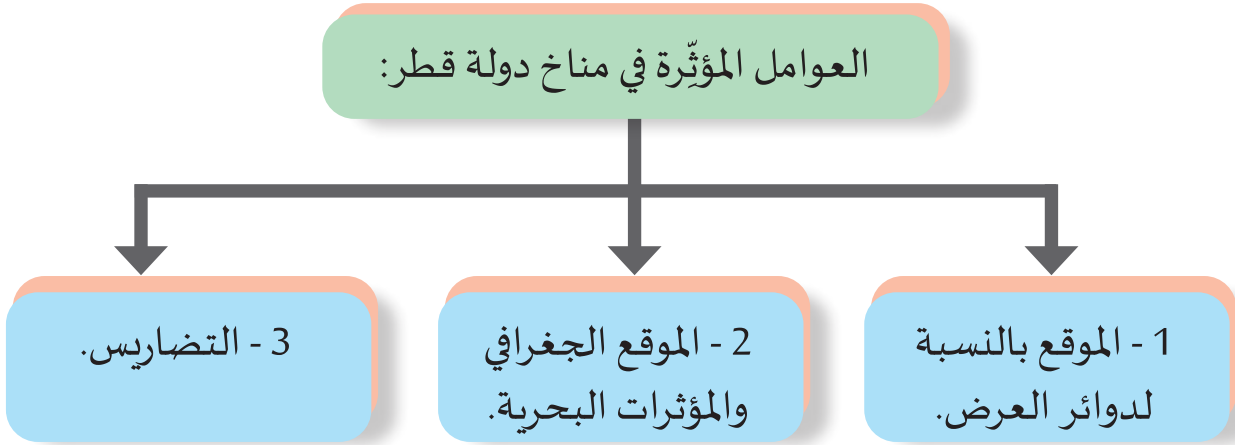
المناخ - والحياة الفطرية وموارد المياه

أولاً: مناخ دولة قطر:

يؤثر المناخ بدرجة كبيرة في مختلف نواحي الحياة على سطح الأرض، الطبيعية منها والبشرية.

1 - العوامل المؤثرة في مناخ شبه جزيرة قطر:

- لاحظ المخطط التالي:



أ- الموقع الفلكي بالنسبة لدوائر العرض:

أدى موقع دولة قطر بين دائرتي عرض $24^{\circ} 27'$ و $26^{\circ} 10'$ شمالاً إلى وقوعها ضمن نطاق الإقليم الصحراوي، الذي يتميز بدفئه في الشتاء، وشدة حرارته في الصيف؛ ولهذا تتسم دولة قطر بطول فترة الإشعاع الشمسي.

ب- الموقع الجغرافي والمؤثرات البحرية:

ساد المناخ القاري على شبه جزيرة قطر بسبب اتساع كتلة اليابس في شبه الجزيرة العربية مقارنة بحجم مسطحات المياه التي تطل عليها.

أضف لمعلوماتك:

المناخ القاري:

هو مناخ المناطق التي تقع في اليابس بعيداً عن تأثير البحر، ويتميز باتساع المدى الحراري اليومي والفصلي والسنوي.

على الرغم من أن دولة قطر عبارة عن شبه جزيرة متوغّلة داخل الخليج العربي، إلا أن تأثيره محدودٌ على مُناخ دولة قطر بسبب:

- صِغَر مساحته بالنسبة لحجم اليابس المُحيط به.

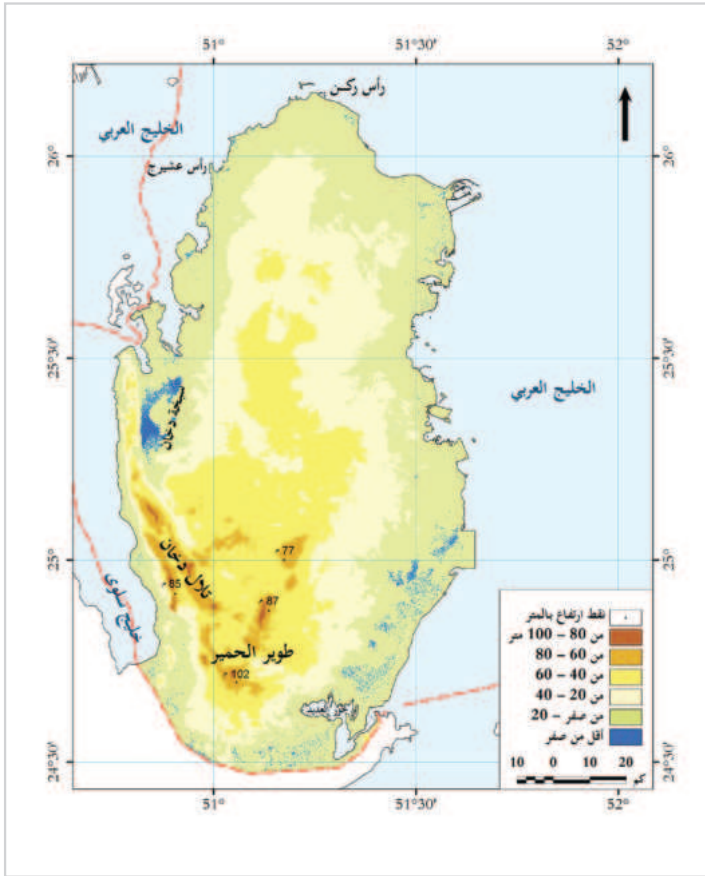
- قلة عمقه؛ مما أدى إلى ارتفاع درجة حرارة مياهه.

لذا يقتصر تأثير الخليج العربي على رفع نسبة الرطوبة بالمناطق الساحلية بدولة قطر.

- ما التحديات التي تواجه سكان دولة قطر بسبب طول فترة الإشعاع الشمسي؟



فكّر وناقش



شكل (1) تضاريس دولة قطر

ج- التضاريس:

- لاحظ خريطة التضاريس في دولة قطر وأجب على الأسئلة الآتية:

- ما الصفة الغالبة على تضاريس دولة قطر؟

- استخرج من الخريطة المرتفعات في دولة قطر.

نستج من الخريطة أن تأثير التضاريس في مناخ دولة قطر محدود؛ حيثُ يغلب على تضاريس شبه جزيرة قطر صفة الاستواء - عدا تلّال دخان - ويقتصر تأثير التضاريس في المنخفضات والروضات والمناطق المحيطة بها.

- ماذا تتوقع أن يحدث لو كانت دولة قطر تحتوي على سلاسل جبلية؟



فكّر وتوقع

2 - عناصر المناخ:

- لاحظ المخطط التالي وتعرف عليها:



أ- درجة الحرارة:

فصل الشتاء:

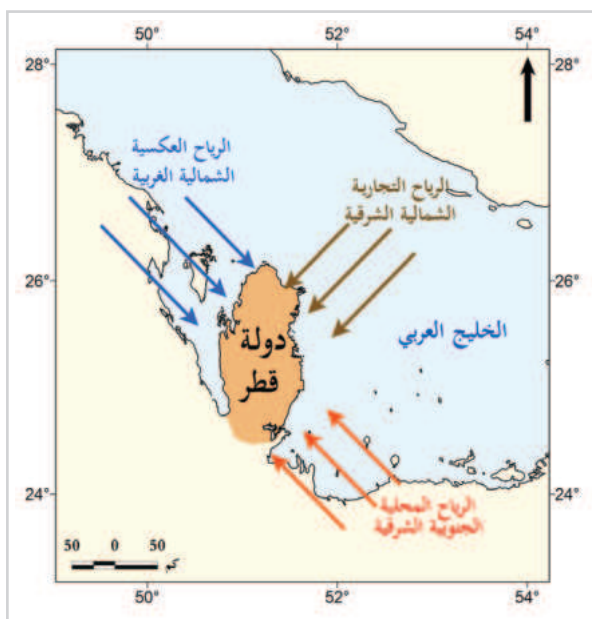
تنخفض درجة الحرارة إلى أدنى مُعدلاتها في شهر يناير؛ بسبب تعامد الشمس على مدار الجدي وعدم تركّز أشعتها على نصف الكرة الشمالي. وتأثر دولة قطر بالمنخفضات الجوية من وسط آسيا ومنطقة البحر المتوسط.

فصل الصيف:

يُعدُّ فصل الصيف أشدَّ فصول السنة حرارة في دولة قطر، حيثُ ترتفع درجة الحرارة إلى أعلى مُعدلاتها في شهر يوليو، ويرجع ذلك إلى تعامد الشمس على مدار السرطان وتركّز أشعتها على نصف الكرة الشمالي، وانعدام مرور المنخفضات الجوية خلاله.

ب- الرياح:

- الاتجاه السائد لرياح هو الشمال والشمال الغربي.



شكل (2) الرياح في قطر

- لاحظ الخريطة شكل (2) وتعرف على أنواع الرياح التي تتعرض لها دولة قطر.

الرياح التجارية:	الرياح العكسية:	الرياح المحلية:
تتأثر دولة قطر بهبوب الرياح التجارية الشمالية الشرقية الجافة طوال العام.	تهبّ على دولة قطر في فصل الشتاء الرياح العكسية الشمالية والشمالية الغربية القادمة من البحر المتوسط، وتتسم بأنها رياح باردة، وتؤدي إلى انخفاض درجات الحرارة في دولة قطر شتاءً، وتسهم في سقوط الأمطار الشتوية.	تتعرض دولة قطر لهبوب الرياح الجنوبية الشرقية (رياح الكوس)، وهي رياح حارة ورطبة تُثير الغبار والأتربة، وترفع من نسبة الرطوبة الجوية في فصل الربيع والصيف.

ج- الأمطار:

تتميّز شبه جزيرة قطر بصفةٍ عامّةٍ بقلّة أمطارها، وتذبذبها، وتباين كمياتها من عام إلى آخر ومن شهر إلى آخر، وتسقط على فترات متباعدة، وبصورة فجائية؛ بسبب وقوعها ضمن النطاق الصحراوي.

أنواع الأمطار:

يسقط على شبه جزيرة قطر نوعان من الأمطار، هما:

الأمطار الإعصارية:

تسقط بسبب المنخفضات الجوية التي تمرُّ على شبه جزيرة قطر القادمة من البحر المتوسط في فصلي الشتاء والربيع.

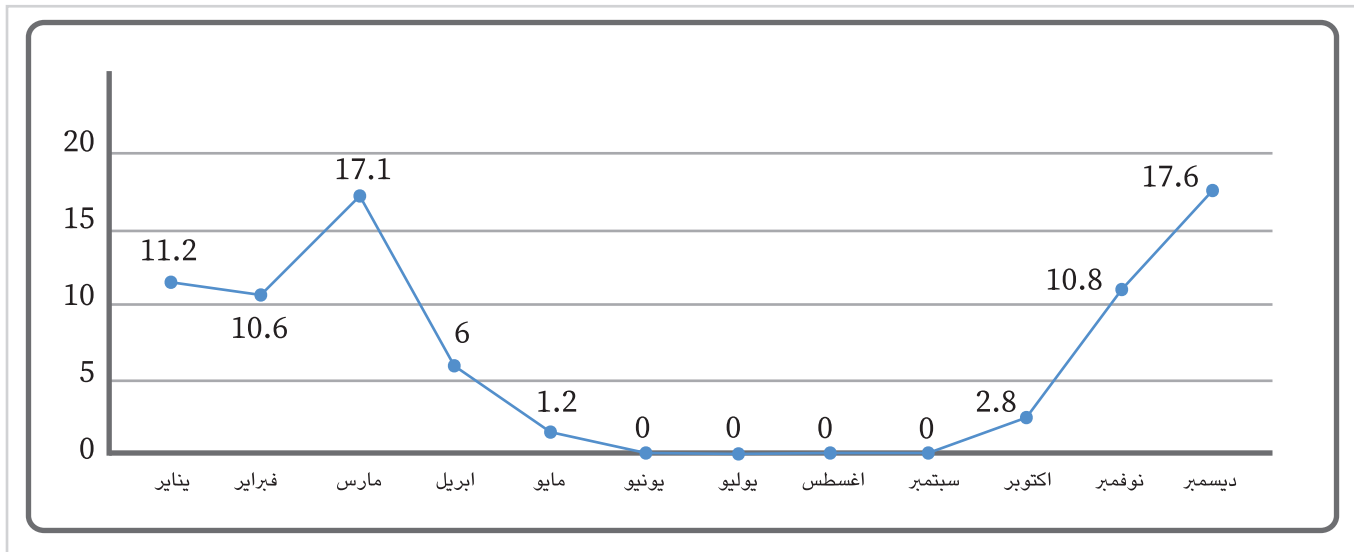
أمطار العواصف الرعدية:

تسقط خلال فصلي الخريف والربيع، وتمثل



حوالي 65٪ من جملة الأمطار الساقطة على دولة قطر، ويكون مصدرها الجبهات الباردة التي تصل منطقة الخليج العربي في مقدّمة ومؤخّرة منخفضات البحر المتوسط، وكذلك المنخفضات القادمة من السودان، وينتج عنها عواصف رعدية.

- من خلال الشكل البياني (3) أجب عن الآتي:



شكل (3) متوسط كمية الأمطار على دولة قطر للفترة (1992-2021م)

- كم يبلغ المتوسط السنوي لكمية الأمطار في دولة قطر؟

- أي أشهر من السنة تسجل أعلى كميات لهطول الأمطار؟

- قدم مقترحات علمية يمكن من خلالها تحقيق الاستفادة القصوى من مياه الأمطار.



لاحظ وأجب

د- الرطوبة:



هي كمية بخار الماء في الهواء، وترتفع الرطوبة بالمناطق المُطَلَّة على سواحل قطر، وتقلُّ في المناطق الداخلية، كما أنها ترتفع في فصل الشتاء وتقلُّ في فصل الصيف.

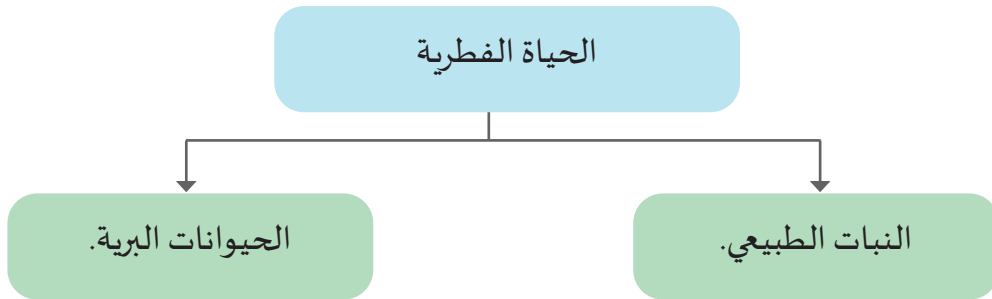
ثانياً: الحياة الفطرية في دولة قطر:

مفهوم الحياة الفطرية:

كلُّ الحيوانات والنباتات التي تعيش في أماكنها الطبيعية على فطرتها التي خلقها الله عليها دون الاعتماد على الإنسان في مأكليها أو مشربها.



وتنقسم الحياة الفطرية إلى قسمين كما يوضِّحها المخطط التالي:



أ- النبات الطبيعي في دولة قطر:

يتميّز النبات الطبيعي بدولة قطر بقلته وتبعثه من مكان إلى آخر.

أنواع النبات الطبيعي في دولة قطر:

النباتات الحَوْلِيَّة (الموسمية):

هي النباتات التي تنبُت بعد موسم سقوط الأمطار مباشرة، وتموت بعد انتهاء الأمطار أو تتغذى عليها الحيوانات، وتتميّز بجذورها السطحية الصغيرة، مثل: الكحل، والقريص.



نبات القريص




نبات الكحل

- النباتات المعمرة (الدائمة):


هي أشجار دائمة تتميز بجذورها العميقة التي تصل إلى الطبقة الرطبة، وبمقاومتها للجفاف مثل: السمر، والسدر، والغضا.



نبات الغضا



نبات السدر



نبات السمر

نبات المانجروف (القرم) في دولة قطر

نجد القائمون على القطاع البيئي في دولة قطر في مضاعفة مساحات أشجار المانجروف (القرم) وتمثل محمية الذخيرة موطنًا لغابات القرم الدائمة الخضرة. التي تنمو في المياه المالحة وتحولها إلى مياه عذبة وتحرص وزارة البيئة والتغير المناخي على تنمية هذه الغابات لمكافحة تغير المناخ

وتقليل الاحتباس الحراري من خلال امتصاص ثاني أكسيد الكربون وإنتاج الأكسجين.

كما تعمل نباتات المانجروف على تثبيت التربة ومنع تآكل الشواطئ، وتعد موطنًا للكائنات البحرية مثل الأسماك وتستخدم أوراقه كعلف للحيوانات.

- ما العلاقة بين نمو أشجار المانجروف (القرم) في الذخيرة ودورها في مكافحة تغير المناخ؟

.....

.....

- ما الآثار المحتملة لاختفاء غابات المانجروف على التنوع البيولوجي البحري؟

.....

.....



أقرأ وأجب

- أهمية النبات الطبيعي في دولة قطر :

1. يستخدم كمصدات للرياح.
2. يستفاد منه في رعي الحيوانات.
3. يحافظ على الشواطئ من التآكل.
4. تدخل بعض الأعشاب في علاج بعض الأمراض.

- اذكر استخدامات أخرى لنبات الطبيعي في دولة قطر.



فكر وأجب

ب - الحيوانات البرية في دولة قطر:

تنتشر بدولة قطر العديد من الحيوانات البرية التي تتكيف مع ظروف الجفاف، مثل الزواحف ومنها: الضب، وحيوانات آكلة العشب مثل: المها العربي، والحيوانات آكلة اللحوم مثل: الثعالب والطيور ومنها: الكروان.

دور دولة قطر في المحافظة على الحياة الفطرية:

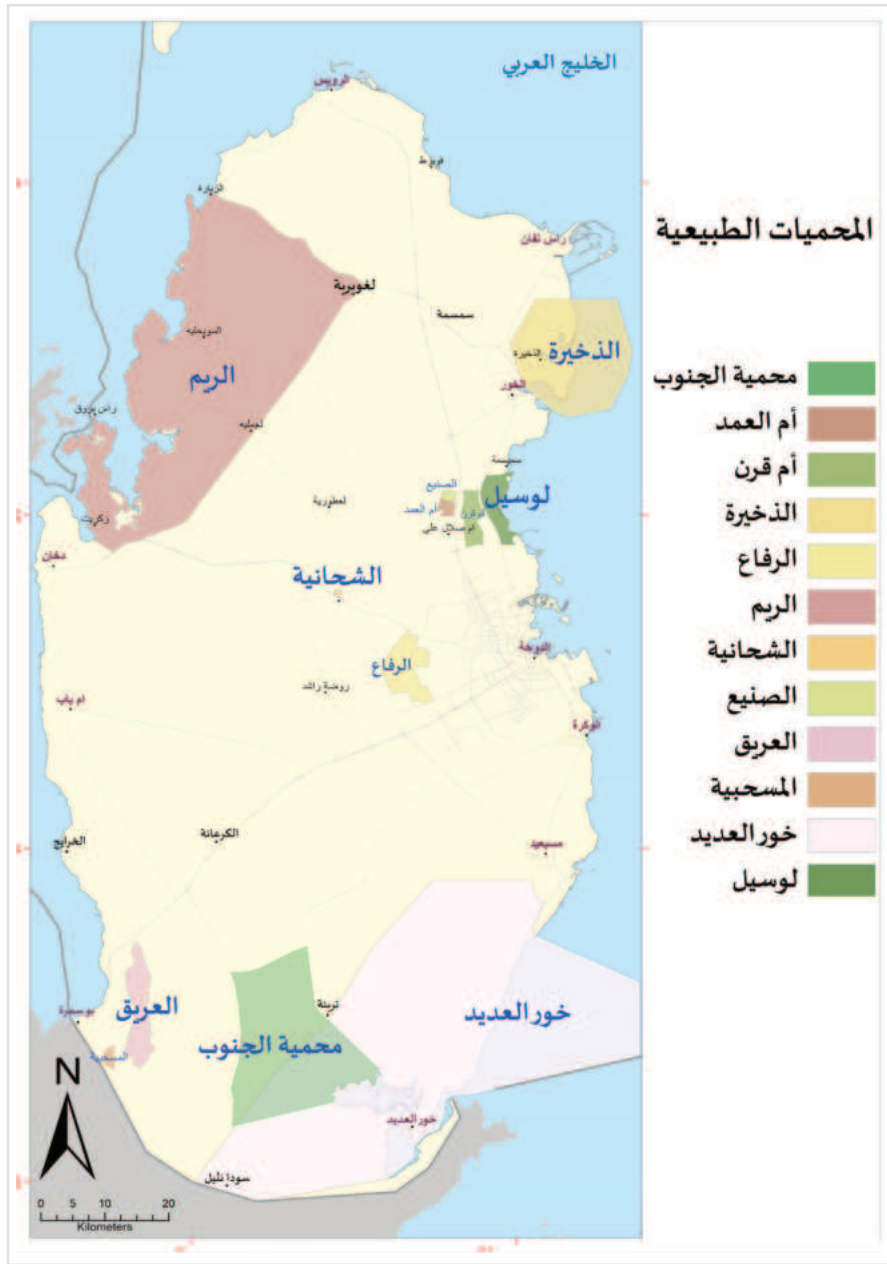
- 1 - أصدرت دولة قطر قانون لحماية البيئة.
- 2 - سعت الدولة إلى إنشاء العديد من المحميات الطبيعية لحماية الحياة الفطرية ومواطنها الطبيعية ووصل عددها إلى 12 محمية لعام 2025م.

أضف لمعلوماتك:

محمية الريم:

تم إعلان محمية الريم في عام 2007م محيطاً حيويًا ضمن برنامج الإنسان والمحيط الحيوي في اليونسكو، لتكون المحمية الأولى ضمن هذا البرنامج في دولة قطر، وواحدة من 30 محمية في 10 دول عربية، تساهم المحمية في توطين العديد من الكائنات البرية مثل النعام والغزلان، المها العربي، غزال الريم.

- لاحظ خريطة شكل (4) للمحميات الطبيعية في دولة قطر وأجب عما يأتي:



شكل (4) المحميات الطبيعية بدولة قطر (المصدر وزارة البيئة والتغير المناخي)

- عدد أهم المحميات الطبيعية في دولة قطر.

.....

- استخرج من الخريطة محميات بحرية بريا.

.....

- حدّد أكبر المحميات الطبيعية مساحة في دولة قطر.

.....



لاحظ وأجب

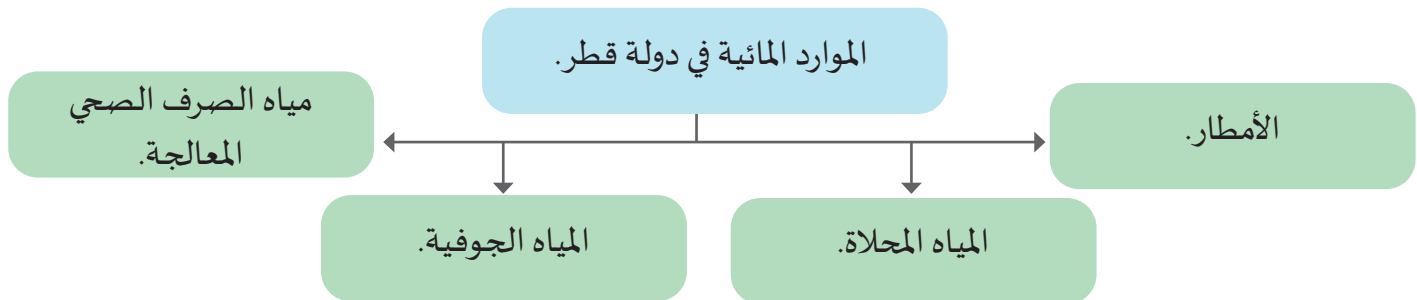
ثالثاً: الموارد المائية بدولة قطر:

الماء عنصر أساسي للحياة على سطح الأرض ومن دونه لا تقوم الحياة قال تعالى:

﴿وَجَعَلْنَا مِنَ الْمَاءِ كُلَّ شَيْءٍ حَيٍّ أَفَلَا يُؤْمِنُونَ﴾ [30 الأنبياء].

والماء عامل رئيس لاستقرار الإنسان وممارسة نشاطاته المختلفة وتعاني دولة قطر شح المياه وهو ما يتطلب الترشيد وتجنب الإسراف في موارد المياه في دولة قطر.

- تعرف على الموارد المائية في دولة قطر من خلال المخطط التالي:

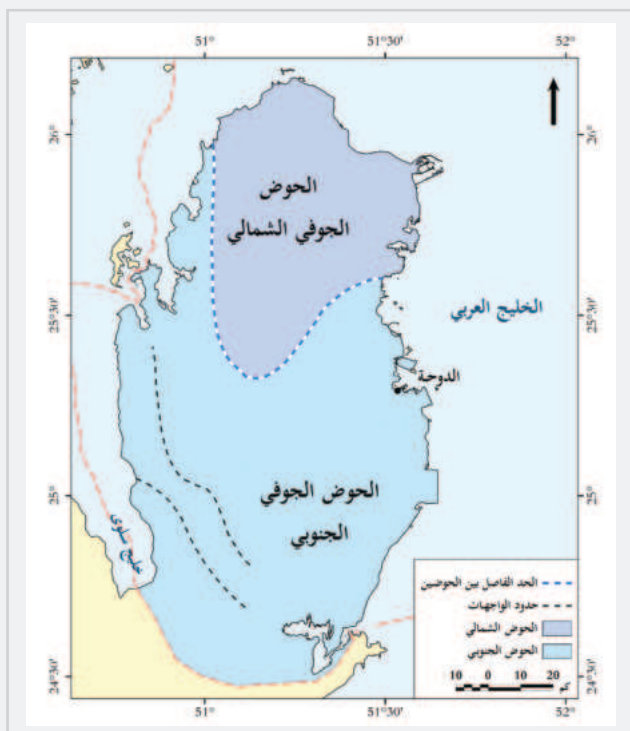


1 - الأمطار:

المطر في دولة قطر قليل وشديد التذبذب سنويًا، ولا يمكن أن تعتمد الدولة على الأمطار كمصدر أساسي للمياه العذبة.

2 - المياه الجوفية:

هي المياه التي توجد تحت سطح الأرض على أعماق مختلفة سطحية وعميقة.



شكل (5) أحواض المياه الجوفية بدولة قطر

- لاحظ خريطة دولة قطر التي أمامك
شكل (5) واستنتج أحواض المياه
الجوفية الرئيسية.



نستنتج من الشكل (5) ما يلي:

تُقسَّم شبه جزيرة قطر إلى حوضين جوفيين منفصلين:

الحوض الجوفي الشَّمالي: يُعدُّ المورد الرئيس للمياه الجوفية ذات الجودة المناسبة للشُّرب، والاستهلاك الزراعي؛ لقلة التكوينات الملحية في صخوره.

الحوض الجوفي الجنوبي: ترتفع فيه نسبة الملوحة؛ بسبب كثرة التكوينات الكبريتية المالحة في صخوره؛ لذا لا تصلح للزراعة، بل إن استخدامها يُعدُّ خطرًا على الثُّرْبَة الزراعية التي تتعرض للتصحُّر بالتملُّح.

- تتعرَّض أحواض المياه الجوفية إلى مشكلاتٍ عديدةٍ منها ما يلي:

- اختلاط المياه الجوفية القريبة من الساحل بمياه البحر.

- ارتفاع ملوحة المياه الجوفية بشكل جعلها غير صالحة للاستخدام البشري.

- انخفاض منسوب المياه الجوفية.

- الاستنزاف الجائر للمياه الجوفية غير المتجدِّدة.

- اقترح حلولاً واقعية لمشكلة انخفاض منسوب المياه الجوفية في دولة قطر.



فكر واقتح

3 - المياه المُحلَّاة:

عبارة عن تحلية مياه البحر.



وهي المصدر الأول للمياه في دولة قطر، وتُغطّي حاليًّا أغلب احتياجات السكان من المياه.

الأسباب التي جعلت دولة قطر تتجه نحو تحلية المياه:

1- مواجهة النمو السُّكَّاني السريع.

2- تنفيذ المشاريع التنموية الكبيرة العمرانية والصناعية.

3- وفرة مصدر الطاقة المتمثل في الغاز الطبيعي.

محطات تحلية المياه المالحة بدولة قطر:

- لاحظ خريطة دولة قطر التي أمامك
شكل (6) وأجب على السؤال التالي.

- استخرج من الخريطة أهم محطات
تحلية المياه المالحة.



شكل (6) مواقع محطات تحلية المياه المالحة

نستنتج من الشكل (6) ما يأتي :

أنشأت دولة قطر العديد من محطات لتحلية المياه المالحة لتغطية كافة الاحتياجات السكانية والصناعية ومنها :

- محطة أم الحول : تقع جنوب الوكرة وتعتبر من أكبر المحطات في المنطقة وتم تصميم المحطة لتكون صديقة للبيئة .

- محطة رأس لفان الواقعة شمال الدوحة.

- محطة رأس أبو فطاس الواقعة جنوب الدوحة.



محطة ام الحول

4 - مياه الصرف الصحي المُعالَجة:

دولة قطر من الدول الرائدة في المنطقة في مجال مُعالجة مياه الصرف الصحي؛ حيثُ يوجد في الوقت الراهن في دولة قطر العديد من المحطات لمعالجة مياه الصرف الصحي.

أهمية مياه الصرف الصحي المُعالَجة:

- تُستعمل لري الحدائق العامّة، وبعض الأراضي الزراعية.
- يُخفّف استخدام المياه المُعالَجة من درجة استهلاك المياه الجوفية.
- تُسهم في الحدّ من تلوث المياه وتحقيق مبدأ الاستدامة.

مشروع الخزانات الإستراتيجية الكبرى لرفع مخزون المياه:

تمّ في نهاية شهر يونيو عام 2018م تدشين المرحلة الأولى من ضخ المياه في مشروع الخزانات الإستراتيجية الكبرى لرفع مخزون المياه الإستراتيجي، بهدف تعزيز الأمن المائي لدولة قطر، ورفع السعة التخزينية الإجمالية للمياه العذبة في دولة قطر إلى ما يقارب 1500 مليون جالون من المياه. يضم المشروع خمسة عشر خزاناً ضخماً لتخزين المياه موزعة في خمسة مواقع مختلفة تغطي كافة المناطق الجغرافية بالدولة، وذلك في كل من: أم صلال، وأم بركة، وروضة راشد، وأبو نخلة، والثمامة.



مشروع الخزانات الإستراتيجية

- من خلال ما سبق أجب عما يلي :

- ما أهداف إنشاء مشروع الخزانات الإستراتيجية الكبرى في دولة قطر ؟

- عدد مناطق تواجد الخزانات الإستراتيجية الكبرى للمياه في دولة قطر.



اقرأ وأجب

أهمية تنوع الخصائص الطبيعية في شبه جزيرة قطر:

لعلك لاحظت أن دولة قطر تزخرُ بمجموعةٍ كبيرةٍ من الخصائص الطبيعية التي تتضح أهميتها

فيما يأتي:

الخصائص الطبيعية في شبه جزيرة قطر:

مناخ دولة قطر:

المعتدل في فصل الخريف وفي فصل الشتاء أدى إلى تنشيط حركة السياحة، فأصبحت دولة قطر مقصداً لكثير من السياح.

استواء السطح:

ساعد على سهولة الحركة، وإقامة العديد من شبكات الطرق والمشاريع العمرانية المختلفة.

الحياة الفطرية

بدولة قطر:

تحافظ على التوازن البيئي الطبيعي.

أشكال سطح الأرض

المتنوعة:

تعدُّ مقوِّماً من مقوِّمات السياحة الطبيعية بدولة قطر.

اسم المشروع: كتابة تقرير عن المحميات الطبيعية في دولة قطر.



بالتعاون مع مجموعة العمل، اكتب تقريراً عن المحميات الطبيعية في دولة قطر، ودورها في الحفاظ على الحياة الفطرية، ثم قدم المشروع أمام زملائك في الفصل.

المهام المطلوبة	أعضاء الفريق

الأدوات المستخدمة في المشروع

--

التقييم الذاتي للفريق

ممتاز	جيد جداً	جيد	متوسط	بنود التقييم
				الالتزام بالمهام المطلوبة.
				احترام أعضاء الفريق والتعاون معهم.
				إظهار الثقة في تقديم المشروع والعرض أمام الزملاء في الصف.
				تسليم المهام المطلوبة في الوقت المحدد.



التدريبات

السؤال الأول: اختر الإجابة الصحيحة من بين البدائل التالية:

- 1- من العوامل المؤثرة في مناخ دولة قطر:
 - أ- الأمطار.
 - ب- الرياح.
 - ج- الموقع الجغرافي.
 - د- الضغط الجوي.
- 2- يقتصر تأثير الخليج العربي في مناخ دولة قطر على عنصر:
 - أ- الرطوبة.
 - ب- الحرارة.
 - ج- الضغط الجوي.
 - د- الرياح.
- 3- ترتفع درجة الحرارة في دولة قطر إلى أعلى معدلاتها في شهر:
 - أ- مايو.
 - ب- يونيو.
 - ج- يوليو.
 - د- أغسطس.
- 4- تُصنّف رياح الكوس في دولة قطر ضمن الرياح:
 - أ- التجارية.
 - ب- الموسمية.
 - ج- العكسية.
 - د- المحلية.
- 5- تعد من النباتات المعمرة في دولة قطر:
 - أ- السمر.
 - ب- القرم.
 - ج- القرم.
 - د- الثمام.



التدريبات

السؤال الثاني: بم تُفسّر:

1 - التأثير المحدود للخليج العربي في مُناخ دولة قطر؟

.....

2 - يُعدّ فصل الصيف أشدّ فصول السنة حرارة في دولة قطر؟

.....

3 - اتجاه دولة قطر لتحلية مياه البحر؟

.....

السؤال الثالث: ما الفرق بين كل من:

1 - الأمطار الإعصارية وأمطار العواصف الرعدية؟

.....

.....

2 - النباتات الحولية والنباتات المعمّرة؟

.....

.....

.....

السؤال الرابع: عرّف المفاهيم الآتية:

1 - النباتات الحولية.

.....

2 - المياه الجوفية.

.....

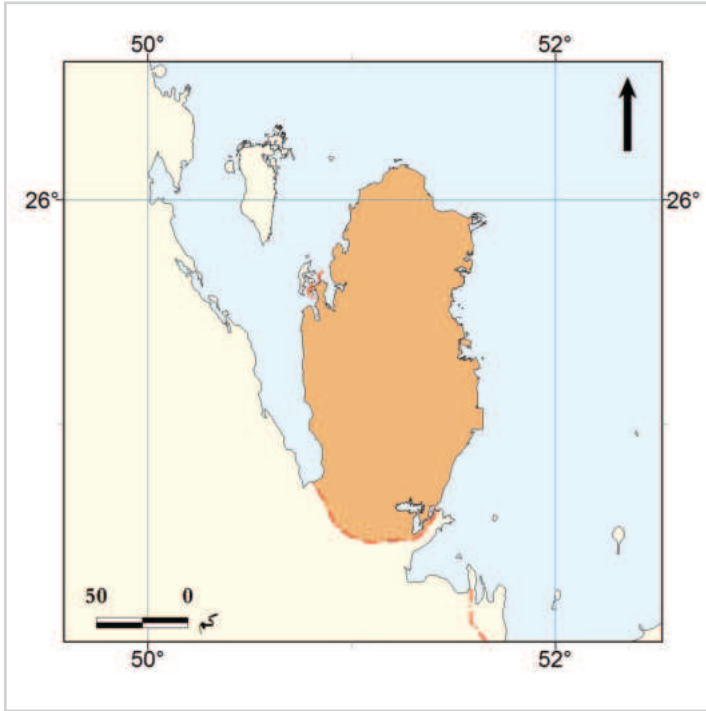
3 - المياه المُحلّاة.

.....



التدريبات

السؤال الخامس: حدّد الرياح التالية على خريطة دولة قطر:



- 1- الرّيح التجارية.
- 2- ريح الكوس.
- 3- الرّيح العكسية.

السؤال السادس: وضح أهمية الآتي:

- 1 - النبات الطبيعي بدولة قطر.

.....

.....

- 2 - المياه المُحلاة في دولة قطر.

.....

.....

- 3 - مياه الصرف الصحي المعالجة في دولة قطر.

.....

.....



التدريبات

4 - تنوع الخصائص الطبيعية بدولة قطر.

.....

.....

السؤال السابع: قارن بين كل من:

1 - مياه الحوض الجوفي الشمالي والجنوبي بدولة قطر من حيث الخصائص.

أوجه المقارنة	الحوض الجوفي الشمالي	الحوض الجوفي الجنوبي
الخصائص

2 - الرياح العكسية والرياح المحلية.

أوجه المقارنة	الرياح العكسية	الرياح المحلية
الاتجاه
السمات



التدريبات

السؤال الثامن: أجب عن الأسئلة الآتية:

1 - عدّد المشكلات التي تتعرض لها أحواض المياه الجوفية في دولة قطر.

.....

.....

2 - ما أهداف إنشاء مشروع الخزانات الإستراتيجية الكبرى في دولة قطر؟

.....

.....

السؤال التاسع:

- من خلال خريطة المحميات في دولة قطر وضح ما تشير إليه الأرقام الآتية:

(1) محمية

.....

(2) محمية

.....

(3) محمية

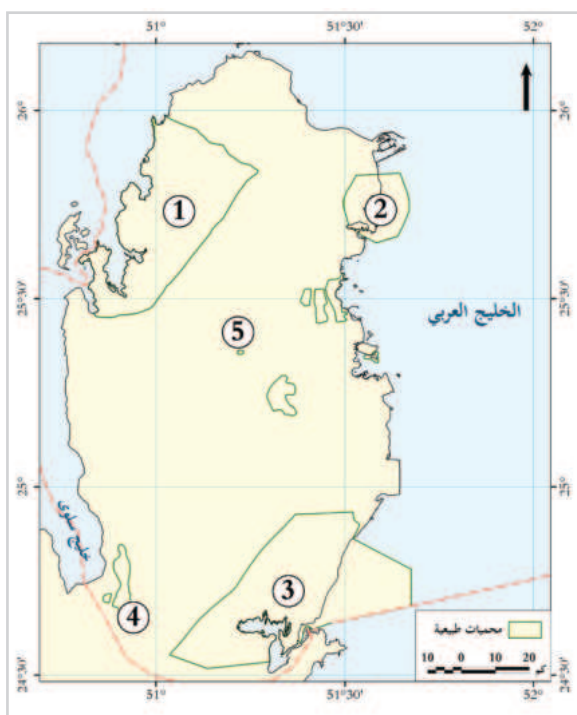
.....

(4) محمية

.....

(5) محمية

.....



تاريخ قطر الحديث

- الدَّرْسُ الأوَّل: الشيخ محمد بن ثاني ونشأة إمارة قطر
- الدَّرْسُ الثَّانِي: الشيخ جاسم بن محمد بن ثاني وتأسيس إمارة قطر



في نهاية الوحدة سوف تتعلم



- توظيف الجداول والخطوط الزمنية لتوضيح توالي فترات حكام أسرة آل ثاني.
- تحديد خط سير اسرة آل ثاني على الخريطة.
- المفاهيم والمصطلحات التاريخية.
- استخدام الخطوط والجداول الزمنية لتتبع أبرز الأحداث التاريخية خلال فترات حكام أسرة آل ثاني.
- توضيح الأحوال السياسية في قطر قبل نشأة الإمارة.
- توضيح جهود الشيخ محمد بن ثاني في تأسيس إمارة قطر.
- توضيح دور الشيخ جاسم بن محمد بن ثاني في تأسيس إمارة قطر.
- أسباب معركة الوجبة ونتائجها، وتحديد موقعها على الخريطة.
- تحليل جهود دولة قطر في مواجهة التحديات الخارجية.

القيم والقضايا

- المثابرة.
- العلم.
- الوحدة الوطنية.
- الولاء والانتماء.
- تحمل المسؤولية.
- الاستقلال والسيادة.
- السلام وحل النزاعات.

المفاهيم

- النظام القبلي.
- السلام البحري.
- شيخ الدوحة.
- قائمقام.
- القرصنة.
- الحماية.

المهارات

- قراءة الخرائط والصور التاريخية.
- تحليل النصوص التاريخية.
- التطبيق.
- ربط السبب بالنتيجة.
- التنظيم والتصنيف.
- الاستنتاج.
- حل المشكلات.
- التواصل.

الكفايات

- التفكير الإبداعي والناقد.
- حل المشكلات.
- الكفاية اللغوية.
- الكفاية العددية.
- التعاون والمشاركة.
- التقصي والبحث.

الدُّرس الأول:

الشيخ محمد بن ثاني ونشأة إمارة قطر



الشيخ محمد بن ثاني ونشأة إمارة قطر

وقعت منطقة الخليج العربي منذ بداية القرن السادس عشر الميلادي تحت تأثير الصِّراع، والتَّنَافس الدائر بين القوى الأوروبية في المنطقة؛ بهدف السيطرة عليها واستعمارها، ثم لم يلبث أن اختفى تأثير هذه القوى باستثناء بريطانيا، التي تمكَّنت من عقد معاهدات حماية مع إمارات الخليج العربي أهمها معاهدة السلام البحري عام 1820م، كما تأثرت المنطقة أيضًا بالصراعات القبليَّة فيما بينها؛ حيث حاولت كلُّ قبيلة فرض سيطرتها على بقية القبائل.

أولاً: الأوضاع السياسية في قطر قبل نشأة الإمارة:

مفاهيم أتعلمها:

النظام السياسي القبلي:
يعني أن يكون لكل قبيلة
رئيس يُسمى الأمير
أو الشيخ، يدير شؤون
القبيلة، وترجع إليه كلمة
الفصل في جميع أمورها.

تأثرت قطر بحركة انتقال القبائل العربية في شبه الجزيرة العربية؛ إذ توافدت القبائل العربية إليها، وخاصة في أوائل القرن السابع عشر الميلادي، وذلك تحت تأثير صعوبة الأوضاع الاقتصادية والمعيشية، خاصة مع انتشار القحط والجفاف في منطقة نجد. ساد النظام القبلي في معظم أنحاء شبه الجزيرة العربية؛ حيث كانت كل قبيلة تمثِّل مجموعة بشرية يتزعمها شيخ، ولم تجتمع القبائل في ظل نظام سياسي موحد.

- من خلال الفقرة السابقة:

- حلل أسباب صعوبة الأوضاع السياسية في قطر قبل نشأة الإمارة.



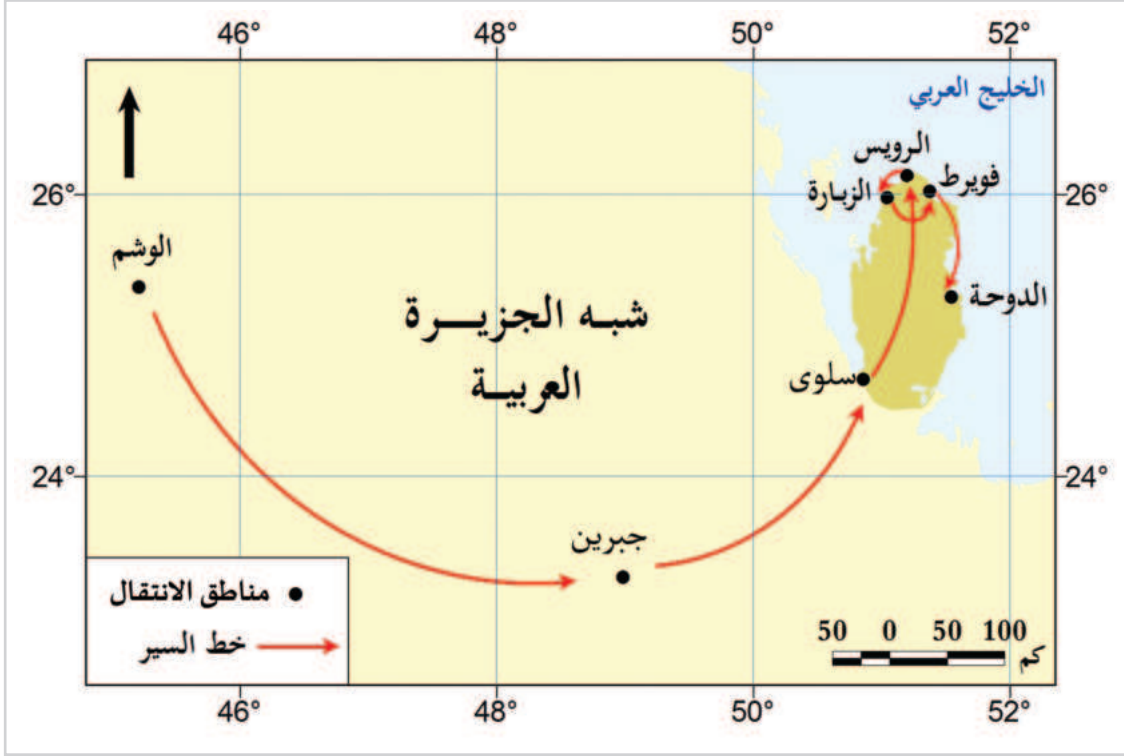
اقرأ وحل



خط سير أسرة آل ثاني.

ثانياً: ظهور أسرة آل ثاني:

- يرتبط تاريخ قطر الحديث في مطلع القرن الثامن عشر الميلادي بوصول أسرة آل ثاني إلى قطر، والتي يرجع نسبها إلى قبيلة بني تميم.



شكل (1) خريطة خط سير أسرة آل ثاني

- لاحظ واستنتج من خلال الخريطة رقم (1):

- تتبع خط سير أسرة آل ثاني من أشقير بمنطقة الوشم إلى استقرارهم في الدوحة.

- من خلال دراستك الجغرافية، لماذا فضلت أسرة آل ثاني أول الأمر الإقامة في الشمال؟

- من وجهة نظرك، توقع الصعوبات التي واجهت الأسرة أثناء السير اتجاه قطر.



لاحظ واستنتج



نمت قوة آل ثاني واتسعت ثروتهم من
تجارة اللؤلؤ في أواسط القرن التاسع عشر

قيم أتعلمها:

كن مثابراً، وتخطَّ
عقبات الحياة؛ لتحقق
طموحاتك كما حقَّقها
أسرة آل ثاني بعد انتقالها
إلى قطر.

- هاجرت أسرة آل ثاني من أشيقر بمنطقة الوشم في نجد، واستقروا في واحة جبرين، وتابعوا رحلتهم منها إلى جنوب قطر، ثم انتقلوا إلى شمالها؛ حيث أقاموا في الرويس، ومنها إلى الزبارة؛ حيث وُلد فيها الشيخ ثاني جد الأسرة، وفويرط التي اتخذوها مقراً لهم، حتى تولى الشيخ محمد بن ثاني زعامة الأسرة بعد وفاة والده، والذي انتقل وأسرته إلى الدوحة.

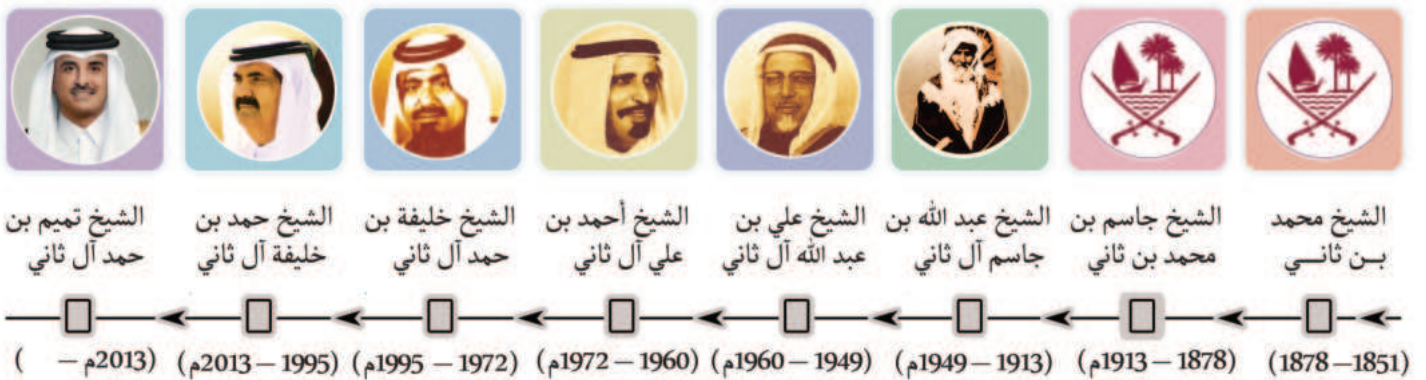
- وقد اشتهرت أسرة آل ثاني بهذا الاسم نسبة إلى جد الأسرة الشيخ ثاني بن محمد، والذي اشتهر بتجارة اللؤلؤ؛ مما ساعده على تكوين ثروة كبيرة، وكان يتمتع بمكانة اجتماعية مرموقة جعلت القبائل القطرية تلتف حولهم.

- لم تكن القبائل التي استقرت في قطر حتى أواسط القرن التاسع عشر في وضع سياسي متماسك يساعدها على إقامة إمارة، إلا أن قوة أسرة آل ثاني نمت، وازدادت ثروتهم من خلال عملهم بتجارة اللؤلؤ، وتعزز مركزهم الاجتماعي والمالي بين قبائل قطر، فالتقت القبائل حولهم، وبدأ ميلاد نظام سياسي جديد يجمع بين القطريين ويوحدتهم.

- اربط بين السبب والنتيجة:



الخط الزمني لحكام أسرة آل ثاني:





حكام أسرة آل ثاني

1 - اذكر اسم الحاكم الذي حكم قطر لأطول فترة زمنية.

2 - من هو الحاكم الذي تقع فترة حكمه بين القرن العشرين والقرن الحادي والعشرين؟



فكر وأجب

ثالثاً: الشيخ محمد بن ثاني (1851 – 1878) نشأته وصفاته:

- وُلد الشيخ محمد بن ثاني في فويرط شمال شرق قطر، في حدود عام 1776م، وقد تزعم أسرته بعد وفاة والده في فويرط، ثم ارتحل بهم إلى الدوحة عام 1848م، واستقروا بها.
- اشتهر الشيخ محمد بن ثاني بالعديد من الصفات التي أسهمت في نجاحه في جمع القبائل القطرية في وحدة واحدة، منها: الفطنة والطيبة والتدين.
- تَمَتَّع الشيخ محمد بن ثاني باحترام القبائل القطرية، ولُقِّب بشيخ الدوحة؛ بسبب حكمته في التعامل مع مختلف المشكلات، وحِرْصه على حماية ممتلكات القطريين وأرزاقهم من الغوص وتجارة اللؤلؤ.

صفات الشيخ محمد بن ثاني:

- يقول الرحالة (بلجريف) الذي زار قطر عام 1863م عن الشيخ محمد بن ثاني: هو رجل مُسنٌّ ذكي ماهر، مشهورٌ بالفطنة والطباع الطيبة، ولكنه شديد الحذر، سريع البديهة، ذو روح مَرِحَة، ومتساهلٌ في مَسْلكه، إلا أنه مساومٌ بارع، كرَّس وقته للمطالعة الشديدة، ووسَّع آفاقه الأدبية ومعرفته بالشعر

"المصدر بتصرف، وسط شبه الجزيرة العربية وشرقها الجزء الثاني، للرحالة بلجريف ترجمة صبري محمد حسين"

- من خلال النص التاريخي السابق:

- صَنَّف صفات الشيخ محمد بن ثاني إلى ثلاثة جوانب رئيسية (السياسية، الاجتماعية، الثقافية).



اقرأ وصنف

- ما العلاقة بين صفات الشيخ محمد بن ثاني وبين نجاحه في توحيد القبائل القطرية؟

رابعاً: جهود الشيخ محمد بن ثاني في تأسيس إمارة قطر:

1 - على المستوى الداخلي:

نجح الشيخ محمد بن ثاني בזكاء شديد في أن يوجِّد القبائل القطرية بعد فترة من الاضطرابات شهَّدتها البلاد، كما أنه استطاع أن يوطِّد مركزه في قطر، سواء على المستوى الدولي أو الإقليمي.

2 - على المستوى الخارجي:

شهدت منطقة الخليج العربي في الفترة الممتدة ما بين عام 1851م وحتى 1868م العديد من الصراعات والمنازعات، فتدخلت بريطانيا بحجة حفظ الأمن في المنطقة، وانتهى الأمر بتوقيع الشيخ محمد بن ثاني على اتفاقية 12 سبتمبر 1868م مع بريطانيا (معاهدة 1868م).

أهم بنود المعاهدة:

1 - المحافظة على الأمن والاستقرار في البلاد.

2 - المحافظة على السلام البحري.

3 - الرجوع إلى بريطانيا لفض المنازعات في المنطقة.

أدت معاهدة عام 1868م إلى اعتراف بريطانيا بقطر كإمارة ذات كيان سياسي مستقل، مما يُعد بداية لحكم أسرة آل ثاني على قطر.

- من خلال دراستك لمعاهدة عام 1868م أجب عما يلي:

- استخرج من المعاهدة القضايا الرئيسية التي عالجتها.

- اختلف النظام السياسي في قطر قبل المعاهدة وبعدها، وضح ذلك.

- تخيّل نفسك مستشاراً للشيخ محمد بن ثاني، واقترح بنوداً إضافية تعزز من سيادة قطر، مبرراً اختيارك لهذه البنود.



اقرأ وحل

وفي عام 1871م وصلت الحامية العسكرية العثمانية إلى قطر، وبذلك أصبحت قطر تحت الحماية العثمانية لمواجهة الأطماع البريطانية.
وتُوفي الشيخ محمد بن ثاني في يوم 18 من ديسمبر 1878م.

- ما الدروس المستفادة من حياة الشيخ محمد بن ثاني؟



فكّر وأجب



التدريبات

السؤال الأول: اختر الإجابة الصحيحة من بين البدائل:

1- هاجرت القبائل العربية منذ أوائل القرن السابع عشر الميلادي من منطقة نجد بسبب:

- أ- سياسة توطين البدو. ب- وفرة المراعي الطبيعية.
ج- انتشار الجفاف والقحط. د- ظهور قوة آل سعود في المنطقة.

2- انتقلت أسرة آل ثاني من منطقة سلوى إلى قطر، وأول منطقة توجَّهوا إليها هي:

- أ- الرويس. ب- فويرط.
ج- الزبارة. د- الدوحة.

3- أي المدن التالية استقرت فيها أسرة آل ثاني عام 1848م؟

- أ- الزبارة. ب- الرويس.
ج- الدوحة. د- فويرط.

4- حدِّد الترتيب الصحيح لحكام أسرة آل ثاني من الأقدم إلى الأحدث:

- أ- الشيخ علي بن عبد الله آل ثاني - الشيخ جاسم بن محمد بن ثاني - الشيخ خليفة بن حمد آل ثاني.
ب- الشيخ خليفة بن حمد آل ثاني - الشيخ علي بن عبد الله آل ثاني - الشيخ جاسم بن محمد بن ثاني.
ج- الشيخ جاسم بن محمد بن ثاني - الشيخ خليفة بن حمد آل ثاني - الشيخ علي بن عبد الله آل ثاني.
د- الشيخ جاسم بن محمد بن ثاني - الشيخ علي بن عبد الله آل ثاني - الشيخ خليفة بن حمد آل ثاني.

5- أي المدن التالية ولد فيها الشيخ محمد بن ثاني؟

- أ- فويرط. ب- الرويس.
ج- الزبارة. د- زكريت.



التدريبات

6 - أُطْلِقَ لقب "شيخ الدوحة" على الشيخ:

- أ- ثاني بن محمد.
ب- محمد بن ثاني.
ج- جاسم بن محمد بن ثاني.
د - أحمد بن محمد بن ثاني.

7- أي الدول التالية وقع معها الشيخ محمد بن ثاني اتفاقية سبتمبر عام 1868م؟

- أ- فرنسا.
ب- بريطانيا.
ج- البرتغال.
د- الدولة العثمانية.

8- حصلت دولة قطر على اعتراف بريطانيا بها كإمارة مستقلة عام:

- أ- 1968م.
ب- 1868م.
ج- 1871م.
د- 1835م.

السؤال الثاني: بَمَ تفسِّر:

1 - هجرة بعض القبائل العربية في أوائل القرن السابع عشر إلى قطر؟

2 - عقد بريطانيا اتفاقية عام 1868م مع الشيخ محمد بن ثاني؟

3- لُقِّبَ الشيخ محمد بن ثاني بشيخ الدوحة؟



التدريبات

السؤال الثالث: أجب عن الأسئلة الآتية:

1 - كيف كانت الأوضاع السياسية في شبه جزيرة قطر قبل مجيء أسرة آل ثاني؟

.....

.....

2 - اذكر أهم ما تضمنته اتفاقية عام 1868م التي وقّعها الشيخ محمد بن ثاني مع بريطانيا.

.....

.....

3 - ما النتائج المترتبة على توقيع قطر اتفاقية عام 1868م؟

.....

.....

السؤال الرابع: أثبت بالأدلة صحة العبارة الآتية:

1 - "تأثرت قطر بحركة انتقال القبائل العربية في شبه الجزيرة العربية".

.....

.....

2 - ركزت معاهدة عام 1868م على قضايا السلام وحل النزاعات.

.....

.....


3 - اختلف نظام قطر السياسي بعد معاهدة عام 1868م.

.....

.....

الدَّرْس الثاني :

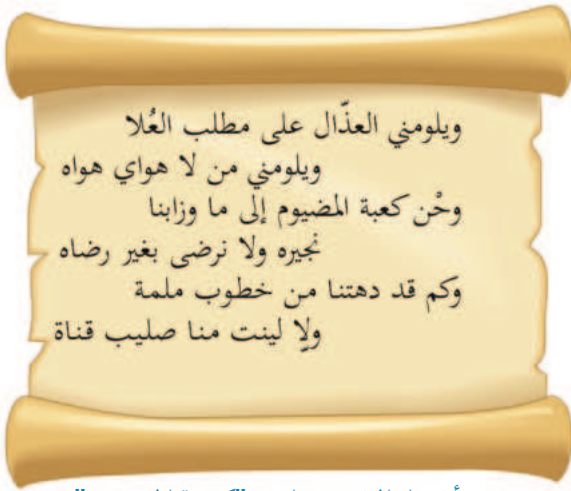
الشيخ جاسم بن محمد بن ثاني وتأسيس إمارة قطر



الشيخ جاسم بن محمد بن ثاني وتأسيس إمارة قطر (1878 - 1913م)

أولاً: الشيخ جاسم بن محمد بن ثاني: نشأته وصفاته:

- يعد الشيخ جاسم بن محمد بن ثاني قائد استثنائي في تاريخ قطر الحديث، فقد استطاع بحكمته أن يوحد القبائل القطرية ويعزز مكانة الدولة الناشئة في وجه التهديدات الخارجية؛ ولهذا يُعد من أهم الشخصيات في تاريخ دولة قطر الحديث ومنطقة الخليج العربي.



من أشعار الشيخ جاسم "كعبة المضيوم"

- وُلد الشيخ جاسم بن محمد بن ثاني في حدود عام 1827م، حيث نشأ في فويرط، وتعلم بها القرآن وعلومه، والفقه، والشريعة، وآداب الفروسية، ومهارات الصيد والقنص.

- لازم أباه - الشيخ محمد بن ثاني - في كل تجاربه السياسية؛

فتبلورت شخصيته القيادية منذ عهد مبكر، حتى أصبح

قائدًا عسكريًا، وقاضيًا ومفتيًا، كما كان فارسًا شاعرًا،

وصاحب نخوة وشهامة، وخاض حروبًا عديدة للدفاع عن

قطر، ولم تُثنيه المخاطر عن اقتحام الصّعب وردّع الظلم ونُصرة المظلوم؛ فمهّدت له هذه الصفات أن

يكون مؤسس "قطر" وبانيها.

- صنّف المهارات التي تعلّمها الشيخ جاسم بن محمد بن ثاني إلى مهارات علمية ومهارات قيادية.

- استنتج القيم التي عبّرت عنها أشعار الشيخ جاسم (كعبة المضيوم).

- كيف يمكن أن تستفيد من سيرة الشيخ جاسم في تنمية مهاراتك القيادية؟



اقرأ وفكر

ثانياً: تولية الشيخ جاسم بن محمد بن ثاني الحكم والصعوبات التي واجهته:



- تولى الشيخ جاسم بن محمد بن ثاني الحكم في قطر 18 ديسمبر من عام 1878م. (ذكرى اليوم الوطني لدولة قطر).

- ونجح الشيخ جاسم بن محمد بن ثاني في إدارة قطر في ظل متغيرات كثيرة بالمنطقة، ويُعدُّ ذلك بداية لتأسيس دولة قطر، حيث عمل على تعزيز الاستقلالية من خلال سعيه للحصول على اعتراف كلِّ من بريطانيا والدولة العثمانية باستقلالها.

وقد واجهت الشيخ جاسم بن محمد بن ثاني عدة صعوبات وتحديات

منذ توليه الحكم، ومنها:

قيمٌ أتعلّمها:

أحرص على المشاركة في الاحتفال باليوم الوطني، فهي من مظاهر الولاء والانتماء للوطن.

1 - زيادة الأطماع البريطانية للسيطرة على قطر.

2 - تعرُّض سواحل قطر لعمليات القرصنة البحرية.

3 - قلة الموارد الطبيعية في قطر.

- سعى الشيخ جاسم بن محمد بن ثاني للتصدي لتلك الصعوبات عبر جهوده على الصعيدين الداخلي والخارجي.

ثالثاً: السياسة الداخلية والخارجية في عهد الشيخ جاسم بن محمد بن ثاني:

1- السياسة الداخلية:

- نجح الشيخ جاسم بن محمد بن ثاني في النهوض بإمارة قطر على المستوى الداخلي من خلال أعماله الآتية:

1 - تعميق الانتماء الوطني، والتأكيد على الوحدة بين القبائل القطرية.

2 - الاهتمام بالتعليم، فأنشأ الكتاتيب وجلب الفقهاء، وإعمار المساجد.

3 - تطوير موانئ الدوحة والزبارة، وعمل على بناء السفن.



قصر الشيخ جاسم ومسجده في لوسيل.

المصدر: كتاب داهية العرب الشيخ جاسم بن محمد بن ثاني



الغواصون والبحث عن اللؤلؤ

4- تعزيز تجارة اللؤلؤ في المنطقة، وأصبحت الدوحة مركزًا لتجارته.
وترتب على تلك الأعمال توفير فرص العمل، وتحسّنت ظروف الحياة، وتوسّع العمران وزاد عدد السكان.

قيم أتعلّمها:

شجّع الأفكار المبتكرة
والمشروعات الجديدة
لمواجهة التحديات.

- ما الأفكار المبتكرة التي استخدمها الشيخ جاسم بن محمد بن ثاني لمواجهة الصعوبات الاقتصادية والاجتماعية؟

.....

.....



فكر وأجب

2 - السياسة الخارجية:

أولاً: العلاقات العثمانية القطرية:

كان الشيخ جاسم بن محمد بن ثاني نصيرًا قويًا للخلافة العثمانية باعتبارها رمزًا للوحدة الإسلامية، ومن أكثر زعماء الخليج العربي دفاعًا عنها، رغم كل الضغوط التي واجهته من بريطانيا. وأعلن الشيخ جاسم بن محمد بن ثاني -نيابة عن والده الشيخ محمد بن ثاني عام 1871م - تأييده للسيادة العثمانية على إمارة قطر مطالبًا بوجود قوات عثمانية فيها.

- أسباب ترحيب الشيخ جاسم بن محمد بن ثاني بالعثمانيين:

1 - حماية إمارة قطر من عمليات الإغارة والسلب من خارج الإمارة.

2 - توفير الأمن والحماية لتجارة اللؤلؤ والعاملين فيها.

3 - دعم قطر في مواجهة الضغوط البريطانية، بعد اتفاقية 1868م.

وصلت الحامية العسكرية العثمانية إلى الدوحة عام 1871م، فخرج الشيخ جاسم بن محمد بن ثاني لاستقبالها والترحيب بها.

أعلنت الحماية العثمانية إعفاء قطر من الضرائب وتعيين الشيخ جاسم "قائمقام" على البلاد مع إقامة قوة عسكرية في البدع للدفاع عن قطر ضد أي عدوان خارجي. ومنذ ذلك التاريخ 1871م أصبحت قطر تحت الحماية العثمانية، وخلال هذه الفترة لم يتدخل العثمانيون بشكل كبير في شؤون قطر الداخلية، وترك العثمانيون إدارة شؤون البلاد الداخلية إلى الشيخ محمد بن ثاني وابنه.



القاعدة العسكرية العثمانية في قطر

المصدر: كتاب داهية العرب الشيخ جاسم بن محمد بن ثاني

- استنتج الفائدة الاقتصادية لكل من الإجراءات العثمانية التالية:

- إعفاء قطر من الضرائب.

- إقامة قوة عسكرية في البدع.



اقرأ واستنتج

مفاهيم أتعلمها

قائمقام:

منصب سياسي يعني

نائب الحاكم.

معركة الوجبة عام 1893م:

على الرغم من العلاقة الطيبة بين الشيخ جاسم بن محمد بن ثاني والخلافة العثمانية، إلا أنه رفض التدخل العثماني في الشؤون الداخلية لقطر، هذا الرفض أدى إلى توتر العلاقة بين الطرفين حتى وصلت إلى مواجهة عسكرية في الوجبة.

- الأسباب غير المباشرة للمعركة (مقترحات الدولة العثمانية للشيخ جاسم بن محمد بن ثاني):

1 - زيادة أعداد الحماية العسكرية العثمانية في البلاد.

2 - فرض ضرائب باهظة على تجارة اللؤلؤ.

3 - فتح مكتبتين للجمارك في منطقتي "الزيارة والعديد"، وإعادة إعمارهما.

4 - محاولة تعيين وكيل عثماني للشيخ جاسم بن محمد بن ثاني.

وكان موقف الشيخ جاسم رفض المقترحات بالكامل؛ لأنها ستُضعف من هيئته، وتقلص سلطته، كما أنها ستحرم البلاد من أحد مصادرها الأساسية وهي الجمارك، وأن فرض رسوم على دخل اللؤلؤ سيؤدي إلى هجرة السكان من البلاد.

الأسباب المباشرة للمعركة:

اعتقال الشيخ أحمد بن محمد بن ثاني و16 من أعيان الدوحة، بعد فشل المفاوضات بين الشيخ جاسم والوالي العثماني.

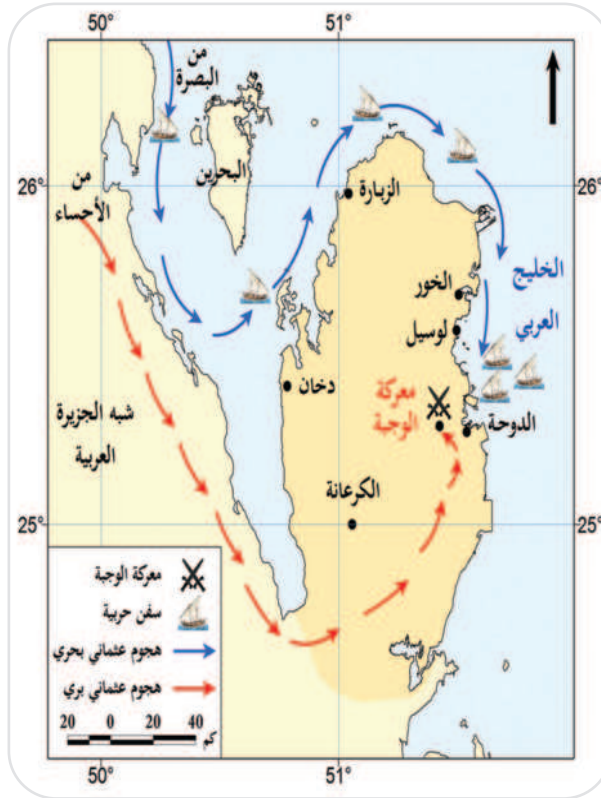
أحداث المعركة:

توحدت القبائل القطرية بزعامة الشيخ جاسم بن محمد بن ثاني الذي اتخذ قرارًا بالمواجهة العسكرية مع العثمانيين في الوجبة.

لاحظ المخطط التالي للتعرف على أحداثها:

4 - انسحبت بقية القوات العثمانية إلى قلعتهم في الدوحة، فحاصروهم الشيخ جاسم وقواته؛ مما اضطرهم إلى التفاوض.

1 - تحركت القوة العثمانية من منطقة الإحساء إلى الوجبة الواقعة غربي الدوحة لقتال الشيخ جاسم بن محمد بن ثاني.



شكل (1) خريطة معركة الوجبة

3 - استدرك الشيخ جاسم القوات العثمانية إلى منطقة الوجبة، حيث تمكن من إلحاق هزيمة كبيرة بها.

2 - أوهم الشيخ جاسم بن محمد بن ثاني العثمانيين أنه ترك الدوحة وقام بتسريح قواته، لكنه قام بتوزيعها على عدة كمائن، وسيطر على آبار المياه.

- بعد دراسة أحداث معركة الوجبة، قم بتحليل الأزمة التي واجهها الشيخ جاسم بن محمد بن ثاني باستخدام مهارة حل المشكلات



طبق وتعلم

1. تحديد المشكلة.

2. جمع المعلومات وتحديد الخيارات (الحلول المتاحة أمام الشيخ جاسم).

3. تقييم الخيارات (الحلول).

4. اتخاذ القرار وتنفيذه.

5. تقييم النتائج.

نتائج المعركة:



السلطان العثماني عبد الحميد الثاني

شكلت معركة الوجبة علامة بارزة في تاريخ قطر، وبرزَّ الشيخ جاسم بن محمد بن ثاني بعدها كشخصية هامة في الخليج، له ثقله السياسي إقليمياً، وكان من أبرز نتائجها:

1. انتصار القطريين على القوات العثمانية.
2. إطلاق الوالي العثماني سراح الشيخ أحمد بن محمد بن ثاني ومن معه.
3. سحب جميع القوات العثمانية التي حضرت مع الوالي العثماني إلى الإحساء.
4. عزل السلطان عبد الحميد الثاني الوالي العثماني، وتسوية الخلاف بين الدولة العثمانية والشيخ جاسم.

- اكتب خطاباً افتراضياً يلقيه الشيخ جاسم بن محمد بن ثاني بعد معركة الوجبة، يُبين فيه أهمية النصر والتكاتف الوطني.



اكتب وتحدث

ثانياً: العلاقات القطرية البريطانية:

اتسمت العلاقات القطرية البريطانية بالتوتر منذ بداية تولي الشيخ جاسم بن محمد بن ثاني الحكم لرفض الشيخ جاسم بن محمد بن ثاني الضغوط التي مارستها بريطانيا لتوقيعه على معاهدة الحماية البريطانية على قطر واختلاق بريطانيا للمشكلات أمام الشيخ جاسم بن محمد بن ثاني.

وفاة الشيخ جاسم بن محمد بن ثاني:

ظل الشيخ جاسم بن محمد بن ثاني على ولائه للخلافة العثمانية، ومحافظاً على استقلال بلاده من التدخل الأجنبي من أي جهة حتى وفاته عام 1913م. وخلفه في الحكم ابنه الشيخ عبد الله بن جاسم آل ثاني.

- ما الدروس المستفادة من حياة الشيخ جاسم بن محمد بن ثاني؟



فكر وأجب



متحف قطر الوطني

اسم المشروع: زيارة ميدانية لمتحف قطر الوطني



بالتعاون مع مجموعة العمل، قم بزيارة ميدانية لمتحف قطر الوطني (صالة العرض الخاص بتاريخ قطر الحديث) واكتب تقريرًا عن الشيخ جاسم بن محمد بن ثاني مدعوًا بالصور ويشمل التقرير:

- وصف صالة العرض.

- محتويات الصالة: مقتنيات أثرية ووثائق وأفلام وثائقية للشيخ جاسم بن محمد بن ثاني.
- الاستنتاج والتوصيات: تلخيص الزيارة والرأي الشخصي حولها وتوصيات بأهميتها لموضوع الزيارة.

المهام المطلوبة	أعضاء الفريق

الأدوات المستخدمة في المشروع

--

التقييم الذاتي للفريق

بنود التقييم	متوسّط	جيد	جيد جدًا	ممتاز
الالتزام بالمهام المطلوبة.				
احترام أعضاء الفريق والتعاون معهم.				
إظهار الثقة في تقديم المشروع والعرض أمام الزملاء في الصف.				
تسليم المهام المطلوبة في الوقت المحدد.				



التدريبات

السؤال الأول: اختر الإجابة الصحيحة من بين البدائل:

- 1- نشأ الشيخ جاسم بن محمد بن ثاني في مدينة:
 - أ- الزيارة.
 - ب- الرويس.
 - ج- الدوحة.
 - د- فويرط.
- 2- يرجع ترحيب الشيخ جاسم بن محمد بالعثمانيين عام 1871م إلى:
 - أ- نشاط تجارة السلاح في قطر.
 - ب- توفير الأمن والحماية لتجارة اللؤلؤ.
 - ج- ازدياد نشاط القرصنة على سواحل قطر.
 - د- زيادة اعداد الحامية العسكرية في البلاد.
- 3- من الصعوبات التي واجهت الشيخ جاسم بن محمد بن ثاني:
 - أ- كساد تجارة اللؤلؤ.
 - ب- الأطماع العثمانية.
 - ج- الأطماع البريطانية.
 - د - تجارة الرقيق.
- 4- وقعت معركة الوجبة عام 1893م في غرب:
 - أ - الزيارة.
 - ب- الرويس.
 - ج- الدوحة.
 - د- فويرط.
- 5- كان موقف الشيخ جاسم بن محمد بن ثاني من التدخل العثماني في الشؤون الداخلية لقطر:
 - أ- رفض التدخل بشكل قاطع.
 - ب- دعم التدخل لتحقيق الاستقرار.
 - ج- طالب بزيادة أعداد الحامية العثمانية.
 - د- وافق على تعيين وكيل عثماني.
- 6- رفض الشيخ جاسم بن محمد بن ثاني مقترحات الدولة العثمانية بفرض الرسوم على تجارة اللؤلؤ بسبب:
 - أ- زيادة أرباح التجار.
 - ب- تطوير اقتصاد المنطقة.
 - ج- تقوية النفوذ البريطاني.
 - د- الخوف من هجرة السكان من البلاد.



التدريبات

7- كان لمعركة الوجبة تأثير على مكانة الشيخ جاسم بن محمد بن ثاني في المنطقة من خلال :

أ- عزله من منصبه.

ب- تحالفه مع البريطانيين.

ج- أصبح شخصية هامة في الخليج.

د- فرض سيطرته كاملة على الخليج.

8- تكمن أهمية معركة الوجبة التاريخية في أنها:

أ- ساعدت على التقارب البريطاني القطري.

ب- شجعت على هجرة القبائل العربية إلى قطر.

ج- فرضت الانسحاب العسكري العثماني من قطر.

د- وضعت حدًا لمحاولات تزايد النفوذ العثماني

في قطر.

9- من الإجراءات التي اتخذها السلطان عبد الحميد الثاني بعد معركة الوجبة:

أ- عزز قواته في قطر.

ب- عزله الوالي العثماني.

ج- مهاجمة قطر مجددًا.

د- إرسال قوات إضافية لدعم الوالي.

السؤال الثاني: بم تفسّر:

1- تؤثر العلاقة بين الشيخ جاسم بن محمد بن ثاني والدولة العثمانية قبيل وقوع معركة الوجبة؟

2- تؤثر العلاقات القطرية البريطانية في عهد الشيخ جاسم بن محمد بن ثاني؟



التدريبات

السؤال الثالث: أجب عن الأسئلة الآتية:

1- عدّد التحديات التي واجهت الشيخ جاسم بن محمد بن ثاني عند توليه الحكم.

.....

.....

2- اذكر أعمال الشيخ جاسم بن محمد بن ثاني على المستوى الداخلي.

.....

.....

.....

3- ما المقصود بقائمقام؟

.....

4- ما الإجراءات التي اتخذها الشيخ جاسم بن محمد بن ثاني لمواجهة الاطماع البريطانية في قطر؟

.....

.....

5- ما الأسباب غير المباشرة لمعركة الوجبة؟

.....

.....

6- دّل على خبرة الشيخ جاسم بن محمد بن ثاني العسكرية.

.....

.....

7- ما النتائج التي ترتبت على معركة الوجبة؟

.....

.....

.....

.....



التدريبات

السؤال الرابع: رتب الاحداث التاريخية الآتية على الخط الزمني التالي حسب التسلسل الزمني من الأقدم إلى الأحدث:

(تولية الشيخ جاسم بن محمد بن ثاني الحكم – معركة الوجبة – وفاة الشيخ جاسم بن محمد بن ثاني – وصول الحامية العثمانية إلى الدوحة).

.....	1913م
.....	1893م
.....	1878م
.....	1871م

السؤال الخامس:

أمامك مجموعة من المقترحات التي قدمتها الدولة العثمانية للشيخ جاسم بن محمد بن ثاني، وضح أسباب رفض الشيخ جاسم بن محمد بن ثاني لكل منها:

1- تعيين وكيل عثماني للشيخ جاسم بن محمد بن ثاني.

2- فرض ضرائب على تجارة اللؤلؤ.

السؤال السادس: ماذا يحدث لو:

- قَبِلَ الشيخ جاسم بن محمد بن ثاني مقترحات الدولة العثمانية.

الهوية الوطنية والتحديات العالمية.

- **الدرس الأول: الهوية الوطنية (أبعادها والمحافظة عليها)**
- **الدرس الثاني: الهوية الوطنية والعولمة الثقافية**

في نهاية الوحدة سوف تتعلم

- تحليل الابعاد العربية والإسلامية والعالمية للهوية الوطنية باستخدام مواد من الدستور القطري.
- التمسك بثوابت الهوية الوطنية والعربية والإسلامية.
- توضيح الآثار الإيجابية والسلبية للعولمة الثقافية في الهوية الوطنية.
- التحقق من مصداقية ما ينشر على شبكات الإنترنت العالمية.
- توظيف مواقع التواصل الاجتماعي بشكل إيجابي في عرض معلوماته وأفكاره، وثقافته الوطنية.
- تحليل دور مؤسسات المجتمع المدني في الحفاظ على التراث الوطني والثقافة القطرية.
- المشاركة في فعاليات مؤسسات المجتمع المدني.
- محاربة الإشاعات المؤثرة في المجتمع القطري.
- توضيح أهمية مكافحة الجرائم الإلكترونية في تحقيق الأمن الوطني.

القيم والقضايا

- الاعتزاز بالهوية الوطنية.
- الولاء والانتماء.
- تقدير أهمية التراث الوطني.
- المشاركة والتعايش.
- تقدير أهمية التكنولوجيا.
- تحري الدقة.
- الانفتاح على الآخر.
- حماية التراث الوطني.
- التعامل مع الإنترنت.

المفاهيم

- الهوية الوطنية.
- البعد العربي.
- البعد الإسلامي.
- البعد العالمي.
- التراث.
- اليونسكو.
- العولمة الثقافية.
- الإشاعة.
- الجرائم الإلكترونية.

المهارات

- التواصل.
- القراءة الناقد.
- اتخاذ القرار.
- التطبيق.
- التحليل والاستنتاج.
- التقييم الذاتي.
- المقارنات.
- البحث والاستقصاء.
- مهارة التفكير النقدي.

الكفايات

- التفكير الإبداعي والناقد.
- الكفاية اللغوية.
- التواصل.
- التعاون والمشاركة.
- كفاية البحث والتقصي.

الدَّرْسُ الأَوَّلُ

الهوية الوطنية (أبعادها والمحافظة عليها)



الهوية الوطنية (أبعادها والمحافظة عليها)

أولاً: مفهوم الهوية الوطنية:

الخصائص والسمات التي يتصف بها كل مجتمع، وتمييزه عن غيره من المجتمعات؛ لتعزيز الانتماء لدى أبنائه الذين يجمعهم الدين واللغة والتاريخ المشترك والعادات والتقاليد.



- من خلال مفهوم الهوية، استنتج مقومات الهوية الوطنية القطرية.



فكر واستنتج

وللهوية الوطنية أبعاداً ودعائم أساسية ترتكز عليها، ولذلك يمكننا تمييز سمات أهل قطر من خلال انتمائهم العربي والإسلامي.



ثانياً: أبعاد الهوية الوطنية القطرية:

إن أهم الأبعاد التي تشكّل الهوية الوطنية القطرية، وتؤثر في محتواها الفكري والثقافي، وتساعد على تنمية الوعي لأهل قطر يمكن التعرف عليها من خلال الشكل التالي:



البُعد العربي:



شعار جامعة الدول العربية

هو الوعي بالهوية العربية والارتباط بها، والمحافظة عليها، والاهتمام بكافة قضايا أمتنا العربية في المجالات المختلفة.



ومن مظاهر التمسك بالبعد العربي في الهوية القطرية:

- تعزيز استخدام اللغة العربية.
- الانضمام إلى جامعة الدول العربية عام 1971م.
- الدفاع عن القضايا العربية مثل القضية الفلسطينية.

- من خلال المادة (1) في الدستور الدائم لدولة قطر. حدد البعدين العربي والإسلامي في الهوية الوطنية القطرية:

"قطر دولة عربية مستقلة ذات سيادة. دينها الإسلام، والشريعة الإسلامية مصدر رئيسي لتشريعاتها، ونظامها ديمقراطي يقوم على الشورى والعدل وسيادة القانون، ولغتها الرسمية هي اللغة العربية. وشعب قطر جزء من الأمة العربية".



اقرأ وحدد

البعد الإسلامي	البعد العربي

البُعد الإسلامي:

مجموعة القيم والمبادئ التي تستند إلى الإسلام والوعي بقضايا العالم الإسلامي.



من مظاهر التمسك بالبعد الإسلامي في الهوية القطرية:

- 1- الالتزام بالشريعة الإسلامية كمصدر رئيسي للتشريع.
- 2- دعم القيم الإسلامية من خلال مؤسسات الدولة المختلفة.
- 3- الانضمام إلى منظمة التعاون الإسلامي.



أضف معلوماتك:

منظمة التعاون الإسلامي: ثاني أكبر المنظمات الدولية في العالم بعد منظمة الأمم المتحدة، وهي منظمة دولية تجمع سبعة وخمسين دولة، تأسست المنظمة في الرباط في 25 سبتمبر 1969م، بعد حريق المسجد الأقصى، ومقرها مدينة جدة في المملكة العربية السعودية.



مركز قطر الثقافي الإسلامي - فنار

مركز الشيخ عبد الله بن زيد آل محمود الثقافي الإسلامي

يُعد مركز الشيخ عبد الله بن زيد آل محمود في قطر منارة ثقافية تهدف إلى تعزيز الهوية العربية والإسلامية من خلال برامج التعليم والثقافية، حيث يقدم المركز دورات لتعليم اللغة العربية لغير الناطقين بها، وينظم ورش عمل حول القيم الإسلامية، كما يقيم معارض إسلامية تشمل المخطوطات الإسلامية القديمة لتعريف الزوار بتراث الإسلام، بالإضافة إلى مكتبة تضم كتبًا دينية وثقافية مترجمة بعدة لغات، لتسهيل التواصل الثقافي والديني بين مختلف الجنسيات.

- وضح دور مركز الشيخ عبد الله بن زيد لتعزيز البعد العربي والإسلامي للهوية القطرية.

- اذكر مثالاً من محيطك المدرسي أو المجتمعي يعكس التمسك بالهوية الإسلامية.



اقرأ واستنتج



هيئة الأمم المتحدة

قيم أتعلّمها:

الشراكة والتعايش مع المجتمعات ضرورة هامة لتعميق التفاهم بين الشعوب وتبادل المصالح بين الدول.

البُعد العالمي:

القدرة على التواصل والتعايش مع ثقافات الشعوب الأخرى، مع الحفاظ على الهوية الوطنية.



من مظاهر الاهتمام بالبُعد العالمي في الهوية القطرية:

- 1- المشاركة في المحافل والأنشطة العالمية.
- 2- التبادل الثقافي مع شعوب العالم الأخرى.
- 3- رعاية حوار الحضارات والتعايش مع المجتمعات المختلفة.
- 4- المساهمة في تحقيق الأمن والسلم العالميين من خلال مبادرات سياسية ومعونات تنموية إنسانية.

المادة (7) من الدستور القطري.

"تقوم السياسة الخارجية للدولة على مبدأ توطيد السلم والأمن الدوليين، عن طريق تشجيع فض المنازعات الدولية بالطرق السلمية، وبما يتفق مع دور الدولة في حل تلك المنازعات على المستويين الإقليمي والدولي من خلال الوساطة والحوار، وما يستلزمه ذلك من الحفاظ على علاقات متوازنة مع جميع الأطراف، ودعم حق الشعوب في تقرير مصيرها، وعدم التدخل في الشؤون الداخلية للدول، والتعاون مع الأمم المحبة للسلام".

- استنتج أهم المبادئ التي تعكس البعد العالمي للهوية القطرية.



اقرأ واستنتج

مظاهر الاهتمام بثوابت الهوية الوطنية والعربية والإسلامية:

- 1- المشاركة في الاحتفالات الوطنية للدولة.
- 2- التمسك بعادات وتقاليد المجتمع الأصيلة ونشرها بين الأجيال الجديدة.
- 3- الاهتمام باللغة العربية والتوسُّع في استخدامها في المدارس.
- 4- دعم القضايا العربية والإسلامية.



فن العرضة القطرية

ثالثاً: الحفاظ على التراث الوطني والثقافة القطرية:

التراث مُكوّن أساسي للهوية، والمحافظة عليه واجب ورسالة تحرص عليها الدول والشعوب؛ لذلك اهتمت دولة قطر بالمحافظة على التراث وجاء ذلك ضمن أهداف رؤية قطر الوطنية 2030م.



متحف الفن الإسلامي

من إنجازات دولة قطر في الحفاظ على التراث الوطني:

1- إنشاء العديد من المؤسسات الثقافية مثل المتحف الإسلامي، متحف قطر الوطني، ومكتبة التراث العربي والإسلامي.

2- توعية المجتمع بأهمية المحافظة على الثقافة والهوية القطرية من خلال إنشاء المراكز الحضارية مثل مركز وجدان الحضاري، ومركز نوماس.



قصر الشيخ عبدالله بن جاسم

3- تصنيف منظمة الأمم المتحدة للتربية والعلوم والثقافة «اليونسكو» لمدينة الزبارة كموقع تراثي ضمن التراث العالمي في عام 2013م.

4- إدراج قصر الشيخ عبد الله بن جاسم «القصر القديم» والمتحف الوطني لدولة قطر على اللائحة التمهيدية للتراث العالمي لدى منظمة اليونسكو في عام 2025م.

دور مؤسسات المجتمع المدني في الحفاظ على التراث الوطني والثقافة القطرية:

1- المساهمة في الحفاظ على التراث الوطني:



تلعب مؤسسات المجتمع المدني دورًا مهمًا في الحفاظ على التراث الشعبي منها قيام مركز قطر للتراث والهوية بإطلاق مشروع إحياء الألعاب الشعبية القديمة بهدف تعريف الطلاب بتراث أجدادهم.

2- المساهمة في الحفاظ على المهن التقليدية ودعم الحرفيين:



مركز النجادة للحرف التقليدية

تُساعد مؤسسات المجتمع المدني الحرفيين القطريين في عرض منتجاتهم اليدوية وتوفير فرص للتدريب والعمل. ومن الأمثلة على ذلك قيام مركز النجادة للحرف التقليدية بتوفير تدريبات عملية على الحرف التقليدية.

3- التعاون مع الجهات الحكومية لحماية التراث الوطني

عالمياً:



جمعية القناص القطرية

تتعاون المؤسسات المدنية في قطر مع الجهات الحكومية من أجل تسجيل التراث القطري في منظمات عالمية مثل اليونسكو.

وأطلقت جمعية القناص القطرية مشروع «أرشيف الصقارة القطرية» بالتعاون مع وزارة الثقافة، لتوثيق تاريخ الصقارة من خلال صور وأفلام ووثائق.

- من خلال الفقرة السابقة أجب عما يلي:

- أي المؤسسات المدنية اهتمت بالتوثيق والتدريب؟

.....

.....

- ما أكثر مشروع تراثي لفت انتباهك؟ ولماذا؟

.....

.....



اقرأ وأجب

دور الفرد في تعزيز فعاليات مؤسسات المجتمع المدني:

قيمُ أتعلّمها:

التطوع من أسمى الأعمال الإنسانية، فاحرص على المشاركة في الأعمال التطوعية لخدمة مجتمعك.

المشاركة في مبادرات نشر الثقافة والتراث الوطني، مثل الاشتراك بأنشطة مركز نوماس، والذي يهدف إلى تنمية الشباب باستثمار أوقات فراغهم في ممارسة مختلف الأنشطة ذات الصلة بالتراث.

- إذا أتاحت لك الفرصة للمشاركة في أنشطة إحدى مؤسسات المجتمع المدني، فأى مؤسسة ستختار؟ ولماذا؟



فكر واقتح

.....

.....

.....

.....



التدريبات

السؤال الأول: اختر الإجابة الصحيحة للعبارة الآتية:

1- انضمت دولة قطر عام 1971م إلى منظمة:

- أ- اليونسكو.
ب- دول عدم الانحياز.
ج- جامعة الدول العربية.
د- الاتحاد التساعي.

2- إلى أي أبعاد الهوية الوطنية تشير الهمها الصورة المقابلة؟

- أ- الغربي.
ب- العربي.
ج- الإسلامي.
د- العالمي.

3- أي المدن الآتية صنفتها منظمة اليونسكو كموقع تراثي؟

- أ- الريان.
ب- الوكرة.
ج- الزبارة.
د- الشمال.

4- يهدف مشروع «إحياء الألعاب الشعبية القديمة» إلى:

- أ- تقديم منح مالية للحرفيين.
ب- تشجيع الرياضة بين الطلاب.
ج- تنظيم مسابقات رياضية.
د- تعريف الطلاب بتراث الأجداد.

5- تعد من أساليب دعم مؤسسات المجتمع المدني للحرفيين في قطر:

- أ- إقامة معارض للخط العربي.
ب- توفير منح دراسية للحرفيين.
ج- تنظيم ورش عمل دولية.
د- عرض المنتجات اليدوية وتوفير التدريب.

6- أي الأدوار التالية يقوم به مركز النجادة؟

- أ- تنظيم مسابقات ثقافية.
ب- إطلاق برامج رياضية.
ج- التدريب على الحرف التقليدية.
د- إحياء الألعاب الشعبية القديمة.

7- أي المشروعات التالية أطلقتها جمعية القناص القطرية؟

- أ- معرض الحرف اليدوية.
ب- الفعاليات الثقافية.
ج- أرشيف الصقارة القطرية.
د- متحف خاص بالصقور.





التدريبات

السؤال الثاني: أجب عن الأسئلة التالية:

1- وَضِّح مظاهر الاهتمام بثوابت الهوية الوطنية العربية والإسلامية.

.....

.....

.....

2. اذكر البعد العربي للهوية القطرية من خلال مواد الدستور القطري.

.....

.....

.....

السؤال الثالث: دَلِّل على صحة العبارات التالية:

1 - حرصت الهوية القطرية على إبراز بعدها العالمي من خلال مظاهر متعددة.

.....

.....

.....

2 - حققت دولة قطر تقدُّمًا في مجال المحافظة على التراث الوطني والثقافة القطرية.

.....

.....

.....



التدريبات

3 - تلعب مؤسسات المجتمع المدني دورًا كبيرًا في حماية التراث الوطني.

.....

.....

.....

4 - هناك العديد من مؤسسات المجتمع المدني المهتمة بالثقافة والتراث القطري.

.....

.....

.....

الدَّرْسُ الثَّانِي :

الهوية الوطنية والعولمة الثقافية



الهوية الوطنية والعولمة الثقافية

تُعَدُّ العولمة الثقافية من أعظم التحديات التي تواجه المجتمعات؛ لما تحمل في طياتها من تأثير في الهوية الوطنية، سواء كان تأثيرًا إيجابيًا يعزِّز سبل التعاون والعيش المشترك مع كافة الشعوب والدول، أو تأثيرًا سلبيًا يتمثل في الغزو الثقافي الذي يجب السيطرة عليه لصالح المجتمع.

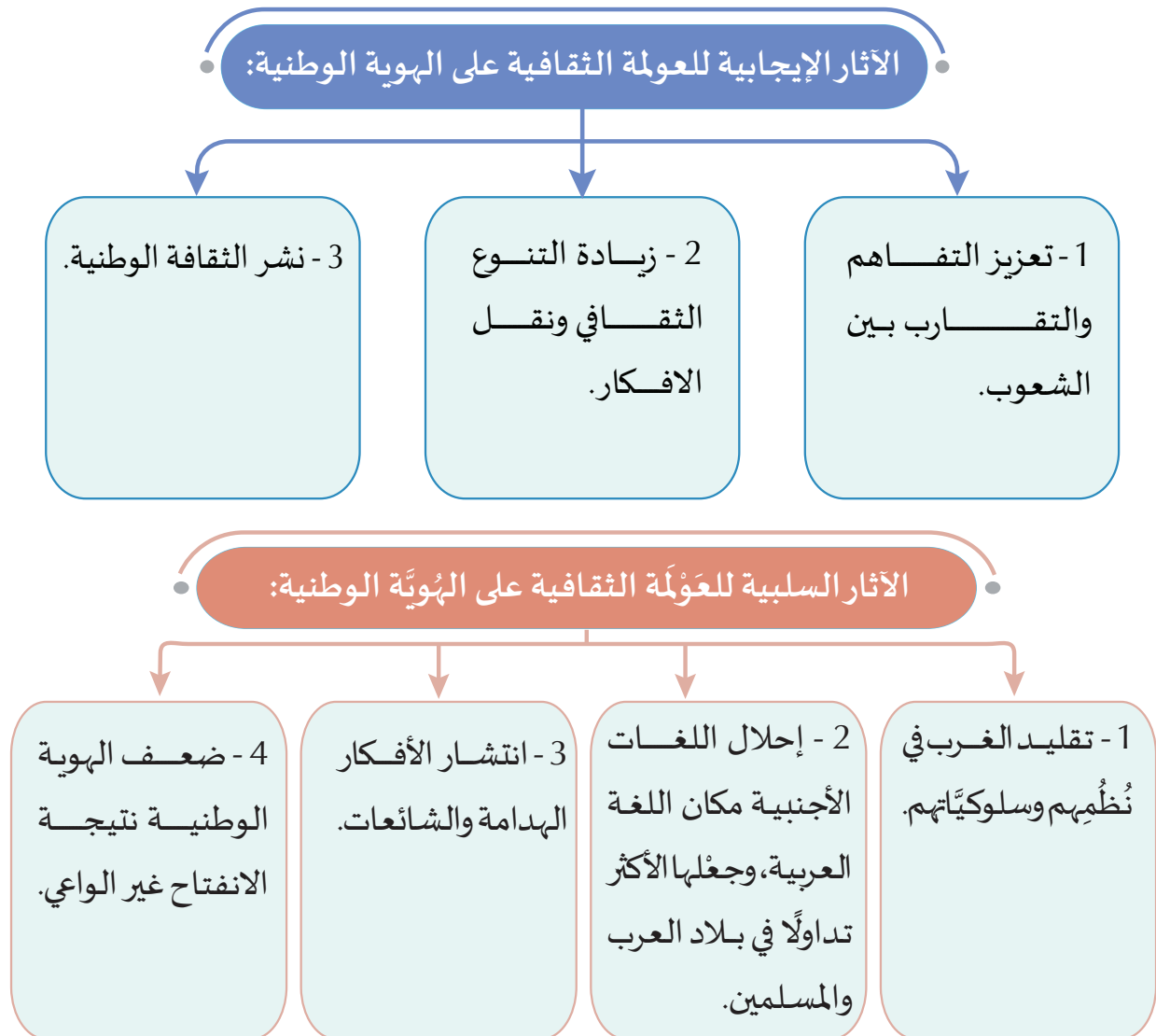
أولاً: العولمة الثقافية وتأثيرها:

مفهوم العولمة الثقافية:

عملية انتقال وانتشار الأفكار والعادات والقيم بين الشعوب.



وللعولمة الثقافية آثارًا عديدة في الهوية الوطنية، والتي تتباين بين الآثار الإيجابية والسلبية كالآتي:



- ما طرق مواجهة سلبيات العولمة الثقافية .



فكر وناقش

وسائل انتقال العولمة الثقافية :

- وسائل الإعلام.
- القنوات الفضائية.
- وسائل التواصل الاجتماعي.

ثانياً: التوظيف الإيجابي لوسائل التواصل الاجتماعي:

تتنوع وسائل انتقال العولمة الثقافية ومنها وسائل التواصل الاجتماعي التي أصبحت جزءاً من حياتنا اليومية ويمكن للأفراد توظيفها إيجابياً في خدمة المجتمع.

لاحظ الشكل التالي للتعرف عليها:



- اذكر أسماء شخصيات مشهورة تستثمر وسائل التواصل الاجتماعي لنشر الخير وخدمة المجتمع.



فكر وذكر

ثالثاً: مواجهة الآثار السلبية للعولمة الثقافية :

لا تخلو وسائل العولمة الثقافية من سلبيات منها الجرائم الالكترونية، ونشر الإشاعات في وسائل التواصل الاجتماعي.

أ- مكافحة انتشار الإشاعة:

الإشاعة:



هي نقل أخبار كاذبة أو غير دقيقة دون التحقق من صحتها.

حثّ الإسلام على نبد الإشاعة ومنع انتشارها بين الناس.

- قال الله تعالى: ﴿يَا أَيُّهَا الَّذِينَ آمَنُوا إِن جَاءَكُمْ فَاسِقٌ بِنَبَأٍ فَتَبَيَّنُوا أَن تُصِيبُوا قَوْمًا بِجَهَالَةٍ فَتُصْبِحُوا عَلَىٰ مَا فَعَلْتُمْ نَادِمِينَ﴾ [الحجرات: 6].

- قال رسول الله ﷺ: «كَفَى بِالْمَرْءِ كَذِبًا أَنْ يُحَدِّثَ بِكُلِّ مَا سَمِعَ» [رواه أبو هريرة].

وانتشار الإشاعة يُسيء إلى أشخاص أبرياء، ويُضرب بسمعهم، ويهدد الأمن الوطني، ويثير الفتن والخوف بين فئات المجتمع؛ لذا يجب علينا الحرص على التحقق من مصدر الأخبار فهو واجب وطني يحفظ أمن الوطن واستقراره.

- اقرأ الفقرة التالية ثم أجب:



انتشرت عبر تطبيق «واتساب» رسالة تفيد بوجود حالة مرضية نادرة في أحد منازل الحي وسرعان ما أعاد سكان الحي نقل تلك الرسالة إلى أصدقائهم وعائلاتهم دون التحقق من صحتها، وفي غضون ساعات ساد الخوف والقلق بين السكان. وفي اليوم التالي نفت وزارة

الصحة الخبر، موضحة أن الزيارة كانت روتينية لمريض مُسن، ولا خطر صحي في المنطقة.

- ما الأثر الذي تركته الإشاعة على سكان الحي؟



اقرأ وأجب

- ما الخطوات التي يجب أن تتبعها قبل إعادة نشر أي خبر أو رسالة خاصة فيما يتعلق بالصحة والأمن؟

ب- مكافحة الجرائم الإلكترونية:**أضف إلى معلوماتك:**

تتبع إدارة مكافحة الجرائم الإلكترونية الإدارة العامة للمباحث الجنائية ويمكن التواصل معهم في دولة قطر من خلال رقم الهاتف (2347444) أو الخط الساخن (66815757).

تعد مكافحة الجرائم الإلكترونية ضرورية لحماية الأمن الوطني من التهديدات الرقمية مثل الاختراق والابتزاز، كما تسهم في حفظ استقرار المجتمع وتُعزز الثقة في الخدمات الرقمية؛ ولذلك أصدرت دولة قطر قانون الجرائم الإلكترونية رقم 14 لسنة 2014م.

وشمل القانون كافة الجوانب الخاصة بمكافحة الجريمة الإلكترونية، وأفرد العديد من المواد التي تُعاقب على أعمال وأفعال تتعرض للحياة الشخصية والمجتمع وحق الدولة؛ حيث نصت المادة رقم (6) على أنه يعاقب بالحبس مدة لا تتجاوز ثلاث سنوات، وبالغرامة التي لا تزيد على 500 ألف ريال، أو بإحدى هاتين العقوبتين، كل من أنشأ أو أدار موقعًا إلكترونيًا عن طريق الشبكة المعلوماتية لنشر أخبار غير صحيحة، بقصد تعريض سلامة الدولة أو نظامها العام أو أمنها الداخلي أو الخارجي للخطر.

رابعاً: أساليب التحقق من مصداقية المعلومات على شبكة الإنترنت:

أصبح الإنترنت مصدراً رئيسياً للأخبار والمعلومات. ومع تزايد استخدام وسائل التواصل الاجتماعي تظهر أهمية التحقق من مصداقية المعلومات لضمان نقل المعرفة من مصادر موثوقة وحماية للمجتمع من انتشار الشائعات والأخبار الكاذبة.



اقرأ وقيم
نفسك

- أمامك مجموعة من العبارات التي تمثل أساليب متعلقة بالتحقق من مصداقية المعلومات على الإنترنت.

اقرأ كل عبارة بعناية، ثم قيّم نفسك بمنح درجة لكل موقف حسب سلوكك الفعلي.

بعد الانتهاء، اجمع درجاتك ثم اقسّم الناتج على (15) وهي الدرجة الكلية؛ لتتعرف على مدى وعيك بمصداقية الأخبار والمعلومات الرقمية.

نادراً (1)	أحياناً (2)	دائماً (3)	العبارة
			1- أتتحقق من مصدر الخبر قبل مشاركته.
			2- اقرأ كامل المنشور أو المقال قبل الحكم عليه أو نقله.
			3- أبحث عن معلومات إضافية عن الخبر من مواقع رسمية أو موثوقة.
			4- أمتنع عن مشاركة الأخبار غير المؤكدة حتى أتأكد من صحتها.
			5- أحذر الآخرين عند رأيتي منشوراً كاذباً أو مضللاً.



اسم المشروع: مناظرة بعنوان (وسائل التواصل الاجتماعي تقوي هويتنا أم تضعفها؟)

تعد وسائل التواصل الاجتماعي سلاحًا ذا حدين؛ فبينما يرى البعض أنها وسيلة لتعزيز الهوية الثقافية وتقوية الروابط الاجتماعية والتقارب بين الشعوب والثقافات، يعتقد آخرون أنها تساهم في تراجع القيم والتقاليد الوطنية وضعف الهوية الوطنية والتماسك المجتمعي.

- معايير المناظرة:

- قوة الحجج والأدلة لكل فريق.
- أسلوب العرض والإقناع.
- القدرة على تفنيد حجج الفريق الآخر بطريقة منطقية وعلمية.
- ترتيب الأفكار بشكل منظم ومتسلسل.
- التعاون وتوزيع الأدوار بين أعضاء الفريق.

المهام المطلوبة	أعضاء الفريق

الأدوات المستخدمة في المشروع

--

التقييم الذاتي للفريق

ممتاز	جيد جدًا	جيد	متوسط	بنود التقييم
				الالتزام بالمهام المطلوبة.
				احترام أعضاء الفريق والتعاون معهم.
				إظهار الثقة في تقديم المشروع والعرض أمام الزملاء في الصف.
				تسليم المهام المطلوبة في الوقت المحدد.



التدريبات

السؤال الأول: اختر الإجابة الصحيحة للعبارات الآتية:

- 1- تعد من سلبيات العولمة الثقافية تجاه الهوية الوطنية:
 - أ- التنوع الثقافي.
 - ب- البعد عن الفكر التقليدي.
 - ج- إحلال اللغات الأجنبية مكان اللغة العربية.
 - د- تنوع وسائل التعبير الثقافي.
- 2- أي من الآتي يُعد توظيفًا إيجابيًا لوسائل التواصل؟
 - أ. إطلاق الشائعات.
 - ب- نشر قيمة الصدق.
 - ج- التنمر الإلكتروني.
 - د- انتحال الشخصيات.
- 3- «نقل أخبار كاذبة أو غير دقيقة دون التحقق من صحتها» يشير المفهوم السابق إلى:
 - أ- التزوير.
 - ب- الإشاعة.
 - ج- العولمة الثقافية.
 - د- التحايل الإلكتروني.
- 4- تشمل أهمية مكافحة الجرائم الإلكترونية في الأمن الوطني:
 - أ- تهديد الاقتصاد.
 - ب- زيادة معدل الجريمة.
 - ج- نشر الفتن المجتمعية.
 - د- تعزيز الثقة في الخدمات الرقمية.
- 5- أي الخطوات التالية صحيحة قبل إعادة نشر أي خبر يتعلق بالمجتمع؟
 - أ- إعادة نشره مباشرة.
 - ب- انتظار رأي الأصدقاء.
 - ج- تجاهله دون مراجعة.
 - د- التحقق من مصدره الرسمي.



التدريبات

السؤال الثاني: أجب عن الأسئلة الآتية:

1- عدد وسائل انتقال العولمة الثقافية.

.....

.....

.....

2- اعط أمثلة على التوظيف الإيجابي لوسائل التواصل الاجتماعي.

.....

.....

.....

3- وضح أهمية مكافحة الجرائم الإلكترونية في تحقيق الأمن الوطني.

.....

.....

.....

4- اذكر أساليب التحقق من مصداقية المعلومات على شبكة الإنترنت.

.....

.....

.....

السؤال الثالث:

- قارن بين إيجابيات العولمة الثقافية وسلبياتها في الهوية الوطنية:

سلبيات العولمة الثقافية	إيجابيات العولمة الثقافية
.....
.....
.....



التدريبات

السؤال الرابع: اقرأ الفقرة التالية ثم أجب عما يلي:

“في إحدى الأمسيات، تلقى حمد رسالة على هاتفه تفيد بأن أحد المطاعم الشهيرة في المدينة يستخدم مواد غذائية منتهية الصلاحية، وتمت مطالبته بنشر الرسالة لتحذير الآخرين. قبل أن يشارك حمد الرسالة مع أصدقائه وعائلته، توقف قليلاً للتفكير.”

1- ما الخطوة الأولى التي يجب أن يقوم بها حمد قبل نشر الرسالة؟

.....

.....

.....

2- كيف يمكن لحمد التحقق من صحة المعلومات الواردة في الرسالة؟

.....

.....

.....

3- إذا اكتشف حمد أن الرسالة مجرد شائعة، كيف يمكنه التعامل معها بإيجابية؟

.....

.....

.....

الخصائص العامّة للسكان في دولة قطر

- الدرس الأول: نمو وتركيب السُّكَّان في دولة قطر
- الدرس الثاني: توزيع السُّكَّان وكثافتهم بدولة قطر

في نهاية الوحدة سوف تتعلم

- استخدام مفاهيم سكانية وبيئية .
- توزيع الظواهر الطبيعية والبشرية .
- تحليل معدلات النمو السكاني في دولة قطر في فترات مختلفة.
- استخلاص تركيب السكان من حيث العمر والنوع .
- تحليل تركيب القوى العاملة في دولة قطر .
- استخدام الأدوات الجغرافية والتطبيقات التكنولوجية في جمع المعلومات وعرض الأفكار والآراء.
- تحليل الجداول الإحصائية والبيانات والأشكال ، لاستخلاص المعلومات الجغرافية المختلفة .

القيم والقضايا

- المشاركة في نجاح التعدادات السكانية وتقديم معلومات صحيحة.
- التعايش السلمي وحسن المعاملة.
- احترام كبار السن.

المفاهيم

- النمو السكاني.
- الزيادة الطبيعية.
- معدل المواليد.
- معدل الوفيات.
- الزيادة غير الطبيعية.
- التركيب النوعي.
- التركيب العمري.
- الهرم السكاني.
- الكثافة السكانية.

المهارات

- قراءة الخرائط والرسوم البيانية.
- تحليل الخرائط والرسوم البيانية.
- تحليل النصوص.
- الاستنتاج.
- التفسير.

الكفايات

- الكفاية اللغوية.
- الكفاية العددية.
- التفكير الإبداعي والناقد.
- التقصي والبحث.
- حل المشكلات.
- التواصل.

الدَّرْسُ الأولُ:

نمو وتركيب السُّكَّانِ فِي دولة قطر



السكان في بلادي

نمو وتركيب السُّكَّان في دولة قطر

تنطلق السياسة السكانية لدولة قطر، من اعتبار الإنسان غاية للتنمية ووسيلتها، ومن الحرص على ضمان حقوق الإنسان للمواطنين والمقيمين على السواء، والمحافظة على حق الأجيال القادمة.

- هل تشهد دولة قطر تطورًا ملحوظًا في عدد سكانها؟



فكِّر وتوقع

أولاً: التطور والنمو السُّكَّاني في دولة قطر:

لقد شهدت دولة قطر تطورًا ملحوظًا في عدد السُّكَّان خلال القرن العشرين ومطلع القرن الحادي والعشرين.

لاحظ الجدول الآتي لتطور عدد سكان دولة قطر فيما بين عام 1907م وحتى تعداد 2020م، ثم حلل البيانات الواردة به:

السنة	عدد السُّكَّان (ألف نسمة)	ملاحظات
1907م	27	تقدير
1920م	20	تقدير
1950م	30	تقدير
1960م	50	تقدير
1970م	111	تعداد
1986م	370	تعداد
1997م	522	تعداد
2004م	744	تعداد
2010م	1.699	تعداد
2015م	2.404	تعداد
2020م	2.846	تعداد

- وصل عدد السكان في دولة قطر في 2024م (3,054,365) نسمة.

- بعد قراءتك لبيانات الجدول السابق، أجب عما يأتي:

- عدد التعدادات السُّكَّانية التي أجرتها دولة قطر.



حلّل وأجب

- الزيادة السُّكَّانية قبل عام 1950م كانت بطيئة للغاية. دَلِّ على صحة ذلك.

- احسب مقدار الزيادة السُّكَّانية بين عامي (2010 - 2020م).

يتضح لنا بعد قراءة الجدول السابق الحقائق السكانية الآتية:

- 1- انخفض عدد سكان دولة قطر في مطلع العشرينيات من القرن الماضي، بسبب كساد تجارة اللؤلؤ، وتقلُّص أنشطة الغوص عليه لظهور اللؤلؤ الياباني؛ مما أدى إلى هجرة العديد من سكان قطر إلى المناطق المجاورة بحثًا عن العمل.
- 2- شهدت معدلات النمو السكاني قبل عام 1950م بطأً شديدًا بسبب محدودية الموارد الاقتصادية؛ مما أدى إلى انخفاض مستوى المعيشة والأحوال الصحية للسكان.
- 3- بدأت الزيادة السكانية تنمو بشكل ملحوظ لتدفُّق البترول واستقدام أعداد كبيرة من العمالة الوافدة للمشاركة في نهضة البلاد.

- حلل العلاقة بين اكتشاف البترول وزيادة عدد السكان في دولة قطر.



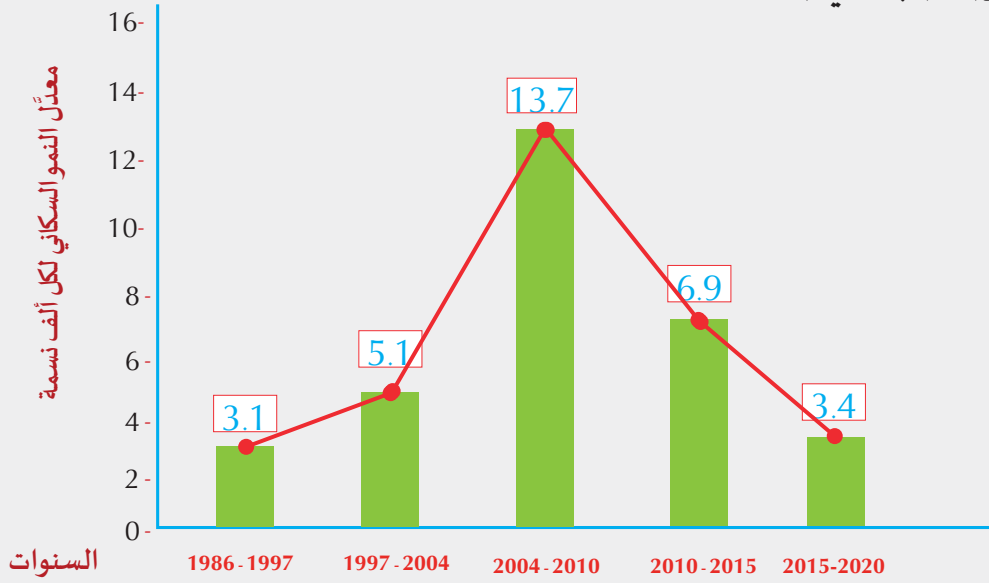
فكّر وأجب

- استنتج أسباب اهتمام دولة قطر بإجراء تعدادات سكانية شاملة.

والآن.. هيا بنا نتعرّف على النمو السُّكَّاني لدولة قطر.

ارتبط النمو السُّكَّاني لدولة قطر بمجموعة من التغيرات الاقتصادية؛ التي تمثلت في التحول من اقتصاد تقليدي يعتمد على التجارة والصيد والغوص على اللؤلؤ، إلى اقتصاد حديث بدأ مع ظهور النفط، واعتمد على عوائده المتزايدة، وقد كان لهذا التحول أثره في حدوث تغيرات ديموغرافية سريعة، كان لها مردوداتها في التركيب السكاني للدولة.

- اقرأ وحلل الشكل (1) الذي يمثل معدّل النمو السُّكَّاني لدولة قطر بحسب التعدادات السُّكَّانية.



شكل (1): معدّل النمو السكّاني في قطر

- بعد قراءة الشكل السابق شكل (1) أجب عما يأتي:

- احسب الفرق بين أعلى وأقل معدل نمو سكاني وناقش أسبابه.

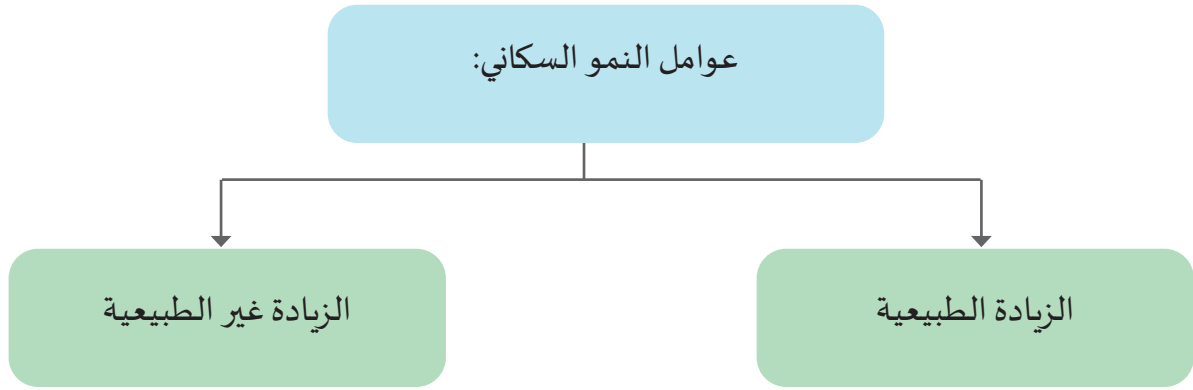
- لو استمر معدل النمو السكاني للفترة (2004-2010م) بالارتفاع حتى عام 2026م ما النتائج المتوقعة على البنية التحتية في دولة قطر؟

نستنتج من الشكل (1): الآتي:

1. ارتفع معدل النمو السُّكَّاني في الفترة (2004 - 2010م)؛ حيث سجّل معدل النمو السُّكَّاني 13.7 نسمة لكل ألف نسمة من السكان، وهو بذلك يُعدُّ مرتفعًا جدًّا مقارنة بالتعدادات السابقة؛ ويرجع السبب الرئيس إلى الأعداد الكبيرة للعمالة الوافدة المشاركة في مشروعات التنمية العملاقة؛ التي تبنتها الدولة من خلال العائدات الكبيرة من استغلال حقل غاز الشَّمال.
2. شهدت الفترة (2010 - 2015م) معدّل نمو سكاني بلغ حوالي 6.9 نسمة لكل ألف نسمة من السكان؛ حيث بدأت الدولة في تنفيذ البنية التحتية لمشروع استضافة مونديال كأس العالم عام 2022م.
3. شهدت الفترة (2015 - 2020م) تباطؤ نسبي في النمو السكاني نتيجة قرب اكتمال المشاريع الكبرى، وتوجه الدولة لضبط التركيبة السكانية، وتقليل الاعتماد على العمالة الوافدة غير الماهرة.



العوامل المؤثرة في النمو السكاني لدولة قطر:



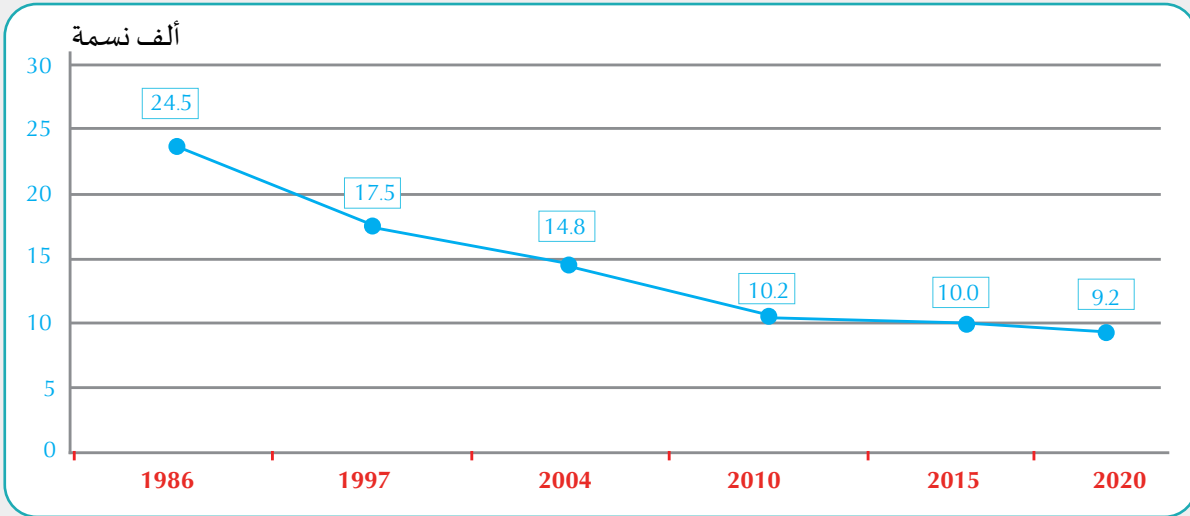
1 - الزيادة الطبيعية لسكان دولة قطر:

ويُقصد بها الفرق بين عدد المواليد وعدد الوفيات.



- تأمل الشكل (2) الذي يوضّح معدّل الزيادة الطبيعية لدولة قطر عبر فترات مختلفة،

ثم أجب عن الأسئلة التالية:



شكل (2): شكل بياني يوضّح تطور معدّل الزيادة الطبيعية لكل ألف نسمة

بعد قراءة الشكل السابق شكل (2) أجب عما يأتي:

- أعلى معدل للزيادة الطبيعية بدولة قطر.

.....

- أقل معدل للزيادة الطبيعية بدولة قطر.

.....



تأمل وحلّل

نستنتج من الشكل (2):

« أن هناك انخفاضاً في معدّل الزيادة الطبيعية في دولة قطر.

هل تعرف أسباب انخفاض معدّل الزيادة الطبيعية في دولة قطر؟

يمكننا معرفة الأسباب التي تقف وراء انخفاض معدل الزيادة الطبيعية بشكل واضح بعد استعراضنا لمكوّنات الزيادة الطبيعية (المواليد والوفيات) في دولة قطر.

أضف معلوماتك:

يتم حساب معدل المواليد من المعادلة الآتية:
عدد المواليد الأحياء في العام
 $1000 \times$
عدد السكّان في منتصف العام

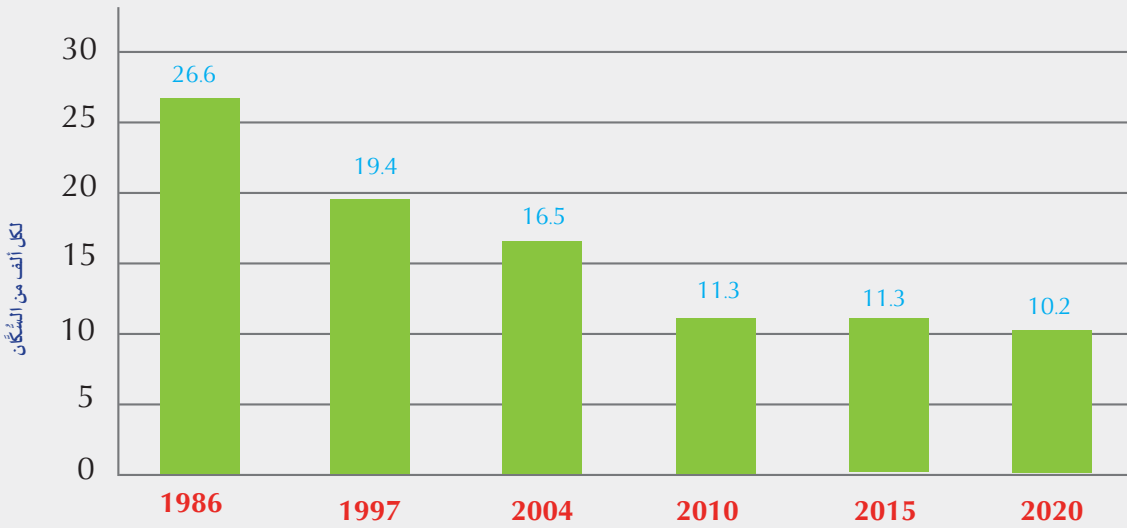
معدّل المواليد:

يشير معدل المواليد إلى عدد المواليد لكل ألف من السكّان.



- لاحظ الشكل (3) الذي يمثّل معدّل المواليد لدولة قطر في الفترة (1986 – 2020م)،

ثم أجب عما يلي:



شكل (3): شكل بياني يوضّح تطور معدّل المواليد في دولة قطر

- ما الفرق بين معدل المواليد لدولة قطر في الفترة من عام 1986م إلى عام 2020م؟

- توقّع السبب في انخفاض معدّل المواليد.

- في رأيك، هل يؤثّر انخفاض معدل المواليد على معدّل النمو السكاني؟



نستنتج من الشكل (3)؛ الآتي:

- انخفض معدل المواليد بدولة قطر من 26.6 لكل ألف من السُّكَّان في عام 1986م؛ إلى نحو 10.2 لكل ألف نسمة من السُّكَّان في عام 2020م.
- يرجع الانخفاض في معدلات المواليد بدولة قطر إلى عدة أسباب، منها:
- « خروج المرأة للعمل.
 - « تأخُّر سن الزواج لبعض الشباب لارتفاع تكاليف الزواج.
 - « عودة الكثير من عائلات المقيمين إلى بلادهم، وبقاء الآباء للعمل.

- ما تأثير انخفاض معدل المواليد على سوق العمل مستقبلاً؟

.....

.....

.....



فكر واقتراح

- اقترح حلولاً يمكن أن تطبقها الدولة لرفع معدل المواليد في ظل التحديات الاجتماعية والاقتصادية.

.....

.....

.....

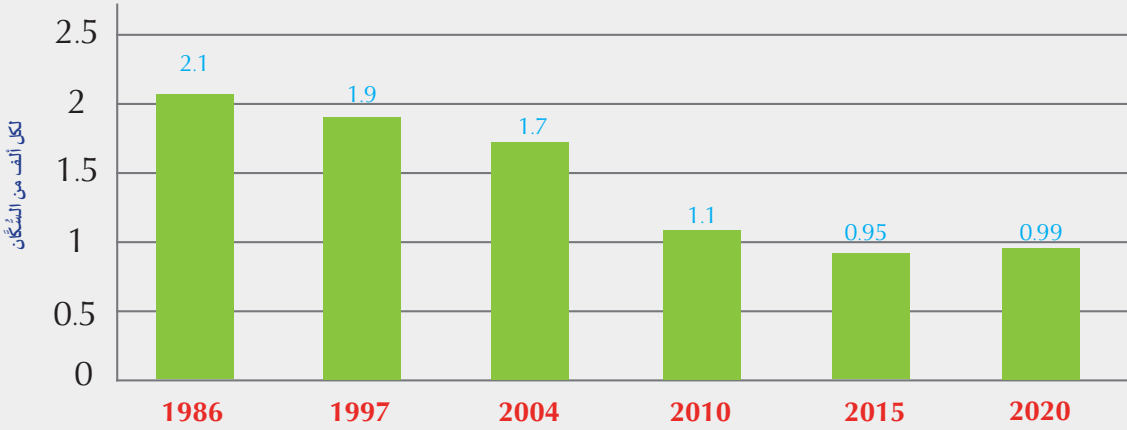
معدّل الوَفَيَات:

يشير معدّل الوَفَيَات إلى عدد الوَفَيَات لكل ألف من السُّكَّان.



يمكننا التعرف على معدّل الوَفَيَات في دولة قطر من خلال قراءتنا للشكل (4) التالي:

- اقرأ الشكل (4) لمعدّل الوفيات ثم أجب:



شكل (4): شكل بياني يوضّح تطور معدّل الوفيات في دولة قطر

- ما أعلى معدل للوفيات؟

- ما سبب انخفاض معدل الوفيات في الفترة الأخيرة؟

نستنتج من الشكل (4):

أنّ هناك انخفاضاً في معدّل الوفيات في دولة قطر؛ فقد انخفض معدّل الوفيات من 2.1 لكل ألف من السكّان عام 1986م، إلى 0.99 لكل ألف نسمة من السكّان في عام 2020م.

ويرجع ذلك إلى:

- القضاء على أمراض الطفولة بتوفير الأمصال.
- الارتفاع الكبير في مستوى الوعي الصحي والدخل والمعيشة.
- الرعاية الصحية العلاجية والوقائية التي وفّرتها الدولة للمواطنين والمقيمين.

- ما التوقعات المستقبلية لمعدّل الوفيات في دولة قطر خلال العقد القادم إذا استمر التقدم الطبي؟



توقع وأجب

2 - الزيادة غير الطبيعية:

تتسم العمالة في دولة قطر بالزيادة المستمرة، فكانت تمثل حوالي 88.7 % من حجم السُّكَّان النّشِطين اقتصاديًا في عام 2006م، بينما بلغت نسبتها حوالي 88 % في عام 2020م، في المقابل نجد انخفاضًا في نسبة السُّكَّان القطريين النّشِطين اقتصاديًا؛ فقد بلغت نسبتهم حوالي 5 % للعام نفسه.

وتتعدد أسباب ارتفاع نسبة العمالة الوافدة بدولة قطر، ومنها:

1. توفُّر فرص العمل، وارتفاع مستوى الأجور.
 2. النهضة الاقتصادية والعمرانية الهائلة التي تشهدها البلاد.
 3. عدم كفاية العمالة الوطنية للحجم الكبير لمشروعات التنمية.
- ولا تعد العمالة الوافدة جزءًا دائمًا من حجم عدد السكان لأنها غير مستقرة وتعود إلى بلادها بعد انتهاء الحاجة إليها.
- وللتغلب على مشكلة زيادة نسبة العمالة الوافدة لجأت دولة قطر إلى عملية إحلال العمالة الوطنية محلَّ العمالة الوافدة تدريجيًّا، وهو ما يُعرَف بالتقطير.

- استنتج العوامل الجاذبة للهجرة الوافدة لدولة قطر.

- اقترح حلول لحل مشكلة زيادة العمالة الوافدة في دولة قطر.



ثانيًا: التركيب السُّكَّاني:

هو دراسة الخصائص العمرية والنوعية والقوى العاملة للسكان التي يمكن التعرف عليها من بيانات التعداد، والإحصاءات الحيوية؛ مثل: العمر، والنوع.



وترجع أهمية دراسة التركيب السكاني إلى:

- أ. معرفة مدى قدرة المجتمعات على توفير القوة العاملة اللازمة لتنمية وإعالة باقي أفراد المجتمع.
- ب. حل كثير من المشكلات الاقتصادية والاجتماعية التي تواجه المجتمع.
- ج. تحديد نسبة العمالة ومعدَّل البطالة وحجم القوة العاملة في المستقبل.

أنواع التركيب السكاني:



التركيب النوعي للسكان:

يوضّح التركيب النوعي للسكان الملامح (الديموغرافية) للمجتمع ذكورًا وإناثًا. ويمكن حسابه من خلال تحديد نسبة النوع إلى إجمالي عدد السكّان.



والجدول الآتي يوضّح التركيب النوعي لسكان دولة قطر حسب احصاء 2024م.

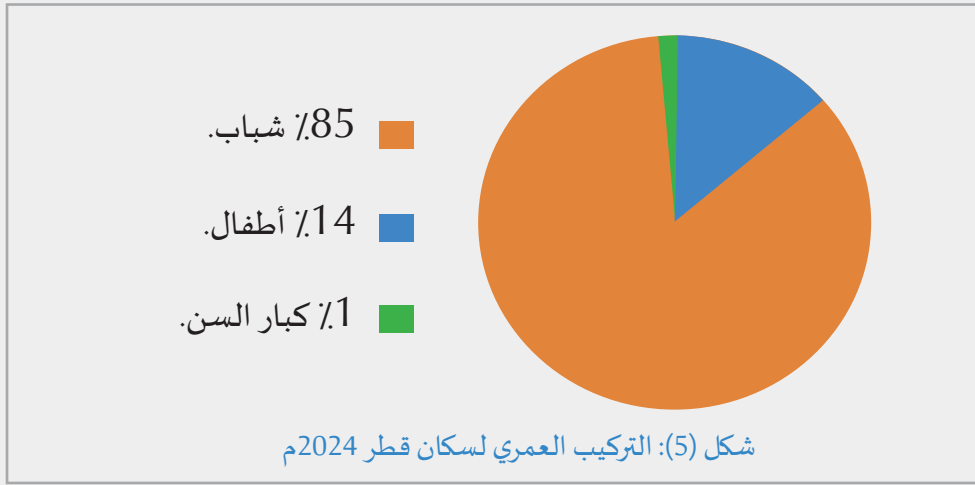
النسبة	العدد	النوع
71%	2,162,447	ذكور
29%	891,918	إناث
100%	3,054,365	المجموع

من دراستنا للجدول السابق يتّضح لنا ما يأتي:

- « ترتفع نسبة الذكور في دولة قطر عن الإناث؛ حيث سجّلت نسبة الذكور حوالي 71 % من جملة سكان قطر لعام 2024م.
- « ويرجع سبب ذلك إلى أن معظم العمالة الوافدة من الذكور؛ لأن غالبية الأعمال في مشاريع البنية التحتية تناسب الذكور أكثر من الإناث.
- « على الرغم من انخفاض نسبة الإناث بصفة عامة، إلا أن للمرأة القطرية دورًا ملحوظًا في عملية التنمية في دولة قطر في شتى المجالات، وخاصة التعليمية والصحية، بل وصلت إلى أعلى المناصب.

التركيب العمري للسكان:

جعل الله للإنسان مراحل عمرية مختلفة ولكل مرحلة خصائصها المختلفة قال تعالى:
 ﴿هُوَ الَّذِي خَلَقَكُمْ مِنْ تُرَابٍ ثُمَّ مِنْ نُطْفَةٍ ثُمَّ مِنْ عَلَقَةٍ ثُمَّ يُخْرِجُكُمْ طِفْلاً ثُمَّ لِتَبْلُغُوا
 أَشُدَّكُمْ ثُمَّ لِتَكُونُوا شُيُوخًا وَمِنْكُمْ مَن يُتَوَفَّى مِنْ قَبْلُ﴾ [غافر 67].
 - من خلال الآية الكريمة عدد فئات التركيب العمري للإنسان.



- من خلال الرسم البياني:

- حدّد الفئة الأكثر تمثيلاً لسكان دولة قطر مع ذكر السبب؟

نستنتج من الشكل السابق (5)؛ الآتي:

1. تمثّل فئة الشباب أكثر من 85% من سكان قطر؛ لأن معظم العمالة الوافدة تكون من الشباب.
 2. انخفاض نسبة كبار السن؛ لأن معظم الوافدين يرحلون لبلادهم بعد سن التقاعد.
 3. تمثّل نسبة الأطفال وصغار السن أقل من 14%. هل تعرف سبب ذلك؟
- « يرجع انخفاض نسبة الأطفال إلى أنّ معظم العمالة الوافدة لا تصطحب أطفالها وعائلاتها؛ لارتفاع مستوى المعيشة في السنوات الأخيرة، وكذلك ارتفاع تكلفة التعليم الخاص بالجاليات.

كيف يمكن الاستفادة من هذه البيانات في التخطيط لمشاريع الإسكان المستقبلية؟



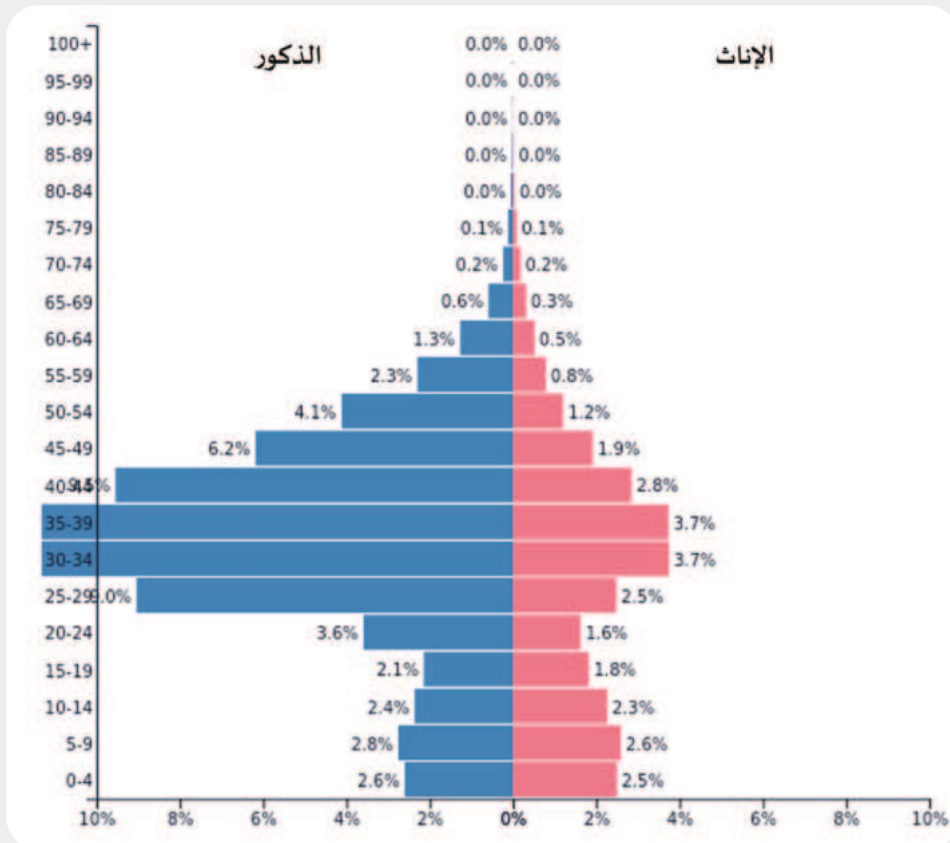
المهرم السكاني لدولة قطر:



يُعرف المهرم السكاني بأنه أحد الأشكال البيانية لتمثيل البيانات السكانية الخاصة بالعمر والنوع.



- أقرأ وحل بيانات الهرم السكاني لدولة قطر 2024م شكل (6).



شكل (6): الهرم السكاني في دولة قطر

- حلل شكل الهرم السكاني لدولة قطر.

- ما الآثار المترتبة لارتفاع فئة الشباب في التركيبة السكانية على الاقتصاد القطري؟

- نلاحظ في الهرم السكاني أن قاعدة الهرم تضم الأطفال أقل من 15 سنة.
- أما منتصف الهرم فيضم السكان الذين تتراوح أعمارهم من 15 إلى أقل من 65 سنة، ويمثلون قوة العمل، وهي نسبة مرتفعة؛ لذا تُعدُّ دولة قطر في مرحلة الشباب مما يزيد من قدرتها على تحقيق معدلات تنمية عالية.
- أما قمة الهرم فتمثل كبار السن الذين تبلغ أعمارهم أكثر من 65 سنة، ونلاحظ أنها نسبة قليلة.
- ارتفاع نسبة الذكور عن الإناث.



فكر وأجب



التدريبات

السؤال الأول: اختر الإجابة الصحيحة من بين البدائل الآتية:

1 - شهدت معدلات النمو السكاني في دولة قطر قبل 1950 م بطأً شديداً بسبب:

أ- محدودية الموارد الاقتصادية. ب- قلة مصادر المياه العذبة.

ج- كثرة الحروب. د- الهجرة الجماعية إلى قطر.

2 - أكثر الفترات الزمنية التي شهدت معدّل نمو سكاني مرتفعاً بدولة قطر:

أ- (1986 - 1997 م). ب- (1997 - 2004 م).

ج- (2004 - 2010 م). د- (2010 - 2015 م).

3- تتمثل الزيادة الطبيعية للسكان في الفَرْق بين:

أ- عدد المواليد والوَفَيَات. ب- الهجرة الداخلية والخارجية.

ج- الخصوبة العامّة والخاصة. د- المواليد والخصوبة.

4- يرجع انخفاض نسبة الأطفال بدولة قطر إلى:

أ- معظم الوافدين لا يصطحبون أطفالهم. ب- ارتفاع معدل وَفَيَات الأطفال.

ج- وجود قوانين تحدُّ من الإنجاب. د- عدم الرغبة في إنجاب الأطفال.

5- تمثّل نسبة الذكور في إحصاءات 2024 م من إجمالي سكان دولة قطر:

أ- 55.5%. ب- 65.5%.

ج- 71%. د- 85.5%.



التدريبات

السؤال الثاني: أجب عما يأتي:

1- اذكر عوامل النمو السكاني.

.....

.....

2- وضح أهمية دراسة التركيب السكاني.

.....

.....

السؤال الثالث: عرّف المفاهيم الآتية:

1- التركيب السكاني.

.....

.....

2- الهرم السكاني.

.....

.....

السؤال الرابع: بم تفسّر:

1 - انخفاض عدد سكان دولة قطر في مطلع العشرينيات من القرن الماضي؟

.....

.....

2 - انخفاض معدّل المواليد في دولة قطر؟

.....

.....



التدريبات

3 - ارتفاع نسبة العمالة الوافدة بدولة قطر؟

.....

.....

4 - تمثّل فئة الشباب أكثر من 85% من سكان قطر؟

.....

.....

5 - انخفاض نسبة كبار السن إلى 1% من سكان قطر؟

.....

.....

السؤال الخامس: وضح العلاقة بين كلّ من:

1 - الرعاية الصحية ومعدّل الوفيات.

.....

2 - خروج المرأة للعمل والنمو السكاني.

.....

السؤال السادس: تُشير التعدادات القطرية إلى أن نسبة الذكور أكثر من نسبة الإناث. دليّل على صحة ذلك:

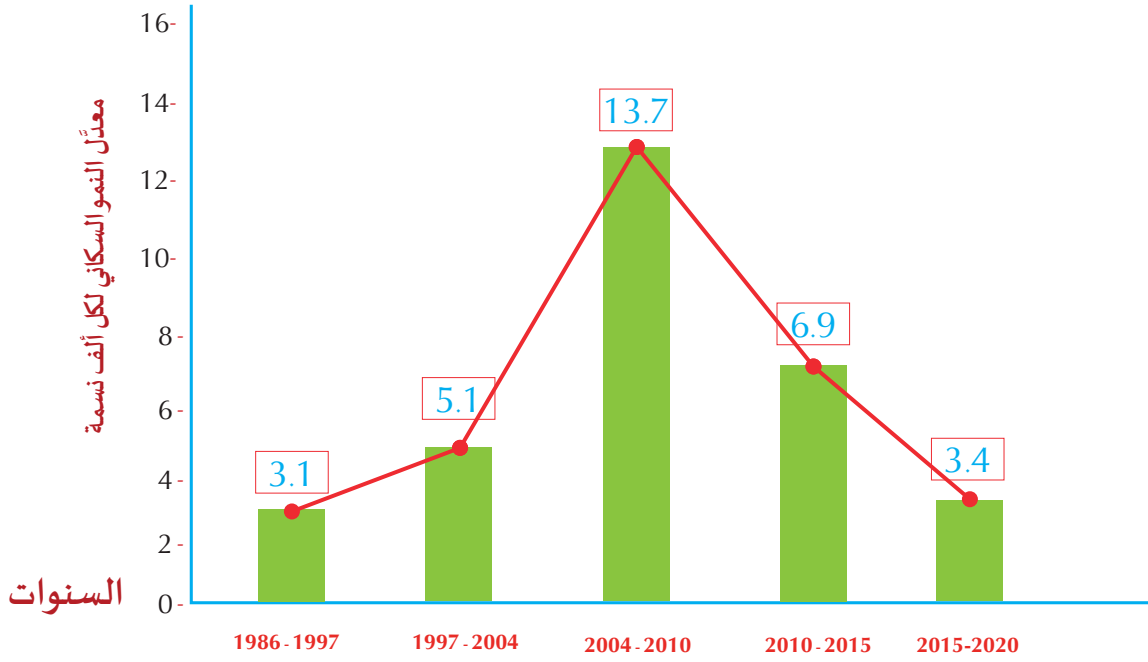
.....

.....



التدريبات

السؤال السابع: حلل بيانات الشكل البياني الذي أمامك، ثم أجب:



1- اذكر أسباب ارتفاع معدّل النمو السكاني في الفترة (2004 – 2010م).

.....

.....

.....

2- بين أثر العمالة الوافدة على معدلات النمو السكاني بدولة قطر.

.....

.....

.....

الدَّرْسُ الثَّانِي :

توزيع السُّكَّان وكثافتهم في دولة قطر



توزيع السُّكَّان وكثافتهم في دولة قطر

يتوزع سكان دولة قطر والبالغ عددهم حوالي 3,054,365 مليون نسمة حسب تقديرات إحصاءات 2024م على مساحة من اليابس تقدَّر بحوالي 11,637 كم²، ويتباين توزيع السُّكَّان من منطقة إلى أخرى.

أولاً: التوزيع السُّكَّاني:

أضف معلوماتك:

تعيش دولة قطر حالة يُطلق عليها: الدولة المدينة «City - State»؛ حيث إن الدَّوْحَة تستحوذ على النسبة الأكبر من السُّكَّان والعمران والخدمات.

يتخذ التوزيع السُّكَّاني في قطر شكل التَّركُّز الشديد في العاصمة وبعض المدن الصغيرة، بينما تكاد تخلو بقية المناطق من السُّكَّان؛ مما جعل البعض يُطلق عليها «الدولة المدينة»؛ لأن العاصمة هي مركز الثقل السُّكَّاني والاقتصادي والعمراني للدولة.

عدد السُّكَّان حسب تعداد 2020م	المناطق التابعة للبلدية	البلدية
1,186,023	السد - المرخية - الهلال - المطار - المنصورة - الدفنة	الدَّوْحَة
826,786	الريان القديم - الريان الجديد - الوجبة - معيذر - الغرافة - السيلية - الكرعانة	الريان
265,102	الوكير - مسيعيد - العديد - عقلة المناصير - ترينة - الخرامة	الوكرة
161,240	الشيخانية - الجميلية - دخان - النصرانية - أم باب - روضة راشد - العظورية	الشيخانية
149,701	أم صلال محمد - أم صلال علي - الخريطيات - أزغوى - أم العمدة - أم عبيرية	أم صلال
140,453	الخور - الذخيرة - رأس لفان - الغويرية	الخور والذخيرة
100,083	لوسيل - الخيسة - أم قرن - سميسمة - رأس النوف - الصخامة - روضة الحمامة	الظعائن
16,730	الرويس - العريش - أبو ظلوف - الكعبان - عين سنان - فويرط - الغارية - الزبارة	الشَّمَال
2,846,118	الإجمالي	

جدول (1): توزيع عدد سكان دولة قطر على البلديات حسب تعداد 2020م

- من خلال جدول (1) وخريطة شكل (2) لتوزيع سكان دولة قطر (تعداد 2020م) أجب عما يلي:

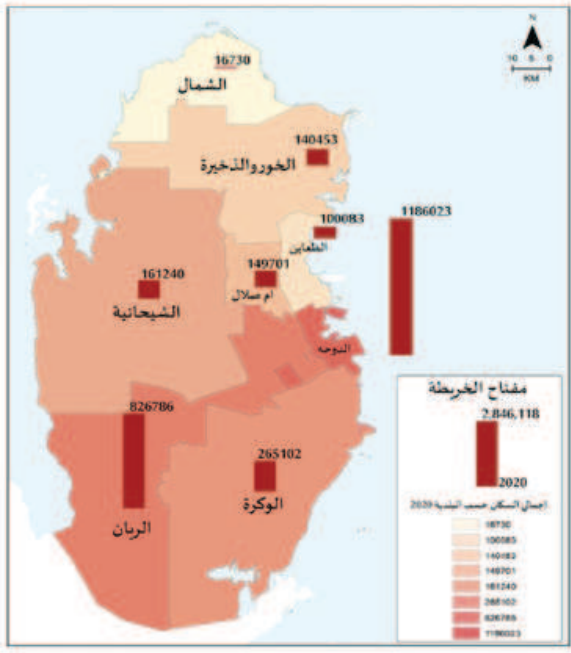


لاحظ وحلل

- ما أكبر البلديات من حيث عدد السكان؟

- حلل العلاقة بين الموقع الجغرافي للمدن القطرية وكثافة السكان فيها.

- اقترح خطة لإعادة توزيع السكان بشكل متوازن.



شكل (2): عدد السكان حسب البلديات تعداد 2020م

بعد قراءة الجدول (1) والخريطة شكل (2) يتضح لنا أن توزيع السُّكَّان يميل إلى التركُّز الشديد على الساحل الشرقي؛ وخاصة في المدن، كما أنه يختلف من مكان إلى آخر أضِفْ إلى ذلك أن حوالي 85٪ من السُّكَّان يعيشون فقط على مساحة تتراوح نسبتها بين (10 - 15٪) من مجموع المساحة الجغرافية للدولة، كما يتبين ما يلي.

1 - احتلت بلدية الدَّوْحَة المرتبة الأولى في عدد السُّكَّان لعام 2020م؛ وهي بذلك تستحوذ على حوالي (42٪) من سكان دولة قطر؛ هل تعرف سبب ذلك؟

يرجع ذلك إلى:



الديوان الاميري

أ - كون مدينة الدَّوْحَة عاصمة البلاد، وفيها مقرُّ الحُكْم، والوزارات، ومعظم المؤسَّسات الحكومية.

ب - موقعها الجغرافي وسط البلاد على الساحل الشرقي، وسهولة المواصلات؛ حيثُ تربطها بالمدن القطرية الأخرى شبكةٌ من الطرق البرية.


ج - تركُّز الخدمات العامَّة (المالية، والتعليمية، والصحية، والرياضية) فيها.

د - توافُر فرص العمل فيها بشكل كبير؛ حيثُ سوق العمل التجاري والصناعي والخدمي.

هـ - يوجد بها مطار حمد الدولي، وميناء الدوحة البحري.



مدينة قطر التعليمية بمدينة الريان



ملعب الجنوب بالوكرة

2- احتلت بلدية الريان المرتبة الثانية بعد الدوحة في عدد السُّكَّان؛ وهم يمثلون حوالي (29٪) من سكان دولة قطر لعام 2020م؛ ويرجع سبب زيادة عدد سكانها إلى مساحتها الكبيرة، وقربها من مدينة الدوحة، وتركُّز بعض الخدمات بها.

3- ازداد عدد سكان بلدية الوكرة في السنوات الأخيرة؛ واحتلت المرتبة الثالثة بالنسبة لبلديات دولة قطر من حيث عدد السُّكَّان؛ والذين يمثلون (9٪) من سكان الدولة؛ يرجع ذلك إلى الآتي:

أ- تعاظُم أهمية الوكرة كمدينة تجارية وسكنية قريبة من الدوحة.

ب- رخص إيجارات المساكن فيها.


ج- كما أنها تضمُّ منطقة مسيعة الصناعية؛ حيثُ هناك أعداد كبيرة من العمال الذين يعملون في المصانع الحديثة، وتضمُّ العديد من المنشآت السياحية كما في سيلين.

4- أما بلدية الشيحانية فهي أحدث بلديات دولة قطر وتحتل المرتبة الرابعة، وسجّلت (6٪) من جملة سكانها؛ ويرجع ذلك إلى مساحتها الكبيرة، حيثُ تُعدُّ أكبر بلديات دولة قطر من حيثُ المساحة، كما أنها تضمُّ مناطق جغرافية وسُكَّانية شاسعةً ومتنوعة في الأنشطة البشرية من مزارع، ومناطق إنتاج البترول في دخان، ومصنع للأسمنت في أم باب.



قلعة برزان ببلدية أم صلال

5- تحتلُّ بلدية أم صلال المرتبة الخامسة بنسبة (5٪) من سكان دولة قطر؛ حيثُ استفادت من قربها من الدوحة، وشهدت نهضة عمرانية تمثلت في ازدهار عمراني لمناطق عديدة، أهمها: أم صلال محمد، والخريطيات، وأزغوى، وأم العمد، وأم عبيرية؛ حيثُ يُفضِّل المواطنون سُكني المناطق الجديدة بعيدًا عن الازدحام وغلاء الأراضي في الدوحة.



ملعب البيت في الخور



بلدية الظعainen

6 - احتلت بلدية الخور والذخيرة المرتبة السادسة من حيث عدد السُّكَّان، وترجع الزيادة في أعداد سكانها إلى:

أ - أنها تضمُّ مدينة الخور والذخيرة.

ب- التجمعات السُّكَّانية المرتبطة بالنهضة الصناعية لمنطقة رأس لفان لصناعات الغاز الحديثة، واستغلال حقل الشَّمَال.

ج - المناطق الزراعية في الغويرية وروضة الفرس والماجدة.

7 - تُعدُّ بلدية الظعainen أسرع البلديات نموًا من حيث التطور العمراني والبنية التحتية حيث تحتضن مشروع مدينة لوسيل الذكية.

8 - تُعدُّ بلدية الشَّمَال الأقل في عدد السُّكَّان؛ حيثُ هاجر العديد من السُّكَّان إلى الدَّوْحَة في السنوات الأخيرة؛ لوفرة فرص العمل والخدمات العامّة.

- حدوث زيادة سكانية مفاجأة في بلدية الشمال، توقع الآثار المحتملة لهذه الزيادة.



فكر وتوقع

ثانياً: الكثافة السُّكَّانية:

ارتفعت الكثافة السكانية العامة لدولة قطر من 207 نسمة / كم² عام 2015م، إلى حوالي 244 نسمة / كم² عام 2020م.

وتحسب الكثافة السكانية بالمعادلة الآتية:

$$\text{الكثافة السكانية} = \frac{\text{جملة عدد السكان في منطقة ما}}{\text{المساحة الكلية للمنطقة}}$$

- جدول الكثافة السكانية على مستوى بلديات دولة قطر طبقاً لبيانات تعداد 2020م.

اسم البلدية	المساحة (كم ²)	عدد السُّكَّان (نسمة)	الكثافة السُّكَّانية - (نسمة/كم ²)	رتب البلديات حسب الكثافة السكانية
الدَّوْحَة	221.9	1,186,023	5,344.1
الريان	2,449.8	826,786	337.5
الوكرة	2,559.4	265,102	103.6
أم صلال	317.8	149,701	471
الخور	1,616.6	140,453	86.9
الشَّمَال	863.2	16,730	19.4
الظعّانين	300.3	100,083	333.3
الشيحانية	3,307.8	161,240	48.7
الإجمالي	11,636.8	2,846,118	244.6

شكل (3): جدول الكثافة السكانية لبلديات دولة قطر عام 2020م

- من خلال الجدول السابق رتب البلديات حسب الكثافة السكانية.

- لماذا تنخفض الكثافة السكانية في بلدية الشيحانية؟



لاحظ وحلّل

نستنتج من الجدول السابق شكل (3) والخريطة شكل (2) ما يلي:

- 1- سجلت بلدية الدَّوْحَة أعلى كثافة سكانية؛ حيث بلغت أكثر من 5 آلاف نسمة/كم².
- 2- تأتي المناطق القريبة جغرافياً من الدَّوْحَة في المرتبة الثَّانية؛ حيث تُعدُّ نطاق الامتداد العمراني للدوحة، مثل: أم صلال، والظعّانين، والريان، وتُعرف بمدينة الدَّوْحَة الكبرى.
- 3- سجّلت بعض بلديات دولة قطر كثافات سكانية منخفضة؛ مثل: بلدية الشمال والشيحانية.

1 - العوامل الطبيعية:

تُعتبر من أكثر العوامل المؤثرة في توزيع السُّكَّان؛ حيثُ:

- أ- يتركز معظم السُّكَّان على امتداد الساحل الشرقي لدولة قطر في مناطق الرؤوس والأخوار والدوحات، حيثُ كانت الحرفة الرئيسة لمعظم السُّكَّان منذ القدم الصيد والغوص على اللؤلؤ؛ مما يوضِّح مدى ارتباط السُّكَّان بالمسطحات المائية.

ب- يتركز بعض السُّكَّان في مناطق الروضات الزراعية وخاصة في الشَّمال والوسط؛ حيثُ النشاط الزراعي والحيواني.

- عدِّد بعض الروضات التي سبق دراستها في الوحدة الأولى.

ج- يقلُّ ويندر السُّكَّان في مناطق السبخات، والكثبان الرملية. (هل تعرف السبب؟) ناقِش معلِّمك.

- من خلال دراستك للعوامل الطبيعية وأثرها على تركيز السكان في دولة قطر وضح الأثر السلبي والإيجابي لتلك العوامل .



فكر وتوقع

الأثر السلبي:

الأثر الإيجابي:

2 - العوامل الاقتصادية والاجتماعية:

للعوامل الاقتصادية والاجتماعية دور مؤثّر في توزيع سكان دولة قطر؛ حيثُ:

أ - كان للنشاط الاقتصادي القائم على الصيد البحري واستغلال ثروات البحر دور رئيسي في تركُّز السُّكَّان على امتداد السواحل وظهور أهم مدن وموانئ دولة قطر، مثل: الدَّوْحَة، الخور، الوكرة.
ب - تَرَكَّز السُّكَّان في أماكن توافر مصادر الطاقة والصناعة مثل: مدينتي مسيعةيد ورأس لفان الصناعيتين.

ج - يتركز السُّكَّان في مناطق وجود الخدمات الأساسية؛ كالخدمات التعليمية والصحية والإدارية والتجارية، كما في مدينة الدَّوْحَة.

- ما العلاقة بين توزيع السكان ومصادر الطاقة؟



فكر وأجب



اسم المشروع:

إعداد عرض تقديمي

بالتعاون مع مجموعة العمل، قم بإعداد عرض تقديمي لتطور السكان في دولة قطر خلال الفترة (1986 - 2024م) على أن يتضمن الرسوم البيانية والخرائط، مستعيناً بموقع المجلس الوطني للتخطيط وقدم المشروع أمام زملائك في الفصل.

المهام المطلوبة	أعضاء الفريق

الأدوات المستخدمة في المشروع

--

التقييم الذاتي للفريق

ممتاز	جيد جداً	جيد	متوسط	بنود التقييم
				الالتزام بالمهام المطلوبة.
				احترام أعضاء الفريق والتعاون معهم.
				إظهار الثقة في تقديم المشروع والعرض أمام الزملاء في الصف.
				تسليم المهام المطلوبة في الوقت المحدد.



التدريبات

السؤال الأول: اختر الإجابة الصحيحة من بين البدائل التالية:

- 1 - البلدية التي تحتلُّ المرتبة الثانية في عدد السُّكَّان هي:
 - أ- الوكرة.
 - ب- الدَّوْحَة.
 - ج- الريان.
 - د- الشَّيْحَانِيَة.
- 2 - أقلُّ بلديات دولة قطر من حيثُ عدد السُّكَّان:
 - أ- الشَّيْحَانِيَة.
 - ب- الشَّمَال.
 - ج- الوكرة.
 - د- أم صلال.
- 3 - تحتل بلدية الخور المرتبة السادسة من حيثُ عدد السُّكَّان بدولة قطر؛ لأنها تضم مدينة:
 - أ- مسيِّعِد.
 - ب- دخان.
 - ج- رأس لفان.
 - د- أم باب.
- 4 - أكثر بلديات دولة قطر من حيثُ الكثافة السُّكَّانِيَة:
 - أ- الدَّوْحَة.
 - ب- الظعَّان.
 - ج- الخور.
 - د- الريان.
- 5 - يتركز معظم سكان دولة قطر على امتداد الساحل:
 - أ- الشَّرْقِي.
 - ب- الغَرْبِي.
 - ج- الجَنُوبِي.
 - د- الشَّمَالِي.
- 6 - تحتضن بلدية الضعَّان أحدث المدن الذكيَّة في دولة قطر هي:
 - أ- لوسيل.
 - ب- الخيِّسة.
 - ج- سميسمة.
 - د- روضة الحمام.



التدريبات

السؤال الثاني: بم تفسّر:

1 - تركّز 42% من سكان دولة قطر في بلدية الدّوحة؟

.....

2 - احتلت بلدية الريان المرتبة الثانية بعد الدوحة في عدد السكان؟

.....

3 - زيادة عدد سكان بلدية الوكرة في السنوات الأخيرة؟

.....

4 - انخفاض الكثافة السُّكانية في بلدية الشيحانية؟

.....

5 - تعد بلدية الشمال الأقل في عدد السكان؟

.....

السؤال الثالث: ما النتائج المترتبة على:

1 - تبعية مدينة رأس لفان الصناعية لبلدية الخور والذخيرة؟

.....

2 - وجود الروضات الزراعية في شمال ووسط قطر؟

.....



التدريبات

السؤال الرابع: أجب عما يلي:

- اذكر العوامل المؤثرة في توزيع السكان بدولة قطر.

.....

.....

.....

.....

.....

.....

.....

تاريخ قطر بين عامي 1913 – 1949م

- الدرسُ الأوَّل: الأحوال الداخلية في عهد الشيخ عبدالله بن جاسم آل ثاني.
- الدرسُ الثَّاني: السياسة الخارجية في عهد الشيخ عبد الله بن جاسم آل ثاني.

في نهاية الوحدة سوف تتعلم

- توظيف الجداول والخطوط الزمنية لتوضيح توالي فترات حكام أسرة آل ثاني.
- استخدام الخطوط والجداول الزمنية لتتبع أبرز الأحداث التاريخية خلال فترات حكام أسرة آل ثاني.
- تحليل بنود معاهدة 1913 م و1916 م و1935 م.
- توضيح أهم الأحداث السياسية والاقتصادية والاجتماعية في عهد الشيخ عبد الله بن جاسم آل ثاني.
- تفسير أسباب اتفاقيات 1913 م و1916 م و1935 م ونتائجها .

القيم والقضايا

- الاعتزاز بالشخصيات الوطنية.
- العلم.
- الإصلاح بين الناس.
- الولاء والانتماء.
- الاستقلال والسيادة.
- السلام وحل النزاعات.

المفاهيم

- الكتابيب.
- اللؤلؤ الصناعي.
- المدرسة الأثرية.
- محكمة السالفة.
- النوخة.
- الحماية.
- القرصنة.
- دول الوفاق.
- دول الوسط.
- حق الامتياز.

المهارات

- قراءة الصور التاريخية.
- تحليل النصوص التاريخية.
- التطبيق.
- التنظيم والتصنيف.
- التحليل والاستنتاج.
- التقييم.
- المقارنات.

الكفايات

- التفكير الإبداعي والناقد.
- الكفاية اللغوية.
- الكفاية العددية.
- التعاون والمشاركة.

الدَّرسُ الأوَّلُ:

الأحوال الداخلية في عهد
الشيخ عبد الله بن جاسم آل ثاني



الشيخ عبد الله بن

جاسم آل ثاني

الأحوال الداخلية في عهد الشيخ عبدالله بن جاسم آل ثاني .



الشيخ عبد الله بن جاسم آل ثاني

الشيخ عبد الله بن جاسم آل ثاني (1913 - 1949م):

يُعتبر الشيخ جاسم بن محمد بن ثاني المؤسس الفعلي لدولة قطر، إذ أرسى أسس كيان سياسي مستقل وقوي وقد واصل ابنه الشيخ عبد الله بن جاسم آل ثاني السير على خطاه، مستكملاً مسيرة البناء وتعزيز الدولة في مواجهة مختلف التحديات.

ويُعدّ الشيخ عبد الله بن جاسم آل ثاني ثالث حكام إمارة قطر حيث تولى الحكم خلفاً لوالده في 17 يوليو عام 1913م خلال فترة اتسمت بكثرة التغيرات السياسية والاقتصادية والاجتماعية.

أولاً: الأحوال الاقتصادية في عهد الشيخ عبد الله بن جاسم آل ثاني:

أ- الاعتماد على الغوص لاستخراج اللؤلؤ:

كان الغوص لاستخراج اللؤلؤ الركيزة الأساسية للاقتصاد القطري واعتمد عليه معظم السكان، لكن عانت البلاد من سوء الأحوال الاقتصادية بعد تدهور حرفة الغوص لعدة أسباب منها:

1. ظهور اللؤلؤ الصناعي الياباني منذ مطلع القرن العشرين، وإغراق الأسواق العالمية به؛ ممّا أدّى إلى انخفاض أسعار اللؤلؤ الطبيعي.
2. إغلاق الأسواق الأوروبية أمام تصريف اللؤلؤ القطري بسبب الحرب العالمية الثانية، حيث كانت فرنسا هي المستورد الرئيس له.

ب- التنقيب عن النفط:

بدأت عملية التنقيب عن النفط عام 1935م في حقل دخان البري غرب قطر من خلال الشركة الأنجلو فارسية، ولكن توقفت عمليات التنقيب بسبب قيام الحرب العالمية الثانية؛ مما ترتّب عليه قلّة مصادر الدخل، ثم عادت عملية التنقيب عن النفط مرة أخرى مع انتهاء الحرب، وبدأت الأحوال الاقتصادية والاجتماعية في التحسّن.



حقل دخان

1- ما الدروس المستفادة من خطورة اعتماد قطر على مصدر اقتصادي واحد كاللؤلؤ؟



فكر وأجب

2- ما العلاقة بين قيام الحرب العالمية الثانية وسوء الأوضاع الاقتصادية في قطر؟

ثانياً: الأحوال الاجتماعية في قطر في عهد الشيخ عبد الله بن جاسم آل ثاني؛

نتج عن تدهور الأحوال الاقتصادية في بداية عهد الشيخ عبد الله بن جاسم آل ثاني أن شهدت البلاد انخفاضاً كبيراً في عدد السكان؛ لهجرة أعداد كبيرة منهم إلى المناطق المجاورة بحثاً عن فرص العمل، كما ساءت الأوضاع الاجتماعية؛ فقد ارتفعت الأسعار، وعمّ الغلاء.

- وصف أحد الكُتّاب الأوضاع الاجتماعية والاقتصادية خلال فترة كساد تجارة اللؤلؤ، قائلاً:



اقرأ وحلّل

«بلغ سوء الحال بالناس أنّ الكثيرين ضاقوا ذرعاً بحاجتهم لتدبير المؤونة، وأنّ أوعية التمر كانت تُؤخذ وتُبَلُّ بالماء؛ ليدوب ما علق بقاعها وأطرافها من بقايا التمر؛ ليكون من ذلك عصير باهت يُعين بعض الشيء على الجوع».

"المصدر بتصريف: التاريخ الاجتماعي للمرأة القطرية، عادل غنيم وآخرين"

- من خلال فهمك لما سبق:

- ما تقديرك لتحمل الشعب القطري هذه الفترة العصيبة؟

- لو كنت من مواطني ذلك العصر؛ ماذا كنت ستفعل حيال هذه الأزمات؟

مظاهر الحياة الاجتماعية:

1 - التعليم:



الكتاتيب

- شهدت قطر بداية مبكرة في مجال التعليم من خلال الكتاتيب التي تعلم القراءة والكتابة وحفظ القرآن الكريم ومبادئ الحساب، وتولى التجار والعلماء الإنفاق على التعليم لتنظيم أعمالهم وإدارة شؤونهم المالية والاقتصادية.

- ومع بداية حكم الشيخ عبد الله بن جاسم آل ثاني، ازداد الاهتمام بالتعليم فزادت الكتاتيب وأنشأ أول مدرسة في قطر عام 1913م وهي المدرسة الأثرية والتي أشرف عليها الشيخ محمد بن مانع؛ لتقدم مناهج متنوعة شملت العلوم الشرعية واللغة

العربية، كما ساهم التجار والفقهاء في تزويد المدرسة بالكتب من الخارج، مما يعكس وعي المجتمع بأهمية المعرفة.

- وتعد السيدة آمنة محمود الجيدة رائدة العمل النسائي بقطر؛ فهي أول معلمة، وأول مديرة لأول مدرسة نظامية للبنات بقطر، وذلك بعد أن تحول كتابها لأول مدرسة حديثة لتعليم البنات في عام 1956م.

- دليلاً على اهتمام قطر بتعليم المرأة.



اقرأ وحلّل

- من خلال الصور التالية اكتب ثلاث فروق بين التعليم عقب ظهور البترول والتعليم حديثاً في دولة قطر.

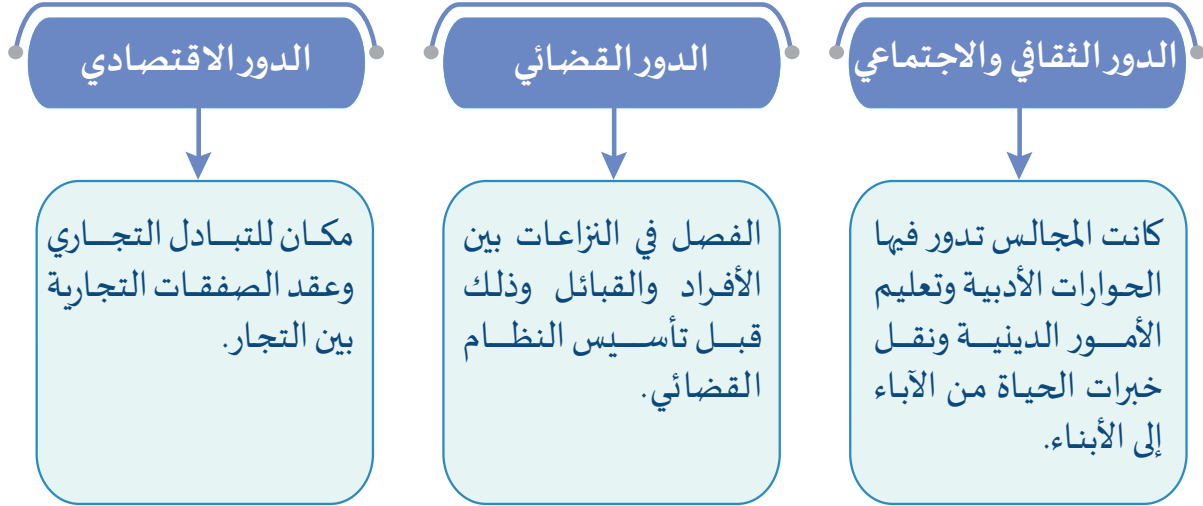


لاحظ وقارن

2 - المجالس القطرية:

لعبت المجالس دورًا محوريًا - في تلك الفترة التاريخية - في تقوية أوصر المجتمع القطري ، وكان الشيخ عبد الله بن جاسم آل ثاني يجتمع مع وجهاء القبائل والمستشارين في مجلسه لمناقشة القضايا السياسية والاقتصادية والاجتماعية.

لاحظ الشكل التالي للتعرف على دور المجالس:



- هل تؤيد صحة العبارة التالية "المجالس مدارس"؟ ولماذا؟

.....

.....

.....



اقرأ وناقش

3 - القضاء:

كان نظام القضاء في عهد الشيخ عبد الله بن جاسم آل ثاني بسيطاً في تنظيمه، مستنداً إلى الشريعة الإسلامية والعرف القبلي. وانقسمت المحاكم إلى نوعين هما:

1 - المحاكم الشرعية: ويتولاها القاضي الذي يعينه الشيخ عبد الله بن جاسم آل ثاني ويكون من أهل العلم الشرعي المعروفين بالتقوى والعدل.

2 - محكمة السالفة: وتكون في النزاعات والخلافات الناتجة عن الغوص ويحكم بها النواخذة.

أضف لمعلوماتك:

اشتقت تسمية محكمة السالفة من الكلمة العامية «السالفة» وهي أن المشتكي يعرض قضيته شفويًا على المحكمة، وتكون متخصصة بالنظر في منازعات الغوص.

قيمُ اتعلمها:

كن مصلحاً بين الناس وعاوناً
لهم في حل مشاكلهم.

ومن أشهر القضاة في قطر في تلك الفترة الشيخ محمد بن مانع كبير القضاة في الدوحة، والشيخ عبد الله بن زيد آل محمود مؤسس القضاء الشرعي في قطر، وفي الخور اشتهر بالقضاء الشيخ إبراهيم الأنصاري.

- من خلال فهمك لما سبق:

- ما تقييمك لدور القضاء في بناء المجتمع؟

إثرائي



حلل وأجب

ثالثاً: تنازل الشيخ عبد الله بن جاسم آل ثاني عن الحكم:

الشيخ حمد بن عبد الله آل ثاني

سلم الشيخ عبد الله بن جاسم آل ثاني مقاليد الحكم لولي عهده ابنه الشيخ حمد؛ لمرضه وكبر سنه، وقد اشتهر الشيخ حمد بن عبد الله آل ثاني بالحكمة وبعد النظر، وعرف بالتدين، وكان يتمتع بشعبية واسعة بين أهل قطر، ولكن وافته المنية في مايو عام 1948م. عين الشيخ عبد الله بن جاسم آل ثاني ابنه الشيخ علي بن عبد الله آل ثاني ولياً للعهد في يونيو 1948م، بعد مبايعة أسرة آل ثاني وأهل الحل والعقد من وجهاء قطر، ثم تنازل الشيخ عبد الله بن جاسم آل ثاني له عن الحكم عام 1949م.

- من خلال الفقرة السابقة اقرأ وناقش:

- كيف أثرت صفات الشيخ حمد بن عبد الله آل ثاني على علاقته مع شعب قطر؟



اقرأ وناقش



التدريبات

السؤال الأول: اختر الإجابة الصحيحة من بين البدائل التالية:

- 1- شهدت قطر في بدايات حكم الشيخ عبد الله بن جاسم آل ثاني:
 - أ- هجرات وافدة للبلاد.
 - ب- هجرات خارجة من البلاد.
 - ج- نموًا عمرانيًا كبيرًا.
 - د- تصدير النفط للخارج.
- 2- يعد من أسباب كساد تجارة اللؤلؤ في قطر:
 - أ - ظهور اللؤلؤ الياباني.
 - ب - اتجاه السُّكَّان إلى الصناعة.
 - ج - ظهور النفط.
 - د - انخفاض مستوى المعيشة.
- 3- كانت أكثر الدول الأوروبية استيرادًا للؤلؤ الطبيعي من قطر:
 - أ - بريطانيا.
 - ب - فرنسا.
 - ج - إيطاليا.
 - د - إسبانيا.
- 4- توقفت عملية التنقيب عن النفط عام 1939م في قطر بسبب:
 - أ - قيام الحرب العالمية الأولى.
 - ب - قيام الحرب العالمية الثانية.
 - ج - إفلاس الشركة البريطانية.
 - د - عمليات القرصنة البحرية.
- 5 - أشرف على تأسيس المدرسة الأثرية في قطر الشيخ:
 - أ - إبراهيم الانصاري.
 - ب - محمد بن مانع.
 - ج - عبد الله بن زيد.
 - د - محمد بن جابر.
- 6- أي القضايا التالية تتبع محكمة السالفة؟
 - أ- النزاعات التجارية.
 - ب- قضايا الطلاق والزواج.
 - ج- قضايا التركة والميراث.
 - د- النزاعات الناتجة عن الغوص.



التدريبات

7- مؤسس النظام القضاء الشرعي في قطر الشيخ:

- أ- محمد بن جابر.
 ب- محمد بن مانع.
 ج- إبراهيم الانصاري.
 د- عبد الله بن زيد آل محمود.

8 - تنازل الشيخ عبد الله بن جاسم آل ثاني عن الحكم عام 1949م للشيخ:

- أ - حمد بن عبد الله آل ثاني.
 ب - علي بن عبد الله آل ثاني.
 ج- أحمد بن علي آل ثاني.
 د - خليفة بن حمد آل ثاني.

السؤال الثاني: أجب عن الأسئلة الآتية:

1 - ما العلاقة بين الحرب العالمية الثانية وسوء الأحوال الاقتصادية؟

2 - ما النتائج المترتبة على تدهور الأحوال الاقتصادية في بداية عهد الشيخ عبد الله بن جاسم آل ثاني؟

3 - عدد أنواع المحاكم في عهد الشيخ عبد الله بن جاسم آل ثاني.



التدريبات

السؤال الثالث: بم تفسر:

1 - تدهور حرفة الغوص على اللؤلؤ وكساد تجارته؟

.....

.....

2 - تحسن الأحوال الاقتصادية في قطر نسبيًا منذ عام 1949م؟

.....

.....

3 - كان الشيخ حمد بن عبد الله آل ثاني يتمتع بشعبية واسعة بين أهل قطر؟

.....

.....

4 - تنازل الشيخ عبد الله بن جاسم آل ثاني عن الحكم؟

.....

.....

السؤال الرابع: برهنْ على صحة العبارات التالية تاريخيًا:

1 - كان المجتمع القطري في عهد الشيخ عبد الله بن جاسم آل ثاني مدرّكًا لأهمية المعرفة والعلم.

.....

.....

2 - لعبت المجالس دورًا مهمًا في المجتمع القطري.

.....

.....

.....

.....

الدّرس الثّاني :

السياسة الخارجية في عهد
الشيخ عبد الله بن جاسم آل ثاني.

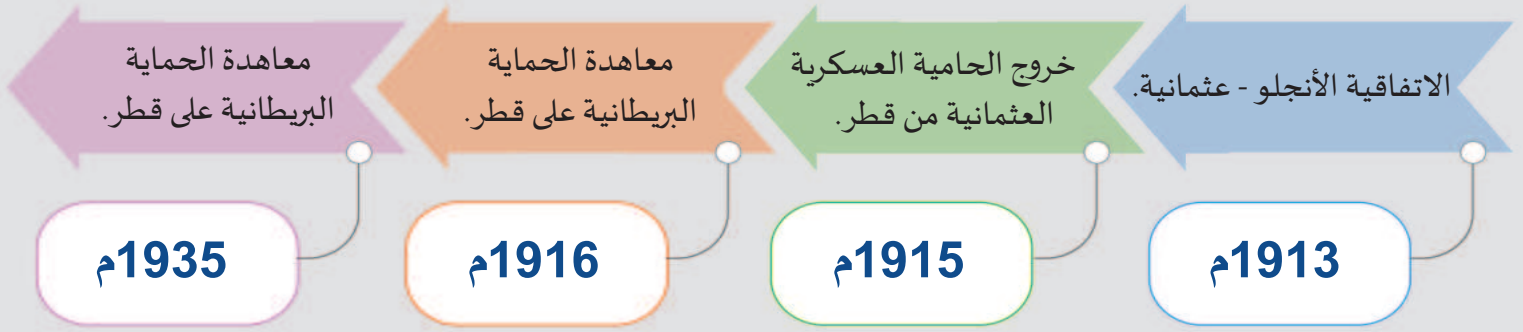


السياسة الخارجية في عهد الشيخ عبد الله بن جاسم آل ثاني



الشيخ عبد الله بن جاسم آل ثاني

في أوائل القرن العشرين تراجع النفوذ العثماني في منطقة الخليج العربي، مما أتاح لبريطانيا الفرصة لتعزيز وجودها في قطر. ومع تسلّم الشيخ عبد الله بن جاسم آل ثاني الحكم، شهدت قطر بداية مرحلة جديدة من العلاقات مع بريطانيا تميّزت بالتقارب والحماية. وتزامن ذلك مع انتهاء الوجود العثماني بالكامل من الأراضي القطرية. لاحظ أهمّ الأحداث التاريخية من خلال الخط الزمني التالي:



أولاً: الاتفاقية الأنجلو - عثمانية عام 1913م:

شهدت العلاقات القطرية البريطانية العديد من الأزمات في عهد الشيخ جاسم، لكن لم تكفّ تمضي عدة شهور على تولي الشيخ عبد الله بن جاسم آل ثاني الحكم في إمارة قطر، حتى تمّ الاتفاق بين بريطانيا والدولة العثمانية على توقيع اتفاقية في نوفمبر عام 1913م، التي نصّت على عدّة بنود منها:

1. إلغاء كل الارتباطات العثمانية في قطر.
2. حكم إمارة قطر وراثي في أسرة آل ثاني.

خروج الحامية العسكرية العثمانية من قطر عام 1915م:

مع اندلاع الحرب العالمية الأولى في عام 1914م، وانضمام الدولة العثمانية إلى جانب دول الوسط ضد دول الوفاق، تكبّدت الدولة العثمانية خسائر فادحة في عدة جهات؛ ونتيجة لذلك اضطرت إلى سحب قواتها من عدة مناطق، ومن بينها قطر عام 1915م.

- في ضوء دراستك السابقة:

- كم استمرّ وجود القوات العثمانية في قطر؟

- ما رأيك في اتفاقية عام 1913م؟

- ما أثر الاتفاقية على كلّ من قطر وبريطانيا؟



اقرأ وحلّل

ثانياً: معاهدة الحماية البريطانية على قطر؛ نوفمبر عام 1916م:

أسباب معاهدة الحماية 1916م:

أدى انسحاب القوات العثمانية من قطر إلى تدهور الأوضاع الأمنية وانتشار القرصنة البحرية على سواحلها، بالإضافة إلى ازدهار تجارة السلاح. كما أسهم سقوط منطقة الأحساء بيد عبد العزيز آل سعود عام 1913م في تهديد مصالح بريطانيا؛ ولضمان نفوذ بريطانيا ومصالحها

الإستراتيجية في الخليج العربي، وقعت معاهدة الحماية عام 1916م مع الشيخ عبد الله بن جاسم آل ثاني.

مفاهيم أتعلّمها:

الحماية:

هي نظام فرضته الدول الاستعمارية على البلاد المستعمرة؛ بحيث تتمتع هذه البلاد باستقلالها الداخلي، بينما تتولّى الدولة الاستعمارية أمور الأمن، والدفاع عنها ضد أي اعتداء خارجي.

- من خلال الفقرة السابقة:

- لخص أسباب عقد معاهدة عام 1916م بين بريطانيا وقطر.



اقرأ وخص

بنود معاهدة الحماية بين قطر وبريطانيا عام 1916م:

وقع الشيخ عبد الله بن جاسم آل ثاني المعاهدة مع بريطانيا، وقد تضمنت عدة بنود رئيسية، يمكن تلخيصها فيما يلي:

1. يتعهد الشيخ عبد الله بن جاسم آل ثاني بالتعاون مع بريطانيا في القضاء على تجارة الرقيق وتجارة السلاح ومكافحة القرصنة والحفاظ على السلام البحري.
2. يتعهد الشيخ عبد الله بن جاسم آل ثاني بألا يقيم أي علاقات سياسية أو عقد اتفاقات مع دول أخرى دون موافقة بريطانيا.
3. تتعهد الحكومة البريطانية بأن تمنح السفن القطرية جميع الامتيازات التي تمنحها لشيوخ إمارات الساحل.
4. تتعهد الحكومة البريطانية بحماية إمارة قطر من أي اعتداء من جهة البحر.

- وقد ترتب على معاهدة الحماية عام 1916م:

قيام علاقة رسمية بين قطر وبريطانيا والتي استمرت حتى استقلال قطر عام 1971م وأصبحت بريطانيا مسؤولة عن الدفاع عن قطر من جهة البحر.

- برأيك ما مزايا المعاهدة لكل من بريطانيا وقطر؟

- إذا تعرّضت إمارة قطر لهجمات برية أو جوية؛ هل توفر هذه الاتفاقية الحماية

اللازمة لقطر من هذه الهجمات؟



اقرأ وحلّل

ثالثاً: معاهدة الحماية عام 1935م:

لم تكن معاهدة الحماية التي وقعت عام 1916م مع بريطانيا شاملة لحماية البلاد من جميع الجهات؛ حيث اقتصرت على حماية قطر من جهة البحر، ونظراً لرغبة الشيخ عبد الله بن جاسم آل ثاني في حماية حدوده من التهديدات الخارجية؛ فقد بدأ التفاوض مع بريطانيا عام 1935م على تجديد الحماية البريطانية.

الأسباب التي دفعت كلاً من بريطانيا والشيخ عبد الله بن جاسم آل ثاني إلى توقيع معاهدة الحماية عام 1935م:

- أ - رغبة بريطانيا في فرض مزيدٍ من السيطرة على المنطقة، وسدِّ الطريق أمام الدول الأوروبية وأمريكا في الحصول على حق امتياز البحث والتنقيب عن النفط في قطر.
- ب - رغبة بريطانيا المُلِحَّة في إنشاء مطار في قطر لهبوط طائراتها.
- ج - حاجة الشيخ عبد الله بن جاسم آل ثاني إلى السلاح، والحماية البريطانية الشاملة لبلاده.
- د - مطالبة الشيخ عبد الله بن جاسم آل ثاني لبريطانيا بالاعتراف بولي عهده ابنه الشيخ حمد، وتأييده عندما يخلفه.

- من خلال ما سبق:

- صنِّف أسباب المعاهدة إلى أسباب اقتصادية وسياسية وعسكرية.



اقرأ وصنِّف

بنود معاهدة الحماية عام 1935م:

1. تعيين معتمد بريطاني في البلاد، وإقامة دائرة للبريد، ومنشآت للبرق واللاسلكي.
 2. منح بريطانيا امتياز حق التنقيب عن البترول في قطر.
 3. استخدام القوة الجوية الملكية البريطانية للدفاع عن قطر ضد أي هجمات قد تتعرَّض لها.
- بتوقيع هذه الاتفاقية أصبحت قطر تحت الحماية البريطانية الشاملة ضد أي اعتداء.
- كما تعهَّد الشيخ عبد الله بن جاسم آل ثاني بالالتزام بنصوص معاهدة عام 1916م ومعاهدة عام 1935م هو وورثته من بعده.



اقرأ وحلّل

- أمامك جزء من وثيقة تجديد الحماية 1935م أرسلها المقيم البريطاني في الخليج إلى الشيخ عبد الله بن جاسم آل ثاني:

مكتب المقيم السياسي البريطاني في الخليج.

11 مايو 1935م.

إلى الشيخ عبد الله بن جاسم آل ثاني المحترم،

بعد التحيات:

بالإشارة إلى رسالتكم حول موضوع الحماية ...

فإن تعليماتي من حكومة الجلالة تخولني إجابتم بما يلي:

أ- سوف تُمنح الحماية لكم على شرط أن تعطوا امتياز النفط لشركة الزيت الأنجلو-فارسية.

ب- إن الحماية سوف تتعلّق بأي اعتداء خارجي مثل تلك الغزوات أو الاعتداءات الخطيرة من خارج حدودكم.

ج- أما بشأن الأساليب التي نقترحها لهذا الأمر من خلال سلاح الجو الملكي، فإنكم تعلمون أنه لكي تتمكّن الطائرات المجرى لمساعدتكم في أسرع وقت ممكن ... فإنه من الضروري لسلاح الجو الحصول على تسهيلات مُعيّنة، ومنها حرية استعمال التلغراف اللاسلكي عند الضرورة لسرعة الاتصال ... وإعداد أماكن لنزول الطائرات والترتيب لتخزين الوقود وتفضّلوا بقبول فائق الاحترام.

ليوتنانت كولونيل بي. سي. فاول

المقيم السياسي بالخليج

المصدر: كتاب فصول من تاريخ قطر السياسي/ أحمد زكريا الشلق ص242 (بتصرف)

حلّل الوثيقة السابقة.

- من هم أطراف الوثيقة؟

- ما الشرط الذي عرضته بريطانيا مقابل الحماية؟

- ارتبطت الحماية البريطانية الجوية لقطر بحصولها على امتيازات أخرى. وضح ذلك.



اللؤلؤ والنفط في قطر

شاهد وأجب

اسم المشروع:



بالتعاون مع مجموعة العمل، ومن خلال شبكة المعلومات الدولية شاهد الفيلم القصير "اللؤلؤ والنفط في قطر"

ثم أجب على الأسئلة التالية:

1. ما الحرف الرئيسة قبل ظهور النفط في قطر؟
2. صف وضع تجارة اللؤلؤ في قطر في بداية القرن العشرين.
3. وضح إجراءات بريطانيا للبحث عن النفط في قطر.
4. ما تأثير اكتشاف النفط على المجتمع القطري من جوانب مختلفة (اقتصادية، اجتماعية، ثقافية)؟
5. ما الذي أثار إعجابك في الفيلم؟

المهام المطلوبة	أعضاء الفريق

الأدوات المستخدمة في المشروع

التقييم الذاتي للفريق

بنود التقييم	متوسط	جيد	جيد جداً	ممتاز
الالتزام بالمهام المطلوبة.				
احترام أعضاء الفريق والتعاون معهم.				
إظهار الثقة في تقديم المشروع والعرض أمام الزملاء في الصف.				
تسليم المهام المطلوبة في الوقت المحدد.				



التدريبات

السؤال الأول: اختر الإجابة الصحيحة من بين البدائل الآتية:

1 - تمّ توقيع الاتفاقية الأنجلو عثمانية في عهد الشيخ:

- أ- محمد بن ثاني.
 ب- جاسم بن محمد بن ثاني.
 ج- عبد الله بن جاسم آل ثاني.
 د- علي بن عبد الله آل ثاني.

2 - ترتّب على خروج القوات العثمانية من قطر:

- أ- ازدياد القرصنة البحرية.
 ب- كساد تجارة اللؤلؤ.
 ج- قلة تجارة السلاح.
 د- سوء الأحوال المعيشية.

3 - تمّ إلغاء ارتباط قطر بالدولة العثمانية من خلال الاتفاقية:

- أ - العثمانية القطرية عام 1915 م.
 ب - البريطانية القطرية عام 1916 م.
 ج - البريطانية القطرية عام 1935 م.
 د - البريطانية العثمانية عام 1913 م.

4 - تعهّدت الحكومة البريطانية ضمن بنود معاهدة عام 1916 م بحماية إمارة قطر من جهة:

- أ- البر.
 ب- البحر.
 ج- البر والبحر.
 د- البر والبحر والجو.

السؤال الثاني: بِمَ تُفسِّر؟

1 - انسحاب الدولة العثمانية من قطر عام 1915 م؟

.....

.....

.....

2 - توقيع بريطانيا معاهدة الحماية مع قطر عام 1916 م؟

.....

.....

.....



التدريبات

3 - توقيع الشيخ عبد الله بن جاسم آل ثاني على معاهدة عام 1935م مع بريطانيا؟

.....

.....

.....

السؤال الثالث: ما النتائج المترتبة على:

1 - اتفاقية الأنجلو - عثمانية عام 1913م؟

.....

.....

2 - خروج الحماية العثمانية من قطر عام 1915م؟

.....

.....

3 - عقد معاهدة الحماية عام 1916م؟

.....

.....

السؤال الرابع: قارن بين معاهدة 1916م ومعاهدة 1935م:

معاهدة 1935م	معاهدة 1916م	وجه المقارنة
-1	-1	بنود المعاهدة
.....	
-2	-2	
.....	



التدريبات

السؤال الخامس: أجب عن الأسئلة الآتية:

1- ما المقصود بالحماية؟

.....

2- ما أهم الالتزامات التي تعهد بها الشيخ عبد الله بن جاسم آل ثاني في معاهدة 1916م تجاه بريطانيا؟

.....

.....

.....


3- ما رأيك في العبارة الآتية:

"كانت معاهدة عام 1916م حماية لقطر، وفي نفس الوقت قيلاً على سيادتها"؟

.....

السؤال السادس:

رتب الأحداث التاريخية الآتية على الخط الزمني التالي حسب التسلسل الزمني من الأقدم إلى الأحدث.
قيام الحرب العالمية الأولى – انسحاب الدولة العثمانية من قطر – معاهدة الحماية على قطر –
اتفاقية الانجلو-عثمانية.



مبادئ الديمقراطية

- **الدرس الأول: الشورى ومبادئ الديمقراطية.**
- **الدرس الثاني: الشفافية ومكافحة الفساد.**

في نهاية الوحدة سوف تتعلم

- أهمية مبدأ الفصل بين السلطات.
- توضيح مبدأ سيادة القانون كمظهر من مظاهر الديمقراطية.
- تقدير أهمية مبدأ الشورى كأساس من أسس الديمقراطية.
- دور الفرد في محاربة الفساد والجريمة.

القيم والقضايا

- الحرص على الشورى ومبادئ الديمقراطية.
- المحافظة على المال العام.
- الإخلاص وعدم الغش.
- الوعي السياسي.
- إعلاء المصلحة العامة.
- نبذ أشكال الفساد.
- حقوق الإنسان.

المفاهيم

- الشورى.
- الفصل بين السلطات.
- سيادة القانون.
- الحقوق المدنية.
- الحقوق الاجتماعية.
- الحقوق السياسية.
- الشفافية.
- الفساد.

المهارات

- القراءة التحليلية للنصوص.
- التطبيق.
- التنظيم والتصنيف.
- التحليل والاستنتاج.
- التقييم.

الكفايات

- التفكير الإبداعي والناقد.
- الكفاية اللغوية.
- التعاون والمشاركة.
- التواصل.

الدَّرْسُ الأوَّلُ:

الشُّورى ومبادئ الديمقراطية



الشورى و مبادئ الديمقراطية

أولاً: الشورى:



عُرفت بعض مناطق العرب الشورى قبل الإسلام؛ فقد كانت دار الندوة التي يجتمع فيها أهل قريش مثلاً واضحاً على تطبيق مبدأ الشورى في حياة العرب، وفي اليمن ظهرت مملكة سبأ التي شهدت نظاماً ملكياً فيه نوع من الشورى، قال الله تعالى:

﴿قَالَتْ يَا أَيُّهَا الْمَلَأُ أَفْتُونِي فِي أَمْرِي مَا كُنْتُ قَاطِعَةً أَمْرًا حَتَّى تَشْهَدُونِ﴾ [النمل: 32].

الشورى مبدأ إسلامي:

في ظل القيم الإسلامية الراسخة، تبرز الشورى كمبدأ إسلامي يجسد روح التعاون والتشاور.

قيمٌ أتعلمها:

من أقوال علي بن أبي طالب
 ﷺ: (مَنْ شَاوَرَ النَّاسَ شَارَكَهُمْ
 فِي عَقُولِهِمْ).
 فاحرص على تطبيق مبدأ
 الشورى في حياتك.

مفهوم الشورى:

هي استشارة أهل الرأي والخبرة للوصول إلى أفضل القرارات.



- تُعد الشورى منهجاً إسلامياً تستند إلى الشريعة الإسلامية ولا تتعارض معها قال الله تعالى مخاطباً

النبي ﷺ: ﴿وَشَاوِرْهُمْ فِي الْأَمْرِ﴾ [آل عمران: 159].

وأشار القرآن الكريم إلى أن الشورى من صفات المؤمنين فقال الله تعالى ﴿وَأْمُرْهُمْ شُورَى بَيْنَهُمْ﴾ [الشورى: 38]. وكانت سياسة النبي ﷺ والخلفاء الراشدين من بعده قائمة على مبدأ الشورى، فلا يتخذوا قراراً في أمر من أمور الدنيا إلا بالمشورة، وقد طبق الرسول ﷺ الشورى تطبيقاً عملياً في كثير من المواقف.

- اقرأ الموقف التالي ثم استنتج:

الشورى في غزوة بدر

«عندما نزل النبي ﷺ والمسلمون عند أدنى ماء من بدر، تساءل الحُباب بن المنذر: «يا رسول الله، رأيت هذا المنزل، أمنزلاً أنزلكه الله ليس لنا أن نتقدمه ولا نتأخر عنه، أم هو الرأي والحرب والمكيدة؟» فأجاب النبي ﷺ: «بل هو الرأي والحرب والمكيدة». فقال الحُباب: «يا رسول الله، فإن هذا ليس بمنزل، فانهض بالناس حتى نأتي أدنى ماء من القوم، فننزله.....» فقال النبي ﷺ: «لقد أشرت بالرأي...»

المصدر بتصريف كتاب البداية والنهاية، لابن كثير

1 - كيف عبّرت استشارة الحُباب بن المنذر في غزوة بدر عن مبدأ الشورى في الإسلام؟

2 - اذكر الشرط الذي وضعه الحُباب بن المنذر لنفسه قبل طرح رأيه للنبي ﷺ.

3 - ما النتائج التي تحققت نتيجة اتباع مبدأ الشورى في غزوة بدر؟

1 - تحقّق العدل والمساواة في المجتمع.

2 - تعزّز من الثقة وحرية الرأي بين أفراد المجتمع.

3 - تُسهّم في اتخاذ القرارات السليمة التي تخدم المجتمع في مختلف المجالات.

أهمية مبدأ الشورى:



اقرأ واستنتج

وكما أن مبدأ الشورى يساعد المجتمع على اتخاذ القرار الصحيح، فإن الاستشارة هي تطبيق فردي لهذا المبدأ، نمارسه في حياتنا عندما نطلب رأي من نثق به قبل أن نقرر.

- اقرأ الموقف التالي ثم طبق:

مواقف حياتية (اختيار المسار)



اقترح موعداً لاختيار المسارات الدراسية، ووجد حمد نفسه محتاراً بين الأدبي والعلمي والتكنولوجي. فقرر استشارة المرشد الأكاديمي، ووالده، وزميله الذي سبق أن اختار التخصص العلمي. أشار المرشد الأكاديمي إلى امتلاك حمد مهارات تؤهله للتخصص العلمي، بينما ركّز والده على فرص العمل في المستقبل خاصة مجال الأعمال، والأمن السيبراني

والذكاء الاصطناعي، وتحدث زميله عن تحديات المواد العلمية.

بعد استشارة حمد للجميع، قرر أن يستخير الله قبل اتخاذ القرار النهائي، استناداً إلى الحكمة الشهيرة «ما ندم من استشار ولا خاب من استخار».

1 - لماذا لجأ حمد إلى الشورى بدلاً من اتخاذ القرار بمفرده؟

2 - كيف ساعدت الآراء المختلفة الطالب حمد؟

3 - ماذا يحدث لو اتخذ حمد القرار دون استشارة أحد؟



اقرأ وطبق


الشورى والدستور القطري:

- جاءت المادة الأولى من الدستور القطري لتجسد مبدأ الشورى وجعلته إطاراً يضمن تحقيق العدالة وسيادة القانون. فقد ورد فيها:

«قطر دولة عربية مستقلة ذات سيادة. دينها الإسلام، والشريعة الإسلامية مصدر رئيسي لتشريعاتها، ونظامها ديمقراطي يقوم على الشورى والعدل وسيادة القانون....»

- ويتجسد مفهوم الشورى في دولة قطر من خلال اشتراط الدستور أن يكون عضو مجلس الشورى

من أهل العلم والرأي أو من ذوي الكفاءة والخبرة؛ مما يضمن أن تكون قرارات المجلس لصالح للوطن والمواطن.
وتتشابه الشورى والديمقراطية في كونهما يسعيان لتحقيق العدالة والإنصاف، وتعزيز دور الأفراد في المشاركة في صنع القرار، وتحقيق الصالح العام.



صاحب السمو الأمير الشيخ تميم بن حمد آل ثاني في مجلس الشورى

-من كلمات صاحب السمو الأمير الشيخ تميم بن حمد آل ثاني «حفظه الله» في مجلس الشورى 15 أكتوبر 2024م:
«..... نظامنا نظام إمارة يقوم على العدل والشورى ويحمي الحقوق والحريات في ظل سيادة القانون..... والشورى من أهم أشكال المشاركة في الشأن العام.....».

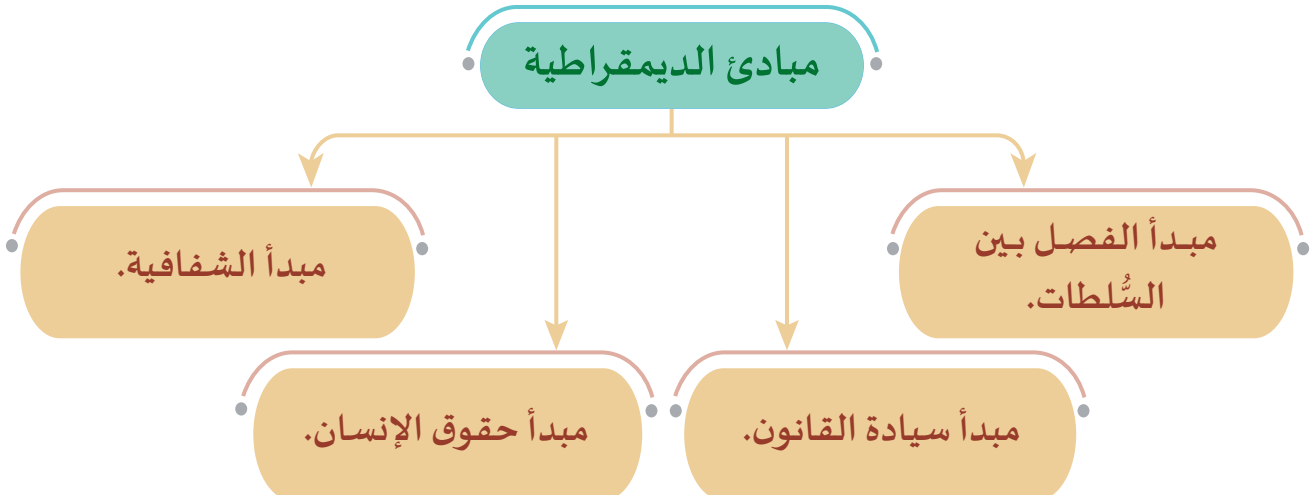


1 - ما النظام الذي أكده صاحب السمو الأمير الشيخ تميم بن حمد آل ثاني في كلمته أمام مجلس الشورى؟

2 - اذكر مبادئ الشورى من خلال خطاب سمو الأمير.

ثانياً: مبادئ الديمقراطية:

ترتكز الديمقراطية على عدة مبادئ مهمة، بدونها لا تتحقق العدالة والمساواة بين أبناء الشعب الواحد.
انظر الشكل التالي لتتعرف على بعض مبادئ الديمقراطية:



1- مبدأ الفصل بين السلطات:

هي ممارسة كل سلطة صلاحياتها أو وظيفتها بصفة مستقلة عن الأخرى، وتتعاون فيما بينها.



يُعدُّ مبدأ الفصل بين السلطات أهمَّ مبادئ الديمقراطية على الإطلاق، ويقوم مبدأ فصل السلطات على أساس وجود ثلاث سلطات هي: السلطة التشريعية والتنفيذية والقضائية.

أهمية مبدأ فصل السلطات:

- 1- ضمان الاستقلالية والنزاهة من خلال فصل مجلس الشورى عن الحكومة من جهة، وفصل القضاء عن الحكام من جهة أخرى.
- 2- إيجاد رقابة فعّالة لضمان عدم انحراف أيٍّ من سلطات الدولة الثلاث عن الحدود القانونية.
- 3- أداء الدولة لوظائفها بإتقان؛ نتيجة تقسيم العمل، ومباشرة كل سلطة لوظيفتها، والتركيز عليها.

- ما الذي يمكن أن يحدث برأيك؟

- إذا كانت هناك جهة حكومية واحدة تقوم بإصدار القرارات وتنفيذها ومراقبتها بنفسها؟



2- مبدأ سيادة القانون:

هي مساواة جميع المواطنين أمام القانون دون تمييز لضمان مجتمع عادل.



أهمية مبدأ سيادة القانون:

لاحظ الشكل التالي للتعرف عليها:

1- تحقيق العدالة والمساواة بين الجميع.

2- ضمان حماية الحقوق والواجبات.

3- الحفاظ على الأمن والاستقرار.

4- منع الاستخدام التعسفي للسلطة.

- اقرأ المادة التالية، ثم أجب عمّا يلي:

تنصُّ المادة 129 من الدستور القطري على أن:

«سيادة القانون أساس الحكم في الدولة، وشرف القضاء ونزاهة القضاة وعدلهم ضمان للحقوق والحريات».

1 - ما أهمية هذه المادة القانونية من وجهة نظرك؟



3- مبدأ حقوق الإنسان:

تعدُّ حقوق الإنسان أحد أهمّ المبادئ التي تستند عليها الديمقراطية، فحقوق الإنسان والديمقراطية متلازمان ومتّمان لبعضهما البعض، ولا يمكن الفصل بينهما، حيث إن الديمقراطية تُعدُّ النظام الداعم لحقوق الإنسان، والعلاقة بينهما تكاملية.

أضف معلوماتك:

الإعلان العالمي لحقوق الإنسان، وثيقة تاريخية هامة في تاريخ حقوق الإنسان، صاغه ممثلون من مختلف الخلفيات القانونية والثقافية من جميع أنحاء العالم، واعتمدت الجمعية العامة للإعلان العالمي لحقوق الإنسان في باريس في 10 كانون الأول/ ديسمبر 1948م. وهو يحدّد (وللمرة الأولى) حقوق الإنسان الأساسية التي يتعيّن حمايتها عالميًا. وتُرجمت تلك الحقوق إلى 500 لغة من لغات العالم.

أنواع حقوق الإنسان:

تتعدّد أنواع الحقوق الإنسانية، لاحظ الشكل التالي لتتعرف بعض هذه الحقوق:



1 - حقوق مدنية وسياسية؛ كالحق في الترشح والانتخاب.



2 - حقوق اجتماعية وثقافية؛ كالحق في التعليم والرعاية الصحية.



3 - حقوق اقتصادية؛ كالحق في العمل.

- اقرأ النصَّ الآتي ثم أجب عن التساؤلات التي تليه:

إن الديمقراطية التي نتحدّث عنها ونسعى لترسيخها كقاعدة للحُكم في بلدنا، تستمدُّ قاعدتها وعناصرها من تراث عقيدتنا، وتطبيقات وتجارب الديمقراطيات الراسخة في العالم، آخذين في الاعتبار التقاليد الحافلة بالقيم الإسلامية، والعلاقات والشائج الأسرية التي نعتزُّ بها. ومنذ عدة أعوام وقطر تشهد عملية الديمقراطية التي تسعى لتعزيزها وتطويرها.

من كلمة سمو الأمير الوالد حمد بن خليفة آل ثاني في منتدى الدوحة الخامس للديمقراطية والتجارة الحرة 2005م.

- ما الأسس التي اعتمدت عليها الديمقراطية في دولة قطر؟

.....

- ما أهمية الحفاظ على القيم والثوابت الوطنية في المجتمع؟

.....





التدريبات

السؤال الأول: اختر الإجابة الصحيحة من بين البدائل الآتية:

- 1- يشترط أن يكون عضو مجلس الشورى من ذوي الكفاءة والخبرة بهدف:
- أ- تعزيز النفوذ السياسي.
ب- دعم العلاقات الدولية.
ج- نشر الثقافة القطرية.
د- صدور القرارات لصالح الوطن.
- 2- يُعدُّ أحد مبادئ الديمقراطية، ويُقصَد به أن تمارس كل سلطة اختصاصاتها بشكل مستقلٍّ عن السلطات الأخرى مبدأ:
- أ - سيادة القانون.
ب- الفصل بين السلطات.
ج- الشورى.
د - المساواة أمام القانون.
- 3- تهدف الرقابة الفعالة على السلطات المختلفة في الدولة إلى:
- أ - دمج السلطات.
ب- تعزيز دور الحكومة.
ج- تقليل عدد السلطات.
د - ضمان عدم انحراف السلطات.
- 4- يُعدُّ الحقُّ في الانتخاب من الحقوق:
- أ - الاجتماعية.
ب- المدنية.
ج- الدينية.
د - الاقتصادية.
- 5- يُعدُّ الحق في التعليم من الحقوق:
- أ - المدنية.
ب- السياسية.
ج- الاقتصادية.
د - الاجتماعية.



التدريبات

السؤال الثاني: عرف ما يأتي :

1- الشورى:

.....

2- مبدأ سيادة القانون:

.....

السؤال الثالث: أجب عن الأسئلة الآتية:

1- وضح أهمية الشورى.

.....

.....

.....

2- عِدِّ مبادئ الديمقراطية.

.....

.....

3- ما علاقة الديمقراطية بحقوق الانسان؟

.....

.....

.....

4- اذكر أنواع حقوق الانسان.

.....

.....

.....



التدريبات

السؤال الرابع: اثبت بالأدلة صحة العبارات التالية:

1- عرفت بعض مناطق العرب الشورى قبل الإسلام.

.....

.....

2- تتشابه الشورى والديمقراطية في عدة جوانب.

.....

.....

.....

3- هناك ترابط بين مبدأ الشورى والدستور القطري.

.....

.....

السؤال الخامس: قارن بين كل من:

- مبدأي: الفصل بين السلطات، وسيادة القانون من حيث أهمية كلٍّ منهما.

سيادة القانون	فصل السلطات	المبدأ
.....	الأهمية
.....	

الدَّرْسُ الثَّانِي:

الشفافية ومكافحة الفساد



هيئة الرقابة الإدارية والشفافية

ADMINISTRATIVE CONTROL & TRANSPARENCY AUTHORITY

الشفافية ومكافحة الفساد

تُعَدُّ الشفافية من المبادئ المتضمنة كافة الأديان والتشريعات؛ لذا تحرص كافة الدول على تطبيق الشفافية بكل مؤسساتها، بهدف الحفاظ على مُقدَّراتها ومكتسباتها، وتحقيق التنمية الشاملة بها، ومن ثمَّ منع انتشار الفساد.

أولاً: مفهوم الشفافية:

هي اطلاع الجمهور على السياسات العامة للدولة وكيفية إدارتها من قِبَل القائمين عليها.



أهمية تطبيق مبدأ الشفافية:

لاحظ الشكل التالي للتعرف عليها:



1- مكافحة انتشار الفساد.

2- تحسين جودة الخدمات المقدمة للمواطنين.

3- رفع مستوى الوعي الحقوقي للمواطنين.

4- تنمية المجتمع وجذب الاستثمار.

- اذا غابت الشفافية عن احدى المؤسسات، هل تتوقع نجاحها؟ وما أثر ذلك؟



فكّر وناقش

ثانياً: مفهوم الفساد وأشكاله:

مفهوم الفساد:

هو إساءة استغلال السلطة أو الوظيفة لتحقيق مكاسب شخصية غير مشروعة على حساب المصلحة العامة.



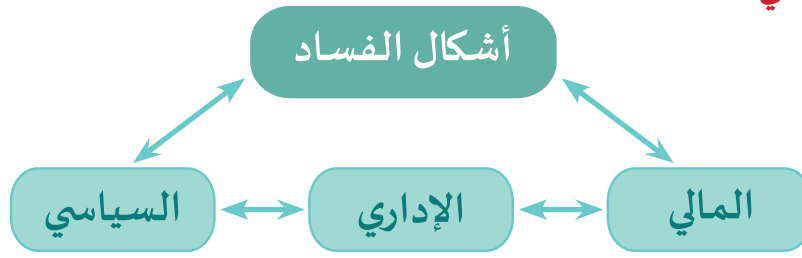
قيمُ أتعلمها:

مساهمته في منع انتشار الفساد بالمجتمع واجب قومي من شأنه الحفاظ على ثروات ومقدّرات وطنك.

للفساد تكلفة اجتماعية واقتصادية وسياسية باهظة، يعمل على تأخير عملية التنمية وتحقيق الازدهار للشعوب، ويضعف الديمقراطية؛ لذا فإن محاربتَه تصبح مصلحة لجميع أفراد المجتمع.

أشكال الفساد:

- لاحظ الشكل التالي:



ويندرج تحت هذه الأشكال الرئيسة عدد من الصور والأشكال الفرعية للفساد، على سبيل المثال: الرشوة - المحسوبية - الاعتداء على المال العام - والممتلكات العامّة.

- اقرأ الأمثلة التالية، ثم صنّف كل موقف بحسب نوع الفساد المرتبط به (إداري - مالي - سياسي) وناقش مع زملائك الأثر الذي قد يحدثه هذا النوع من الفساد في المجتمع.



اقرأ وصنف

ما الأثر المحتمل؟	نوع الفساد	الموقف
.....	1 - تعيين أحد الأقارب في وظيفة مرموقة رغم وجود من هو أكثر كفاءة.
.....	2 - موظف في إحدى الجهات يقبل "هدية" لتسهيل إصدار رخصة.
.....	3 - مسؤول يرشّح أبناء عائلته فقط للمناصب القيادية في المؤسسة.
.....	4 - مؤسسة تحصل على تمويل لمشروع لكن لم يتم تنفيذه.
.....	5 - إعلان نتائج مسابقة طلابية، لكن الفائز معروف قبل بدء التقييم.


ثالثاً: دور دولة قطر والأفراد في مكافحة الفساد:

دور دولة قطر في تعزيز الشفافية ومكافحة الفساد:

إضف إلى معلوماتك:



"لن نتسامح مع الفساد المالي والإداري، أو استغلال المنصب العام لأغراض خاصة، أو التخلي عن المعايير المهنية لمصلحة شخصية."
من خطاب سمو الأمير الشيخ تميم بن حمد آل ثاني في افتتاح دور الانعقاد 44 لمجلس الشورى 2015م.



هيئة الرقابة الإدارية والشفافية

اتخذت دولة قطر العديد من الخطوات الهامة للتجاوب مع الجهود الدولية في سبيل تعزيز الشفافية ومكافحة الفساد، والتي يمكن توضيحها في النقاط التالية:

- 1- مصادقتها على اتفاقية الأمم المتحدة لمكافحة الفساد.
- 2- إنشاء هيئة الرقابة الإدارية والشفافية التي أنشئت بالقرار الأميري رقم (75) لسنة 2011م كهيئة متخصصة في تعزيز النزاهة والشفافية.
- 3- تنفيذ إعلان الدوحة الصادر من مؤتمر الأمم المتحدة الثالث عشر لمنع الجريمة والعدالة الجنائية، والذي عقد في دولة قطر في أبريل 2015م.
- 4- وضع الإستراتيجية الوطنية لتعزيز النزاهة والشفافية. - وقد احتلت دولة قطر المرتبة الثانية عربياً في تقرير منظمة الشفافية الدولية، وهي ضمن الأعلى أداءً إقليمياً في مؤشر مُدركات الفساد عام 2024م.

جائزة سمو الشيخ تميم بن حمد آل ثاني الدولية للتميز في مكافحة الفساد.

أطلقت جائزة سمو الشيخ تميم بن حمد آل ثاني الدولية للتميز في مكافحة الفساد في عام 2016م، وتُعد الأولى من نوعها على مستوى العالم في هذا المجال. تهدف الجائزة إلى تعزيز قيم النزاهة والعدالة والمساءلة، وترسيخ وجود مؤسسات فاعلة خاضعة للرقابة والقانون. كما تسعى الجائزة إلى نشر الوعي المجتمعي بخطورة الفساد، وتشجيع الإبداع في ابتكار أساليب جديدة لمواجهته والحد



اقرأ وأجب



شعار جائزة التميز للمكافحة الفساد

منه وتُمنح الجائزة بالتعاون مع الأمم المتحدة، وتُعلن سنوياً في 9 ديسمبر بالتزامن مع اليوم العالمي لمكافحة الفساد.

- متى أُطلقت جائزة سمو الشيخ تميم بن حمد آل ثاني؟

- وضح أهمية إطلاق دولة قطر جائزة عالمية لمكافحة الفساد.

- ما الجهة التي تتعاون في تقديم الجائزة؟

دور الفرد في مكافحة الفساد:

مما سبق يتضح أن مكافحة الفساد والجريمة مسؤولية مجتمعية يشارك فيها الجميع، وذلك بهدف إصلاح المجتمع، والمحافظة على استقراره، ويمكن للفرد مكافحة الفساد من خلال:-



- أمامك مجموعة من العبارات التي تعبر عن سلوك الأفراد تجاه الشفافية ومكافحة الفساد. اقرأ كل عبارة بعناية، ثم ضع (✓) في الخانة التي تعبر عن مدى ممارستك لها (نعم أولاً).

لا	نعم	العبارة
		1 - أقول الحقيقة لو كنت مخطئ.
		2 - أخفي بعض المعلومات إذا كانت تضرني.
		3 - أعامل الجميع بعدل دون تمييز.
		4 - أغش في الامتحان إذا لم أكن مستعداً.
		5 - ألتزم بلوائح المدرسة دون رقابة.
		6 - أبلغ عن أي حالة فساد أو مخالفة أشاهدها.



اقرأ وقيم
نفسك



اسم المشروع:

الشفافية في حياتنا

بالتعاون مع مجموعة العمل، قم بتصميم مجلة بعنوان "الشفافية في حياتنا". تهدف المجلة إلى تعريف الشفافية، وأهميتها في بناء بيئة نزيهة داخل المدرسة والمجتمع، وذلك من خلال مقالات، قصص، مقابلات، صور، واستبيانات. مدعوماً بالصور..

- معايير المجلة:

- تنوع المحتوى.
- جودة الكتابة.
- جودة التصميم والتنظيم.
- الابداع والابتكار.
- التعاون وتوزيع الأدوار بين أعضاء الفريق.

المهام المطلوبة	أعضاء الفريق

الأدوات المستخدمة في المشروع

--

التقييم الذاتي للفريق

بممتاز	جيد جداً	جيد	متوسط	بنود التقييم
				الالتزام بالمهام المطلوبة.
				احترام أعضاء الفريق والتعاون معهم.
				إظهار الثقة في تقديم المشروع والعرض أمام الزملاء في الصف.
				تسليم المهام المطلوبة في الوقت المحدد.



التدريبات

السؤال الأول: اختر الإجابة الصحيحة من بين البدائل الآتية:

1- يُعد من أهمية تطبيق مبدأ الشفافية:

- أ- تقوية العلاقات الخارجية.
ب - مكافحة انتشار الفساد.
ج- زيادة معدلات الضرائب.
د - السيطرة على الأسعار.

2- احتلت دولة قطر عربياً وفقاً لتقرير منظمة الشفافية الدولية لعام 2024م المرتبة:

- أ - الأولى.
ب - الثانية.
ج- الثالثة.
د - الرابعة.

3- الهدف الرئيسي من جائزة سمو الشيخ تميم بن حمد آل ثاني لمكافحة الفساد.

- أ - دعم الاقتصاد المحلي.
ب - توسيع العلاقات الدبلوماسية.
ج- تشجيع الاستثمار في التكنولوجيا.
د - تعزيز قيم النزاهة والمساءلة والعدالة.

4- تمنح دولة قطر جائزة مكافحة الفساد بالتعاون مع.

- أ - الأمم المتحدة.
ب - جامعة الدول العربية.
ج- صندوق النقد الدولي.
د - منظمة الصحة العالمية.

5- أي مما يلي يُعد مثلاً على الفساد الإداري؟

- أ - تزوير الانتخابات.
ب - قبول رشوة من أجل توقيع عقد.
ج- تهريب الأموال إلى الخارج.
د - توظيف شخص غير مؤهل من الأقارب.



التدريبات

السؤال الثاني: أجب عن الأسئلة الآتية:

1 - عرف الشفافية.

2 - وضح أهداف جائزة سمو الشيخ تميم بن حمد آل ثاني الدولية للتميز في مكافحة الفساد.

3 - عدد أشكال الفساد.

4 - ما واجبك تجاه مظاهر الفساد؟

السؤال الثالث: بم تفسر:

1 - اهتمام دول العالم بمكافحة الفساد؟

2 - أهمية تطبيق مبدأ الشفافية؟



التدريبات

السؤال الرابع: اثبت بالأدلة صحة ما يأتي:

1 - للفساد أضرار اقتصادية واجتماعية وسياسية.

.....

.....

.....

2 - اهتمت دولة قطر بمكافحة الفساد على المستوى المحلي والدولي.

.....

.....

.....

المصادر والمراجع



محمد أحمد الرويثي، مصطفى خولجي، السمات الديموغرافية لدولة قطر: دراسة في جغرافية السكان. الجمعية الجغرافية الكويتية. كلية الآداب، جامعة الكويت، العدد (214). الكويت، 1998.

أحمد عبدالعزيز النجار، القوى العاملة بدولة قطر (1986-2010) م، دراسة في جغرافية السكان، رسالة ماجستير غير منشورة. القاهرة. كلية الآداب جامعة القاهرة. القاهرة 2016.

إسحاق يعقوب القطب، التوزيع السكاني والتنمية في دولة قطر، حلقة بحث عن التوزيع السكاني والتنمية في الوطن العربي، المعهد العربي للتخطيط، الكويت، 1981م.

إبراهيم شهداد، جاسم الكبير وسياسته في فرض الشخصية الاستقلال لإمارة قطر، في: جاسم بن محمد آل ثاني، أبحاث الندوة التاريخية المصاحبة لاحتفالات اليوم الوطني لدولة قطر، الدوحة: دار الكتب القطرية، 2008.

سيار الجميل، شخصية الشيخ جاسم بن محمد بن ثاني وعلاقته مع القوى المحيطة به، في: جاسم بن محمد آل ثاني، أبحاث الندوة التاريخية المصاحبة لاحتفالات اليوم الوطني لدولة قطر، الدوحة: دار الكتب القطرية، 2008.

عبد العزيز محمد المنصور، التطور السياسي لقطر في الفترة ما بين 1916-1868م، ط2، الكويت: ذات السلاسل، 1980م.

عبد العزيز المنصور، التطور السياسي لقطر 1916 - 1949، الكويت 1979.

محمد حمدان، قطر الآن، في جذور قطر التاريخية التطور السياسي والاقتصادي، ج3، القاهرة: مركز الراية للنشر والإعلام، 2013م.

منصور عبد العزيز الخريجي، الغزو الثقافي ماضيه وحاضره



تم تحميل هذا الملف من موقع منتديات صقر الجنوب

للدخول على الموقع انقر هنا

لمزيد من الملفات ابحث عن

Search

منتديات صقر الجنوب المنهاج القطري



المنهاج القطري



Qatar@jnob-jo.com



+962 799238559

نعمل بجد لتقديم تعليم متميز يحقق طموحات المستقبل.