

الاختبار التشخيصي للعام الدراسي 2024 - 2025 م مادة الرياضيات / الصف الثاني

الاسم : الصف الثاني /

حوظ رمز الإجابة الصحيحة ..



1- ما عدد النمور ؟

A 7

B 6

C 8



2- يفكر حمد في عدد فيه 9 عشرات و 5 آحاد . ما هو العدد ؟

A 95

B 59

C 14

3- اكتب العدد

مائة وستة عشر

A 110

B 116

C 106

4- حدد جملة الجمع العددية المطابقة .




A $2+3=5$

B $5-2=3$

C $1+4=5$

5- حدد جملة الطرح العددية المطابقة .



A $6 - 3 = 3$

B $8 - 3 = 5$

C $7 - 3 = 4$

6- اجمع .

$$\begin{array}{r} 15 \\ + 4 \\ \hline \\ \hline \end{array}$$

A 19

B 18

C 11

7- اطرح .

$$\begin{array}{r} 14 \\ - 3 \\ \hline \\ \hline \end{array}$$

A 17

B 10

C 11

8- اجمع .

$$3 + 7 + 4 = \dots\dots$$

A 13

B 14

C 10

9- اجمع .

$$30 + 20 = \dots\dots\dots$$

A 50

B 40

C 10

10 - ا طرح .

$$70 - 10 = \dots\dots\dots$$

A 80

B 60

C 70

11 - قارن .




73 ○ 81

A <

B >

C =

12 - كم شخصا إجمالاً شاركوا في استطلاع الرأي ؟ .

الفاكهة المفضلة	
الفاكهة	علامات الإحصاء
 برتقال	
 موز	
 كرز	


A 19


B 17


C 20

13 - ما النشاط الذي حصل على 5 أصوات ؟ .

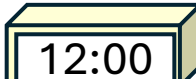
النشاط المفضل								
 كرة القدم								
 نط الحبل								
 التجديف								

A  التجديف


B  نط الحبل

C  كرة القدم

14 - أي ساعة تظهر الساعة 12 و 30 دقيقة ؟

A 

B 

C 

15 - كم شخصا اختار الجمعة والسبت ؟ .

اليوم المفضل في الاسبوع						
الجمعة						
السبت						
الأحد						
	0	1	2	3	4	5

A 7

B 8

C 5

16 - ما الوقت الموضح ؟




A 2:00

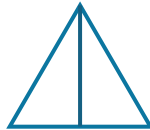
B 12:00

C 3:00

17 - ما الشكل الذي له 3 اضلاع و 3 رؤوس ؟ .



18 - كم عدد الأجزاء المتساوية في الشكل ؟ .



A 4

B 2

C 3

19 - ما اسم الشكل ؟

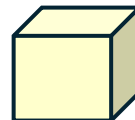


A مكعب

B مخروط

C اسطوانة

20 - ما اسم الشكل ؟



A منشور

B مكعب

C اسطوانة

السلام عليكم ورحمة الله وبركاته

نرحب لكم في

منتديات صقر الجنوب النلميمية

قسم الامارات العربية المتحدة

الصف الثالث جميع المواد

الصف الثاني جميع المواد

الصف الأول جميع المواد

الصف السادس جميع المواد

الصف الخامس جميع المواد

الصف الرابع جميع المواد

الصف التاسع جميع المواد

الصف الثامن جميع المواد

الصف السابع جميع المواد

الصف الثاني عشر جميع المواد

الصف الحادي عشر جميع المواد

الصف العاشر جميع المواد

www.jnob-jo.com

للمزيد من المواضيع التعليمية

منهاج الامارات العربية المتحدة

ابحث في

Google

عن



منشديات صقر الجنوب



قنوات التلغرام للمناهج الاماراتي

الصف الأول في الامارات

https://t.me/UAE_G1

الصف الثاني في الامارات

https://t.me/UAE_G2

الصف الثالث في الامارات

https://t.me/UAE_G3

الصف الرابع في الامارات

https://t.me/UAE_G4

الصف الرابع في الامارات

https://t.me/UAE_G5

الصف الخامس في الامارات

https://t.me/UAE_G5

قنوات التلقرام للمنهاج الاماراتي

الصف السادس في الامارات

https://t.me/UAE_G6

الصف السابع في الامارات

https://t.me/UAE_G7

الصف الثامن في الامارات

https://t.me/UAE_G8

الصف التاسع في الامارات

https://t.me/UAE_G9

الصف العاشر في الامارات

https://t.me/UAE_G10

قنوات الفيس بوك للمنهاج الاماراتي

مجموعة :. الصف الأول في الإمارات

<https://bit.ly/3PExlC>

مجموعة :. الصف الثاني في الإمارات

<https://bit.ly/3cAa15T>

مجموعة :. الصف الثالث في الإمارات

<https://bit.ly/3J6Zhln>

مجموعة :. الصف الرابع في الإمارات

<https://bit.ly/3J5Fb1b>

مجموعة :. الصف الخامس في الإمارات

<https://bit.ly/3oxMXHY>

مجموعة :. الصف السادس في الإمارات

<https://bit.ly/3z35Alu>

مجموعة :. الصف السابع في الإمارات

<https://bit.ly/3zb7831>

الصف الثامن في الإمارات :مجموعة

<https://bit.ly/3ovd5Dd>

.....

الصف التاسع في الإمارات :مجموعة

<https://bit.ly/3Bm16PU>

.....

الصف العاشر في الإمارات :مجموعة

<https://bit.ly/3cGZzJQ>

.....

الصف الحادي عشر في الإمارات :مجموعة

<https://bit.ly/3cGZC8u>

.....

الصف الثاني عشر في الإمارات :مجموعة

<https://bit.ly/3vfwpls>

.....

مجموعة عامة للمنهاج الإمارات

<https://bit.ly/3LQAydU>

.....

صفحتنا للمنهاج الاماراتي

<https://bit.ly/3SlCVr4>