

وزارة التربية والتعليم
مديرية التربية والتعليم
مدرسة
الامتحان النهائي لمادة اللغة العربية
الفصل الدراسي الثاني
الدراسي (٢٠٢٤/٢٠٢٥) م

اليوم والتاريخ: / / ٢٠٢٥ ماسم الطالب : الزمن: ساعة واحدة

السؤال الأول : اقرأ النص الاتي ثم اجب عن الاسئلة التي تليها : (١٢ علامة)

بين الصخور وخلف الشقوق عالمٌ أسطوريٌّ قديمٌ، ساحرٌ بتاريخه، وأصواتٌ تعودُ بك إلى عام ٢٦٨م، لتسمع صوت الملكة التي حاربت من أجل البترا. اسمي عامر، وهذه أختي وفاء، ونحن من بلدة يطلق عليها اسم مدينة الحجر، يأتي إليها كثير من الزوار كل عام، ويقضون ساعات فوق الطرق الصحراوية حتى يتأملوا البيوت المنحوتة في الصخر، وهي ليست بيوتا جامدة، ولكنها تحكي تاريخا حافلا بالاحداث. دعونا نتوقف قليلا أمام هذا المعبد. إنه كما ترون يا أصدقائي محفورٌ وسط شقٍ من صخور هذا الجبل، ويعودُ عمره إلى أكثر من ١٨٠٠ عام. ومع ذلك لقد قاوم الزلازل التي دمرت كثيرة من معالم البترا .

١. ما اسم البلدة التي ينتمي إليها عامر وفاء؟

٢. كم يبلغ عمر المعبد المذكور في النص؟

٣- في أي عام تعود الأصوات التي يسمعها الزائر، حسب النص؟
3 ما معنى كلمة منحوتة الواردة في النص؟

ب. ضع دائرة حول رمز الإجابة الصحيحة فيما يأتي :

١. من هنا الشخصيتان اللتان ورد ذكرهما في النص؟

أ. عامر وسليمب. عامر وفاءج. وفاء ونبيلة

٢. كيف وصف الكاتب البيوت المنحوتة؟

أ. بيوت جامدة وصامتةب. تحكي تاريخا حافلا بالاحداثج. بيوت حديثة من الطوب

٣. لماذا يأتي الزوار إلى مدينة الحجر؟

أ. لزيارة الأسواق الحديثةب. للتخييم في الصحراءج. للتأمل في البيوت المنحوتة في الصخر

٤. أين يقع المعبد الذي تحدث عنه عامر؟

أ. على قمة الجبلب. وسط شق من الصخورج. تحت الأرض

(أولاً 7)

السؤال الثاني : (الكتابة 10 علامات)
(علامات)

أ. اكمل الفراغ بالالف الفارقة المناسبة: (وا أو و)

١. قال رسول الله صلى الله عليه وسلم: "تسحر، فإن في السحور بركة .

2. صوت الحقيق ولو لا يعطيه.

ب. اكمل الفراغ باختيار الهمزة المناسبة : (أ / أو / آ)

١. اطمـ نت سوزا نعلصحة زميلتها.

٢. تلا زيد آيات في القرـ ن الكريم.

ج. اكمل الفراغ باختيار الهمزة المتوسطة المناسبة : (أ / و / ئ)

١. ذـ ب الفلاح على الذهاب إلى الحقل.

٢. تحرص رـى على ترشيد استهلاك المياه.

٣. سمع شادي زـير الأسد في حديقة الحيوان.

ثانياً- اكتب بحدود ثلاثة أسطر عن عيد الأضحى المبارك بعنوان فرخة عيد. (3 علامات)

السؤال الثالث : (البناء اللغوي) (٦ علامات)

أ. اكمل الفراغ بالتاليين تحويلاً لاسم منكرة إلى اسم معرف (ال):

١. قرية: _____

ب. حوّل الكلمة الآتية من مفرد إلى جمع مؤنث سالم .

١. عمارة: _____

ج. حوّل الكلمات الآتية من المفرد إلى الجمع تكسير:

١. مرض: _____

٢. مخزن: _____

د. حول الأعداد الآتية الكلمات مع وضع الجمل في سياق مناسب .

- في الحقيقة _____ دفاتر (٥)

- كتبت مقالة _____ (١)

المادة : تربية إسلامية

مديرية التربية والتعليم

اسم الطالبة : مدرسة الصف : الخامس

الإمتحان النهائي للفصل الدراسي الثاني (٢٠٢٤-٢٠٢٥) الزمن : ساعة واحدة

*ملاحظة : عزيتي الطالبة أجيبى عن جميع الأسئلة الواردة وعددها (٣) عدد الصفحات (٢) على نفس الصفحة

السؤال الأول : من خلال لراستك لسورة النبأ أجيبى عما يلي : (١٠ علامات)

(١) اكملى الآيات الكريمة من قوله تعالى : " إِنَّ لِلْمُتَّقِينَ مَفَازًا (٣١) (٣٢) وَكَوَاعِبَ أَتْرَابًا (٣٣) وَكَأَسَاءَ دِهَاقًا (٣٤) (٣٥) (٣٦) رَبِّ السَّمَوَاتِ وَالْأَرْضِ وَمَا بَيْنَهُمَا الرَّحْمَنُ لَا يَمْلِكُونَ مِنْهُ خِطَابًا (٣٧)

..... (٣٨) ذَلِكَ الْيَوْمُ الْحَقُّ فَمَنْ شَاءَ اتَّخَذَ إِلَىٰ رَبِّهِ مَآبًا (٣٩) وَيَقُولُ الْكَافِرُ يَا لَيْتَنِي كُنْتُ ثَرَابًا (40) .

٢) بينى معاني المفردات والتراكيب التالية :

(أ) النبأ العظيم (ب) يوم يقوم الروح

٣) اذكر أمرين أدهما الله تعالى لأهل الجنة ؟

١) ٢)

٤) من أحداث يوم القيامة كما وردت في سورة النبأ

السؤال الثانى : املأ الفراغ فيما يلي : (١٢ علامة)

١- صدقة الفطر هي

..... حكمها

٢- من آداب صلاة العيد

٣- عن قال : قال رسول الله صل الله عليه وسلم: من حسن إسلام المرء

٤- عدد مرات الاستئذان المستحبة عند الزيارة

٥- والددة الإمام الشافعي تميزت بـ و

٦- وصف سيدنا رسول الله صل الله عليه وسلم من لم يصل عليه بـ

٧- سمي العام الذي توفي فيه أبو طالب والسيدة خديجة رضي الله عنها بـ

٨- للزيارة آداب منها

السؤال الثالث : ضع إشارة (/) امام العبارة الصحيحة ، وإشارة (×) أمام العبارة الخاطئة فيما يلي : (٦ علامات)

- ١- تستحب الصلاة على النبي صل الله عليه وسلم في الأوقات جميعها . ()
 - ٢- استشهد سيدنا عمر بن الخطاب رضي الله عنه على يد أبي جهل . ()
 - ٣- ذكرت قصة أصحاب الجنة في القرآن الكريم مثلا لكفار قريش . ()
 - ٤- تؤدى صدقة الفطر في شهر شوال . ()
 - ٥- يحتفل المسلمون بعيد الأضحى فرحا بأداء الحجاج فريضة الحج . ()
 - ٦- يدل قوله تعالى : " ولا تجسسوا " على عدم جواز التنصت على أحاديث الناس الخاصة . ()
-



The Ministry of Education
The Education Directorate of
School-----
Final Exam- Second Term 2024/2025

Material: English Language:-(Jordan TEAM)

Class: fifth Grade

Date: \ \ 2025

Time: One hour.

أجب عن جميع الأسئلة المذكورة

Name:Section : (.....)

PART ONE

Question One: Reading Comprehension (10 points)

-Read the following text carefully and then answer all the questions below:

The Roman Theatre in Amman, Jordan is one example of ancient theatres around the world. It was built over 2000 years ago. I was rebuilt in 1957, many people have visited it since then. In fact, it's one of the most visited attractions in Amman.

Amman is also home to more modern Haya Cultural Centre .Here children of all ages can learn about the theatre and acting by taking acting classes and workshop. The centre makes learning fun and gives children the chance to explore acting from a young age

1- Where is the Roman Theatre? -----.

2- Who built the Roman Theatre?-----.

3-When was the Roman Theatre built?-----.

4- What do children learn at Haya Cultural Centre? -----.

5- The Roman Theatre in Petra. T F

6- The Centre makes learning fun? T F

7- Find: - 1- noun-----2- pronoun-----3-past simple verb-----

4adjective-----

PART TWO

Question Two: Focus on Vocabulary (9 points)

a- Read and complete the sentences: (5 points)

audience - melt - cotton - oven - gold

1- The chocolate has----- in the microwave.

2- The ring is made of----- .

3- Mum bakes bread in-----.

4 - The people who are watching the show called-----.

5- The T-shirt is made of -----

Question Three

B. Match the words and the pictures:


(4 points.)

Not big enough

too long

tooo big

not long enough



PART THREE

Question Four: Focus on Language and Structures

(10points)

a--Choose the answer from those given to complete each (10 points):-

1- The lions ----- when we came.

a-was drinking

b- were drinking

c- are drinking

2-Ali was sailing when his Dad ----- out his camera.

a-took

b- was taking

c- takes

3- Sami is eating more fruit----- a healthy diet

a-to has

b- to have

c- has got

4- Lila go to the marker-----new shoes

a-to see

b- to sell

c-to buy

5- I feel ----- I must sit down

a-rash

b- dizzy

c- earache

6- Hamed's temperature is about 42 he----- go to hospital.

a-should

b- shouldn't

c-will

7- I didn't -----football last Friday.

a-play

b- played

c- playing

-8- Ali ----- eat junk food.

a- should

b- shouldn't

c- must

9-Have you ever -----festival

a- was

b- be

c- been

10- A chair is made of-----

a- gold

b- wood

c- paper


b- Complete the table: (4 points.)

verb	adjective
care	
	helpful
play	
	thankful

Question Five - Match sentences with the pictures: (4 points)

Have you ever been to a museum?

Have you ever eaten at a restaurant?



Question Six --Complete please:- (2 points)

Match the sentence halves to make a conversation:-

- 1-Ali can you----- a- it's on the kitchen
2-Where's the new kettle? b- help me

b- -Write one thing you, ve done at school ? :- (1 point)

THE END
WITH MY BEST WISHES



التقويم النهائي للفصل الدراسي الثاني

للعام الدراسي ٢٠٢٤ / ٢٠٢٥

لمادة العلوم

الطالب/ة:

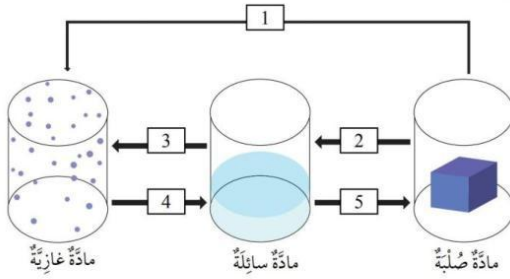
الصف: الخامس

معلم/ة المادة:

التاريخ: ٤ / ٦ / ٢٠٢٤ هـ

(٥ /)

السؤال الأول: اكتب اسم العملية المناسبة بدلاً من الرقم في الشكل الآتي:



١.
٢.
٣.
٤.
٥.

(١٣ /)

السؤال الثاني: أكمل الفراغ بما هو مناسب:

- من التطبيقات العملية على تمدد المادة وانكماشها
- تعرف المسافة المقطوعة في وحدة الزمن بـ
- العوامل المؤثر على الطاقة الحركية و
- تزداد طاقة وضع الجسم بزيادة و
- الطاقة الميكانيكية هي
- ما هي أكثر طبقات الأرض سمكاً
- ينقسم الغلاف الصخري إلى الواح ضخمة تسمى
- اسم الطبقة التي تحدث فيها تقلبات الطقس وتغيراته
- عناصر الطقس و و

(٤ /)

السؤال الثالث: ضع إشارة (✓) للعبارة الصحيحة وإشارة (X) للعبارة الخاطئة في كل مما يأتي:

١. () تمتاز كل مادة نقية بدرجة انصهار ودرجة غليان خاصتين بها.
٢. () تتغير كتلة المادة عند تمددها أو انكماشها.
٣. () بزيادة درجة الحرارة تزداد الرطوبة.
٤. () يتحرك الهواء من المنطقة ذات الضغط المنخفض إلى المنطقة ذات الضغط المرتفع.

السؤال الرابع: اختر الإجابة الصحيحة في كل مما يأتي:- (٦ /)

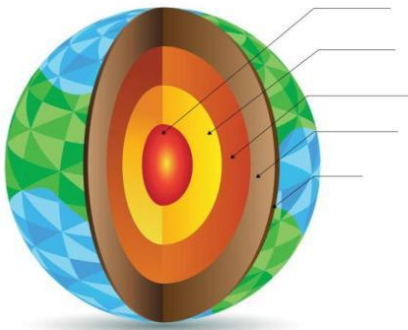
- تسمى الطاقة المختزنة في الجسم المرتفع عن سطح الأرض:
أ. الطاقة الميكانيكية. ب. طاقة الوضع. ج. الطاقة الحركية. د. البندول.
- تمثل المياه نسبة من سطح الأرض.
أ. 55 % ب. 30 % ج. 70 % د. لا شيء مما ذكر.
- اسم الجهاز الذي يقيس درجة الحرارة:
أ. الثيرموتر. ب. الهيجرومتر. ج. البارومتر. د. لا شيء مما ذكر.
- يطلق على كمية بخار الماء الموجودة في الغلاف الجوي اسم:
أ. درجة الحرارة. ب. الرطوبة. ج. الضغط الجوي. د. الطقس.
- وحدة قياس الضغط الجوي:
أ. سلسيوس. ب. النسبة المئوية. ج. باسكال. د. m/s
- يستعمل مقياس درجة الحرارة لمعرفة إذا كان الجو:
أ. رطباً أو جافاً. ب. حاراً أو بارداً. ج. جميع ما ذكر. د. لا شيء مما ذكر.

السؤال الخامس: إذا سارت سيارة بسرعة 80 km/h مدة 5h فكم المسافة التي قطعتها؟ (٣ /)

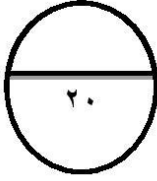
السؤال السادس: قارن بين اللب الداخلي واللب الخارجي من حيث حالة كل منهما. (٢ /)

السؤال السابع: وضح كيف تتفاعل أغلفة الأرض مع بعضها البعض (٢ /)

السؤال الثامن: اكتب اسم الطبقة التي يشير إليها كل سهم في الصورة: (٥ /)



انتهت الأسئلة



وزارة التربية والتعليم
مديرية التربية والتعليم
مدرسة

الامتحان النهائي للفصل الدراسي الثاني لمادة التربية المهنية للصف الخامس
للعام الدراسي ٢٠٢٤/٢٠٢٥

اسم الطالبة:.....اليوم: التاريخ: ٢٠٢٥ / /

الشعبة: مدة الامتحان : ساعة

ملاحظة : أجبني عن الأسئلة التالية وعددها (٤) وعدد الصفحات (٢) والإجابة على نفس الورقة

٦ علامات

السؤال الأول: ضع المصطلح المناسب في الفراغ لكل مما يأتي:
(الرسم الهندسي , حساب الوديعة , المتر المعدني)

١..... هي وسيلة للاتصال في العمل الهندسي.

٢..... شريط صلب مرن مدرج يلف داخل علبة من المعدن.

٣..... عقد بين المودع والبنك تخضع المبالغ المودعة بموجب الارباح.

٣ علامات

السؤال الثاني: اذكر ثلاثة من المواد التي تستخدم في تنظيف المنزل؟

١.

٢.

٣.

٤ علامات

السؤال الثالث: ضع إشارة (√) أمام العبارة الصحيحة و إشارة (x) أمام العبارة الخاطئة:

١. تسهم المنظفات المنزلية في القضاء على الجراثيم ()

٢. يترك صنبور الماء (الحنفية) مفتوحاً في اثناء التنظيف ()

٣. يجب الاستحمام بانتظام كلما دعت الحاجة ()

٤. يكتب على علبة الدواء تاريخ الانتاج والانتهاء ()

٣ علامات

السؤال الرابع: أملأ الفراغ بالإجابة الصحيحة في ما يأتي :



الامتحان النهائي لمادة الدراسات الاجتماعية
الفصل الدراسي الثاني 2025/2024

40

الاسم: الصف الخامس (ا.ب.ج) التاريخ: 2025/

اليوم:

****ملاحظة: أجب عن جميع الاسئلة علماً بأن عددها (4) وعدد الصفحات (2)**

السؤال الأول: اختار من بنك الكلمات، ما يعبر عن الجمل التي تليه: (10علا
مات)

(التراث الثقافي، خطوط الطول، المضيق، الثقافة، جامعة الدول العربية، التجارة، المكان، نهر
النيل، الأهازيج، الحرف التقليدي

1- منظمة إقليمية تضمّ حالياً جميع الدول العربية الاثنين والعشرين.

2- عملية يجري فيها بيع السلع والخدمات وشراؤها؛ لتحقيق منفعة
اقتصادية.

3- هو الحيز الذي يوجد فيه الإنسان على سطح الأرض.

4- أطول نهر في العالم .

5- ممر مائي طبيعي ضيق، يصل بين مسطحين مائيين.

6- أنصاف دوائر وهمية متساوية الطول، تمتدّ من القطب الشمالي إلى
القطب الجنوبي.

7- هي مجموعة القيم والعادات والتقاليد والمعتقدات والأعراف والا
دوات.

8- هو كل ما خلفه لنا الآباء والأجداد من قيم وعادات وتقاليد وفنون
وآثار.

9- الصناعات البسيطة التي تعتمد على المهارات اليدوية بدون استخدام ا
للات.

10- نوع من التشيد الشعبي الغنائي، الذي يردده الناس في مناسباتهم.

14علا

السؤال الثاني: املأ الفراغ بالإجابة الصحيحة لكل مما يأتي:
(مة)

1- عناصر التراث الثقافي أ ب ج

2- عناصر الثقافة الرئيسية أ ب ج

3- دول المغرب العربي أ ب ج

4- أمثلة على القيم أ ب ج

5- أنواع التجارة أ ب

6علا

السؤال الثالث: حدّد عاصمة كل دولة من الدول الآتية:
(مات)

الدولة	العاصمة
مصر	
السودان	
ليبيا	

10علا

السؤال الرابع : ضع دائرة على رمز الإجابة الصحيحة:
(مات)

1-عاصمة دولة السودان هي :

أ- القاهرة ب- مقديشو ج- أسمره د- الخرطوم

2- يمرّ خطّ غرينيتش في دولة:

أ- الجزائر ب- الصومال ج- المغرب د- ليبيا

3- الدولة التي تشرف على مضيق باب المندب، هي:



الامتحان النهائي لمادة الدراسات الاجتماعية
الفصل الدراسي الثاني 2025/2024

40

الاسم: الصف الخامس (ا.ب.ج) التاريخ: 2025/

اليوم:

****ملاحظة: أجب عن جميع الاسئلة علماً بأن عددها (4) وعدد الصفحات (2)**

السؤال الاول: اختر من بنك الكلمات، ما يعبر عن الجمل التي تليه:
(10علا مات)

(التراث الثقافي، خطوط الطول، المضيق، الثقافة، جامعة الدول العربية، التجارة، المكان، نهر النيل، الأهازيج، الحرف التقليدي

1- منظمة إقليمية تضمّ حالياً جميع الدول العربية الاثني عشرين.

2- عملية يجري فيها بيع السلع والخدمات وشراؤها؛ لتحقيق منفعة اقتصادية.

3- هو الحيز الذي يوجد فيه الإنسان على سطح الأرض.

4- أطول نهر في العالم .

5- ممر مائي طبيعي ضيق، يصل بين مسطحين مائيين.

6- أنصاف دوائر وهمية متساوية الطول، تمتد من القطب الشمالي إلى القطب الجنوبي.

7- هي مجموعة القيم والعادات والتقاليد والمعتقدات والأعراف والأدوات.

8- هو كل ما خلفه لنا الآباء والأجداد من قيم وعادات وتقاليد وفنون وآثار.

9- الصناعات البسيطة التي تعتمد على المهارات اليدوية بدون استخدام الآلات.

10- نوع من النشيد الشعبي الغنائي، الذي يردده الناس في مناسباتهم.

14علا

السؤال الثاني: املأ الفراغ بالإجابة الصحيحة لكل مما يأتي:
(مة)

1- عناصر التراث الثقافي أ..... ب..... ج.....

2- عناصر الثقافة الرئيسية أ..... ب..... ج.....

3- دول المغرب العربي أ..... ب..... ج.....

4- أمثلة على القيم أ..... ب..... ج.....

5- أنواع التجارة أ..... ب.....

6علا

السؤال الثالث: حدد عاصمة كل دولة من الدول الآتية:
(مات)

الدولة	العاصمة
مصر	
السودان	
ليبيا	

10علا

السؤال الرابع : ضع دائرة على رمز الإجابة الصحيحة:
(مات)

1-عاصمة دولة السودان هي :

أ- القاهرة ب- مقديشو ج- أسمره د- الخرطوم

2- يمرّ خطّ غرينيتش في دولة:

أ- الجزائر ب- الصومال ج- المغرب د- ليبيا

3- الدولة التي تشرف على مضيق باب المندب، هي:

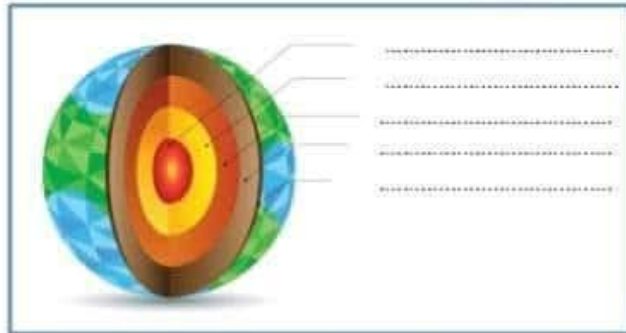
السؤال الأول:

ضع المفهوم المناسب :

1. الهواء الذي يتحرك من منطقة إلى أخرى تختلف عنها في الضغط ودرجة الحرارة
2. الجزء الصخري من الأرض الذي يتكون من القشرة والجزء العلوي من السطح
3. مواد تلزم الجسم بكميات قليلة للوقاية من الأمراض
4. عملية تحويل الطعام إلى أجزاء صغيرة جدا يمكن الاستفادة منها
5. قوة تؤثر في الجسم فتدفعه إلى الأعلى عند وضعه في سائل أو غاز
6. وزن عمود الهواء الواقع على مساحة معينة من سطح الأرض
7. كمية بخار الماء الموجودة في الهواء
8. تغير في شكل المادة من دون تغير نوع المادة المصنوعة منها أو مكوناتها
9. تحول المادة من الحالة السائلة إلى الحالة الغازية
10. وصف لحالة الجو في طبقة التروبوسفير مدة زمنية قصيرة ومحددة

السؤال الثاني :

اكتب أسماء الطبقات المشار إليها في الشكل وأجب عن الأسئلة التي تليه:



1. لُب جزء ما هما ؟ وما حالة كل منهما ؟
2. ما هي أكثر الطبقات سمكاً ؟
3. الطبقة التي تشمل القارات وقيعان المحيطات؟

السؤال الثالث :

أملأ الفراغ بما يناسبه :

1. تحثري الأغنية على مراد ضرورة لصحة الجسم وتختلف إلى خمس مجموعات رئيسية هي :
.....
2. أنواع الكربوهيدرات المعروفة :
.....
3. يحتاج جسمي إلى لبناء عظام وأسنان قوية
4. يؤدي نقص بعض الفيتامينات إلى حدوث مشكلات صحية مثل الذي يصيب الأطفال ويجعل عظامهم لينة وضعيفة ويسبب نفوسها
5. يوجد أسفل عضلة الحجاب الحاجز التي تفصل التجويف الصدري عن التجويف البطني
6. في أثناء عملية تتحرك عضلة الحجاب الحاجز إلى الأسفل فيزداد حجم التجويف الصدري وتتسع الرئتان ويدخل الأكسجين
7. من عناصر الطقس
.....
8. تتصل العظام بعضها ببعض عند التي تسهل انثناءها وحركتها
9. حجم المادة يزداد عند ارتفاع درجة حرارتها وهذا الزيادة في الحجم الناتج من تغير درجة الحرارة يسمى
10. حين اجلس عند أعلى المزلقة فإن جسمي يخلزن طاقة تسمى وهي طاقة تخزن في الجسم وترتبط بموضعه
11. تقاس درجة حرارة الهواء بوحدات قياس عديدة أهمها
12. يستعمل جهاز لقياس الرطوبة
13. عندما ترتفع درجة الحرارة يتبخر الماء ويتحول إلى بخار ماء يرتفع عاليًا فيبرد ويتكاثف فتتشكل
14. تقاس الكتلة باستخدام
.....
15. تشير إلى حالة الطقس في منطقة ما مدة محددة من الزمن ..
16. يمتاز كوكب الأرض بوجود أربع أغلفة
17. الغلاف الصخري الصلب ينقسم إلى ألواح ضخمة تسمى

السؤال الرابع :

اختر الإجابة الصحيحة :

1. الصورة التي تمثل الجهاز الذي يقيس فقط درجة الحرارة هي:



2. إذا سار قطار بسرعة 400 Km/h فإن المسافة التي يقطعها في 15 min بوحدة الـ km هي:

- أ. 10 km ب. 100 ج. 20 km د. 200 km

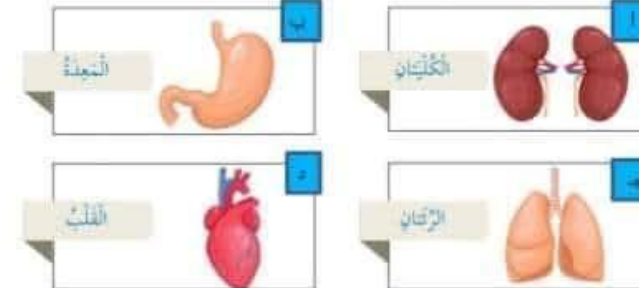
3. الصورة التي تمثل الإنكماش الحراري للمادة هي :



4. الصورة التي تمثل أكثر المواد كثافة هي :



5. الشكل الذي يمثل جزء من الجهاز البولي هو :



6. الجهاز الذي يحوي الأنف ، القصبة الهوائية ، الرئتان ، الحويصلات الهوائية هو :

- أ. جهاز الدوران ب. الجهاز التنفسي ج. الجهاز الهضمي د. الجهاز البولي

7. الترتيب الصحيح لخطوات هضم الطعام والاستفادة منه هو :

- أ. الامتصاص ، الهضم ، البلع ، التخلص من الفضلات
ب. البلع ، الامتصاص ، الهضم ، التخلص من الفضلات
ج. البلع ، الهضم ، الامتصاص ، التخلص من الفضلات
د. التخلص من الفضلات ، البلع ، الامتصاص ، الهضم

8. الصورة التي تمثل وجبة صحية هي



9. تحمي الجسم الـ :

- أ. الرئتين ب. القلب ج. الدماغ د. الكلى

10. الطاقة التي يمتلكها الجسم المتحرك :

- أ. الطاقة الحركية ب. الطاقة الميكانيكية ج. طاقة الوضع د. الطاقة الكهربائية

السؤال الخامس :

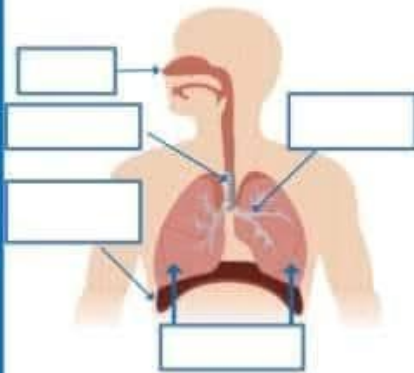
اكتب أسماء الأجزاء المشار إليها بالشكل الآتي وأجب عن الأسئلة التي تليه :

أ. ما هو العضو الأساسي في الجهاز التنفسي ؟

ب. علل : التنفس عن طريق الأنف أفضل

من التنفس عن طريق الفم ؟

ج. ما هي أنواع الحركات التنفسية وما الفرق بينهم .



السؤال السادس:

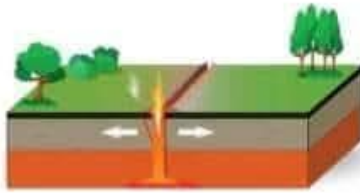
أحسب :

1. جسم كتلته 20 g وحجمه 2 cm^3 ما كثافته ؟2. تسير سيارة بسرعة 10 m/s ما المسافة التي تقطعها السيارة بهذه السرعة مدة 10 s ؟3. احسب سرعة سيارة قطعت مسافة 280 km في 4 h ؟

السؤال السابع :

في الشكل التالي وضع التغيرات التي ستطرأ على سطح الأرض :

1. عند تباعد الصفيحتين ماذا يتكون ؟



2. عند اقتراب الصفيحة من الصفيحة الأخرى على الجهة المقابلة ماذا يتكون ؟



الاجابات

السؤال الأول :

1. الرياح
2. الغلاف الصخري
3. الفيتامينات
4. الهضم
5. قوة الطفو
6. الضغط الجوي
7. الرطوبة
8. التغير الفيزيائي
9. التبخر
10. الطقس

السؤال الثاني

1. اللب الخارجي سائل ، اللب الداخلي صلب
2. الستار
3. القشرة الأرضية

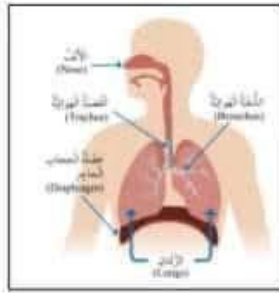


السؤال الثالث

1. الكربوهيدرات ، البروتينات ، الفيتامينات ، الدهون ، الأملاح المعدنية
2. نشا ، السكر
3. الكالسيوم
4. الكساح
5. الرنتين
6. الشهب
7. درجة الحرارة ، الرطوبة ، الضغط الجوي
8. المغناطيس
9. التمدد الحراري
10. علاقة الوضع
11. مليمتر
12. الهيجرومتر
13. الغيوم
14. الميزان الإلكتروني ، الميزان ذو الكفتين
15. خرائط الطقس
16. الغلاف الصخري ، الغلاف الجوي ، الغلاف المائي ، الغلاف الحيوي
17. السفائح

السؤال الرابع :

1. أ
2. ب
3. أ
4. د
5. أ
6. ب
7. ج
8. أ
9. ج
10. أ



السؤال الخامس :

- أ. الرئتين
- ب. لأن الألف يقي الهواء الداخل ويرطبه وينفخه
- ج. شهيق : تتحرك عضلة الحجاب الحاجز إلى الأسفل فيزداد حجم التجويف الصدري وتتمتع الرئتان وينتخل الأكسجين
- الزفير : تتحرك عضلة الحجاب الحاجز إلى الأعلى يقل حجم التجويف الصدري فيخرج ثاني أكسيد الكربون

السؤال السادس :

1.

$$D = \frac{m}{V} = \frac{20}{2} = 10 \text{ g/cm}^3$$

2.

$$S = v \times t = 10 \times 10 = 100 \text{ m}$$

3.


$$v = \frac{S}{t} = \frac{280}{4} = 70 \text{ km/h}$$

السؤال السابع :

1. الوديان
2. الجبال

السؤال الأول: ضع دائرة حول رمز الإجابة الصحيحة:

1- النسبة المئوية التي يمثلها الشكل الآتي:



(a) 82%

(b) 83%

(c) 84%

(d) 85%

2- عدد طلبة رياض الأطفال في إحدى المدارس 100 طالب، 55 منهم إناث. ما النسبة المئوية

للطلاب الإناث؟

(a) 55%

(b) 56%

(c) 45%

(d) 40%

3- $9.632 - 5.365 = \dots\dots\dots$

(a) 4.267

(b) 5.267

(c) 4.269

(d) 4.268

$= 12.3 + 11.2 - 4$

(a) 23.5

(b) 24.5

(c) 25.5

(d) 26.5

5- رمز الإشارة الصحيح عند مقارنة العددين 9.1.....9.2 هو:

(a) <

(b) >

(c) \geq

(d) =

6- الرقم الذي يجب وضعه في الفراغ الآتي لتصبح العبارة الرياضية صحيحة هو:

$$9.03 = 29.03$$

- (a) 0
- (b) 1
- (c) 2
- (d) 3

7- الصيغة التحليلية للكسر العشري 0.353 هي:

- (a) $0.003+0.05+0.3$
- (b) $0.003+0.005+0.3$
- (c) $0.3+0.5+0.3$
- (d) $0.003+0.05+3$

8- قيمة المقدار الجبري $x-3$ عندما $x=5$

- (a) 2
- (b) 3
- (c) 4
- (d) 5

9- تكون قيمة x عند حل المعادلة الآتية $4x=16$ هي:

- (a) 5
- (b) 4
- (c) 3
- (d) 2

10- يكون المجتمع في العينة الآتية "أخذ الباحث 5 أرناب من المزرعة ليفحصها" هو:

- (a) المزرعة
- (b) الأرناب
- (c) الباحث
- (d) لا شيء مما ذكر صحيح

29 ton = Kg-11

29000 (a)

2900 (b)

290 (c)

29 (d)

12- سُحِبَت بطاقة عشوائيًا من صندوق يحتوي 8 بطاقات مرقمة كما في الشكل المجاور .

4	5	1	3
2	4	3	4

فإن العدد الذي له فرصة ظهور أكثر هو:

4 (a)

5 (b)

3 (c)

1 (d)

7800 mL = L -13

7.9 (a)

7.8 (b)

7.5 (c)

7.7 (d)

14- المجسم الناتج من طي الشبكة الآتية هي:

(a) هرم ثلاثي

(b) هرم سداسي

(c) هرم خماسي

(d) هرم سباعي



السؤال الثاني: أعين صورة الشكل A بعد تأثير:

1-انسحاب 4 وحدات إلى اليمين

2- انسحاب 6 وحدات إلى الأسفل

السؤال الثالث: أكتب المعادلة الممثلة في النموذج ثم أحلها:


K	20
80	

السؤال الرابع: زرع عبدالله عدداً من الشتلات في 7 صفوف ووضع في كل صف 13 شتلة. كم شتلة زرع ؟

الإجابة النموذجية

السؤال الأول:

14	13	12	11	10	9	8	7	6	5	4	3	2	1
c	b	a	a	a	b	a	a	a	b	a	a	a	a



السؤال الثاني: أعيّن صورة الشكل A بعد تأثير:

1- انسحاب 4 وحدات إلى اليمين



2- انسحاب 6 وحدات إلى الأسفل



السؤال الثالث: أكتب المعادلة الممثلة في النموذج ثم أحلها:

$$k + 20 = 80$$

$$k = 60$$

السؤال الرابع: زرع عبدالله عدداً من الشتلات في 7 صفوف ووضع في كل صف 13 شتلة، كم شتلة زرع ؟

13	13	13	13	13	13	13
x						

$$x = 13 \times 7 = 91$$





الإمتحان النهائي التربية الإسلامية مُعلم جولد

امتحان التربية الإسلامية للصف الخامس

*ملاحظة : عزيزتي الطالبة أجبي عن جميع الأسئلة الواردة وعددها (3) عدد الصفحات (2) على نفس الصفحة
السؤال الأول : من خلال دراستك لسورة النبأ أجبي عما يلي : (10 علامات)
1 اكلمي الآيات الكريمة من قوله تعالى : " إِنَّ لِلْمُتَّقِينَ مَفَازًا (31) (32) وَكَوَاعِبَ أَتْرَابًا (33) وَكَأْسًا
دِهَاقًا (34) (35) (36) رَبِّ السَّمَوَاتِ وَالْأَرْضِ
وَمَا بَيْنَهُمَا الرَّحْمَنُ لَا يَمْلِكُونَ مِنْهُ خِطَابًا (37) (38)
ذَلِكَ الْيَوْمَ الْحَقُّ فَمَنْ شَاءَ اتَّخَذْ إِلَىٰ رَبِّهِ مَا بَا (39) وَيَقُولُ الْكَافِرُ يَا لَيْتَنِي
كُنْتُ تُرَابًا (40) .

2 بيني معاني المفردات والتراكيب التالية :

أ) النبأ العظيم ب) يوم يقوم الروح

3 اذكر أمرين أعهما الله تعالى لأهل الجنة ؟

1 2

4 من أحداث يوم القيامة كما وردت في سورة النبأ

السؤال الثاني : املأ الفراغ فيما يلي : (12 علامة)

1- صدقة الفطر هي

..... حكمها

2- من آداب صلاة العيد

3- عن قال : قال رسول الله صل الله عليه وسلم: من حسن إسلام المرء

4- عدد مرات الاستئذان المستحبة عند الزيارة

5- والددة الإمام الشافعي تميزت بـ

6- وصف سيدنا رسول الله صل الله عليه وسلم من لم يصل عليه بـ



Visit Our Website:
GOLD-JO

Call Us :
078 288 2000



Visit Us :
goldacademy.jo





الإمتحان النهائي التربية الإسلامية مُعلم جولد

7- سمي العام الذي توفي فيه أبو طالب والسيدة خديجة رضي الله عنها بر.....

8- للزيارة آداب منها

السؤال الثالث : ضع إشارة (/) امام العبارة الصحيحة ، وإشارة (×) أمام العبارة الخاطئة فيما يلي : (6 علامات)

- 1- تستحب الصلاة على النبي صل الله عليه وسلم في الأوقات جميعها . ()
- 2- استشهد سيدنا عمر بن الخطاب رضي الله عنه على يد أبي جهل . ()
- 3- ذكرت قصة أصحاب الجنة في القرآن الكريم مثلاً لكفار قريش . ()
- 4- تؤدي صدقة الفطر في شهر شوال . ()
- 5- يحتفل المسلمون بعيد الأضحى فرحاً بأداء الحجاج فريضة الحج . ()
- 6- يدل قوله تعالى : " ولا تجسسوا " على عدم جواز التنصت على أحاديث الناس الخاصة . ()



Visit Our Website:
GOLD-JO

Call Us :
078 288 2000



Visit Us :
goldacademy.jo





الإمتحان النهائي التربية الإسلامية مُعلم جولد

امتحان التربية الإسلامية للصف الخامس

*ملاحظة: اجب عن جميع الأسئلة الآتية وعددها(3)، وعدد الصفحات(2)، والإجابة على نفس الورقة.

السؤال الأول: (14 علامة)

(أ) اختر من الصندوق الآتي ما يناسب الفراغ فيما يأتي (8 علامات)

الصدقة الجارية/يوم عرفة/الدعاء/زكاة الفطر/الإقلاّب/التنوين/عيد الأضحى/عيد الفطر

- 1- (التوجه إلى الله تعالى بأن نطلب إليه كل ما نحتاجه من أمور الدنيا)
- 2- (أحد أحكام النون الساكنة والتنوين وله حرف واحد هو الباء)
- 3- (مقدار محدد من الطعام كالقمح أو التمر أو الأرز أو قيمته من النقود نعطيهِ للفقراء والمساكين في شهر رمضان تقرباً لله تعالى)
- 4- (يأتي في اليوم العاشر من شهر ذي الحجة بعد وقوف الحجاج على جبل عرفة)

(ب) أكمل كتابة النصوص الشرعية الآتية في الفراغ (6علامات)

أولاً "رَبِّ السَّمَوَاتِ وَالْأَرْضِ وَمَا بَيْنَهُمَا الرَّحْمَنُ لَا يَمْلِكُونَ مِنْهُ خِطَابًا (37)

----- (38)

ذَلِكَ الْيَوْمَ الْحَقُّ فَمَنْ شَاءَ اتَّخَذْ إِلَىٰ رَبِّهِ مَآبًا (39)

----- (40)



Visit Our Website:
GOLD-JO

Call Us :
078 288 2000



Visit Us :
goldacademy.jo





الإمتحان النهائي التربية الإسلامية مُعَلِّم جولد

ثانياً عن أبي هريرة رضي الله عنه قال: قال رسول الله صلى الله عليه وسلم: " من حسن إسلام المرء

السؤال الثاني: (10 علامات)

أ) اذكر أربعة من آداب الزيارة في الإسلام (4 علامات)

1-.....2-.....

3-.....4-.....

ب) ضع دائرة حول حروف الأخطاء (6 علامات)

((د ب ج و خ ص ك ل ر ن ذ ث ش))

السؤال الثالث: (16 علامة)

أ) ضع إشارة (✓) عند العبارة الصحيحة وإشارة (x) عند الخاطئة (12 علامة)

1- سمي العام الذي توفي فيه أبو طالب والسيدة خديجة رضي الله عنها بعام الألم ()

2- أقسم أصحاب الجنة على أن يستمروا على طريقة أبيهم في الصدقة ()

3- حكم صلاة العيد واجب ()

4- عدد مرات الاستئذان المستحبة عند الزيارة هي 5 مرات ()

5- فاطمة الأزديّة هم أم الإمام الشافعي رحمه الله ()

6- تستحب الصلاة على النبي صلى الله عليه وسلم في جميع الاوقات ()

ب) بين معاني الكلمات الآتية من سورة النبأ (4 علامات)

دهاقا	سباتا	
الروح	المعصرات	



Visit Our Website:
GOLD-JO

Call Us :
078 288 2000



Visit Us :
goldacademy.jo





الإمتحان النهائي التربية الإسلامية

مُعَلِّم جولد

امتحان الصف الخامس التربية الإسلامية

*ملاحظة : عزيزتي الطالبة أجبي عن جميع الأسئلة الواردة وعددها (3) عدد الصفحات (2) على نفس الصفحة
السؤال الأول : من خلال دراستك لسورة النبأ أجبي عما يلي : (10 علامات)
1 اكلمي الآيات الكريمة من قوله تعالى : " إِنَّ لِلْمُتَّقِينَ مَفَازًا (31) (32) وَكَوَاعِبَ أَتْرَابًا (33) وَكَأْسًا
دِهَاقًا (34) (35) (36) رَبِّ السَّمَوَاتِ وَالْأَرْضِ
وَمَا بَيْنَهُمَا الرَّحْمَنُ لَا يَمْلِكُونَ مِنْهُ خِطَابًا (37) (38)
ذَلِكَ الْيَوْمَ الْحَقُّ فَمَنْ شَاءَ اتَّخَذْ إِلَىٰ رَبِّهِ مَا بَا (39) وَيَقُولُ الْكَافِرُ يَا لَيْتَنِي
كُنْتُ تُرَابًا (40) .

2 بني معالي المفردات والتراكيب التالية :

أ) النبأ العظيم ب) يوم يقوم الروح

3 اذكر أمرين أعدهما الله تعالى لأهل الجنة ؟

1 2

4 من أحداث يوم القيامة كما وردت في سورة النبأ

السؤال الثاني : املأ الفراغ فيما يلي : (12 علامة)

1- صدقة الفطر هي

..... حكمها

2- من آداب صلاة العيد

3- عن قال : قال رسول الله صل الله عليه وسلم: من حسن إسلام المرء

4- عدد مرات الاستئذان المستحبة عند الزيارة

5- والددة الإمام الشافعي تميزت بـ و

6- وصف سيدنا رسول الله صل الله عليه وسلم من لم يصل عليه بـ



Visit Our Website:
GOLD-JO



Call Us :
078 288 2000



Visit Us :
goldacademy.jo





الإمتحان النهائي التربية الإسلامية مُعلم جولد

7- سمي العام الذي توفي فيه أبو طالب والسيدة خديجة رضي الله عنها بر.....

8- للزيارة آداب منها.....

السؤال الثالث : ضع إشارة (/) امام العبارة الصحيحة ، وإشارة (×) أمام العبارة الخاطئة فيما يلي : (6 علامات)

- 1- تستحب الصلاة على النبي صل الله عليه وسلم في الأوقات جميعها . ()
- 2- استشهد سيدنا عمر بن الخطاب رضي الله عنه على يد أبي جهل . ()
- 3- ذكرت قصة أصحاب الجنة في القرآن الكريم مثلاً لكفار قريش . ()
- 4- تؤدى صدقة الفطر في شهر شوال . ()
- 5- يحتفل المسلمون بعيد الأضحى فرحاً بأداء الحجاج فريضة الحج . ()
- 6- يدل قوله تعالى : " ولا تجسسوا " على عدم جواز التنصت على أحاديث الناس الخاصة . ()



Visit Our Website:
GOLD-JO



Call Us :
078 288 2000



Visit Us :
goldacademy.jo



الإجابات

السؤال الأول : أكمل الفراغ في ما يلي بالكلمة المناسبة:-

1. سورة النبا هي سورة مكية عدد آياتها 40
2. كرم الله تعالى الإنسان في جسمه وعقله
3. وظيفة الكليتين هي تنقية الدم من الفضلات
4. سم والد إبراهيم عليه السلام هو،آزر
5. خاطب سيدنا إبراهيم عليه السلام والده بالطف واللين
6. تزوج سيدنا إبراهيم بالسيدة. سارة والسيدة.هاجر
7. من آداب الدعاء الطهارة
8. لُقّب الحسين بن علي بن أبي طالب من الرسول ﷺ ب سيد شباب أهل الجنة
9. رعى الرسول صلى الله عليه وسلم بعد وفاة جدّه. عمه أبو طالب
10. لُقّب عمر بن الخطاب ب. الفاروق
11. من أسماء الجنة. دار السلام
12. تُقدّر صدقة الفطر بنحو 2.5 غم
13. عدد ركعات صلاة العيد ركعتان
14. يكون إلقاء التحية بقول السلام عليكم ورحمة الله وبركاته
15. انتقلت السيدة فاطمة الأزدية بابنها الإمام الشافعي من غزة إلى مكة المكرمة

السؤال الثاني:- ضع إشارة صح أمام العبارة الصحيحة وإشارة خطأ أمام العبارة الخاطئة في ما يلي:-

1. (✓) يُحيي الله الأرض بعد موتها بالمطر.
2. (✗) الإنسان العاقل غير محاسب على تصرفاته
3. (✓) كان يعبد قوم سيدنا إبراهيم عليه السلام الكواكب والأصنام.

4. (✓) ندعو الله في جميع الأحوال والأوقات
5. (✗) مصير الكافرين يوم القيامة هو أن يكونوا تراباً
6. (✓) الصلاة على النبي صلى الله عليه وسلم سبب لمغفرة الذنوب
7. (✗) عمر بن الخطاب هو رابع الخلفاء الراشدين
8. (✓) وصف الله تعالى أهل الجنة بأنهم لا يسمعون كلاماً باطلاً أو كلاماً لا فائدة منه.
9. (✗) عاقب الله تعالى أصحاب الجنة بإرسال الجراد على بستانهم.

السؤال الثالث: التلاوة والتجويد

1. عدد أحكام النون الساكنة والتنوين.

الإدغام/الإظهار/الإخفاء/الإقلاب

2. ما الحكم في كل مما يل:-

- | | |
|--------------------|------------|
| أ. (مرفوعة مظهرية) | إدغام بغنة |
| ب. (كram بررة) | إقلاب |
| ج. (من جاءك) | إخفاء |
| د. (قمن شاء) | إخفاء |

بِسْمِ اللَّهِ الرَّحْمَنِ الرَّحِيمِ



KID HUBARAK

السؤال الأول : أكمل الفراغ في ما يلي بالكلمة المناسبة:-

1. سورة النبأ هي سورة.....عدد آياتها.....
2. كرم الله تعالى الإنسان فيو.....
3. وظيفة الكليتين هي تنقية.....
4. سم والد إبراهيم عليه السلام هو.....
5. خاطب سيدنا إبراهيم عليه السلام والده.....
6. تزوج سيدنا إبراهيم بالسيدة.....والسيدة.....
7. من آداب الدعاء.....
8. لُقّب الحسين بن علي بن أبي طالب من الرسول صلى الله عليه وسلم ب.....
9. رعى الرسول صلى الله عليه وسلم بعد وفاة جدّه.....
10. لُقّب عمر بن الخطاب ب.....
11. من أسماء الجنة.....
12. تُقدّر صدقة الفطر بنحو.....غم.....
13. عدد ركعات صلاة العيد.....
14. يكون إلقاء التحية بقول.....
15. انتقلت السيدة فاطمة الأزدية بابنها الإمام الشافعي منإلى.....

السؤال الثاني:- ضع إشارة صح أمام العبارة الصحيحة وإشارة خطأ أمام العبارة الخاطئة في ما يلي:-

1. () يحيي الله الأرض بعد موتها بالمطر.
2. () الإنسان العاقل غير محاسب على تصرفاته
3. () كان يعبد قوم سيدنا إبراهيم عليه السلام الكواكب والأصنام.
4. () ندعو الله في جميع الأحوال والأوقات
5. () مصير الكافرين يوم القيامة هو أن يكونوا تراباً

السؤال 1 مع دائرة حول رمز الاجابة الصحيحة في كل مما يلي

1 ناع الحليب التالي $100 : 0.3$ هو

- (a) 3 (b) 0.30 (c) 0.003 (d) 0.03

2 العدد المناسب لتصبح العبارة صحيحة $23.5 \times \square = 2350$

- (a) 10 (b) 100 (c) 1000 (d) غير ذلك

3 طلب الصف الخامس في إحدى المدارس 50 طالب وطالبة كان منهم 30 طالب

طالب فان النسبة المئوية لعدد الطالبات هي

- (a) 20% (b) 40% (c) 50% (d) 60%

4 تقريب العدد (31.624) لأقرب عدد كافي

- (a) 30 (b) 32 (c) 31 (d) 31.6

5 عدد الزوايا الكادحة في المثلث القائم الزاوية

- (a) 1 (b) 2 (c) 3 (d) 0

6 القيمة العددية للمقدار الجبري $(3x + 2)$ عندما $x = 2$

- (a) 12 (b) 8 (c) 5 (d) 7

7 حل المعادلة $(3m = 12)$ هو

- (a) 15 (b) 4 (c) 9 (d) 36




8 المقدار الجبري الذي يعبر عن مساحة مستطيل طوله $4m$ وعرضه w هو

- (a) $4+w$ (b) $w-4$ (c) $4w$ (d) $w-8$



9 يهذف اكلت المعاد حسب قياسات زوايا

- (a) متفرع الزاوية (b) متساوي الاضلاع (c) عادي الزاوية (d) قائم الزاوية



10 صورة الشكل المعاد تحت تأثير السحب مقدارة وحدتين الى اليمين ووحدة الى الاعلى

- (a) (b) (c) (d)

11 كتبه من السكر كتلتها $65g$ ، $3kg$ فان كتلتها بالكيلوغرام

- (a) 3.065 (b) 3.65 (c) 365 (d) 3065

*** استعمل البيانات التالي للاجابة عن الاسئلة التالية 5, 10, 10, 7, 2, 6

12 الوسط اكناني للبيانات التالية

- (a) 7 (b) 49 (c) 10 (d) 5

13 الوسط اكناني للبيانات السابقة

- (a) 7 (b) 10 (c) 9 (d) 6

14 اكناني للبيانات السابقة

- (a) 10 (b) 7 (c) 9 (d) 5

15 اكناني للبيانات السابقة

- (a) 8 (b) 7 (c) 10 (d) 9



السؤال 2

٥. نرجع نشاط صفحي قاس المعلم كتب بعض الطلبة فكانت

كمالي الجدول المباعد

الطالب	الكتب
عماد	50.03
النس	54.1
علي	52.623

1 ما مجموع كتب كل من عماد وعلي

2 ما الفرق بين كتب النس وعماد

3 من هو الأكبر كتب

٦. اكتب قيمة كل مقدار جبري عند القيمة المعطاة

1 $3 + m$, $m = 12$

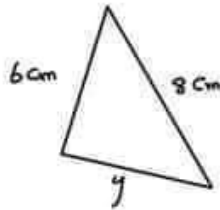
2 $y + 2m$, $y = 1$, $m = 4$

3 $3n + 1$, $n = 2$

4 $x \div 4$, $x = 20$

٧. اذا كان محيط المثلث المباعد 20 cm اكتب

معادله لايجاد طول القم المفقود ثم املها



السؤال 3

4 $\frac{4}{25}$

4 0.24×1000

3 0.6



السؤال 4

٥) قرر علي شراء دراجة هوائية بسعر 8٥ دينار.
وكان يملك 34 دينار. اكتب معادل لايجاد المبلغ
المقتضي حتى يستطيع شراء هذه الدراجة

٦) ضع العدد المناسب في الفراغ

1 $3 \text{ ton} , 300 \text{ kg} = \dots\dots\dots \text{kg}$

2 $1.3 \text{ kg} = \dots\dots\dots \text{g}$

3 $4300 \text{ kg} = \dots\dots\dots \text{ton}$

4 $8 \text{ km} , 350 \text{ m} = \dots\dots\dots \text{km}$

٧) احسب طول الفترة الزمنية في كل ما يلي

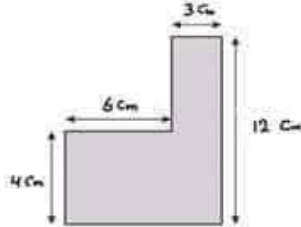
1 من 3:24 a.m. الى 6:44 a.m.

2 من 2:20 a.m. الى 7:35 a.m.



السؤال 5

٥) اوجد محيط ومسام الشكل التالي



٦) اهل المعادلات التالية ثم اتحقق من كل اكل

1 $y - 9.32 = 8.12$

2 $m + \frac{1}{4} = \frac{3}{4}$


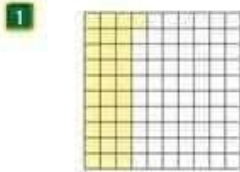
3 $3m = 12$

4 $4m = 100$

5 $m \div 3 = 9$

6 $100y = 234$

٧) اوجد النسبة المئوية التي يمثلها الجزء المظلل في كل من الشكل



التالي



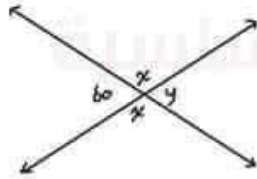
السؤال 6 ا) لدى محمد 20 قلماً اعطاه اخاه عماد عدد من الاقلام
عبر عن عدد الاقلام المتبقية بعبارة جبرية

ب) اقول كنت عابك اى توقيت 24 ساعة

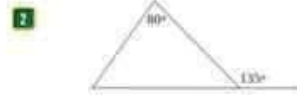
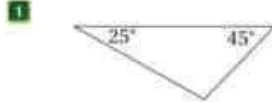
11:40 p.m. 1

3:15 a.m. 2

ج) قيس الزاوية المحصورة فيما يلي



السؤال 7 ① بعد قياس الزاوية المحصورة في كل مثلث مما يلي تم حنفت حسب قياسات زواياها

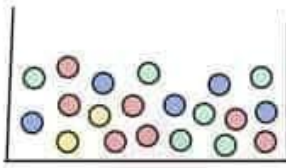


② حنفت الاشكال التالي

الشكل	اسم الشكل



السؤال 8 هذه كرة تحتوي على 20 كرة ملونة كما هو ظاهر في الشكل المجاور



- 1 عدد الكرات الحمراء
- 2 عدد الكرات الخضراء
- 3 عدد الكرات الزرقاء
- 4 عدد الكرات الصفراء

إذا سحبت كرة من الصندوق رتب اللون الكرات حسب فرص الحدوث من الأكثر إلى الأقل

انتهت الاسئلة

مع أمنياتي لكم بالتفوق والنجاح
محبكم الأستاذ هاني العليمات



السؤال 1 مع دائرة حول رمز الاجابة الصحيحة في كل مما يلي

1 ناع الحليب التالي $100 = 0.3$ هو

- (a) 3 (b) 0.30 (c) 0.003 (d) 0.03

2 العدد المناسب لتصبح العبارة صحيحة $23.5 \times \square = 2350$

- (a) 10 (b) 100 (c) 1000 (d) غير ذلك

3 طلب الصف الخامس في إحدى المدارس 50 طالب وطالبة كان منهم 30 طالب

طالب فان النسبة المئوية لعدد الطالبات هي

- (a) 20% (b) 40% (c) 50% (d) 60%

4 تقريب العدد (31.624) لأقرب عدد كافي

- (a) 30 (b) 32 (c) 31 (d) 31.6

5 عدد الزوايا الكادحة في المثلث القائم الزاوية

- (a) 1 (b) 2 (c) 3 (d) 0

6 القيمة العددية للمقدار الجبري $(3x + 2)$ عندما $x = 2$

- (a) 12 (b) 8 (c) 5 (d) 7

7 حل المعادلة $(3m = 12)$ هو

- (a) 15 (b) 4 (c) 9 (d) 36



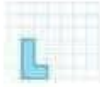
8 المقدار الجبري الذي يعبر عن مساحة مستطيل طوله 4m وعرضه W هو

- (a) $4 + w$ (b) $w - 4$ (c) $4w$ (d) $w - 8$



9 يهدف اكلتلت المعادير حسب قياسات زوايا

- (a) متفرع الزاوية (b) متساوي الاضلاع (c) عداد الزاوية (d) قائم الزاوية



10 صورة الشكل المعادير تحت تأثير السحب مقدارة وحدتين الى اليمين ووحدة الى الاعلى

- (a) (b) (c) (d)

11 كمية من السكر كتلتها 65g ، 3kg فان كتلتها بالكيلوغرام

- (a) 3.065 (b) 3.65 (c) 365 (d) 3065

*** استعمل البيانات التالية للاجابة عن الاسئلة التالية 5, 10, 10, 7, 9, 2, 6

12 الوسط اكناني للبيانات التالية

- (a) 7 (b) 49 (c) 10 (d) 5

13 الوسط اكناني للبيانات السابقة

- (a) 7 (b) 10 (c) 9 (d) 6

14 اكنوال للبيانات السابقة

- (a) 10 (b) 7 (c) 9 (d) 5

15 اكناني للبيانات السابقة

- (a) 8 (b) 7 (c) 10 (d) 9



السؤال 2

٥) نرجع نشاط صفحي قاس المعلم كتب بعض الطلبة فكانت

كماتج الجدول المباعد

الطالب	الكتب
عماد	50.03
النس	54.1
علي	52.623

1 ما مجموع كتب كل من عماد وعلي 104.13

2 ما الفرق بين كتب النس وعماد 4.07

3 من هو الأكبر كتب النس

٦) اكتب قيمة كل مقدار جبري عند القيمة المعطاة

1 $3 + m$, $m = 12$
 $= 3 + 12 = 15$

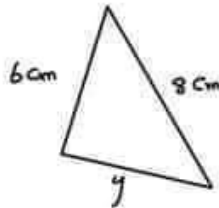
2 $y + 2m$, $y = 1$, $m = 4$
 $1 + 2(4) = 9$

3 $3n + 1$, $n = 2$
 $3(2) + 1 = 7$

4 $x \div 4$, $x = 20$
 $20 \div 4 = 5$

٧) اذا كان محيط المثلث المباعد 20 cm اكتب

معادله لايجاد طول القم المفقود ثم املها



$$\begin{aligned} y + 8 + 6 &= 20 \\ y + 14 &= 20 \\ y &= 20 - 14 = 6 \end{aligned}$$



السؤال 3 ١٠ اكتب الصورة العشرية لكل كسر اد عدد كسري فيما يلي

1 $\frac{2943}{1000} = 2.943$

2 $\frac{305}{1000} = 0.305$

3 $2 \frac{1}{8} \times \frac{125}{125} = 2 \frac{125}{1000} = 2.125$

4 $\frac{4}{25} \times \frac{4}{4} = \frac{16}{100} = 0.16$

١١ اكتب قيمة كل مما يلي

1 $4.396 - 2.287 = 2.109$

2 $321.3 \div 100 = 3.213$

3 $2 \div 1000 = 0.002$

4 $0.24 \times 1000 = 240$

١٢ اكتب كسر من الاعداد العشرية على صورة كسر اد عدد كسري باسطة صورة

1 $0.21 = \frac{21}{100}$

2 $3.012 = 3 \frac{12}{1000} = 3 \frac{6}{500} = 3 \frac{3}{250}$

3 $0.6 = \frac{6}{10} = \frac{3}{5}$



السؤال 4

٥) قرر علي شراء دراجة هوائية بسعر 80 دينار.
دكان يملك 34 دينار. اكتب معادلة لإيجاد المبلغ
المقتني حتى يستطيع شراء هذه الدراجة

$$y + 34 = 80$$

$$y = 80 - 34$$

$$y = 46$$

٥) ضع العدد المناسب في الفراغ

1 $3 \text{ ton}, 300 \text{ kg} = 3300 \dots \text{ kg}$

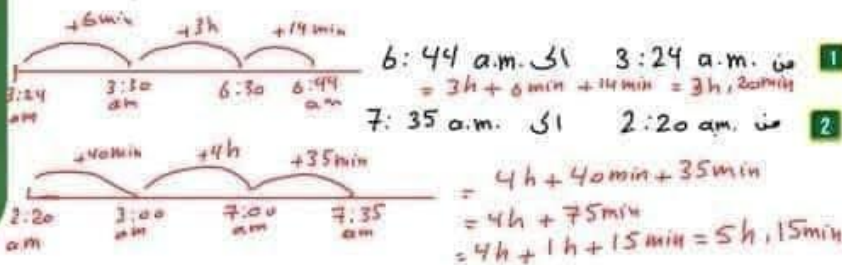
2 $1.3 \text{ kg} = \dots \text{ g}$

3 $4300 \text{ kg} = \dots \text{ ton}$

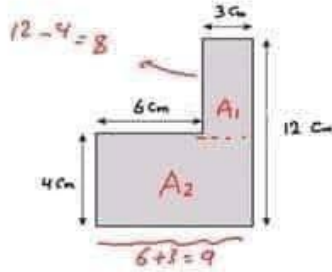
4 $8 \text{ km}, 350 \text{ m} = \dots \text{ km}$

للصفوف الأساسية

٥) احسب طول الفترة الزمنية في كل ما يلي



السؤال 5



① محيط ومسام الشكل التالي

$$\text{محيط} = 3 + 12 + 9 + 4 + 6 + 8$$

$$= 42 \text{ cm}$$

$$\text{مساحة} = A_1 + A_2$$

$$= 8 \times 3 + 9 \times 4$$

$$= 24 + 36 = 60 \text{ cm}^2$$

② احل المعادلات التالية ثم اتحقق من كل اكل

1 $y - 9.32 = 8.12$

$$y = 8.12 + 9.32$$

$$= 17.44$$

2 $m + \frac{1}{4} = \frac{3}{4}$

$$m = \frac{3}{4} - \frac{1}{4} = \frac{2}{4} = \frac{1}{2}$$

3 $3m = 12$

$$m = 12 \div 3$$

$$= 4$$

4 $4m = 100$

$$m = 100 \div 4$$

$$= 25$$

5 $m \div 3 = 9$

$$m = 9 \times 3$$

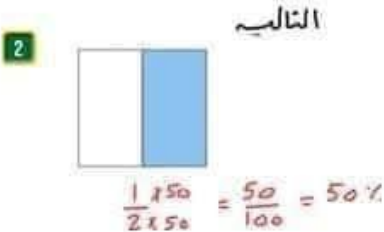

$$= 27$$

6 $100y = 234$

$$y = 234 \div 100$$

$$= 2.34$$

③ حدد النسبة المئوية التي يمثلها الجزء المظلل في كل من الشكل



السؤال 6 ١٠ لدى محمد 2٥ قلماً أعطاه أخاه معاذ عدد من الأقلام

عبر عن عدد الأقلام المتبقية بـ y جبري

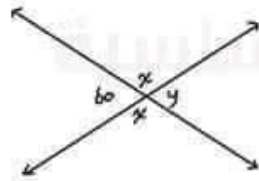
$$20 - y$$

١١ ١٢ ١٣ ١٤ ١٥ ١٦ ١٧ ١٨ ١٩ ٢٠ ٢١ ٢٢ ٢٣ ٢٤ ساعة

$$11:40 + 12 = 23:40 \quad 11:40 \text{ p.m.} \quad 1$$

$$3:15 \quad 3:15 \text{ a.m.} \quad 2$$

٣٠ ٣١ ٣٢ ٣٣ ٣٤ ٣٥ ٣٦ ٣٧ ٣٨ ٣٩ ٤٠ ٤١ ٤٢ ٤٣ ٤٤ ٤٥ ٤٦ ٤٧ ٤٨ ٤٩ ٥٠ ٥١ ٥٢ ٥٣ ٥٤ ٥٥ ٥٦ ٥٧ ٥٨ ٥٩ ٦٠ ٦١ ٦٢ ٦٣ ٦٤ ٦٥ ٦٦ ٦٧ ٦٨ ٦٩ ٧٠ ٧١ ٧٢ ٧٣ ٧٤ ٧٥ ٧٦ ٧٧ ٧٨ ٧٩ ٨٠ ٨١ ٨٢ ٨٣ ٨٤ ٨٥ ٨٦ ٨٧ ٨٨ ٨٩ ٩٠ ٩١ ٩٢ ٩٣ ٩٤ ٩٥ ٩٦ ٩٧ ٩٨ ٩٩ ١٠٠

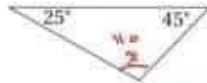


$$\begin{aligned} x + 60 &= 180 \\ x &= 180 - 60 \\ x &= 120 \\ x + y &= 180 \\ 120 + y &= 180 \\ y &= 180 - 120 \\ y &= 60 \end{aligned}$$



السؤال 7 ① لجد قياس الزاوية المحصورة في كل مثلث مما يلي ثم هفنه حسب قياسات زوايا <

1



$$\begin{aligned}x + 25 + 45 &= 180 \\x + 70 &= 180 \\x &= 180 - 70 \\x &= 110\end{aligned}$$

هفنت مفرج الزاوية

2



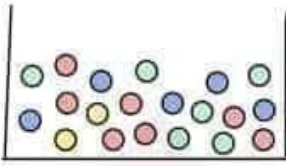
$$\begin{aligned}x + 135 &= 180 \\x &= 180 - 135 \\x &= 45 \\y + x + 80 &= 180 \\y + 45 + 80 &= 180 \\y + 125 &= 180 \\y &= 180 - 125 = 55\end{aligned}$$

② هفنه الاشكال التالي

الشكل	اسم الشكل
	مستطيل
	شكـل - با عـي
	متوازي الاضلاع
	معيـن



السؤال 8 صندوق يحتوي على 20 كرة ملونة كما هو ظاهر في الشكل المجاور



- 1 عدد الكرات الزرقاء ... 7
- 2 عدد الكرات الخضراء ... 6
- 3 عدد الكرات الصفراء ... 5
- 4 عدد الكرات الحمراء ... 2

إذا سحبت كرة من الصندوق رتب اللون الكرات حسب فرص الحدوث من الأكثر إلى الأقل

مصفاء / زرقاء / صفراء / حمراء
→

انتهت الاسئلة

مع أمنياتي لكم بالتفوق والنجاح
محكم الاستاذ هاني العليمات



السؤال مع دائرة حول رمز الاجابة الصحيحة في كل ما يلي

1 عشق على مسافة 2.67 km كم كيلو متراً عشق على تقريباً

- (a) 2 (b) 2.6 (c) 3 (d) 4

2 عند التحويل الى نظام 24 ساعة فان 5:20 pm تساوي

- (a) 5:20 (b) 17:20 (c) 23:20 (d) غير ذلك

3 الصيغة القياسية للعدد $2 + 0.3 + 0.004$ هي :

- (a) 2.304 (b) 0.234 (c) 2.34 (d) غير ذلك

4 اذا كانت قيمة المقدار الجبري $(x+6)$ تساوي 10 فان قيمة x تساوي

- (a) 4 (b) 10 (c) 16 (d) 6

5 مجموع الزوايا حول نقطة

- (a) 90 (b) 180 (c) 360 (d) 260



6 النسبة المئوية للمربعات المظلمة في الشكل التالي

- (a) 25% (b) 50% (c) 2% (d) 40%

7 القيمة العشرية للرقم 2 في العدد (3.024)

- (a) 3.02 (b) 0.02 (c) 2 (d) $\frac{2}{10}$



8 الصورة العشرية للكسر $\frac{3212}{1000}$

- (a) 32.12 (b) 0.3212 (c) 3.212 (d) 312.2

9 ارتفاع الفرنج الصفي

- (a) 4m (b) 4cm (c) 4km (d) 4mm

10 حل المعادلة $(x - 4 = 4)$ هو

- (a) 0 (b) 8 (c) 16 (d) 1

11 تقريب العدد (5.995) الى اقرب منزلة من عشرة

- (a) 6 (b) 5.910 (c) 5.10 (d) 5.99

12 ناتج العملية (0.03×1000)

- (a) 0.003 (b) 30 (c) 0.03 (d) 3

13 اوجد الاعداد التالية اكبر من 3.12

- (a) 3.09 (b) 3.055 (c) 3.1 (d) 3.2

14 المقدار الجبري الذي يعبر عن مثلثي m

- (a) $2 + m$ (b) m^2 (c) $2m$ (d) $3m$

15 مثلث قائم الزاوية احدى زواياه قياسها 60° فان قياس الزاوية الاخرى

- (a) 60 (b) 30 (c) 90 (d) 120



السؤال 2

٥ تحتوي حديقة سعيد على 100 شجرة موزعة كما يأتي
42 شجرة زيتون و 14 شجرة تين و 4 شجرات ليمون
و بقية الأشجار تفاح

1 اكتب الكسر العشري الذي يمثل اشجار التين

2 اكتب الكسر العشري الذي يمثل مجموع اشجار التين والزيتون معًا

3 اكتب النسبة المئوية التي تمثل اشجار الليمون

4 اكتب النسبة المئوية التي تمثل اشجار التفاح

٦ ادر ناتج كل مما يلي بالتقريب لأقرب مئة من عشرة

1 $26.54 + 0.86$

2 $8.96 - 3.54$

٧ اكتب كل واحد من الأعداد العشرية على صورة كسر أو عدد كسري بأبسط صورة

1 3.12

2 4.5

3 0.125



السؤال ٥) أجب قيمة كل مما يلي

1 $2.453 + 0.924$

2 $7.125 - 0.462$

3 0.264×100

4 $12 \div 1000$

٦) اكتب الصورة العشرية لكل كسر اد عدد كسري فطالي

1 $3 \frac{1}{4}$

2 $\frac{6425}{1000}$

3 $\frac{3}{20}$

4 $4 \frac{2}{100}$

٧) أجب قيمة كل مقدار جبري مما يلي عندما $x = 16$

1 $2x$

2 $x - 10$

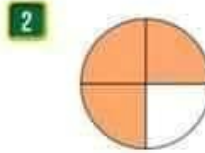
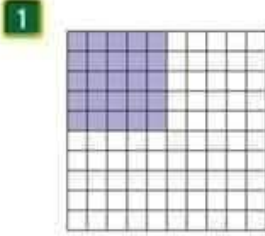
3 $x \div 2$

4 $x + 5$



السؤال 4

حدد النسبة المئوية التي يمثلها الجزء المظلل في كل من الشكل التالي



ب) أكتب المقدار الأكبر الذي يعبر عن كل ما يلي

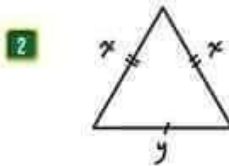
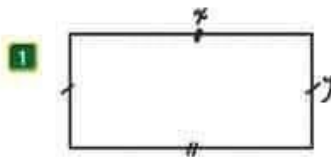
1 مجموع m و 6

2 3 أمثال n

3 ناتج قسمة y على 3

4 أقل من 3% بـ 3

ج) عبّر عن محيط كل شكل ما يلي بمقدار جبري



السؤال

٥. مستطيل طوله 5cm ومساحته 35cm² اكتب صادات لايجاد عرض المستطيل وا ملها

٦. امل المعادلات التالية ثم اتحقق من كل اكل

1 $m + 2 = 19$

2 $n - 3 = 6$

3 $m \div 100 = 3.14$

4 $m + 100 = 320$

5 $12 + m = 21$

6 $x - 2 = 0$

٧. ضع العدد المناسب في الفراغ لتصبح العبارة صحيحة

1 70 mL = L

2 5 L, 12 mL = mL

3 130 S = min, S

4 50 h = day, h



السؤال ٥ احسب طول الفترة الزمنية لكل مما يلي

1 من 8:45 a.m. الى 1:20 p.m.

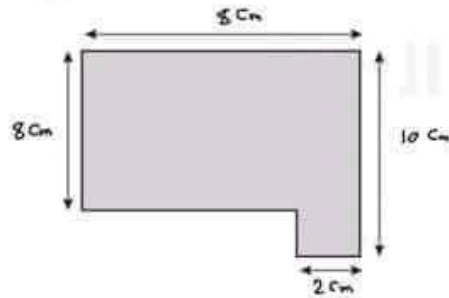
2 من 3:25 p.m. الى 9:20 p.m.

٥ اقول كم ساعة عابك اى توقيت 24 ساعة

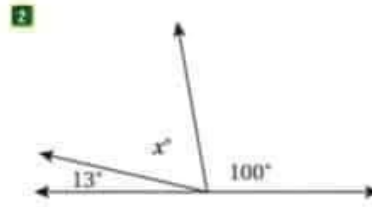
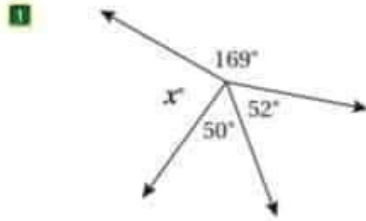
1 10:12 a.m.

2 12:20 p.m.

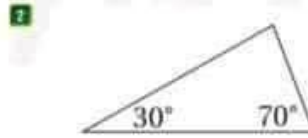
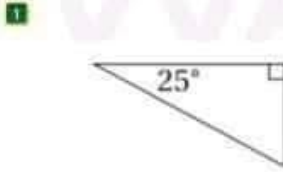
٥ اريد محيط ومساحة الشكل التالي



السؤال ١: حدد قياس الزاوية المحصورة فيما يلي



٢) حدد قياس الزاوية المحصورة في كل مثلث مما يلي
ثم عيّن حسب قياسات زوايا



٣) املأ الجدول المجاور بما هو مناسب

اسم الجسم	عدد الأوجه	عدد الرؤوس	عدد الحواف



السؤال ٥ صنف المثلثات التالية حسب أطوال أضلاعها

نوع المثلث	المثلث

٦ املقم البانات التالية للامجاب عن الاسئلة التالية

24 , 12 , 16 , 20 , 20 , 10 , 14 , 22 , 20 , 26

١ م الامسا الكماي

٢ م الامسا للباناة

٣ م الامسا للباناة

٤ م مام البانات

انتهت الاسئلة

مع أمياتي لكم بالتفوق والنجاح
محبكم الاستاذ هاني العليمات



السؤال مع دائرة حول رمز الاجابة الصحيحة في كل ما يلي

1 عشق على مسافة 2.67 km كم كيلو متراً عشق على تقريباً

- (a) 2 (b) 2.6 (c) 3 (d) 4

2 عند التحويل الى نظام 24 ساعة فان 5:20 pm تساوي

- (a) 5:20 (b) 17:20 (c) 23:20 (d) غير ذلك

3 الصيغة القياسية للعدد $2 + 0.3 + 0.004$ هي :

- (a) 2.304 (b) 0.234 (c) 2.34 (d) غير ذلك

4 اذا كانت قيمة المقدار الجبري $(x+6)$ تساوي 10 فان قيمة x تساوي

- (a) 4 (b) 10 (c) 16 (d) 6

5 مجموع الزوايا حول نقطة

- (a) 90 (b) 180 (c) 360 (d) 260



6 النسبة المئوية للمربعات المظلمة في الشكل التالي

- (a) 25% (b) 50% (c) 2% (d) 40%

7 القيمة العشرية للرقم 2 في العدد (3.024)

- (a) 3.02 (b) 0.02 (c) 2 (d) $\frac{2}{10}$



8 الصورة العشرية للكسر $\frac{3212}{1000}$

(a) 32.12

(b) 0.3212

(c) 3.212

(d) 312.2

9 ارتفاع القرنة الصفية

(a) 4m

(b) 4cm

(c) 4km

(d) 4mm

10 حل المعادلة $(x - 4 = 4)$ هو

(a) 0

(b) 8

(c) 16

(d) 1

11 تقريب العدد (5.995) الى اقرب منزلة من عشر

(a) 6

(b) 5.910

(c) 5.10

(d) 5.99

12 ناتج العملية (0.03×1000)

(a) 0.003

(b) 30

(c) 0.03

(d) 3

13 اوجد الاعداد التالية اكبر من 3.12

(a) 3.09

(b) 3.055

(c) 3.1

(d) 3.2

14 المقدار الجبري الذي يعبر عن مثلثي m

(a) $2 + m$

(b) m^2

(c) $2m$

(d) $3m$

15 مثلث قائم الزاوية احدى زواياه قياسها 60° فان قياس الزاوية الاخرى

(a) 60

(b) 30

(c) 90

(d) 120



السؤال 2

٥ تحتوي حديقة صغير على 100 شجرة موزعة كما يأتي
42 شجرة زيتون و 14 شجرة تين و 4 شجرات ليمون
و بقية الاشجار تفاح

1 اكتب الكسر العشري الذي يمثل اشجار التين $\frac{14}{100} = 0.14$

2 اكتب الكسر العشري الذي يمثل مجموع اشجار التين والزيتون معاً $\frac{56}{100} = 0.56$

3 اكتب النسبة المئوية التي تمثل اشجار الليمون $\frac{4}{100} = 4\%$

4 اكتب النسبة المئوية التي تمثل اشجار التفاح $\frac{40}{100} = 40\%$

٦ ا) قدر ناتج كل مما يلي بالتقريب لاقرب مئة من عشرة

1 $26.54 + 0.86$
 $26.54 \rightarrow 26.5$
 $+ 0.86 \rightarrow +0.9$
 27.4

2 $8.96 - 3.54$
 $8.96 \rightarrow 9.0$
 $3.54 \rightarrow 3.6$
 5.4

٦ ب) اكتب كل واحد من الاعداد العشرية على صورة كسر اءء كبري باسبط صورة

1 3.12

$3 \frac{12}{100} = 3 \frac{6}{50} = 3 \frac{3}{25}$

2 4.5

$4 \frac{5}{10} = 4 \frac{1}{2}$

3 0.125

$\frac{125}{1000} \div \frac{125}{125} = \frac{1}{8}$



السؤال ٥) أجب قيمة كل مما يلي

1 $2.453 + 0.924$
 $= 3.377$

2 $7.125 - 0.462$
 $= 6.663$

3 0.264×100
 $= 26.4$

4 $12 \div 1000$
 $= 0.012$

٦) اكتب الصورة العشرية لكل كسر اد عدد كسري فإ ياي

1 $3 \frac{1}{4} = 3 \frac{25}{100} = 3.25$

2 $\frac{6425}{1000} = 6.425$

3 $\frac{3}{20} = \frac{15}{100} = 0.15$

4 $4 \frac{2}{100} = 4.02$

٧) أجب قيمة كل مقدار جبري مما يلي عندما $x = 16$

1 $2x = 2 \times 16 = 32$

2 $x - 10 = 16 - 10 = 6$

3 $x \div 2 = 16 \div 2 = 8$

4 $x + 5 = 16 + 5 = 21$




السؤال 4

حدد النسبة المئوية التي يمثلها الجزء المظلل في كل من الشكل

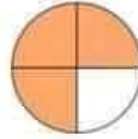
التالي

1



$$\frac{25}{100} = 25\%$$

2



$$\frac{1}{4} \times 25 = \frac{25}{100} = 25\%$$

اكتب المقدار الجبري الذي يعبر عن كل ما يلي

1

مجموع m و 6
 $m + 6$

2

3 أمثال n
 $3n$

3

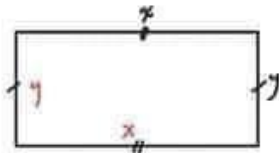
ناتج قسمة y على 3
 $y \div 3$

4

أقل من 3 بـ
 $x - 3$

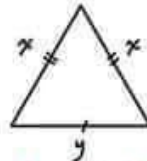
عبر عن محيط كل شكل ما يلي بمقدار جبري

1



$$\text{محيط} = x + x + y + y = 2x + 2y$$

2



$$\text{محيط} = x + x + y = 2x + y$$



السؤال

٥ مستطيل طوله 5cm ومساحته 35cm² اكتب صادات لايجاد

عرض المستطيل وا ملعا
المرف \times الطول = مساحة
 $35 = 5w$
 $5w = 35$
 $\Rightarrow w = 35 \div 5$
 $w = 7$

٦ امل المعادلات التالية ثم اكتب في كل

1 $m + 2 = 19$
 $m = 19 - 2$
 $m = 17$

2 $n - 3 = 6$
 $n = 6 + 3$
 $n = 9$

3 $m \div 100 = 3.14$
 $m = 3.14 \times 100$
 $m = 314$

4 $m + 100 = 320$
 $m = 320 - 100$
 $m = 220$

5 $12 + m = 21$
 $m = 21 - 12$
 $m = 9$

6 $x - 2 = 0$
 $x = 0 + 2$
 $x = 2$

٧ ضع العدد المناسب في الفراغ لتصبح العبارة صحيحة

1 70 mL = 0.070 L

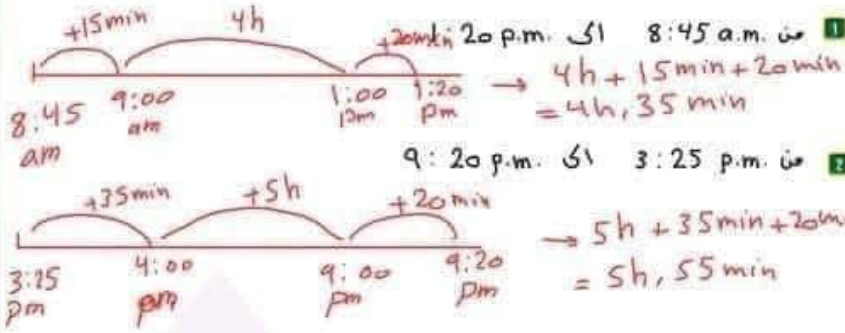
2 5 L, 12 mL = 5012 mL

3 130 s = 2 min, 10 s

4 50 h = 2 day, 2 h



السؤال ٥ احسب طول الفترة الزمنية في كل ما يلي

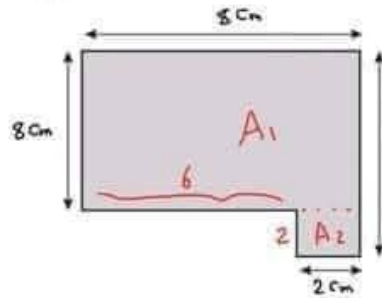


٦ اقول كم ساعة ما يلي في توقيت 24 ساعة

1 10:12 a.m.
 $= 10:12$

2 12:20 p.m.
 $= 00:20$

٧ اريد محيط ومسااحة الشكل التالي

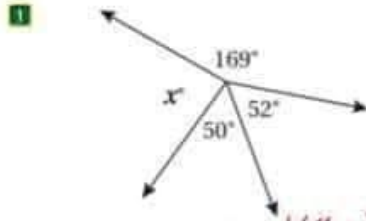


محيط = $8 + 10 + 2 + 2 + 6 + 8$
 $= 36 \text{ cm}$

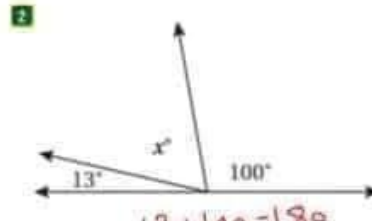
مساحة = $A_1 + A_2$
 $= 8 \times 8 + 2 \times 2$
 $= 64 + 4$
 $= 68 \text{ cm}^2$



السؤال ٥: من قياس الزاوية المحصورة في كل مثلث مما يلي

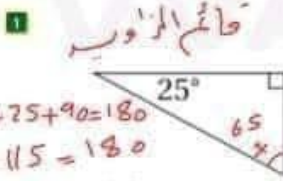


$$\begin{aligned} x + 50 + 52 + 169 &= 360 \\ x + 271 &= 360 \\ x &= 360 - 271 = 89 \end{aligned}$$

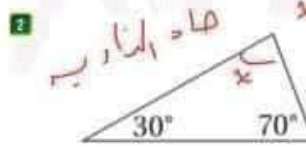


$$\begin{aligned} x + 13 + 100 &= 180 \\ x + 113 &= 180 \\ x &= 180 - 113 = 67 \end{aligned}$$

٦: من قياس الزاوية المحصورة في كل مثلث مما يلي
ثم حنفه حسب قياسات زوايا



$$\begin{aligned} x + 25 + 90 &= 180 \\ x + 115 &= 180 \\ x &= 180 - 115 \\ &= 65 \end{aligned}$$





$$\begin{aligned} x + 70 + 30 &= 180 \\ x + 100 &= 180 \\ x &= 180 - 100 \\ x &= 80 \end{aligned}$$

٧: املئ الجدول المعطى بما هو مناسب

عدد الأضلاع	عدد الرؤوس	عدد الأوجه	اسم الجسم	
10	6	6	هرم قاسي	
16	9	9	هرم قعاني	
9	6	5	مستور معدني	
15	10	7	مستور قاسي	



السؤال ٥ صنف المثلثات التالية حسب أطوال أضلاعها

الطول	نوع
	مطابق الأضلاع
	مختلف الأضلاع
	مطابق إثنين
	مختلف الأضلاع

٦) استخرج البيانات التالية للإجابة عن الأسئلة التالية

24, 12, 16, 20, 20, 10, 14, 22, 20, 26

١) $\text{الوسط الحسابي} = \frac{24+12+16+20+20+10+14+22+20+26}{10}$

$= \frac{184}{10} = 18.4$

٢) الوسط للبيانات

٣) $20 \rightarrow$ الحد المتكرر للبيانات

٤) مدى البيانات

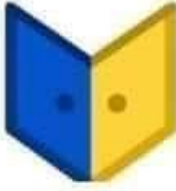
$\text{المدى} = 26 - 10 = 16$

الوسيط
 $\rightarrow 10, 12, 14, 16, 20, 20, 22, 24, 26$
 $\text{الوسيط} = \frac{20+20}{2} = 20$

انتهت الاسئلة

مع أمنياتي لكم بالتفوق والنجاح
محبكم الاستاذ هاني العليمات





اختبار نهائي
القصل الدراسي الثاني
العام الدراسي 2022 / 2023

الصف : الخامس
المادة : الرياضيات

[20 علامة]

السؤال الاول : ضع دائرة حول رمز الإجابة الصحيحة:

1. القيمة المنزلية للرقم 5 في العدد 22.589 هي :

(أ) 5 (ب) 50 (ج) 0.005 (د) 0.5

2. ناتج تقريب 9.845 إلى أقرب جزء من عشرة هو :

(أ) 9.8 (ب) 9.9 (ج) 10.9 (د) 9.855

3. ناتج جمع $6.543 + 4.045$ يساوي :

(أ) 10.667 (ب) 10.588 (ج) 9.588 (د) 10

4. ناتج ضرب 100×0.73 يساوي :

(أ) 0.73 (ب) 7.3 (ج) 73 (د) 730

5. قيمة $(4 \div y)$ عندما $y = 12$ تساوي :

(أ) 16 (ب) 48 (ج) 3 (د) 8

6. حل المعادلة $x + 5 = 9$ هو :

(أ) 4 (ب) 5 (ج) 14 (د) 12

7. المقدار الجبري الذي يعبر عن مجموع x و 25 هو :

(أ) $25x$ (ب) $x + 25$ (ج) $x \div 25$ (د) $x - 25$

8. الأشكال الرباعية التي زواياها قائمة هي :

(أ) المستطيل والمربع (ب) المربع والمعين (ج) متوازي الاضلاع والمربع (د) شبه المنحرف والمعين

9. الشكل الرباعي الذي أطوال اضلاعه متساوية

(أ) المستطيل (ب) المعين (ج) متوازي الاضلاع (د) شبه المنحرف

10. 5 أيام تساوي بالساعات :

(أ) 120 ساعة (ب) 180 ساعة (ج) 200 ساعة (د) 30 ساعة

السؤال الثاني : املئ الفراغ في كل مما يأتي :

[8 علامات]

1) 5 Kg = g

2) 9000 ml = l

3) 6 Km = m

4) 48 h = day

السؤال الثالث : اجب عن الاسئلة الاتية :

[8 علامات]

(1) اجد الوسط الحسابي للأعداد الآتية : 35 , 7 , 42 , 100 , 16

(2) اجد الوسيط للأعداد الآتية : 13 , 20 , 11 , 15 , 30 , 27 , 10

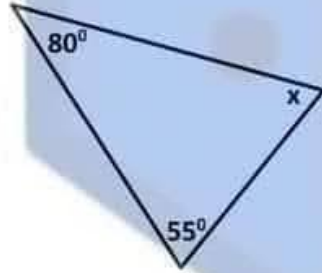
(3) اجد المدى للأعداد الآتية : 19 , 32 , 25 , 20 , 15

(4) ما النواتج الممكنة عندلقاء حجر نرد منتظم مره واحده و تسجيل عند النقاط الظاهرة على الوجه العلوي ؟

السؤال الرابع : اجب عن الاسئلة الاتية :

[4 علامات]

(1) جد قياس الزاوية المجهولة



(2) حل المعادلة $4n = 36$

يرجى إرسال الحلول على ساج

السؤال الأول:

- ضع دائرة حول الإجابة الصحيحة لكل مما يلي من أسئلة:

1. النسبة المئوية التي يمثلها الماء من جسم الإنسان هي:

(80% 70%, 60%)

2. توجد العضلات الملساء في:

(القلب, المعدة, الأمعاء)

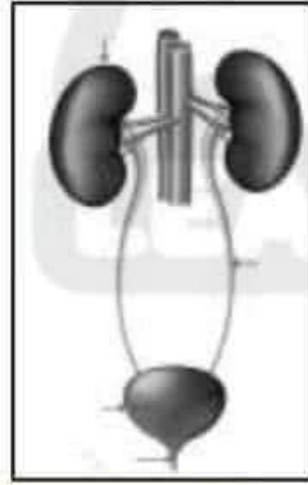
3. وحدة قياس السرعة هي:

(kg/s, m/s, N/s)

4. نسبة المياه التي تغطي سطح الأرض تقريباً هي:

(80% 70% 60%)

- الشكل المجاور يمثل الجهاز البولي للإنسان تأمله ثم



أجيب عما يليه من أسئلة.

1. حدد على الرسم كل من (الحالب القناة البولية, المثانة) ؟

2. ما أسم الجزء الذي يعمل على تنقية الدم من الفضلات ؟

أذكر نوع تحول المادة لكل مما يلي بالاستعانة بالجدول المجاور:

التسامي

التكاثف

التبخر

1. تحول المادة من الحالة الغازية إلى السائلة.

2. تحول المادة من الحالة السائلة إلى الصلبة.

3. تحول المادة من الحالة الصلبة إلى الغازية.

4. تحول المادة من الحالة السائلة إلى الغازية.

5. تحول المادة من الحالة الصلبة إلى الحالة السائلة.

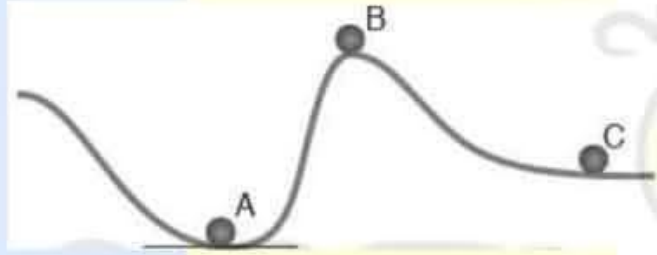
١- جسم كتلته 100 g وحجمه 20 cm³ أحسب كثافته ؟

أصل بين مجموعة الغذاء الرئيسية وما ينسبها من العمود الثاني :

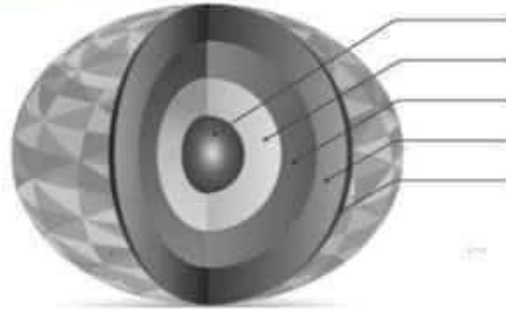
العمود الاول	العمود الثاني
الكربوهيدرات	تعد الجسم بالطاقة وتوجد في المكسرات
البروتينات	يُعد الحليب من مشتقاته
الدهون	تعتبر مصدر رئيسي للطاقة ومن الأمثلة عليها النشا والسكر
الأملاح المعدنية	تسهم في بناء الجسم ونموه

شامل الشكل التالي ثم أرتب الكرات الثلاث تنازلياً من حيث مقدار طاقة الوضع . علماً بأن الكرات متساوية في الكتلة .

١-٢-٣



حدد على الشكل التالي كل من:



● الستار العلوي

- القشرة الارضية
- اللب الداخلي
- الستار السفلي

الاستعانة بالكلمات التالية (الهيجروميتر, الثيرموميتر, الباروميتر) أكتب أسم
الجهاز المستخدم لقياس كل من :

(6 علامات)

1. الضغط الجوي:

2. الرطوبة:

3. درجة الحرارة:



The Ministry of Education

Jabal Tariq School

5th Grade

Name: Abdullah Al-Hadi

Q. 1. Reading: Answer the questions after reading the following paragraph. (5 points)

You should eat at least five vegetables every day to stay healthy. You shouldn't eat a lot of junk food. You should do exercise for 30 minutes, run around in the playground, play a sport. Make sure you get plenty of sleep each night for 9-10 hours, make your bedroom calm. Water also helps you get better when you are ill such as headache or cough drink some water. To relax you should read a book, watch film, meet friends; these ways to stay fit and healthy.

1- You should eat at least five vegetables every day to stay healthy.

☒ Yes / ☒ No

2- You shouldn't eat a lot of junk food.

☒ Yes / ☒ No

3- You should do exercise for 30 minutes, run around in the playground.

☒ Yes / ☒ No

4- Make sure you get plenty of sleep each night for 6 - 7 hours

☒ Yes / ☒ No

5- To relax you shouldn't read a book, watch film, meet friends

☒ Yes / ☒ No

Q. 2. Choose the word to complete the sentence.

(5 points)

1. You should drink a lot of water every day.

a. should

b. shouldn't

2. You shouldn't sleep at least 8 hours every night.

a. sleep

b. sleeping

3. If your head hurts you, then you have a headache.

a. headache

b. dizzy

4. The opposite of the word balanced is unbalanced.

a. irbalanced

b. unbalanced

5. A small river is called a stream.

a. ocean

b. stream

Teacher Zaid Haddad □

The Ministry of Education
Jabal Tariq School

Name: Abdulhadi

5th Grade

Q. 1. Reading: Answer the questions after reading the following paragraph. (5 points)

You should eat at least five vegetables every day to stay healthy. You shouldn't eat a lot of junk food. You should do exercise for 30 minutes, run around in the playground, play a sport. (Make sure you get plenty of sleep each night for 9-10 hours, make your bedroom calm. Water also helps you get better when you are ill such as headache or cough drink some water. To relax you should read a book, watch film, meet friends; these ways to stay fit and healthy.

- 1- You should eat at least five vegetables every day to stay healthy.
- 2- You shouldn't eat a lot of junk food.
- 3- You should do exercise for 30 minutes, run around in the playground.
- 4- Make sure you get plenty of sleep each night for 6 - 7 hours
- 5- To relax you shouldn't read a book, watch film, meet friends

Yes / No

Yes / No

Yes / No

Yes / No

Yes / No

Q. 2. Choose the word to complete the sentence. (5 points)

1. You drink a lot of water every day.
a. should b. shouldn't
2. You shouldn't at least 8 hours every night.
a. sleep b. sleeping
3. If your head hurts you, then you have a
a. headache b. dizzy
4. The opposite of the word balanced is
a. irbalanced b. unbalanced
5. A small river is called a
a. ocean b. stream

Teacher Zaid Haddad

السؤال الأول: اختر الإجابة الصحيحة في كل مما يأتي:

1 الوسط الحسابي للأعداد 8, 2, 5, 3, 7 هو:

(أ) 3 (ب) 5

(ج) 7 (د) 25

2 المدى للأعداد 10, 3, 7, 2, 9, 4 هو:

(أ) 8 (ب) 9

(ج) 10 (د) 7

3 طول الغرفة الصفية يساوي:

(أ) 6 cm (ب) 6 mm

(ج) 6 m (د) 6 km

4 250 min تساوي:

(أ) 4 ساعات (ب) 3 ساعات و 50 دقيقة

(ج) 6 ساعات و 10 دقائق (د) 4 ساعات و 10 دقائق

5 مثلث قياسات زواياه x , 60° , 30° فإن قياس الزاوية x :

أ) 60° ب) 90°

ج) 30° د) 120°

6 مثلث قياسات أضلاعه 5 cm, 6 cm, 6 cm فإن نوعه:

أ) مثلث متطابق الأضلاع ب) مثلث مختلف الأضلاع

ج) مثلث متطابق الضلعين د) جميع ما ذكر صحيح

7 حل المعادلة $x - 3 = 5$

أ) 8 ب) 2 التعليمية

ج) 15 د) 5

8 المقدار الجبري الذي يعبر عن " x مطروحاً منها 10" هو:

أ) $10 - x$ ب) $x - 10$

ج) $10x$ د) $10 + x$

9 القيمة المنزلية للرقم 7 في العدد 3.749 هي:

أ) 0.7

ب) 0.07

ج) 0.007

د) 7

10 يُقرب العدد 3.926 لأقرب جزء من مئة على النحو:

أ) 3.90

ب) 3.92

ج) 3.93

د) 4.00

السؤال الثاني:

إذا كانت علامات ستة طلاب في مادة الرياضيات على النحو:

12, 18, 15, 15, 13, 17

جد:

1) الوسط الحسابي.

2) الوسيط.

(3) المنوال.

(4) المدى.

السؤال الثالث:

أذكر إذا كانت نتائج التجارب العشوائية الآتية ذات فرص متساوية أم لا:

(1) إلقاء حجر نرد منتظم وتسجيل عدد النقاط الظاهرة على الوجه العلوي.

(2) سحب كرة من صندوق يحتوي 8 كرات حمراء و 6 كرات بيضاء و 3 كرات خضراء جميعها متماثلة.

السؤال الرابع: نصة أساس التعليمية

أضع العدد المناسب في الفراغ:

1 3 kg, 25 g = g

2 7000 ml = L

3 4 m, 25 cm = m

4 150 s = min s

السؤال الخامس:

(1) أحسب طول الفترة الزمنية من 9:15 a.m إلى 3:30 p.m

(2) أحول كلاً مما يلي إلى توقيت 24 ساعة.

9:20 a.m.

4:15 p.m.

السؤال السادس:

أحل المعادلات التالية:

$$x - 4 = 7 \quad (1)$$

$$x + 2 = 10 \quad (2)$$

$$4x = 28 \quad (3)$$

$$x \div 8 = 15 \quad (4)$$

السؤال السابع:

(1) أكتب العدد 3.496 بالصيغتين اللفظية والتحليلية.

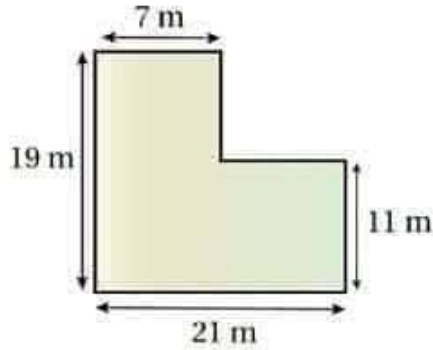
(2) أكتب الكسر $\frac{4}{25}$ على صورة كسر عشري ونسبة مئوية.
كسر عشري:

نسبة مئوية:

(3) أجد ناتج $20 - 3.462$ ، 13.5×1000

السؤال الثامن:

أحسب مساحة ومحيط الشكل الآتي:



الامتحان نهاية الفصل الدراسي الثاني

المبحث: التربية المهنية

الصف: الخامس

السؤال الأول :

ضع إشارة صح مام العبارة الصحيحة وإشارة خطأ أمام العبارة الخاطئة

- 1- () تناول لمشروبات الساخنة في حالة التهاب اللوزتين .
- 2- () يمكن لشخص عمره اقل من (18) سنة فتح حساب جار بمعرفة ولي أمره .
- 3- () البنوك التجارية هي بنوك تقدم مختلف الخدمات البنكية مثل قبول الودائع القروض وتحويل العملات الى الخارج
- 4- () يتكون الشبك من عنصرين فقط .
- 5- () من الممارسات المفيدة في تدبير مرض الرشح قياس درجة الحرارة باستمرار .
- 6- () من علاج الأنفلونزا الراحة فقط
- 7- () أراجع الطبيب الاختصاصي اذا ساءت حالتني نتيجة التهاب اللوزتين .
- 8- ()

السؤال الثاني : املأ الفراغ بالمصطلح المناسب ف ما يلي :

- 1- مرض فيروسي معدي شديد يجيب الجاهز التنفسي وينتشر سريعاً ويتسبب في مضاعفات عدة للمصابين
- 2- امر مالي مكتوب يطلب فيه الساحب (صاحب المال)
- 3- ارتفاع درجة حرارة الجسم فوق معدلها الطبيعي بسبب فقدان سوائل كثيرة من جسم الشخص المصاب
- 4- هو الوسيلة الرئيسة للاتصال في العمل الهندسي
- 5-مرض معدي يسببه فيروس يجيب الأغشية المخاطية للجهاز التنفسي وهو شديد العدوى

السؤال الثالث :

عدد ثلاثة من ادوات الرسم الهندسي؟

اذكر ثلاثة من إشكال الأدوية لعلاج الأمراض

٥-.....مرض معدي يسببه فيروس يجيب ال عسيه المحاطيه للجهاز التنفسي وهو شديد العدوى

السؤال الثالث :

عدد ثلاثة من ادوات الرسم الهندسي؟

اذكر ثلاثة من إشكال الأدوية لعلاج الأمراض

تقاس درجة الحرارة الجسم عن طريق ؟

.....1-

.....2-

.....3



C: Grammar

Choose the correct answer for each question. Circle A, B, or C.

1) Have you ever _____ chocolates before?

- A. make
- B. made
- C. making

2) She has never _____ a kettle.

- A. buy
- B. bought
- C. buying

3) I have _____ used a sewing machine.

- A. ever
- B. never
- C. always

4) He _____ used a vacuum cleaner before.

- A. has ever
- B. have never
- C. has never

5) No, I _____. I've never made toast in a toaster.

- A. haven't
- B. don't
- C. didn't

6) This Jacket is _____ leather.

- A. from of
- B. made of
- C. made in

7) The adjective form of (play) is _____

- A. playful
- B. playing
- C. players

8) The stressed part of the word (entertain) is _____

- A. entertain
- B. entertainain
- C. entertainin

للمزيد من الفيديوهات والملفات التعليمية زوروا صفحة ناهيا NAHYA على الفيسبوك



B: vocabulary

Complete the following sentences with the suitable word from the box below:

Poem— Chasing — too long— Costumes — concert

1. I can not wear this trousers, it is _____ .
2. Hamed wrote a _____ for his grandmother.
3. The wolf was _____ the deer in the forest .
4. He went to musical classic _____ with his friends.
5. My blue and white _____ look like Alice in the Wonder land.

Replace the underlined words with the words in the box:

him

us

it

her

- 1) Can you help Sally?
- 2) Turn the light off, please.
- 3) Why don't you play football with Ahmad and me?
- 4) Ask Rashed how to use the microwave, please.

للمزيد من الفيديوهات والملفات التعليمية زوروا صفحة ناهيا NAHYA على الفيسبوك



Part 2 – Multiple Choice (Choose the correct answer)

1. What was melting in Percy Spencer's pocket?

- A. Cheese
- B. Chocolate
- C. Butter
- D. Ice cream

2. What was the first food cooked in the microwave?

- A. Sandwich
- B. Popcorn
- C. Apple
- D. Rice

3. Where did the coffee story begin?

- A. America
- B. India
- C. Ethiopia
- D. China

4. What animal helped discover coffee?

- A. Sheep
- B. Cows
- C. Goats
- D. Chickens

5. What did George de Mestral invent?

- A. Zipper
- B. Tape
- C. Velcro
- D. Glue

Part 3 - What is your favourite invention? Why?


للمزيد من الفيديوهات والملفات التعليمية زوروا صفحة NAHYA على الفيسبوك


A: Reading

Read the following text then answer the following questions:

ACCIDENTAL INVENTIONS!


What do the microwave, coffee and the tape on your trainers have in common? Well, they were all accidental inventions!





The microwave

In 1945, an American scientist called Percy Spencer was working in a lab. He was making a new kind of machine called a magnetron. While he was working, he had some chocolate in his pocket. Suddenly, Percy found that the chocolate was melting! He realised that the machine could be used for heating food. The first food that he cooked in the microwave was popcorn!




Coffee

A long time ago in Ethiopia, there was a farmer who had goats. One day he saw something: after eating the fruit from coffee plants, his goats didn't sleep. He told other people, and they made a drink from the fruit. This drink became coffee. Later, farmers in Egypt and Syria started growing coffee plants, too. Today, people all over the world enjoy coffee!

Velcro®

In 1941, a Swiss engineer called George de Mestral went for a walk in the woods. When he came back, he found he had a lot of seeds on himself. He looked at the seeds under the microscope and he noticed they had very small hooks that stuck to the tiny loops of his clothes. He decided to make a material that could do that same thing, and he invented the useful hook-and-loop tape on your trainers that is now called Velcro!



[Part 1]

1. Who invented the microwave by accident?
2. What did George see under the microscope?
3. Why didn't the goats sleep after eating the coffee fruit?
4. The underlined pronoun He refers to -----
5. Find out: a) plural noun ----- b) adjective -----

للمزيد من الفيديوهات والملفات التعليمية زوروا صفحة ناهيا NAHYA على الفيسبوك

السؤال الثاني: ضع إشارة (✓) أمام العبارة الصحيحة، وإشارة (X) أمام العبارة الخاطئة: 5/علامات

- يجب أن يكون للصراع في المسرحية مبرر ()
 تزيد العقدة من التشويق والفضول في المسرحية ()
 يتوجب على المؤلف المسرحي أن يقدم حلاً في نهاية كل مسرحية ()
 الزمان المسرحي هو المكان الذي تدور فيه أحداث المسرحية ()
 يعد الصراع في المسرحية وسيلة لحل الخلاف بين الشخصيات ()

غالبتي أكمل في الصفحة الثانية ...

السؤال الثالث : املأ الفراغ :
4/علامات

- من أهم كتاب النص المسرحي هو المؤلف الإ
 نجليزي
 يقسم الحوار في المسرحية إلى حوار
 ، وحوار، ويمكن أن يكون

السؤال الرابع: عددي :
6/علامات

أ. أنواع النص المسرحي؟

- 1..... 2.....

ب. أنواع الحكاية المسرحية؟

- 1..... 2.....

ج. أنواع الصراع في المسرحية؟

- 1..... 2.....



تابعونا على صفحة الفيسبوك
 للمزيد من الملفات التعليمية المجانية،
 جو أكاديمي الصفوف الأساسية

امتحان نهائي تربية فنية صف خامس

السؤال الأول: ضعي دائرة حول رمز الإجابة الصحيحة:
5/علامات

تعني النقطة التي تتشابك فيها الأحداث وتتعدد، والتي تعد ذروة
الحبكة فيها

- أ. الصراع في المسرحية
ب. الحبكة في المسرحية
ج. العقدة في المسرحية
د. الحكاية المسرحية

هو النزاع والخلاف حول تعارض الأفكار والمصالح بين شخصيات
المسرحية.

- أ. الصراع في المسرحية
ب. الحبكة في المسرحية
ج. العقدة في المسرحية
د. النص المسرحي

هو الشخص الذي يكتب نصه المسرحي باستخدام اللغة.
أ. الشخصية في المسرحية
ب. المؤلف المسرحي
ج. الحوار في المسرحية
د. اللغة في المسرحية

هي التي تدور حولها حكاية المسرحية ولها صفات تبرز أفعالها
وردود أفعالها.

- أ. الصراع في المسرحية
ب. الحبكة في المسرحية
ج. العقدة في المسرحية
د. الشخصية المسرحية

هو وسيلة المؤلف للكشف عن أحداث المسرحية وشخصياتها.
أ. اللغة في المسرحية
ب. الشخصية في المسرحية
ج. الحوار في المسرحية
د. الحبكة في المسرحية



السؤال الثالث: أعرب ما تحته خط إعرابًا تامًا .

- أ. الجرائيم أنواع .
الجرائيم: مبتدأ مرفوع وعلامة رفعه الضمة الظاهرة على آخره .
ب. أشربُ ثمانية أكوابٍ من الماء يوميًا .
ثمانية: مفعول به منصوب وعلامة نصبه الفتحة الظاهرة على آخره وهو مضاف .
أكوابٍ: مضاف إليه مجرور وعلامة جره تنوين الكسر الظاهر على آخره .
ت. سأتولى الردّ على المكالمات .
على: حرف جر . / المكالمات: اسم مجرور وعلامة جره الكسرة الظاهرة على آخره .

السؤال الرابع: حوّل الأفعال المضارعة الآتية إلى أفعال ماضية .

يدعو دعا يقضي قضى يسمو سما

السؤال الخامس: علّل سبب كتابة همزة بهذا الشكل .

الفأس: كتبت همزة المتوسطة على ألف لأنها ساكنة وما قبلها مفتوح والفتحة هي الأقوى وما يناسبها الألف .

عبء: كتبت همزة المتطرفة على السطر لأن ما قبلها حرف ساكن .

بضيء: كتبت همزة المتطرفة على السطر لأن ما قبلها حرف مد ساكن .



تابعونا على صفحة الفيسبوك
للمزيد من الملفات التعليمية المجانية،
جو أكاديمي الصفوف الأساسية

إعداد الأستاذة روزنا العايدي

الإجابة النموذجية

أ. أبحث في الفقرة السابقة عن معاني الكلمات الآتية .

المهام : الوظائف ارتيادها : الذهاب إليها

ب. ما عنوان النص التي أخذت منه هذه الفقرة ؟ عيد بنكهة مختلفة

ت. استخرج من النص مظاهر الفرح بالعيد.

ثياب العيد / الحلوى / العيديّة / معمول العيد

ث. استخرج من الفقرة السابقة ما يأتي:

فعلًا مضارعًا منصوبًا لن أحصل

اسم إشارة هذا

جمع مؤنث سالم بالمشتريات

أسلوب استفهام كيف سأحصل على عيديتي دون مظاهر العيد ؟

حرف جواب نعم

السؤال الثاني : اكتب في الفراغ العدد بالحروف .

أ. تتكوّن صلاة العيد من ركعتين اثنتين ، أكبر سبع تكبيرات بعد تكبيرة الإحرام في الركعة الأولى .

ب. في المزرعة ست بقرات وحصان واحد.



تابعونا على صفحة الفيسبوك
للمزيد من الملفات التعليمية المجانية،
جو أكاديمي الصفوف الأساسية

إعداد الأستاذة روزا العايدي

السؤال الثاني : اكتب في الفراغ العدد بالحروف .

- أ . تتكوّن صلاة العيد من ركعتين (2)، أكثَر (7) تكبيراتٍ بعد
تكبيرة الإحرام في الركعة الأولى .
ب . في المزرعة (6) بقراتٍ وحصانٍ (1).

السؤال الثالث : أعرب ما تحته خط إعرابًا تامًّا .

- أ . الجرائيمُ أنواعٌ .
ب . أشربُ ثمانيةَ أكوابٍ من الماء يوميًّا .
ت . سأتولى الردَّ على المكالمات .

السؤال الرابع : حوّل الأفعال المضارعة الآتية إلى أفعال ماضية .

يدعو يقضي يسمو

السؤال الخامس : علّل سبب كتابة الهمزة بهذا الشكل .

الفأس :

عبء :

يضيء :



تابعونا على صفحة الفيسبوك
للمزيد من الملفات التعليمية المجانية،
جو أكاديمي الصفوف الأساسية

إعداد الأستاذة روزنا العايدي

السؤال الأول: اقرأ الفقرة التالية ثم أجب عما يليها من أسئلة .

استيقظنا على صوت أمي التي تبدو اليوم مسرورة أكثر من أي يوم، وذلك يظهر من ثبرة صوتها انطلقنا إليها لنعرف السبب، وإذا بها نعلن عن فكرة جديدة ابتكرتها لهذه السنة .
للهذه الأولى، وعند سماع أمي تتكلم وتحدث إلينا شعرت بالرغبة والرعب، ليس مما تقوله؛ بل لأنني لن أحصل على ملابس جديدة في هذا العيد. كيف يمكن لي أن أتذوق خلاوة العيد دون ثياب جديدة؟ كيف يمكن لبيتي أن يستقبل العيد دون علب الخلو؟ أهذا يعني أنني خسرت كل شيء حتى أموالي؟ نعم، كيف سأحصل على عيدي دون مظاهر العيد؟ أشعر بالأنانية تأكلي. كيف هذا؟ وهل أنا كذلك؟ هل ما تقوله أمي يعني أنني سأفضي هذه الأيام في أحضان عملي الخير؟ أنا أفكر بالماديات، وأمي تتكلم عن مغنونات العيد.
بدأت أمي بتنفيذ خطتها بعد موافقي، وموافقة أخي يتول، ووزعت علينا المهام، وصنعتنا لائحة بالمشتريات، وحددنا الأسواق التي علينا ارتيادها وأمضينا اليوم كله في التبع.

أ. أبحث في الفقرة السابقة عن معاني الكلمات الآتية .

المهام:
ارتياها:

ب. ما عنوان النص التي أخذت منه هذه الفقرة ؟

ت. استخرج من النص مظاهر الفرح بالعيد.

ث. استخرج من الفقرة السابقة ما يأتي:

فعلاً مضارعاً منصوباً

اسم إشارة	
جمع مؤنث سالم	
أسلوب استفهام	
حرف جواب	



تابعونا على صفحة الفيسبوك
للمزيد من الملفات التعليمية المجانية،
جو أكاديمي الصفوف الأساسية

إعداد الأستاذة روزا العايدي

السؤال السادس: اقرأ النص الآتي ثم أجب عن الأسئلة التي تليه:

عيدُ الفطر أحدُ العيدين عند المسلمين، تنوع فيه مظاهر الاحتفال من دولة لأخرى، في صباح يوم العيد، يذهب الناس لأداء صلاة العيد. تتكوّن صلاة العيد من ركعتين **اثنتين** (2)، أكبر **سبع** (7) تكبيرات بعد تكبيرة الإحرام في الركعة الأولى، وخمس تكبيرات في الركعة الثانية.

1 - استخرج من الفقرة السابقة:

- مبتدأ: **عيدٌ**
- مثنى: **العيدين**
- جمع مذكر سالم: **المسلمين**
- جمع مؤنث سالم: **تكبيرات**
- جمع تكسير: **مظاهر**

2 - اكتب في الفراغ العدد بالحروف

3 - أعرب ما تحته خط في الجملة الآتية: حفظت الطالبات أبياتاً من القصيدة

الطالبات: فاعل مرفوع وعلامة رفعه الضمة

أبياتاً: مفعول به منصوب وعلامة نصبه تنوين الفتح

﴿انتهت الأسئلة﴾



06 222 9990

8

إعداد المعلم : إبراهيم حجاج



كل الامتحانات موجودة في خانة الملفات على الموقع www.asas4edu.com

جميع الملفات منقولة الملفات تم تجميعها من قبل منتديات صقر الجنوب التعليمية

4 - الحركة التي لا يقبلها جمع المؤنث السالم هي:

الفتحة الضمة الكسرة

5 - جمع التكسير في جملة (جمع المعلمون أوراق الامتحانات)

المعلمون أوراق الامتحانات

6 - أقوى الحركات:

الكسرة الضمة الفتحة

7 - النكرة بين الكلمات الآتية:

خالد جرش مدرسة

8 - الهمزة التي تكتب في نهاية الكلمة هي:

القطع المتوسطة المتطرفة

9 - تكتب الهمزة المتطرفة على السطر إذا كان ما قبلها:

مفتوح مضموم ساكن

10 - الأعداد من 3 إلى 10 المعدود:

توافق تطابق تخالف

السؤال الخامس: املأ الفراغ بالإجابة الصحيحة:

1 - ماضي الفعل يروي هو: روى

2 - الكتابة الصحيحة للهمزة المتوسطة في كلمة زعير هي: زئير

3 - مفرد كلمة أعباء: عبء

4 - الألف التي توضع بعد واو الجماعة تسمى: الألف الفارقة



06 222 9990

7

إعداد المعلم : إبراهيم حجاج



كل الامتحانات موجودة في خانة الملفات على الموقع www.asas4edu.com

السؤال الثاني: صنف الكلمات الآتية في الجدول:

كرات، المدرسة، جرش، شاطيء، آدم، تنمو، لعبوا، أصوات، مؤسسة

جمع مؤنث سالم	جمع تكسير	كلمة معرفة ب ال	علم	همزة متوسطة	همزة متطرفة	همزة مد	واو أصلية	واو جماعة
كرات	أصوات	المدرسة	جرش آدم	مؤسسة	شاطيء	آدم	تنمو	لعبوا

السؤال الثالث: اذكر اسم الأسلوب المستخدم في الجمل الآتية:

- 1 - لا تتأخر عن الموعد. أسلوب نهبي
- 2 - هل درست جيداً؟ أسلوب استفهام
- 3 - يا أبي أسلوب نداء
- 4 - ما أعجبه من نظام! أسلوب تعجب

السؤال الرابع: ضع دائرة حول رمز الإجابة الصحيحة:

- 1 - معنى كلمة ابتاع في جملة: ابتاع الفلاح كيساً مليئاً ببذور القمح:
باع (اشترى) استعار
- 2 - الكتابة الصحيحة لكلمة التسويق عندما تُسبق بالحرف اللام:
لاتسويق (للتسويق) لالتسويق
- 3 - عند كتابة المقالة فإن الكاتب يُظهر رأيه أو يُقدّم نصيحته في:
المقدمة العرض (الخاتمة)



06 222 9990

6

إعداد المعلم : إبراهيم حجاج



كل الامتحانات موجودة في خانة الملفات على الموقع www.asas4edu.com

الإجابة النموذجية

السؤال الأول: اقرأ النص الآتي ثم أجب عن الأسئلة التي تليه:

استيقظنا على صوت أمي التي تبدو اليوم مسرورة أكثر من أي يوم، وذلك يظهر من نبرة صوتها. وإذا بها تعلن عن فكرة جديدة ابتكرتها لهذه السنة. للوهلة الأولى، وعند سماع أمي تتكلم وتحدث إلينا شعرْتُ بالرهبة والرعب، ليس ممّا تقوله؛ بل لأنني لن أحصل على ملابس جديدة في هذا العيد. كيف يمكن أن أتذوّق حلاوة العيد دون ثياب جديدة؟ بدأت أمي بتنفيذ خُطّتها بعد موافقتي، وموافقة أختي بتول، وورّعت علينا المهام. وضعنا لائحة بالمشتريات، وحددنا الأسواق التي علينا ارتيادها وأمضينا اليوم كله في التبضع.

1 - ما معنى كلمة (المهام) الواردة في النص. **الواجبات**

2 - استخرج من النص كلمة بمعنى (الذهاب إليها) **ارتيادها**

3 - كيف علم الأولاد أن الأم مسرورة أكثر من أي يوم آخر؟

يظهر ذلك من خلال نبرة صوتها

4 - لماذا بدت الأم مسرورة؟ **بسبب الفكرة الجديدة التي ابتكرتها خلال هذه السنة**

5 - لماذا شعر الطفل بالرهبة والرعب؟

لأنه لن يحصل على ملابس جديدة في هذا العيد

6 - استخرج من النص جملة تدل على أن الأم لم تجبر إلياس وبتول على المشاركة في تنفيذ

خطتها

بدأت أمي بتنفيذ خُطّتها بعد موافقتي، وموافقة أختي بتول

7 - استخرج من النص أسلوب استفهام.

كيف يمكن أن أتذوّق حلاوة العيد دون ثياب جديدة؟



06 222 9990

5

إعداد المعلم : إبراهيم حجاج



كل الامتحانات موجودة في خانة الملفات على الموقع www.asas4edu.com

السؤال السادس: اقرأ النص الآتي ثم أجب عن الأسئلة التي تليه:

عيدُ الفطر أحدُ العيدين عند المسلمين، تنوع فيه مظاهر الاحتفال من دولة لأخرى، في صباح يوم العيد، يذهب الناس لأداء صلاة العيد. تتكوّن صلاة العيد من ركعتين (2)، أكبر (7) تكبيرات بعد تكبيرة الإحرام في الركعة الأولى، وخمس تكبيرات في الركعة الثانية.

1 - استخرج من الفقرة السابقة:

- مبتدأ:

- مثنى:

- جمع مذكر سالم:

- جمع مؤنث سالم:

- جمع تكسير:

2 - اكتب في الفراغ العدد بالحروف

3 - أعرب ما تحته خط في الجملة الآتية: حفظت الطالبات أبياتاً من القصيدة

الطالبات:

أبياتاً:

﴿انتهت الأسئلة﴾



06 222 9990

4

إعداد المعلم : إبراهيم حجاج



كل الامتحانات موجودة في خانة الملفات على الموقع www.asas4edu.com

جميع الملفات منقولة الملفات تم تجميعها من قبل منتديات صقر الجنوب التعليمية

4 - الحركة التي لا يقبلها جمع المؤنث السالم هي:

الفتحة الضمة الكسرة

5 - جمع التكسير في جملة (جمع المعلمون أوراق الامتحانات)

المعلمون أوراق الامتحانات

6 - أقوى الحركات:

الكسرة الضمة الفتحة

7 - النكرة بين الكلمات الآتية:

خالد جرش مدرسة

8 - الهمزة التي تكتب في نهاية الكلمة هي:

القطع المتوسطة المتطرفة

9 - تكتب الهمزة المتطرفة على السطر إذا كان ما قبلها:

مفتوح مضموم ساكن

10 - الأعداد من 3 إلى 10 المحدود:

توافق تطابق تخالف

السؤال الخامس: املأ الفراغ بالإجابة الصحيحة:

1 - ماضي الفعل يروي هو:

2 - الكتابة الصحيحة للهمزة المتوسطة في كلمة زعير هي:

3 - مفرد كلمة أعباء:

4 - الألف التي توضع بعد واو الجماعة تسمى:



06 222 9990

3

إعداد المعلم : إبراهيم حجاج



كل الامتحانات موجودة في خانة الملفات على الموقع www.asas4edu.com

السؤال الثاني: صنف الكلمات الآتية في الجدول:

كرات، المدرسة، جرش، شاطئ، آدم، تنمو، لعبوا، أصوات، مؤسسة

جمع مؤنث سالم	جمع تكسير	كلمة معرفة ب ال	علم	همزة متوسطة	همزة متطرفة	همزة مد	واو أصلية	واو جماعة

السؤال الثالث: اذكر اسم الأسلوب المستخدم في الجمل الآتية:

1 - لا تتأخر عن الموعد.

2 - هل درستَ جيداً؟

3 - يا أبي

4 - ما أعجبه من نظام!

السؤال الرابع: ضع دائرة حول رمز الإجابة الصحيحة:

1 - معنى كلمة ابتاع في جملة: ابتاع الفلاح كيساً مليئاً ببذور القمح:

باع اشترى استعار

2 - الكتابة الصحيحة لكلمة التسويق عندما تُسبق بالحرف اللام:

لاتسويق لالتسويق للتسويق

3 - عند كتابة المقالة فإن الكاتب يُظهر رأيه أو يُقدِّم نصيحته في:

المقدمة العرض الخاتمة



06 222 9990

2

إعداد المعلم : إبراهيم حجاج



كل الامتحانات موجودة في خانة الملفات على الموقع www.asas4edu.com

السؤال الأول: اقرأ النص الآتي ثم أجب عن الأسئلة التي تليه:

استيقظنا على صوت أمي التي تبدو اليومَ مسرورةً أكثرَ من أيِّ يومٍ، وذلك يظهر من نبرة صوتها. وإذا بها تُعلنُ عن فكرة جديدة ابتكرتها لهذه السنة. للوهلة الأولى، وعند سماع أمي تتكلم وتتحدثُ إلينا شعرْتُ بالرهبة والرعب، ليس ممَّا تقوله؛ بل لأنني لن أحصلَ على ملابسٍ جديدةٍ في هذا العيد. كيف يمكن أن أتذوق حلاوة العيد دون ثيابٍ جديدة؟ بدأتُ أمي بتنفيذ خُطتها بعد موافقتي، وموافقة أختي بتول، ووزَّعت علينا المهام. وضعنا لائحة بالمشتريات، وحددنا الأسواق التي علينا ارتيادها وأمضينا اليوم كله في التَبَضُّع.

- 1 - ما معنى كلمة (المهام) الواردة في النص.
- 2 - استخرج من النص كلمة بمعنى (الذهاب إليها)
- 3 - كيف علم الأولاد أن الأم مسرورة أكثر من أي يوم آخر؟
- 4 - لماذا بدت الأم مسرورة؟

5 - لماذا شعر الطفل بالرهبة والرعب؟

6 - استخرج من النص جملة تدل على أن الأم لم تجرب إلياس وبتول على المشاركة في تنفيذ خطتها

7 - استخرج من النص أسلوب استفهام.



WRITING

(5 Marks)

Q5: Suggested answer: إجابة مقترحة

My personal account of machines

At home, we've got a cooker, a laptop, a washing machine, and a kettle.
The most useful things are the cooker and the washing machine because we use them every day. My favourite thing is the laptop, because I use it for homework and games.

Best wishes

منصة أساس التعليمية



06 222 9990

5

إعداد المعلم : عبدالله حسين



كل الامتحانات موجودة في خانة الملفات على الموقع www.asas4edu.com

جميع الملفات منقولة الملفات تم تجميعها من قبل منتديات صقر الجنوب التعليمية

Answer

READING

(10 Marks)

1. In Amman
2. Craftspeople
3. Weaving
4. Yes, it is
5. Older people
6. 1. Sheep's wool 2. goat's hair 3. camel hair
7. F
8. Craftspeople
9. Find from the text: 1. **carpets** 2. An adjective: **old** 3. **materials**

VOCABULARY

(10 Marks)

- Q2 A:** 1. melted 2. junk food 3. Zoo 4. desert 5. fever
Q2 B: 1. d 2. d 3. C 4. A 5. B

STRUCTURE

(10 Marks)

- Q3 A:** Has/used 2. has 3. made 4. have 5. were drinking
Q3 B: irresponsible / unbalanced

SPEAKING

(5 Marks)

- Q4:** 1. No, I haven't 2. made 3. near my eyes 4. should take 5. Juggle



06 222 9990

4

إعداد المعلم : عبدالله حسين



كل الامتحانات موجودة في خانة الملفات على الموقع www.asas4edu.com

5. The lions when we drove past. (drink)

Q3 B: Make the following words negative using a suitable prefix

Positive	Negative
responsible	
balanced	

SPEAKING

(5 Marks)

Q4: Complete from the box

• juggle • No, I haven't! • should take • made of • near my eyes

1. Have you ever visited a space station?
2. What are the shorts made of? They're cotton.
3. Where does it hurt? Here,
4. What should Adel do? He some medicine
5. I can five balls at the same time.

Writing

(5 Marks)

Q5: Write a personal account about machines in your home answering the following questions:

- ✓ What machines have you got at home?
- ✓ Which are the most useful? Why?
- ✓ What's your favourite? Why?

Best wishes



06 222 9990

3

إعداد المعلم : عبدالله حسين



كل الامتحانات موجودة في خانة الملفات على الموقع www.asas4edu.com

VOCABULARY

(5 Marks)

Q2: Fill in the blanks with the suitable word. There's one extra word.

• zoo • junk food • desert • melted • fever

1. The chocolate has in the microwave.
2. My friends and I haven't eaten..... for ages.
3. A place where you see lots of animals is called a
4. A hot dry place with a lot of sand is called a
5. I feel really hot. I think I've got a

Q2 B: Circle the odd one out

1. **metal:** a. gold b. silver c. iron d. cotton
2. **kitchen:** a. a microwave b. an oven c. a fridge d. a bed
3. **Adjectives:** a. playful b. helpful c. forget d. cheerful
4. **illnesses:** a. pizza b. sore throat c. stomach ache d. headache
5. **Sea animals:** a. octopus b. wolf c. whale d. shark

STRUCTURE

(10 Marks)

Q3 A: Write the correct form of the words in brackets.

1. Lama ever a vacuum cleaner? Yes, she has. (**use**)
2. Muna written an email to her grandparents. (**have**)
3. What is the chair of? (**make**) It's made of wood.
4. He's eating more fruit to a healthy diet. (**have**)



06 222 9990

2

إعداد المعلم : عبدالله حسين



كل الامتحانات موجودة في خانة الملفات على الموقع www.asas4edu.com

READING

(10 Marks)

Q1: Read the text and answer the following questions:

Rugs and Carpets

These are rugs and carpets. People made these in Amman, but craftspeople make them all over Jordan. They make them using a very old technique called weaving. Weaving is still a very popular handicraft today in Jordan, and many older people teach it to younger people. Traditionally, they use weaving to make anything from carpets to tents. The main materials are sheep's wool, goat's hair and camel hair! They then use berries to give the rugs their natural colour.

1. Where were Rugs and carpets made?.....
2. Who makes them?
3. What technique do they use?
4. Is weaving still popular in Jordan?
5. Who teaches weaving to young people?
6. Name three materials craftspeople use in weaving rugs and carpets:
7. Craftspeople colour the rugs with mangoes. T/F
8. The underlined pronouns refer to. They..... :
9. Find from the text: 1. A noun: (.....) 2. An adjective: (.....) 3. A word that means "the things used to make something" (.....)



06 222 9990

1

إعداد المعلم : عبدالله حسين



كل الامتحانات موجودة في خانة الملفات على الموقع www.asas4edu.com

المادة دراسات اجتماعية	الصف الخامس	الوحدة الثامنة	الثقافة والتراث	الفصل الدراسي الثاني 2024/2025	بسم الله الرحمن الرحيم
1- مجموعة من العادات والتقاليد والقيم والمعتقدات والاعراف التي تعبر عن هوية المجتمع	(أ) التراث	(ب) الثقافة	(ج) الفكر	(د) المبادئ	
2- عنصر اساسي للثقافة ويشمل الانتاج الادبي من شعر ونثر	(أ) الفكر والاداب والفنون	(ب) الفكر	(ج) القيم	(د) اللغة	
3- هو مجموعة المعتقدات والتشريعات والقواعد الاخلاقية التي تنظم علاقة الانسان بالخالق عز وجل	(أ) الدين	(ب) القيم	(ج) الثقافة	(د) التراث	
4- مجموعة المبادئ التي سيرشد بها الافراد في سلوكهم وتحدد معايير الصواب والخطأ	(أ) الاخلاق	(ب) القيم	(ج) الثقافة	(د) الفكر	
5- لا تؤثر الثقافة في السلوك الاخلاقي :	(أ) صح	(ب) خطأ			
6- أنماط سلوكية وطقوس اجتماعية تنوارثها الاجيال في اي مجتمع وتوفر شعور وهوية	(أ) الثقافة	(ب) القيم	(ج) الفكر	(د) العادات والتقاليد	
7- عنصر اساسي من هوية المجتمع ويشكل ذاكرة المجتمع والافراد ويمكننا من معرفة تجارب الحضارات الاخرى	(أ) التاريخ	(ب) التراث	(ج) الثقافة	(د) العادات والتقاليد	
8- لا تختلف العادات والتقاليد في المجتمع الاردني	(أ) صح	(ب) خطأ			
9- أهم وسائل التواصل والتفاهم بين أفراد المجتمع	(أ) الفنون	(ب) التاريخ	(ج) اللغة	(د) العادات	
10- وسيلة تمكن الافراد بالتعبير عن هويتهم الثقافية :	(أ) التاريخ	(ب) الفنون	(ج) القيم	(د) الاخلاق	
11- هو كل ما خلفه لنا الاباء والاجداد من قيم وعادات وتقاليد وفنون	(أ) الحضارة	(ب) التراث الثقافي	(ج) القيم	(د) التاريخ	
12- يشمل التراث الثقافي المادي	(أ) الآثار التاريخية والنحف والقطع النقدية	(ب) المواقع السياحية	(ج) المخطوطات	(د) جميع ما ذكر	
13- يشرف على التراث الثقافي المادي دائرة الآثار العامة	(أ) صح	(ب) خطأ			
14- واحدة من التالية لا تعتبر من التراث الثقافي غير المادي	(أ) العادات والتقاليد	(ب) التحف	(ج) الاغاني	(د) الامثال الشعبية	
15- من عناصر التراث الثقافي الازياء الشعبية	(أ) صح	(ب) خطأ			

Jordan - 00962787167737



www.bassmaah.com/exams

المادة دراسات اجتماعية	الصف الخامس	الوحدة الثامنة	الثقافة والتراث	الفصل الدراسي الثاني 2024/2025	بسم الله الرحمن الرحيم
1- مجموعة من العادات والتقاليد والقيم والمعتقدات والاعراف التي تعبر عن هوية المجتمع	(أ) التراث	(ب) الثقافة	(ج) الفكر	(د) المبادئ	
2- عنصر اساسي للثقافة ويشمل الانتاج الادبي من شعر ونثر	(أ) الفكر والاداب والفنون	(ب) الفكر	(ج) القيم	(د) اللغة	
3- هو مجموعة المعتقدات والتشريعات والقواعد الاخلاقية التي تنظم علاقة الانسان بالخالق عز وجل	(أ) الدين	(ب) القيم	(ج) الثقافة	(د) التراث	
4- مجموعة المبادئ التي سيرشد بها الافراد في سلوكهم وتحدد معايير الصواب والخطأ	(أ) الاخلاق	(ب) القيم	(ج) الثقافة	(د) الفكر	
5- لا تؤثر الثقافة في السلوك الاخلاقي :	(أ) صح	(ب) خطأ			
6- أنماط سلوكية وطقوس اجتماعية تنوارثها الاجيال في اي مجتمع وتوفر شعور وهوية	(أ) الثقافة	(ب) القيم	(ج) الفكر	(د) العادات والتقاليد	
7- عنصر اساسي من هوية المجتمع ويشكل ذاكرة المجتمع والافراد ويمكننا من معرفة تجارب الحضارات الاخرى	(أ) التاريخ	(ب) التراث	(ج) الثقافة	(د) العادات والتقاليد	
8- لا تختلف العادات والتقاليد في المجتمع الاردني	(أ) صح	(ب) خطأ			
9- أهم وسائل التواصل والتفاهم بين أفراد المجتمع	(أ) الفنون	(ب) التاريخ	(ج) اللغة	(د) العادات	
10- وسيلة تمكن الافراد بالتعبير عن هويتهم الثقافية :	(أ) التاريخ	(ب) الفنون	(ج) القيم	(د) الاخلاق	
11- هو كل ما خلفه لنا الاباء والاجداد من قيم وعادات وتقاليد وفنون	(أ) الحضارة	(ب) التراث الثقافي	(ج) القيم	(د) التاريخ	
12- يشمل التراث الثقافي المادي	(أ) الآثار التاريخية والنحف والقطع النقدية	(ب) المواقع السياحية	(ج) المخطوطات	(د) جميع ما ذكر	
13- يشرف على التراث الثقافي المادي دائرة الآثار العامة	(أ) صح	(ب) خطأ			
14- واحدة من التالية لا تعتبر من التراث الثقافي غير المادي	(أ) العادات والتقاليد	(ب) التحف	(ج) الاغاني	(د) الامثال الشعبية	
15- من عناصر التراث الثقافي الازياء الشعبية	(أ) صح	(ب) خطأ			

Jordan - 00962787167737



www.bassmaah.com/exams



الفصل الدراسي
الثاني
2024/2025

الثقافة
والتراث

الوحدة الثامنة

الصف
الخامس

المادة
دراسات
اجتماعية



16- توجد كنيسة صياغة في

(أ) مأدبا (ب) عمان (ج) المفرق (د) الحصن

17- توجد أم الجمال في

(أ) المفرق (ب) معان (ج) الازرق (د) البتراء

18- من المباني التراثية القديمة فالاردن مباني عمان والسلط واريد

(أ) صح (ب) خطأ

19- اشتهرت باسم اللوحة السوداء

(أ) قلعة الكرك (ب) أم قيس (ج) ام الجمال (د) كنيسة صياغة

20- واحدة من التالية ليست من عناصر التراث الثقافي

(أ) الازياء الشعبية (ب) المسكوكات (ج) السمات الشكلية (د) الحرف التقليدية

21- جمل قصيرة متوارثة عبر الاجيال ناتجة عن تجربة شعبية

(أ) الامثال (ب) الهازيج الشعبية (ج) الحكم (د) العادات

22- نوع من النشيد الشعبي الغنائي الذي يردده الناس في المناسبات

(أ) النشيد الوطني (ب) الهازيج الشعبية (ج) الاغاني (د) الفنون

23- تعتبر صناعة الفسيفساء من

(أ) الصناعة التقليدية (ب) الهازيج الشعبية (ج) الحرف التقليدية (د) المباني التراثية

24- من الحضارات التي قامت على ارض الارد

(أ) النبطية (ب) الموابية (ج) الادومية والعمونية (د) جميع ما ذكر

25- انواع التراث الثقافي هي مادي وغير مادي

(أ) صح (ب) خطأ

السؤال الثاني ما هي العناصر الاساسية المكونة للثقافة

اللغة – الدين – القيم – العادات والتقاليد – التاريخ – الفنون

السؤال الثالث اهمية التراث الثقافي

1. الاعتزاز بالهوية الوطنية والتراث الثقافي

2. يظهر الوجه الحضاري للوطن وثقافته

3. يعزز التنوع الثقافي واحترام عادات وتقاليد الشعوب الاخرى



Jordan – 00962787167737

www.bassmaah.com/exams



الفصل الدراسي
الثاني
2024/2025

الثقافة
والتراث

الوحدة الثامنة

الصف
الخامس

المادة
دراسات
اجتماعية



ما هي عناصر التراث الثقافي

السؤال الرابع

الازياء الشعبية – المأكولات الشعبية – الالعاب الشعبية التقليدية – الدبكات الشعبية – المواقع التراثية-
النقود القديمة – الحرف التقليدية – الامثال والاهازيج الشعبية

بسم الله
نلهمك لتبدع ...!

Jordan – 00962787167737



www.bassmaah.com/exams

المادة دراسات اجتماعية	الصف الخامس	الوحدة السابعة	الجغرافيا	الفصل الدراسي الثاني 2024/2025	بسم الله الرحمن الرحيم
1- ... هو الحيز الذي يوجد فيه الانسان على سطح الارض	(أ) الوطن	(ب) المكان	(ج) البيئة	(د) الموقع	
2- يساعد على تحديد الاماكن والمعالم المهمة التي نحتاج الها	(أ) البيئة	(ب) الجغرافيا	(ج) الاتجاه	(د) الموقع	
3- هو تحديد نقطة ما على سطح الارض باستخدام احداثيات خطوط الطول ودوائر العرض	(أ) الموقع الفلكي	(ب) الموقع النسبي	(ج) الموقع الجغرافي	(د) الموقع الاحداثي	
4- خطوط الطول هي.....تمتد من القطب الشمالي الى القطب الجنوبي	(أ) انصاف دوائر غير متساوية الطول	(ب) انصاف دوائر متساوية الطول	(ج) دوائر متساوية الطول	(د) دوائر غير متساوية الطول	
5- الموقع الفلكي هو تحديد منطقة ما على سطح الارض بالنسبة الى ما يجاورها من مناطق اخرى :	(أ) صح	(ب) خطأ			
6- يحدد الموقع عن طريق	(أ) الموقع النسبي	(ب) الموقع الفلكي	(ج) الموقع الوطني	(د) أ+ ب	
7- خط الطول الذي يمر بمدينة لندن يُسمى:	(أ) خط غرينتش	(ب) خط الاستواء	(ج) مدار السرطان	(د) مدار الجدي	
8- درجة خط غرينتش هي 180 درجة:	(أ) صح	(ب) خطأ			
9- دوائر العرض هي دوائر وهمية تحيط بالكرة الارضية من	(أ) الشرق الى الغرب متساوية	(ب) الشرق الى الغرب غير متساوية	(ج) الغرب الى الشرق غير متساوية	(د) الغرب الى الشرق متساوية	
10- خط الدائرة الرئيسية الذي يقسم الكرة الأرضية إلى قسمين :	(أ) خط غرينتش	(ب) خط الاستواء	(ج) مدار السرطان	(د) مدار الجدي	
11- عدد دوائر العرض دائرة	(أ) 90	(ب) 180	(ج) 360	(د) 200	
12- عدد دوائر العرض الرئيسية هو	(أ) 7	(ب) 90	(ج) 18	(د) 15	
13- تساعد على حساب اختلاف التوقيت الزمني بين الدول	(أ) دوائر العرض	(ب) خطوط الطول	(ج) الساعة الزمنية		
14- المناطق القريبة من خط الاستواء تتميز بـ	(أ) انخفاض درجات الحرارة	(ب) ارتفاع درجات الحرارة	(ج) اعتدال درجات الحرارة	(د) تساقط الثلوج	

Jordan - 00962787167737



www.bassmaah.com/exams



الفصل الدراسي الثاني
2024/2025

الجغرافيا

الوحدة السابعة

الصف الخامس

المادة دراسات إجتماعية



15- تساعد دوائر العرض في معرفة المناطق الحرارية على سطح الارض

(أ) صح (ب) خطأ

16- لتحديد موقع فلكي لنقطة معينة على سطح الارض نحتاج الى معرفة

(أ) نقطة تقاطع خط الطول مع دائرة العرض (ب) نقطة تقاطع خط العرض مع دائرة العرض (ج) نقطة تقاطع خط غرينتش مع دائرة العرض (د) نقطة تقاطع خط الطول مع مدار الجدي

17- الموقع الفلكي للاردن بين درجتى خطي طول :

(أ) (39-35) شرق خط غرينتش (ب) (35-39) شمال خط الاستواء (ج) (29-33) شمال خط الاستواء (د) (29-33) شمال خط غرينتش

18- نظام تحديد الموقع العالمي نظام تستطيع من خلاله تحديد الموقع الفلكي على سطح الكرة الارضية عبر اتصاله بالبلوتوث :

(أ) صح (ب) خطأ

19- يعتمد نظام تحديد الموقع العالمي على لتحديد الموقع

(أ) مواقع التواصل (ب) البلوتوث (ج) الاحداثيات الجغرافية (د) الاشارات الالكترونية

20- من التطبيقات الجغرافية التي تعتمد نظام GPS لاستخدام الخرائط

(أ) خرائط ميتا (ب) خرائط الكترونية (ج) خرائط جوجل (د) خرائط تويتر

21- دولتا وادي النيل هما

(أ) مصر والسودان (ب) مصر واثيوبيا (ج) مصر وتونس (د) مصر والجزائر

22- من امثلة قطاع الخدمات

(أ) التجارة بالتجزئة (ب) التعليم والصحة (ج) التجارة الالكترونية (د) الصادرات والواردات

23- يقع مصر والسودان في من قارة افريقيا

(أ) شمال غربي (ب) جنوب غربي (ج) الشمال الشرقي (د) الجنوب الشرقي

24- تقدم الخدمات الصحية عن طريق

(أ) القطاع العام (ب) القطاع الخاص (ج) القوات المسلحة والجامعات (د) جميع ما ذكر

25- نهر النيل هو اطول نهر في العالم

(أ) صح (ب) خطأ

26- ينبع نهر النيل من

(أ) البحر الاحمر (ب) هضبة التبت (ج) البحر المتوسط (د) هضبة البحيرات الكبرى في افريقيا

27- يصب نهر النيل في ...

(أ) البحر الاحمر (ب) هضبة التبت (ج) البحر المتوسط (د) هضبة البحيرات الكبرى في افريقيا



Jordan - 00962787167737

www.bassmaah.com/exams

المادة دراسات اجتماعية	الصف الخامس	الوحدة السابعة	الجغرافيا	الفصل الدراسي الثاني 2024/2025	بسم الله الرحمن الرحيم
28- ممر صناعي حفره الانسان للربط بين المسطحات المائية المختلفة	(أ) المستنقعات	(ب) البرك	(ج) قناة	(د) السد	
29- تقدم الخدمات المالية والمصرفية للأفراد عن طريق	(أ) البنوك ومكاتب السياحة	(ب) البنوك ومحلات الصرافة	(ج) البنوك والمراكز التجارية	(د) البنوك والتجارة الإلكترونية	
30- القناة التي تربط بين البحرين المتوسط والاحمر هي قناة السويس .	(أ) صح	(ب) خطأ			
31- عاصمة مصر هي	(أ) الفيوم	(ب) الخرطوم	(ج) القاهرة	(د) الاسكندرية	
32- يشمل قطاع الخدمات الفنادق والمطاعم والمقاهي والنقل	(أ) السياحة	(ب) الثقافية	(ج) النقل والثقافة	(د) السياحة والتجارية	
33- تمتلك السودان ثروة حيوانية ضخمة جدا	(أ) صح	(ب) خطأ			
34- اكثر الدول العربية سكانا هي	(أ) السعودية	(ب) السودان	(ج) مصر	(د) الجزائر	
35- من الممالك التي اقيمت على ارض السودان	(أ) كوش	(ب) مروي	(ج) كيلوبترا	(د) أ + ب	
36- يقع القرن الافريقي وجزء القمر في الجزء من قارة افريقيا	(أ) الجنوبي	(ب) الشمال الشرقي	(ج) الشرقي	(د) الشمالي	
37- يشرف القرن الافريقي على	(أ) المحيط الهندي والبحر الاحمر	(ب) المحيط الهادي والبحر الاحمر	(ج) المحيط الهادي والبحر المتوسط	(د) المحيط الهندي والبحر المتوسط	
38- ممر مائي ضيق يصل بين مسطحين مائيين	(أ) القناة	(ب) المضيق	(ج) السد	(د) النهر	
39- عاصمة الصومال	(أ) نيروبي	(ب) الخرطوم	(ج) مقديشو	(د) القاهرة	
40- الدولة العربية الوحيدة التي يمر بها خط الاستواء هي	(أ) مصر	(ب) جيبوتي	(ج) السودان	(د) الصومال	
41- تعتمد الصومال في اقتصادها على الثروة الحيوانية	(أ) صح	(ب) خطأ			

Jordan - 00962787167737

www.bassmaah.com/exams

المادة دراسات اجتماعية	الصف الخامس	الوحدة السابعة	الجغرافيا	الفصل الدراسي الثاني 2024/2025	بسم الله الرحمن الرحيم
42- اصغر الدول العربية مساحة	(أ) الصومال	(ب) قطر	(ج) تونس	(د) جيبوتي	
43- تمتلك جيبوتي ثورة وفيرة من ...	(أ) الحديد	(ب) الذهب	(ج) الاسماك	(د) البترول	
44- الدول التي تشرف على مضيق باب المندب هي	(أ) موريتانيا	(ب) الصومال	(ج) جيبوتي	(د) السودان	
45- دول عربية تقع المحيط الهندي	(أ) جيبوتي	(ب) جزر القمر	(ج) الصومال	(د) تونس	
46- جزر القمر اخر دولة استقلت عن الاستعمار الفرنسي .	(أ) صح	(ب) خطأ			
47- عاصمة جزر القمر	(أ) الفيوم	(ب) الخرطوم	(ج) موروني	(د) مقديشو	
48- تقع دول المغرب العربي في الجزء	(أ) الشمال الغربي	(ب) الشمال الشرقي	(ج) الغربي	(د) الجنوبي	
49- تمتلك السودان ثروة حيوانية ضخمة جدا	(أ) صح	(ب) خطأ			
50- واحدة من التالية ليست من دول المغرب العربي	(أ) موريتانيا	(ب) ليبيا	(ج) مصر	(د) الجزائر	
51- تشرف دول المغرب العربي على	(أ) البحر المتوسط شمالا	(ب) المحيط الهندي غربا	(ج) المحيط الاطلسي شرقا	(د) البحر المتوسط غربا	
52- الدولة التي عاصمتها طرابلس هي	(أ) موريتانيا	(ب) ليبيا	(ج) جيبوتي	(د) السودان	
53- عاصمة تونس	(أ) مقديشو	(ب) القيروان	(ج) موروني	(د) تونس	
54- قامت حضارة قرطاج على ارض	(أ) تونس	(ب) مصر	(ج) المغرب	(د) موريتانيا	
55- تشتهر ليبيا بـ	(أ) الثروة السمكية	(ب) التاج النفط والغاز	(ج) الحديد	(د) الثروة الحيوانية	
56- أكبر الدول العربية مساحة هي مصر :	(أ) صح	(ب) خطأ			

Jordan - 00962787167737



www.bassmaah.com/exams



الفصل الدراسي الثاني
2024/2025

الجغرافيا

الوحدة السابعة

الصف الخامس

المادة دراسات إجتماعية



57- عاصمة موريتانيا (أ) نيروبي (ب) مقديشو (ج) موروني (د) نواكشوط

58- تشتهر موريتانيا بـ : (أ) إنتاج الفوسفات ومعدن الحديد (ب) الثروة السمكية (ج) الثروة الحيوانية (د) الذهب

59- فاس مدينة توجد في الجزائر: (أ) صح (ب) خطأ

60- عاصمة المغرب (أ) فاس (ب) مراكش (ج) الرباط (د) الدار البيضاء

61- خط الدائرة الرئيسة الذي يقسم الكرة الأرضية إلى قسمين : (أ) خط غرينتش (ب) خط الاستواء (ج) مدار السرطان (د) مدار الجدي

62- من الحضارات التي قامت على ارض المغرب (أ) حضارة قرطاج (ب) حضارة الرومان (ج) حضارة اليونان (د) حضارة الفينيقيين

السؤال الثاني اشرح أهمية دوائر العرض وخطوط الطول

1. دوائر العرض وخطوط الطول هي خطوط وهمية تساعد في تحديد المواقع الجغرافية بدقة على سطح الأرض

2. تساعد خطوط الطول على حساب اختلاف التوقيت الزمني بين الدول

3. تساعد دوائر العرض في معرفة المناطق الحرارية على سطح الارض

السؤال الثالث كيف نحدد الموقع الفلكي لمنطقة جغرافية

1. نحدد أقصى امتداد جغرافي للمنطقة من الجهة الشرقية على خطوط الطول

2. نحدد أقصى امتداد جغرافي للمنطقة من الجهة الغربية

3. نحدد أقصى امتداد جغرافي للمنطقة من الجهة الشمالية لدوائر العرض

4. نحدد أقصى امتداد جغرافي للمنطقة من الجهة الجنوبية لدوائر العرض



Jordan – 00962787167737

www.bassmaah.com/exams



الفصل الدراسي
الثاني
2024/2025

الجغرافيا

الوحدة السابعة

الصف
الخامس

المادة
دراسات
اجتماعية



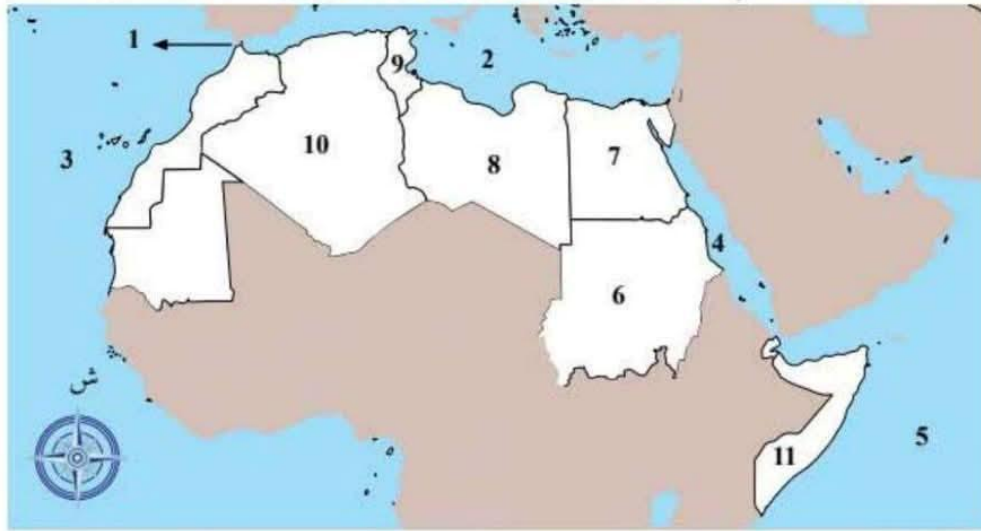
عدد دول المغرب العربي

السؤال الرابع

ليبيا - الجزائر - المغرب - موريتانيا - تونس

اكتب ما تمثله الأرقام على الخريطة التالية

السؤال الخامس



1. مضيق جبل طارق
2. البحر المتوسط
3. المحيط الأطلسي
4. البحر الأحمر
5. المحيط الهندي
6. السودان

Jordan - 00962787167737



www.bassmaah.com/exams