

QUESTION FOUR Look and write (3 points)

There's a goat in Wadi Mujib A lot of sweets are bad for you
You must brush your teeth every day .



QUESTION FIVE

Match the questions with the right answers (2 points)

1- Is there a post office in your city ?	A - I must help my mother .
2- What must you do at home?	B - Yes , there is .
3- Do you like lamb and rice ?	C - It's hot and sunny .
4- What's the weather like today ?	D - Yes , I do .

Answers : 1 _____ 2 _____ 3 _____ 4 _____

QUESTION SIX

A - Listen and circle the two words that sound similar (1 point)

hear	ear	boy
------	-----	-----

B - odd and circle one out (1 point)

March	-	Juice	-	June	-	July
-------	---	-------	---	------	---	------

English Language Unified Exam 3rd grade Second Semester 2014 / 2015 Form B

Form A

Department of Education / Zarqa
English Language Unified Exam
Second Semester 2014 / 2015



School : _____ Grade 3 ()
Name : _____ 25

QUESTION ONE Read and answer (7 points)

The children are having their lunch in the mountains . Samira is drawing the animals in Wadi Mujib . A leopard running . A wolf is sleeping . The goats are walking . Frogs and fish are swimming in the river .

A) Answer : (3 points)

1 - Where are the children having their lunch ? _____

2 - Are the goats sleeping ? _____

3 - Is the leopard running ? _____

B) Complete : (2 points)

1 - Frogs and fish are swimming in the _____ .

2 - Samira is drawing the animals in _____ .

C) Put tick () or cross () (2 points)

1 - The goats are jumping . ()

2 - The wolf is sleeping . ()

QUESTION TWO Choose the right answer (2 points)

1 - _____ a hospital in my town . (There is / There are)

2 - You _____ drink a lot of water . (must / mustn't)

3 - I want to buy some stamps . Go to the _____ . (market / post office)

4 - _____ is not healthy . (apples / sweets)

QUESTION THREE Read and answer (2 points)

1 - Are there any markets in your town ? _____

2 - What must you do at school ? _____

English Language Unified Exam 3rd grade Second Semester 2014 / 2015 Form B

Speaking

(... 17.5 points)

A) Read and match

(4 points)

1. What are the birds doing?
2. Are there leopards in the zoo?
3. What do you want to buy?
4. Where is the baker's?

- A. It's next to the bookshop.
- B. I want to buy some flowers.
- C. Yes, there are.
- D. They are flying.

B) Read and complete:

(2.5 points)

I'm - What's - He's taking - sweets - aren't healthy

1. Ali doing?
 a photo.

2. Are you drinking water?

Yes,


3. Don't eat a lot of

They

C) Spell and complete

(1 point)

1. It's a tr__n. (ea / ai)



2. It's an __r. (ea / ei)



(... \ 5 points)

(1 point)

Writing

A) Circle :

1. What's this animal? It's a
(leopard / goat)



2. I like playing basket
(ball / cream)



B) Look and write

(3 points)

chicken - March - aubergines - lamb - September - peppers

Meat	Months	vegetables
<input type="text"/>	<input type="text"/>	<input type="text"/>
<input type="text"/>	<input type="text"/>	<input type="text"/>
<input type="text"/>	<input type="text"/>	<input type="text"/>

C) Read and order :

(1 point)

mustn't / in / You / the classroom / shout

17.5

UNRWA
Education Program
Education Development Center/ Assessment Unit
Second Semester 2022/2023
English Exam / Grade 3

Form
B

Time : (60 minutes)
Section:

School :
Name : (.....5 points)

Reading (2 points)

Q1 Read and answer:

We are at Wadi Mujib. There are many birds like eagles. They are flying in the sky. There is a cat. It has small, brown ears. Mazen is taking a photo of the goats. I can hear the wolves. They aren't sleeping. They are playing. Many people come here to see the animals. They are safe here.

1. What are the eagles doing?
a) eating b) sleeping c) flying

2. What is Mazen doing?

صفحة الأستاذ إسماعيل الدقس

Q2 Circle Yes or No: (1point)
1. The cat has big ears. Yes / No
2. Many people visit Wadi Mujib. Yes / No

Q3 Read and complete (2 points)
(sleeping / birds)

1. There are many _____ like eagles in Wadi Mujib.

2. The wolves aren't _____.

English / Second semester/2022-2023/ Third grade / Form B page 1/3

Writing

(...../5 points)

Q1 Write the capital letters:

(1 point)

there is a station in amman.

Q2 Write:

(1 point)

1- I love this t _ _.

(oy / oi)



2- Fr _ _ t is very healthy.

(ou / ui)



Q3 Order:

(1 point)

wants / cakes. / Samira / some / to make

Q4 Complete:

(2 points)

Brush

October

1- Teacher's Day is in

2-

your teeth every morning.

Good luck

Speaking

(.....7.5 points)

(2.5 points)

Q1 Match:

A	B
1) At home, I must	a) Some salad, please.
2) Is the owl looking for food?	b) Go straight on, and then turn left.
3) Excuse me, where is the restaurant?	c) we plant trees.
4) What do you want to eat?	d) tidy my room.
5) In January,	e) No, it isn't.

(2 point)

Q2 Circle:

1- There is a big (mosque / museum) next to my house.



2- We will go to the baker's. Then, we go to the market. (First/Finally), we go home.

(3 points)

Q3 Read and Write

(mustn't / Let's / game)

1- go to the market?

Yes, I want to buy a scarf.

2- Do you like this computer ?

No, I don't.

3- It is very hot today.

Yes, you forget your hat.

وزارة التعليم العالي والبحث العلمي
 مركز التطوير التربوي / وحدة التقويم
 الفصل الدراسي الثاني 2022 / 2023
 الاختبار الموحد / الصف الثالث الأساسي / مبحث الرياضيات

نموذج B
 اسم المدرسة :
 اسم الطالب :

زمن الاختبار : ساعة :
 الشعة :

السؤال الأول: جد ناتج ما يلي:

(3 علامات) $4 \times 90 =$

$$\begin{array}{r} 1 \quad 3 \\ \times \quad 3 \\ \hline \end{array}$$

$$\begin{array}{r} 6 \quad 2 \\ \times \quad 8 \\ \hline \end{array}$$

السؤال الثاني: جد ناتج الضرب باستخدام خاصية التوزيع:

(علاتان) $2 \times 14 = (2 \times \dots) + (2 \times \dots)$
 $= \dots + \dots$
 $= \dots$

السؤال الثالث: جد ناتج القسمة:

(3 علامات) $630 \div 7 =$

$$\begin{array}{r} 5 \overline{) 85} \\ \underline{5} \\ 35 \\ \underline{35} \\ 0 \end{array}$$


$$\begin{array}{r} 6 \overline{) 92} \\ \underline{12} \\ 20 \\ \underline{18} \\ 20 \\ \underline{18} \\ 20 \\ \underline{18} \\ 20 \end{array}$$

السؤال الرابع: إذا كانت السيارة تشبع لـ 4 ركاب، كم سيارة نحتاج لنقل 68 راكبا؟

(علاتان)

السؤال الخامس: مثل الكنز بتلوين العدد المناسب من الفراشات:

(علاتان)



$\frac{3}{8}$

2022-2023 / الفصل الثاني : 2 / 1

السؤال السابع: قارن بين القسور مشغلاً < أو = أو > :

$\frac{3}{8}$ $\frac{3}{4}$

$\frac{3}{4}$ $\frac{5}{8}$

$\frac{1}{2}$ $\frac{3}{4}$

السؤال الثامن: اكتب الوقت بعد ساعة واحدة و 15 دقيقة:

8:30 ←

السؤال التاسع: اكتب < أو = أو > في الدائرة:

4000 g 4 kg




6 m 350 cm

السؤال العاشر: جد محيط الشكل المظلل بالوحدات:

وحدة

السؤال الحادي عشر: وصل بين الصورة ومكانها المناسب في شكل فن:

نبات طعام

السؤال الثاني عشر: خذ الكلمة المناسبة:

اختيار قلم من الكيس: أكيد ممكن مستحيل

اختيار مسطرة من الكيس: أكيد ممكن مستحيل

الرياضيات / الفصل الثاني / 2022-2023 / الصف 2 / 2

Question Three: Read and write.

(4 points)

Brush - chemist's - fruit - sweets - delicious

1. Don't eat a lot of
2. Eat a lot of
3. your teeth.
4. I want to buy some medicine. Go to the

Question Four: Focus on Language and Structures

A. Read and write.

There is

There are

(3 points)

- 1- an eagle in the tree.
- 2- two restaurants in my town.
- 3- one hospital.

B. Look, read and complete.

must

mustn't

(2 points)

1. You shout.
2. You drink a lot of water.



C. Read and tick ✓ or cross X

(2 points)

- 1- A lot of sweets are good for me. ☐
- 2- Fruit and vegetables are healthy. ☐

Question Five: Focus on Writing

(5 points)

a- Look and write.

1- baker's / bookshop



2- I want to buy medicine. Go to the

3- March May

Miss Wijdan

B-Copy

kareem wants to buy a present for omar

mark

25

The Ministry of Education
The Education Directorate of Qwsmah
Final Exam Second Term 2016/2017

Class: Third Grade

English Language

Date:

Name:

Ajuadeen Primary School

Question One: Reading Comprehension

(5 points)

-Read the following text carefully and then answer all the questions below:

We go shopping on Saturday . We go by car . , we go to the baker's .
We buy bread and cakes . , we go to the market . Mum buys fruit and
Vegetables , we go to the butcher's . We buy lamb . e go to
an ice cream shop .

1. Fill in the blanks above .

Finally / Next / Then / First

2. Read and write tick \checkmark or across X

a. They go shopping on Saturday . ()

b. They go to the butcher's to buy fruit . ()

3. I want to buy bread . Go to the

Question Two: Focus on Vocabulary

(2 points)

A. Look, read and choose:

1. The cat is jumping .

a.



b-



2. The wolves are sleeping .

a-





Name

Directorate of Lewa 'a Marka
Ammorya Primary School

The 2nd Exam worksheet for the 3rd grade { A, B, C, D, H }

Day and date:



Q1: Read and answer:

The children are having their lunch in the beautiful mountains. They are drawing the animals in Wadi Mujib .A fast leopard is running .A small wolf is sleeping .The goats are walking .frogs and fish are swimming in the river.

1. Where are the children having their lunch? They are having their lunch in the mountains
 2. What are the children doing? They are drawing the animals in Wadi Mujib
 3. A leopard is running (sleeping - running).
 4. The goats are walking (walking - running).
 5. Frogs are swimming in the river (T F).
 6. The underlined pronoun refers to The children
 7. Write a plural noun frogs
 8. Write a singular noun: wolf
 9. Write a pronoun: They
 10. Write a verb having
 11. . Write an adjective small, fast
- *****

Read the following text then answer the question :

I want to make a present for my family! For my Mum, I want to make a small card. She likes flowers. I want to draw some beautiful flowers on her card. For my dad I want to make a notebook. He likes writing. For my brother I want to make a ball.

- 1-She wants to make a (notebook - card) for her Mum.
- 2- She wants to make a (notebook - card) for her Dad.
- 3- She wants to make a (notebook ball) for her brother.
4. The underlined pronoun (she) refers to her Mum
5. Write a plural noun flowers
6. Write a singular noun: card
7. Write a pronoun: I, She, He
8. Write a verb want, make
- 9 . Write an adjective small, beautiful



Q.2: - Focus on vocabulary

A. Read and complete the sentence.

goats Eagles hear card plant delicious present fish

1. I hear with my two ears.
2. We plant trees in January.
3. In the mountains there are goats.
4. Mazen wants to buy a present for his Mum.
5. Asma wants to make a card for her Mum.
6. Look at those delicious cakes.
7. Eagles Fly in the sky.
8. The fish are swimming in the river.

Q.3:- Focus on language and structures

Choose the correct answer in the following sentence.

1. Mazen (want - wants) to take a picture.
2. June , July , (August , September) .
3. Teachers Day is in (October , July) .
4. The summer holidays start in (June , July) .
5. There is (a - an) owl.
6. She (want - wants) to make a card.
7. The goats (is - are) eating.
8. Is the cat jumping? (yes, it is - Yes , it isn't)
9. They are (wolf - wolves) .
10. (He - They) are playing.
11. The leopard is (runing / running) .
12. I (not want / don't want) to play footall.

Complete:

January	February	March	April	May	June
---------	----------	-------	-------	-----	------

STRUCTURE**(5 marks)****Q3 : Re-write sentences with capital letters:**

1- ali sits next to omar.

2- the cat is looking at ahmad.

3- what would you like?

4- are there any shops near your house?

5- go straight on, then turn right.

Match**(3 marks)**

1- What's the weather like in Jordan?

2- Are vegetables healthy?

3- Would you like some salad?

Yes, they are

It's sunny

Yes, please

PHONICS**(2 marks)****Q5 : Find the missing letters from the box:**

ui , a

1- Wash your h__nd.

2- I like fr__t.

GOOD LUCK

Answers**STRUCTURE****(5 marks)****Q1 : Choose the correct answer from the box:****Market , post office , chemist's , toy shop , baker's**

1- I want to buy some stamps.
Go to the **post office**.

2- I want to buy fruit.
Go to the **Market**.

3- I want to buy some medicine.
Go to the **chemist's**.

4- I want to buy some cakes.
Go to the **baker's**.

5- I want to buy a toy.
Go to the **toy shop**.

VOCABULARY**(5 marks)****Q2: Read and tick ✓ or ✗**

- 1) Ice cream is healthy ☐
- 2) You mustn't brush your teeth. ☐
- 3) You must do a lot of exercise. ☒
- 4) A lot of sweets are good for me ☐
- 5) You must help your mom. ☒

STRUCTURE**(5 marks)****Q3: Re-write sentences with capital letters:**

1- ali sits next to omar.

Ali sits next to Omar.

2- the cat is looking at ahmad.

The cat is looking at Ahmad.

3- what would you like?

What would you like ?

4- are there any shops near your house?

Are there any shops near your house?

5- go straight on, then turn right.

Go straight on , Then turn right.**Match****(3 marks)**

1- What's the weather like in Jordan?

Yes, they are

2- Are vegetables healthy?

It's sunny

3- Would you like some salad?

Yes, please

PHONICS**(2 marks)****Q5: Find the missing letters from the box:**

ui , a

1- Wash your hand.

2- I like fruit.

STRUCTURE**(5 marks)****Q1 : Choose the correct answer from the box:****Market, post office , chemist's , toy shop , baker's**

1- I want to buy some stamps.

Go to the _____.

2- I want to buy fruit.

Go to the _____.

3- I want to buy some medicine.

Go to the _____.

4- I want to buy some cakes.

Go to the _____.

5- I want to buy a toy.

Go to the _____.

VOCABULARY**(5 marks)****Q2 : Read and tick ✓ or ✗**1) Ice cream is healthy ☐2) You mustn't brush your teeth. ☐3) You must do a lot of exercise. ☐4) A lot of sweets are good for me. ☐5) You must help your mom. ☐

دائرة القدس
الأردن

مركز التطوير / وحدة التقويم

2022 / الفصل الثاني

الاختبار الموحد / مبحث الرياضيات

25

نموذج
A

زمن الاختبار : ساعة

الشعبة : _____

اسم المدرسة : _____

اسم الطالب : _____

السؤال الأول: جذ ناتج ما يلي:

(6 علامات)

$$6 \times 50 =$$

$$\begin{array}{r} 1 \quad 4 \\ \times \quad 2 \\ \hline \end{array}$$

$$\begin{array}{r} 5 \quad 7 \\ \times \quad 3 \\ \hline \end{array}$$

السؤال الثاني: جذ ناتج القسمة:

(6 علامات)

$$350 \div 7 =$$

$$5 \overline{) 7 \ 5}$$

$$8 \overline{) 9 \ 3}$$

سؤال الثالث: وزع رجل 52 ديناراً على 4 فقراء بالتساوي، كم ديناراً نصيب كل واحد منهم؟ (علتان)

سؤال الرابع: اكتب الكسر الذي يمثل الجزء المظلل:

(علامة واحدة)



السؤال الخامس: اكتب الكسور المكافئة مستخدماً خط الأعداد:

(علامة واحدة)

$\frac{1}{4} = \frac{\quad}{\quad}$

خط الأعداد 1: 0, $\frac{1}{4}$, $\frac{2}{4}$, $\frac{3}{4}$, $\frac{4}{4}$

خط الأعداد 2: 0, $\frac{1}{8}$, $\frac{2}{8}$, $\frac{3}{8}$, $\frac{4}{8}$, $\frac{5}{8}$, $\frac{6}{8}$, $\frac{7}{8}$, $\frac{8}{8}$

السؤال السادس: جد طول الفترة الزمنية:

(علاتان)

البدء (a.m.) 04:15 النهاية (a.m.) 08:45

ساعة _____ دقيقة _____

السؤال السابع: اكتب العدد المفقود:

(علاتان)

4 km = _____ m 2 L = _____ mL

السؤال الثامن: جد مساحة المستطيل بالوحدات المربعة:

(علاتان)

_____ X _____ = _____

السؤال التاسع: يبين الشكل الفاكهة الأكثر تفضيلاً للطلبة، أجب عما يلي:

(3 علامات)

أ- ما عدد الطلبة الذين يفضلون العنب ()

ب- ما الفاكهة الأكثر تفضيلاً للطلبة ()

ج- ما مجموع عدد الطلبة ()

الفاكهة: 5, 4, 3, 2, 1, 0

الفاكهة: تين, تفاح, موز, عنب

﴿ انتهى الاختبار ﴾

2021-2022 / الفصل الثاني / الصف الأول / الرياضيات / نموذج (أ)

2 / 2

17.5

UNRWA
Education Department
Education Development Center/ Assessment Unit
Second Semester 2017/2018
English Exam / Grade 3

Form
A

School:
Name:

(One hour)
Section:

Reading:

A) Read and answer:

(3 points)

The children are having their lunch in the mountains. Samira is drawing the animals in Wadi Mujib.

A leopard is running. A wolf is sleeping. The goats are walking.
Frogs and fish are swimming in the river.



1) Where are the children?

2) What is Samira drawing?

3) The wolf is swimming.

Yes / No

B) Read and complete from the box:

(3 points)

(One word extra)

healthy museum market must

1) You _____ speak English in the classroom.

2) I went to the _____ to buy apples.

3) Vegetables and fruits are very _____ food.

Speaking:

A) Match A and B:

(4 points)

A	B
1) Excuse me, where is the school?	a) Go to the post office.
2) I want to buy stamps.	b) A present for Mum.
3) First, I eat my breakfast.	c) Turn left. It's next to the baker's.
4) What do you want to buy?	d) Then I clean my teeth.
1).....	2).....
3).....	4).....

B) Number from 1 to 3:

(1.5 points)

November

☐

September

☐

October

☐

C) Complete from the box:
(Two extra.)

(2 points)

er ar ui oy

1) B _____

2) C _____ d



Writing:

A) Write the capital letters:

(1 point)

the cat is looking at omar.

B) Read and order:

(1 point)

forget / Don't / homework . / your

C) Look and write from the box:
(One extra)

(2 point)

Yes, please.

Go straight

it isn't.

1) a- Is the bird flying?

b- No,

2) a- Would you like some fruit juice?

b-

GO FOR IT !

Speaking

(..... 17.5 points.)

A) Read and match

(4 points)

1. What are the leopards doing?
2. Is the frog jumping?
3. What do you want to buy?
4. Where is the butcher's?

- a. It's near the baker's.
- b. I want to buy some balloons.
- c. They are sleeping.
- d. No, it isn't.

B) Read and complete:

(2.5 points)

I am - What's - She's writing - salad - healthy

1. Laila doing?

in her notebook.

2. Are you listening to the teacher?

Yes,

3. Would you like some ?

Yes, please! It's very

C) Spell and complete

(1 point)

1. Don't sh__t. (ou / aw)



2. This b__ is Ali. (oi / oy)





UNRWA
Education Department
Education Development Center/ Assessment Unit
Second Semester 2018/2019
English Exam / Grade 3



School :

(One hour)

Name :

Reading

(.....\ 5 points)

A) Read and answer

(2 points)

I live in Amman. It's a big city in Jordan .There are a lot of museums and restaurants. There is a park near my house. There are lots of trees. You mustn't climb trees.

Abla

1. Where does Abla live?

2. Are there museums in Amman?

B) Circle:

(2 points)

1. Abla is having breakfast in the restaurant.

Yes / No

2. Amman is a small city.

Yes / No

C) Complete:

(1 point)

1. We climb trees in the park.



The Ministry of Education
The Education Directorate of
First Exam - Second Term



Material: English Language (Action Pack 3)

Class: Third Grade

Time: One hour.

Name: _____

Section: _____

PART ONE

Question One: Reading Comprehension

(7.5 points)

Read the following text carefully and then answer all the questions below.

I want to make presents for my family! For my mum, I want to make a card. She likes flowers. I want to draw some flowers on her cards. For my dad I want to make a notebook. He likes writing. For my brother I want to make a ball. And for my grandma and grandpa I want to draw a picture of our family.

Sami

1. Mum likes----- a. writing b. flowers c. pictures (1 points)
2. Who wants to make presents? (1 points)
3. Mention three things he wants to make? (2.5 points)
a----- b----- c-----
4. When is mother's day: a. 21st March b. 5th October c. 25th May (2 points)
5. Draw a present for your mum? (1 points)



Question Two: Focus on Vocabulary

(7.5 points)

A. Look, match and write:

(2.5 points)

Owl perfume scarf chemist's Independence Day butcher's



Speaking

(17.5 points)

(4 points)

A) Read and match

1. What are the birds doing?
2. Are there leopards in the zoo?
3. What do you want to buy?
4. Where is the baker?

- A. It's next to the bookshop.
- B. I want to buy some flowers.
- C. Yes, there are.
- D. They are flying.

(2.5 points)

B) Read and complete:

I'm - What's - He's taking - sweets - aren't healthy

1. All doing?

a photo.

2. Are you drinking water?

Yes.

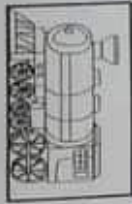
3. Don't eat a lot of

They

C) Spell and complete

(1 point)

1. It's a tr_ _n. (ea / ai)



2. It's an _ _r. (ea / ei)



Writing

(..... \ 5 point

(1 point

A) Circle :

1. What's this animal? It's a
(leopard / goat)



2. I like playing basket
(ball / cream)



B) Look and write

(3 points)

chicken - March - aubergines - lamb - September - peppers

Meat	Months	vegetables
<input type="text"/>	<input type="text"/>	<input type="text"/>
<input type="text"/>	<input type="text"/>	<input type="text"/>
<input type="text"/>	<input type="text"/>	<input type="text"/>

C) Read and order :

(1 point)

mustn't / in / You / the classroom / shout



B. Read and complete the sentences:

(5 points)

healthy opposite fruit ice-cream museum an eagle

1. ----- is good for me .
2. Vegetables are -----
3. The bookshop is ----- the post office.
4. ----- lives in Wadi Mujib .
5. There is a big ----- in my city.

PART THREE

Question Three: Focus on Language and Structures

(7.5 points)

A. Choose the correct answer in the following sentences:

(5 points)

1. You ----- listen to your teacher. a. must b. mustn't c. ?
2. June, July, -----, September. a. October b. November c. August
3. ----- any trees in the park? a. Is there b. Are there c. ?
4. ----- forget your books. a. Doesn't b. Don't c. Aren't
5. There ----- leopards in the zoo. a. are b. is c. does

B. Read and rewrite (V-ing)

(2.5 points)

1. The goats / are / eat.
.....
2. The cat / is / climb.
.....
3. I / am / do / my homework.
.....

PART FOUR

Question Four: Focus on Writing

(2.5 points)

A. Choose the correct punctuations in the following sentences:

(1.5 points)

1. What's the weather like in Jordan a. ? b. , c. !
2. Wolves live in the mountain a. ? b. , c. '.
3. No.....I've never visited Wadi Mujib a. ? b. ' c. ,

المملكة الأردنية الهاشمية

وزارة التربية والتعليم

مدرسة

مديرية التربية والتعليم في لواء الأغوار الشمالية

امتحان نهاية الفصل الدراسي الثاني لعام 2024/2023

المبحث: التربية الاسلامية / الفصل الثاني
الصف : الثالث الأساسي ()
مدة الامتحان: : 1
اليوم والتاريخ: 2024/ /

هيا يا بطل / ة اجب عن الأسئلة التالية وعددها (4) علما بأن عدد الصفحات (2)

- 5) (1) _____ إِذَا تَأَاهَا (2) وَالنَّهَارِ إِذَا _____ (3) _____
إِذَا يَغْشَاهَا (4) وَالسَّمَاءِ وَمَا _____ (5) _____ وَمَا طَخَاهَا (6) _____
وَدَفِيسَ وَمَا _____ (7) فَأَلْهَمَهَا _____ وَتَقَوَّاهَا (8) قَدْ أَفْلَحَ مَنْ _____ (9) _____
وَقَدْ _____ مَنْ دَسَّاهَا (10).

السؤال الثالث : املأ الفراغ بالكلمة المناسبة فيما يأتي :

1. اسم قوم سيدنا صالح عليه السلام : _____ .
- 2- أول من أسلم من الرجال هو:.....
3. لقب سيدنا حمزة بن عبد المطلب ب : _____ .
4. اذكر اثنين من المخلوقات التي أقسم الله بها في سورة الشمس: _____ ، _____ .
5. معجزة سيدنا صالح هي : _____ .

ضع دائرة حول الإجابة الصحيحة :

1- استشهد سيدنا حمزة بن عبد المطلب رضي الله عنه في غزوة :
بدر ب-أحد ج-حنين

2- عاشت السيدة خديجة رضي الله عنها مع سيدنا محمد ﷺ :
أ-20 عام ب-25 عام ج-30 عام

3- يبطل الوضوء اذا خرج من الانسان :
دمع ب- قيء ج- ريح

4- اخت والدي هي :
أ- خالتي ب- جدتي ج- عمتي

5- يساعد الارشاد الى الخير على جعل المجتمع :
أ-قويا ب- ضعيفا ج- حزينا

لشؤال الرابع: ضع اشارة ✓ امام العبارة الصحيحة و اشارة × امام العبارة الخاطئة (6 علامة)

- () تخفي سارة مشكلتها الدراسية عن والدتها.
- () يكون التبسم بصوت مرتفع.
- () نقول عند ذكر اسم صحابي: (رضي الله عنه)
- () عدد ركعات سنن الرواتب 15 ركعة.
- () يعلم الله تعالى ما في اعماق البحار
- () الدال على الخير ينال اجرا اقل من فاعل الخير

السؤال الرابع : (3 علامة)

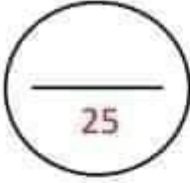
عددي ثلاثة صلوات تؤديها من غير السنن الرواتب

1.

2.

3.





مديرية التربية والتعليم / منطقة -----

مدرسة : -----

التقويم النهائي في مادة التربية الإسلامية للصف الثالث

للفصل الدراسي الثاني



اسم الطالب / ة : ----- اليوم والتاريخ : ----- : / / 20 م

السؤال الأول : أكمل الفراغ بالإجابة الصحيحة في كل ما يلي . (8 علامات)

- 1 - السابقون إلى الإسلام هم -----
- 2 - أول من أسلم من الصبيان هو -----
- 3 - بعث الله تعالى سيدنا صالح عليه السلام إلى قوم -----
- 4 - الشخص الذي قتل حمزة هو -----
- 5 - من المواقف التي يناسبها التبتُّم -----
- 6 - يسمَّى الإحسان إلى الوالدين وطاعتُهما بـ -----
- 7 - أقسم الله تعالى بسورة الشمس بـ ----- و -----
- 8 - ما دور السيدة خديجة رضي الله عنها في نشر الإسلام وتأيينه -----

السؤال الثاني : أضغ إشارة (✓) بجانب الجملة الصحيحة وإشارة (×) بجانب الجملة الخطأ .

- 1 - يكون التبتُّم بصوت منخفض . ()
- 2 - أُسْتُشِهدَ حمزة رضي الله عنه في غزوة بدر . ()
- 3 - أجز التبتُّم في وجوه الناس مثل أجز الصيام . ()
- 4 - من أبرز صفات حمزة بن عبد المطلب القوة والشجاعة . ()
- 5 - وُلِدَ حمزة بن عبد المطلب في المدينة المنورة . ()
- 6 - أخت والدتي هي عمتي . ()
- 7 - الضحى هو منتصف النهار . ()

المعلمة أسماء الخطايبة 5 <https://www.facebook.com/asmaa.khataybeh.5>

السؤال الثالث : أضغ ○ حول رمز الإجابة الصحيحة . (10 علامات)

- 1 - أم المؤمنين وأولى زوجات سيدنا محمد صلى الله عليه وسلم وأُم أولاده .
أ - عائشة بنت أبي بكر ب - خديجة بنت خويلد ج - حفصة بنت عمر
- 2 - الصحابي الذي أسلم بلا تردد ودافع عن الرسول محمد عليه السلام بنفسه وماله
أ - خالد بن الوليد ب - حمزة بن عبد المطلب ج - أبو بكر الصديق
- 3 - ثاني الخلفاء الراشدين .
أ - عثمان بن عفان ب - عمر بن الخطاب ج - علي بن أبي طالب
- 4 - من آل بيت سيدنا محمد صلى الله عليه وسلم وزوج ابنته فاطمة رضي الله عنها :
أ - عثمان بن عفان ب - علي بن أبي طالب ج - أبو العاص بن الربيع
- 5 - من الصدقات بالأعمال .
أ - الكلمة الطيبة ب - النقود ج - الملابس
- 6 - كان بلال بن رباح يردّد مقولته المشهورة تحت التعذيب .
أ - لا إله إلا الله ب - الله أكبر ج - أخذ أحد
- 7 - معنى " انبعث " في قوله تعالى " إذا انبعث أشقاها "
أ - قتل ب - أسرع ج - أخذ
- 8 - من فوائد الابتسامة في وجوه الناس .
أ - نشر المحبة ب - نشر الحزن ج - نشر الكراهية
- 9 - عرف قوم ثمود بقدرتهم على
أ - الرسم ب - النحت ج - الصناعة
- 10 - أكمل الآية الكريمة ، قال تعالى : والشمس وضحاها * والقمر إذا تلاها * ----- .
أ - واللّيل إذا يغشاها ب - والسماء وما بناها ج - والنّهار إذا جلاها

المعلمة أسماء الخطايبه 5 <https://www.facebook.com/asmaa.khataybeh.5>

STRUCTURE**(5 marks)****Q1 : Choose the correct answer from the box:**

Market, post office , chemist's , toy shop , baker's

1- I want to buy some stamps.

Go to the _____.

2- I want to buy fruit.

Go to the _____.

3- I want to buy some medicine.

Go to the _____.

4- I want to buy some cakes.

Go to the _____.

5- I want to buy a toy.

Go to the _____.

VOCABULARY**(5 marks)****Q2 : Read and tick ✓ or ✗**

1) Ice cream is healthy ☐

2) You mustn't brush your teeth. ☐

3) You must do a lot of exercise. ☐

4) A lot of sweets are good for me. ☐

5) You must help your mom. ☐

STRUCTURE

(5 marks)

Q3 : Re-write sentences with capital letters:

1- ali sits next to omar.

2- the cat is looking at ahmad.

3- what would you like?

4- are there any shops near your house?

5- go straight on, then turn right.

Match

(3 marks)

1- What's the weather like in Jordan?

2- Are vegetables healthy?

3- Would you like some salad?

Yes, they are

It's sunny

Yes, please

PHONICS

(2 marks)

Q5 : Find the missing letters from the box:

ui , a

1- Wash your h__nd.

2- I like fr__t.

GOOD LUCK

Answers**STRUCTURE****(5 marks)****Q1 : Choose the correct answer from the box:****Market , post office , chemist's , toy shop , baker's**

1- I want to buy some stamps.

Go to the **post office**.

2- I want to buy fruit.

Go to the **Market** .

3- I want to buy some medicine.

Go to the **chemist's** .

4- I want to buy some cakes.

Go to the **baker's** .

5- I want to buy a toy.

Go to the **toy shop** .**VOCABULARY****(5 marks)****Q2: Read and tick ✓ or ✗**1) Ice cream is healthy ☒2) You mustn't brush your teeth. ☒3) You must do a lot of exercise. ☒4) A lot of sweets are good for me ☒5) You must help your mom. ☒

STRUCTURE

(5 marks)

Q3: Re-write sentences with capital letters:

1- ali sits next to omar.

Ali sits next to Omar.

2- the cat is looking at ahmad.

The cat is looking at Ahmad.

3- what would you like?

What would you like ?

4- are there any shops near your house?

Are there any shops near your house?

5- go straight on, then turn right.

Go straight on , Then turn right.

Match

(3 marks)

1- What's the weather like in Jordan?

Yes, they are

2- Are vegetables healthy?

It's sunny

3- Would you like some salad?

Yes, please

PHONICS

(2 marks)

Q5: Find the missing letters from the box:

ui , a

1- Wash your hand.

2- I like fruit.

ورقة (1) امتحان نهائي ثالث

مس 1 حد ناتج ما يلي

1) $3 \times 40 =$ 2) $2 \times 15 = (_ \times _) + (_ \times _)$

3) $\begin{array}{r} 41 \\ \times 2 \\ \hline \end{array}$ **ابدؤ** $= _ + _$
 $= _$

4) $\begin{array}{r} 37 \\ \times 5 \\ \hline \end{array}$

5) $20 \div 2 =$

6) $210 \div 7 =$

7) $3 \overline{) 69}$

8) $2 \overline{) 57}$




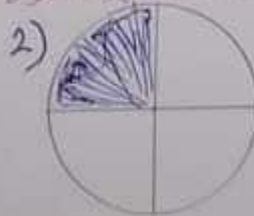
9) $5 \overline{) 46}$

10) $\frac{1}{8}$ من 24 هو

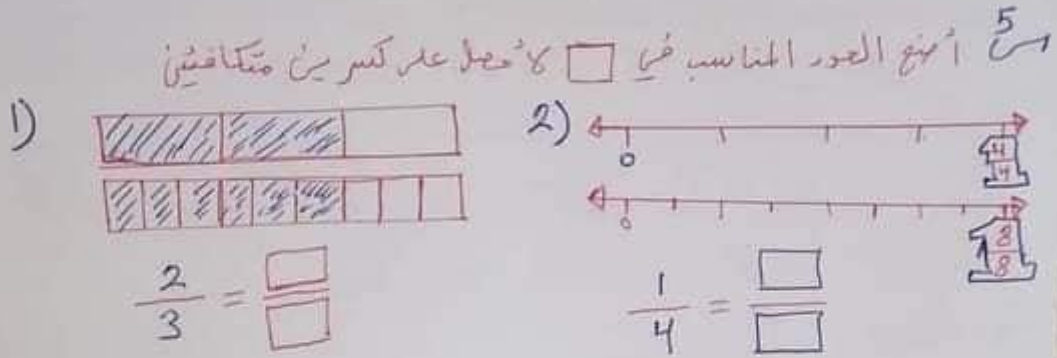
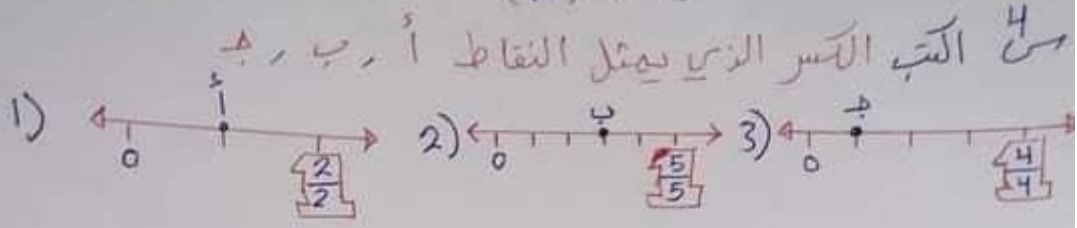
مس 2 قدر ناتج كل ما يلي

1) 9×57 2) 4×83 3) $42 \div 5$


مس 3 أكتب التمر الذي يمثل الجزء الملون من الكتل أو من المجموعة



ورقة (2) أحمد ابوردة




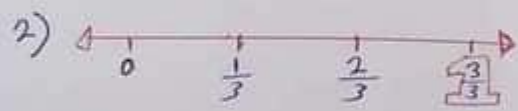
6 من اللون لتفصيل كل كسر أو استعمل خط الأعداد ثم اقرن مستعلاً > < =



أ) $\frac{3}{5} \bigcirc \frac{4}{10}$

ب) $\frac{4}{5} \bigcirc \frac{9}{10}$

ج) $\frac{3}{5} \bigcirc \frac{6}{10}$



أ) $\frac{1}{3} \bigcirc \frac{1}{5}$

ب) $\frac{2}{3} \bigcirc \frac{4}{5}$



ورقة (3) { الحمد ابودرد }

8

اقرأ الوقت ثم اكتب في الساعة الرقمية

1)



:

2) الثانية والرابع

:

3) الساعة / الاثني عشر

:

4) الخامسة وثمان

:

5) الواحدة / الاثني عشر

:

من احوط م م أو م م

13

am, pm

7:30 الذهاب الى المدرسة

am, pm

6:00 الذهاب لحفل زفاف

من احوط طول الفترة الزمنية

2) البداية am 4:15

النهاية am 9:30

1) البداية pm 5:07

النهاية pm 5:34

الأيام	1	2	3	4	5	6	7	8	9	10	11	12	13	14	15	16	17	18	19	20	21	22	23	24	25	26	27	28	29	30	31
الأيام	1	2	3	4	5	6	7	8	9	10	11	12	13	14	15	16	17	18	19	20	21	22	23	24	25	26	27	28	29	30	31

من الاستعمل التقويم الجاهز

لا تكتب من الأسئلة التالية

1) ما اسم هذا الشهر؟

2) كم يوم فيه؟

3) ما اسم الشهر التالي له؟

4) ما طول الفترة الزمنية من 4 تموز الى 27 تموز

من املأ الفراغ بالعدد المناسب

1) 6m = cm

2) 4km = m

3) 2kg = g

4) 5L = ml


5) 8m > cm

6) 3L < ml

ورقة (4) [أحمد أبو ورد]

المخطط =
المساحة =

1)



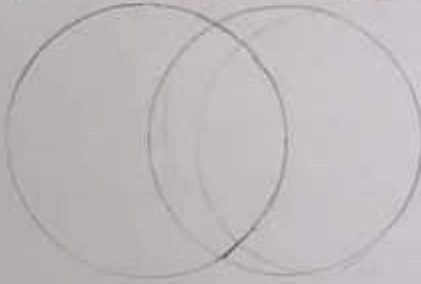
14
مساحة الشكل المظلل
بالاستعمال المثلث



المساحة =

15
استعمل شكل قن الطيور لترتيب الأشياء؟ حيوانات

تعيش في الماء تعيش على اليابسة



حوت، دلفين، غزال، بقرة

أسد، تمساح، سمكة، ضفدع

(1) كم حيواناً يعيش على اليابسة

(2) كم حيواناً يعيش في الماء ولا يعيش على اليابسة

(3) كم حيواناً يعيش على اليابسة وفي الماء

مسألة استعمال الجدول لا جيب من الأسئلة

(1) ما الشكل الذي لونه أحم

(2) ما الشكل الذي لونه أحم ولها 4 أضلاع

(3) في أي من الخانات يمكن وضع مثلث

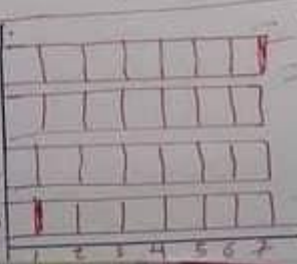
(4) ما الشكل الذي ليس له 4 أضلاع

حتى أصل جدول الاستعداد

تم استعمال الشكل البياني
بالاستعداد

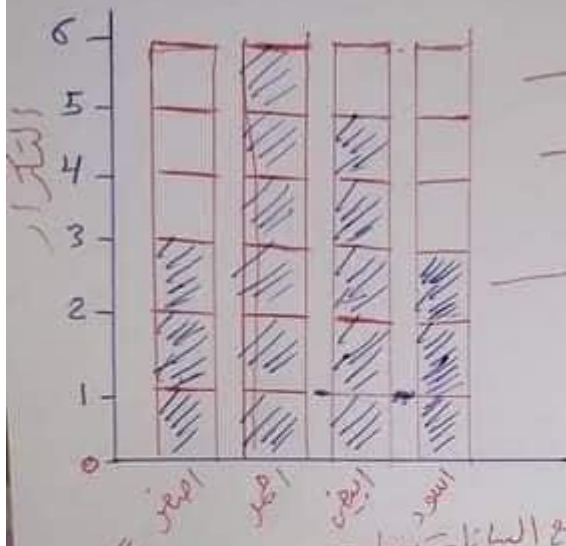
اللون	الشكل	العدد
أحمر	مربع	4
أزرق	دائرة	4
أخضر	مثلث	4
أصفر	مربع	4

اللون	العدد	الاستعداد
أحمر	1	أحمر
أزرق	11	أزرق
أخضر	111	أخضر
أصفر	1111	أصفر



ورقة (5) { ابو ورد }

استعمل القليل بالاعادة لا تمل الحبل الاشارة



(1) نسبة طلاب يفضلون اللون

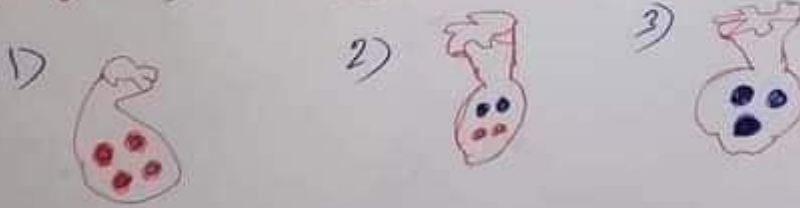
(2) اللون الأكثر تفضيلاً هو

(3) الذين يفضلون اللون اسود
يقول بطلاناً عن الذين يفضلون اللون

(4) عدد الذين يفضلون اللون
واللون نفسه من

(5) عدد الذين اجابوا عن سؤال جمع البيانات يساوي

عند سحب كرة من كرة ليس همراء فيكون احمر الكرات مكررة



ابو ورد
رياضياتكم وامتحاناتكم



الاسم : الدرجة :

اليوم :

الصف الثالث الأساسي اختبار العلوم النهائي للفصل الدراسي الثاني التاريخ / /

السؤال الأول : املأ الجدول حسب حالة كل مادة (سائلة , صلبة , غازية) ومن ثم حدد خصائصها من حيث الشكل (محدد , غير محدد) والحجم (ثابت , متغير) (9 علامات)



الحالة	الشكل	الحجم

السؤال الثاني : ضع دائرة حول رمز الإجابة الصحيحة لكل مما يلي (6 علامات)

• المادة التي تعد مخلوطاً من المواد الآتية :

أ- الحديد ب- الهواء ج- السكر د- الفضة

• نفصل برادة الحديد عن الرمل باستخدام :

أ- الترشيح ب- الغريلة ج- المغناطيس د- اليد

• الشكل المعالي الذي تكون فيه المياه عذبة :

أ- النهر ب- المحيط ج- البحر د- السهل



• نسبة الماء التي تغطي سطح الأرض تقريباً :

- أ- $\frac{1}{2}$ ب- $\frac{1}{3}$ ج- $\frac{1}{4}$ د- $\frac{3}{4}$

• المنطقة المنخفضة بين جبلين تسمى :

- أ- الجبل ب- الوادي ج- السهل د- الجزيرة



• تبدأ مراحل تكون الأحفورة بـ :

- أ- دفن الكائن في الرمل أو الماء ب- تحلل الأجزاء الطرية ج- موت الكائن الحي د- حياة الكائن الحي

• السؤال الثالث : ضع إشارة () أمام العبارة الصحيحة، وإشارة خطأ () أمام العبارة الخاطئة :

(4 علامات)

- أ- يُنظَّف زَيْدُ أَسْنَانِهِ عِنْدَمَا يَسْتَيْقِظُ مِنَ النَّوْمِ . ()
ب- يَلْعَبُ عُمَرُ فِي الْهَاتِفِ لِسَاعَاتٍ طَوِيلَةٍ . ()
ج- حَاسَةُ الثَّمَرِ تُسَاعِدُنِي فِي الْكَيْشَافِ الْخَيْرِ الْعَيْنِ . ()
د- تَسْرُبُ الْغَارِ فِي الْمَنْزِلِ يُسَبِّبُ الْإِخْتِنَاقَ وَالْحَرِيقَ . ()

(6 علامات)


• السؤال الرابع : املا الفراغ في الجمل الآتية بالمفهوم المناسب :

- أ- التَّصَرُّفُ الصَّحِيحُ مَعَ مَا يُحِيطُ بِنَا لِيَتَجَنَّبَ الْأَخْطَارَ
ب- الْمَادَّةُ النَّاتِجَةُ مِنْ خَلْطِ مَادَتَيْنِ أَوْ أَكْثَرَ مَعًا
ج- أَثَارٌ أَوْ بَقَايَا كَاتِبَاتٍ حَيَّةٍ عَاشَتْ فِي الْمَاضِي



انتهت الأسئلة

دعواتي لكم بالتوفيق والنجاح



الدرجة : _____

اليوم : _____

التاريخ : / /

الاسم : _____

الصف الثالث الأساسي

اختبار الرياضيات النهائي للفصل الدراسي الثاني

السؤال الأول : استعمل التمثيل بالأعمدة في الشكل المجاور واجب على الأسئلة (3 علامات)

الموز					
التفاح					
البرتقال					

• كم شخصاً يفضل الموز ؟

• بكم يزيد عدد الذين يفضلون التفاح عن البرتقال ؟

• كم شخصاً أجاب عن سؤال الفاكهة المفضلة ؟

السؤال الثاني : اكتب العدد المفقود (4 علامات)


3m = _____ cm

8 kg = _____ g

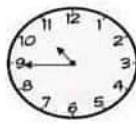
6 km = _____ m

7 L = _____ mL


السؤال الثالث : اقرأ الوقت ثم اكتبه (3 علامات)



_____ : _____




_____ : _____



_____ : _____

(3 علامات)

السؤال الرابع : اكتب الكسر الذي يمثل الجزء الملون



(7 علامات)

السؤال الخامس : اقسم ثم تحقق من صحة الإجابة

$$\begin{array}{r} 6 \overline{) 84} \end{array}$$

$$\begin{array}{r} 5 \overline{) 63} \end{array}$$

$$\begin{array}{r} 9 \overline{) 30} \end{array}$$



(6 علامات)

السؤال السادس : جد ناتج الضرب وتحقق من معقولية الإجابة

$$\begin{array}{r} 27 \\ \times 4 \\ \hline \end{array}$$

$$\begin{array}{r} 33 \\ \times 2 \\ \hline \end{array}$$



دعواتي لكم بالنجاح والتوفيق



المصحح : اللغة العربية
الصف: الثالث (أ)
التاريخ : / /
اليوم :

اختبار نهاية الفصل الدراسي الثاني

اسم الطالب

١٠ علامات

السؤال الأول: اقرأ النص التالي ثم استخرج من النص ما يلي:

انتهى العام الدراسي. فرح الطلبة بقدوم العطلة الصيفية. أسرعوا إلى التسجيل في المركز الصيفي الذي تقيم مدينتهم كل عام؛ ليمارس الطلبة فيه نشاطات متنوعة : علمية، ورياضية، وأدبية، ودينية.

- فَعْلٌ مُضارع: _____
- حَرْفُ جَزْ: _____
- لامٌ شَمْسِيَّة: _____
- اسمٌ مُوصول: _____
- كَلِمَةٌ فِيهَا واوُ الجَماعَةِ: _____
- فَعْلٌ مُضارعٌ: _____
- هَمْزةٌ وَصل: _____
- لامٌ قَمَرِيَّة: _____
- جَمْعٌ مُؤنَّثٌ مُسالِم: _____
- كَلِمَةٌ بِمعْنَى سَنَةٍ: _____

٤ علامات

السؤال الثاني: املأ الفراغ بالكلمة المناسبة مما بين القوسين:

(يَغْد، قَبِل، فَوْق، نَحْتَ)



- ١- يأتي الخريف _____ الشتاء .
- ٢- جلست زينة _____ الشجرة .
- ٣- أنظف أسناني _____ الأكل .
- ٤- ارتفعت الطائرة _____ البيوت .

٤ علامات

السؤال الثالث: املأ الفراغ بالكلمة المناسبة على نمط المثال:

اصنع	يصنع	صنع
العب		لعب

اقرأ	يقرا	
	يجلس	

علامتان

السؤال الرابع: أملأ الفراغ بأضداد الكلمات التالية:

١. مُرِيحَةٌ : _____
٢. مُتَفَرِّقَةٌ : _____
٣. النَّبْرُ : _____
٤. مُتَمَتِّعَةٌ : _____

٤ علامات

السؤال الخامس: ضع (ذلك ، تلك ، أنتم ، أنت) في الفراغ باطل:

- ١- _____ الطالبة نشيطة .
- ٢- _____ طفلان مهذبان .
- ٣- _____ أُمِّي الخلوثة .
- ٤- _____ الولد بارع .

علامة

السؤال السادس: غيّر بما لا يزيد عن سطرين عن مساعدتك للآخرين.



دعواتي لكم بالنجاح والتوفيق





الاسم :
 الصف : الثالث الأساسي (أ)
 اليوم :
 التاريخ : / /
 الاختبار النهائي لمادة التربية الإسلامية

السؤال الأول: ضع إشارة (√) بجانب العبارة الصحيحة، وإشارة (×) بجانب العبارة الخاطئة فيما يلي :

- ١ - الكتاب الذي حفظه الله تعالى من التغيير والتحريف هو القرآن الكريم. ()
- ٢ - يرفض سالم مساعدة زميله في حل المسائل الصعبة . ()
- ٣ - أصلاة الظهر سنة بعدية فقط. ()
- ٤ - تقديم الشكر لمن يقدم لك خدمة. ()
- ٥ - توفي بلال بن رباح رضي الله عنه سنة ٣٠ للهجرة. ()
- ٦ - يستأن خالد والديه عندما يرغب في اللعب. ()
- ٧ - نقل طالب إجابات الأسئلة من زميله أثناء الامتحان. ()
- ٨ - اسم قوم صالح عليه السلام هو سبأ. ()
- ٩ - اسم الشخص الذي قتل سمية رضي الله عنها هو أبو جهل. ()
- ١٠ - تعمد التاجر إخفاء عيوب سيارته حتى يبيعهها. ()



السؤال الثاني: صل بين الكلمة في العمود (أ) ومضاهها في العمود (ب): (٧ علامات)

العمود (أ)	العمود (ب)
فسوى	تأثر به
تؤثرون	بسطها
نداعى له	فائقن
ملحاهها	تفضلون
فعمروها	المعطر
الصيب	قتلوا

السؤال الثالث: أكمل الفراغ فيما يلي بالكلمة الصحيحة مما بين القوسين: (١٣ علامة)

(سمية ، يلال بن رباح ، عيسى ، ياسر ، اثنتان ، يودع أهله وأصحابه ، الدعاء ، عمار ، عدم ازعاج الآخرين ، قدحا ،

السفر ، نقعا ، صبحا)



- ١ - أنزل الله تعالى الإنجيل على سيدنا
- ٢ - عدد ركعات السنة البعدية لصلاة المغرب هي
- ٣ - مصطلح يشير إلى طلب الخير من الله تعالى، هو
- ٤ - من آداب السفر
- ٥ - آل ياسر هم و و
- ٦ - من أسماء الله تعالى الحسنى ويعني أن الله تعالى ينعم على المخلوقات جميعها بما تحتاج.....
- ٧ - أول مؤذن في الإسلام هو
- ٨ - من آداب اللعب
- ٩ - (الله أكبر ، الله أكبر ، الله أكبر) سبحان الذي سخر لنا هذا وما كنا له مقرنين وإنا إلى ربنا لمنقلبون)) .
دعاء
- ١٠ - قال تعالى : ((والعاديات ضبحا (١) فالمواريث..... (٢) فالمغيرات (٣) فالترن به
.....))



دعواتي لكم بالنجاح والتوفيق

أقيم تعليمي:

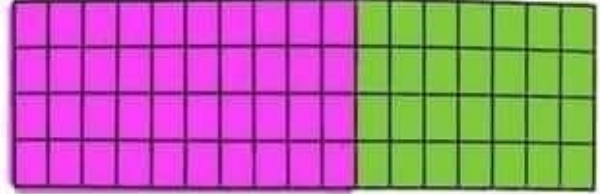


استعمل خاصية التوزيع لأجد ناتج الضرب بالاستعانة بملوّن الشبكة:

$$4 \times 17 = (4 \times 10) + (4 \times 7)$$

$$= 40 + 28$$

$$= 68$$



$$2 \times 11 = (2 \times 10) + (2 \times 1)$$

$$= 20 + 2$$


$$= 22$$



$$3 \times 13 = (3 \times 10) + (3 \times 3)$$

$$= 30 + 9$$

$$= 39$$



استعمل خاصية التوزيع لأجد ناتج الضرب:

$6 \times 23 = 6 \times 20 + 6 \times 3$ $= 120 + 18$ $= 138$	$9 \times 71 = 9 \times 70 + 9 \times 1$ $= 630 + 9$ $= 639$
$3 \times 38 = 3 \times 30 + 3 \times 8$ $= 90 + 24$ $= 114$	$2 \times 85 = 2 \times 80 + 2 \times 5$ $= 160 + 10$ $= 170$

تواصل معنا
0792004566اعداد : سهام رمضان
اسم المعلم: سهام رمضان

أقيم تعليمي:

أجد ناتج القسمة:

$21 \div 3 = 7$

$36 \div 4 = 9$

$56 \div 8 = 7$

$27 \div 9 = 3$

$40 \div 8 = 5$

$28 \div 7 = 4$

$35 \div 5 = 7$

$12 \div 4 = 3$

$12 \div 6 = 2$

أستعمل مثلث الحقائق لكتابة حقيقة ضرب وحقيقة قسمة مترابطتين:

$\begin{array}{c} 8 \\ \triangle \\ 32 \quad 4 \end{array}$	$4 \times 8 = 32$ $32 \div 4 = 8$	$\begin{array}{c} 90 \\ \triangle \\ 10 \quad 9 \end{array}$	$10 \times 9 = 90$ $90 \div 9 = 10$
$\begin{array}{c} 6 \\ \triangle \\ 6 \quad 36 \end{array}$	$6 \times 6 = 36$ $36 \div 6 = 6$	$\begin{array}{c} 5 \\ \triangle \\ 20 \quad 4 \end{array}$	$5 \times 4 = 20$ $20 \div 4 = 5$

أقسم ثم أتحقق من صحة إجابتي:

النتيجة

$$\begin{array}{r} 13 \\ 5 \times \\ \hline 65 \\ 4 + \\ \hline 69 \end{array}$$

5

$$\begin{array}{r} 13 \\ 69 \\ 5 - \\ \hline 19 \\ 15 - \\ \hline 4 \end{array}$$

النتيجة

$$\begin{array}{r} 22 \\ 2 \times \\ \hline 44 \\ 1 + \\ \hline 45 \end{array}$$

2

$$\begin{array}{r} 22 \\ 45 \\ 4 - \\ \hline 05 \\ 4 - \\ \hline 1 \end{array}$$

النتيجة

$$\begin{array}{r} 13 \\ 4 \times \\ \hline 52 \\ 2 + \\ \hline 54 \end{array}$$

4

$$\begin{array}{r} 13 \\ 54 \\ 4 - \\ \hline 14 \\ 12 - \\ \hline 2 \end{array}$$

النتيجة

$$\begin{array}{r} 14 \\ 6 \times \\ \hline 84 \\ 3 + \\ \hline 87 \end{array}$$

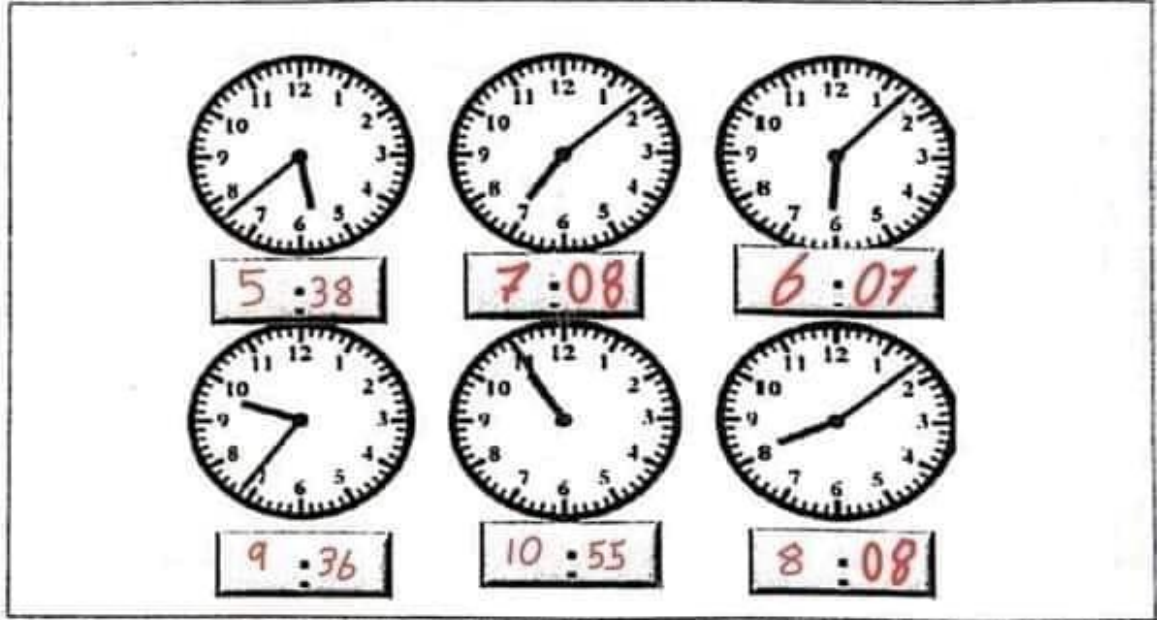
6

$$\begin{array}{r} 14 \\ 87 \\ 6 - \\ \hline 27 \\ 24 - \\ \hline 3 \end{array}$$

تواصل معنا
0792004566

اسم المعلم: سهام رمضان

اقرأ الوقت ثم أكتبه في الساعة الرقمية:



أجد طول الفترة الزمنية التي يقضيها كل طالب في ممارسة الرياضة:

وقت البداية p.m.	وقت النهاية p.m.	طول الفترة الزمنية
 7 : 03	 7 : 50	47 دقيقة
 5 : 20	 6 : 05	45 دقيقة

رشا

محمود

أقيم تعليمي:



بد طول الفترة الزمنية بين كل تاريخين محددين على التقويم:

حزيران						
السبت	الأحد	الاثنين	الثلاثاء	الأربعاء	الخميس	الجمعة
					1	2
3	4	5	6	7	8	9
10	11	12	13	14	15	16
17	18	19	20	21	22	23
24	25	26	27	28	29	30

استعمل التقويم لأجيب عن الأسئلة الآتية:

1. ما اسم هذا الشهر؟ **حزيران**2. كم يوماً فيه؟ **30**3. ما هو التاريخ بعد 10 أيام من تاريخ 18 حزيران؟ **$18+10=28$**

4. خرج كنان في رحلة في 12 حزيران وعاد بعد 7 أيام، في أي يوم

يعود كنان؟ **$12+7=19$**

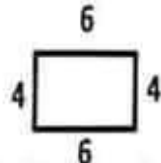
أقيم تعليمي:




أختار رمز الإجابة الصحيحة في ما يأتي:

محيط كل شكل هو:

أ - 20
ب - 10
ج - 12




$$6+4+6+4=20$$



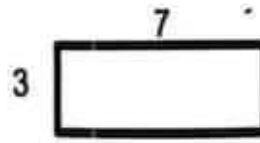
$$4 \times 3 = 12$$

أ - 9
ب - 12
ج - 3

أ - 20
ب - 18
ج - 9



$$5+5+4+4=18$$



$$3+3+7+7$$

أ - 20
ب - 10
ج - 14

تواصل معنا
0792004566

اسم المعلم: سهام رمضان

أوجد الضلع المجهول:

<p>المحيط = 14 سنتيمتر</p> <p>3 سم 2 2 3</p> <p>??</p> <p>$3 + 3 + 2 + 2 = 10$ $14 - 10 = 4$</p> <p>الضلع المجهول = 4</p>	<p>المحيط = 9 سم</p> <p>5 سم 2</p> <p>??</p> <p>$5 + 2 = 7$ $9 - 7 = 2$</p> <p>الضلع المجهول = 2 سنتيمتر</p>
--	---

أقيم تعليمي:



: أستخدم الجدول ذا الاتجاهين المجاور لأجيب عن الأسئلة الآتية:

	السباحة	لعبة كرة الملة	لعبة تنس
الأولاد	7	8	5
البنتات	5	4	6

1. ما عدد الفتيات اللاتي يفضلن لعبة التنس؟ 6
2. ما عدد الأولاد جميعاً؟ $7 + 8 + 5 = 20$
3. ما عدد الأولاد الذين يفضلون السباحة؟ 7
4. ما عدد الفتيات اللاتي يفضلن كرة الملة والسباحة؟ $4 + 6 = 10$

تواصل معنا
0792004566اعداد : سهام رمضان
اسم المعلم: سهام رمضان

استعمل الجدول ذا الاتجاهين المجاور في تصنيف الأعداد الآتية:


	أكبر من 70	أصغر من 70
زوجي	86 / 94	23 / 45
فردى	71	14

23	86	45
14	71	94

أقيم تعليمي:



استعمل التمثيل بالأعمدة المجاور لأجيب عن الأسئلة الآتية:



1. أعلى علامة في الامتحان هي **30**

2. العلامة التي حصل عليها سند هي **15**

3. كم تزيد علامة سعيد عن علامة محمود **20-10=10**

4. ما العلامة التي حصل عليها ناصر **25**



العلامة

وزارة التربية والتعليم

مديرية التربية والتعليم

مدرسة



اختبار نهاية الفصل الدراسي الثاني لمادة الرياضيات 2022 - 2023

الزمن :

الصف والشعبة : الثالث الابتدائي

التاريخ : 2023_ _

الاسم :

السؤال الأول : أجد ناتج الضرب فيما يلي : (5 علامات)

2 1
× 5

4 3
× 9

9 2
× 2

$$6 \times 42$$

$$5 \times 29$$

$$\underline{\hspace{1cm}} \times \underline{\hspace{1cm}} = \underline{\hspace{1cm}}$$

$$\underline{\hspace{1cm}} \times \underline{\hspace{1cm}} = \underline{\hspace{1cm}}$$

السؤال الثاني : جد ناتج القسمة : (4 علامات)

2	8
---	---

4	6
---	---


$$5 \overline{) 22}$$

$$8 \overline{) 75}$$

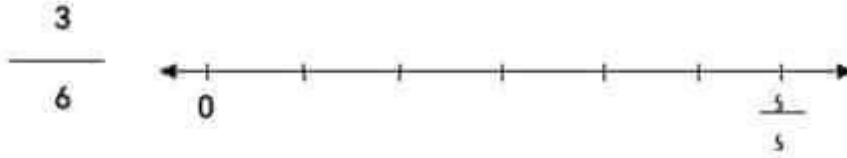
السؤال الثالث : اكتب الكسر الذي يمثل الجزء الملون : (3 علامات)







السؤال الرابع : أمثل الكسر على خط الأعداد : (2 علامات)



السؤال الخامس : اقرأ الوقت ثم اكتبه في الساعة الرقمية : (3 علامات)







السؤال السادس : اكتب العدد المفقود : (4 علامات)

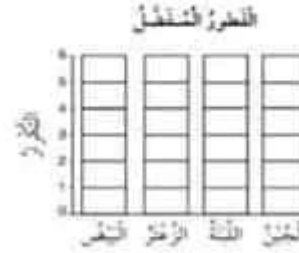
$$M \text{ ----- } KM = \quad \quad \quad g \text{ ----- } Kg =$$

$$ML \text{ ----- } L = \quad \quad \quad CM \text{ ----- } M =$$

السؤال السابع : (4 علامات)

أكمّل جدولَ الإشارات، ثُمَّ استعملهُ لتَنصِلَ البيانات بالأهميّة:

التنوّز المنقّط	الإشارات	التنوّز
فتخر		
الرّغفر		
الليّنة		
المجنّ		

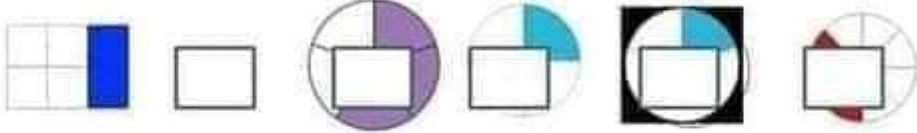


التقويم الرابع في مادة الرياضيات
للعام الدراسي 2022/ 2023

الاسم:
الصف الثالث الاساسي ()
25
2023/ / :
مدة الامتحان: حصة صفية

ملاحظة: أجب عن الأسئلة الآتية جميعها و عددتها (3) أسئلة علماً بأن عدد الصفحات (3).

السؤال الأول: اكتب الكسر الذي يمثل الجزء المملن * 3 علامات *



من ما يدل عليه الكسر و اكتبه بالأرقام

2- السؤال الثاني: الو

فيما يلي: علامة



ست أثمار



أربع أسداس

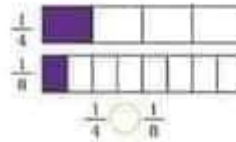
3- السؤال الثالث: (أ) علامة

أكتب الكسر الذي يُمثّل النقطة أ:



إشارة ب

باستخدام الرسم التالي: علامة



ب) أضع

=

ج) اللون ما يدل عليه الكسر المجاور وأرتب الكسر

ترتيباً تصاعدياً 3 علامات

$\frac{2}{5}$					
$\frac{3}{4}$					
$\frac{1}{6}$					

د) أجد ناتج ما $\frac{1}{6}$ من 18 $\frac{1}{4}$ من 40 $\frac{1}{3}$ من 27 $\frac{2}{3}$ من 30

باستخدام

مات



السؤال الرابع : أقرأ الساعات الآتية
الدقائق واستخدام (ؤ) (إ) 3 علا





السؤال الخامس : أجد الفترة الزمنية فيما يلي : علامة

البداية 5:20 النهاية 5:55

السؤال السادس : 3 علا

مات

الجمعة	الجمعة	الجمعة	الجمعة	الجمعة	الجمعة	الجمعة
1	2	3	4	5	6	7
8	9	10	11	12	13	14
15	16	17	18	19	20	21
22	23	24	25	26	27	28
29	30	31				

أنتكمل التمرين المجاور لأجيب عن الأسئلة الآتية:

1. ما نشم هذا الشهر؟
2. كم يوماً فيه؟
3. ما نشم الشهر التالي له؟
4. ما نشم الشهر التالي له؟
5. ما طول الفترة الزمنية من 5 آب إلى 30 آب؟
6. ما هو التاريخ بعد 10 أيام من 11 آب؟

السؤال السابع : 4 علامات

أنتخب شكلين من المجاور لأجيب عن الأسئلة الآتية:

1. ☐ نعم شكله مستويًا له أربعة أضلاع؟ ☐ لا

2. ☐ نعم شكله مستويًا وله أربعة أضلاع؟ ☐ لا

3. ☐ ما الأشكال المستوية التي لوها الأزرق وليس لها أربعة أضلاع؟ ☐ لا

4. ☐ نعم شكله مستويًا له أربعة أضلاع وله لون ليس أزرق؟ ☐ لا

5. ☐ نعم شكله مستويًا في شكلين من المجاور؟ ☐ لا

السؤال الثامن : 3.5 علامة أحول المقادير الآتية إلى ما هو مطلوب :

5 Kg g
9 l ml
200cm m
7k m cm
1000 ml l
1 m ≤ <input type="text"/>	3000g ≥ <input type="text"/>

أعوط القيمة المناسبة: علامة ١

1. ☐ أبيض ☐ مستطيل ☐ مستطيل

2. ☐ أصفر ☐ مستطيل ☐ مستطيل

3. ☐ أخضر ☐ مستطيل ☐ مستطيل

دائرة الشؤون التعليمية
مركز التطوير التربوي
الوحدة التقويمية
2022 /
الفصل الثاني
الاختبار الموحد /
مبحث الرياضيات

نموذج
A

25

اسم المدرسة :
اسم الطالب :
زمن الاختبار : ساعة :
الشعبة : _____

السؤال الأول: جذ ناتج ما يلي:

(8 علامات)

$6 \times 50 =$	$\begin{array}{r} 14 \\ \times 2 \\ \hline \end{array}$	$\begin{array}{r} 57 \\ \times 3 \\ \hline \end{array}$
-----------------	---	---

السؤال الثاني: جذ ناتج القسمة:

(7 علامات)

$350 \div 7 =$	$5 \overline{) 75}$	$8 \overline{) 93}$
----------------	---------------------	---------------------

سؤال الثالث: وزع رجل 52 ديناراً على 4 ففراء بالتساوي، كم ديناراً نصيب كل واحد منهم؟ (ممتحن)

سؤال الرابع: اكتب الكسر الذي يمثل الجزء المظلل:

(علامة واحدة)

2 / 1

2022-2021 / الفصل الثاني / الصف الأول / الرياضيات / نموذج (A)

السؤال الخامس: اكتب الكسر المكافئ مستخدماً خط الأعداد:

(علامة واحدة)

$\frac{1}{4} = \frac{\quad}{\quad}$

0 $\frac{1}{4}$ $\frac{2}{4}$ $\frac{3}{4}$ 1

0 $\frac{1}{8}$ $\frac{2}{8}$ $\frac{3}{8}$ $\frac{4}{8}$ $\frac{5}{8}$ $\frac{6}{8}$ $\frac{7}{8}$ 1

السؤال السادس: جذ طول الفترة الزمنية:

(علامة واحدة)

النهاية (a.m.) 08:45 البداية (a.m.) 04:15

ساعة _____ دقيقة _____

السؤال السابع: اكتب العدد المفقود:

(علامة واحدة)

4 km = _____ m 2 L = _____ mL

السؤال الثامن: جذ مساحة المستطيل بالوحدات المربعة:

(علامة واحدة)

_____ X _____ = _____

السؤال التاسع: يُبين الشكل الفاكهة الأكثر تفضيلاً للطلبة، أجب عما يلي:

(3 علامات)

أ- ما عدد الطلبة الذين يفضلون العنب ()

ب- ما الفاكهة الأكثر تفضيلاً للطلبة ()

ج- ما مجموع عدد الطلبة ()

5
4
3
2
1
0

عنب موز تفاح تين

« انتهى الاختبار »

2 / 22 / الفصل الثاني / الصف الأول / الرياضيات / نموذج (أ) 2021-2022



الدرجة : _____

الاسم :

اليوم :

التاريخ / /

اختبار الرياضيات النهائي للفصل الدراسي الثاني

الصف الثالث الأساسي

السؤال الأول : استعمل التمثيل بالأعداد في الشكل المجاور واجب على الأسئلة (3 علامات)

الموز						
التفاح						
الميرتقال						

• كم شخصاً يفضل الموز ؟

• بكم يزيد عدد الذين يفضلون التفاح عن البرتقال ؟

• كم شخصاً أجاب عن سؤال الفاكهة المفضلة ؟



(4 علامات)

3m = _____ cm

8 kg = _____ g

السؤال الثاني : اكتب العدد المفقود

6 km = _____ m

7 L = _____ mL

(3 علامات)

السؤال الثالث : اقرأ الوقت ثم اكتبه



_____ :




_____ :



_____ :

(3 علامات)

السؤال الرابع : اكتب الكسر الذي يمثل الجزء الملون



(7 علامات)

السؤال الخامس : اقسم ثم تحقق من صحة الإجابة

$$\begin{array}{r} 6 \overline{) 84} \end{array}$$

$$\begin{array}{r} 5 \overline{) 63} \end{array}$$

$$\begin{array}{r} 9 \overline{) 30} \end{array}$$



(6 علامات)

السؤال السادس : جد ناتج الضرب وتحقق من معقولية الإجابة

$$\begin{array}{r} 27 \\ \times 4 \\ \hline \end{array}$$

$$\begin{array}{r} 33 \\ \times 2 \\ \hline \end{array}$$



دعواتي لكم بالنجاح والتوفيق

السؤال الأول: أ) اكتب الكسر الذي يمثل الجزء الملون بالأرقام وبالكلمات:

علامات 3

بالكلمات:

$\frac{\boxed{}}{\boxed{}}$

ب) لون الكسر المعطى:

5

8

السؤال الثاني: أ) اكتب الكسر الذي يمثل عدد الدوائر السوداء:

علامتان

$\frac{\boxed{}}{\boxed{}}$

ب) لون الكسر المعطى:

7

9

السؤال الثالث: اكتب الكسر الذي يمثل عدد الأجزاء الملونة من الكل:

علامات 3

$\frac{\boxed{}}{\boxed{}} = \frac{\boxed{}}{\boxed{}}$

السؤال الرابع: اكمل كتابة الكسور على خط الأعداد:

علامات 3

0 2 4 6 8

المعلمة سحر حابس اللحام

بسم الله الرحمن الرحيم



المملكة الأردنية الهاشمية
وزارة التربية والتعليم
مدرسة

مديرية التربية والتعليم

امتحان نهاية الفصل الدراسي الثاني لعام 2022-2023

مدة الامتحان: د: س1

المبحث: اللغة العربية / الفصل الثاني

اليوم والتاريخ: 2023/ /

الصف: الثالث الأساسي ()

ملحوظة: أجب عن الأسئلة الآتية جميعها، علماً بأن عددها: (7)، وعدد الصفحات: (2).

السؤال الأول: (11 علامات)

اقرأ النص الآتي ثم اجيب عما يليه

(يعيش شعب الاسكيمو في الأماكن القطبية , وبلادهم تغطيهم الثلوج على مدار السنة , ويننون بيوتهم من الثلج , ويجعلون لها أبواباً صغيرة فيضطر الواحد منهم الى الزحف على ركبته لدخول منزله .

1- اين يعيش الشعب الاسكيمو ؟

2- من ماذا يننون بيوتهم ؟

3- كيف يدخلون منازلهم ؟

4- استخرج من النص ما يلي :

فعل مضارع	حرف جر واسم مجرور
لام قمرية	لام شمسية
تنوين فتح	ضمير متصل
همزة قطع	جمع مذكر سالم

السؤال الثاني: (5 علامات) ضع دائرة حول ضد الكلمة:

1- جريحة----- (مفية , هادئة)

2- الحرب (الفوطي , السلم)

3- البحر ----- (البر , اليابسة)

4- الحي ----- (النهار , الميت)

5- الكبير ----- (الصغير , الطويل)

الصفحة الثانية

السؤال الثالث : (5 علامات)

اكتب الضمير المناسب في الفراغ :

- 1..... الطالب نشيط (هذا , هذه)
- 2..... لاعبان ماهران (انتما , انتم)
- 3..... طالبة متميزة (انت , انتن)
- 4.....اصدقاء اوفياء (انتم , انا)
- 5..... مسلم (انا , نحن)

السؤال الرابع : (5 علامة)

مل الجدول الاتي :

فعل ماضي	فعل مضارع	فعل امر
لعب
.....	يقرا
.....	اجلس
شرب

السؤال الخامس : (4 علامة)

الكلمة	جمع المذكر السالم	جمع المؤنث السالم
معلم
مهندس



اليوم :
التاريخ : / /

الاسم :
الصف : الثالث الأساسي (أ)

الاختبار النهائي لمادة التربية الإسلامية

السؤال الأول: ضع إشارة (√) بجانب العبارة الصحيحة، وإشارة (✖) بجانب العبارة الخاطئة فيما يلي :

- ١ - الكتاب الذي حفظه الله تعالى من التغير والتحرير هو القرآن الكريم. ()
- ٢ - يرفض سالم مساعدة زميله في حل المسائل الصعبة. ()
- ٣ - لصلاة الظهر سنة بعنية فقط. ()
- ٤ - تقديم الشكر لمن يقدم لك خدمة. ()
- ٥ - توفي بلال بن رباح رضي الله عنه سنة ٣٠ للهجرة. ()
- ٦ - يستأنن خالد والنيه عندما يرغب في اللعب. ()
- ٧ - نقل طالب إجابات الأسئلة من زميله أثناء الامتحان. ()
- ٨ - اسم قوم صالح عليه السلام هو سبأ. ()
- ٩ - اسم الشخص الذي قتل سمية رضي الله عنها هو أبو جهل. ()
- ١٠ - تعمد التاجر إخفاء عيوب سيارته حتى يبيعهها. ()



(٧ علامات)

السؤال الثاني: صل بين الكلمة في العمود (أ) ومعناها في العمود (ب):

العمود (أ)	العمود (ب)
فسوى	تأثر به
تؤثرون	بسطها
تداعى له	قاتلن
ملحاحا	تفعللون
لفقروها	المطر
العصيب	قتلها

(١٣ علامة)

السؤال الثالث: أكمل الفراغ فيما يلي بالكلمة الصحيحة مما بين القوسين:

(سمية ، بلال بن رباح ، عيسى ، ياسر ، اثنتان ، يودع أهله وأصحابه ، الدعاء ، عمار ، عدم ازعاج الآخرين ، فثحا ،

السفر ، نفعا ، صبحا)



١ - أنزل الله تعالى الإنجيل على سيدنا

٢ - عند ركعتي السنة البعدية لصلاة المغرب هي

٣ - مصطلح يشير إلى طلب الخير من الله تعالى، هو

٤ - من آداب السفر

٥ - آل ياسر هم و و

٦ - من أسماء الله تعالى الحسنى ويعني أن الله تعالى ينعم على المخلوقات جميعها بما تحتاج

٧ - أول مؤذن في الإسلام هو

٨ - من آداب اللعب

٩ - (الله أكبر ، الله أكبر ، الله أكبر) سبحان الذي سخر لنا هذا وما كنا له مقرنين وإنا إلى ربنا لمنقلبون)((.

دعاء

١٠ - قال تعالى : ((والعاديات ضبحا (١) فالموريات (٢) فالمغيرات (٣) فالترن به))



دعواتي لكم بالنجاح والتوفيق

(ورقة عمل استخراج معاني كلمات وأنماط لغوية من درس عيسى العوام)

كتب معاني الكلمات الآتية بشكل صحيح حسب ما ورد في الدرس :

المعنى	الكلمة	المعنى	الكلمة
	شَد	العوام	
	أَدَى	حاصرهما	
	لَمْ يَأْت	وسطه	
		يشعر	

كتب ضد الكلمات الآتية :

الكلمة	ضدھا	الكلمة	ضدھا
عربي		ليلا	
يحمل		ميتا	
حاصرھا		الامانة	

ستخرج من درس القراءة (عيسى العوام) الانماط اللغوية الآتية :

[illegible]

معلمكم المحب : محمد الحاج

٢- منع كلمة (لدى) مكان كلمة (أسامة) وأجر التعيد اللازم:
ذهب أسامة وأمه إلى السوق.

٣- املا الفراغ بالكلمة المناسبة على نمط المثال:

رَبَّتْ الْمَتَى لُحْفَقَه	رَبَّتْ الْمَتَى لُحْفَقَه
١- منع أَمْسَ الْغُيَازَ.	رَبَّتْ الْمَتَى لُحْفَقَه
ب- تَخَلَّتْ سَتَاءُ الْمَكْتَبَةِ.	رَبَّتْ الْمَتَى لُحْفَقَه

٤- املا الفراغ بما يناسبه مما بين القوسين (من، إلى، في، على، عن):
خَرَجَتْ أُمُّ الْبَيْتِ، وَهَبَتْ الْخَدِيقَةَ، فَشَاهَدَتْ وَزْدَةَ
وَقَالَتْ: سَأَتَزْكُهَا مَكَانَهَا، لِيَسْتَفْتَعَ الْجَمِيعُ بِمَنْظَرِهَا.

ثالثاً: الكتابة:

١- املا الفراغ بما يناسبه مما بين القوسين (أ، آ، و، د، هـ):
أ- مَنْ يُوَكِّرُ الصَّدِيقَ بِالرُّسُولِ عَلَيْهِ الصَّلَاةُ وَالسَّلَامُ.
ب- زَمَمَ نِسَ طَا رَا جَمِيلًا.

٢- املا الفراغ بإحدى الكلمتين (علا، على)، كما في المثال:
أ- الْمَقْعَدُ كِتَابٌ مُفِيدٌ.
ب- صَوْتُ الْأَذَانِ فِي الْقُنْسِ.

٣- ضَعِ دَائِرَةً حَوْلَ الْكَلِمَةِ الَّتِي فِيهَا أَلِفٌ تُلْفَظُ وَلَا تُكْتَبُ:
أ- الْفَارِبُ كَبِيرٌ لَكِنْ السَّقِينَةُ أَكْبَرُ.
ب- ذَلِكَ الْعَامِلُ نَشِيطٌ.

وزارة التربية والتعليم
مركز التطوير التربوي / وحدة التقويم
الفصل الدراسي الثاني ٢٠١٦ / ٢٠١٧
التقويم الرابع / الصف الثالث الأساسي / مادة اللغة العربية

اسم المدرسة:
اسم الطالب:
رقم الجلوس: ٢٥

أولاً: القراءة والفهم والاستيعاب: اقرأ النص التالي وأجب عن الأسئلة التي تليه. (٧ علامات)

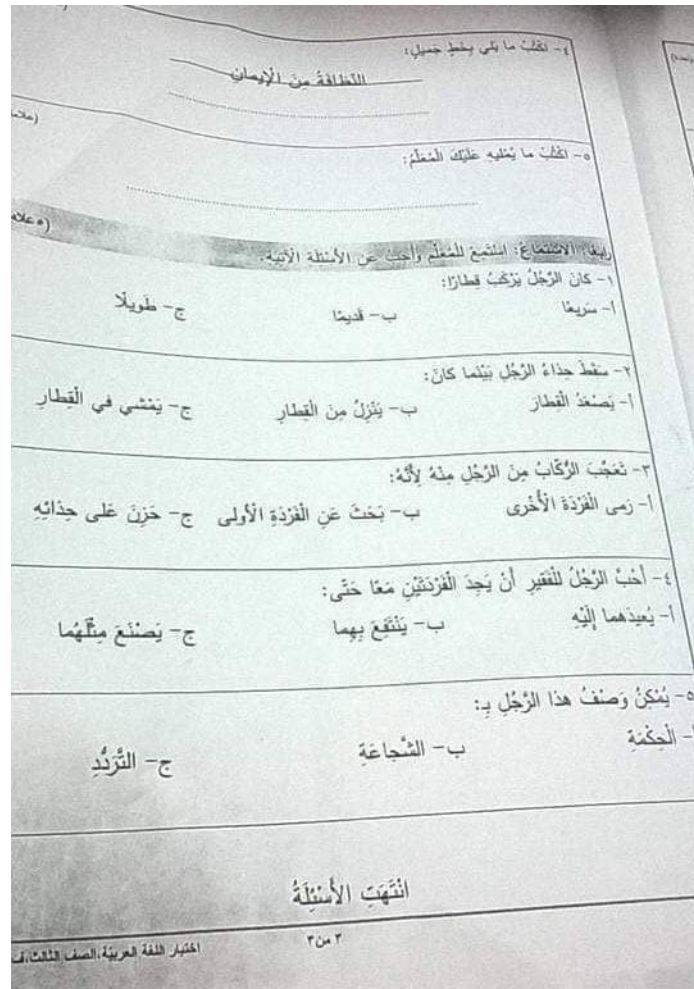
التهت المُنْمَلَةُ السَّقِينَةُ فَرَحَ الْأَطْفَالُ بِدُخُولِ الْمُنْتَرَةِ. سَالَتْ مَنَظْمَةُ اللُّغَةِ الْعَرَبِيَّةِ: مَاذَا تَعْلَمْتُمْ فِي الصَّفِّ الثَّالِثِ يَا أَبْنَانِي. قَالَ زَيْدٌ: تَعْلَمْتُ أَنَّ خُبْزَ الْأَسْكِمُو يَتَوَنُّ نُيُونَهُمْ مِنَ التَّلْجِ وَيَخْفَرُونَ خُفْرَةً فِي الْجَلِيدِ لِيَصْطَلِبُوا السَّمَكَ. قَالَتْ سَلْمَى: عَرَفْتُ أَنَّ الْغَدَاءَ الْمُتَوَازِنَ يَحْتَوِي عَلَى الْمَوَادِّ الَّتِي تُبْنِي الْجِسْمَ، وَتُعْذُّ بِالْمَقَاقِفِ. قَالَ خَالِدٌ: تَعْلَمْتُ أَنَّ عَيْسَى الْغَوَامِ غَوَاصٌّ عَرَبِيٌّ مُتَلِمٌ كَانَ يَحْمِلُ الْأَمْنَالَ وَالزَّمَانِلَ إِلَى عَقَا عِلْمًا حَاصَرَهَا الْفَرِجَةُ، لَكِنَّهُ دَاتَ مَرَّةً غَرِقَ فَوْجِدَةً ثَامِسًا مَيِّتًا عَلَى الشَّاطِئِ. قَالَتْ الْمُعَلِّمَةُ: أَحْسَنْتُمْ يَا أَبْنَانِي وَبَارَكَ اللَّهُ فِيكُمْ.

١- لماذا فرح الأطفال؟
٢- كيف يصطاد شعب الأسكيمو السمك؟
٣- على ماذا يحتوي الغذاء المتوازن؟
٤- كيف ساعد عيسى الغوام الناس أثناء جفاف عكا؟
٥- استخرج من النص كلمة بمعنى كلمة (تزوّد):
٦- استخرج من النص كلمة ضد كلمة (حيًا):
٧- ما رأيك بعيسى الغوام؟

ثانياً: التدريبات:

١- املا الفراغ بما يناسبه مما بين القوسين (أين، متى، ماذا):
تَعَمَّ الْعَقِيَّةُ
فَعَلْتُ فِي الْعُطْلَةِ
تَعَوَّدُ مِنَ السَّقَرِ
يَعِيشُ الْحَوْثُ

٢- ضَعِ دَائِرَةً حَوْلَ الْكَلِمَةِ الَّتِي فِيهَا أَلِفٌ تُلْفَظُ وَلَا تُكْتَبُ:
أ- الْفَارِبُ كَبِيرٌ لَكِنْ السَّقِينَةُ أَكْبَرُ.
ب- ذَلِكَ الْعَامِلُ نَشِيطٌ.



نموذج مقترح للامتحان النهائي لمادة اللغة العربية للصف الثالث

السؤال الأول : اقرأ الفقرة الآتية ثم أجب عن الأسئلة التي تليها

عيسى العوّام غوّاص عَرَبِيّ مُسْلِمٌ ، اشْتَرَكَ مَعَ الْقَائِدِ صَلَاحِ الدِّينِ الأَيُّوبِيِّ فِي حَرْبِ الْفِرْنَجَةِ . كَانَ يَحْمِلُ الْأَمْوَالَ وَالرَّسَائِلَ إِلَى عَكَا عِنْدَمَا حَاصَرَهَا الْفِرْنَجَةُ ؛ حَيْثُ كَانَ يَرْبُطُهَا عَلَى وَسْطِهِ ، وَيَسْبِجُ لَيْلًا فَلَا يَشْعُرُ بِهِ أَحَدٌ وَيُوصِلُهَا إِلَى عَكَا .

- 1 - من البطل المسلم الذي تَحَدَّثَ عَنْهُ النَّصُّ ؟
- 2 - من الذين حاصروا مدينة عكا ؟
- 3 - كيف كان عيسى العوّام يوصل الرسائل إلى عكا ؟
- 4 - استخرج من الفقرة ما يلي

اسم	فعل	حرف جر
اسم مجرور	لام شمسية	لام قمرية
جمع تكسير	همزة قطع	همزة وصل
همزة على نبرة	كلمة مشددة	كلمة منونة
كلمة بمعنى " أحاط بها "	كلمة ضدها " السَّلَم "	

السؤال الثاني : أكتب بجانب كل كلمة معناها المناسب

تَجَرَّهَا	تَقِيهِم	العوّام
أَحْسَ	اصْطَحَبَهُ	الحَرْبُ

إعداد المعلمة : أسماء الخطاييه <https://www.facebook.com/asmaa.khataybeh.5>

السؤال الثاني : ضع ○ دائرة حول رمز الإجابة الصحيحة في كل ما يلي .

1 - أي مما يلي جمع مذكّر سالم

أ - يَصِيدُونَ ب - مَاهِرُونَ ج - يَسْتَخْدِمُونَ

2 - مِصْبَاح : مَصَابِيحُ اكمل على نفس النمط مفتاح -----

أ - مِفَاتِيحُ ب - مِفْتَاحَانِ ج - مِفَاتِيحُ

3 - ضمير المخاطب المناسب في الفراغ في جملة " ----- عاملان مُخلصان "

أ - نَحْنُ ب - أَنْتُمَا ج - هُمَا

4 - ضمير الغائب المناسب في الفراغ في جملة " ----- طالبة مُجتهدة "

أ - أَنْتِ ب - أَنَا ج - هِيَ

5 - ماتَ عيسى العوام

أ - قَتَلَا ب - غَرَقَا ج - جوعَا

6 - أي مما يلي كتابتها الإملائية خاطئة

أ - مُعَرِّدًا ب - سَمَاءًا ج - شَجَرَةً

7 - الكلمة المناسبة لملء الفراغ في جملة " يُشْرِفُ ----- على تطبيق النظام "

أ - القَائِدُ ب - القَائِدُ ج - القَائِدُ

8 - تَمَنَّى خَلِيلٌ أَنْ ----- أَخْلَامُهُ .

أ - تَتَحَقَّقُ ب - تَتَحَقَّقُ ج - تَتَحَقَّقُ

9 - عَامِرٌ لَمْ ----- وَاجِبُهُ .

أ - يُهْمِلُ ب - يُهْمِلُ ج - يُهْمِلُ

10 - التشكيل الصحيح للكلمة المناسبة لملء الفراغ في جملة

" أَنَا ----- مَعَ رِفَاقِي . نَعَالَ وَاجِلِسْ مَعَنَا .

أ - أَجْلِسْ ب - أَجْلِسْ ج - أَجْلِسْ

إعداد المعلمة : أسماء الخطايبه <https://www.facebook.com/asmaa.khataybeh.5>

11 - " ----- في المسابقة الدينية "

أ - اِشْتَرَكُوا ب - اشْتَرَكُوا ج - اشْتَرَكُو

12 - تُحَافِظُ رُوَيْدَ----- على كُتُبِهَا .

أ - ه ب - ت ج - ة

13 - أَهَالِي الْحَيِّ يُعَانُونَ ----- في أَسْنَانِهِمْ .

أ - أَلَمًا ب - آلامن ج - أَلَمًا

14 - وَصَلَ سَعِيدٌ وَأَخُوهُ وَ----- عَلَى الْعُشْبِ .

أ - جَلَسُوا ب - جَلَسَا ج - جَلَسَانِ

15 - مَوْهَبَةٌ : مَوَاهِبُ اِحْمِلْ عَلَى نَفْسِ النَّمْطِ " منزلة : ----- "

أ - مَنَزَلَتَانِ ب - مَنَازِلُ ج - نَازِلُ

16 - أي من أسماء الإشارة الآتية تستخدم للبعيد في ملء الفراغ " ----- مُعَلِّمٌ "

أ - هذا ب - تِلْكَ ج - ذَلِكَ

17 - أي الجمل الآتية لا تحتوي حروفاً مُشَدَّدة .

أ - يَعيِشُ الأَسْكِيمو على الصيد . ب - أَرْزَغُ أرضي وأَعْتَنِي بها ج - انتهى العام الدراسي

18 - ----- الورقة رُسُومَاتٌ جَمِيلَةٌ .

أ - عَلَا ب - عَلَى ج - فِي

19 - أي من من الكلمات الستة كتابتها الإملائية صحيحة

أ - هاذِه ب - لاكن ج - هؤلاء

20 - الجملة التي تحتوي على السبب والنتيجة هي

أ - انا أَلْعَبُ مع أَصْدِقَائِي . تَعَالَ والعَبُّ مَعَنَا .

ب - أزدادت درجة الحرارة فأنصهر الثلج .

ج - نَدِمَ أَنَسٌ ، وَأَسْرَعَ إلى المِصْبَاحِ .

إعداد المعلمة : أسماء الخطايبه <https://www.facebook.com/asmaa.khataybeh.5>

أسماء الإشارة

سنتعرف بعض أسماء الإشارة (هذا ، هذه)

نستخدم أسماء الإشارة عندما نشير إلى شخص أو شيء معين

هذا > للمفرد المذكر القريب

هذه > للمفرد المؤنث القريب



هذه شمس ساطعة



هذا طبيب محترف



هذا أسد جميل



هذه فتاة مهيبة

القنن

هو ما يَدُلُّنا على اثنين أو اثنين

نُصِيف حرف اللام (ا) للتحويل من مفرد إلى قنن



تَرَسَا



تَرَسَا

نَجَحَ : نَجَحَا

أَصْبَحَ : أَصْبَحَا

أَكَلَ : أَكَلَا

اكتسَفَ : اكتسَفَا

تواصل معنا
0792004566

1

اسم المعلم: هبة الأبطح

جمع المذكر السالم

سنتعلم تحويل الأفعال أو الأسماء من المفرد إلى الجمع بإضافة حرفي الواو والنون

الجمع : ما دللنا على ثلاثة فأكثر
 المذكر : ما دللنا على ذكر ، اسم أو فعل
 السالم : لا تتغير شيء في الكلمة الأصلية. تُضيف حرفين فقط (ون)



يأكلون



يأكل

مُسافِر : مُسافِرُونَ

لَاعِبٌ : لَاعِبُونَ

يُدْرِسُ : يُدْرِسُونَ

مُعَلِّمٌ : مُعَلِّمُونَ

تنوين الفتح

هو نون تلحق آخر الكلمة على شكل فتحتين (ُ) تُلفظ ولا تُكتب.

في جميع الكلمات نضيف حرف الألف مع تنوين الفتح في نهاية الكلمة.

إلا في ثلاث حالات (نضع تنوين الفتح على الحرف الأخير في الكلمة) وهي:

1. إذا انتهت الكلمة بياء مربوطة (مدرسة - فدرسة)
2. إذا كانت الكلمة تنتهي بآلف (قُنْبًا - قُنْبًا)
3. إذا كان آخر الكلمة همزة وتسبقها ألف ساكنة: (السم ممدود - سماء : سماء)

فعل : فعل
 شجرة : شجرة

نبت : نبت
 نبت : نبت

صنف : صنف
 شتاء : شتاء

- أَحْوَل الكلمات التالية من مفرد إلى مثني في العمود الأول ومن مثني إلى مفرد في العمود الثاني.

حَدِيقَتَانِ < _____

مَنْزِلَتَانِ < _____

مَذْرَسَتَانِ < _____

وُلْدَانِ < _____

طِفْلَةٌ < _____

ذَوَاءٌ < _____

زَهْرَةٌ < _____

مَسْجِدٌ < _____

- أضع علامة الترقيم المناسبة في الفراغ.

قال الأبُ _ غَلَبْنَا أَنْ نَحْرِصَ عَلَى تَنَاوُلِ الْغِذَاءِ الْمُتَوَازِنِ _
سَأَلْتُ سَلَمَى _ وَهِيَ الْغِذَاءِ الْمُتَوَازِنِ يَا أَبِي _

- أَحْوَل الفعل الماضي في الجُمْل التالية إلى فعل مضارع.

صَحَّحَ الطِّفْلُ

زَارَتْ سَلَمَى أُخْتُهَا.

تَسَبَّحَ الطَّالِبُ دَرَسَةً.

- أجب الكلمة بمعناها المناسب فيما يلي.

يَمْدُ

نَوْعٌ

يَحْتَوِي

صَنَفَ

يَنْصَبُّ

يَرْوِّدُ

- أحول الكلمات التالية من مفرد إلى مثنى في العمود الأول ومن مثنى إلى مفرد في العمود الثاني.

حَدِيقَتَانِ > حَدِيقَةٌ

مَنْزِلَتَانِ > مَنْزِلَةٌ

مَدْرَسَتَانِ > مَدْرَسَةٌ

وَلَدَانِ > وَلَدٌ

طِفْلَتَانِ > طِفْلَةٌ

ذَوَاعَانِ > ذَوَاعٌ

زَهْرَتَانِ > زَهْرَةٌ

مَسْجِدَتَانِ > مَسْجِدٌ

- أضع علامة الترقيم المناسبة في الفراغ.

فَالْأَبُ : عَلَيْنَا أَنْ نَخْرُصَ عَلَى تَنَاوُلِ الْغِذَاءِ الْمُنَوَّازِنِ .

سَأَلْتُ سَلَمَى : وَمَا الْغِذَاءُ الْمُنَوَّازِنُ يَا أُمِّي ؟

- أحول الفعل الماضي في الجُمْلِ التالية إلى فعل مضارع.

ضَحَكَ الصَّبِيُّ .
يَضْحَكُ الصَّبِيُّ .زَارَتْ سَلَمَى أَخْتُهَا .
تَزُورُ سَلَمَى أَخْتُهَا .نَسَخَ الطَّالِبُ دَرْسَهُ .
يَنْسَخُ الطَّالِبُ دَرْسَهُ .

- أجهل الكلمة بمعناها المناسب فيما يلي.

تواصل معنا
0792004566

2

اسم المعلم: هبة الأبطح

(التحويل من مُفرد إلى مُثنى)



أَكَلَا



أَكَلَا

المُفْرَد : ما دَلَّ على واحد
المُثْنَى : ما دَلَّ على اثنان

• أَحْوَل الكلمات التالية من مُفرد إلى مُثْنَى:

شَرِبَ > شَرِبَا
سَافَرَ > سَافَرَا
حَفِظَ > حَفِظَا

(تحويل الفعل المضارع من جمع إلى مفرد ومن مفرد إلى جمع)

يَذْرُسُون



يَذْرُسُ

الفعل المضارع: هو الذي يدل على فعل أو حدث يجري في الزمن الحالي.
المفرد: ما دل على واحد.
الجمع: ما دل على ثلاثة فأكثر.

• أحوّل حسب المطلوب:

من جمع إلى مفرد

يعملون > يعمل
يرسمون > يرسم
يركضون > يركض

من مفرد إلى جمع

يأكل > يأكلون
ينسخ > ينسخون
يطبخ > يطبخون

(ضمير المتكلم)



تَنَاوَلْتُ فَطُورِي



تَنَاوَلَ غَمْرٌ فَطُورَهُ

ضمير المتكلم : هو الضمير الذي يدلُّني أن الشخص يتحدث عن نفسه.
في المُذَكَّر تحول حركة الحرف الأخير إلى سكون. ونضيف تاءاً مضمومة (تُ)
في المؤنَّث تحول حركة التاء الساكنة في نهاية الكلمة إلى ضمة

• أَحوِّل إلى ضمير المتكلم :

أَصْبَحَ جَمالٌ مُعَلِّمًا > أَصْبَحْتُ مُعَلِّمًا
سافَرَ أبي إلى الصين > سافَرْتُ إلى الصين
قَرَأْتُ لينا كتابًا > قَرَأْتُ كِتَابًا
ذَهَبْتُ أزوي إلى الخديفة > ذَهَبْتُ إلى الخديفة

• استخراج من النص التالي ما يلي.

كَمْ كَانَتْ فَرْخَةٌ أَنَسِ حِينَ اخْتَفَتْ فَرْشَانَهُ.
لِكُلِّهِ بَعْدَ أَيَّامٍ أَحْسَنَ بِأَلَمٍ فِي أَسْنَانِهِ . اضْطَحَّخَتْهُ وَالِدَةٌ إِلَى طَبِيبِ الْأَسْنَانِ . أَخْبَرَهُ
الطَّبِيبُ أَنَّ أَهْلِيهِ الْخِيَّ أَيْضًا يُعَانُونَ أَلَمًا فِي أَسْنَانِهِمْ .

- كلمة تحوي ألفاً ممدودة :
- بمعنى (شغرت) :
- كلمة تحوي حرفاً مُسْتَدًا :
- تنوين كسر :
- حرف جر :
- ما مُفْرَد كلمة أسنان ؟

• اضع تنوين الفتح أو النون في الفراغ.

وَعِدَّةٌ يَنْظِفُفُ أَسْنَانَهُ يَوْمِيًّا .
ظَلَّتْ إِلَى الْبَارِدِ أَبْـ يُعِيدُ قَرَابَتِي الْأَسْنَانِ .
يُعَانُونَ أَلَمًا فِي أَسْنَانِهِمْ .
فَسَاحَ أَنَسُ الْغُبَارِ غـ مُضَاحٍ قَدِيمٍ .

• أختار الكلمة المناسبة ممَّا بين القوسين ثم أكتبها في الفراغ.

فَوَادٍ وَفَادِي _____ مِنْ الْقَدَرِيَّةِ . (عَادَ ، عَادَا ، عَادُوا)
مُحَمَّدٌ يَشْهَرُ رَقِصَانٍ كَامِلًا . (صَامَ ، صَامَا ، صَامُوا)
ذَهَبَ الرُّجَالُ إِلَى الْمَسْجِدِ وَ _____ جَمَاعَةً . (ضَلَّى ، ضَلَّيَا ، ضَلُّوا)
ذَهَبَ سَالِمٌ وَسَلِيمٌ وَ _____ أَقَارِبَهُمَا . (زَارَ ، زَارَا ، زَارُوا)

• أحوّل الكلمات التالية حسب المطلوب.

جمع

مُضَاخ
مُنْبِشَار

فعل مضارع

أَكَلَ
نَسَأَمَ

مُنَى

لَعَبَ
أَعَادَ

مُفْرِد مُذَكَّر

هُمْ مَجْتَهِدُونَ

جمع مؤنث

هُمَا ذَكَاتَانِ

• أَمَلَا الْفَرَاغَ بِالْكَلِمَةِ الْمُنَاسِبَةِ (أَنْتُمْ ، أَنْتُمْ) .

_____ مُزَارِعُونَ مُجْتَهِدُونَ.



_____ تَجَارِبَانِ مُبْدِعَانِ.



_____ مُتَاتَانِ جَمِيلَتَانِ.

_____ مُعَلِّمُونَ مُلْهِمُونَ.

تواصل معنا
0792004566

2

اسم المعلم: هبة الأبطح

الدرس الثاني عشر

الذهب والتراب

المعاني الجديدة



الأهداف : (1) التعرف إلى معاني الكلمات الجديدة .

(2) التمييز بين اللام القمرية واللام الشمسية .

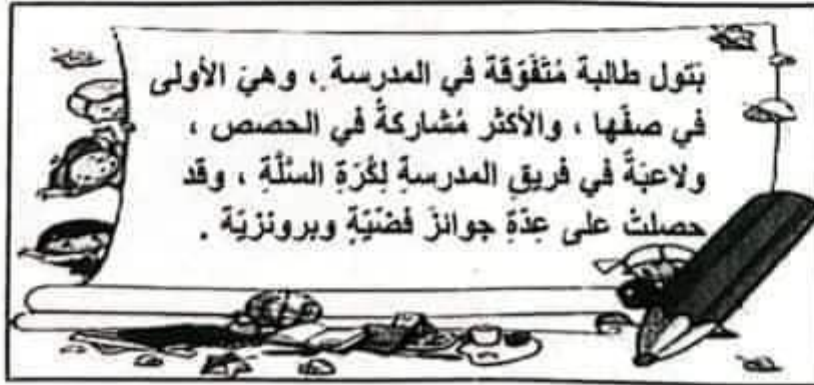
** اكتب المعنى المناسب فيما يأتي :

المعنى	الكلمة
	يُحكي
	ثروة
	وفاته
	ندم



اقرأ النص ، ثم ضع دائرة حول الكلمة التي تحتوي اللام القمرية :

تدريب



بتول طالبة متفوقة في المدرسة ، وهي الأولى
في صفها ، والأكثر مشاركة في الحصص ،
ولاعبة في فريق المدرسة لكرة السلة ، وقد
حصلت على عدة جوائز فضية وبرونزية .

اعداد : سهام رمضان

اسم المعلم: سهام رمضان

تواصل معنا
0792004566

تدريبات درس الذهب والثراب

هدف : اتقان المهارات الأساسية التي تعلمناها في هذا الدرس .

تدريب 1

اكتب (هـ) أو (ها) في الفراغ ، ثم اقرأ :
ساعد حُسام أمه في البحث عن حقيقته

تدريب 2

املأ الفراغ بـ (ا) أو (آ) ، ثم اقرأ :
(أ) راذاً سالم أن يُعطى ... خاة لعتته .
(ب) قفز علي إلى الجزء الـ ... خر من النهر .

تدريب 3

املأ الفراغ مما بين القوسين ، ثم اقرأ :
(أ) أشرب الماء (جالسنا ، نائما)
(ب) يذهب سامر إلى المدرسة (مُبتسمة ، مُبتسماً)

تدريب 4

استخرج من كتاب العلوم كلمات تحتوي تنوين فتح ، واكتبها .

اعداد : سهام رمضان

اسم المعلم: سهام رمضان

تواصل معنا
0792004566



جمع المذكر السالم

الهدف : (1) التعرف إلى قاعدة جمع المذكر السالم .

(2) تحويل الاسم المفرد المذكر إلى جمع وبالعكس.

جمع المذكر السالم: هو كل اسم يدل على أكثر من اثنين، وينتهي بإحدى (واو و نون) أو (ياء ونون).

أمثلة : مهندسون ، مسلمين ، جاهزون


وسمى سالماً لأنه عند حذف (ون) أو (ين) من آخره ، لا يتغير معنى الكلمة .

أمثلة : صائمون ← صائم ، معلمين ← معلم


تدريبات جمع المذكر السالم



حول كل اسم من الأسماء الآتية إلى جمع مذكر سالم :



- (أ) مُجْتَمِع _____
 (ب) مَنْزُول _____
 (ج) صَائِم _____



حول كل اسم من الأسماء الآتية إلى المفرد :



- (أ) مُشَجَّعُونَ _____
 (ب) حَاكِمِينَ _____
 (ج) رَسَّامُونَ _____

٢٠

اعداد : سهام رمضان

اسم المعلم: سهام رمضان

تواصل معنا
0792004566



الغذاء المتوازن

الدرس الثالث عشر

المعاني الجديدة

أهداف : (1) التعرف إلى معاني الكلمات الجديدة .

(2) التمييز بين الالام القمرية والالام الشمسية .

- اكتب المعنى المناسب فيما يأتي :

الكلمة	المعنى
الغذاء	
المتوازن	
عناصر	
أحرص	

اقرأ قصة (خدمة الوطن) من المجموعة القصصية (طاقة وري)، ثم
استخرج منها كلمات تحتوي همزة منطرفة بأشكالها المختلفة (أ، إ، ؤ، ة):

تدريب



اعداد : سهام رمضان

اسم المعلم: سهام رمضان

تواصل معنا
0792004566

تدريبات درس الغذاء المتوازن

انتقل المهارات الأساسية لهذا الدرس .

تدريب 1

املا الفراغ بالكلمة المناسبة على نمط المثال ، ملاحظا الكلمة الملونة :

أجاب الأب ابنه يُجيب الأب ابنه

قرأ الطالب الدرس الطالب الدرس

تدريب 2

ضع كلمة (الأم) بدلا من (الأب) ، و (هاشم) بدلا من (هدى) ثم اقرأ :
شاهد الأب ابنته هدى عندما كانت تقطف الأزهار .

تدريب 3

اقرأ النص الآتي ، ثم ضع علامة التقييم المناسبة في الفراغ :



اعداد : سهام رمضان

اسم المعلم: سهام رمضان

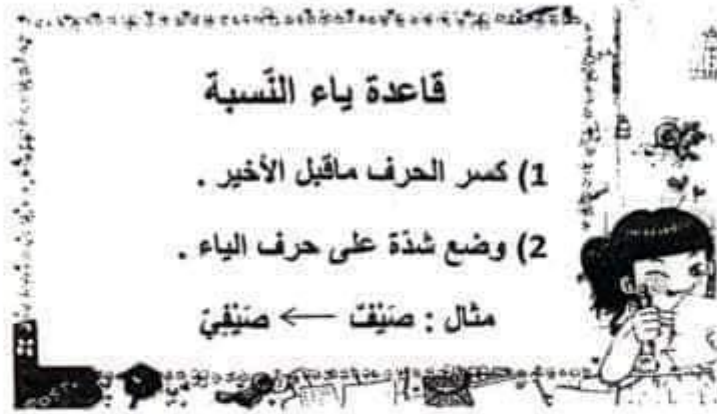
تواصل معنا
0792004566



ياء النسبة

الهدف : التَّعرَف إلى ياء النسبة واستخدامها .

ياء النسبة : هي عبارة عن ياء مشددة تضاف في نهاية الاسم ويسمى (الاسم المنسوب).



أضف ياء النسبة إلى الأسماء الآتية ، ثم اقرأ :



بَحْرٌ

مَاءٌ

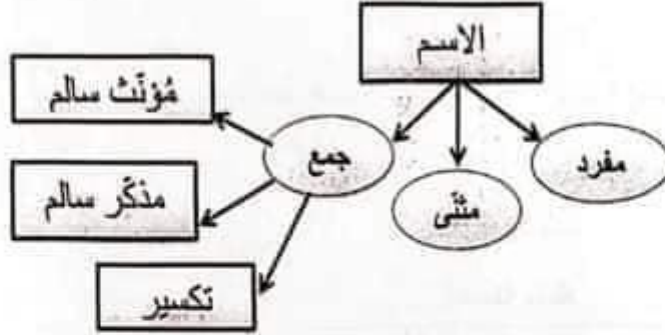
صَبَاحٌ



جمع التّكسير

داف : (1) التّعريف إلى قاعدة جمع التّكسير.

(2) التّحويل من مفرد إلى جمع وبالعكس .



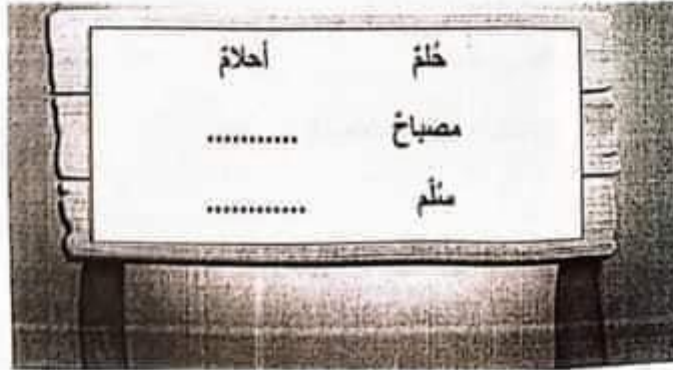
التّكسير : هو كلّ اسم يدلّ على أكثر من اثنين وليس له قاعدة محددة ، فيكون إما

بحذف حرف من مفردة مثل : كتاب كُتِبَ

أو بإضافة حرف أو حرفين إلى مفردة مثل : قلم أقلام ، سهم أسهم

تدريبات جمع التّكسير

املا الفراغ بالكلمة المناسبة ، ثم اقرأ :



عريب

اعداد : سهام رمضان

اسم المعلم: سهام رمضان

تواصل معنا
0792004566



الدرس الرابع عشر

أسناني السليمة

المعاني الجديدة

(الأهداف : 1) التَّعرِّف إلى معاني الكلمات الجديدة .

(2) كتابة المعنى المتَّمِّم لكل كلمة .

« اكتب المعنى المناسب فيما يأتي :

المعنى	الكلمة
	المارد
	المتليمة
	الآلم

اكتب المعنى المتَّمِّم لكل كلمة في العمود الأول من العمود الثاني ، ثم اقرأ :

تدريب 1

الصَّخِي	معجون
الأسنان	الطَّعام
القَدْر	ليلة

اعداد : سهام رمضان

اسم المعلم: سهام رمضان

تواصل معنا
0792004566

تدريبات درس أسناني السليمة

هنا : اتقان المهارات الأساسية لهذا الدرس .



ضع (أنتم ، أنتم) في الفراغ لتصبح الجملة صحيحة :

تدريب 1

(أ) مُعلّمتان بارعتان .

(ب) علماء المستقبل .



ضع تنوين الفتح أو النون في المكان المناسب :

تدريب 2

(أ) تَعْنَى أحمد ... يُسافِر إلى فلسطين .

(ب) اشترى محمدَ كتاب... عن السيارات .

تدريب 3

املا الفراغ بـ (ت) أو (ة) :

(أ) رأي... قط... جميل... .

(ب) وعد... هال... أنها أن تُنظف البيت... .

اعداد : سهام رمضان

اسم المعلم: سهام رمضان

تواصل معنا
0792004566



التعبير

اكتب بما لا يزيد عن أربعة أسطر ، عن أهمية الأسنان وكيفية المحافظة عليها .





الصف الثالث

الوعي الصوتي (تقطيع الكلمة إلى أصوات ومقاطع)

قُطِّعَت الكلمات المعبَّرة عن الصور التالية وفق الأصوات المكونة لها:



الطاووسُ



الشَّمْسُ



النَّارُ



رُزٌّ



هَرَّةٌ



الشَّباكُ

تواصل معنا
0792004566

إعداد : سهام رمضان
اسم المعلم: سهام رمضان

الصف الثالث

قراءة أصوات الحروف (تحليل مقاطع الكلمة)

أحلل الكلمات التالية إلى مقاطعها الصوتية :

زُرُّ

جَرَّةٌ

أُمُّ

جَدَّةٌ

قِرَّةٌ

تواصل معنا
0792004566اعداد : سهام رمضان
اسم المعلم: سهام رمضان

الضف الثالث

قراءة أصوات الحروف (دمج المقاطع الصوتية)

• أذمِج المقاطع الصوتية لكل مما يلي :

رُم	ما	نُ

سُذ	ز	مُ

سُذ	نُ	رُ

سُب	و	ز	هُ

اعداد : سهام رمضان

اسم المعلم: سهام رمضان

تواصل معنا

0792004566




النصف الثالث

المفردات

اقرأ النص التالي ثم أجيب عن الأسئلة التي تليه :

البطتان والسلخفاة



خل فصل الصيف وجف الماء في البركة، فقررت البطتان الرحيل. خافت السلخفاة من البقاء وحدها في المكان، فطلبت من البطتين أن تأخذا معها، ولكنها لا تستطيع الطيران. أمضت البطتان النهار كامله تفكران في حل لهذه المشكلة. وفي اليوم التالي جاءت البطتان بعود يابس، وطلبتا من السلخفاة أن تعض عليه من وسطه ففعلت. حملت البطتان العود الذي تعلقت به السلخفاة وطارتا به. بعد فترة وصلت الصديقات الثلاثة إلى بحيرة في وسط الغابة، حيث أمضين بقية عمرهن فرحاً بمسرورات.

اعداد : سهام رمضان

اسم المعلم: سهام رمضان

تواصل معنا
0792004566

الصف الثالث

المفردات (الأسئلة)

١. أأخذُ معنى الكلمة التي تحتها خط في النص بدلالة الكلمات الملونة .

٢. ما الكلمات التي يُمكنني اشتقاقها من الكلمة التي تحتها خط في جملة :

- رَحِيلُ البَطْنَيْنِ كَانَ يَسْبَبُ جَفَافَ ماءِ البركة .

- قَرَّرَ الجارُ زِراعةَ حَدِيقَتِهِ بالتفاح .

٣. أُمَيِّزُ الفرق بين معنى الكلمتين المخطوط تحتها :

- البَحْرُ الْمَيْتُ أَخْفَضَ بُقْعَةً عَلَى سَطْحِ الْأَرْضِ .

- أَرَأَيْتَ أُمِّي بُقْعَةَ الْحَبْرِ عَنْ مَلَابِيسِي .

٤. أَمْلَأُ الفراغ بإضافة الصفة المناسبة للجملة التالية :

- حَلَّ فَضْلُ الصَّبِّ بِشَمْسِهِ _____ .

- تَمَسَّكَتِ السُّلْحَفَةُ بِعُودٍ _____ سَاعَدَهَا عَلَى الطَّيْرَانِ .

٥. أَكْتُبُ كلمات لها علاقة بالكلمة التي تحتها خط في الجملة التالية :

- البَطُّ مِنَ الطُّيُورِ الَّتِي يُؤْكَلُ لَحْمُهَا .

- الصَّدِيقَةُ الْمَخْلِصَةُ تَحْفَظُ السِّرَّ .

- ملاحظة : كل سؤال من هذه الأسئلة يعبر عن مهارة فرعية من مهارات المفردات ، إذ يُمكنك عماكاة هذه الأسئلة على أمثلة أخرى



إعداد : سهام رمضان

اسم المعلم: سهام رمضان

تواصل معنا

0792004566



الصف الثالث

الكتابة

• اكتب الجملة التالية كتابةً صحيحة :

جَفَّ ماءُ البرِّكةِ في فَضْلِ الصَّيفِ

جَفَّ ماءُ البرِّكةِ في فَضْلِ الصَّيفِ

• اكتب الجملة التالية كتابةً صحيحة :

السُّلْحَفَةُ لَا تَسْتَطِيعُ الطَّيْرَانُ

السُّلْحَفَةُ لَا تَسْتَطِيعُ الطَّيْرَانُ

تواصل معنا
0792004566اعداد : سهام رمضان
اسم المعلم: سهام رمضان

- أَمَلِ الْفَرَاغَ بِالْكَلِمَةِ الْمُنَاسِبَةِ مِمَّا بَيْنَ الْقَوْسَيْنِ.
(بَعْدُ . قَلِيلٌ . فَوْقَ . تَحْتَ)

وَضَعْتُ الْكِتَابَ _____ الطَّاوِلَةَ.
تَنَاوَلْتُ وَجْهَةَ الْقَدَاءِ _____ الطُّفْلِ
وَحَدْتُ قِطْعَتِي _____ الشَّرِيرِ
اسْتَنْقِضْتُ _____ آذَانَ الْفُجْرِ

- أَحْوَلِ الْجُمْلَ التَّالِيَةَ إِلَى الْمَبْنِيِّ لِلْمَجْهُولِ.

قَرَأَ الطِّفْلُ الْكِتَابَ < _____
أَكَلَ الصُّبُوفُ الطَّعَامَ < _____

- أَمَلِ الْجَدُولَ الْآتِي بِالْأَفْعَالِ الْمُنَاسِبَةِ.

فعل ماضٍ	فعل مُضارع	فعل أمر
		اكتب
	يذهب	
قام		

- أَكْمِلِ السُّؤَالَ بِاسْتِخْدَامِ (مَاذَا ، مَتَى).

_____ أَكَلْتُ عَلَى الْغَشَاءِ ؟
_____ تُسْرِقُ السُّتُفْسُ ؟
_____ تَنْتَهِى اخْتِبَارَاتِكَ ؟
_____ قَرَأَ الْإِمَامُ فِي الرَّكْعَةِ الثَّانِيَةِ ؟