



تطبيق الوحدة الأولى

الاسم:

الصف: ثامن ()

اختر الإجابة الصحيحة

من المقومات الطبيعية للسياحة:

السؤال
الأول

☐ الأمن.

☐ النقل.

☐ الموقع.

☐ الخدمات.

تتعدد إجراءات تحقيق السياحة المستدامة ومنها:

السؤال
الثاني

☐ حسن معاملة السياح.

☐ إنشاء وزارة لحماية البيئة.

☐ سن القوانين لحماية البيئة.

☐ الاهتمام بالزراعة والصناعة.

السؤال الثالث/ بم تفسر. تعد السياحة في الوقت الحاضر من الأنشطة الاقتصادية ذات الأهمية الكبيرة.

..... ١.

..... ٢.

..... ٣.

السؤال الرابع/ تبذل دولة قطر جهودا كبيرة لتنمية النشاط السياحي، وضح ذلك.

..... ١.

..... ٢.

..... ٣.

توقيع ولي الأمر

.....

توقيع المعلمة

.....



تدريب اثرائي الوحدة الأولى

الاسم:

الصف: ثامن ()

اختر الإجابة الصحيحة

أكثر دول العالم من حيث العائدات السياحية:

السؤال
الأول

☐ فرنسا.

☐ إسبانيا.

☐ تايلاند.

☐ الولايات المتحدة الأمريكية.

تتعدد إجراءات تحقيق السياحة المستدامة ومنها:

السؤال
الثاني

☐ حسن معاملة السياح.

☐ إنشاء وزارة لحماية البيئة.

☐ سن القوانين لحماية البيئة.

☐ الاهتمام بالزراعة والصناعة.

السؤال الثالث/ بم تفسر. تعد السياحة في الوقت الحاضر من الأنشطة الاقتصادية ذات الأهمية الكبيرة.

..... ١.

..... ٢.

..... ٣.

السؤال الرابع/ ما أهم إجراءات تحقيق السياحة المستدامة؟

..... ١.

..... ٢.

..... ٣.



تدريب اثرائي الوحدة الأولى

الاسم:

الصف: ثامن ()

اختر الإجابة الصحيحة

من المقومات الطبيعية للسياحة:	السؤال الأول
<input type="checkbox"/> الأمن.	
<input type="checkbox"/> النقل.	
<input type="checkbox"/> الموقع.	
<input type="checkbox"/> الخدمات.	
أكثر قارات العالم استقبالا للسياح:	السؤال الثاني
<input type="checkbox"/> اسيا.	
<input type="checkbox"/> أوروبا.	
<input type="checkbox"/> إفريقيا.	
<input type="checkbox"/> إستراليا.	

السؤال الثالث/ تبذل دولة قطر جهودا كبيرة لتنمية النشاط السياحي، وضح ذلك.

- (١)
- (٢)
- (٣)

السؤال الرابع/ ما دور الفرد في المحافظة على المواقع الأثرية؟

١.
٢.
٣.

توقيع ولي الأمر

.....

توقيع المعلمة

.....



تدريب اثرائي الدرس الأول التنافس الأوروبي

الاسم:

في منطقة الخليج الجزء ١

الصف: ثامن ()

اختر الإجابة الصحيحة

أول دولة أوروبية استعمارية وصلت إلى منطقة الخليج العربي هي:

السؤال
الأول

☐ فرنسا.

☐ هولندا.

☐ البرتغال.

☐ بريطانيا.

السياسة البرتغالية التي سادت في ساحل عمان:

السؤال
الثاني

☐ تقوم على البطش والقوة.

☐ تقوم على تطوير

☐ تقوم على القسوة

☐ تقوم على احترام

السؤال الثالث/ بم تفسر. تنافس الدول الاستعمارية الكبرى على منطقة الخليج العربي؟

١.

٢.

٣.

السؤال الرابع/ اذكر القوى الأوروبية الدولية التي تنافست على منطقة الخليج العربي؟

١.

٢.


٣.

توقيع ولي الأمر

توقيع المعلمة

.....

.....





السلام عليكم ورحمة الله وبركاته
جميع هذه الملفات الموجودة تم نقلها وتجميعها
من قبل منتديات صقر الجنوب التعليمية
نرحب بكم في

[موقع ومنتديات صقر الجنوب التعليمية المنهاج القطري](#)
ويسعدنا ويشرفنا ان نستمر معكم في تقديم
كل ما هو جديد للمنهاج المحدث المطورة ولجميع
المستويات والمواد
ملفات نجمعها من كل مكان ونضعها لكم في مكان واحد
ليسهل تحميلها
علما ان جميع ما ننشر مجاني 100%

أخي الزائر - أختي الزائرة انا دعمكم لنا هو انماكم لنا
فهو شرف كبير لنا
[صفحتنا على الفيس بوك هنا](#)
[مجموعتنا على الفيس بوك هنا](#)
[مجموعتنا على التلغرام هنا](#)
[قنواتنا على اليوتيوب هنا](#)

جميع ملفاتنا نرفعها على مركز تحميل خاص في [صقر الجنوب](#)

نحن نسعى دائما الى تقديم كل ما هو أفضل لكم و هذا وعد منا ان شاء الله
شجعونا دائما حتى نواصل في العطاء و [نسال](#) الله ان يوفقنا و يسدد خطانا

في حال واجهتك اي مشكلة في تحميل اي ملف
من [منتديات صقر الجنوب المنهاج القطري](#)
[صفحة اتصل بنا](#)





قنوات تيليجرام منهاج دولة قطر الفصل الأول والثاني محدث

قناة المستوى الثالث

قناة المستوى الثاني

قناة المستوى الأول

قناة المستوى السادس

قناة المستوى الخامس

قناة المستوى الرابع

قناة المستوى التاسع

قناة المستوى الثامن

قناة المستوى السابع

قناة المستوى الثاني عشر

قناة المستوى الحادي عشر

قناة المستوى العاشر



قنوات اليوتيوب التعليمية للمنهاج القطري من المستوى 01-10

قناة المستوى الثالث

قناة المستوى الثاني

قناة المستوى الأول

قناة المستوى السادس

قناة المستوى الخامس

قناة المستوى الرابع

قناة المستوى التاسع

قناة المستوى الثامن

قناة المستوى السابع

قناة المستوى الثاني عشر

قناة المستوى الحادي عشر

قناة المستوى العاشر



مجموعات الفيس بوك للمنهاج القطري الفصل الاول والفصل الثاني محدث

رياض الاطفال

مجموعة المستوى الثالث

مجموعة المستوى الثاني

مجموعة المستوى الأول

مجموعة المستوى السادس

مجموعة المستوى الخامس

مجموعة المستوى الرابع

مجموعة المستوى التاسع

مجموعة المستوى الثامن

مجموعة المستوى السابع

مجموعة المستوى الثاني عشر

مجموعة المستوى الحادي عشر

مجموعة المستوى العاشر

صفحتنا على الفيس بوك



الهدف الرئيسي لمتدرياته صقر الجنوب

هو

منصة تعليمية مجانية

لهدفنا المنفعة ونشر العلم

نشر العلم مجاناً لكل من يطلبه العلم في جميع أنحاء العالم
لا تفرض أي رسوم أو نفقات على العضويات في الموقع

علماً أنه مجاني بدون تسجيل عضوية

لنستمر في البقاء إن شاء الله

يمكن أن تساهم في استثمارنا والتخفيف

عنا مصاريف السيرفر والاستضافة

مهما كانت مساهمتك صغيرة أو كبيرة، لها أثر كبير في استمرار

الموقع لتقديم خدمات المجانية من ملفات عربية ومنقولات

من خلال دعمنا على حسابنا الخاص على

[من خلال الضغط هنا PayPal](#)



الأسبوع	الوحدة الاولى جغرافيا (الدرس الأول السياحة) من ص (12 الي 15)	التاريخ
1	الوحدة الاولى جغرافيا (الدرس الأول السياحة) من ص (12 الي 15)	الأسبوع الأول من 6 / 1 الي 9 / 1 2025 /

تعليمات
اختر الإجابة الصحيحة لكل من الأسئلة من 1 إلى 2 وذلك بوضع علامة X داخل المربع المجاور للإجابة الصحيحة.

أكثر دول العالم من حيث العائدات السياحية:

1

فرنسا ☐

اسبانيا ☐

تايلاند ☐

الولايات المتحدة الامريكية ☐

أي من الدول التالية تتجاوز عائداتها السياحية 214 مليار دولار أمريكي ؟

2

فرنسا ☐

اسبانيا ☐

تايلاند ☐

الولايات المتحدة الامريكية ☐



تعليمات

عند الإجابة على الأسئلة من 03 إلى 05، اكتب إجابتك في الفراغ المخصص للإجابة:

3

أ- ما أهمية السياحة ؟

الإجابة

- 1- مصدر للدخل القومي
- 2- توفير فرص للعمل
- 3 _ تعتبر وسيلة للتبادل الثقافي

ب - وضح الإجراءات والوسائل لتحقيق السياحة المستدامة؟

الإجابة

- 1- سن القوانين والتشريعات
- 2- تنظيم حركة السياح
- 3 _ تحديد القدرة الاستيعابية للمواقع السياحية
- 4 – نشر الوعي الثقافي السياحي



تعليمات

عند الإجابة على الأسئلة من 3 إلى 4 اكتب إجابتك في الفراغ المخصص للإجابة:

4

أ - وضح أهداف السياحة المستدامة .

الإجابة

1- صيانة الموارد الطبيعية والثقافية

2 - التخطيط العلمي لتنمية السياحة

3- استمرار جودة البيئة

4 - ادامة رضاء السائح

ب - قارن بين مفهوم السياحة والسياحة المستدامة

السياحة	السياحة المستدامة
هي انتقال الفرد من مكان أقامته الي مكان اخر بهدف الترفيه	هو الاستخدام الأمثل للموارد السياحية بما يضمن الحفاظ عليها

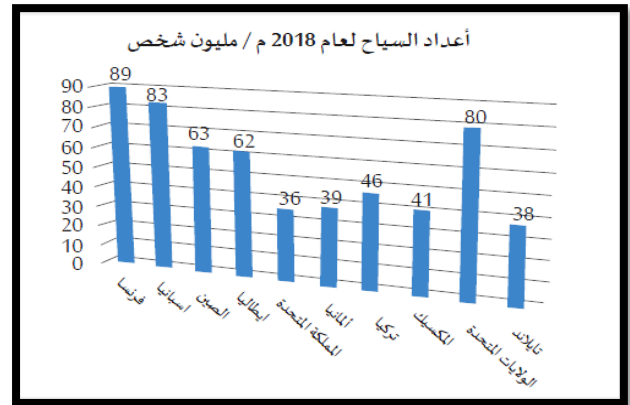
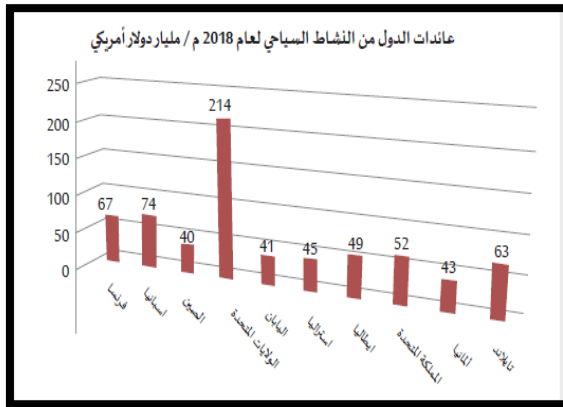


5

أ حلل الاشكال البيانية التالية

1- اذكر ثاني دول العالم في الجذب السياحي **اسبانيا**

2 - اذكر اولي دول العالم في الايرادات السياحية **الولايات المتحدة الامريكية.**





الأسبوع	الوحدة الأولى جغرافيا (الدرس الأول السياحة) من ص (21 الي 28)	التاريخ
2	الوحدة الأولى جغرافيا (الدرس الأول السياحة) من ص (21 الي 28)	الأسبوع الثاني من 12 / 1 الي 16 / 2025 / 1

اختر الإجابة الصحيحة لكل من الأسئلة من 1 إلى 3 وذلك بوضع علامة X داخل المربع المجاور للإجابة الصحيحة.

تعليمات

1

أي قارات العالم أكثر استقبلاً للسياحة؟

أوروبا ☐

آسيا ☐

أفريقيا ☐

أمريكا الشمالية ☐

2

أي دول العالم الآتية أكثر اجتذاباً للسياحة؟

فرنسا ☐

إسبانيا ☐

تاييلاند ☐

الولايات المتحدة الأمريكية ☐

3

تقع مدينة ديزني لاند في:-

فرنسا ☐

إسبانيا ☐

تاييلاند ☐

الولايات المتحدة الأمريكية ☐



تعليمات

عند الإجابة على الأسئلة من 04 إلى 05، اكتب إجابتك في الفراغ المخصص للإجابة:

4

أ- اذكر المقومات الطبيعية للسياحة.

الإجابة

1- الموقع

2- المناخ

3- أشكال السطح

ب- عدد المقومات البشرية للسياحة.

الإجابة

1- الأماكن الدينية والتاريخية 2 - الامن والاستقرار 3 - البنية التحتية

ج- عدد الأماكن الدينية ذات الجذب السياحي؟

الإجابة

1- مكة المكرمة والمسجد الحرام



تعليمات

عند الإجابة على الأسئلة من 04 إلى 05، اكتب إجابتك في الفراغ المخصص للإجابة:

5

أ - قارن بين أهمية المناخ وأشكال السطح في ازدهار السياحة :

الإجابة

أهمية المناخ	أشكال السطح
(1) اختيار السياح المناطق ذات المناخ الملائم في فصل الصيف يبحثون عن المناطق الباردة (2) تنشيط السياحة في المناطق الجليدية	(1) حيث تتوافر الناظر الطبيعية من جبال وسهول وشواطئ (2) تسلق الجبال وركوب الامواج



الأسبوع	الوحدة الاولى جغرافيا (الدرس الأول السياحة) من ص (21 الي 28)	التاريخ
3	الوحدة الاولى جغرافيا (الدرس الأول السياحة) من ص (21 الي 28)	الأسبوع الثالث من 19 / 1 الي 23 2025 / 1 /

تعليمات
اختر الإجابة الصحيحة لكل من الأسئلة من 1 إلى 5 وذلك بوضع علامة X داخل المربع المجاور للإجابة الصحيحة.

تعليمات
اختر الإجابة الصحيحة لكل من الأسئلة من 1 إلى 5 وذلك بوضع علامة X داخل المربع المجاور للإجابة الصحيحة.

1
يعتبر قصر الحمراء من المعالم السياحية لـ:

فرنسا ☐

اسبانيا ☐

تايلاند ☐

الولايات المتحدة الامريكية ☐

2
يوجد برج ايفل في:

فرنسا ☐

اسبانيا ☐

تايلاند ☐

الولايات المتحدة الامريكية ☐



3

يوجد برج بيزا المائل في:

فرنسا ☐

ايطاليا ☐

افريقيا ☐

أمريكا الشمالية ☐

4

أي الدول الآتية يوجد بها مدينة ديزني لاند؟

فرنسا ☐

اسبانيا ☐

تايلاند ☐

الولايات المتحدة الأمريكية ☐

5

الدولة التي تتميز بوجود المحميات الطبيعية والكهوف بها هي ؟

اليونان ☐

ايطاليا ☐

النرويج ☐

المكسيك ☐



تعليمات

عند الإجابة على الأسئلة من 06 إلى 07، اكتب إجابتك في الفراغ المخصص للإجابة:

6	
<p>أ - أعط أمثلة عن أهم المناطق الترفيهية؟</p> <p>الإجابة</p> <p>1- مدينة ديزني لاند</p> <p>ب اذكر جهود دولة قطر للنهوض بالسياحة.</p> <p>الإجابة</p> <p>1- الاستفادة من الفعاليات الرياضية</p> <p>2- تطوير المواقع الاثرية والمحافظة عليها</p> <p>3- بناء المتاحف والفنادق الكبرى</p>	



7

أ - وضح دور الفرد في الحفاظ على المواقع السياحية؟

الإجابة

1- التقيد بالقوانين

2- المحافظة على نظافة المواقع السياحية

3- المحافظة على الآثار

ب - قارن بين كل من فرنسا وإسبانيا من حيث المناطق التاريخية؟

الإجابة

فرنسا	إسبانيا
برج ايفيل	قصر الحمراء



الأسبوع	الوحدة الثانية تاريخ (الدرس الأول التنافس الأوروبي في منطقة الخليج العربي) من ص (35 الي 42)	التاريخ
4	الوحدة الثانية تاريخ (الدرس الأول التنافس الأوروبي في منطقة الخليج العربي) من ص (35 الي 42)	الأسبوع الرابع من 26 / 1 الي 30 2025 / 2 /

تعليمات
اختر الإجابة الصحيحة لكل من الأسئلة من 1 إلى 3 وذلك بوضع علامة X داخل المربع المجاور للإجابة الصحيحة.

1
أسبق الدول الأوروبية وصولاً إلى منطقة الخليج العربي:

- ☐ البرتغال
☐ الهولنديون
☐ الفرنسيين
☐ البريطانيين

2
نجد فاسكو دي جاما في الوصول لطريق رأس الرجاء الصالح عام :

- ☐ 1496 م
☐ 1497
☐ 1498 م
☐ 1499 م



تم الاستيلاء على مسقط عام :

3

1507 م ☐

1508 م ☐

1509 م ☐

1510 م ☐

بدأت المقاومة العربية في عمان ضد الوجود البرتغالي على يد ؟

4

القواسم ☐

البوسعيد ☐

اليعاربة ☐

الوهايين ☐



تعليمات

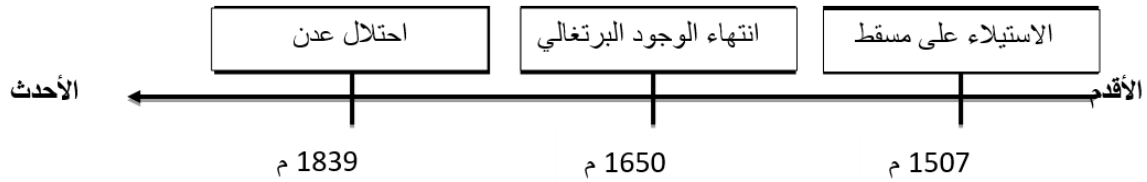
عند الإجابة على الأسئلة من 05 إلى 07، اكتب إجابتك في الفراغ المخصص للإجابة:

5

أ - عد أ - رتب الأحداث التاريخية الآتية في التنافس الأوروبي في منطقة الخليج العربي ترتيباً زمنياً صحيحاً من الأقدم إلى الأحدث على الخط الزمني التالي:

الإجابة

(احتلال عدن - الاستيلاء على مسقط - انتهاء الوجود البرتغالي)



ب - اذكر القوى التي تنافست في السيطرة على منطقة الخليج العربي؟

الإجابة

1- البرتغاليون

2- الهولنديون

3- التنافس الفرنسي البريطاني

4- البريطانيون



6

أ - بم تفسر كانت منطقة الخليج العربي محط تنافس القوى الدولية العظمى؟

الإجابة

1- الموقع الجغرافي المتميز

2- تعدد الموانئ الطبيعية

ب - ما العوامل التي أدت إلى ضعف النفوذ البرتغالي في منطقة الخليج العربي؟

الإجابة

1- المقاومة العربية

2- تحالف القوى الدولية ضد البرتغاليون

3- سياسة البرتغاليون التي اتسمت بالقوة

ج - وضح دور المقاومة العربية في مواجهة الوجود البرتغالي لمنطقة الخليج العربي ؟

الإجابة

1- بداءت علب يد اليعاربة

2- توحيد القبائل علي يد ناصر بن مرشد اليعربي

3-تنهاء الوجود البرتغالي 1650 م



		7
<p>أ - ما النتائج التي ترتبت على اتجاه البرتغاليون بقيادة الفونسو دي البوكيرك إلى مياه بحر عُمان؟</p> <p>الإجابة</p> <p>1- احتكار التجارة</p> <p>2- الاستيلاء على مسقط</p> <p>3- الاستيلاء على جزيرة هرمز</p> <p>ب - اذكر عملاً واحداً لكل من :</p> <p>1- فاسكو دي جاما : اكتشاف طريق راس الرجاء الصالح</p> <p>2- ناصر بن مرشد اليعربي : توحيد القبائل ونجاح اليعاربة في طرد البرتغاليون</p>		



الأسبوع	الوحدة الثانية تاريخ) الدرس الأول التنافس الأوروبي في منطقة الخليج العربي (من ص (35 الي 42)	التاريخ
5	الوحدة الثانية تاريخ) الدرس الأول التنافس الأوروبي في منطقة الخليج العربي (من ص (35 الي 42)	الأسبوع الخامس من 2 / 2 الي 6 / 2025 / 2

تعليمات
اختر الإجابة الصحيحة لكل من الأسئلة من 1 إلى 4 وذلك بوضع علامة X داخل المربع المجاور للإجابة الصحيحة.

تأسست شركة الهند الشرقية الهولندية عام :

1

1602 م ☐

1603 م ☐

1604 م ☐

1605 م ☐

أسهمت المقاومة العربية بقيادة الشيخ مهنا بن ناصر في الخليج العربي في طرد

2

البرتغاليين ☐

الهولنديين ☐

الفرنسيين ☐

البريطانيين ☐



تأسست شركة الهند الشرقية الفرنسية عام :

3

1664 م ☐

1665 م ☐

1666 م ☐

1667 م ☐

تأسست شركة الهند الشرقية البريطانية عام :

4

1600 م ☐

1601 م ☐

1602 م ☐

1603 م ☐



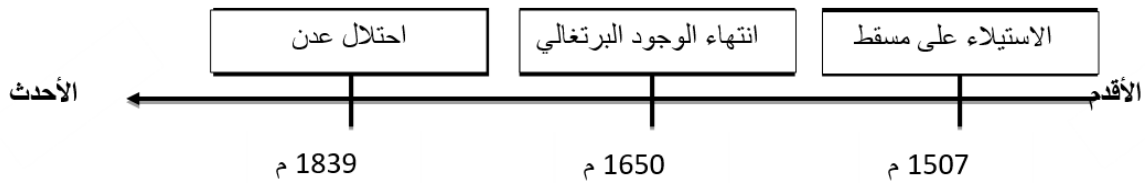
تعليمات

عند الإجابة على الأسئلة من 05 إلى 07، اكتب إجابتك في الفراغ المخصص للإجابة:

5

أ - عد أ - رتب الأحداث التاريخية الآتية في التنافس الأوروبي في منطقة الخليج العربي ترتيباً زمنياً صحيحاً من الأقدم إلى الأحدث على الخط الزمني التالي:
الإجابة

(احتلال عدن - الاستيلاء على مسقط - انتهاء الوجود البرتغالي)



ب - ما أسباب ضعف النفوذ الهولندي في منطقة الخليج العربي؟
الإجابة

- (1) انشغال هولندا بالصراع مع فرنسا
- (2) فقدت شركة الهند الشرقية الهولندية الدعم المادي
- (3) أسهمت المقاومة العربية بطرد الهولنديين بقيادة الشيخ مهنا بن ناصر



6

أ - بم تفسر لم تتمكن فرنسا من بسط سيطرتها على منطقة الخليج العربي؟

الإجابة

- 1- بسبب الصراع مع بريطانيا
- 2- عقد معاهدة مع حاكم مسقط 1798 م بعدم منح الفرنسيين امتيازات

ب - ما العوامل التي أدت إلى ضعف النفوذ البرتغالي في منطقة الخليج العربي؟

الإجابة

- 1- المقاومة العربية
 - 2- تحالف القوي الدولية ضد البرتغاليون
 - 3- سياسة البرتغاليون التي اتسمت بالقوة
- ج - وضح الإجراءات التي اتخذتها بريطانيا لبسط نفوذها في منطقة الخليج العربي؟؟

الإجابة

- 1- احتلال جزيرة بريم عند مدخل البحر الاحمر
- 2- القضاء علي القواسم
- 3- احتلا جزيرة سوقطرة وميناء عدن 1839 م



7

أ - قارن بين المعاهدة العامة واتفاقية الصداقة من حيث أطراف كل منهما وبنود كل منهما من خلال الجدول الذي امامك؟

وجه المقارنة	المعاهدة العامة 1820 م	اتفاقية الصداقة 1861 م
الأطراف	بريطانيا وشيوخ الخليج	بريطانيا وحاكم البحرين
البنود	وضع قوة بحرية بريطانية في منطقة رأس الخيمة	إعطاء بريطانيا حق التجارة في البحرين والإقامة



الأسبوع	الوحدة الثانية تاريخ (الدرس الثاني استقلال دول الخليج العربي ونشأة حكوماتها) من ص (49 الي 51)	التاريخ
6	الوحدة الثانية تاريخ (الدرس الثاني استقلال دول الخليج العربي ونشأة حكوماتها) من ص (49 الي 51)	الأسبوع السادس من 9 / 2 الي 13 2025 / 2 /

تعليمات
اختر الإجابة الصحيحة لكل من الأسئلة من 1 إلى 4 وذلك بوضع علامة X داخل المربع المجاور للإجابة الصحيحة.

أعلنت بريطانيا انسحابها من منطقة الخليج العربي في موعد أقصاه عام :

1

1971 م ☐

1972 م ☐

1973 م ☐

1974 م ☐

حصلت الكويت على الاستقلال عام 1961 م في عهد الشيخ :

2

عبد الله السالم الصباح ☐

جابر الأحمد آل صباح ☐

احمد الجابر آل صباح ☐

سالم مبارك آل صباح ☐



أعلنت دولة قطر إنهاء معاهدة 1916 م مع بريطانيا عام :

3

1971 م ☐

1972 م ☐

1973 م ☐

1974 م ☐

صدر أول دستور قطري في شكل نظام أساسي عام :

4

1970 م ☐

1971 م ☐

1972 م ☐

1973 م ☐



تعليمات

عند الإجابة على الأسئلة من 05 إلى 07، اكتب إجابتك في الفراغ المخصص للإجابة:

5	
<p>أ - ما النتائج المترتبة على تولي السلطان قابوس بن سعيد الحكم في سلطنة عُمان؟</p> <p>1- الانضمام الي جامعة الدول العربية</p> <p>1- اصدار اول مرسوم بتغير اسم الدولة من سلطن عمان ومسقط الي سلطنة عمان</p>	
<p>ب - وضح ملامح تطور الحياة السياسية في الكويت بعد الاستقلال؟</p> <p>الإجابة</p> <p>1- الانضمام الي جامعة الدول العربية</p> <p>2- اعلان اول دستور للبلاد</p>	



6

أ - بم تفسر اتخاذ بريطانيا قرار الانسحاب من منطقة الخليج العربي؟

الإجابة

- 1- ظهور الولايات المتحدة الأمريكية
- 2- تدهور قوة بريطانيا الاقتصادية
- 3 - انتشار الأفكار المعادية للاستعمار

ب - ما العوامل التي أدت إلى ضعف النفوذ البرتغالي في منطقة الخليج العربي؟

الإجابة

- 1- المقاومة العربية
 - 2- تحالف القوي الدولية ضد البرتغاليون
 - 3- سياسة البرتغاليون التي اتسمت بالقوة
- ج - وضح الإجراءات التي اتخذتها بريطانيا لبسط نفوذها في منطقة الخليج العربي؟؟

الإجابة

- 1- احتلال جزيرة بريم عند مدخل البحر الاحمر
- 2- القضاء علي القواسم
- 3- احتلا جزيرة سوقطرة وميناء عدن 1839 م



7

7 -- رتب الأحداث التاريخية الآتية في معاهدات حكام وشيوخ الخليج مع بريطانيا ترتيباً زمنياً صحيحاً من الأقدم إلى الأحدث على الخط الزمني التالي:

(معاهدة الحماية مع الكويت — معاهدة مع قطر — اتفاقية الصداقة)



الأحدث

الأقدم

ج - وضح ما تميزت به دولة قطر من تطورات إدارية في الفترة التاريخية من 1968 م الي 1971 م .

الإجابة

1- انشاء إدارة للشؤون الخارجية

2- صدر اول دستور قطري وتشكيل اول مجلس وزراء

3- انتهاء المعاهدة مع بريطانيا

مدرسة الأندلس الخاصة للبنات

العام الأكاديمي 2025/2024

نسخة مجانية

اختبار منتصف الفصل الثاني



أوراق عمل إثرائية إجابتها

الوحدة الأولى : الأنشطة الاقتصادية

الوحدة الثانية : الوجود الأوروبي في الخليج العربي

مادة الدراسات الاجتماعية

الصف الثامن

اسم الطالبة/.....

الصف والشعبة /.....

الوحدة الأولى (الأنشطة الاقتصادية)

السؤال الأول: الأسئلة الموضوعية:

اختر الإجابة الصحيحة:

1.1	أكثر دول العالم اجتذاباً للسياح :
A	تركيا
B	فرنسا
C	الصين
D	المكسيك

1.2	أكثر جهات العالم استقبلاً للسياح قارة :
A	أوروبا
B	إفريقيا
C	أمريكا
D	استراليا

1.3	أي من الآتي من أهداف السياحة المستدامة ؟
A	الوعي السياحي
B	الاهتمام بالتجارة
C	الاهتمام بالصناعة
D	إدامة رضا السائح

1.4	أكثر دول العالم من حيث العائدات السياحية :
A	الهند
B	روسيا
C	تايلاند
D	الولايات المتحدة الأمريكية

1.5	تعدد إجراءات تحقيق السياحة المستدامة ومنها :
A	حسن معاملة السياح
B	إنشاء وزارة لحماية البيئة
C	الاهتمام بالزراعة والصناعة
D	تحديد القدرة الاستيعابية للمواقع السياحية

1.6	تتمثل المقومات الطبيعية للسياحة في :
A	الموقع
B	وسائل النقل
C	البنية التحتية
D	الأماكن التاريخية

1.7	مدينة ديزني لاند في الولايات المتحدة من المناطق السياحية :
A	العلاجية
B	الترفيهية
C	الثقافية
D	الطبيعية

الأسئلة المقالية :-

اجب عن الأسئلة التالية:

السؤال الثاني

❖ ما المقصود بالسياحة ؟

انتقال الفرد من مكان إقامته إلى مكان آخر بهدف الترفيه أو الاكتشاف وتكون إقامته مؤقتة.

السؤال الثالث

❖ وضح أهمية السياحة .

1. مصدر للدخل القومي.
2. توفر فرص للعمل.
3. تسهم في تنمية المناطق السياحية اقتصادياً واجتماعياً.

السؤال الرابع

❖ اذكر أهم المناطق السياحية في إسبانيا والولايات المتحدة الأمريكية.

1. قصر الحمراء بإسبانيا
2. مدينة ديزني لاند بالولايات المتحدة الأمريكية

السؤال الخامس

❖ اذكر المقومات الطبيعية للسياحة .

1. الموقع
2. المناخ
3. أشكال السطح

السؤال السادس

❖ بم تفسر أسهمت المواصلات في نمو حركة السياحة ؟

1. قصرت المسافات
2. خفضت التكاليف المادية

السؤال السابع

❖ وضح جهود دولة قطر للنهوض بالسياحة .

1. الاستفادة من الفعاليات الرياضية الكبرى
2. المحافظة على المواقع الأثرية
3. بناء المتاحف والفنادق
4. تجهيز الدولة شبكة جيدة من الطرق ووسائل النقل

الوحدة الثانية : الوجود الأوروبي في الخليج العربي

السؤال الأول: الأسئلة الموضوعية:

اختر الإجابة الصحيحة:

1.1	أسبق الدول الأوروبية التي وصلت إلى منطقة الخليج العربي:
A	فرنسا
B	هولندا
C	البرتغال
D	بريطانيا

2.1	من القبائل العربية التي تصدت للاستعمار البرتغالي :
A	العمور
B	اليعاربة
C	عجمان
D	بني فراس

3.1	أعلن الشيخ خليفة بن حمد آل ثاني إنهاء معاهدة 1916 م مع بريطانيا عام :
A	1951 م
B	1970 م
C	1971 م
D	1981 م

4.1	طرد الشيخ مهنا بن ناصر القاسمي من منطقة الخليج العربي :
A	الهولنديين
B	البرتغاليين
C	الفرنسيين
D	البريطانيين

5.1	تولى السلطان قابوس بن سعيد الحكم عام :	
	1969م	A
	1970م	B
	1971م	C
	1973م	D

6.1	قام باكتشاف طريق رأس الرجاء الصالح :	
	فرنسا	A
	اسبانيا	B
	البرتغال	C
	بريطانيا	D

الأسئلة المقالية :-

اجب عن الأسئلة التالية:

السؤال الأول
<p>❖ عدد القوى الدولية التي تنافست على منطقة الخليج العربي .</p> <ol style="list-style-type: none">1. البرتغال2. هولندا3. فرنسا4. بريطانيا

السؤال الثاني
<p>❖ ما أسباب ضعف النفوذ البرتغالي في الخليج العربي ؟</p> <ol style="list-style-type: none">1. المقاومة العربية ضد الوجود البرتغالي2. تعاون بعض القوى الدولية ضد النفوذ البرتغالي3. السياسة البرتغالية التي اتسمت بالقسوة والتعصب مع العرب

السؤال الثالث
<p>❖ ما القبيلة التي تصدت للاستعمار البرتغالي في منطقة الخليج العربي ؟</p> <p>قبيلة اليعاربة</p>

السؤال الرابع

❖ بم تفسر انسحاب بريطانيا من منطقة الخليج العربي؟

1. ظهور الولايات المتحدة كقوة منافسة لبريطانيا في منطقة الخليج العربي.
2. انتشار الأفكار المعادية للاستعمار في العالم.
3. تدهور قوة بريطانيا الاقتصادية بعد الحرب العالمية الثانية.

السؤال الخامس

❖ اذكر اسم الحاكم الذي تم في عهده انتهاء معاهدة 1916 بين بريطانيا وقطر.

الشيخ خليفة بن حمد آل ثاني

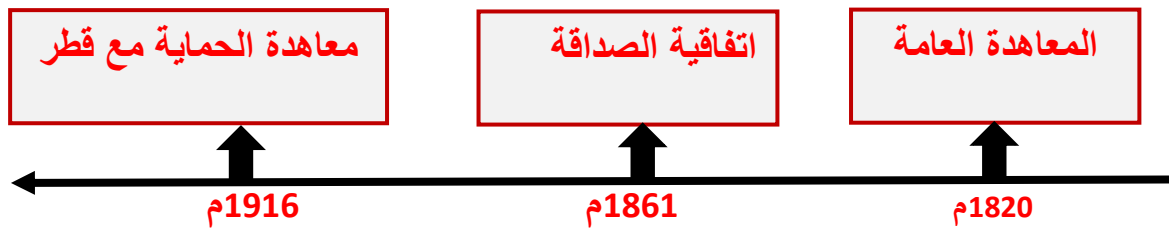
السؤال السادس

❖ قارن بين الكويت وعمان من حيث التطورات السياسية

الكويت	عمان	
الانضمام لجامعة الدول العربية ومنظمة الأمم المتحدة.		الشبه
إعلان أول دستور في البلاد	إصدار أول مرسوم بتغيير اسم الدولة من (سلطنة عمان ومسقط) إلى عمان	الاختلاف

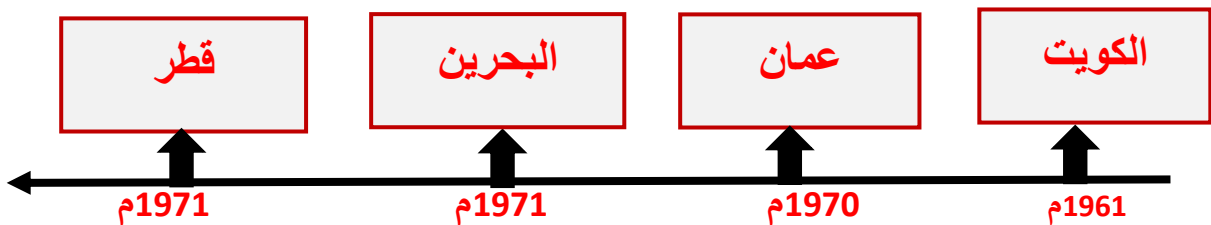
السؤال السابع

❖ رتب على الخط الزمني المعاهدات التي عقدها بريطانيا مع شيوخ الخليج العربي.
(معاهدة الحماية مع قطر - المعاهدة العامة - اتفاقية الصداقة)



السؤال الثامن

❖ رتب على الخط الزمني استقلال دول الخليج العربي.
(عمان - قطر - البحرين - الكويت)



التاريخ:- / 1 / 2025 م
الصف :- الثامن /

المادة:- الدراسات الاجتماعية (التعلم بالأهداف – السياحة)
اسم الطالب :-

أجب عما يلي: -

- اختر الإجابة الصحيحة بوضع علامة ☒ في المربع المقابل لها: -

أ) تعد من المقومات الطبيعية للسياحة.

الأمّن.

النقل .

الموقع .

الخدمات .

ب) تتمثل المقومات البشرية للسياحة في:

اعتدال المناخ .

تنوع اشكال السطح .

الموقع المتميز .

الأماكن الدينية والتاريخية .

ب) أكثر دول العالم اجتذابا للسياح :

فرنسا .

الصين .

إسبانيا .

الولايات المتحدة الامريكية .

رؤية الوزارة: متعلم ريادي لتنمية مستدامة

رسالة الوزارة: تُرسي بيئة تعليمية شاملة ومبتكرة لتعزيز القيم والأخلاق وتؤهل المتعلم بمهارات عالية: لإعداد جيلٍ واعٍ قادرٍ على بناء مجتمع متقدم واقتصاد مزدهر

التاريخ:- / 1 / 2025 م
الصف :- الثامن /

المادة:- الدراسات الاجتماعية (التعلم بالأهداف – السياحة)
اسم الطالب :-

من أكثر قارات العالم استقبالا للسياح :

ج

آسيا.



أوروبا.



أفريقيا .



أستراليا.



1- دلل على أهمية الموقع كعامل جذب سياحي ؟ .

رؤية الوزارة: متعلم ريادي لتنمية مستدامة

رسالة الوزارة: تُرسي بيئة تعليمية شاملة ومبتكرة لتعزيز القيم والأخلاق وتؤهل المتعلم بمهارات عالية: لإعداد جيلٍ واعٍ قادرٍ على بناء مجتمع متقدم واقتصاد مزدهر

التاريخ:- / 1 / 2025 م
الصف :- الثامن /

المادة:- الدراسات الاجتماعية (التعلم بالأهداف – السياحة)
اسم الطالب :-

- لسهولة الاتصال بالعالم الخارجي
- يؤثر الموقع على الخصائص المناخية فالدول التي تقع في العروض الباردة تجتذب سياحاً من العروض الحارة والعكس صحيح .

2- أسهمت المواصلات في نمو حركة السياحة . وضح ذلك .



- قصرت المسافات
- خفضت التكاليف المادية
- كلما تحسنت وسائل النقل أدى الى زيادة السياح

3- وضح العلاقة بين الاستقرار الأمني وقيام السياحة .

- علاقة طردية بين السياحة والامن
- فلا يوجد سياحة في مناطق الحروب والمنازعات

4- تبذل دولة قطر جهوداً كبيرة لتنمية النشاط السياحي ، دال على صحة هذه العبارة .

- الاستفادة من الفعاليات الرياضية الكبرى
- الاهتمام بتطوير المواقع الأثرية والمحافظة عليها من خلال الصيانة والترميم
- بناء المتاحف المختلفة

5- وضح دور الفرد بالمحافظة على الموقع السياحي .

- التقيد بالقوانين والأنظمة عند زيارة الموقع السياحي
- التزام بالمحافظة على نظافة الموقع السياحي
- إبلاغ الأجهزة الأمنية عن أي مخالفات في الموقع السياحي

رؤية الوزارة: متعلم ريادي لتنمية مستدامة

رسالة الوزارة: نُرسي بيئة تعليمية شاملة ومبتكرة لتعزيز القيم والأخلاق وتؤهل المتعلم بمهارات عالية؛ لإعداد جيلٍ واعٍ قادرٍ على بناء مجتمع متقدم واقتصاد مزدهر

التاريخ:- / 1 / 2025 م
الصف :- الثامن /

المادة:- الدراسات الاجتماعية (التعلم بالأهداف – السياحة)
اسم الطالب :-

أجب عما يلي: -

- اختر الإجابة الصحيحة بوضع علامة ☒ في المربع المقابل لها: -

" انتقال الافراد من مكان الى اخر بهدف الترفيه او الاكتشاف او الاستجمام "، يشير المفهوم السابق الى:
الهجرة.

أ

☐

السياحة .

☒

السياحة المستدامة .

☐

التنمية المستدامة .

☐

"الاستخدام الأمثل للموارد السياحية بما يضمن الحفاظ عليها في المستقبل للأجيال القادمة " يشير المفهوم السابق الى:
الاستدامة .

ب

☐

السياحة المستقبلية .

☐

السياحة المستدامة .

☒

السياحة العالمية .

☐

اكثر دول العالم من حيث العائدات السياحية لعام 2018 م :

ب

فرنسا .

☐

الصين .

☐

إسبانيا .

☐

الولايات المتحدة الامريكية .

☒

رؤية الوزارة: متعلم ريادي لتنمية مستدامة

رسالة الوزارة: تُرسي بيئة تعليمية شاملة ومبتكرة لتعزيز القيم والأخلاق وتؤهل المتعلم بمهارات عالية: لإعداد جيلٍ واعٍ قادرٍ على بناء مجتمع متقدم واقتصاد مزدهر

التاريخ:- / 1 / 2025 م
الصف :- الثامن /

المادة:- الدراسات الاجتماعية (التعلم بالأهداف – السياحة)
اسم الطالب :-

ج اي من الدول الاتيه تتجاوز عائدتها السياحة 60 مليار دولار أمريكي :

المانيا.

فرنسا .

استراليا .

الولايات المتحدة الامريكية.

د " تتبع للأمم المتحدة تهتم بشؤون الدول السياحية وتصدر الإحصاءات المتعلقة بالطلب والعرض السياحي على المستوى العالمي و مقرها في مدير " يشير المفهوم السابق الى :

منظمة السياحة العالمية .

منظمة الصحة العالمية .

منظمة الثقافة العالمية .

منظمة السلام العالمية .



1- دلل على أهمية السياحة في دعم الاقتصاد الوطني ؟ .

رؤية الوزارة: متعلم ريادي لتنمية مستدامة

رسالة الوزارة: تُرسي بيئة تعليمية شاملة ومبتكرة لتعزيز القيم والأخلاق وتؤهل المتعلم بمهارات عالية: لإعداد جيلٍ واعٍ قادرٍ على بناء مجتمع متقدم واقتصاد مزدهر

التاريخ:- / 1 / 2025 م
الصف :- الثامن /

المادة:- الدراسات الاجتماعية (التعلم بالأهداف – السياحة)
اسم الطالب :-

- تُعد مصدرا للدخل القومي لكثير من دول العالم .
- تُوفر فرصا للعمل للسكان .
- تُسهم في تنمية المناطق السياحية اقتصاديا واجتماعيا .

2- اذكر أسماء ثلاثة أعلى دول من حيث العائدات السياحية .

- الولايات المتحدة الامريكية
- اسبانيا
- فرنسا



3- عدد اهداف السياحة المستدامة :

- صيانة الموارد الطبيعية والثقافية لأجل ادامة استخدامها مستقبلا .
- التخطيط العلمي لتنمية السياحة في المنطقة المعنية لتجنب المشكلات .
- الحرص على استمرار جودة البيئة بكافة جوانبها .

4- وضع إجراءات تحقيق السياحة المستدامة :

- سنُ القوانين والتشريعات ذات العلاقة بحماية البيئة .
- تنظيم حركة السياح .
- تشجيع إقامة المشاريع التي توفر الدخل للسكان المحليين .
- نشر الوعي السياحي بين السكان المحليين .

5- فسر أهمية تحديد القدرة الاستيعابية للمواقع السياحية "

- تفادي الازدحام .
- عدم تعريض البيئة الطبيعية والثقافية للضرر .



رؤية الوزارة: متعلم ريادي لتنمية مستدامة

رسالة الوزارة: تُرسي بيئة تعليمية شاملة ومبتكرة لتعزيز القيم والأخلاق وتؤهل المتعلم بمهارات عالية؛ لإعداد جيلٍ واعٍ قادرٍ على بناء مجتمع متقدم واقتصاد مزدهر

المادة:- الدراسات الاجتماعية (التعلم بالأهداف – التنافس الأوروبي الأسبوع الخامس) التاريخ:- / 2 / 2025

اسم الطالب :-.....
الصف :- الثامن /.....

أجب عما يلي :-

-اختر الإجابة الصحيحة بوضع علامة × في المربع المقابل لها:-

وقعت بريطانيا معاهدة 1861 م مع :

أ

- حاكم البحرين . ☐
- حاكم الكويت . ☐
- حاكم قطر . ☐
- حاكم مسقط . ☐

أي الجزر الآتية احتلتها بريطانيا عام 1839م:

ب

- جزيرة بريم . ☐
- جزيرة فيلكا . ☐
- جزيرة هرمز . ☐
- جزيرة سوقطرة . ☐

حصلت الكويت على الاستقلال سنة 1961م في عهد الشيخ ::

ج

- سالم بن مبارك الصباح . ☐
- عبد الله السالم الصباح . ☐
- احمد الجابر الصباح . ☐
- جابر الأحمد الصباح . ☐

المادة:- الدراسات الاجتماعية (التعلم بالأهداف – التنافس الأوروبي الأسبوع الخامس) التاريخ:- / 2 / 2025

اسم الطالب :-..... الصف :- الثامن /.....


نجح الشيخ مهنا بن ناصر بطرد :

الهولنديين .

الفرنسيين .

البريطانيين .

البرتغاليين .



المادة:- الدراسات الاجتماعية (التعلم بالأهداف – التنافس الأوروبي الأسبوع الخامس) التاريخ:- / 2 / 2025

اسم الطالب :-.....
الصف :- الثامن /.....

أجب عن الأسئلة المقالية الآتية : -

1- وضح إجراءات بريطانيا لبسط نفوذها في منطقة الخليج العربي :

-
-
-

2- عدد القوى الاستعمارية التي تنافست على منطقة الخليج العربي.

-
-
-

3- أكمل ترتيب المعاهدات والاتفاقيات على الخط الزمني من الأقدم للأحدث :
(المعاهدة العامة - اتفاقية الصداقة - معاهدة الحماية مع قطر)



المادة:- الدراسات الاجتماعية (التعلم بالأهداف – التنافس الأوروبي الأسبوع الخامس) التاريخ:- / 2 / 2025

اسم الطالب :-..... الصف :- الثامن /.....

أجب عما يلي :-

-اختر الإجابة الصحيحة بوضع علامة × في المربع المقابل لها: -

وقعت بريطانيا معاهدة 1861 م مع :

حاكم البحرين .

حاكم الكويت .

حاكم قطر .

حاكم مسقط .

أي الجزر الآتية احتلتها بريطانيا عام 1839م:

جزيرة بريم .

جزيرة فيلكا .

جزيرة هرمز .

جزيرة سوقطرة .

حصلت الكويت على الاستقلال سنة 1961م في عهد الشيخ ::

سالم بن مبارك الصباح .

عبد الله السالم الصباح .

احمد الجابر الصباح .

جابر الأحمد الصباح .

المادة:- الدراسات الاجتماعية (التعلم بالأهداف – التنافس الأوروبي الأسبوع الخامس) التاريخ:- / 2 / 2025

اسم الطالب :-..... الصف :- الثامن /.....

نجح الشيخ مهنا بن ناصر بطرد :

د

الهولنديين .



الفرنسيين .



البريطانيين .



البرتغاليين .



المادة:- الدراسات الاجتماعية (التعلم بالأهداف – التنافس الأوروبي الأسبوع الخامس) التاريخ:- / 2 / 2025

اسم الطالب :-.....
الصف :- الثامن /.....

أجب عن الأسئلة المقالية الآتية :-

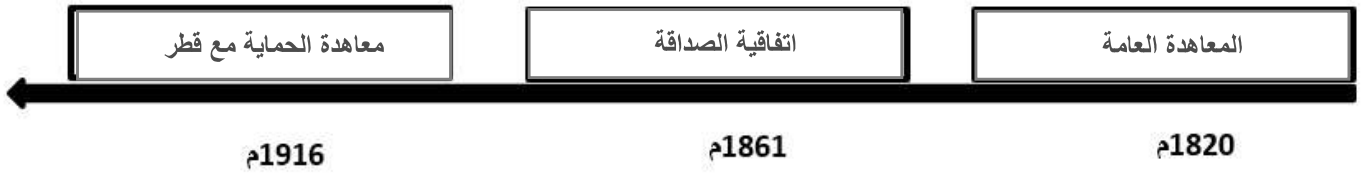
1- وضح إجراءات بريطانيا لبسط نفوذها في منطقة الخليج العربي :

- احتلال جزيرة بريم الواقعة في مدخل البحر الأحمر الجنوبي .
- القضاء على نفوذ قبيلة القواسم البحري .
- احتلال جزيرة سوقطرة .

2- عدد القوى الاستعمارية التي تنافست على منطقة الخليج العربي.

- البرتغال
- هولندا
- فرنسا

3- أكمل ترتيب المعاهدات والاتفاقيات على الخط الزمني من الأقدم للأحدث :
(المعاهدة العامة - اتفاقية الصداقة - معاهدة الحماية مع قطر)





واجب منزلي – الفصل الدراسي الثاني – العام الأكاديمي 2024 / 2025م
الوحدة – الثانية (الوجود الأوروبي والعثماني في منطقة الخليج)

الصف: الثامن ()

اسم الطالب:

السؤال الأول: اختر الإجابة الصحيحة:

1) بدأت المقاومة العربية في عُمان على يد:

- أ - اليعاربة.
- ب- القواسم.
- ج - الجلاهمة.
- د - آل خليفة.

2) اعترفت بريطانيا بقطر ككيان سياسي مستقل بتوقيع معاهدة سنة :

- أ - 1820م .
- ب- 1868م .
- ج - 1861م .
- د - 1899م .

3) تُعد من أولى الدول الاستعمارية التي وصلت لمنطقة الخليج العربي:

- أ - إسبانيا
- ب- البرتغال
- ج - هولندا
- د - بريطانيا

4) استقلت قطر عام:

- أ - 1970.
- ب- 1971.
- ج - 1872.
- د - 1973.



5) يرجع ظهور البريطانيين لأول مرة في الخليج العربي إلى بدايات القرن السابع عشر بهدف:
أ - الاحتلال.

ب- التجارة.

ج - تأمين المواصلات.

د - منع التوسع الفرنسي.

6) أهم الإجراءات التي اتخذتها بريطانيا لبسط نفوذها في منطقة الخليج العربي :
أ - سياسة البطش.

ب- التهجير القسري التعسفي.

ج - القضاء على نفوذ الجلاهمة.

د - احتلال جزيرة بريم وسوقطرة.

7) استقلت الكويت أثناء حكم الشيخ:

أ - أحمد الجابر الصباح.

ب- سالم بن مبارك الصباح.

ج - جابر الأحمد الصباح.

د - عبد الله السالم الصباح.

8) استقلت الكويت عام:

أ - 1960.

ب- 1961.

ج - 1962.

د - 1963.

9) طرد الشيخ مهنا بن ناصر القاسمي من منطقة الخليج العربي:

أ - الفرنسيين.

ب- الهولنديين.

ج - البرتغاليين.

د - البريطانيين.

السؤال الثاني : أجب عما يأتي:

1 (وضح دور الدولة العثمانية في مواجهة الغزو البرتغالي لمنطقة الخليج العربي.

- 1 -
- 2 -
- 3 -

2 (بين أسباب ضعف وتراجع النفوذ الهولندي في منطقة الخليج.

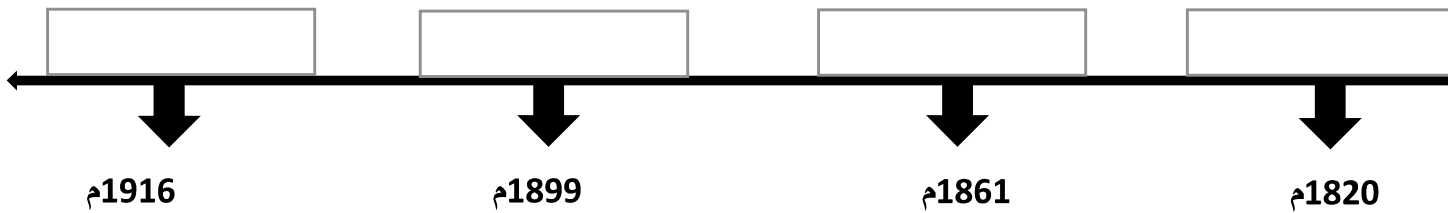
- 1 -
- 2 -
- 3 -

3 (بين السياسة التي اتبعتها البرتغال في ساحل عُمان والمناطق التي خضعت لنفوذهم ؟

- 1 -
- 2 -
- 3 -

4 (رتب المعاهدات التي وقعتها بريطانيا مع حكام وشيوخ الخليج العربي على الخط الزمني الآتي من الأقدم إلى الأحدث.

(المعاهدة العامة - معاهدة الحماية مع الكويت - معاهدة الحماية مع قطر - اتفاقية الصداقة)



5 (اذكر التطورات السياسية التي حصلت في سلطنة عمان بعد الاستقلال.

- 1 -
- 2 -
- 3 -

6 (خضعت منطقة الخليج للسيطرة البرتغالية، وأقام البرتغاليون العديد من القلاع والحصون ، أذكرها.

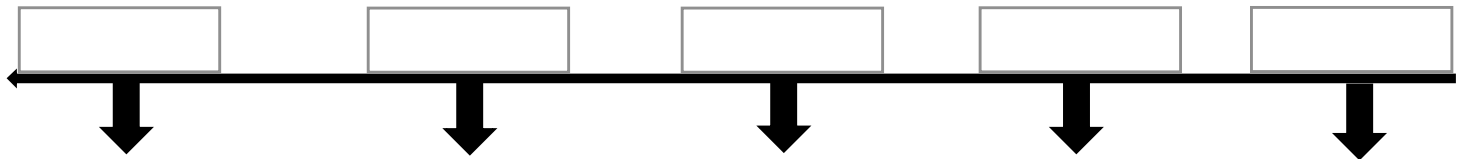
- 1 -
- 2 -
- 3 -

7 (اذكر الإجراءات التي اتخذتها بريطانيا لبسط نفوذها في الخليج العربي .

- 1 -
- 2 -
- 3 -

8 (رتب استقلال دول الخليج العربي على الخط الزمني الآتي من الأقدم إلى الأحدث.

(قطر – عُمان – الكويت – الامارات العربية - البحرين)





9 (عرف المقصود بـ _____ شركة الهند الشرقية الفرنسية .

.....

.....

10 (وضح التطورات السياسية التي شهدتها قطر في الفترة الزمنية من عام 1968-1971م .

- 1 -
- 2 -
- 3 -

11 (بين أهمية منطقة الخليج العربي التي جعلت منه محط تنافس القوى الدولية العظمى .

- 1 -
- 2 -

12 (عدد اهم الطرق التجارية التي كانت تمر عبر الخليج العربي قبل الكشف الجغرافية .

- 1 -
- 2 -
- 3 -