

الوحدة الأولى : (الأرض من حولي)

1

الدرس الأول: عناصر المناخ الدرس الثاني: الأقاليم المناخية

الصفحة
(27)

السؤال الأول: اختر الإجابة الصحيحة من بين البدائل التالية:

ثانياً:
التدريبات

1- ينتج عن اختلاف طول النهار من منطقة لأخرى:

- أ- زيادة كميّة الأمطار. ب- اختلاف درجة الحرارة.
ج- تغير اتجاه الرياح. د- ارتفاع الضغط الجوي.

2- أكبر المناطق الحرارية على سطح الأرض امتداداً المنطقة:

- أ- الباردة. ب- المعتدلة الدافئة.
ج- الحارة. د- المعتدلة الباردة.

3- يرتفع الضغط الجوي عند المنطقة القطبية بسبب:

- أ- انخفاض درجة الحرارة. ب- هبوب الرياح القطبية.
ج- زيادة نسبة الرطوبة. د- ارتفاع درجة الحرارة.

الصفحة
(27)

4- الرياح المحلية التي تهبّ على دولة قطري:

- أ- الكوس. ب- الطوز.
ج- السموم. د- المسترال.

5- تنخفض درجة الحرارة درجة واحدة مئوية كلما ارتفعنا عن سطح

الأرض بمقدار:

- أ- 120 متراً. ب- 130 متراً.
ج- 140 متراً. د- 150 متراً.

6- تُعرف حركة المياه السطحية في المحيطات في اتجاهات ثابتة بـ:

- أ- الرياح.
ب- ظل المطر.
ج- التيارات البحرية.
د- المناخ.

7- ينتج عن مرور التيارات البحرية الدافئة بجوار سواحل القارات:

- أ- قلة التبخر.
ب- انخفاض درجة الحرارة.
ج- زيادة التبخر.
د- ارتفاع درجة الحرارة.

8- تعادل درجات الحرارة في المناطق ذات الغطاء النباتي الكثيف: مثل:

- أ- إندونيسيا.
ب- قطر.
ج- السعودية.
د- ليبيا.

السؤال الثاني: عرّف المصطلحات التالية:

- 1- الإشعاع الشمسي: هو مقدار الأشعة الشمسية الساقطة على المساحة.
2- التساقط: هو قطرات مائية تسقط من السحب على المساحة.
3- الرطوبة: هي بخار الماء الموجود في الهواء.

السؤال السادس:

وضّح أثر توزيع اليباس والماء على المناخ.

اعتدال الحرارة على السواحل
ارتفاع الحرارة في الداخلية

السؤال الثالث: يَم تفسّر:

- 1- اختلاف درجة الحرارة من منطقة لأخرى على سطح الأرض.
اختلاف زاوية سقوط اشعة الشمس 2- طول النهار-1
2- اختلاف مناطق الضغط الجوي على سطح الأرض.
اختلاف درجة الحرارة 2- توزيع اليباس والماء 3-1-1
الارتفاع
3- وجود علاقة بين درجة الحرارة والضغط الجوي.
عكسية: عند ارتفاع الحرارة ينخفض الضغط

4 - هبوب الرياح الموسمية.

بسبب اختلاف الحرارة والضغط بين اليابس والماء

5 - الأشعة العمودية أكثر حرارة من الأشعة المائلة.

لأنها تقطع مسافة أقل ومساحة أصغر

6 - انخفاض الضغط الجوي فوق المرتفعات.

بسبب قصر عمود الهواء

7 - الصحاري الحارة أكثر تأثراً بأشعة الشمس من المناطق الاستوائية.

لأنها مكشوفة وخالية من النبات الطبيعي

(السؤال الرابع: أجب عما يلي:

1 - عدّد أنواع الرياح الدائمة.

القطبية - العكسية - التجارية

2 - ما الفرق بين الرياح الموسمية الصيفية والشتوية؟

الصيفية ممطرة والشتوية جافة

(السؤال الخامس: ماذا يترتب على:

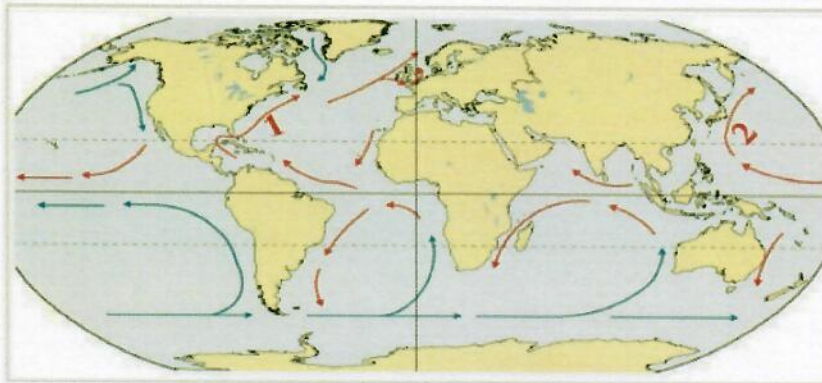
1 - مرور التيارات البحرية الباردة بجوار السواحل؟

خفض درجة حرارة

2 - كثافة الغطاء النباتي في حوض الأمازون في البرازيل؟

اعتدال درجة الحرارة

اكتب البيانات الناقصة للتيارات البحرية على الخريطة.



1 - تيار.

الخليج

2 - تيار.

اليابان

1- أي الأقاليم التالية يتميز بصيف حار وجاف، وشتاء دافئ وممطر؟

- أ- البحر المتوسط.
ب- الصيبي.
ج- القطبي.
د- اللورانسبي.

السؤال الأول: اختر الإجابة الصحيحة من بين البدائل التالية:

إقليم مناخي يمتد بين دائرتي عرض 0° و 8° شمالاً وجنوباً:

- أ- الصيبي.
ب- الاستوائي.
ج- المداري.
د- الصحراوي.

3- من أوجه التشابه بين الإقليم الصيبي وإقليم البحر المتوسط أن كليهما:

- أ- يمتد في شرق القارات.
ب- ترتفع فيه الحرارة طوال العام.
ج- تسقط فيه الأمطار طوال العام.
د- يقع بين دائرتي عرض $30^\circ - 40^\circ$.

4- توجد دولة قطر ضمن إقليم المناخ:

- أ- المداري.
ب- الصحراوي.
ج- اللورانسبي.
د- الصيبي.

5- إقليم مناخي يتميز بارتفاع درجة الحرارة صيفاً وانخفاضها شتاءً وندرة الأمطار:

- أ- القاري.
ب- الصحراوي.
ج- المداري.
د- الصيبي.

الصفحة (38)

السؤال الثاني: قارن بين الإقليم الصحراوي، وإقليم البحر المتوسط من حيث الموقع الفلكي، والحرارة والأمطار.

وجه المقارنة	الإقليم الصحراوي	إقليم البحر المتوسط
الموقع الفلكي	$18^\circ, 30^\circ$	$30^\circ, 40^\circ$
الحرارة والأمطار	1. صيف حار 2. انخفاض درجة الحرارة شتاءً 3. امطار نادرة	1. صيف حار جاف 2. وشتاء دافئ ممطر 3. امطار شتوية

السؤال الثالث: عرّف مفهوم الإقليم المناخي.

هو منطقة متشابهة في خصائصها المناخية ومتميزة

عن غيرها

: السؤال الرابع : ما الخصائص المشتركة بين كل من

الإقليم الاستوائي و المداري ؟ -1

حرارة مرتفعة و امطار غزيرة

الإقليم اللورانسبي و غرب القارات ؟ -2

الموقع بين $40 - 60$ - شتاء بارد صيف معتدل

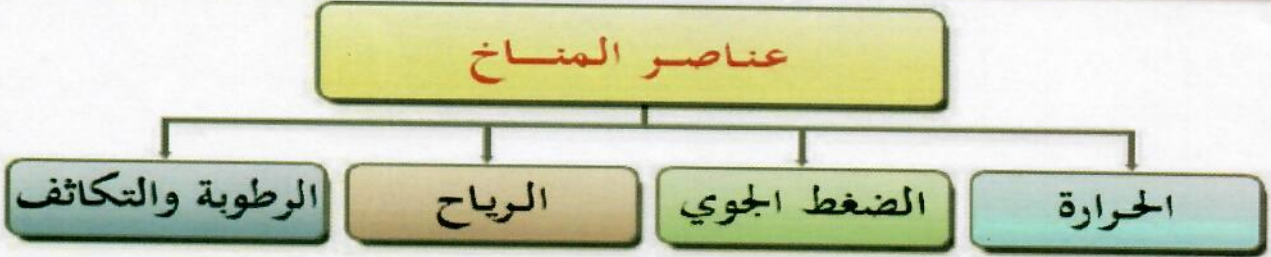
الإقليم القاري والقطبي ؟ -3

شتاء طويل بارد و صيف دافئ

- 1- الإقليم الصحراوي
2- الإقليم القطبي
3- الإقليم القاري



س: أذكر عناصر المناخ؟




س: أذكر أنواع الرياح؟



س: أذكر العوامل المؤثرة في المناخ؟





الوحدة الثانية : (حضارات بلاد الرافدين)



2

- الدرس الأول: حضارات بلاد الرافدين وعوامل قيامها
- الدرس الثاني: مظاهر حضارات بلاد الرافدين

الصفحة
(53)

السؤال الأول: اختر الإجابة الصحيحة من بين البدائل التالية:

ثانياً:
التدريبات

53

1 - أول الشعوب التي سكنت بلاد الرافدين:

ب - الأكاديون.

أ - البابليون.

د - السومريون.

ج - الآشوريون.

2 - ثبت دعائم دولته على ركائز متينة من خلال التشريعات والقوانين:

ب - آشور بانيبال.

أ - سرجون الأول.

د - نبوخذ نصر.

ج - حمورابي.

الصفحة
(53)

السؤال الثاني: أجب عما يأتي:

أ - ما المقصود ببلاد الرافدين؟

هي مصطلح يطلق على الأرض التي تقع بين أكثر من نهر ، وتحديداً المنطقة الواقعة بين نهري دجلة والفرات ، في جمهورية العراق حالياً

ب- اذكر ثلاث شخصيات مؤثرة في تاريخ بلاد الرافدين.

1. سرجون الأول

2. آشور بانيبال

3. نبوخذ نصر

ج- اذكر عوامل قيام حضارة بلاد الرافدين.

1. الموقع الجغرافي

2. دور نهرا دجلة والفرات

3. الهجرات البشرية

السؤال الثالث: فسّر ما يأتي:

1- تمكّن سرجون الأول من بسط سيطرته على المدن السومرية.

بفضل قوة الجيش النظامي

2- انهيار الدولة البابلية الأولى.

1) ضعف شخصية الملوك.

2) كثرة الثورات الداخلية.

3- سقوط الدولة الآشورية في نهاية القرن السابع قبل الميلاد على يد الكلدانيين.

أ- سياسة العنف و التدمير.

ب- إهمال الثروات الاقتصادية

الصفحة

(54)

السؤال الرابع: ما النتائج المترتبة على:

1- سياسة العنف والقسوة التي اتبعها الآشوريون في البلاد التي احتلوها؟

ثورات الشعوب التي كانت خاضعة لحكمهم .

2- كثرة الثورات الداخلية في عهد الدولة البابلية الأولى.

أدى إلى انهيار الدولة البابلية الأولى.

الصفحة (62)

السؤال الأول: اختر الإجابة الصحيحة من بين البدائل التالية:

ثانياً:
التدريبات

1- سجل سكان بلاد الرافدين الوثائق الرسمية والعقود على ألواح:

ب - طينية.

أ - خشبية.

د - معدنية.

ج - زجاجية.

2- من مميزات الحياة الدينية عند سكان بلاد الرافدين:

ب - تعدد الآلهة.

ج - الإيمان باليوم الآخر.

د - الاعتقاد بعدم وجود حياة بعد الموت.

د - الإيمان بالله واحد.

3- تُعدُّ من روائع حضارة بلاد الرافدين في مجال النحت:

أ - قصر خورسباد.

ب - حدائق بابل.

د - برج بابل.

ج - الثور المجنح.

4- تمثلت الطبقة الوسطى في مجتمع بلاد الرافدين من:

أ - العمال والفلاحين.

ب - أسرى الحروب والعبيد.

د - مُلاك الأراضي وكبار التجار.

ج - الملك والكهنة.

السؤال الثاني: بِمَ تُفسِّر:

أ - ازدهار الزراعة في حضارة بلاد الرافدين.

توفر المياه - توفر التربة الخصبة

ب - تنوع المنتجات الصناعية في حضارة بلاد الرافدين.

توفر المواد الخام - توفر التربة الطينية

د - نمو الحركة التجارية في حضارة بلاد الرافدين.

الموقع الجغرافي - توفر المنتجات - الامن - المواصلات

السؤال الثالث: أجب عما يأتي:

أ - ما النتائج المترتبة على اختراع الكتابة المسمارية؟

كتابة العقود

ب - اذكر أهم القوانين التي عرفتها بلاد الرافدين.

قوانين حمورابي

ج - وضح طبقات المجتمع في بلاد الرافدين.

1. **العليا (الكهنة - ملاك الأراضي - كبار التجار)**

2. **الوسطى (العمال والفلاحون)**

3. **الدنيا (أسرى الحروب والعبيد)**

Harrods



الوحدة الثالثة:

(السلطات الدستورية)



3

الدرس الأول: السلطة التشريعية والتنفيذية في دولة قطر

الصفحة
(75)

السؤال الأول: اختر الإجابة الصحيحة من بين البدائل التالية:

ثانياً:
التدريبات

1- يتولى أمير البلاد السلطة التنفيذية ويعاونه:

- أ- مجلس الوزراء.
- ب- مجلس الشورى.
- ج- المجلس القضائي.
- د- المجلس البلدي.

2- يُعتبر مجلس الشورى ممثلاً للسلطة:

- أ- التنفيذية.
- ب- القضائية.
- ج- التشريعية.
- د- الصحافية.

3- عدد أعضاء مجلس الشورى:

- أ- 25.
- ب- 35.
- ج- 45.
- د- 55.

4- تتولى الرقابة على أعمال السلطة التنفيذية:

- أ- السلطة التشريعية.
- ب- السلطة القضائية.
- ج- مجلس الوزراء.
- د- المجلس البلدي.

السؤال الثاني: اذكر ثلاثة من اختصاصات مجلس الوزراء.

- 1) إدارة شؤون للدولة.
- 2) اقتراح وتنفيذ القوانين.
- 3) رقابة النظام الحكومي .

السؤال الثالث: بين اختصاصات السُلطة التشريعية في دولة قطر.

- 1) تشريع القوانين.
- 2) إقرار الموازنة العامة.
- 3) رقابة السلطة التنفيذية.

السؤال الرابع: حدّد الدستور القطري كل ما يتعلّق بالسلطة التنفيذية.

1 - من الذي يتولّى السلطة التنفيذية في دولة قطر؟ وبمعاونة من؟

أمير البلاد - يعاونه مجلس الوزراء

2- اذكر اختصاصات أمير البلاد .

- 1) رسم السياسة العامة للدولة .
- 2) المصادقة على القوانين.
- 3) اعتماد البعثات الدبلوماسية

Harrods



الوحدة الرابعة :

التوزيع الجغرافي للسكان



4

الدرس الأول : العوامل الطبيعية المؤثرة في التوزيع الجغرافي للسكان
الدرس الثاني : العوامل البشرية المؤثرة في التوزيع الجغرافي للسكان

الصفحة (97)

السؤال الأول: اختر الإجابة الصحيحة مما يلي:

ثانياً:
التدريبات

- 1- من أمثلة مناطق تركُّز السُّكَّان في العالم:
أ- الصحاري الحارة. ب- الصحاري الجليدية.
ج- **السهول الفيضية.** د- الغابات الاستوائية.
- 2- أكبر قارات العالم من حيث عدد السُّكَّان:
أ- **آسيا.** ب- إفريقيا.
ج- أوروبا. د- أمريكا الشمالية.
- 3- من العوامل الطبيعية المؤثرة في توزيع السُّكَّان:
أ- **الثروات المعدنية.** ب- النقل والمواصلات.
ج- الزراعة. د- الأحداث السياسية.

الصفحة (97)

السؤال الثاني: بم تفسر:

- 1- تركُّز السُّكَّان في السهول الفيضية.
وجود الأنهار مثل الصين
- 2- تُعدُّ السهول من أفضل وأنسب أنواع السطح للتركُّز البشري.
1- سهولة مد طرق المواصلات.
2- إقامة المنشآت العمرانية.
3- ممارسة الأنشطة الزراعية.
- 3- تضمُّ الأقاليم المُنَاخية المعتدلة نصف سكان العالم.
- الحرارة المعتدلة - الامطار المناسبة

4 - يقلُّ التَّركُّزُ السُّكَّاني في المناطق الجبلية.

1- تعرج السطح.

2- تعرية التربة.

3- صعوبة التنقل.

5 - تتوافق خريطة توزيع السكان وكثافتهم بشكل كبير مع خريطة توزيع الأمطار.

لان الكثافة المرتفعة غزيرة بالأمطار

السؤال الثالث: دلي على صحة العبارة التالية:

1 - ليست جميع المناطق المرتفعة طاردة للسكان.

..... **تركز السكان صنعاء المرتفعة**

2 - للمناخ تأثير غير مباشر على توزيع السُّكَّان.

..... **حيث يؤثر على التربة والنبات والزراعة**

السؤال الرابع: أجب عمَّا يلي:

1 - ما النتائج المترتبة على ظهور النفط في منطقة الخليج العربي.

..... **ساهم في نشأة المدن**

2 - «للتربة دورها المؤثر في توزيع السُّكَّان» وضح ذلك.

..... **تركز السكان في التربة الفيضية الخصبة**

1- من العوامل البشرية المؤثرة في توزيع سكان العالم:

- أ- معدلات الأمطار. ب- مصادر الطاقة.
ج- **النشاط الاقتصادي.** د- التربة.

2- من المدن الصناعية التي تشهد تركُّزًا سُّكَّانيًا بدولة قطر:

- أ- **مدينة مسعيد.** ب- مدينة الشَّمال.
ج- مدينة الشحانية. د- مدينة أم صلال.

3- الحرفة التي لا تحتاج لأعداد كبيرة من السكان:

- أ- الزراعة. ب- الصناعة.
ج- التجارة. د- **الرعي.**

السؤال الثاني: بِمَ تُفسِّر:

1 - الهجرة القسرية للسكان.

بسبب الحروب

2 - تجتذب الزراعة أعدادًا قليلة من السُّكَّان في دول العالم المتقدِّم.

بسبب استخدام التكنولوجيا الزراعية

3 - تركُّز السكان في غرب أوروبا.

بسبب انتشار الصناعة

السؤال الثالث: دَلِّل على صحة العبارة التالية:

1 - تأثير المواصلات على التركُّز السكاني.

شبكة الطرق في قطر سبب التركيز

2 - تأثير النشاط الاقتصادي على التركُّز السكاني.

بسبب الرعي والزراعة والصناعة

السؤال الرابع: ما النتائج المترتبة على:

1 - الاحتلال الإسرائيلي لأرض فلسطين (سكانيًا)؟

هجرة السكان إلى مناطق آمنة

2 - استخدام الميكنة في الزراعة بالدول المتقدمة؟

قلة الحاجة إلى الأيدي العاملة

Harrods



الوحدة الخامسة : الخلافة العباسية



5

الدرس الأول : الدولة العباسية (نشأتها – أهم الخلفاء)
الدرس الثاني : الدولة العباسية (فتوحاتها – نهايتها)

الصفحة (118)

السؤال الأول: اختر الإجابة الصحيحة من بين البدائل:

1- أول خلفاء الدولة العباسية الخليفة:

أ- الأمين.

ب- أبو العباس.

ج- هارون الرشيد.

د- المأمون.

2- وُصِفَ بأنه لو لم يكن خليفة لكان عالماً:

أ- أبو جعفر المنصور.

ب- المعتصم بالله.

ج- هارون الرشيد.

د- المأمون.

الصفحة (118)

السؤال الأول: اختر الإجابة الصحيحة من بين البدائل:

3- أنشأ الخليفة المعتصم بالله مدينة:

أ- بغداد.

ب- سُرَّ مَنْ رَأَى.

ج- خُرَاسَانَ.

د- دمشق.

4- من إنجازات الخليفة هارون الرشيد:

أ- فتح عمورية.

ب- الاهتمام بحركة الترجمة.

ج- إنشاء مرصد فلكي في بغداد.

د- إنشاء بيت الحكمة.

1- يُطلق على العصر العبّاسي الأول اسم عصر القوة.

- 1) قوة الخليفة.
- 2) إحياء السُّنة.
- 3) ازدهار الحضارة.

2- يُعدُّ أبو جعفر المنصور المؤسس الحقيقي للدولة العباسية.

- 1) ثبّت أركان الدولة .
- 2) جهاز مراقبة الموظفين .
- 3) حماية الدولة.
- 4) بنى بغداد.

3- اشتهر عصر المأمون بالنهضة العلمية والثقافية.

- 1) اهتمّ بالعلم.
- 2) ازدهار العلوم
- 3) ازدهار الترجمة
- 4) أهتم ببيت الحكمة

4- نجاح العباسيين في إسقاط الدولة الأموية.

بسبب ضعف لدولة الأموية

1- عيّد أعمال الخليفة هارون الرشيد.

- 1) أنشأ بيت الحكمة.
- 2) ازدهار الحياة الاقتصادية .

2- اذكر أعمال الخليفة المعتصم بالله.

- 1) قضى على الثورات.
- 2) بنى سامراء .

السؤال الرابع: رتب خلفاء الدولة العباسية من الأقدم إلى الأحدث.

الصفحة (119)

(المعتصم - هارون الرشيد - أبو جعفر المنصور - المأمون).

المعتصم

4

المأمون

3

هارون الرشيد

2

أبو جعفر المنصور



الصفحة (120)

السؤال الخامس: ما النتائج المترتبة على:

1- معركة الزاب الكبير سنة 132 هـ؟

القضاء على جيش الدولة الأموية .

2- إنشاء الخليفة أبي جعفر المنصور جهازًا إداريًا مُحكَمًا؟

مراقبة موظفي الدولة .

السؤال السادس: دَلِّ على ما يلي:

1- تشجيع الخليفة هارون الرشيد الحركة العلمية والأدبية.

أنشأ بيت الحكمة.

2- تشجيع الخليفة المأمون لحركة الترجمة من الكتب الأجنبية إلى اللغة العربية.

يُعطي للمترجم ذهباً .

السؤال الأول: اختر الإجابة الصحيحة من بين البدائل التالية:

ثانيًا:
التدريبات

الصفحة (129)

1- من أسباب سقوط الدولة العباسية:

أ- وحدة البيت العباسي.

ب- الاهتمام بالزراعة والصناعة.

ج- تزايد الأطماع الخارجية في الدولة.

د- وجود خلفاء قادرين على إدارة شؤون الدولة.

2- بدأ منصب الخلافة العباسية يضعف مع وفاة الخليفة:

أ- المعتصم.

ب- المأمون.

ج- المهدي.

د- الواثق.

- أ- الصليبيين.
ب- الفاطميين.
ج- المغول.
د- السلاجقة.

4- فتحت عمورية عام 223 هـ على يد الخليفة:

- أ- المأمون.
ب- المنصور.
ج- المعتصم بالله.
د- الواثق بالله.

السؤال الثاني: قارن بين العصر العباسي الأول والعصر العباسي الثاني:

العصر العباسي الثاني	العصر العباسي الأول	وجه المقارنة
أكثر من 400 عام	100 عام	المدة الزمنية
<ul style="list-style-type: none"> التفكك والانقسام الضعف الاقتصادي تراجع النشاط العسكري 	<ul style="list-style-type: none"> قوة الخليفة العدل بين الناس ازدهار العلوم 	سمات كل عصر

السؤال الثالث: أجب عن الأسئلة التالية:

1- ما العلاقة بين تراجع النشاط العسكري وسقوط الدولة العباسية؟

تهديد الخطر المغولي والصليبي

2- ماذا ترتب على عوامل الفُرقة والانقسام داخل الدولة العباسية؟

تراجع النشاط العسكري

3- عدد أسباب سقوط الدولة العباسية؟

- 1) ضعف الخلفاء .
- 2) ضعف الجيش .
- 3) إهمال الزراعة .
- 4) اتساع مساحة الدولة .
- 5) الأطماع الخارجية .

4- اذكر أهمَّ الإجراءات التي اتخذها العباسيون لحماية دولتهم .

- 1- بناء القلاع
- 2- فتح عمورية

1- انقسام أراضي الدولة العباسية إلى عدد من الدويلات المستقلة.

بسبب التفكك والانقسام

2- تردّي الأوضاع الاقتصادية والاجتماعية في عصر الدولة العباسية الثاني.

- انتشار الفساد - انتشار الفوضى .

3- ظهور قوى وأخطار خارجية هدّدت الدولة العباسية في عصرها الثاني.

- عوامل الفرقة والانقسام . تراجع النشاط العسكري .

- انغماس الخلفاء خلال العصر العباسي الثّاني في حياة الترف والمملدّات؟

- زيادة النفقات - الثورات الداخلية



الوحدة السادسة : الامن الوطني

6

الدرس الأول : الامن الوطني وأبعاده
الدرس الثاني : مقومات الامن الوطني ومؤسساته

الصفحة (142)

ثانياً:
التدريبات

السؤال الأول: اختر الإجابة الصحيحة من بين البدائل التالية:

1- يُعبّر الهدف «تحقيق الاستغلال الأمثل للموارد» عن الأمن:

أ- العسكري.
ب- السياسي.
ج- الاقتصادي.
د- الاجتماعي.

1- من أهداف الأمن العسكري:

أ- تعزيز قدرة الدولة الدفاعية.
ب- تحقيق الاكتفاء الذاتي.
ج- الحماية من عوامل الفوضى.
د- إيجاد أسواق مُتعددة.

الصفحة (142)

السؤال الثاني: من خلال دراستك حدّد أهداف كل بُعد من أبعاد الأمن القومي مُستعيناً بالجدول التالي.

الأمن الاقتصادي	الأمن السياسي	الأمن العسكري	الأمن الاجتماعي
استغلال الأمثل للموارد	الحماية من الفوضى	تعزيز القدرة الدفاعية.	امن واستقرار المجتمع

قدرة الدولة على حماية أراضيها وشعبها من أي عدوان خارجي

السؤال الرابع: يُعتبر الأمن الاجتماعي من أبعاد الأمن الوطني. وضّح العبارة.

• **استقرار المجتمع. - يحقق والتطور .**

السؤال السادس: من أبعاد الأمن الوطني: الأمن العسكري والسياسي. وضّح ذلك. مع بيان العلاقة بينهما.

العلاقة بينهم حماية الدولة في الداخل والخارج

الصفحة (153)

السؤال الأول: اختر الإجابة الصحيحة من بين البدائل الآتية:

ثانيًا:
التدريبات

1- أي مما يلي من إدارات وزارة الدفاع؟

أ- الإدارة العامة للمرور. ب- الإدارة العامة للدفاع المدني.

ج- إدارة الفزعة. د- القوات الأميرية الجوية القطرية.

2- الاستجابة السريعة من أجل مجتمع آمن من مهام:

أ- إدارة شرطة النجدة. ب- الإدارة العامة للمرور.

ج- الإدارة العامة للدفاع المدني. د- الإدارة العامة لمكافحة المخدرات.

الصفحة (153)

السؤال الثاني: تشمل وزارة الداخلية بدولة قطر العديد من الإدارات لتحقيق الأمن. اقرأ كل فقرة من المهام التالية. ثم حدّد الإدارة المسؤولة عنها.

الإدارة	البعد
شرطة النجدة (الفزعة)	توفر الاستجابة السريعة للحفاظ على أمن المجتمع.
الإدارة العامة للمرور	تسعى لوضع الخطط والضوابط للحركة المرورية، وتحقيق السلامة على الطريق.
الإدارة العامة لمكافحة المخدرات	تعمل على مكافحة وضبط جرائم المخدرات في الدولة بشتى صورها.
الإدارة العامة لأمن السواحل والحدود	مراقبة وحماية حدود وسواحل الدولة.
الإدارة العامة للدفاع المدني	مواجهة الحوادث والكوارث وحالات الطوارئ؛ لحماية الأرواح والممتلكات.

السؤال الثالث: حدّد أهمّ مقومات الأمن الوطني من وجهة نظرك مُدعمًا بالأدلة.

- استقرار النظام السياسي.
- ترسيخ الديمقراطية.
- التوافق مع الأمن العالمي.
- تطوير أجهزة الأمن الوطني

السؤال الرابع: أجب عمّا يلي.

1- ما دورك في الحفاظ على الأمن الوطني؟

1. الالتفاف حول الأمير.
2. تقديم المصلحة العامة.
3. الالتحاق بالخدمة الوطنية.
4. نبذ التعصب القبلي.
5. دعم الاقتصاد الوطني.
6. عدم تداول الإشاعات.

السؤال الرابع: أجب عمّا يلي.

2- يُعتبر ترسيخ الديمقراطية من مقومات الأمن الوطني، وضح ذلك.

تحقيق العدالة الاجتماعية وتكافؤ الفرص .

3- فسّر: تطوير الأجهزة الأمنية أحد أهم مقومات الأمن الوطني.

لكي تتأهل للقيام بواجباتها لحماية أمن الدولة .

4- اذكر مهامّ وزارة الدفاع القطرية.

1) تأمين الحدود

2) تنظيم الخدمة الوطنية