

أختبار قصير

اختر الإجابة الصحيحة من بين الاقواس :

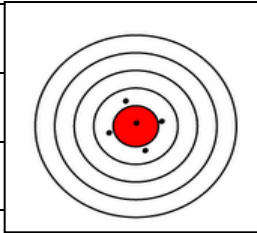
1	أي من التالي يعتبر من الكميات المشتقة ؟
	Mass <input type="checkbox"/> A
	Force <input type="checkbox"/> B
	Time <input type="checkbox"/> C
	Temperature <input type="checkbox"/> D

2	أي من التالي يعبر عن (5 μ) ؟
	5×10^6 <input type="checkbox"/> A
	5×10^{-6} <input type="checkbox"/> B
	5×10^{-9} <input type="checkbox"/> C
	5×10^{-12} <input type="checkbox"/> D

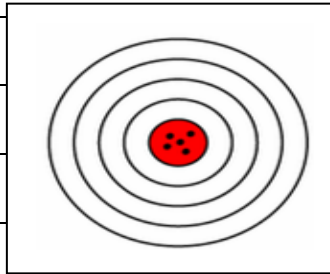
3	أي من التالي يعبر عن (20 G) ؟
	2×10^{-6} <input type="checkbox"/> A
	2×10^6 <input type="checkbox"/> B
	2×10^9 <input type="checkbox"/> C
	2×10^{10} <input type="checkbox"/> D

4	أي من التالي يعبر عن (0.0022 mm) ؟
A	2.2×10^{-6}
B	2.2×10^6
C	2.2×10^9
D	2.2×10^{10}

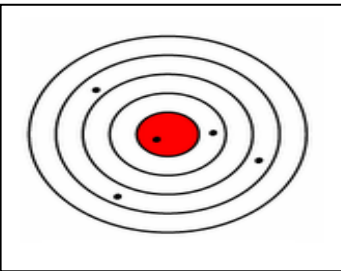
5	الشكل المجاور يدل على نتائج رماية شخص لخمسة اسهم على لوحة التصويب . ما هو أدق وصف لنتائج التصويب ؟
A	ضبط عالي ودقة عالية
B	لا ضبط ولا دقة
C	دقة عالية وضبط صغير
D	دقة صغيرة وضبط عالي



6	الشكل المجاور يدل على نتائج رماية شخص لخمسة اسهم على لوحة التصويب . ما هو أدق وصف لنتائج التصويب ؟
A	ضبط عالي ودقة عالية
B	لا ضبط و لا دقة
C	دقة عالية وضبط صغير
D	دقة صغيرة وضبط عالي



7	الشكل المجاور يدل على نتائج رماية شخص لخمسة اسهم على لوحة التصويب . ما هو أدق وصف لنتائج التصويب ؟
A	ضبط عالي ودقة عالية
B	لا ضبط ولا دقة
C	دقة عالية وضبط صغير
D	دقة صغيرة وضبط عالي



8	أي من النتائج التالية يعتبر أكثر دقة ؟
	0.01 [A]
	0.001 [B]
	0.0001 [C]
	0.00001 [D]

9	<p>أجرى ثلاث طلاب تجربة قياس طول نابض معلق به كتلة فكان النتائج التي حصلوا عليها كالتالي :</p> <p>أحمد : 8.31cm , 8.32 cm, 8.31 cm</p> <p>عمر : 8.37 cm, 8.36cm , 8.41 cm</p> <p>علي : 8.33 cm , 8.35 cm , 8.36 cm</p> <p>إذا علمت ان القيمة الحقيقية لطول النابض هي : 8.35 cm</p> <p>أي طالب تعتبر قراءته أكثر دقة وإيهام أكثر ضبطاً</p>
	أحمد أكثر دقة ، وعلي أكثر ضبط [A]
	علي أكثر دقة ، وأحمد أكثر ضبط [B]
	أحمد أكثر دقة ، وعمر أكثر ضبط [C]
	عمر أكثر دقة ، وعلي أكثر ضبط [D]

10	أي من التالي يعتبر من أسباب هامش الخطأ؟
	نقص الاعداد الصحيح للتجربة. [A]
	الاطاء الشخصية. [B]
	محدودية الدقة في اجهزة وادوات القياس [C]
	جميع ماسبق [D]
11	كلما كانت الأداة المستخدمة في القياس ذات تدرج اصغر كانت الأداة؟

أقل دقة	A	
أقل ضبط	B	
أكثر دقة	C	
أكثر ضبط	D	

12	ما أسباب الخطأ في القياس ؟
A	الأخطاء الشخصية
B	محدودية الدقة في أجهزة وأدوات القياس
C	عدم القدرة على قراءة الأجهزة بشكل دقيق
D	جميع ما ذكر

13	أي من التالي يعتبر من الأخطاء المنتظمة ؟
A	خلل في تصميم جهاز القياس .
B	انقطاع التيار الكهربائي أثناء اجراء التجربة .
C	زيادة في فرق الجهد لمصدر القدرة الكهربائية
D	تغير مفاجئ في درجة الحرارة أثناء اجراء التجربة .
14	أي من التالي يعتبر من الأخطاء العشوائية ؟
A	تغير مفاجئ في درجة الحرارة أثناء اجراء التجربة .
B	عدم معايرة الجهاز .
C	خلل في تصميم جهاز القياس .
D	نقص الاعداد الصحيح للتجربة.



السلام عليكم ورحمة الله وبركاته
نرحب بكم في

[موقع ومندديات صقر الجنوب التعليمية المنهاج القطري](#)

ويسعدنا ويشرفنا ان نستمر معكم في تقديم
كل ما هو جديد للمنهاج المحدثه المطورة ولجميع
المستويات والمواد
ملفات نجمها من كل مكان ونضعها لكم في مكان واحد
ليسهل تحميلها
علما ان جميع ما ننشر مجاني 100%

أخي الزائر - أختي الزائرة انا دعمكم لنا هو انمامكم لنا
فهو شرف كبير لنا

[هنا](#) صفحتنا على الفيس بوك

[هنا](#) مجموعتنا على الفيس بوك


[هنا](#) مجموعتنا على التلقرام

[هنا](#) قنواتنا على اليوتيوب

جميع ملفاتنا نرفعها على مركز تحميل خاص في [صقر الجنوب](#)

نحن نسعى دائما الى تقديم كل ما هو أفضل لكم و هذا وعد منا ان شاء الله
شجعونا دائما حتى نواصل في العطاء و [نسال](#) الله ان يوفقنا و يسدد خطانا

في حال واجهتك اي مشكلة في تحميل اي ملف
من [منديات صقر الجنوب المنهاج القطري](#)
صفحة [اتصل بنا](#)





قنوات تيليجرام منهاج دولة قطر الفصل الأول والثاني محدث

قناة المستوى الثالث

قناة المستوى الثاني

قناة المستوى الأول

قناة المستوى السادس

قناة المستوى الخامس

قناة المستوى الرابع

قناة المستوى التاسع

قناة المستوى الثامن

قناة المستوى السابع

قناة المستوى الثاني عشر

قناة المستوى الحادي عشر

قناة المستوى العاشر



قنوات اليوتيوب التعليمية للمناهج القطري من المستوى 01-10

قناة المستوى الثالث

قناة المستوى الثاني

قناة المستوى الأول

قناة المستوى السادس

قناة المستوى الخامس

قناة المستوى الرابع

قناة المستوى التاسع

قناة المستوى الثامن

قناة المستوى السابع

قناة المستوى الثاني

قناة المستوى الحادي عشر

قناة المستوى العاشر

عشر



مجموعات الفيس بوك للمناهج القطري الفصل الاول والفصل الثانى محدث

رياض الاطفال

مجموعة المستوى
الثالث

مجموعة المستوى
الثانى

مجموعة المستوى الأول

مجموعة المستوى السادس

مجموعة المستوى
الخامس

مجموعة المستوى
الرابع

مجموعة المستوى التاسع

مجموعة المستوى الثامن

مجموعة المستوى السابع

مجموعة المستوى الثانى
عشر

مجموعة المستوى الحادى عشر

مجموعة المستوى العاشر

صفدتنا على الفيس بوك

الهدف الرئيسي
لمتدرياته صقر الجنوب
هو

منصة تعليمية مجانية

لهدفنا المنفعة ونشر العلم

نشر العلم مجانا لكل من يطلب العلم في جميع أنحاء العالم
لا نفرض أي رسوم أو نفقات على العضوات في الموقع
علما انه مجاني بدون تسجيل عضوية

لنستمر في البقاء ان شاء الله

يمكن ان تساهم في استقرارنا والتخفيف

عنا مصاريف السيرفر والاستضافة

مهما كانت مساهمتك صغيرة أو كبيرة، لها أثر كبير في استقرار
الموقع لتقديم خدماته المجانية من ملفات مصممة ومنقولات

من خلال دعمنا على حسابنا الخاص على

[من خلال الضغط هنا PayPal](#)