

العام الأكاديمي 2023/2022

نهاية الفصل الدراسي الأول



أوراق العمل الإثرائية ورقة رقم (1)

مادة الدراسات الاجتماعية

الصف الرابع الابتدائي

	اسم الطالب
	الصف والشعبة

(التدريبات الإثرائية - الصف الرابع)السؤال الأول: اختر الإجابة الصحيحة من بين البدائل الآتية.

1- يبلغ عدد خطوط الطول.

☐ أ- 360 ☐ ب- 370 ☐ ج- 380 ☐ د- 390

2- الخط الرئيسي الذي يتوسط خطوط الطول هو.

☐ أ- مدار الجدي ☐ ب- خط الاستواء ☐ ج- خط جرينتش ☐ د- مدار السرطان
السؤال الثاني: أكمل الفراغات التالية مما بين القوسين

(الدورة اليومية - الشتاء - الجنوب - الصيف - دوائر العرض)

1- ترتفع درجة الحرارة في فصل

2- يقع مدار السرطان بالنسبة لدولة قطر في جهة

3- هي عبارة عن دوائر وهمية أفقية متوازية تحيط بالكرة الأرضية

4- تنخفض درجات الحرارة وتتساقط الأمطار في فصل

السؤال الثالث: اذكر أهمية خطوط الطول على سطح الكرة الأرضية.

1-

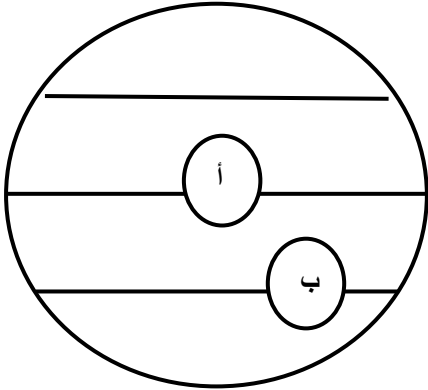
2-

التدريبات الإثرائية - الصف الرابعالسؤال الأول: اختر الإجابة الصحيحة من بين البدائل الآتية.

1- تتساقط الأمطار على دولة قطر في فصل.

☐ أ- الصيف ☐ ب- الشتاء ☐ ج- الربيع ☐ د- الخريف

2- تتصل دولة قطر باليابس من جهة الجنوب مع.

☐ أ- الكويت ☐ ب- عمان ☐ ج- البحرين ☐ د- السعودية
السؤال الثاني: وضح من خلال الشكل الآتي دوائر العرض الرئيسية: -

1- دائرة

2- مدار

السؤال الثالث: ضع علامة (√) أو خطأ أمام العبارات الآتية.

1- يبلغ عدد خطوط الطول 360 خطاً طولياً. ()

2- يتميز فصل الصيف بدولة قطر بسقوط الأمطار الغزيرة. ()

1- يمثل خط جرينتش خط الطول الرئيس. ()

(التدريبات الإثرائية - الصف الرابع)

السؤال الأول: صل بين عبارات القائمة (أ) بما يناسبها من عبارات في القائمة (ب)

الرقم	(أ)	(ب)
أ-	يبلغ عدد خطوط الطول	الخلجان
ب-	تُعدُّ أحد أشكال سطح الأرض	360
ج-	تبدو قطر شبه جزيرة ممتدة في مياه	180
		الخليج العربي

السؤال الثاني (أ): اذكر أهمية دوائر العرض.

1-

2-

(ب): - مَّا أشكال سطح الأرض الداخلية؟

1-

2-

3-

4-

(التدريبات الإثرائية - الصف الرابع)السؤال الأول: اختر الإجابة الصحيحة من بين البدائل الآتية.

1- من أشكال سطح الأرض الساحلية.

☐ أ- الجزر ☐ ب- التلال ☐ ج- الروضات ☐ د- الدحول

2- هي أرض تحيط بها المياه من جميع الجهات.

☐ أ- الجزر ☐ ب- التلال ☐ ج- الروضات ☐ د- الدحول

السؤال الثاني: ضع علامة (✓) أو (x) أمام العبارات الآتية.

أ- النبات الطبيعي هو النبات الذي ينمو بقدرة الله دون تدخل الإنسان فيه. ()

ب- الكثبان الرملية هي عبارة عن كتل من الرمال تكونت بفعل الرياح. ()

السؤال الثالث: اذكر المصطلح العلمي الذي تدل عليه العبارات الآتية:

1- عبارة عن توغل مياه البحر داخل اليابس

(.....)

السؤال الرابع: عدد أشكال سطح الأرض الساحلية.

1-.....

2-.....

3-.....

4-.....

العام الأكاديمي 2022/2023

نهاية الفصل الدراسي الأول



أوراق العمل الإثرائية ورقة رقم (2)

مادة الدراسات الاجتماعية

الصف الرابع الابتدائي

	اسم الطالب
	الصف والشعبة

(التدريبات الإثرائية - الصف الرابع)

السؤال الأول: اختر الإجابة الصحيحة من بين البدائل الآتية.

1- كان موطن أسرة آل ثاني قبل هجرتهم إلى قطر.

☐ أ- الوشم ☐ ب- الإحساء ☐ ج- الحجاز ☐ د- الخور

2- ولد الشيخ محمد بن ثاني آل ثاني في مدينة.

☐ أ- الزبارة ☐ ب- فويرط ☐ ج- الدوحة ☐ د- نجد

3- يعد الشيخ علي بن عبد الله آل ثاني الحاكم لدولة قطر.

☐ أ- الأول ☐ ب- الثاني ☐ ج- الثالث ☐ د- الرابع

السؤال الثاني: - أكمل الفراغات مما بين القوسين: -

(الدولة العثمانية - الوشم - بريطانيا - اللؤلؤ)

1- كان موطن أسرة آل ثاني قبل هجرتهم إلى قطر في منطقة

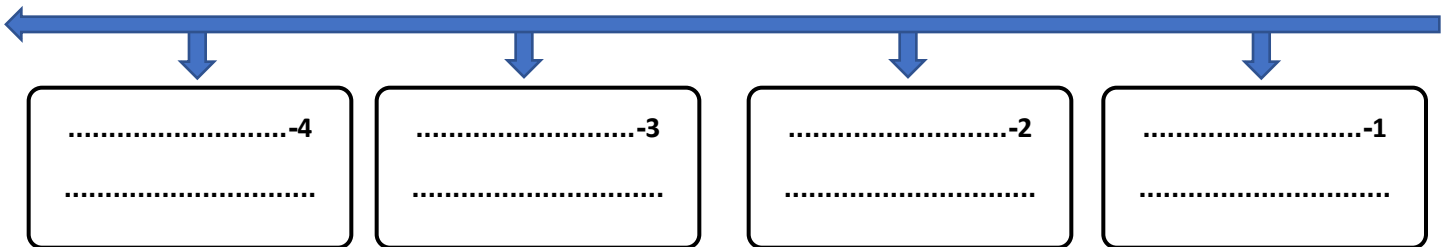
2- عمل الشيخ جاسم بن محمد بن ثاني مع والده في تجارة

3- منح الشيخ جاسم بن محمد بن ثاني لقب قائم مقام من قبل

السؤال الثاني: رتب حكام دولة قطر من الأقدم إلى الأحدث على الخط الزمني.

(الشيخ أحمد بن علي آل ثاني - الشيخ جاسم بن محمد آل ثاني - الشيخ عبد الله بن جاسم آل ثاني

- الشيخ محمد بن ثاني)



(التدريبات الإثرائية - الصف الرابع)السؤال الأول: ضع علامة (✓) أو (x) أمام العبارات الآتية.

- أ- وُلِدَ الشيخ محمد بن ثاني في مدينة فويرط. ()
- ب- تميّزت العلاقات بين الشيخ جاسم وبريطانيا بالتعاون. ()
- ج- مُنح الشيخ جاسم بن محمد بن ثاني لقب قائم مقام من قبل. ()
- د- أظهرت معركة الوجبة أهمية الاتحاد بين القبائل القطرية في مواجهة الأزمات. ()

السؤال الثاني: اذكر أسباب معركة الوجبة.

1-.....

2-.....

السؤال الثالث: وضح نتائج معركة الوجبة.

1-.....

2-.....

السؤال الرابع: اذكر طرفي معركة الوجبة.

1-.....

2-.....

(التدريبات الإثرائية - الصف الرابع)

السؤال الأول: اختر الإجابة الصحيحة من بين البدائل الآتية.

1- هي الخصائص والسمات التي يتميز بها الشعب القطري عن الشعوب الأخرى.

☐ أ- الحقوق ☐ ب- الواجبات ☐ ج- المواطنة ☐ د- الهوية الوطنية

السؤال الثاني: - عدد مكونات الهوية الوطنية.

1-.....

2-.....

3-.....

4-.....

العام الأكاديمي 2023/2022

نهاية الفصل الدراسي الأول



أوراق العمل الإثرائية ورقة عمل رقم (3)

مادة الدراسات الاجتماعية

الصف الرابع الابتدائي

	اسم الطالب
	الصف والشعبة

(التدريبات الإثرائية - الصف الرابع)السؤال الأول: - اختر الإجابة الصحيحة من بين البدائل الآتية.

1- الفرق بين عدد المواليد وعدد الوفيات يشير التعريف الى مفهوم.

☐ السكان ☐ الزيادة الطبيعية ☐ الزيادة غير الطبيعية ☐ النمو السكاني

2- تتمثل الزيادة غير الطبيعية لسكان دولة قطر في.

☐ عدد السكان ☐ عدد الوفيات ☐ عدد المواليد ☐ الهجرات الوافدة

3- يرجع ارتفاع نسبة العمالة الوافدة بدولة قطر إلى.

☐ حسن المعاملة ☐ اعتدال المناخ ☐ ارتفاع مستوى المعيشة ☐ كثرة الأماكن السياحية

4- الفئة التي تمثل أعلى نسبة من سكان دولة قطر هي.

☐ الأطفال ☐ الشباب ☐ الإناث ☐ كبار السن
السؤال الثاني: - ضع علامة (√) أو (x) أمام العبارات الآتية.

1- التركيب العمري للسكان هو تقسيم السكان حسب فئات العمر. ()

2- ترجع الزيادة السكانية في دولة قطر إلى ظهور النفط والغاز. ()

1- تتمثل الزيادة غير الطبيعية لدولة قطر في الهجرة الوافدة. ()

السؤال الثالث: - وضح عوامل النمو السكاني في دولة قطر؟

1-

2-

(التدريبات الإثرائية - الصف الرابع)السؤال الأول: - اختر الإجابة الصحيحة من بين البدائل الآتية.

1- أقل بلديات قطر سكاناً عام 2015 بلدية.

☐ الخور ☐ الوكرة ☐ الشمال ☐ الظعائن

2- أكثر بلديات دولة قطر سكاناً عام 2015 بلدية.

☐ الدوحة ☐ الريان ☐ الشمال ☐ الشحانية

3- يقل تركيز سكان دولة قطر في المناطق الجنوبية الغربية بسبب.

☐ الروضات ☐ الصحاري ☐ حقول النفط ☐ الجبال الوعرة
السؤال الثاني: - ضع علامة (✓) أو (x) أمام العبارات الآتية.

1- أكثر بلديات دولة قطر سكاناً بلدية الدوحة. ()

2- أقل بلديات دولة قطر سكاناً بلدية الظعائن. ()

السؤال الثالث: - وضح أسباب تركيز السكان في مدينة الدوحة.

1-.....

2-.....

3-.....

السؤال الرابع: - عدد المناطق الصناعية في دولة قطر.

1-.....

2-.....

3-.....

(التدريبات الإثرائية - الصف الرابع)

السؤال الأول: - اختر الإجابة الصحيحة بوضع علامة [✓] في المربع المقابل.

1- تم اكتشاف النفط في عهد الشيخ.

☐ عبد الله بن جاسم آل ثاني

☐ جاسم بن محمد آل ثاني

☐ علي بن الله آل ثاني

☐ أحمد بن علي آل ثاني

السؤال الثاني: - ضع علامة (✓) أو (x) أمام العبارات الآتية.

1- تولى الشيخ عبد الله بن جاسم آل ثاني الحكم عام 1913م. ()

2- ولد الشيخ عبد الله بن جاسم آل ثاني في مدينة فويرط. ()

3- الحاكم الثالث لدولة قطر الشيخ عبد الله بن جاسم آل ثاني. ()

السؤال الثالث: - اذكر أعمال الشيخ عبد الله بن جاسم آل ثاني:

1.....

2.....

3.....

السؤال الرابع: - عدد صفات الشيخ عبد الله بن جاسم آل ثاني.

1..... 2.....

3..... 4.....

(التدريبات الإثرائية - الصف الرابع)السؤال الأول: - ضع علامة (√) أو (x) أمام العبارات الآتية.

- 1- خرجت القوات العثمانية من قطر في عهد الشيخ عبد الله بن جاسم آل ثاني. ()
- 2- أول من قام بالبحث عن النفط في قطر ألمانيا. ()
- 3- عقدت المعاهدة الثانية بين قطر وبريطانيا عام 1935. ()

السؤال الثاني: - اذكر ثلاثة من صفات الشيخ عبد الله بن جاسم آل ثاني:

- 1.....
- 2.....
- 3.....

السؤال الثالث: - أكمل الفراغات التالية.

- 1- سميت أول مدرسة أنشئت في عهد الشيخ عبد الله بن جاسم آل ثاني بالمدرسة.....
- 2- الحاكم الثالث لدولة قطر الشيخ
- 3- وقعت المعاهدة الأولى بين قطر وبريطانيا عام
- 4- ولد الشيخ عبد الله بن جاسم آل ثاني في مدينة.....

(التدريبات الإثرائية - الصف الرابع)

السؤال الأول: - اختر الإجابة الصحيحة بوضع علامة ☒ في المربع المقابل.

1- هو الممتلكات العامة للدولة ولجميع المواطنين الحق فيها بالتساوي.

☐ الصالح ☐ التراحم ☐ التكافل ☐ التعايش

السؤال الثاني: - ضع علامة (✓) أو (x) أمام العبارات الآتية.

4- أحد طرق المحافظة على الصالح العام المحافظة على أدوات المدرسة. ()

السؤال الثالث: - عدد طرق المحافظة على الصالح العام.

1-.....

2-.....

3-.....

السؤال الرابع: - ما صفات المواطن الصالح؟

1-.....

2-.....

3-.....

4-.....



السلام عليكم ورحمة الله وبركاته
نرحب بكم في

[موقع ومندديات صقر الجنوب التعليمية المنهاج القطري](#)

ويسعدنا ويشرفنا ان نستمر معكم في تقديم
كل ما هو جديد للمنهاج المحدثه المطورة ولجميع
المستويات والمواد
ملفات نجمها من كل مكان ونضعها لكم في مكان واحد
ليسهل تحميلها
علما ان جميع ما ننشر مجاني 100%

أخي الزائر - أختي الزائرة انا دعمكم لنا هو انمامكم لنا
فهو شرف كبير لنا

[هنا](#) صفحتنا على الفيس بوك

[هنا](#) مجموعتنا على الفيس بوك


[هنا](#) مجموعتنا على التلقرام

[هنا](#) قنواتنا على اليوتيوب

جميع ملفاتنا نرفعها على مركز تحميل خاص في [صقر الجنوب](#)

نحن نسعى دائما الى تقديم كل ما هو أفضل لكم و هذا وعد منا ان شاء الله
شجعونا دائما حتى نواصل في العطاء و [نسال](#) الله ان يوفقنا و يسدد خطانا

في حال واجهتك اي مشكلة في تحميل اي ملف
من [منديات صقر الجنوب المنهاج القطري](#)
صفحة [اتصل بنا](#)





قنوات تيليجرام منهاج دولة قطر الفصل الأول والثاني محدث

قناة المستوى الثالث

قناة المستوى الثاني

قناة المستوى الأول

قناة المستوى السادس

قناة المستوى الخامس

قناة المستوى الرابع

قناة المستوى التاسع

قناة المستوى الثامن

قناة المستوى السابع

قناة المستوى الثاني عشر

قناة المستوى الحادي عشر

قناة المستوى العاشر



قنوات اليوتيوب التعليمية للمناهج القطري من المستوى 01-10

قناة المستوى الثالث

قناة المستوى الثاني

قناة المستوى الأول

قناة المستوى السادس

قناة المستوى الخامس

قناة المستوى الرابع

قناة المستوى التاسع

قناة المستوى الثامن

قناة المستوى السابع

قناة المستوى الثاني

قناة المستوى الحادي عشر

قناة المستوى العاشر

عشر



مجموعات الفيس بوك للمناهج القطري الفصل الاول والفصل الثاني محدث

رياض الاطفال

مجموعة المستوى
الثالث

مجموعة المستوى
الثاني

مجموعة المستوى الأول

مجموعة المستوى السادس

مجموعة المستوى
الخامس

مجموعة المستوى
الرابع

مجموعة المستوى التاسع

مجموعة المستوى الثامن

مجموعة المستوى السابع

مجموعة المستوى الثاني
عشر

مجموعة المستوى الحادي عشر

مجموعة المستوى العاشر

صفحتنا على الفيس بوك

الهدف الرئيسي
لمتدرياته صقر الجنوب
هو

منصة تعليمية مجانية

هدفنا المنفعة ونشر العلم

نشر العلم مجانا لكل من يطلب العلم في جميع أنحاء العالم
لا نفرض أي رسوم أو نفقات على العضوات في الموقع
علما انه مجاني بدون تسجيل عضوية

لنستمر في البقاء ان شاء الله

يمكن ان تساهم في استقرارنا والتخفيف

عنا مصاريف السيرفر والاستضافة

مهما كانت مساهمتك صغيرة أو كبيرة، لها أثر كبير في استقرار
الموقع لتقديم خدماته المجانية من ملفات مصممة ومنقولات

من خلال دعمنا على حسابنا الخاص على

[من خلال الضغط هنا PayPal](#)