

العام الأكاديمي 2025/2024

نهاية الفصل الدراسي الأول



أوراق العمل الإثرائية

مادة الرياضيات

الصف الأول الابتدائي

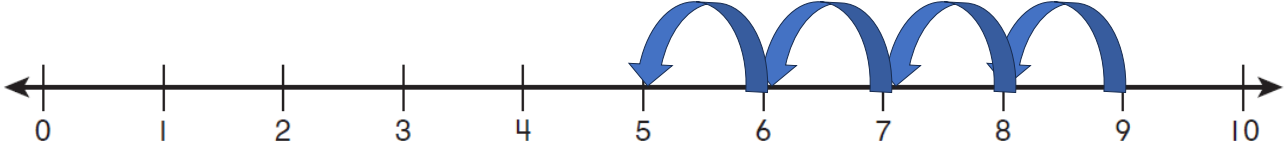
التدريبات الإثرائية

	اسم الطالب
	الصف والشعبية

اختر الإجابة الصحيحة وضع عليها علامة (X) :

السؤال رقم (1)

ما جملة الطرح التي تمثل الشكل ؟



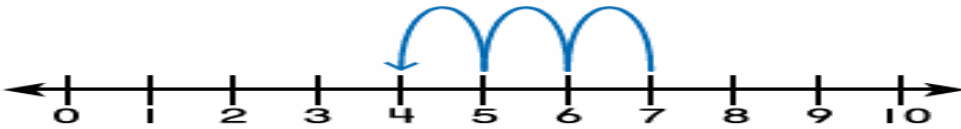
A $9 - 5 = 4$

B $9 - 4 = 5$

C $8 - 2 = 6$

السؤال رقم (2)

ما جملة الطرح التي تمثل الشكل ؟




A $4 - 3 = 1$

B $7 - 3 = 4$

C $7 - 2 = 5$

السؤال رقم (3)

أي مما يلي يمثل عدد حبات الأناناس؟



- A 15
- B 16
- C 17

السؤال رقم (4)

أي مما يلي يمثل عدد حبات الموز؟

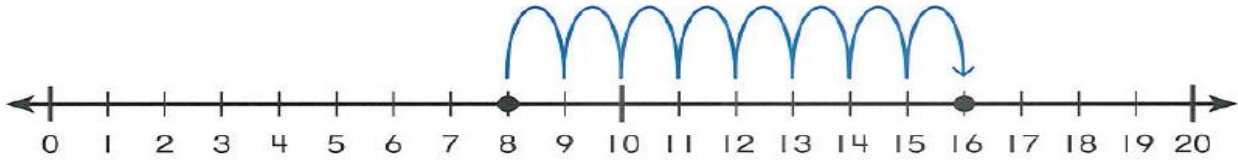


- A 14
- B 15
- C 16

السؤال رقم (5)

مثل صالح جملة عددية على خط الأعداد أدناه .

أي مما يلي يمكن أن تكون جملة صالح ؟

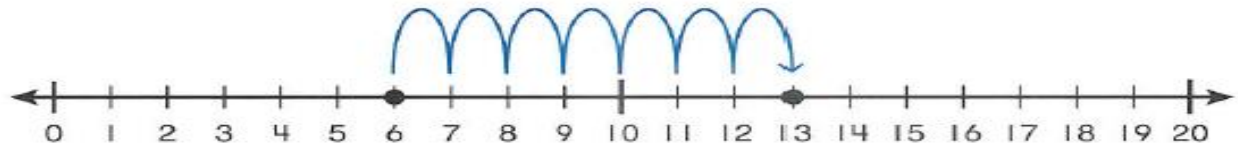


- A $8 + 8 = 16$
- B $9 + 8 = 17$
- C $10 + 9 = 18$

السؤال رقم (6)

مثل أحمد جملة عددية على خط الأعداد أدناه .

أي مما يلي يمكن أن تكون جملة أحمد ؟



- A $6 + 5 = 11$
- B $6 + 7 = 13$
- C $6 + 8 = 14$

أجب عن الأسئلة التالية وكتب إجابتك في المكان المخصص للإجابة:

السؤال رقم (7)

عد تنازليا وأوجد ناتج الطرح .

$9 - 5 = \dots\dots\dots$

$8 - 0 = \dots\dots\dots$

$8 - 2 = \dots\dots\dots$

$7 - 3 = \dots\dots\dots$

السؤال رقم (8)

لدى فريق كرة القدم بمدرسة الأندلس 6 كرات.
أحضر مدرب الفريق 3 كرات أخرى .
ما عدد الكرات لدى الفريق الآن ؟
ارسم قطع عد أو دوائر في لوحة العشرة .
ثم اكتب حقيقة جمع لحل المسألة .

$\dots\dots\dots + \dots\dots\dots = \dots\dots\dots$ كرات


السؤال رقم (9)

- غرس سعيد 5 شتلات في يوم الخميس .
 وغرس 3 شتلات أخرى في يوم الجمعة .
 ما عدد الشتلات التي زرعها سعيد في اليومين ؟
 ارسم قطع عد أو دوائر في لوحة العشرة .
 ثم اكتب حقيقة جمع لحل المسألة .

..... شتلات + =

السؤال رقم (10)

أكتب العدد الكلي للديوك ثم اكتب العدد الذي يليه .



عدد الديوك

.....


العدد الذي يليه

.....

الإجابة :

السؤال رقم (11)

أكتب العدد الكلي للبط ثم اكتب العدد الذي يليه .



عدد البط

.....

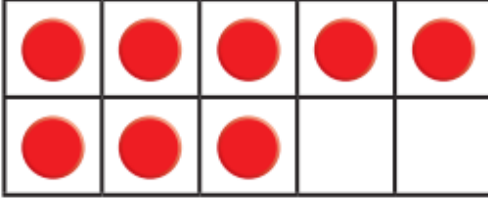
العدد الذي يليه

.....

الإجابة :

السؤال رقم (12)

A. قطف يوسف 8 أزهار بيضاء ثم قطف 3 أزهار صفراء .
 ما العدد الكلي للأزهار التي قطفها يوسف ؟
 استعمل لوحة العشرة وارسم قطع العد للوصول للعدد
 الكلي للأزهار .



الإجابة : زهرة

السؤال رقم (13)


A. عد الأصداف ثم اكتب عددها الكلي .



الإجابة :

.....

B. عد الديدان ثم اكتب عددها الكلي .



الإجابة :

.....


C. عد الحلزون ثم اكتب عددها الكلي .



الإجابة :

.....

السؤال رقم (14)



زرع أحمد 9 زهورات حمراء ، ثم زرع 4 زهورات صفراء
ما العدد الكلي للأزهار التي زرعها أحمد ؟
استعمل لوحة العشرة وارسم قطع العد.

الإجابة : زهرة

السؤال رقم (15)

اكتب العدد الكلي للقواقع ثم اكتب العدد الذي يليه .



عدد القواقع

.....

العدد الذي يليه

.....

الإجابة :

السؤال رقم (16)

A. أكمل حقائق الضعف .

$4 + 4 = \dots\dots\dots$

$5 + 5 = \dots\dots\dots$

$7 + 7 = \dots\dots\dots$

$9 + 9 = \dots\dots\dots$

$6 + 6 = \dots\dots\dots$

$8 + 8 = \dots\dots\dots$

$10 + 10 = \dots\dots\dots$

B. اجمع العددين في المربعين أولاً ، ثم اجمع العدد الثالث وأوجد المجموع.

$$\boxed{9} + \boxed{1} + 5 =$$

الإجابة : + =

C. اجمع العددين في المربعين أولاً ، ثم اجمع العدد الثالث وأوجد المجموع.

$$\boxed{6} + \boxed{4} + 2 =$$

الإجابة : + =



السلام عليكم ورحمة الله وبركاته

نرحب بكم في

[موقع ومنتديات صقر الجنوب التعليمية المنهاج القطري](#)

ويسعدنا ويشرفنا ان نستمر معكم في تقديم

كل ما هو جديد للمنهاج المحدث المطورة ولجميع

المستويات والمواد

ملفات نجعلها من كل مكان ونضعها لكم في مكان واحد

ليسهل تحميلها

علما ان جميع ما ننشر مجاني 100%

أخي الزائر - أختي الزائرة انا دعمكم لنا هو انمامكم لنا

فهو شرف كبير لنا

صفحتنا على الفيس بوك [هنا](#)

مجموعتنا على الفيس بوك [هنا](#)

مجموعتنا على التلقرام [هنا](#)

قنواتنا على اليوتيوب [هنا](#)

جميع ملفاتنا نرفعها على مركز تحميل خاص في [صقر الجنوب](#)


نحن نسعى دائما الى تقديم كل ما هو أفضل لكم و هذا وعد منا ان شاء الله

شجعونا دائما حتى نواصل في العطاء و [نسال](#) الله ان يوفقنا و يسدد خطانا

في حال واجهتك اي مشكلة في تحميل اي ملف

من [منتديات صقر الجنوب المنهاج القطري](#)

صفحة [اتصل بنا](#)





قنوات تيليجرام منهاج دولة قطر الفصل الأول والثاني محدث

قناة المستوى الثالث

قناة المستوى الثاني

قناة المستوى الأول

قناة المستوى السادس

قناة المستوى الخامس

قناة المستوى الرابع

قناة المستوى التاسع

قناة المستوى الثامن

قناة المستوى السابع

قناة المستوى الثاني عشر

قناة المستوى الحادي عشر

قناة المستوى العاشر



قنوات اليوتيوب التعليمية للمنهاج القطري من المستوى 01-10

قناة المستوى الثالث

قناة المستوى الثاني

قناة المستوى الأول

قناة المستوى السادس

قناة المستوى الخامس

قناة المستوى الرابع

قناة المستوى التاسع

قناة المستوى الثامن

قناة المستوى السابع

قناة المستوى الثاني عشر

قناة المستوى الحادي عشر

قناة المستوى العاشر



مجموعات الفيس بوك للمنهاج القطري الفصل الاول والفصل الثاني محدث

رياض الاطفال

مجموعة المستوى الثالث

مجموعة المستوى الثاني

مجموعة المستوى الأول

مجموعة المستوى السادس

مجموعة المستوى الخامس

مجموعة المستوى الرابع

مجموعة المستوى التاسع

مجموعة المستوى الثامن

مجموعة المستوى السابع

مجموعة المستوى الثاني عشر

مجموعة المستوى الحادي عشر

مجموعة المستوى العاشر

صفحتنا على الفيس بوك

الهدف الرئيسي
لمتدرياته صقر الجنوب

هو

منصة تعليمية مجانية

لهدفنا المنفعة ونشر العلم

نشر العلم مجاناً لكل من يطلبه العلم في جميع أنحاء العالم
لا تفرض أي رسوم أو نفقات على العضويات في الموقع

علماً أنه مجاني بدون تسجيل عضوية

لنستمر في البقاء إن شاء الله

يمكن أن تساهم في استقرارنا والتخفيف

عنا مصاريف السيرفر والاستضافة

مهما كانت مساهمتك صغيرة أو كبيرة، لها أثر كبير في استمرار

الموقع لتقديم خدماته المجانية من ملفات عربية ومنقولات

من خلال دعمنا على حسابنا الخاص على

[من خلال الضغط هنا PayPal](#)