



إمارة عجمان
مدرسة الحكمة الخاصة
العام الدراسي 2024-2025

اسمي الطالب القائد /

صفي المتميز /

أوراق عمل مراجعة
مادة الدراسات الاجتماعية
للفيف الرابع المتميز



مديرة القسم
د/ وفاء حسانين

معلمة المادة / نجاة فؤاد

أنا طالب الحكمة المتميز



إمارة عجمان
مدرسة الحكمة الخاصة
العام الدراسي 2024-2025

أدوات التقويم لمادة الدراسات الاجتماعية للعام الدراسي 2024 / 2025 م

أدوات التقويم لمادة الدراسات الاجتماعية للصف الرابع للعام الدراسي 2024 / 2025 م					
الاختبار المركزي (يطبق من قبل مؤسسة الإمارات للتعليم)	مهام ادائية	أنشطة كتابية	أنشطة شفوية	الاختبار القصير الثاني	الاختبار القصير الأول
	%30	%15	%15	%20	%20
نهاية كل فصل دراسي					
100	30	15	15	20	20

  <p>وزارة التربية والتعليم منطقة عجمان التعليمية مدرسة الحكمة الخاصة</p> <p>جدول الاختبارات التكوينية الأول الفصل الدراسي الأول العام الدراسي 2024 / 2025</p> <p>الصف الرابع</p>		
الدرس الأول والثاني مهارات تحليل النص مهارات تحليل الخريطة	الدراسات الاجتماعية	الجمعة 2024\10\4

أنا طالب الحكمة المتميز



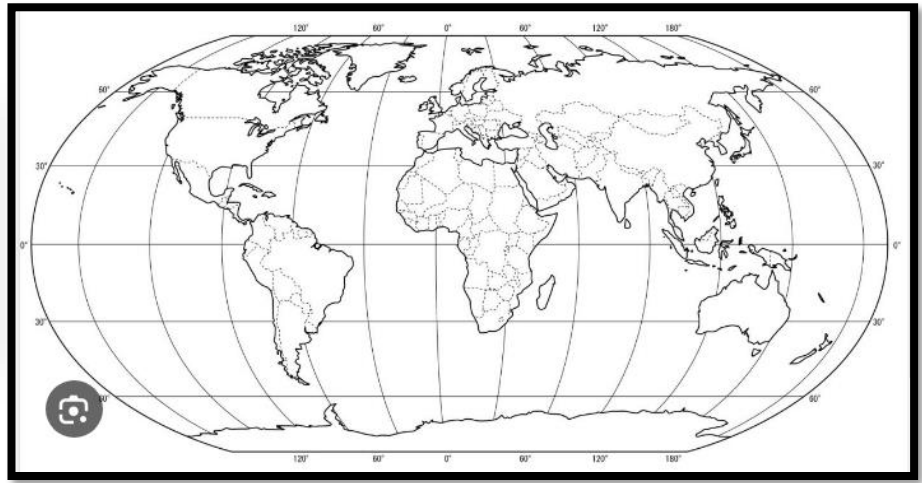
الدرس الأول / رحلة المعرفة (خطوط الطول ودوائر العرض)

الوحدة
الأولى

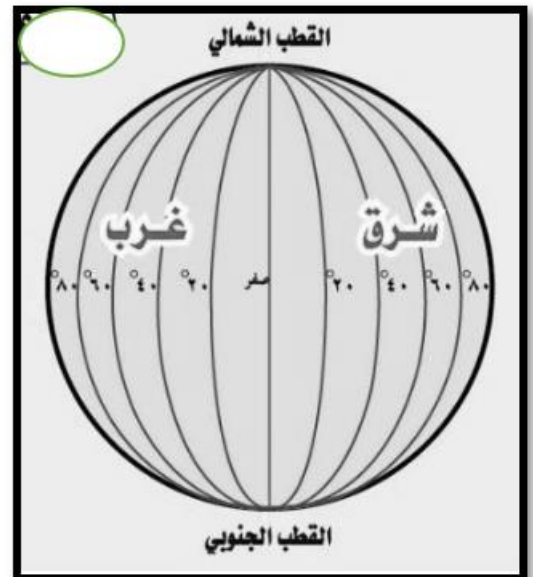
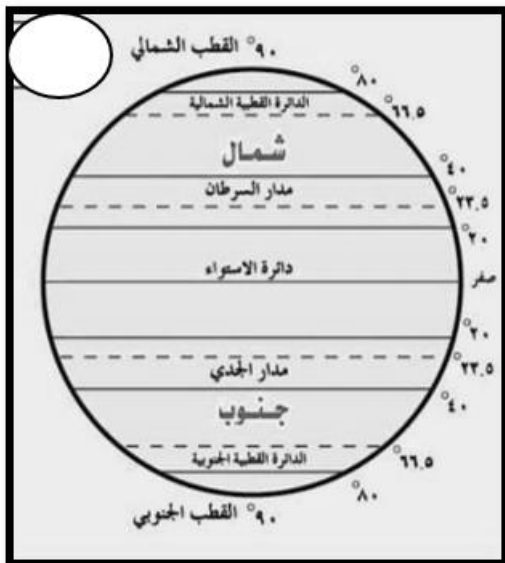
" الموقع النسبي والموقع الفلكي "

السؤال الأول :

لون بطلى اليابسة " القارات " باللون الأخضر و " المحيطات " الماء باللون الأزرق :



لون بطلى خط غرينتش باللون الأحمر وخط الاستواء باللون الأزرق :



أنا طالب الحكمة المتميز

السؤال الثاني :

أكمل يا بطل المخطط الذهني الآتي باختيار الكلمة المناسبة :
الماء / العرض / الطول

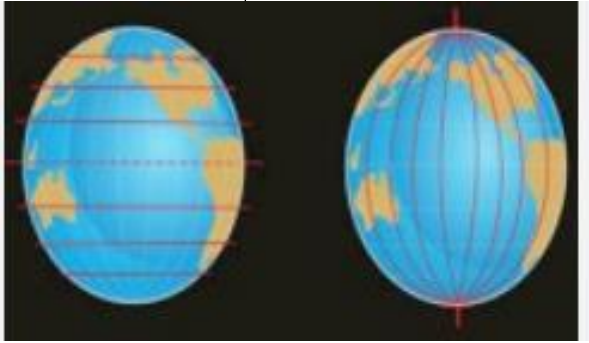
الموقع الجغرافي

الموقع الفلكي هو :

موقع المكان بالنسبة إلى :

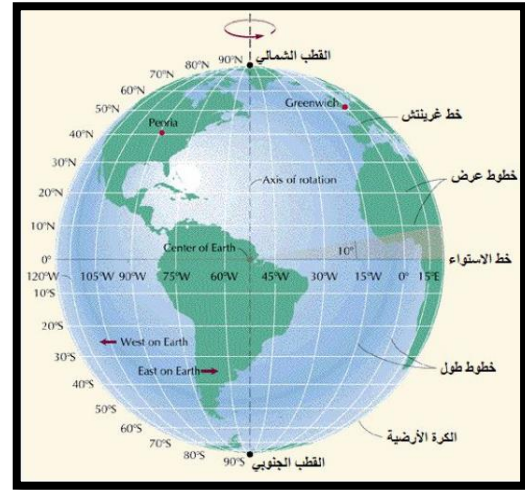
الموقع النسبي هو :

موقع المكان بالنسبة إلى :



خطوط

دوائر

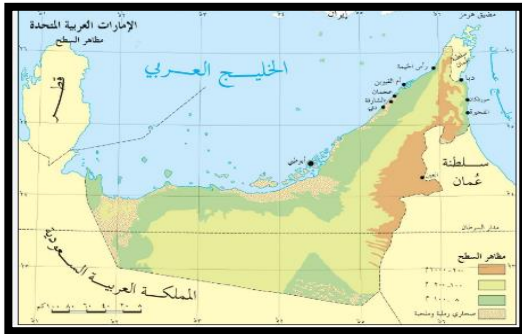


اليابسة

الدرس الثاني / موقع بلادي :

السؤال الأول :

اقرأ الفقرة ثم أجب عن الأسئلة :



دولة الإمارات العربية المتحدة هي دولة عربية تقع في شرق شبه الجزيرة العربية وتتألف من : سبع إمارات رئيسية ، تأسست الإمارات ككيان واحد في 2 ديسمبر 1971 بعد استقلالها من المملكة المتحدة. تتألف دولة الإمارات من سبع إمارات هي: أبوظبي، دبي، الشارقة، عجمان، أم القيوين، رأس الخيمة، والفجيرة ، وتمثل أبوظبي عاصمة البلاد ، اللغة الرسمية هي العربية، وتتمتع الإمارات بتنوع ثقافي واجتماعي بفضل وجود مجتمع متعدد الثقافات. الإسلام هو الدين الرسمي، ويحظى بالاحترام والتقدير في الحياة اليومية والقوانين ، تبلغ مساحة الإمارات 83.600 كم2. رئيس دولة الإمارات العربية المتحدة صاحب السمو الشيخ محمد بن زايد - حفظه الله .

1- تقع دولة الإمارات العربية المتحدة بالنسبة لشبه الجزيرة العربية في جهة

– الشمال – الغرب – الشرق

2 - تأسست دولة الإمارات العربية المتحدة عام

1917 – 1971 – 1970

3 - تبلغ مساحة دولة الإمارات العربية المتحدة

– 83.600 كم2 – 80.400 كم2 – 70.600 كم2

4 – عاصمة دولة الإمارات العربية المتحدة

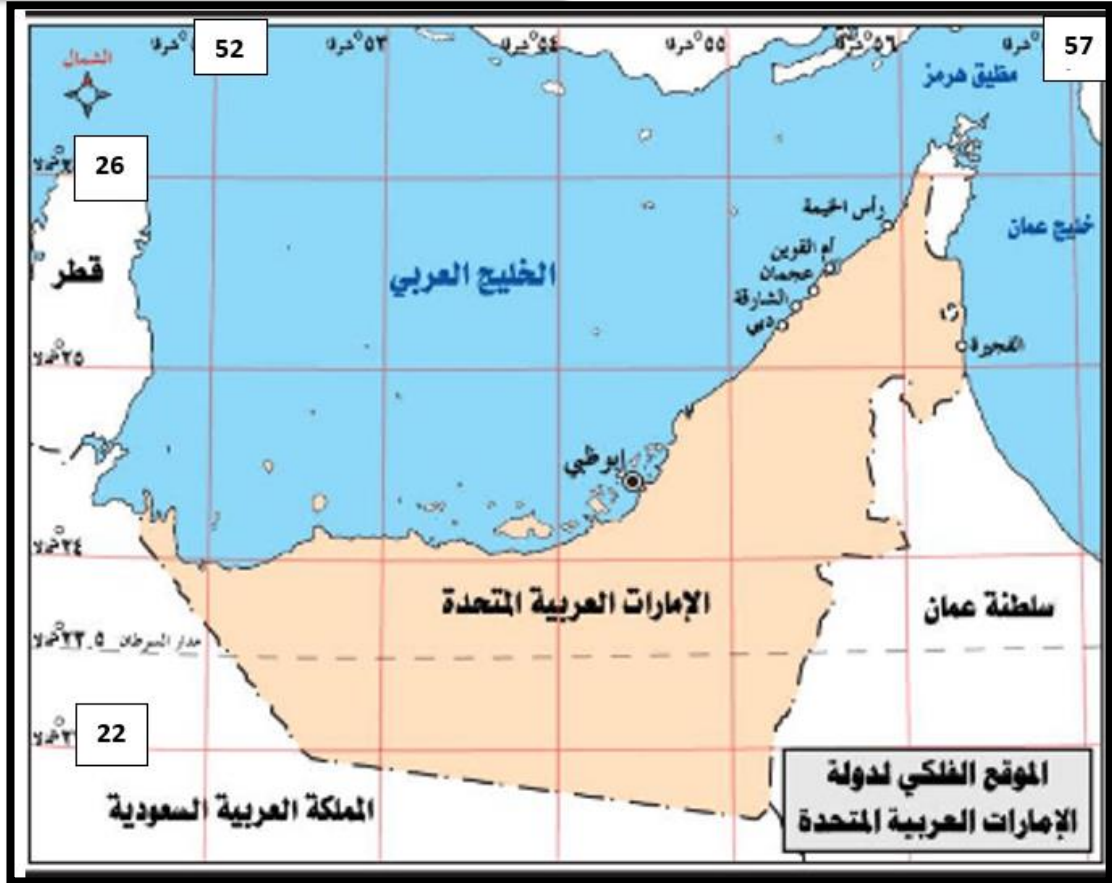
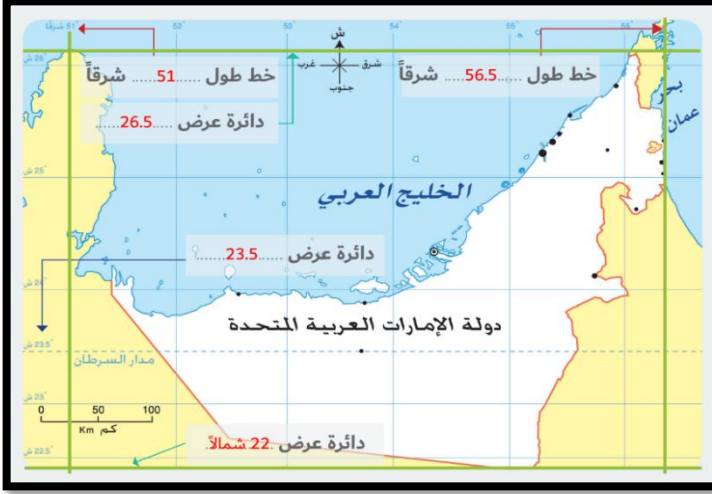
– دبي – أبوظبي – الشارقة

5 - تتألف الإمارات العربية المتحدة من عدد من الإمارات يبلغ

– ثلاث إمارات – أربع إمارات – سبع إمارات

السؤال الثاني :

انظر إلى الخريطة المجاورة ثم حدد بخط
على الخريطة بالأسفل الموقع الفلكي
لدولة الإمارات :



- تقع دولتنا الحبيبة شرق خط جرينتش " من خط طول شرقاً
إلى خط طول شرقاً .
- تقع دولتنا الحبيبة شمال خط الأستواء من دائرة عرض شمالاً
إلى دائرة عرض شمالاً .
- دائرة العرض التي تمر بدولتنا الغالية هي مدار

أنا طالب الحكمة المتميز

السؤال الثالث :

حدد يا بطل على خريطة شبه الجزيرة العربية دولة الإمارات العربية
والدول والمسطحات المائية المحيطة :



— تشرف دولة الإمارات العربية المتحدة على مسطحين مائيين هما
..... و

— حدود دولتنا الحبيبة من الشرق

— من الشمال

— من الجنوب والجنوب الغربي

السؤال الرابع :

كون الحقائق الجغرافية من خلال الكلمات الآتية بمكانها (الشرقية / شبه الجزيرة العربية / وسط

تقع دولة الإمارات العربية المتحدة في العالم .
" حقيقة جغرافية 1 "



تقع دولة الإمارات العربية المتحدة في شرق
" حقيقة جغرافية 2 "



تقع دولة الإمارات العربية المتحدة في الناحية من الوطن العربي .
" حقيقة جغرافية 3 "