



الأعداد

المستوى الأول

طبعة 2024-1446



حضرة صاحب السمو الشيخ تميم بن حمد آل ثاني
أمير دولة قطر


النشيد الوطني

قَسَمًا بِمَنْ رَفَعَ السَّمَاءَ	قَسَمًا بِمَنْ نَشَرَ الضِّيَاءَ
قَطْرٌ سَتَبَقَى حُرَّةً	تَسْمُو بِرُوحِ الْأَوْفِيَاءِ
سِيرُوا عَلَى نَهْجِ الْأَلَى	وَعَلَى ضِيَاءِ الْأَنْبِيَاءِ
قَطْرٌ بِقَلْبِي سِيرَةٌ	عِزٌّ وَأَمْجَادُ الْإِبَاءِ
قَطْرُ الرِّجَالِ الْأَوَّلِينَ	حُمَاتُنَا يَوْمَ النِّدَاءِ
وَحَمَائِمُ يَوْمِ السَّلَامِ	جَوَارِحُ يَوْمِ الْفِدَاءِ

بِسْمِ اللَّهِ الرَّحْمَنِ الرَّحِيمِ

أعد الأعداد 1، 2، 3
وأسميها، وأميزها.







ألون المربعات بحسب



عدد



أمثل عدد الأسماك

مستعملاً ●




أعد الأسماك




أتعرف الأشياء في
الصورة.

أتحقق من فهمي ألون المربعات بحسب عدد الأسماك في كل صورة


2



1




3



4




5



6

أرسم أشكالاً بحسب عدد المربعات الملونة.

7



8




9



10

أرسم أشكالاً بحسب عدد المربعات الملونة.


11



12




13




14

أرسم أشكالاً بحسب عدد المربعات الملونة.


15




16




17




18




19




20




21




22




23




24



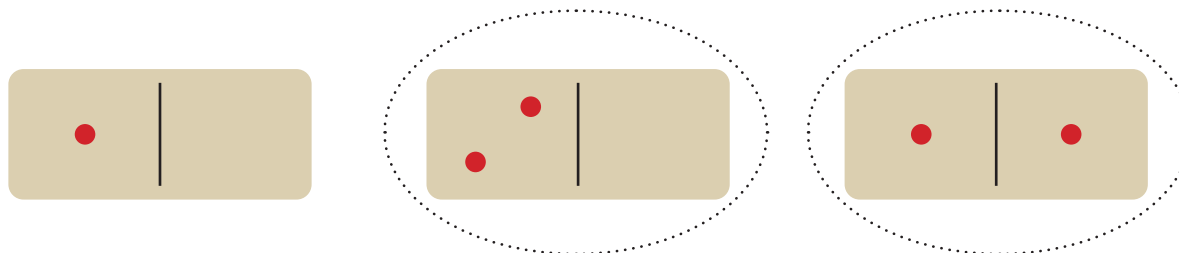
25



26



27



28



29



30



العددان
5،4

أعد العددين 5،4
وأسميها، وأميزها.

كم فراشة في الشبكة؟
أحوط التمثيل المناسب.

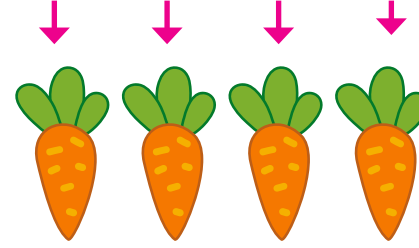





ألون المربعات بحسب
عدد 



أمثل عدد الجزر
مستعملاً 



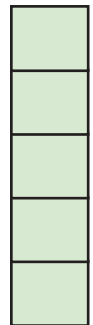

أعد الأشياء في
الصورة.





أعرف الأشياء في
الصورة.

أتحقق من فهمي ألون المربعات بحسب عدد الجزر في كل صورة


1



2




3




--	--	--	--	--

4



--	--	--	--	--

5




--	--	--	--	--

6

أرسم أشكالاً بحسب عدد المربعات الملونة.


--	--	--	--	--

8




--	--	--	--	--

7



--	--	--	--	--

9

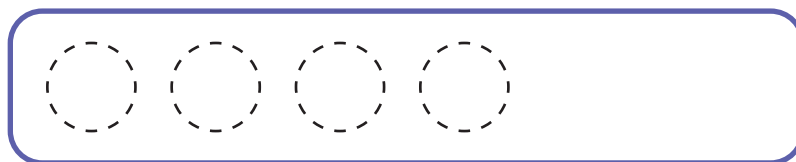


--	--	--	--	--


10

أرسم أشكالاً بحسب عدد المربعات
الملونة.



--	--	--	--	--




11



12

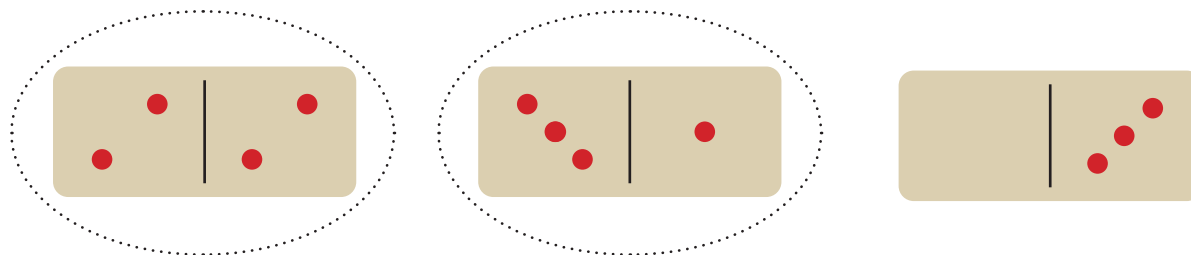


13



14

15



16



17



18



العدد 0

أعد العدد 0 وأسميه
وأميزه.

كم تفاحة على الشجرة؟
لون المربعات بحسب عدد
التفاح.

--	--	--	--	--

--	--	--	--	--

ألون المربعات
بحسب عدد البالونات
المتبقية.



كم بالوناً بقي مع
حسام الآن؟




كم بالوناً أصبح مع
حسام؟




كم عدد البالونات مع
حسام؟

أتحقق من فهمي ألون المربعات بحسب عدد الأشياء في كل صورة


2



1



3




--	--	--	--	--

4



--	--	--	--	--

5




--	--	--	--	--

6

أرسم أشكالاً بحسب عدد المربعات الملونة.


--	--	--	--	--

8



--	--	--	--	--

7



--	--	--	--	--

9



--	--	--	--	--

10

أرسم أشكالاً بحسب عدد المربعات الملونة.



--	--	--	--	--

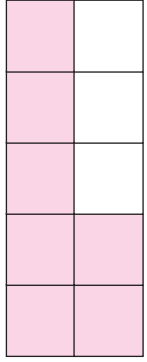
العددان 7،6

أعد العددين 7،6
وأسميها، وأميزها.




كم عصفوراً في السماء؟
ألون المربعات بحسب
عدد العصافير.







ألون المربعات بحسب
عدد 🐦



أمثل عدد العصافير
مستعملاً ●




أعد الأشياء في
الصورة.



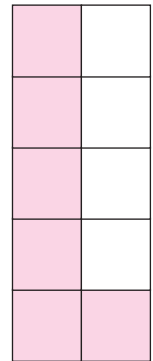

أتعرف الأشياء في
الصورة.

أتحقق من فهمي ألون المربعات بحسب عدد العصافير في كل صورة


2




1




3



4




5




6

أرسم أشكالاً بحسب عدد المربعات
الملونة.


7



8

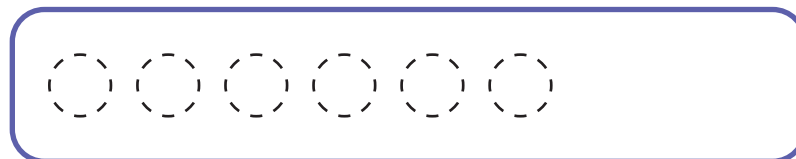


9




10


أرسم أشكالاً بحسب عدد المربعات
الملونة.





11



12

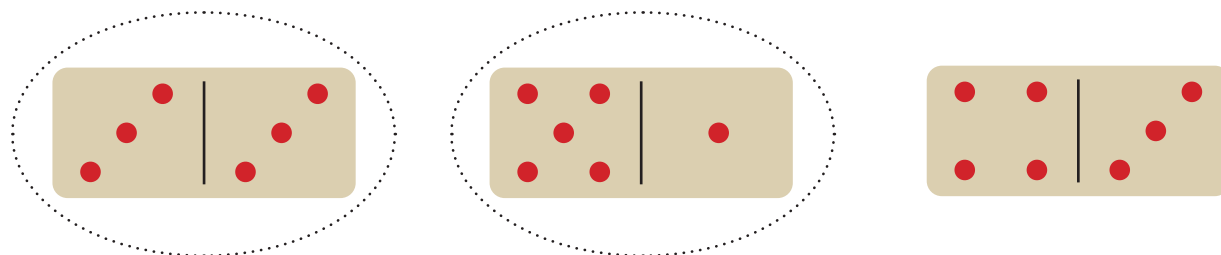


13



14

15



16



17



18

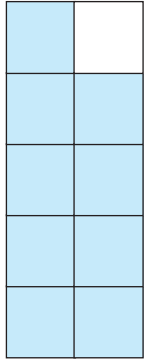


العدادان
9،8


أعد العددين 9،8
وأسميها، وأميزها.

كم لعبة في الخزانة؟
ألون المربعات بحسب
عدد الألعاب.







ألون المربعات بحسب
عدد 



أمثل عدد الدببة
مستعملاً 

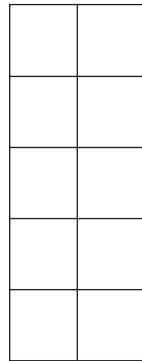


أعد الدببة في
الصورة.

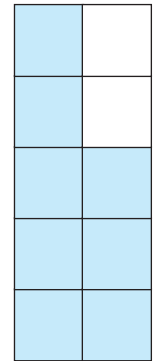



أتعرف الأشياء في
الصورة.

أتحقق من فهمي ألون المربعات بحسب عدد الدببة في كل صورة




2

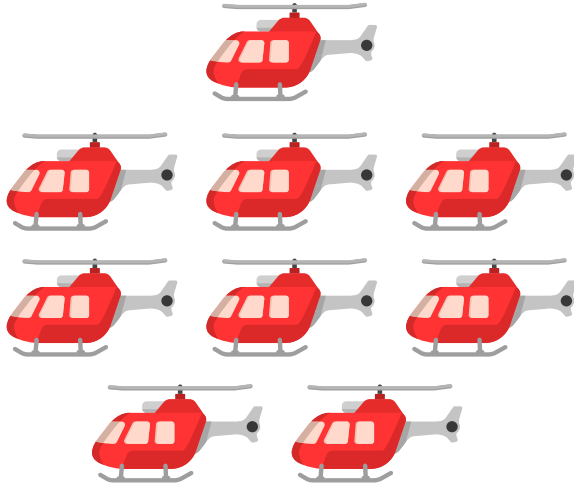


1


3



4



5




6

أرسم أشكالاً بحسب عدد المربعات الملونة.


7



8

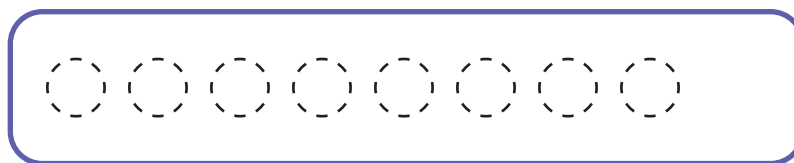



9





10


أرسم أشكالاً بحسب عدد المربعات الملونة.




11



12

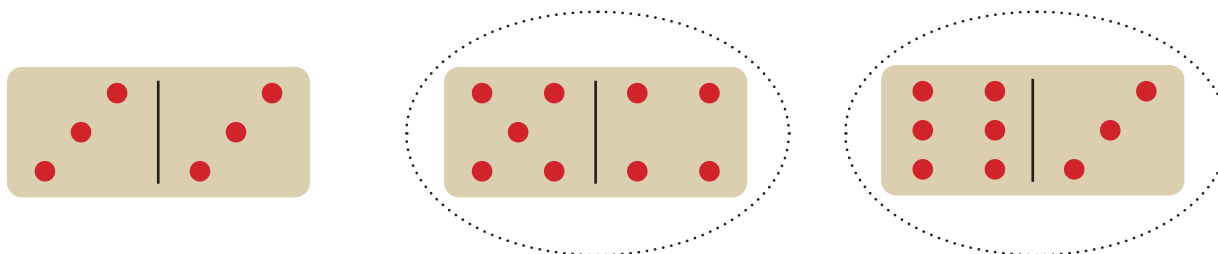


13



14

15



16



17



18

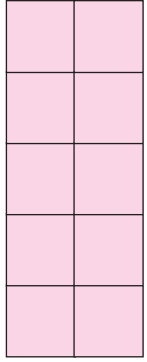


العدد 10


أعد العدد 10
وأسميه، وأميزه.

كم قلمًا في العلبة؟
ألون المربعات بحسب
عدد الأقلام.

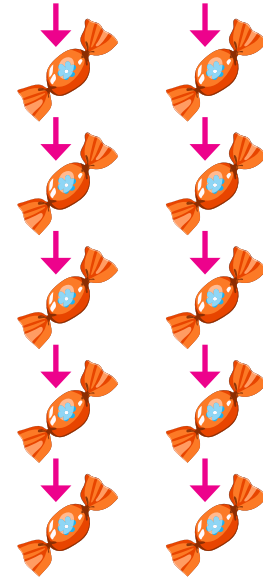





ألون المربعات بحسب
عدد 🍬



أمثل عدد الحلوى
مستعملاً ●

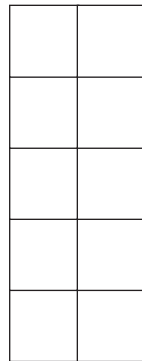



أعد الحلوى في
الصورة.

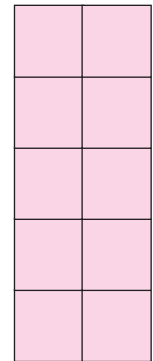



أتعرف الأشياء في
الصورة.

أتحقق من فهمي ألون المربعات بحسب عدد الحلوى في كل صورة



2



1


3



4



5



6

أرسم أشكالاً بحسب عدد المربعات الملونة.
