



الدراسات الاجتماعية

الفصل الدراسي الأول



المستوى العاشر



كتاب الطالب

المراجعة والتدقيق العلمي والتربوي

خبراء تربويون وأكاديميون من:

كلية التربية – جامعة قطر

إدارة المناهج الدراسية ومصادر التعلم

إدارة التوجيه التربوي

معلمي ومنسقي المدارس

الإشراف العام

إدارة المناهج الدراسية ومصادر التعلم


إشراق
www.eshraqgroup.com



طبعة 1446-2024

حقوق الملكية © - وزارة التربية والتعليم والتعليم العالي - دولة قطر

<http://www.edu.gov.qa>

قال تعالى:

اقْرَأْ بِاسْمِ رَبِّكَ الَّذِي خَلَقَ

[العلق: 1]



النشيد الوطني



حضرة صاحب السمو الشيخ تميم بن حمد آل ثاني
أمير دولة قطر

النشيد الوطني

قَسَمًا بِمَنْ رَفَعَ السَّمَاءَ	قَسَمًا بِمَنْ نَشَرَ الضِّيَاءَ
قَطْرٌ سَتَبَقَى حُرَّةً	تَسْمُو بِرُوحِ الْأَوْفِيَاءِ
سِيرُوا عَلَى نَهْجِ الْأَلَى	وَعَلَى ضِيَاءِ الْأَنْبِيَاءِ
قَطْرٌ بِقَلْبِي سِيرَةٌ	عِزٌّ وَأَمْجَادُ الْإِبَاءِ
قَطْرُ الرَّجَالِ الْأَوَّلِينَ	حُمَاتُنَا يَوْمَ النِّدَاءِ
وَحَمَائِمُ يَوْمِ السَّلَامِ	جَوَارِحُ يَوْمِ الْفِدَاءِ

بسم الله الرحمن الرحيم

الحمد لله رب العالمين، والصلاة والسلام على رسوله الأمين.

تنظر المجتمعات الحية المتطورة للمناهج المدرسية إلى كونها أهم وسائل إعداد الأجيال الناشئة إعداداً سليماً؛ للوصول إلى بناء المواطن الصالح، وهو ما هدفت إليه المناهج القطرية الحديثة؛ حيث سعت نحو تمكين المواطن القطري بتعليمه الجاد لأن يكون مواطناً فاعلاً، ومحققاً لآمال وتطلعات دولة قطر.

حرصت وزارة التربية والتعليم والتعليم العالي في دولة قطر على إعادة النظر في معايير ومناهج الدراسات الاجتماعية، بغية تحسين العملية التربوية وتجويدها، وعملت الكوادر الوطنية القطرية على بناء المعايير والمناهج الحديثة بمحتوى معرفي ومنهجي جديد لتحقيق ما تصبو إليه رؤية دولة قطر لسنة 2030، ولمواكبة التغيرات العالمية في ميدان التربية والتعليم، مع الحرص على بناء شخصية وطنية للنشء القطري مؤمنة بهويتها العربية، وقيمتها الإسلامية، وهادفة لتعميق روح الانتماء لقضايا الوطن، والدفاع عنه، والمشاركة الفعالة في بنائه وصيانتة ونهضته.

تميّزت مصادر التعلم لمناهج الدراسات الاجتماعية بتوافقها مع المعايير العالمية، مع مراعاة التكامل الأفقي والعمودي في مصدر التعلم الواحد بين المجالات الدراسية الثلاثة، مع زيادة الترابط مع المناهج الدراسية الأخرى؛ لتكامل في تحقيق الأهداف التربوية العامة، إيماناً بقيمة هذا النهج في بناء المناهج الدراسية، وسعت إلى توظيف مهارات التفصي والبحث، ومهارات التعامل مع الأدوات التكنولوجية الحديثة، مع تضمين كفاية التفكير الإبداعي، والتفكير الناقد بشكل فاعل، وذلك من خلال إدماج الطلبة في كثير من المواقف التاريخية والجغرافية، ومضامين المواطنة.

شملت المجالات المعرفية لمصادر الدراسات الاجتماعية ثلاثة مجالات مترابطة، هي: الجغرافيا والتاريخ والمواطنة:

- فتكمن أهمية الجغرافيا في فهم العلاقات المكانية والطبيعية، وتفسيرها وتحليلها، وحل المشكلات الجغرافية المختلفة، كما تساعد الجغرافيا على معرفة معيشة الشعوب المختلفة، وفهم ثقافات المتباينة.

- وتسهم دراسة التاريخ في تعريف الطالب بأحداث الماضي منطلقاً من المستوى المحلي، ثم الإقليمي، ثم العالمي، كما يُمكنه المنهج من دراسة الأحداث التاريخية وتحليلها، واستخلاص العبر منها؛ لمعرفة الماضي، وفهم الحاضر، واستشراف المستقبل.

- أما دراسة مادة المواطنة فتقوم على بناء شخصية الإنسان وعقله وروحه، وتنطلق من اعتباره مواطناً متفاعلاً مع مجتمعه، ولا بد من تنمية ارتباطه بوطنه ومجتمعه وأُمَّته وحضارته، فهي تُخاطب الوجدان، وتُركّز على الممارسات الإيجابية في البيت والمدرسة والمجتمع، وتهدف إلى إكساب الطلاب مواقف واتجاهات إيجابية؛ ليكونوا أعضاء ومواطنين صالحين في مجتمعهم.

ويبقى تحقيق الأهداف التربوية منوطاً بالتفاعل العلمي بين أركان العملية التعليمية الثلاثة (المعلم، والمتعلم، والمصدر التعليمي).

والله نسأل أن يكون ما قدمناه من جهد خالصاً لوجهه الكريم، وأن يُسهم بالنفع في بناء جيل متميز من بناتنا وأبنائنا الطلاب. والله ولي التوفيق.

المؤلفون.

مقدمة



الفهرس



1 الوحدة الأولى: (الخصائص الطبيعية لدولة قطر)

12 الدرس الأول: الموقع وأشكال السطح.

34 الدرس الثاني: المناخ - والحياة الفطرية وموارد المياه.

2 الوحدة الثانية: (تاريخ قطر الحديث)

60 الدرس الأول: الشيخ محمد بن ثاني ونشأة إمارة قطر.

72 الدرس الثاني: الشيخ جاسم بن محمد بن ثاني وتأسيس إمارة قطر.

3 الوحدة الثالثة: (الهوية الوطنية والتحديات العالمية)

90 الدرس الأول: الهوية الوطنية (أبعادها - مقوماتها).

104 الدرس الثاني: الهوية الوطنية والعولمة.

4 الوحدة الرابعة: (الخصائص العامة للسكان في دولة قطر)

116 الدرس الأول: نمو وتركيب السكان في دولة قطر.

136 الدرس الثاني: توزيع السكان وكثافتهم في دولة قطر.

5 الوحدة الخامسة: (تاريخ قطر بين عامي 1913 - 1949م)

152 الدرس الأول: الشيخ عبد الله بن جاسم آل ثاني وأهم أعماله.

الدرس الثاني: الأحوال السياسية والاقتصادية والاجتماعية في عهد الشيخ

162 عبد الله بن جاسم آل ثاني.

6 الوحدة السادسة: (الديمقراطية)

174 الدرس الأول: الشورى والديمقراطية.

188 الدرس الثاني: النزاهة والشفافية.

7 المصادر والمراجع

195

الخصائص الطبيعية لدولة قطر

● الدرس الأول: الموقع وأشكال السطح

● الدرس الثاني: المناخ، الحياة الفطرية، موارد المياه



مهارات التقصي والبحث

- استخلاص المعلومات من أنواع مختلفة من المصادر وتقديم ملخصا لأهم الأفكار .
- عرض معلومات ونتائج البحث باستخدام الخرائط والرسوم البيانية - المخططات - وسائل التكنولوجيا .

في نهاية الوحدة سوف تتعلم

- توضيح الأهمية الاستراتيجية لموقع دولة قطر .
- مواقع توزيع الظواهر الطبيعية والبشرية .
- توضيح العلاقة بين التركيب الجيولوجي وأشكال سطح الأرض في دولة قطر .
- أبرز الموارد الطبيعية في دولة قطر .
- أهمية تنوع الخصائص الطبيعية في دولة قطر
- استخدام الأدوات الجغرافية والتطبيقات التكنولوجية في جمع المعلومات وعرض أفكار .
- تحليل الجداول الإحصائية والبيانات والأشكال لاستخلاص المعلومات الجغرافية المختلفة .
- تحديد الظواهر الجغرافية على الخريطة .

الدَّرسُ الأوَّلُ:

الموقع وأشكال السطح



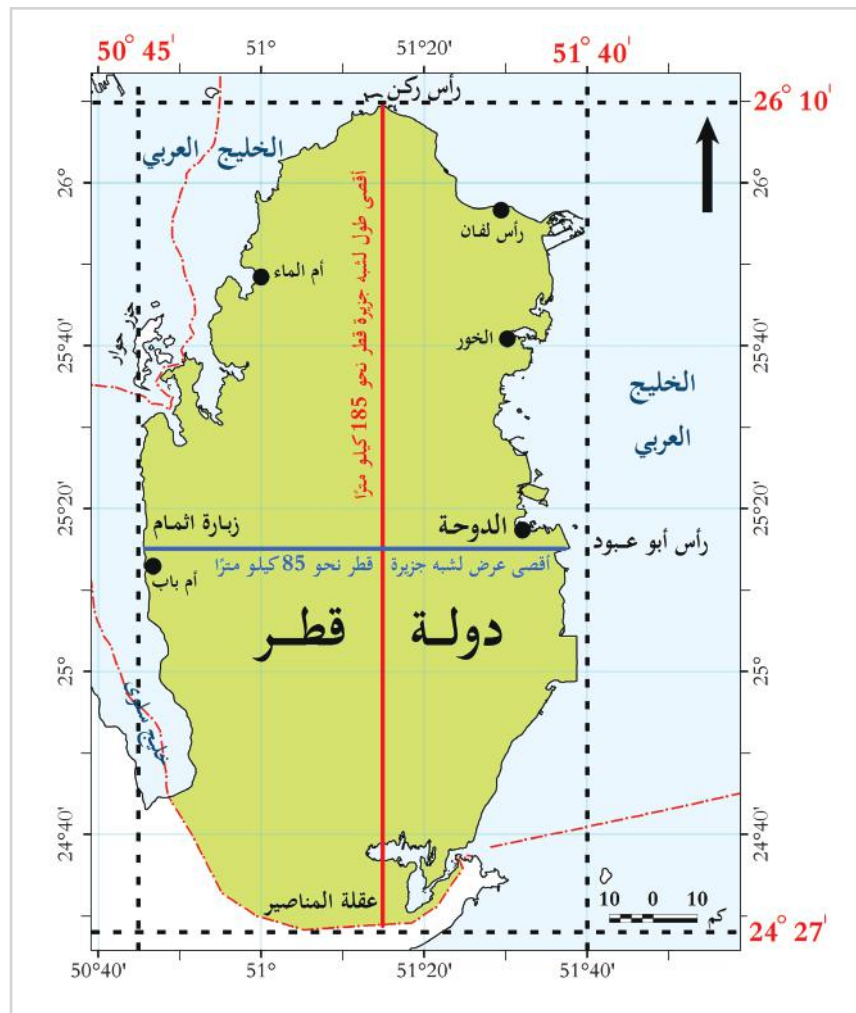
الموقع وأشكال السطح

تمتلك دولة قطر موقعاً فريداً ومتميزاً أعطاها العديد من المزايا التي تنفرد بها عن باقي دول المنطقة، كما تحتوي على تكوينات جيولوجية بها ثروات طبيعية، بالإضافة إلى تعدد المظاهر التضاريسية، فهيا بنا لنتعرف على أهم الملامح الجغرافية لدولة قطر.

أولاً: الموقع الفلكي:

تذكر أن:

الموقع الفلكي هو:
موقع الدولة بالنسبة
لخطوط الطول
ودوائر العرض.



شكل (1) الموقع الفلكي لدولة قطر

لاحظ الخريطة شكل (1) وحدد الموقع الفلكي لدولة قطر.

نستنتج من الخريطة أن دولة قطر تقع بين دائرتي عرض $24^{\circ} 27'$ و $26^{\circ} 10'$ شمالاً، وخطي طول $50^{\circ} 45'$ و $51^{\circ} 40'$ شرقاً، وتمتد باتجاه الشمال في مياه الخليج العربي على شكل شبه جزيرة.

يبلغ أقصى طول لدولة قطر نحو 185 كيلو مترًا تقريبًا من الشَّمال إلى الجنوب بخطّ مستقيم من أقصى نقطة في الشَّمال عند رأس ركن بالقرب من مدينة الرويس، إلى أقصى نقطة في الجنوب عند عقلة المناصير على الحدود القطرية السعودية.

كما يبلغ أقصى عرض لها 85 كيلو مترًا تقريبًا بين الشرق والغرب على خطّ مستقيم من أقصى نقطة على الساحل الشرقي عند رأس أبو عبود إلى نقطة زيارة أثمار شمال مدينة أمّ باب على الساحل الغربي.

ما النتائج المترتبة على الموقع الفلكي لدولة قطر؟



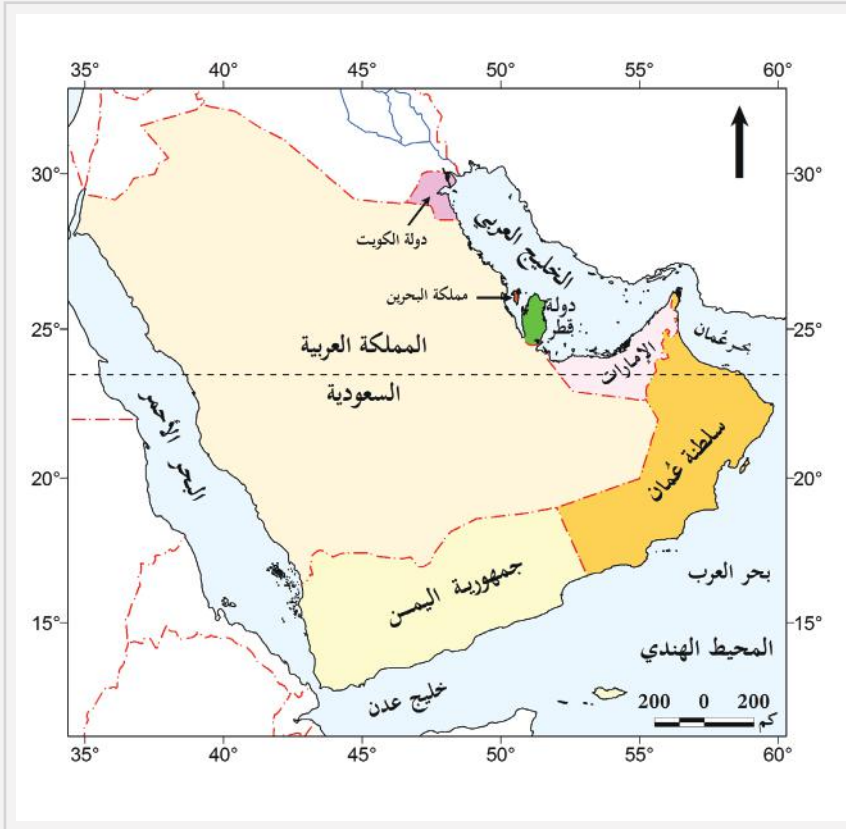
لاحظ واستنتج

ثانيًا: الموقع الجغرافي؛

تتمتع دولة قطر بموقع جغرافي متميز، لماذا؟



فكر واستنتج



شكل (2) موقع دولة قطر بالنسبة لشبه الجزيرة العربية

لاحظ الخريطة شكل (2) ثم أجب عن الأسئلة التالية:

- صف موقع دولة قطر الجغرافي.
- تُعدُّ دولة قطر حلقة اتصال بحري في منطقة الخليج العربي، وضح ذلك.

تذكّر

الموقع الجغرافي هو:
موقع الدولة بالنسبة
للمسطّحات المائية
واليابس.

نستنتج من الشكل (2) ما يأتي:

تقع دولة قطر في الركن الجنوبي الغربي من قارة آسيا، وتُعدُّ جزءًا من شبه الجزيرة العربية؛ حيث تقع في منتصف الساحل الغربي للخليج العربي.

الأهمية الإستراتيجية لموقع دولة قطر:

لاحظ خريطة دولة قطر شكل رقم 2 ثم استنتج

أكبر عدد من النقاط حول الأهمية الإستراتيجية لموقع دولة قطر.

- يتضح من خلال الخريطة أن موقع دولة قطر يتمتع بأهمية إستراتيجية كبرى تتمثل فيما يأتي:

1- سهولة الاتصال بشمال وجنوب منطقة الخليج العربي.

2- ساعدَ الموقع الجغرافي لدولة قطر على الاستفادة من مغاصات اللؤلؤ ومصائد الأسماك قديمًا، والاستفادة من حقول النفط والغاز البحرية حديثًا.

3- أصبحت قطر مَعْبَرًا مِلَاحِيًّا للعديد من السفن التي تَعْبُر مياه الخليج العربي والعالم الخارجي.



لاحظ واستنتج

مفاهيم أتعلمها:

الموقع الإستراتيجي: هو الموقع الذي يتّصف بمكانة عسكرية أو سياسية أو اقتصادية على مستوى العالم.

أضف لمعلوماتك:

كانت قطر تُطلُّ على شاطئ اللؤلؤ العظيم، أكبر مغاصات اللؤلؤ، وأعظمها إنتاجًا له في الخليج العربي، والذي كان يمتدُّ من مدينة دبي في الجنوب الشرقي، وينتهي عند رأس أبو علي جنوب الكويت.

ثالثًا: المساحة والحدود:

أ - المساحة:

تبلغ مساحة دولة قطر نحو 11610 كم² متضمّنة مساحة الجُزُر القطرية.

ب - الحدود:

لقطر نوعان من الحدود هما:

1 - الحدود البحرية:

أضف معلوماتك:

الميل البحري = 1,85 كم.
الميل الأرضي = 1,6 كم.

تتصل دولة قطر بعددٍ من الدول المجاورة عبر المياه الإقليمية، متمثلة في دولة الإمارات العربية المتحدة من جهة الشرق، ومملكة البحرين من جهة الغرب والشَّمال الغربي، والمملكة العربية السعودية من الغرب والجنوب الغربي والجنوب الشرقي. ويحيط بها مياه الخليج العربي من الشمال والشرق والغرب.

- تمتلك دولة قطر أكثر من 700 كم من السواحل بسبب طبيعتها كشبه جزيرة، وكثرة تعاريج سواحلها، كما تبلغ مساحتها البحرية نحو 10,434 كم² وتمتدُّ المياه الإقليمية القطرية إلى نحو 95 ميلاً بحرياً في اتجاه الشرق، وحوالي 51 ميلاً بحرياً باتجاه الشَّمال في الخليج العربي.

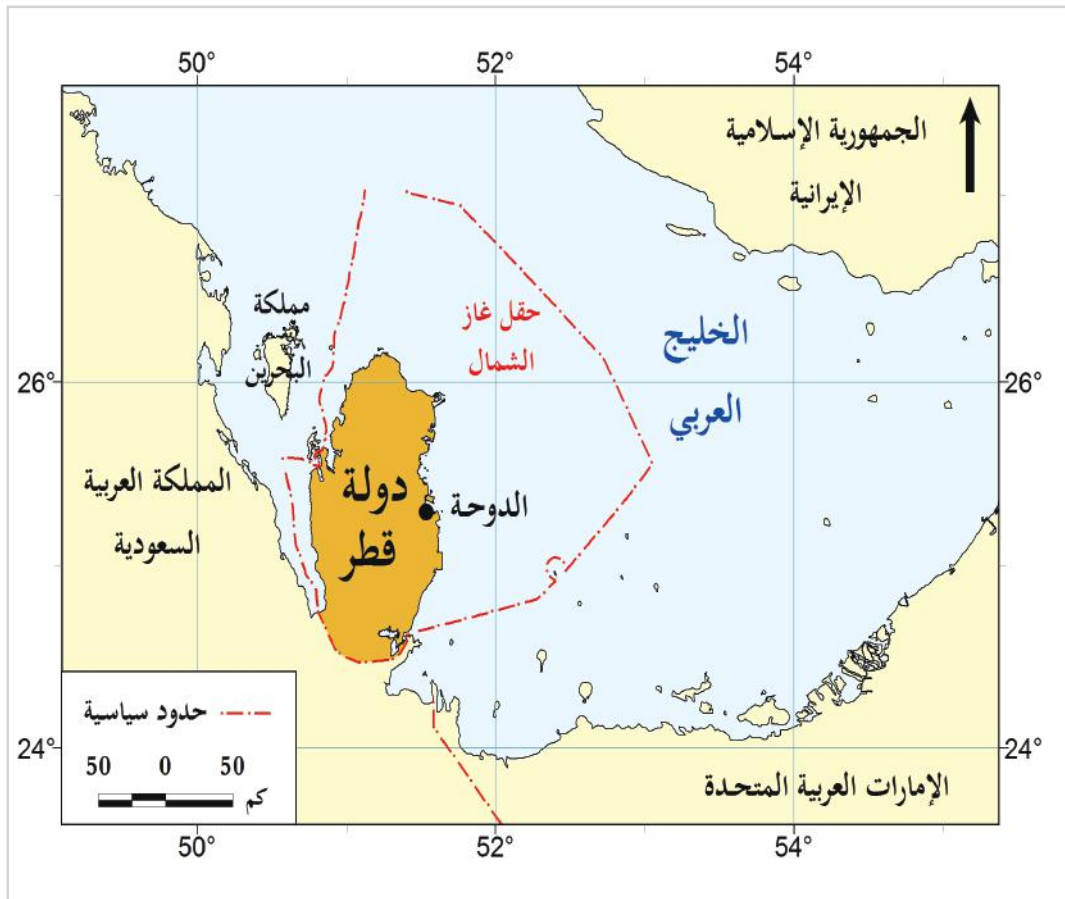
أضف معلوماتك:

المياه الإقليمية:

هي مناطق مياه البحار والمحيطات، والتي تمتلك الدولة حق السيادة عليها؛ كالتحكم في الملاحاة والصيد، واستثمار الموارد والثروات البحرية الطبيعية الموجودة بها.

2 - الحدود البرية:

ترتبط دولة قطر برّاً بالمملكة العربية السعودية من جهة الجنوب بحدود سياسية يبلغ طولها نحو 86 كم.



شكل (3) حدود دولة قطر

رابعاً: التركيب الجيولوجي لدولة قطر:

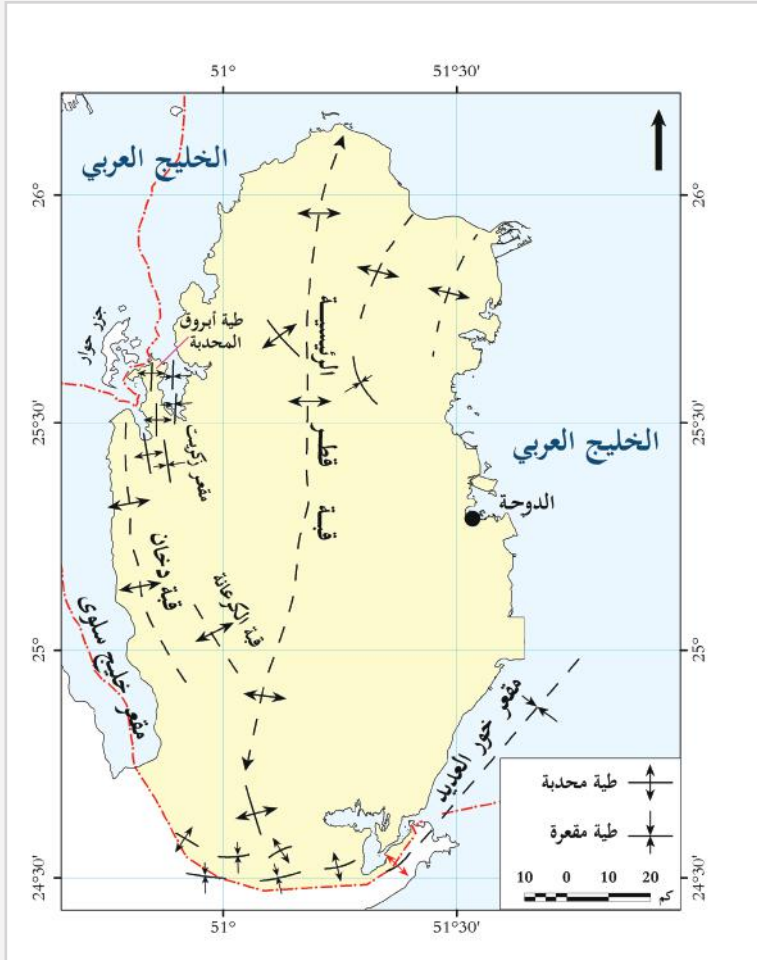
مفاهيم أتعلمها:

يُقصد بالتركيب الجيولوجي الوحدات الصخرية المكوّنة لطبقات القشرة الأرضية.

يغلب على تركيب طبقات الأرض في دولة قطر الصخور الجيرية الرسوبية.



لاحظ خريطة شكل رقم (4) وتعرّف أهم التراكيب الجيولوجية بشبه جزيرة قطر، ثم ناقش ما توصّلت إليه مع زميلك.



شكل (4) التركيب الجيولوجي لدولة قطر

نستنتج من الخريطة شكل (4):

أن شبه جزيرة قطر تُعدُّ طيَّةً محدَّبة ظهرت خلال الزمن الجيولوجي الثالث، وتنتشر بها الطيَّات المحدَّبة والمقعَّرة، والتي يوضِّحها الشكل التالي:

أضف معلوماتك:

الزمن الجيولوجية: قسّم الجيولوجيون عُمر الأرض إلى أربعة أزمنة جيولوجية (الأول، والثاني، والثالث، والرابع)، وينقسم كلُّ زمن منها إلى عدة عصور.

- لاحظ أهم التراكيب الجيولوجية لشبه جزيرة قطر من خلال الشكل (5) الذي أمامك، ثم حدّد أهم الطيّات المحدّبة والمقعّرة.



اقرأ وحدّد



شكل (5) مقطع عرضي للتركيب الجيولوجي لدولة قطر

نلاحظ من الشكل (5) ما يلي:

يمتدّ عدد من الطيّات المحدّبة والمقعّرة في الجانب الغربي من ثنية قطر المحدّبة الرئيسة مثل:

- أ - طية سلوى المقعّرة، ويشغلها مياه خليج سلوى.
- ب - طية دخان المحدّبة، ويُمثلها تلّال دخان المرتفعة.
- ج - طية زكريت المقعّرة، ويشغلها مياه خليج زكريت.
- د - طية أبروق المحدّبة، ويُمثلها رأس أبروق.

لم يتأثر الجانب الشرقي من دولة قطر بالحركات الأرضية إلا قليلاً، فهو بسيط البنية إلى حد كبير.

أضف معلوماتك:

الطيّة:

هي انثناء يحدث لصخور القشرة الأرضية، وهذا الانثناء إما أن يكون مُحَدَّبًا ويكوّن المرتفعات، أو يكون مُقَعَّرًا ويكوّن المنخفضات، وهي من أهم أنواع التراكيب الجيولوجية.

- استنتج العلاقة بين التركيب الجيولوجي وأشكال سطح الأرض بدولة قطر.



توقع وناقش

أضف معلوماتك:

التعرية:

هي نحت ونقل وإرساب مكوّنات سطح الأرض بفعل العوامل الطبيعية؛ كالرياح، والمياه الجارية، والأمواج.

انعكس التركيب الجيولوجي الذي أدى إلى نشأة شبه جزيرة قطر على أشكال السطح بها؛ حيث أدى اختلاف صلابة الصخور دوراً مهماً في مقاومة عوامل التعرية، وبالتالي تنوّعت

أشكال سطح الأرض مثل الدحول التي تكوّنت نتيجة تعرّض طبقات الصخور الجيرية في باطن الأرض للإذابة في الزمن الجيولوجي الرابع خلال العصر المطير، والتلال التي تتألف من تعاقب الصخور الصلبة واللينّة مثل تلال دخان، والأودية التي تشكّلت في العصر المطير، ولكنها تعرّضت للجفاف في العصر الجاف؛ مثل: وادي مشيرب - وادي السيل. وكذلك الرؤوس والخلجان؛ مثل رأس أبروق، وخليج زكريت.

قيمّ اتعلمها:

تأمل تجمّع النفط في التراكيب الجيولوجية المنتشرة بدولة قطر، والذي يُعدّ نعمة من نعم الله التي حباها الله لدولة قطر.

- لعلك تتساءل: ما أهمية دراسة التركيب الجيولوجي بدولة قطر؟



تساؤل ذاتي

ترجع أهمية دراسة التركيب الجيولوجي لدولة قطر إلى:

- أ - معرفة مناطق تجمّع النفط.
- ب - معرفة مناطق تجمّع المياه الجوفية.

- بالرجوع إلى مركز مصادر التعلم بمدرستك وشبكة المعلومات، اكتب بحثاً عن العلاقة بين دراسة التركيب الجيولوجي واكتشاف مناطق حقول النفط.



ابحث وتعلم

خامساً: أشكال سطح الأرض بدولة قطر:

يظهر على سطح دولة قطر العديد من أشكال السطح المتباينة في أشكالها وتوزيعها، لاحظ الخريطة شكل (6) وتعرّف عليها.

من خلال الخريطة يمكننا تحديد أشكال السطح بدولة قطر فيما يلي:

1 - أشكال سطح الأرض الصحراوية:

الروضات	الأودية الجافة
الكثبان الرملية	الدحول والخراسيع

2 - أشكال سطح الأرض الساحلية:

الرؤوس الأرضية	الخلجان	الأخوار
الفشوت	الدوحات

1 - أشكال سطح الأرض الصحراوية :

- المنخفضات:

عبارة عن أجزاء من سطح الأرض يَقلُّ مستواها عن مستوى الأجزاء المحيطة بها من جميع الجهات أو من مُعظَم الجهات، وتظهر على هيئة أحواض مُغلقة أو مفتوحة من جانب أو أكثر.

- العوامل التي ساعدت على تشكيل المنخفضات بدولة قطر.



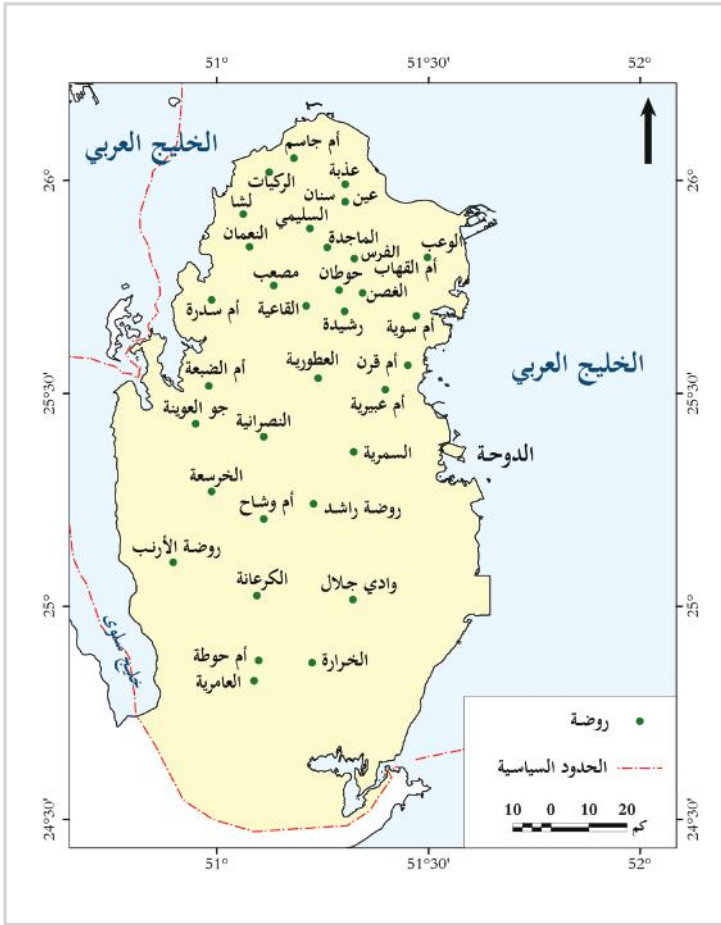
توقع وناقش

من العوامل التي ساعدت على تشكيل المنخفضات بدولة قطر ما يلي:

- توفّر الصخور القابلة للذوبان مثل: الحجر الجيري.

- الشقوق والفواصل المنتشرة بالحجر الجيري.

- الأمطار الغزيرة أثناء العصر المطير.



شكل (7) الروضات في دولة قطر

- الروضات:

عبارة عن أراضٍ منخفضة نسبياً عمّا يجاورها، تتجمع فيها التربة التي جرفت مياه السيول من الأراضي المجاورة. وهي ذات تربة صالحة للزراعة، ويقع معظمها في شمال دولة قطر ووسطها، والقليل منها في الجنوب، وتصلح الروضات للاستقرار البشري والزراعة؛ بسبب وفرة المياه الجوفية وخصوبة التربة فيها، مثل: روضة راشد، وروضة الفرس ... وغيرها. لاحظ الخريطة شكل (7) وحدّد أسماء الروضات بها.

- الكثبان الرملية (الطعوس أو النقيان):

وهي تجمّعات رملية كوّنَتْها الرّياح. وتنتشر الكثبان الرملية في أماكن متفرّقة من دولة قطر، كما في الجنوب الشرقي في منطقة سيلين، وخور العُديد ومسيعيد، والجنوب الغربي من دولة قطر، وتتنوّع أشكالها المختلفة، فمنها: الكثبان الهلالية، والكثبان الطولية (السيوف والخيوط).



أحد الكثبان (السيوف - الخيوط) بخور العديد



الكثبان الهلالية بخور العديد



-- هل تعرف كيف تتشكل الكثبان الرملية؟ ابحث عنها من خلال مصادر التعلم واستنتج كيف يتم تشكيل الكثبان الرملية.

- الدحول والخراسيع:



دحل المسفر

الدحول: هي الكهوف الأرضية التي انهارت الأجزاء العليا منها؛ فكوّنت فتحات على سطح الأرض، مثل: دحل الحمام، ودحل المظلم، ودحل المسفر الذي يُعدُّ أكبر الدحول في دولة قطر، أما الخراسيع فهي كهوف مخفية تحت سطح الأرض، تكوّنت نتيجة ذوبان الصخور الجيرية بفعل المياه الجوفية والأمطار. وتنتشر هذه الظاهرة في المناطق الغربية كمنطقة الخرسعة.

اكتب أسماء بعض الدحول والخراسيع الأخرى في دولة قطر. - التلال:

هي أراضي مرتفعة عن سطح الأرض ذات جوانب متوسطة الانحدار أقل ارتفاعاً من الجبال. وقد تكون التلال ذات شكل مخروطي أو مستوية القمم مثل تلال دخان.

أضف معلوماً لك:
يتمثل الفرق بين الجبال والتلال في الارتفاع. حيث يزيد ارتفاع الجبال على 1000 متر، بينما يقل ارتفاع التلال عن 1000 متر.



تلال دخان



أحد الأودية الجافة بدولة قطر

- الأودية الجافة:

هي مجارٍ مائية تمّ حفرها بواسطة الأمطار الغزيرة في العصر المطير ثم جفّت في العصر الجاف.

تتميّز الأودية بدولة قطر بأنها قصيرة، وتنتهي في أغلبها إلى المنخفضات، ولا تصل إلى البحر؛ بسبب قلة المياه المتدفقة، مثل: وادي العقدة في الشّمال، ووادي الذئاب في الغرب.

- في رأيك إذا طلب منك سائح في دولة قطر اختيار أحد أشكال السطح الصحراوية لزيارتها والتمتع بجمال الطبيعة بها، فأَي الأشكال ترشّحها له؟ ولماذا؟



2 - أشكال سطح الأرض الساحلية:

ينتشرُ العديد من أشكال سطح الأرض الناتجة عن فعل البحر بالسواحل القطرية، ومنها ما يأتي:

- الفشوت:

عبارة عن كُتَل وأرصفة وجُزُر مرجانية تنتشر أمام السواحل القطرية، مثل: فشيت الديبل بالساحل الشّمالي الغربي بدولة قطر، وفشيت العريف أمام مسيعيد، وفشيت القرنين أمام الوكرة، كما تنتشر الفشوت أمام ساحل خليج زكريت، وأمام رأس أبروق.

تتمثّل أهمية الفشوت فيما يأتي:

- تُعدُّ مقصداً للسياحة.

- يكمنُ في بعضها النفط، والغاز الطبيعي.

- تُعدُّ مصدرًا للغذاء ومأوى للعديد من الأسماك والكائنات البحرية؛ مما جعلها مصائد للأسماك.

- حماية الشواطئ والموانئ من التآكل بفعل أمواج البحر مثل: فشيت العريف الذي يحمي ميناء

مسيعيد.

العوامل التي ساعدت على تكوُّن الفشوت بسواحل شبه جزيرة قطر:

تُعَدُّ السواحل القطرية بيئة مناسبة لتكوُّن الفشوت المرجانية؛ حيث تتوفر فيها شروط تكوُّنها التي تتمثل فيما يأتي:

- صفاء المياه وارتفاع ملوحتها.
- ارتفاع حرارة المياه التي لا تقل عن 20 °.
- توافر الحياة البحرية العضوية اللازمة لبناء المرجان.
- ضخالة المياه؛ حيث لا يزيد عمقها عادةً على ثلاثة أمتار.



جزيرة الأسحاط

- الجُزُر:

الجزيرة هي قطعة من اليابس تُحيط بها المياه من جميع الجهات. مثل: مجموعة جزر الأسحاط، وجزيرة جنان، وجزيرتي حالول وشراعوه، وجزيرتي العالية والسافلية.

- اطرح بعض الأفكار المبدعة حول كيفية الاستفادة من أشكال السطح في تنشيط السياحة.



السبخات

- السبخات:

عبارة عن أراضي منخفضة ومستوية السطح تتعرض لمعدلات عالية من تبخر مياه البحر ينتج عنها طبقة ملحية صلبة إلى السطح، ومن أمثلتها: السبخات الساحلية التي تمتدُّ على سواحل دولة قطر، وخاصة الشرقية، مثل سبخة مسيعيد.

أضف معلوماتك:

يوجد نوع آخر من السبخات بدولة قطر تُعرف بالسبخات الداخلية، مثل سبخة دخان، وسبخة الخفوس.

- الرؤوس الأرضية:



رأس دخان

عبارة عن امتدادٍ لليابس في مياه البحر، وهناك الكثير منها في دولة قطر، لاحظها على الخريطة شكل (6) مثل: رأس أبو عبود، ورأس أبو فنطاس، ورأس لفان على الساحل الشرقي، ورأس ركن في الشمال، ورأس دخان، ورأس عشيرج، ورأس أبروق على الساحل الغربي.

كيف يمكننا الاستفادة من هذه الرؤوس الأرضية؟

- الأخوار:



الأخوار في دولة قطر

عبارة عن ألسنة من مياه البحر تتوغل في اليابس من خلال فتحة ضيقة، تقع الأخوار على الساحل الشرقي لدولة قطر مثل: خور العُديد، وخور مدينة الخور، وخور الذخيرة.

- الخلجان:



خليج زكريت

هي ألسنة من مياه البحر أكثر اتساعاً من الأخوار تتوغل داخل اليابس، وتقع الخلجان على الساحل الغربي لدولة قطر مثل خليج سلوى، وخليج زكريت.

- الدوحات:

عبارة عن تداخل ساحل البحر في اليابس على شكل مقوَّس أو شبه دائري؛ مثل دوحة الدوحة، ودوحة أم الماء.



دوحة الدوحة

- فسّر أسباب انتشار الأخوار والخلجان والدوحات في دولة قطر.



- الشواطئ الرملية:

شاطئ الغارية في قطر

عبارة عن إرسابات رملية أرسبتُها التيارات البحرية والأمواج.

لعلك لاحظت من دراستك السابقة أن أشكال سطح الأرض بدولة قطر -رغم صغر مساحتها- إلا أنها متنوّعة بصورة واضحة بين أشكال تضاريسية صحراوية وساحلية.

مشروع الدرس (اكتشف قطر):

تزخر دولة قطر بالعديد من الظاهرات التضاريسية التي تتميز بطبيعتها الخلابة، والتي تُعدُّ مصدرًا للجذب السياحي.

تعاون مع زملائك في إعداد مشروع لتشجيع السياح على زيارة قطر للتمتع بالظاهرات التضاريسية الخلابة مثل: (مطوية – ألبوم صور – عرض بور بوينت – موقع إلكتروني – مجلة سياحية) واستخدام خطوات التفكير العلمي في الإعداد للمشروع وفق الخطوات التالية:

- تحديد الهدف من المشروع.
- تحديد الموارد اللازمة والمتطلبات للمشروع.
- تنفيذ المشروع.
- تقييم المشروع.



الأنشطة والتدريبات

أولاً: الأنشطة

النشاط الأول: نشاط ميداني:

شارك معلّمك وزملائك في تنفيذ دراسة ميدانية لمنطقة دخان لتشاهد أهم أشكال السطح الناتجة عن التعرية الصحراوية والساحلية وتوثيقها بالصور الفوتوغرافية والفيديو، وقم بعرضها على معلّمك وزملائك داخل الصف.

النشاط الثاني: اكتب مقالاً:

اكتب مقالاً مختصراً توضّح فيه أهمية موقع قطر الإستراتيجي.

النشاط الثالث: ابحث واكتشف:

مستعيناً ببرنامج google earth والخرائط بالبرنامج، اختر أحد أشكال سطح الأرض بدولة قطر، واجمع مزيداً من المعلومات عنها، ثم اعرض نتائج بحثك باستخدام الصور والخرائط.



الأنشطة والتدريبات

النشاط الرابع:

ارسم قطاعاً عرضياً لجزء من دولة قطر، موضِّحاً أهم الظاهرات التضاريسية التي سوف يتضمنها القطاع.

النشاط الخامس:

ارسم خريطة ذهنية لأشكال السطح، ودعّمها بأمثلة.



الأنشطة والتدريبات

ثانيًا: التدريبات

السؤال الأول: اختر الإجابة الصحيحة من بين البدائل التالية:

1- تقع دولة قطر في منتصف ساحل الخليج العربي من الجهة:

- أ- الشمالية.
- ب- الجنوبية.
- ج- الشرقية.
- د- الغربية.

2- ترتبط دولة قطر بحدود برية مع:

- أ- الإمارات.
- ب- السعودية.
- ج- إيران.
- د- البحرين.

3- تبلغ مساحة دولة قطر:

- أ- 12600 كم².
- ب- 15600 كم².
- ج- 17600 كم².
- د- 11610 كم².

4- أي من الأشكال الآتية عبارة عن طية مقعرة؟

- أ- دوحة الحصين.
- ب- تلال دخان.
- ج- سبخة الخفوس.
- د- رأس أبروق.

5- تشكّلت المنخفضات في دولة قطر بفعل:

- أ- الثلوج.
- ب- الأمطار.
- ج- الضباب.
- د- الحرارة.



الأنشطة والتدريبات

السؤال الثاني: ما الفرق بين كل من:

1 - الخلجان والدوحات؟

.....

2 - الدحول والخراسيع؟

.....

السؤال الثالث: عرّف المصطلحات الآتية:

1 - السبخات:

2 - الأودية الجافة:

3 - الشواطئ الرملية:

4 - التركيب الجيولوجي:

السؤال الرابع: بم تفسّر:

1 - امتلاك دولة قطر أكثر من 700 كم من السواحل؟

.....

2 - صلاحية الروضات للزراعة؟

.....

3 - انتهاء أغلب الأودية الجافة في دولة قطر إلى المنخفضات؟

.....



الأنشطة والتدريبات

4 - تشكيل المنخفضات بدولة قطر؟

.....

5 - أهمية دراسة التركيب الجيولوجي لدولة قطر؟

.....

6 - أهمية الفشوت؟

.....

السؤال الخامس:

صنّف أشكال السطح الآتية بدولة قطر في الجدول المقابل.

الفشوت

خور العُديد

دحل المسفر

رأس أبروق

جزيرة حالول

سبخة مسيعيد

الكتبان الهلالية

الروضات

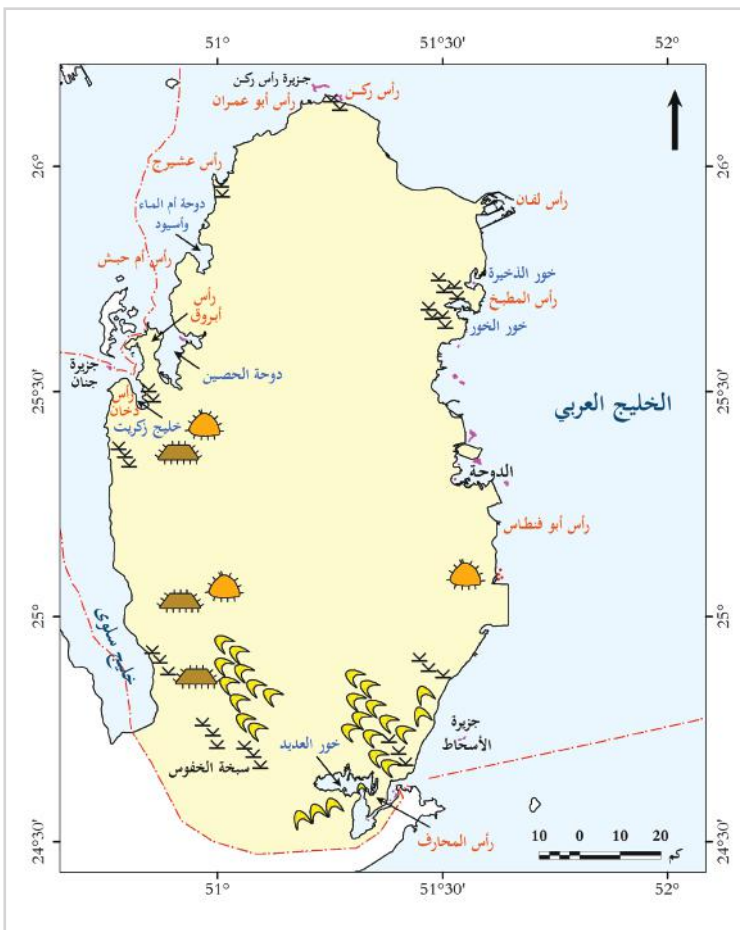
أشكال السطح الساحلية	أشكال السطح الصحراوية
.....
.....
.....
.....
.....



«تتمتع دولة قطر بموقع استراتيجي مهم».

السؤال السابع:

لاحظ خريطة أشكال سطح الأرض
بدولة قطر التي أمامك، وحاول أن
تتعرف مواقعها من خلال الرموز
الجغرافية الموجودة بالخريطة،
ودون إجابتك في الجدول التالي:



الرمز	اسم الظاهرة	مثال




الدَّرْسُ الثَّانِي:

المناخ- والحياة الفطرية وموارد المياه



المناخ - والحياة الفطرية وموارد المياه

أولاً: مناخ دولة قطر:

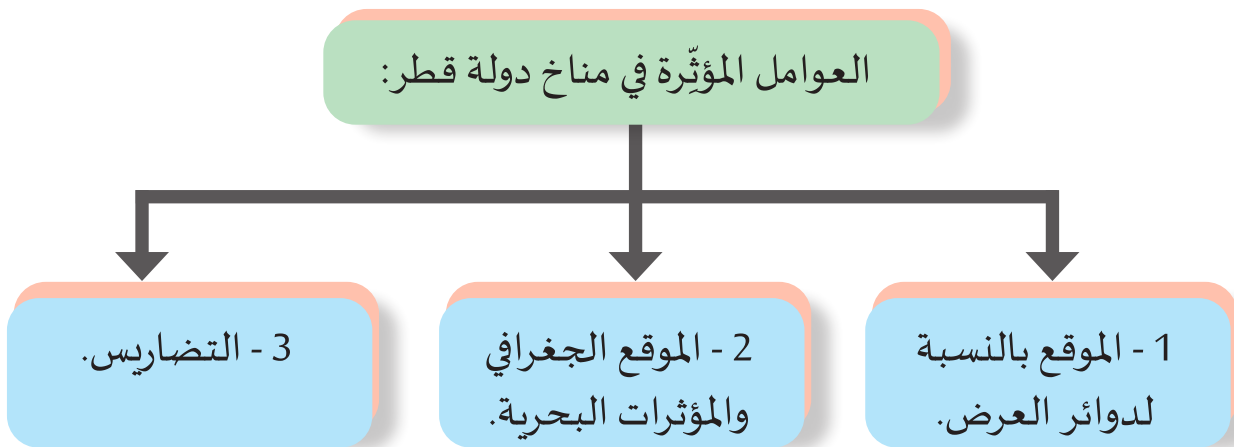
تذكّر

المناخ هو حالة الجو لفترة زمنية طويلة قد تكون فصلاً أو سنة.

يؤثر المناخ بدرجة كبيرة في مختلف نواحي الحياة على سطح الأرض، الطبيعية منها والبشرية.

1 - العوامل المؤثرة في مناخ شبه جزيرة قطر:

يتأثر مناخ شبه جزيرة قطر بمجموعة من العوامل، وتتمثل فيما يلي:



الموقع الفلكي بالنسبة لدوائر العرض:

أدى موقع دولة قطر بين دائرتي عرض $24^{\circ} 27'$ و $26^{\circ} 10'$ شمالاً إلى وقوعها ضمن نطاق الإقليم الصحراوي، الذي يتميز بدفئه في الشتاء، وشدة حرارته في الصيف؛ ولهذا تتسم دولة قطر بطول فترة الإشعاع الشمسي.

أضف معلوماتك:

المناخ القاري:
هو مناخ المناطق التي تقع في اليابس بعيداً عن تأثير البحر، ويتميز باتساع المدى الحراري اليومي والفصلي والسنوي.

الموقع الجغرافي والمؤثرات البحرية:

ساد المناخ القاري على شبه جزيرة قطر بسبب اتساع كتلة اليابس في شبه الجزيرة العربية مقارنة بحجم مسطحات المياه التي تطل عليها.

- كيف يكون مُناخ دولة قطر قاريًا على الرغم من أنها شبه جزيرة؟



فكر وناقش

على الرغم من أن دولة قطر عبارة عن شبه جزيرة متوغلّة داخل الخليج العربي، إلا أن تأثيره محدودٌ على مُناخ دولة قطر بسبب:

- صِغَر مساحته بالنسبة لحجم اليابس المُحيط به.
- قلة عمقه؛ مما أدى إلى ارتفاع درجة حرارة مياهه.

لذا يقتصر تأثير الخليج العربي على رفع نسبة الرطوبة بالمناطق الساحلية بدولة قطر.

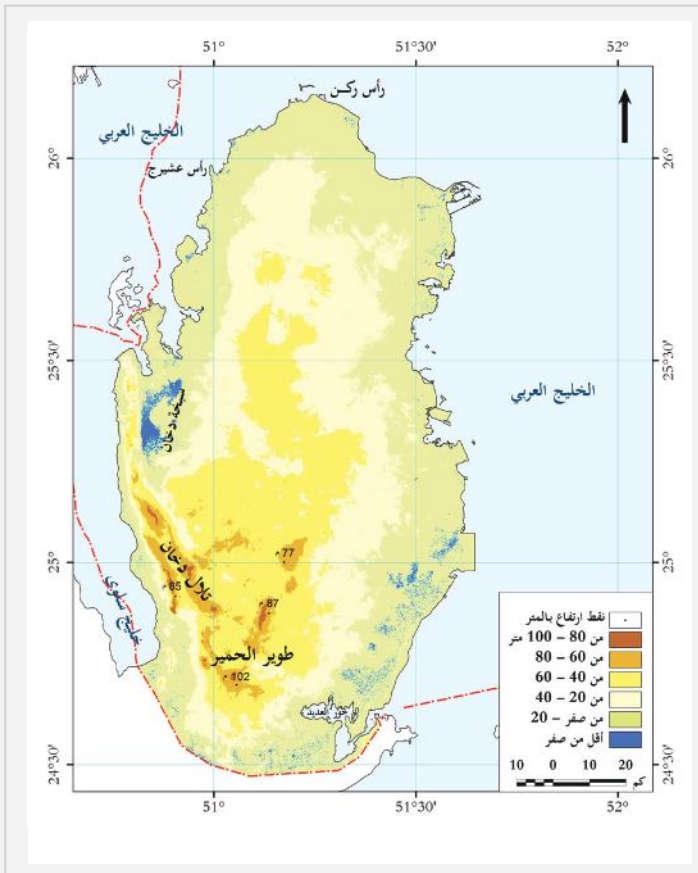
التضاريس:

قيم أتعلمها:

استطاع الإنسان بالعلم الذي أنعم الله عليه به أن يتحكّم في بعض عناصر المناخ، دَلِّل على ذلك بالأمثلة، وشجّع زملاءك على التسلح بالعلم.

- تعاونْ مع زميلك في تحليل خريطة تضاريس دولة قطر، ثم ناقِش الأسئلة التالية:

- ما الصفة الغالبة على تضاريس دولة قطر؟
- توقّع ما مدى تأثير التضاريس على مناخ دولة قطر؟



شكل (1) تضاريس دولة قطر



تأمل واستنتج

نستنتج من الخريطة أن تأثير التضاريس في مناخ دولة قطر محدود؛ حيث يغلب على تضاريس شبه جزيرة قطر صفة الاستواء -عدا تلال دخان- ويقتصر تأثير التضاريس في المنخفضات والروضات والمناطق المحيطة بها.

أضف معلوماتك:

المنخفض الجوي:

هو ظاهرة جوية تنشأ عندما ينخفض ضغط بقعة كبيرة من الغلاف الغازي بالنسبة للمناطق المحيطة بها؛ بسبب صعود الهواء الدافئ فوق الهواء البارد.

2 - عناصر المناخ:

أ- درجة الحرارة:

فصل الشتاء:

تنخفض درجة الحرارة إلى أدنى معدلاتها في شهر يناير (3,4 مئوية)؛ بسبب تعامد الشمس على مدار الجدي وعدم تركيز أشعتها على نصف الكرة الشمالي، وتأثر دولة قطر بالمنخفضات الجوية من وسط آسيا ومنطقة البحر المتوسط.

فصل الصيف:

يُعدُّ فصل الصيف أشدَّ فصول السنة حرارةً في دولة قطر، حيث ترتفع درجة الحرارة إلى أعلى معدلاتها في شهر يوليو (4,48 مئوية)، ويرجع ذلك إلى تعامد الشمس على مدار السرطان وتركز أشعتها على نصف الكرة الشمالي، وانعدام مرور المنخفضات الجوية خلاله.

ب- الرياح:

لاحظ الشكلين (2 و 3) اللذين أمامك، وحاول أن تستنتج ما يلي:

1 - الاتجاه السائد لهبوب الرياح.

2 - أنواع الرياح التي تهبُّ على دولة

قطر.

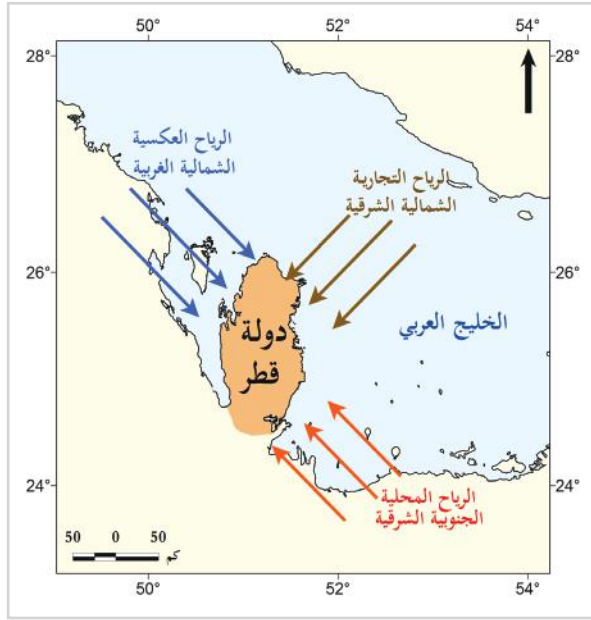
أضف معلوماتك:

وردة الرياح:


عبارة عن مخطط يوضح كيفية توزع سرعة الرياح واتجاهها في مكان معين خلال فترة زمنية محددة.



تأمل واستنتج



شكل (3) الرياح في قطر



شكل (2) واردة الرياح بدولة قطر

نستنتج من الشكل (2) ما يأتي:

- 1 - أن الاتجاه السائد لهبوب الرياح هو الشمال والشمال الغربي.
- 2 - نستنتج من الشكل (3) أن دولة قطر تتعرض لأنواع متباينة من الرياح كما يأتي:

الرياح التجارية (الدائمة):	الرياح العكسية:	الرياح المحلية:
تتأثر دولة قطر بهبوب الرياح التجارية الشمالية الشرقية الجافة طوال العام.	تهب على دولة قطر في فصل الشتاء الرياح العكسية الشمالية والشمالية الغربية القادمة من البحر المتوسط، وتسبب بأنها رياح باردة، وتؤدي إلى انخفاض درجات الحرارة في دولة قطر شتاءً، وتسبب في سقوط الأمطار الشتوية.	تتعرض دولة قطر لهبوب الرياح الجنوبية الشرقية (رياح الكوس)، وهي رياح حارة ورطبة، تؤثر الغبار والأتربة، وترفع من نسبة الرطوبة الجوية في فصل الربيع والصيف.

ج- الأمطار:

تتميّز شبه جزيرة قطر بصفةٍ عامّةٍ بقلّة أمطارها، وتذبذبها، وتباين كمياتها من عام إلى آخر ومن شهر إلى آخر، وتسقط على فترات متباعدة، وبصورة فجائية؛ بسبب وقوعها ضمن النطاق الصحراوي.



أنواع الأمطار:

يسقط على شبه جزيرة قطر نوعان من الأمطار، هما:

الأمطار الإعصاريّة:

تسقط بسبب المنخفضات الجوية التي تمرّ على شبه جزيرة قطر القادمة من البحر المتوسط في فصلي الشتاء والربيع.

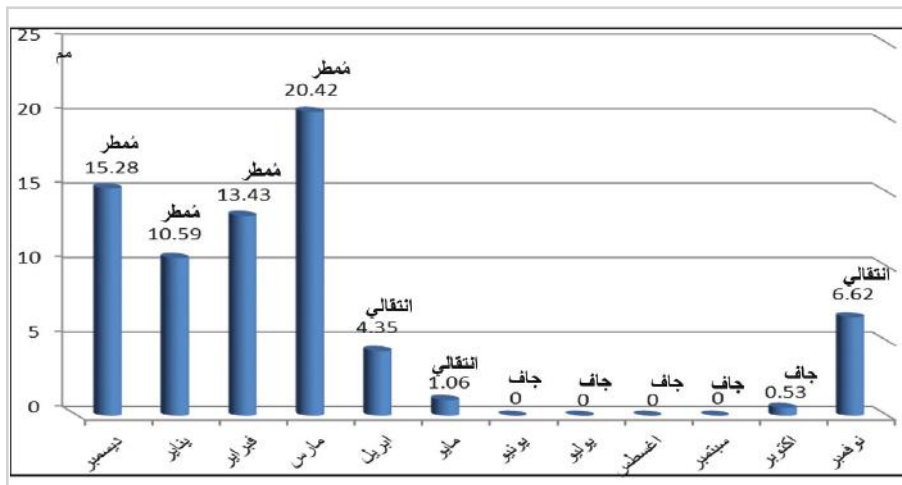
أمطار العواصف الرعدية:

تسقط خلال فصلي الخريف والربيع، وتمثل حوالي 65٪ من جملة الأمطار الساقطة على دولة قطر، ويكون مصدرها الجبهات الباردة التي تصل منطقة الخليج العربي في مقدّمة ومؤخّرة منخفضات البحر المتوسط، وكذلك المنخفضات القادمة من السودان، وينتج عنها عواصف رعدية.

لاحظ الشكل التالي:

من خلال الشكل البياني (4) الذي أمامك أجب عن الآتي:

- كم يبلغ المعدّل السنوي لكمية الأمطار في دولة قطر؟



شكل (4) المعدّل الشهري لكمية المطر (مم)
وحالة الشهور بدولة قطر من 1980 م - 2014 م

أضف معلوماتك:

بلغت أكبر كمية مطر في شبه جزيرة قطر 141.6 مم، وذلك في عام 1995م.

أضف معلوماتك:

المعدل السنوي للمطر:
عبارة عن مجموع كمية
تساقط الأمطار خلال العام
مقسومًا على 12 شهرًا.

نستنتج من الشكل (4) ما يأتي:

أن المجموع الكلي لمعدل سقوط المطر السنوي بدولة قطر يبلغ 72,28 مم، وتصنّف قطر حسب كمية الأمطار ضمن المناطق الجافة.

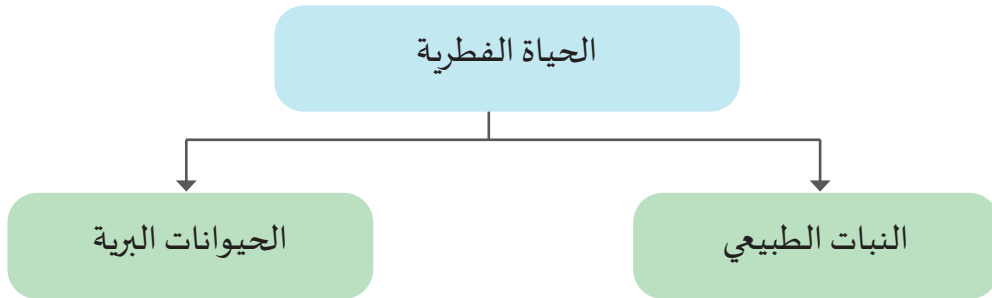
د- الرطوبة:

هي كمية بخار الماء في الهواء، وترتفع الرطوبة بالمناطق المُمطلة على سواحل قطر، وتقلّ في المناطق الداخلية، كما أنها ترتفع في فصل الشتاء وتقلّ في فصل الصيف.

ثانيًا: الحياة الفطرية في دولة قطر:

مفهوم الحياة الفطرية:

كلّ الحيوانات والنباتات التي تعيش في أماكنها الطبيعية على فطرتها التي خلقها الله عليها دون الاعتماد على الإنسان في مأكليها أو مشربها. وتنقسم الحياة الفطرية إلى قسمين كما يوضّحها المخطط التالي:



تذكّر...

النبات الطبيعي:
هو النبات الذي ينمو
طبيعياً اعتماداً على
كمية المطر دون تدخل
الإنسان.

أ- النبات الطبيعي في دولة قطر:

يتميّز النبات الطبيعي بدولة قطر بقلته وتبعثره من مكان إلى آخر.

أنواع النبات الطبيعي في دولة قطر:

النباتات الحَوْلِيَّة (الموسمية):

هي النباتات التي تنبُتُ بعد موسم سقوط الأمطار مباشرة، وتموت بعد انتهاء الأمطار أو تتغذى عليها الحيوانات، وتتميز بجذورها السطحية الصغيرة، مثل: الكحل، والقريص.



نبات القريص



نبات الكحل

- النباتات المعمرة (الدائمة):

هي أشجار دائمة تتميز بجذورها العميقة التي تصل إلى الطبقة الرطبة، وبمقاومتها للجفاف مثل: السمر، والسدر، والغضا.



نبات السدر



نبات السمر

أضف معلوماً لك:

نبات السمر:
سُميت منطقة أبو سمرة نسبة
له، وهو نبات مُعَمَّر، وله
استخدامات مُتَعَدِّدة كعلف
للحيوانات، ومصدات للرياح،
ويُستخدم كوقود.



نبات الغضا

- توزيع النبات الطبيعي على أنواع التربة المختلفة في دولة قطر:

يرتبط النبات الطبيعي بآماكن التربة الصالحة والوفرة النسبية لمحتواها المائي، نتيجة الظروف المناخية القاسية بدولة قطر كما يلي:

- نباتات الروضات:

تنمو النباتات بكثافة أكبر في الروضات؛ بسبب تربتها الخصبة، ووفرة المياه الجوفية، مثل: نبات السدر، والسمر، والعوسج.

- نباتات الأودية الجافة:

ينمو بها بعض النباتات مثل: القرم، كف مريم.

- نباتات السبخات:

تنمو بها النباتات التي تتحمل ملوحة التربة مثل: القرم، الحميض، القطف.

- نباتات الكثبان الرملية:

ينمو بها نبات طبيعي فقير ومبعثر مثل: الثمام، الهرم، الرشا.

- والآن هل يمكنك استنتاج أهمية النبات الطبيعي في حياتنا؟

أهمية النبات الطبيعي في دولة قطر:

- 1 - يُستخدَم كوقود.
- 2 - يُستعمل كمصدّات للرياح.
- 3 - يُستفاد منه في رعي الحيوانات.
- 4 - يحافظ على الشواطئ من التآكل.
- 5 - تتغذى عليه الأسماك مثل نبات القرم.
- 6 - يعمل على تثبيت التربة ومنعها من الانجراف.
- 7 - تدخل بعض الأعشاب في علاج بعض الأمراض.
- 8 - يُعدُّ بيئة لحياة بعض الحيوانات والطيور والحشرات البرية.

قيمُ أتعلمها:

النبات الطبيعي، من النعم العظيمة التي خلقها الله تعالى وأبدع في خلقها، كما أنها ثروة اقتصادية يجب استثمارها والمحافظة عليها من أجل استدامتها للأجيال القادمة.

- اطرح أفكارًا غير تقليدية للحفاظ على النبات الطبيعي في دولة قطر.



ب - الحيوانات البرية في دولة قطر:

تنتشر بدولة قطر العديد من الحيوانات البرية التي تتكيف مع ظروف الجفاف، مثل الزواحف ومنها: الضب، والثعابين. والحيوانات آكلة العشب مثل: الأرانب البرية، والمها العربي. والحيوانات آكلة اللحوم مثل: الثعالب، والذئاب. والطيور ومنها: الكروان، واليمام. والحشرات مثل: الخنافس، والجراد.

قيمُ أتعلمها:

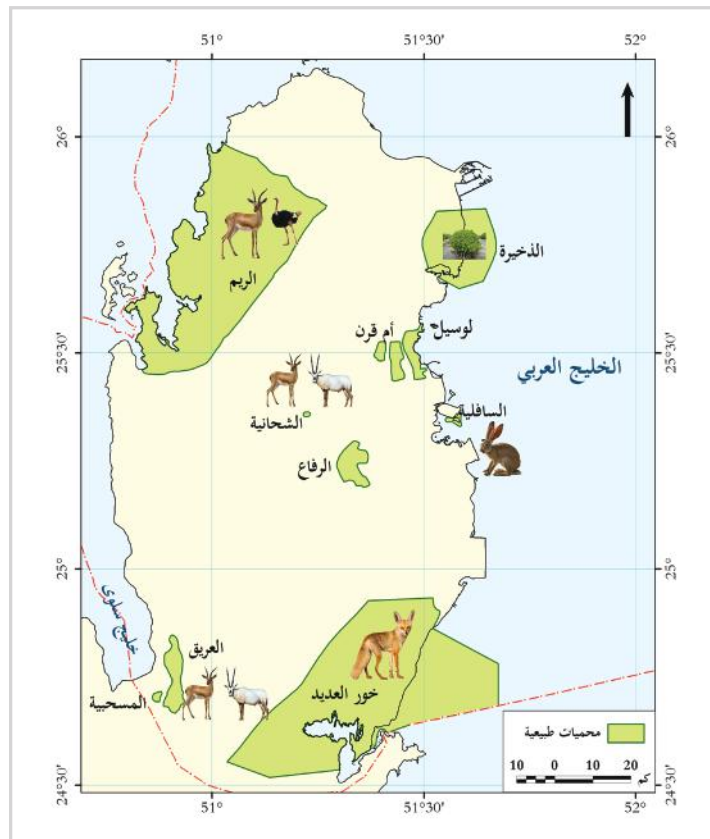
الرفق بالحيوان، فرحمة الله واسعة شملت جميع خلقه ومنها الحيوان.

ابحث وشاهد احد الأفلام عن المحميات الطبيعية، وتأمل عظمة الله وإبداعه في مخلوقاته.



دور دولة قطر في المحافظة على الحياة الفطرية:

- 1 - أولت دولة قطر الحياة الفطرية أهمية بالغة، وذلك بالمحافظة عليها، وإنمائها، وحمايتها من الانقراض، وأصدرت بذلك قانون الحماية البيئية.
- 2 - سعت الدولة إلى إنشاء العديد من المحميات الطبيعية؛ لحماية الحياة الفطرية، ومواطنها الطبيعية، مثل: محمية الريم، والمسحبية، ووادي العريق، والرفاع، وخور العُديد، والشبحانية، والذخيرة، والسافلية بالوبرة، لاحظها على الخريطة شكل (5).



شكل (5) المحميات الطبيعية بدولة قطر

تُركّز رؤية دولة قطر 2030م على ضرورة وجود حياة فطرية مُستدامة، وعلى أهمية توعية المواطنين إلى دورهم في حماية البيئة؛ حرصًا على صحة وسلامة أبنائهم من أجل مستقبل أفضل للأجيال القادمة.

- اقترح وسائل مبتكرة لتوعية المواطنين بدورهم في حماية البيئة الطبيعية بدولة قطر.



ثالثاً: الموارد المائية بدولة قطر:

تحظى موارد المياه باهتمام كبير في دولة قطر، وفيما يأتي أهم موارد المياه بدولة قطر:

1 - الأمطار:

- هل يُمكن أن تعتمد دولة قطر على الأمطار كمصدر أساسي للمياه العذبة؟
- اترح أكبر عدد من الأفكار لاستثمار مياه الأمطار.



من خلال دراستك لعناصر المناخ نجد أن المطر في دولة قطر قليل وشديد التذبذب سنوياً؛ لذا لا يُمكن أن تعتمد الدولة على الأمطار كمصدر أساسي للمياه العذبة.

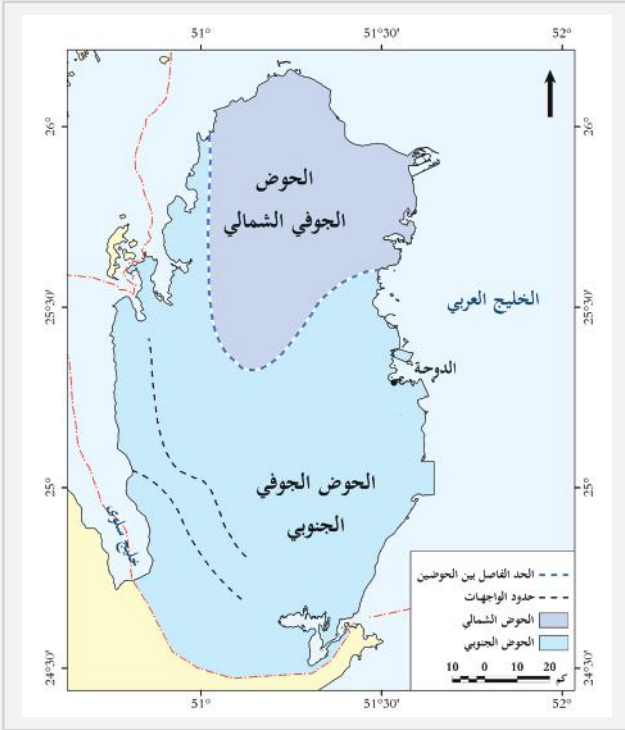
2 - المياه الجوفية:

أضف معلوماتك:

المياه الجوفية الأحفورية: عبارة عن المياه العميقة الموجودة في مسام الصخور على أعماق تزيد على 1000 متر، وهي مياه غير متجددة؛ لأنها تكونت في عصور جيولوجية قديمة تميزت بأمطارها الغزيرة منذ ملايين السنين، ولم تُعد هذه العصور المطيرة موجودة الآن.

هي المياه التي توجد تحت سطح الأرض على أعماق مختلفة سطحية وعميقة.

- تنقسم المياه الجوفية إلى نوعين:
- مياه جوفية سطحية متجددة تعتمد أساساً في تغذيتها على مياه الأمطار المحدودة.
- مياه جوفية عميقة غير متجددة.



شكل (6) أحواض المياه الجوفية بدولة قطر

- لاحظ خريطة دولة قطر التي أمامك شكل (6)، واستنتج أحواض المياه الجوفية الرئيسة بدولة قطر.



نستنتج من الشكل (6) ما يلي:

تُقسّم شبه جزيرة قطر إلى حوضين جوفيين منفصلين: الحوض الجوفي الشّمالي: يُعدُّ المورد الرئيس للمياه الجوفية ذات الجودة المناسبة للشرب، والاستهلاك الزراعي؛ لقلة التكوينات الملحية في صخورهِ. الحوض الجوفي الجنوبي: ترتفع فيه نسبة الملوحة؛ بسبب كثرة التكوينات الكبريتية المالحة في صخورهِ؛ لذا لا تصلح للزراعة، بل إن استخدامها يُعدُّ خطرًا على الثّروة الزراعية التي تتعرض للتصحّر بالتملّح. تتعرّض أحواض المياه الجوفية إلى مشكلاتٍ عديدةٍ منها ما يلي:

- اختلاط المياه الجوفية القريبة من الساحل بمياه البحر.

- ارتفاع ملوحة المياه الجوفية بشكل جعلها غير صالحة للاستخدام البشري.

- انخفاض منسوب المياه الجوفية.

- الاستنزاف الجائر للمياه الجوفية غير المتجدّدة.

- اختر إحدى المشكلات التي تواجه أحواض المياه الجافة، وابحث عن حلول لها من خلال التقنيات الحديثة والتكنولوجيا.



3 - المياه المُحلّاة:

عبارة عن تحلية مياه البحر، وهي المصدر الأول للمياه في دولة قطر، وتُغطى حاليًا أغلب احتياجات السكان من المياه.

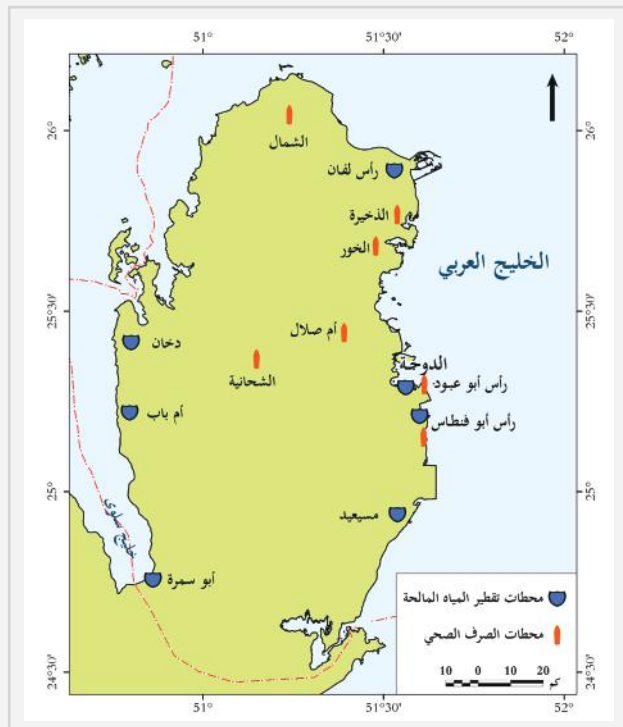
الأسباب التي جعلت دولة قطر تتجه نحو تحلية المياه:

- مواجهة النمو السكاني السريع.
- تنفيذ المشاريع التنموية الكبيرة العمرانية والصناعية.
- وفرة مصدر الطاقة المتمثل في الغاز الطبيعي.

أضف لمعلوماتك:

محطة رأس أبو عبود: هي أول محطة لتحلية المياه المالحة في دولة قطر، وبدأت تحلية المياه منذ عام 1962م، وأغلقتها الدولة عام 2008م لقدمها، وصعوبة تجديدها.

محطات تحلية المياه المالحة بدولة قطر:



شكل (7) مواقع محطات تحلية المياه المالحة

- لاحظ خريطة دولة قطر التي أمامك شكل (7) وحدّد محطات تحلية المياه المالحة فيها.



نستنتج من الشكل (7) ما يأتي:

أنشأت دولة قطر سبع محطات رئيسة لتحلية المياه المالحة لتغطية كافة الاحتياجات السكانية والصناعية هي:

- محطة رأس لفان الواقعة شمال الدُّوْحَة، وهي أكبر محطة تحلية في دولة قطر.
- محطة رأس أبو فنتاس الواقعة جنوب الدُّوْحَة، وعدد من المحطات؛ مثل (دخان - مسيعيد - أم باب - أبو سمرة).

قيمُ أتعلمها:

نقطة المياه تساوي حياة، وتبذل الدولة جهودًا كبيرة لتوفير المياه لسكانها، فحافظ على المياه.

4 - مياه الصرف الصحي المُعالَجة:

دولة قطر من الدول الرائدة في المنطقة في مجال مُعالجة مياه الصرف الصحي؛ حيثُ يوجد في الوقت الراهن في دولة قطر 21 محطة لمعالجة مياه الصرف الصحي، مثل: محطة الذخيرة، والخور، والدُّوْحَة، والشيخانية، وأم صلال، والشَّمَال.

أضف لمعلوماتك:

شيدت دولة قطر أول محطة معالجة لمياه الصرف الصحي عام 1971م.

أهمية مياه الصرف الصحي المُعالَجة:

- تُستعمل لري الحدائق العامّة، وبعض الأراضي الزراعية.
- يُخفّف استخدام المياه المُعالَجة من درجة استهلاك المياه الجوفية.
- تُسهم في الحدّ من تلوث المياه وتحقيق مبدأ الاستدامة.

مشروع الخزانات الإستراتيجية الكبرى لرفع مخزون المياه:

تمّ في نهاية شهر يونيو عام 2018م تدشين المرحلة الأولى من ضخ المياه في مشروع الخزانات الإستراتيجية الكبرى لرفع مخزون المياه الإستراتيجي، بهدف تعزيز الأمن المائي لدولة قطر، ورفع السعة التخزينية الإجمالية للمياه العذبة في دولة قطر إلى ما يقارب 1500 مليون جالون من المياه.



مشروع الخزانات الإستراتيجية

يضم المشروع خمسة عشر خزانًا ضخماً لتخزين المياه موزعة في خمسة مواقع مختلفة تغطي كافة المناطق الجغرافية بالدولة، وذلك في كل من: أم صلال، وأم بركة، وروضة راشد، وأبو نخلة، والثمامة.

- من خلال شبكة المعلومات الدولية ابحث عن مشروع الخزانات الإستراتيجية الكبرى في دولة قطر، ثم قَدِّم ملخَّصًا عن المشروع أمام زملائك.



ابحث وخصّص

- ما أهمية تنوُّع الخصائص الطبيعية بدولة قطر؟



تساؤل ذاتي

أهمية تنوُّع الخصائص الطبيعية في شبه جزيرة قطر:

لعلك لاحظت أن دولة قطر تزخرُ بمجموعةٍ كبيرةٍ من الخصائص الطبيعية التي تتضح أهميتها

فيما يأتي:



مشروع الدرس: حماية الحياة الفطرية:

أولت دولة قطر الحياة الفطرية أهمية بالغة، وذلك بالمحافظة عليها وإنمائها وحمايتها من الانقراض، وأصدرت بذلك قانون الحماية البيئية. كما سعت الدولة إلى إنشاء العديد من المحميات الطبيعية؛ لحماية الحياة الفطرية ومواطنها الطبيعية. تُركّز رؤية دولة قطر على ضرورة وجود حياة فطرية مستدامة.

1 - ناقش مع معلمك دواعي تركيز رؤية دولة قطر على ضرورة وجود حياة فطرية مستدامة؟

2 - أسباب قيام دولة قطر بإنشاء العديد من المحميات الطبيعية؟

.....

.....

3 - إذا طُلب منك المشاركة التطوعية في مشروع للمحافظة على الحياة الفطرية والتوعية بأهميتها، فهل توافق أم لا؟ ولماذا؟

.....

.....

.....

.....

.....



الأنشطة والتدريبات

النشاط الأول:

أولاً: الأنشطة

صِفْ "في ثلاثة أسطر" شعورك تجاه حكومة وطنك حيال جهودها في الحفاظ على الحياة الفطرية بدولة قطر. مع ذكر مثال لأحد المحميات، وكتابة تقرير عنها يوضح موقعها، والحيوانات والنباتات الموجودة بها، ودورها في الحفاظ على الحياة الفطرية في دولة قطر.

النشاط الثاني:

- يوم الحياة الفطرية: أعلنت الأمم المتحدة أن يوم 3 مارس من كل سنة، يومٌ عالميٌّ للحياة الفطرية. استخدم شبكة المعلومات الدولية لتتعرف مظاهر الاحتفال بهذا اليوم.

النشاط الثالث:

ابحث من خلال شبكة المعلومات الدولية عن فيلم "تحلية مياه البحر في دولة قطر":
ثم لخص الجهود التي تبذلها الدولة لتوفير مياه عذبة للمواطنين، وما هو دور المواطن تجاه المياه.



الأنشطة والتدريبات

ثانيًا: التدريبات

السؤال الأول: اختر الإجابة الصحيحة من بين البدائل التالية:

- 1- تُصَنَّف رياح الكوس في دولة قطر ضمن الرياح:
 - أ- التجارية.
 - ب- الموسمية.
 - ج- العكسية.
 - د - المحلية.
- 2- ترتفع درجة الحرارة في دولة قطر إلى أعلى معدلاتها في شهر:
 - أ- مايو.
 - ب- يونيو.
 - ج- يوليو.
 - د - أغسطس.
- 3- من نباتات الروضات:
 - أ- السمر.
 - ب- القرم.
 - ج- القرم.
 - د - الثمام.
- 4- يقتصر تأثير الخليج العربي في مُناخ دولة قطر على عنصر:
 - أ- الرطوبة.
 - ب- الحرارة.
 - ج- الضغط الجوي.
 - د - الرياح.
- 5- تنمو نباتات السبخات في دولة قطر مثل:
 - أ- السدر.
 - ب- السمر.
 - ج- القرم.
 - د - الثمام.



الأنشطة والتدريبات

السؤال الثاني: عرّف المفاهيم الآتية:

1 - النباتات الحولية.

.....

2 - المياه الجوفية.

.....

3 - المياه المُحلّاة.

.....

السؤال الثالث: وضح أهمية الآتي:

1 - مياه الصرف الصحي المعالجة في دولة قطر.

.....

2 - المياه المُحلّاة في دولة قطر.

.....

3 - النبات الطبيعي بدولة قطر.

.....

4 - تنوع الخصائص الطبيعية بدولة قطر.

.....

السؤال الرابع:

عدّد المشكلات التي تتعرض لها أحواض المياه الجوفية في دولة قطر.

.....

.....



الأنشطة والتدريبات

السؤال الخامس:

من الخريطة المقابلة لدولة قطر، وضِّحْ ما تُشير إليه الأرقام الآتية:

(1) محمية

.....

(2) محمية

.....

(3) محمية

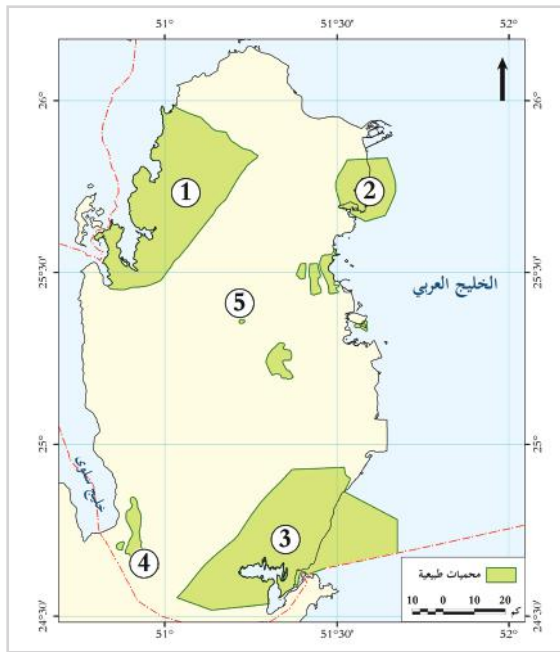
.....

(4) محمية

.....

(5) محمية

.....



السؤال السادس: قارن بين كل من:

1 - مياه الحوض الجوفي الشَّمالي والجنوبي بدولة قطر.

.....

2 - الرياح العكسية والرياح المحلية.

.....



الأنشطة والتدريبات

السؤال السابع: بم تُفسّر:

1 - التأثير المحدود للخليج العربي في مُناخ دولة قطر؟

.....

2 - يُعدّ فصل الصيف أشدّ فصول السنة حرارة في دولة قطر؟

.....

3 - اتجاه دولة قطر لتحلية مياه البحر؟

.....

السؤال الثامن: ما الفرق بين كل من:

1 - الأمطار الإعصارية وأمطار العواصف الرعدية؟

.....

.....

.....

2 - النباتات الحولية والنباتات المعمّرة؟

.....

.....

.....



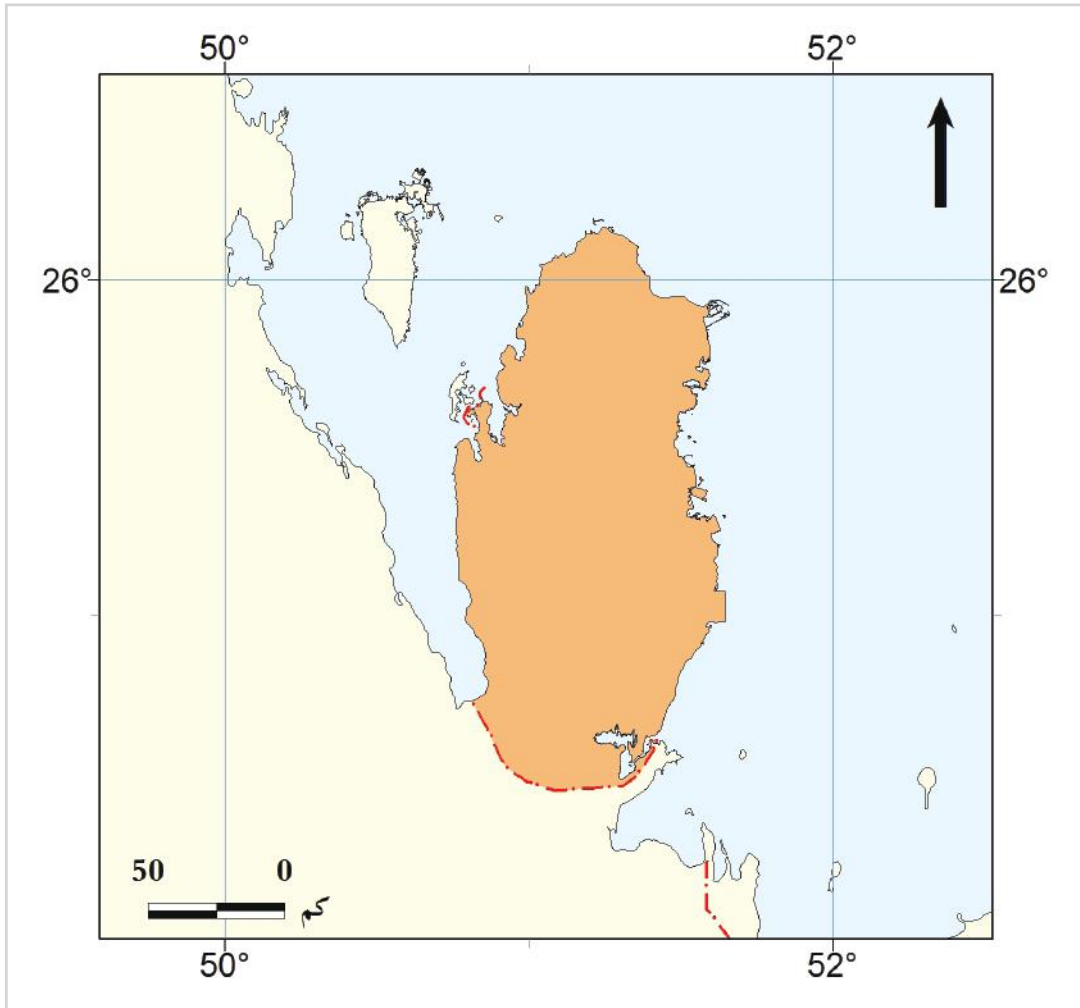
الأنشطة والتدريبات

السؤال التاسع: حدّد الرياح التالية على خريطة دولة قطر:

1 - الرياح التجارية.

2 - رياح الكوس.

3 - الرياح العكسية.



تاريخ قطر الحديث

● الدَّرسُ الأوَّل: الشيخ محمد بن ثاني ونشأة إمارة قطر

● الدَّرسُ الثَّاني: الشيخ جاسم بن محمد بن ثاني وتأسيس إمارة قطر



مهارات التقصي والبحث

- استخلاص المعلومات من أنواع مختلفة من المصادر وتقديم ملخصا لأهم الأفكار.
- التمييز بين الرأي والحقيقة تجاه قضية بحثية محددة .
- عرض معلومات ونتائج البحث باستخدام التكنولوجيا الحديثة .
- استخدام مهارات الإلقاء في شرح نتائج البحث.

في نهاية الوحدة سوف تتعلم

- توظيف الجداول والخطوط الزمنية لتوضيح توالي فترات حكم أسرة آل ثاني .
- تحديد خط سير اسرة آل ثاني على الخريطة .
- المفاهيم والمصطلحات التاريخية .
- استخدام الخطوط والجداول الزمنية لتتبع أبرز الاحداث التاريخية خلال فترات حكم أسرة آل ثاني.
- توضيح الأحوال السياسية في قطر قبل نشأة الإمارة
- توضيح جهود الشيخ محمد بن ثاني في تأسيس إمارة قطر.
- توضيح دور الشيخ جاسم بن محمد بن ثاني في تأسيس إمارة قطر.
- أسباب معركة الوجبة ونتائجها، وتحديد موقعها على الخريطة.
- تحليل جهود دولة قطر في مواجهة التحديات الخارجية .

الدَّرْس الأول:

الشيخ محمد بن ثاني ونشأة إمارة قطر



الشيخ محمد بن ثاني ونشأة إمارة قطر

وقعت منطقة الخليج العربي منذ بداية القرن السادس عشر الميلادي تحت تأثير الصّراع، والتّنافس الدائر بين القوى الأوروبيّة في المنطقة؛ بهدف السيطرة عليها واستعمارها، ثم لم يلبث أن اختفى تأثير هذه القوى باستثناء بريطانيا، التي تمكّنت من عقد معاهدات حماية مع إمارات الخليج العربي، كما تأثرت المنطقة أيضاً بالصراعات القبليّة فيما بينها؛ حيث حاولت كل قبيلة فرض سيطرتها على بقية القبائل.

في ضوء ذلك:

- استنتج نظام الحكم السائد في دولة قطر قبل نشأة الإمارة.



فكّر وأجب

⦿ أولاً: الأوضاع السياسية في قطر قبل نشأة الإمارة:

مفاهيم أتعلّمها:

النظام السياسي القبلي:
يعني أن يكون لكل قبيلة
رئيس يُسمّى الأمير
أو الشيخ، يدير شؤون
القبيلة، وترجع إليه كلمة
الفصل في جميع أمورها.

تأثرت قطر بحركة انتقال القبائل العربية في شبه الجزيرة العربية؛ إذ توافدت القبائل العربية إليها، وخاصةً في أوائل القرن السابع عشر الميلادي، وذلك تحت تأثير صعوبة الأوضاع الاقتصادية والمعيشية، خاصةً مع انتشار القحط والجفاف في منطقة نجد.

ساد **النظام القبلي** في معظم أنحاء شبه الجزيرة العربية؛ حيث كانت كل قبيلة تمثّل مجموعة بشرية يتزعمها شيخ، ولم تجتمع القبائل في ظل نظام سياسي موحد.

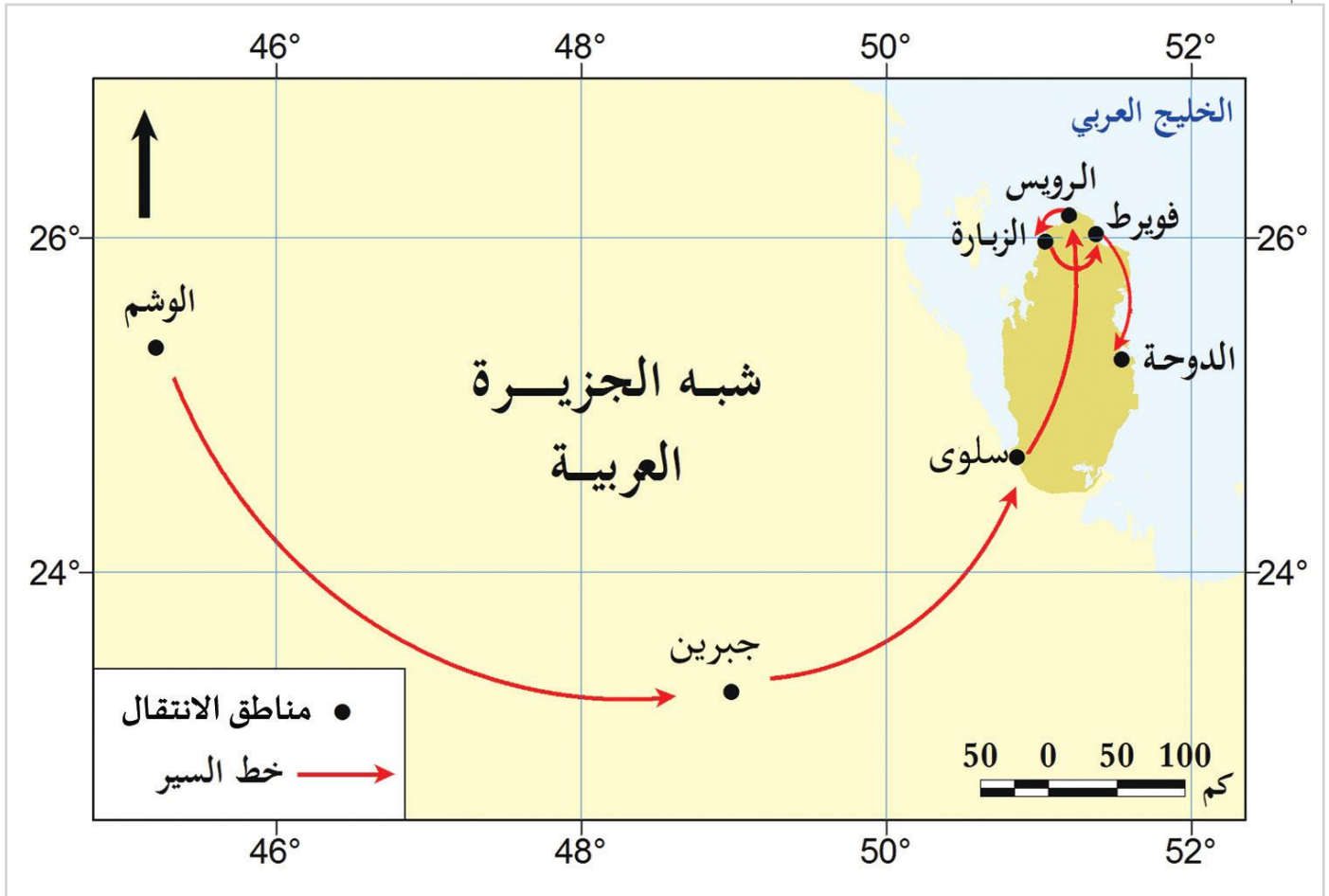
- برأيك، ما النتائج السياسية التي ترتبت على هذا النظام القبلي؟



ثانيًا: ظهور أسرة آل ثاني:

يرتبط تاريخ قطر الحديث في مطلع القرن الثامن عشر الميلادي بوصول أسرة

آل ثاني إلى قطر، والتي يرجع نسبها إلى قبيلة بني تميم.



شكل (1) خريطة خط سير أسرة آل ثاني

من دراستك للخريطة السابقة تتبع خط سير أسرة آل ثاني من منطقة نجد إلى قطر.

هاجرت أسرة آل ثاني من أشيقر بمنطقة الوشم في نجد، واستقروا في واحة جبرين، وتابعوا رحلتهم منها إلى جنوب قطر، ثم انتقلوا إلى شمالها؛ حيث أقاموا في الرويس، ومنها إلى الزبارة؛ حيث وُلِد فيها الشيخ ثاني جد الأسرة، وفويرط التي اتخذوها مقرًا لهم، حتى تولى الشيخ محمد بن ثاني زعامة الأسرة بعد وفاة والده، والذي انتقل وأسرته إلى الدوحة.

وقد اشتهرت أسرة آل ثاني بهذا الاسم نسبة إلى جد الأسرة الشيخ ثاني بن محمد، والذي اشتهر بتجارة اللؤلؤ؛ مما ساعدته على تكوين ثروة كبيرة، وكان يتمتع بمكانة اجتماعية مرموقة جعلت القبائل القطرية تلتف حولهم.

لم تكن القبائل التي استقرت في قطر حتى أواسط القرن التاسع عشر في وضع سياسي متماسك يساعدها على إقامة إمارة، إلا أن قوة أسرة آل ثاني نمت في هذه الفترة، وازدادت ثرواتهم من خلال عملهم بتجارة اللؤلؤ، وتعرّز مركزهم الاجتماعي والمالي بين قبائل قطر، فالتفت القبائل حولهم، وبدأت تبشير ميلاد نظام سياسي جديد يجمع بين القطريين ويوحدهم.

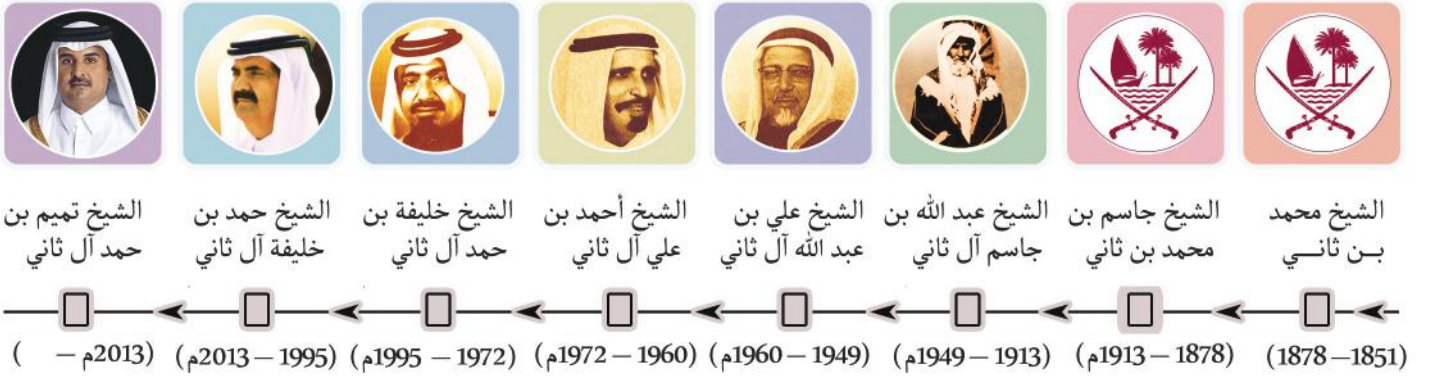
قيم أتعلمها:

كن مثابراً، وتخطّ عقبات الحياة؛ لتحقيق طموحاتك كما حقّقها أسرة آل ثاني بعد انتقالها إلى قطر.

من خلال المصادر التاريخية المختلفة ابحث عن مكانة مدينة الزبارة منذ القدم، وقدم عرضاً موجزاً عنها أمام زملائك.



الخط الزمني لحكام أسرة آل ثاني:



1 - اذكر اسم الحاكم الذي حكم قطر لأطول فترة زمنية.

2 - من هو الحاكم الذي تقع فترة حكمه بين القرن العشرين والقرن الحادي والعشرين؟



ثالثاً: الشيخ محمد بن ثاني (1851 - 1878) ونشأة الإمارة:

وُلد الشيخ محمد بن ثاني أثناء إقامة أسرة آل ثاني في فويرط شمال شرق قطر، في حدود سنة 1776م، وقد تزعم أسرته بعد وفاة والده في فويرط، ثم ارتحل بهم إلى الدوحة عام 1848م، واستقروا بها. اشتهر الشيخ محمد بن ثاني بالعديد من الصفات التي أسهمت في نجاحه في جمع القبائل القطرية في وحدة واحدة، ذكرها الرَّحالة "بلجريف" الذي زار قطر عام 1863م؛ منها: الفطنة والطيبة والتدين، كما أنه مساوم بارع، لديه **وقت للمطالعة**؛ وهذا ساعده على توسيع آفاقه الدينيّة، ومعرفته بالشعر.

قيمُ اتعلمها:

أحرص على الاطلاع
والقراءة المستمرة، فهي
تعزز التعلم الذاتي،
ومصدر لنمو شخصيتك.

تمتّع الشيخ محمد بن ثاني باحترام القبائل القطرية، ولُقّب بشيخ الدوحة؛ بسبب حكمته في التعامل مع مختلف المشكلات، وحرصه على حماية ممتلكات القطريين وأرزاقهم من الغوص وتجارة اللؤلؤ.



نمت قوة آل ثاني واتسعت ثروتهم من تجارة اللؤلؤ في أواسط القرن التاسع عشر

- من خلال ما سبق استخلص العوامل التي ساعدت الشيخ محمد بن ثاني على توحيد القبائل القطرية.




جهود الشيخ محمد بن ثاني في تأسيس إمارة قطر:

1 - على المستوى الداخلي:

نجح الشيخ محمد بن ثاني בזكاء شديد في أن يوحّد القبائل القطرية بعد فترة من الاضطرابات شهّدتها البلاد، كما أنه استطاع أن يوطّد مركزه في قطر، سواء على المستوى الدولي أو الإقليمي.

2 - على المستوى الخارجي:

شهدت منطقة الخليج العربي في الفترة الممتدة ما بين عام 1851م وحتى 1868م العديد من الصراعات والمنازعات، فتدخلت بريطانيا لتحقيق استتباب الأمن في المنطقة، وانتهى الأمر بتوقيع الشيخ محمد بن ثاني على اتفاقية 12 سبتمبر 1868م مع بريطانيا (ووقع نيابة عنها المقيم البريطاني في الخليج العربي الكولونيل لويس بيلي).



السير لويس بيلي

وقد تضمنت المعاهدة بعض النقاط الهامة منها:

- 1 - المحافظة على الأمن والسلام والاستقرار في البلاد.
- 2 - المحافظة على السلام البحري وعدم الإبحار بغرض عدواني.
- 3 - الرجوع إلى بريطانيا لفض المنازعات التي قد تحدث في المنطقة، وإقامة علاقات طيبة مع شيوخ المنطقة.

أضف معلوماً تَك:

السير بيلي:
يُعدُّ السير لويس بيلي شخصية رئيسة في تاريخ الخليج؛ حيث كان يمثل - باعتباره المقيم السياسي- أهم مسؤول بريطاني في المنطقة منذ سنة 1862م حتى سنة 1873م، وهو يتمتع بأهمية خاصة بالنسبة لدولة قطر؛ نظراً لإقراره بسيادتها المستقلة في 1868م.

أدخلت معاهدة 1868م قطر ضمن سلسلة معاهدات السلام البحري 1820م، والهدنة البحرية 1835م التي وقَّعتها إمارات الخليج العربي مع الحكومة البريطانية؛ مما يعني اعتبارها إمارة مستقلة، كما وقَّعها الشيخ محمد بن ثاني باعتباره "شيخاً لقطر"؛ لذلك اعتبر المؤرخون أن قطر منذ هذه الفترة ظهرت ككيان سياسي مستقل، وبداية حكم أسرة آل ثاني باعتبارهم حكاماً على قطر.

وضّح وجهة نظرك في بنود المعاهدة السابقة.



حلّل وانقد

وفي عام 1871م وصلت الحامية العسكرية العثمانية إلى قطر، وبذلك أصبحت قطر تحت الحماية العثمانية لمواجهة الأطماع البريطانية.
وتوفي الشيخ محمد بن ثاني في يوم 18 من ديسمبر 1878م.

برزت قدرات الشيخ محمد بن ثاني السياسية في علاقاته الخارجية.
دّل على صحة ذلك.



فكّر وأجب



الأنشطة والتدريبات

أولاً: الأنشطة

النشاط الأول: شارك زملاءك، وصمّم عرضاً تقديمياً حول الشيخ محمد بن ثاني، مبيناً جهوده في إنشاء إمارة قطر مع الأعمال التي قام بها، واعرض الكلمة في الصف.

النشاط الثاني:

يقول الرحالة (بلجريف) الذي زار قطر عام 1863 م عن الشيخ محمد بن ثاني: هو رجل مُسنٌّ ذكي ماهر، مشهورٌ بالفطنة والطباع الطيبة، ولكنه شديد الحذر، سريع البديهة، ذو روح مَرِحَةٍ، ومتساهلٌ في مَسْلَكِهِ، إلا أنه مساومٌ بارع، كرّس وقته للمطالعة الشديدة، ووسّع آفاقه الأدبية ومعرفته بالشعر، وكان يطيّب له كثيراً مناقشة مثل هذه المواضيع.

ويصف الرحالة علاقات سكان قطر:

ليس لدى السكان ما يخافونه، بعضهم من بعض، فهم - وقد شغلهم أعمالهم عن الحرب - يعيشون في انسجام هادئ لا يحتاجون معه إلى أجهزة الحكومة الاعتيادية، والواقع أن ثمة اعترافاً عاماً بحاكم البدع (الدوحة) محمد بن ثاني باعتباره رئيساً للإقليم بأسره.

من خلال النص التاريخي أجب عن الأسئلة الآتية:

- استخلص الصفات التي تميز بها الشيخ محمد بن ثاني.

- ما السمات التي تميز بها المجتمع القطري في ذلك الوقت؟

- برأيك، ما هي مظاهر الاختلاف بين المجتمع القطري في ذلك الوقت والمجتمع في عصرنا الحالي؟



الأنشطة والتدريبات

السؤال الأول: اختر الإجابة الصحيحة من بين البدائل:

ثانيًا:

التدريبات

1- هاجرت القبائل العربية منذ أوائل القرن السابع عشر الميلادي من منطقة نجد بسبب:

- أ- سياسة توطين البدو.
- ب- وفرة المراعي الطبيعية.
- ج- انتشار الجفاف والقحط.
- د- ظهور قوة آل سعود في المنطقة.

2- انتقلت أسرة آل ثاني من منطقة سلوى إلى قطر، وأول منطقة توجهوا إليها هي:

- أ- الرويس.
- ب- فويرط.
- ج- الزبارة.
- د- الدوحة.

3- استقرت أسرة آل ثاني عام 1848م في مدينة:

- أ- الزبارة.
- ب- الرويس.
- ج- الدوحة.
- د - فويرط.

4 - أُطلق لقب "شيخ الدوحة" عام 1863م على الشيخ:

- أ- ثاني بن محمد.
- ب- محمد بن ثاني.
- ج- جاسم بن محمد بن ثاني.
- د - أحمد بن محمد بن ثاني.

5- وُلد الشيخ محمد بن ثاني في حدود عام 1776م في:

- أ- فويرط.
- ب- الرويس.
- ج- الزبارة.
- د- زكريت.



الأنشطة والتدريبات

6- حصلت دولة قطر على اعتراف بريطانيا بها كإمارة مستقلة عام:

- أ- 1968 م. ب- 1868 م.
ج- 1871 م. د- 1835 م.

7- حدّد الترتيب الصحيح لحكام أسرة آل ثاني من الأقدم إلى الأحدث:

- أ- الشيخ علي بن عبد الله آل ثاني – الشيخ جاسم بن محمد بن ثاني
– الشيخ خليفة بن حمد آل ثاني.
ب- الشيخ خليفة بن حمد آل ثاني – الشيخ علي بن عبد الله آل ثاني
– الشيخ جاسم بن محمد بن ثاني.
ج- الشيخ جاسم بن محمد بن ثاني – الشيخ خليفة بن حمد آل ثاني
– الشيخ علي بن عبد الله آل ثاني.
د- الشيخ جاسم بن محمد بن ثاني – الشيخ علي بن عبد الله آل ثاني
– الشيخ خليفة بن حمد آل ثاني.

8- وقّع الشيخ محمد بن ثاني اتفاقية سبتمبر عام 1868 م مع:

- أ- فرنسا. ب- بريطانيا.
ج- البرتغال. د- الدولة العثمانية.



الأنشطة والتدريبات

السؤال الثاني: بم تفسّر:

1 - هجرة بعض القبائل العربية في أوائل القرن السابع عشر إلى قطر؟

.....

2 - عقد بريطانيا اتفاقية 1868م مع الشيخ محمد بن ثاني؟

.....

3- لُقّب الشيخ محمد بن ثاني بشيخ الدوحة؟

.....

السؤال الثالث: أجب عن الأسئلة الآتية:

1 - كيف كانت الأوضاع السياسية في شبه جزيرة قطر قبل مجيء أسرة آل ثاني؟

.....

.....

2 - اذكر أهم ما تضمنته اتفاقية 1868م التي وقّعها الشيخ محمد بن ثاني مع بريطانيا.

.....

.....

3 - ما النتائج المترتبة على توقيع قطر اتفاقية 1868م؟

.....

.....



الأنشطة والتدريبات

السؤال الرابع:

أ- أثبت بالأدلة صحة العبارة الآتية:

- "تأثرت قطر بحركة انتقال القبائل العربية في شبه الجزيرة العربية".

ب- ما الدروس المستفادة من حياة الشيخ محمد بن ثاني؟

الدَّرْس الثاني :

الشيخ جاسم بن محمد بن ثاني وتأسيس إمارة قطر



الشيخ جاسم بن محمد بن ثاني وتأسيس إمارة قطر

أفاضت المصادر التاريخية في الحديث عن الشيخ جاسم بن محمد بن ثاني؛ فيروي الرَّحالة البريطاني ولیم بلجريف الذي زار قطر عام 1863م، أنه عندما التقى الشيخ جاسمًا لاحظ في الرجال الذين كانوا يلتفون حوله أنهم يحيطونه برابط متين من الألفة، رغم تنوع قبائلهم. وتُظهر هذه الشهادة بجلاء طبيعة العلاقة التي كانت تربطه وأبناء قطر، وتبين قوة تأثير شخصية الشيخ جاسم في أبناء القبائل القطرية.

تُظهر شهادة الرحالة ولیم بلجريف طبيعة العلاقة التي كانت تربط الشيخ جاسم بأبناء قطر. وضح ذلك.



فكر وأجب

ويلومني العذال على مطلب العُلا
ويلومني من لا هواي هواه
وحن كعبة المضيوم إلى ما وزابنا
نجيره ولا نرضى بغير رضاه
وكم قد دهتنا من خطوب ملمة
ولا لينت منا صليب قناة
صبرنا على صكات بقعا فعاننا
إله علا من فوق عرش سماه
شابت عوارضنا وجهلت قلوبنا
ولا شايب إلا من يشيب نباه
على نصر مظلوم وعلى قمع ظالم
ومقام حق في رضا الإله

من أشعار الشيخ جاسم

وُلد الشيخ جاسم بن محمد بن ثاني في حدود عام 1827م، حيث نشأ في فويرط، وتعلم بها القرآن وعلومه، والفقه، والشريعة، وآداب الفروسية، ومهارات الصيد والقنص.

لازم أباه - الشيخ محمد بن ثاني - في كل تجاربه السياسية؛ فتبلورت شخصيته القيادية منذ عهد مبكر، حتى أصبح قائدًا عسكريًا، وقاضيًا ومفتيًا، كما كان فارسًا شاعرًا، وصاحب نخوة وشهامة، وخاض حروبًا عديدة للدفاع عن قطر، ولم تُنهِه المخاطر عن اقتحام الصّعاب ورّدع الظلم ونُصرة المظلوم؛ فمهدت له هذه الصفات أن يكون مؤسس "قطر" وبانيها.

- أسهم وجود الشيخ جاسم بن محمد بن ثاني بجوار والده الشيخ محمد بن ثاني في تشكيل شخصيته، وضح ذلك.



"كان الشيخ جاسم بن محمد بن ثاني يلقي الدروس في القوم والخطب النافعة، وعقب كل صلاة جمعة يلقي درسًا لطيفًا يحضُّ به على طلب العلم والسعي إليه، ويحضُّ به على الأمر بالمعروف والنهي عن المنكر، والعمل بأحكام الدين والجهاد والزكاة".

سليمان الدخيل: تحفة الألباء في تاريخ الأحساء ص. 86

اشتهر الشيخ جاسم بن محمد بن ثاني بتدينه وحبه للعلم، دَلِّل على ذلك.



تولية الشيخ جاسم بن محمد بن ثاني الحكم:

توفي الشيخ محمد بن ثاني في 18 ديسمبر من عام 1878م، وتولى الشيخ جاسم بن محمد بن ثاني الحكم في قطر 18 ديسمبر من عام 1878م. (ذكرى اليوم الوطني لدولة قطر). واكتسب الشيخ جاسم بن محمد بن ثاني خبرة واسعة في إدارة شؤون البلاد من خلال مشاركته لوالده منذ حداثة سنّه، ونجح في إدارتها بحكمة في ظل متغيرات كثيرة بالمنطقة، ويُعدُّ ذلك بداية لتأسيس دولة قطر، حيث عمل على تعزيز الاستقلالية من خلال سعيه للحصول على اعتراف كلٍّ من بريطانيا والدولة العثمانية باستقلالها.

قيمُ اتعلمها:

احرص على المشاركة في الاحتفال باليوم الوطني، فهي من مظاهر الولاء والانتماء للوطن.

أجمعت القبائل القطرية على تأييد الشيخ جاسم بن محمد بن ثاني شيخًا على قطر، ما تفسرك لذلك؟



الصعوبات والتحديات التي واجهت الشيخ جاسم بن محمد بن ثاني:

اعترضت الشيخ جاسم بن محمد بن ثاني عدة صعوبات وتحديات منذ توليه الحكم، ومنها:

- 1 - زيادة الأطماع البريطانية للسيطرة على قطر.
- 2 - تعرّض سواحل قطر لعمليات القرصنة البحرية.
- 3 - قلة الموارد الطبيعية في قطر؛ مما أدى إلى صعوبة الأحوال الاقتصادية والاجتماعية.

الشيخ جاسم بن محمد بن ثاني وسياسته الداخلية:

نجح الشيخ جاسم بن محمد بن ثاني في النهوض بإمارة قطر على المستوى الداخلي من خلال أعماله الآتية:

قيمُ أتعلّمها:

أحرص على الوحدة مع أبناء الوطن، فهي أساس البقاء وضمان الاستقرار.

- 1 - تعميق الانتماء الوطني، والتأكيد على أهمية التلاحم والتآلف بين القبائل القطرية؛ للوقوف معاً في مواجهة التحديات والأطماع الخارجية.
- 2 - الاهتمام بالتعليم، فأنشأ الكتاتيب وجلب الفقهاء، كما اهتم بإعمار المساجد.
- 3 - قام بتطوير موانئ الدوحة والزبارة، وعمل على بناء السفن.
- 4 - تعزيز تجارة اللؤلؤ في المنطقة، وأصبحت الدوحة مركزاً لتجارته.
- 5 - وطّد علاقات قطر التجارية مع المناطق المجاورة، فتوفّرت فرص العمل، وتحسّنت ظروف الحياة، وتوسّع العمران وازداد عدد السكان.

الغواصون في مهمة بحث عن اللؤلؤ بالخليج العربي بعدسة: جورج فريدريك كونز، كتاب اللؤلؤ (نيويورك/ دار سنشري)



- إلى أي مدى يتشابه موقف الشعب القطري مع الشيخ جاسم بن محمد بن ثاني مع موقفه مع سمو أمير البلاد الشيخ تميم بن حمد آل ثاني في ظل الأزمه الخليجيه التي بدأت منذ عام 2017؟

- ما الأفكار المبتكرة التي استخدمها الشيخ جاسم بن محمد بن ثاني لمواجهة الصعوبات الاقتصادية والاجتماعية؟



قيم أتعلّمها:

شجّع الأفكار المبتكرة
والمشروعات الجديدة
لمواجهة التحديات.

الشيخ جاسم بن محمد بن ثاني وسياسته الخارجية:

أولاً: العلاقات العثمانية القطرية:

كان الشيخ جاسم بن محمد بن ثاني نصيراً قوياً للخلافة العثمانية، ومن أكثر زعماء الخليج العربي دفاعاً عنها، رغم كل الضغوط التي واجهته من بريطانيا. أرسل الشيخ جاسم بن محمد بن ثاني نيابة عن والده الشيخ محمد بن ثاني رسالةً إلى القائد العثماني محمد نافذ باشا (متصرف منطقة الأحساء)، تضمّنت تأييد إمارة قطر بالسيادة العثمانية، مطالباً أن تُمدّه بقوة عسكرية.

أسباب ترحيب الشيخ جاسم بن محمد بن ثاني بالعثمانيين:

- 1 - رغبته في توطيد جبهته الداخلية وحماية إمارته من عمليات الإغارة والسلب من خارج الإمارة.
 - 2 - توفير الأمن والحماية لتجارة اللؤلؤ والعاملين فيها، والتي تمثّل العمود الفقري لاقتصاد البلاد.
 - 3 - دعم قطر في مواجهة الضغوط البريطانية، والتي شكّلت ضغطاً عليها منذ اتفاقية 1868م.
- وصلت الحامية العسكرية العثمانية إلى الدوحة عام 1871م، فخرج الشيخ جاسم بن محمد بن ثاني لاستقبالها والترحيب بها، بل ورَفَعَ بنفسه العلم العثماني على قصره بالبدع في الدوحة؛ انسجاماً مع موقفه المؤيّد للخلافة العثمانية.

أعلن قائد الحامية العثمانية في قطر عن مجموعة من الإجراءات، وشملت هذه الإجراءات ما يأتي:

مفاهيم أتعلمها

قائمقام:

منصب سياسي يعني نائب الحاكم.

1 - إعفاء قطر من دفع أي ضرائب.

2 - تعيين الشيخ جاسم بن محمد بن ثاني قائمقام على قطر.

3 - إقامة قوة عسكرية عثمانية في البدع، كرمز للسيادة العثمانية، وتتولى الدفاع عن قطر ضد أي عدوان خارجي.

ومنذ ذلك التاريخ أصبحت قطر تحت الحماية العثمانية، وفيها إدارة

عثمانية على رأسها الشيخ جاسم بن محمد بن ثاني قائمقام، وخلال هذه الفترة لم يتدخل العثمانيون بشكل كبير في شؤون قطر الداخلية، وترك العثمانيون إدارة شؤون البلاد الداخلية إلى الشيخ محمد بن ثاني وابنه، وأصبح على العثمانيين حماية قطر من أي أخطار قد تتعرض لها من الخارج.

- بم تفسّر ترحيب الشيخ جاسم بوصول الحامية العثمانية إلى الدوحة؟



اقرأ واستنتج

معركة الوجبة عام 1893م:

على الرغم من هذه العلاقة الطيبة بين الشيخ جاسم بن محمد بن ثاني والخلافة العثمانية، إلا أنه رفض بشكل قاطع إصرار العثمانيين على التدخل المباشر في الشؤون الداخلية لقطر، أو المساس بمصالح البلاد وأهلها، الأمر الذي أدى في نهاية المطاف إلى مواجهة عسكرية بين الطرفين. وتمثلت في معركة الوجبة، وكانت الدولة العثمانية قد قدّمت مقترحات للشيخ جاسم بن محمد بن ثاني وهي (الأسباب غير المباشرة لمعركة الوجبة):

1 - زيادة أعداد الحامية العسكرية العثمانية في البلاد.

2 - فرض ضرائب باهظة على تجارة اللؤلؤ.

3 - فتح مكتبين للجمارك في منطقتي "الزبارة والعديد"، وإعادة إعمارهما.

4 - محاولة تعيين وكيل عثماني للشيخ جاسم بن محمد بن ثاني.

وكان موقف الشيخ جاسم رفض المقترحات بالكامل؛ لأنها ستُضعف من هيئته، وتقلص سلطته، كما أنها ستحرم البلاد من أحد مصادرها الأساسية وهي الجمارك، وأن فرض رسوم على دخل اللؤلؤ سيؤدي إلى هجرة السكان من البلاد.

- فسّر من وجهة نظرك، لماذا تُقدّم الدولة العثمانية على هذه الإجراءات؟

- هل توافق على مبررات الشيخ جاسم بن محمد بن ثاني؟ ولماذا؟

زاد الخلاف بين قطر والدولة العثمانية، وانتهى باعتقال الشيخ أحمد بن محمد بن ثاني و16 من أعيان الدوحة، الأمر الذي أدّى إلى انفجار الموقف بين الشيخ جاسم والوالي العثماني (السبب المباشر لمعركة الوجبة).

أحداث المعركة:

توحّدت القبائل القطرية بزعامة الشيخ جاسم بن محمد بن ثاني الذي اتخذ قرار المواجهة العسكرية، بينما تحركت القوة العثمانية من منطقة الإحساء إلى الوجبة الواقعة على بُعد مسافة 15 كم غربي الدوحة لقتال الشيخ جاسم بن محمد بن ثاني.

كانت خطة الشيخ جاسم بن محمد بن ثاني عندما علم باعتقال أخيه أن يوهّم العثمانيين أنه ترك الدوحة وقام بتسريح قواته، لكنه في الحقيقة قام بتوزيعها على عدة كمائن، كما أنه سيطر على آبار المياه.

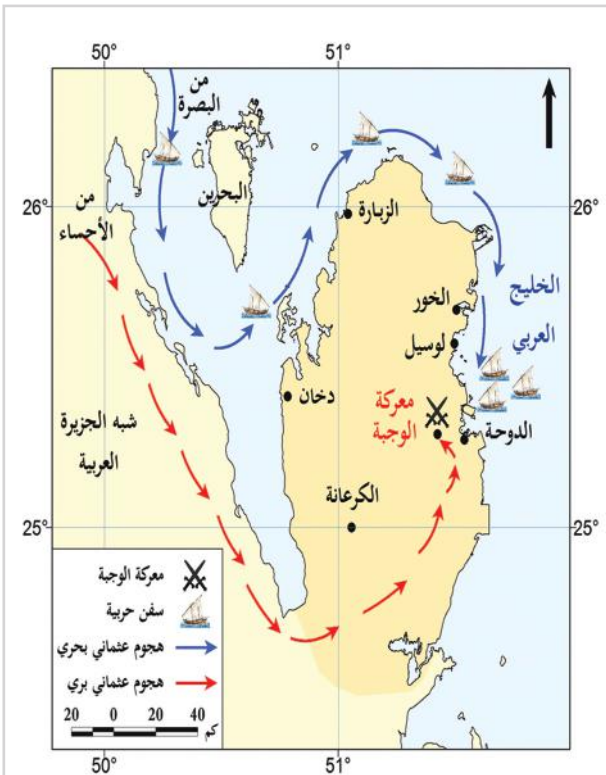
استدرج الشيخ جاسم بن محمد بن ثاني القوات العثمانية حتى منطقة الوجبة، وهزمهم ملحّقًا بقواتهم خسائر كبيرة. وانسحبت بقية القوات العثمانية إلى قلعتهم في الدوحة، فحاصَرهم الشيخ جاسم بن محمد بن ثاني وقواته؛ مما اضطرَّهم إلى التفاوض.

دليل على

عبقريّة

الشيخ جاسم

العسكرية



شكل (1) خريطة معركة الوجبة

مهارة اتخاذ القرار:

- 1 - تحديد المشكلة وتشخيصها.
- 2 - جمع البيانات والبدائل.
- 3 - تقييم البدائل واختيار أفضلها.
- 4 - تنفيذ القرار.



كيف طبّق الشيخ جاسم بن محمد بن ثاني مهارات اتخاذ القرار في معركة الوجبة؟

نتائج المعركة:

شكلت معركة الوجبة علامة بارزة في تاريخ قطر، وبرّز الشيخ جاسم بن محمد بن ثاني بعدها كشخصية هامة في الخليج، له ثقله السياسي إقليمياً، وكان من أبرز نتائجهما:

1. انتصار القطريين بقيادة الشيخ جاسم بن محمد بن ثاني على القوات العثمانية ومقتل قائدهم.
2. إطلاق الوالي العثماني لولاية البصرة سراح الشيخ أحمد بن محمد بن ثاني ومن معه بعد أن رَفَضَ الشيخ جاسم التفاوض معه إلا بعد إطلاق سراحهم.
3. سَحَب جميع القوات العثمانية التي حضرت مع الوالي العثماني إلى الإحساء.
4. عزل السلطان عبد الحميد الثاني الوالي العثماني، وأرسل إلى قطر مندوباً عنه لتسوية الخلاف بين الدولة العثمانية والشيخ جاسم الذي استقبله بكل مودة وترحيب.



السلطان عبد الحميد الثاني

هو السلطان الرابع والثلاثون من سلاطين الدولة العثمانية. تولى عرش الدولة العثمانية في الفترة من عام 1876م حتى عام 1909م

وضّح أهمية معركة الوجبة بالنسبة للقطريين .

ما رأيك في موقف السلطان العثماني عبد الحميد الثاني؟



ثانياً: العلاقات القطرية البريطانية:

اتَّسَمَت العلاقات القطرية البريطانية بالتوتر منذ بداية تولي الشيخ جاسم بن محمد بن ثاني الحكم؛ وذلك لأسباب عديدة منها:

- 1 - رفض الشيخ جاسم بن محمد بن ثاني الضغوط التي مارسها بريطانيا من أجل توقيعها على معاهدة الحماية البريطانية على قطر كبقية إمارات الخليج في ذلك الوقت.
- 2 - اختلاق بريطانيا للمشكلات أمام الشيخ جاسم بن محمد بن ثاني مثل مشاكل الرعايا الهنود البريطانيين وتعويضاتهم عن الأضرار التي يتعرضون لها على سواحل قطر.

بالاستعانة بمكتبة قطر الوطنية، اكتب بحثاً تاريخياً توضِّح فيه تطوُّر العلاقة القطرية البريطانية منذ تأسيس الإمارة عام 1868م وحتى 1913م.



وفاة الشيخ جاسم بن محمد بن ثاني:

ظل الشيخ جاسم بن محمد بن ثاني على ولائه للخلافة العثمانية، ومحافظاً على استقلال بلاده من التدخل الأجنبي من أي جهة حتى وفاته عام 1913م. وخلفه في الحكم ابنه الشيخ عبد الله بن جاسم آل ثاني.

يقول الدكتور إبراهيم شهاد في دراسة تحليلية بعنوان:

"جاسم الكبير وسياسته في فرض الشخصية الاستقلالية لإمارة قطر".

بعد هدوء عاصفة موافقة الشيخ جاسم بن محمد بن ثاني الدخول تحت مظلة حكم الدولة العثمانية التي أثارها بريطانيا، بدأ الشيخ جاسم بن محمد بن ثاني تفعيل سياسته التي كانت تهدف إلى ترسيخ الشخصية القطرية لإمارته، مستهلاً في تحقيق ذلك بما يلي:

- سياسة التخلص من تبعات معاهدة 1868م؛ إذ بدأ بالتبرؤ منها، وقرّر التخلص من دفع الضريبة المفروضة على إمارته؛ إذ كان يرى في تلك الضرائب انتقاصاً من شخصية قطر الاستقلالية.

- إصراره على تحرير الاقتصاد القطري، وحمايته من تدخّل ونفوذ رعايا دول أخرى، وخاصة رعايا بريطانيا، بسبب منافسة هؤلاء التجار للسكان المحليين في حرفة الغوص على اللؤلؤ التي كانت تمثّل الحرفة ووسيلة العيش الرئيسة للقطريين.

- ترسيخ السيادة القطرية على جميع أراضيها من أجل مواجهة ادعاءات الآخرين بأن لهم نفوذاً فيها؛ فعمل الشيخ "جاسم" على إعادة النشاط إلى ميناء "الزبارة".

- رفض طلب السلطات البريطانية إسكان بعض الأهالي غير التابعين له؛ لإدراكه التام أنه في حال الموافقة على ذلك سيضر بالتركيب السكاني في "الزبارة"، ومع مرور الوقت يتحول القطريون إلى أقلية.

- رفضه، وبإصرار، لجميع محاولات الدولة العثمانية فرض هيمنتها الإدارية والسياسية على "قطر".



كيف سعى الشيخ جاسم بن محمد بن ثاني لحماية الاقتصاد القطري؟

ما موقف الشيخ جاسم بن محمد بن ثاني من معاهدة 1868م؟

ما الطرق التي استخدمها الشيخ جاسم بن محمد بن ثاني لتحقيق التوازن في علاقته مع كل من العثمانيين والسلطات البريطانية؟



الأنشطة والتدريبات

أولاً: الأنشطة

النشاط الأول: ابحث ولخص

من خلال موقع "الديوان الاميري" <https://www.diwan.gov.qa>

- ابحث عن شخصية الشيخ جاسم بن محمد بن ثاني
- لخص أهم الأفكار التي أعجبتك في شخصية الشيخ جاسم بن محمد بن ثاني.
- صمم الملخص في عرض تقديمي.
- قم بإلقاء الملخص على زملائك في الصف.

النشاط الثاني: شارك مجموعتك في كتابة بحث عن الشيخ جاسم بن محمد بن ثاني

موضحاً الجهود التي قام بها في سبيل تأسيس إمارة قطر طبقاً للإجراءات التالية:

- استخدام مصادر متعددة في كتابة البحث.
- تقوم المجموعة المشاركة بتصميم ملخص للبحث ونتائجه من خلال برنامج العرض التقديمي.
- إلقاء أحد أفراد المجموعة للبحث أمام زملائه.



الأنشطة والتدريبات

السؤال الأول: اختر الإجابة الصحيحة من بين البدائل:

ثانيًا: التدريبات

- 1- نشأ الشيخ جاسم بن محمد بن ثاني في مدينة:
 - أ- الزبارة.
 - ب- الرويس.
 - ج- الدوحة.
 - د- فويرط.
- 2- وقعت معركة الوجبة عام 1893 م في غرب:
 - أ- الزبارة.
 - ب- الرويس.
 - ج- الدوحة.
 - د- فويرط.
- 3- من الصعوبات التي واجهت الشيخ جاسم بن محمد بن ثاني:
 - أ- كساد تجارة اللؤلؤ.
 - ب- الأطماع العثمانية.
 - ج- الأطماع البريطانية.
 - د- تجارة الرقيق.
- 4- من أسباب ترحيب الشيخ جاسم بن محمد بالعثمانيين عام 1871 م:
 - أ- نشاط تجارة السلاح في قطر.
 - ب- توفير الأمن والحماية لتجارة اللؤلؤ.
 - ج- ازدياد نشاط القرصنة على سواحل قطر.
 - د- زيادة اعداد الحامية العسكرية في البلاد.
- 5- تكمن أهمية معركة الوجبة التاريخية في أنها:
 - أ- ساعدت على التقارب البريطاني القطري.
 - ب- شجعت على هجرة القبائل العربية إلى قطر.
 - ج- فرضت الانسحاب العسكري العثماني من قطر.
 - د- وضعت حداً لمحاولات تزايد النفوذ العثماني في قطر.



الأنشطة والتدريبات

6- رَفَع العلم العثماني سنة 1871م على قصر الحكم في الدوحة دليلٌ على:

- أ- زيارة الوالي العثماني لقطر.
- ب- احتلال الدولة العثمانية لإمارة قطر.
- ج- انتصار العثمانيين في معركة الوجبة.
- د- أصبحت قطر تحت الحماية العثمانية.

السؤال الثاني: بم تفسّر:

1- توتّر العلاقة بين الشيخ جاسم بن محمد بن ثاني والدولة العثمانية قبيل وقوع معركة الوجبة؟

2- توتّر العلاقات القطرية البريطانية عند تولي الشيخ جاسم بن محمد بن ثاني مقاليد الحكم؟

السؤال الثالث: أجب عن الأسئلة الآتية:

1- عِدّد التحديات التي واجهت الشيخ جاسم بن محمد بن ثاني عند توليه الحكم.

2- كيف نهض الشيخ جاسم بن محمد بن ثاني بإمارة قطر داخلياً؟



الأنشطة والتدريبات

3- دَلِّل على خبرة الشيخ جاسم بن محمد بن ثاني العسكرية.

.....

.....

4 - ما النتائج التي تَرَبَّت على معركة الوجبة؟

.....

.....

5 - ما المقصود بقائمقام؟

.....

.....

6 - وضح الأسباب غير المباشرة لمعركة الوجبة؟

.....

.....

السؤال الرابع: رتب الأحداث التاريخية لمعركة الوجبة عام 1893م حسب

تسلسلها الزمني من الأقدم إلى الأحدث:

(عزل السلطان العثماني والي البصرة - حُجز الشيخ أحمد شقيق الشيخ

جاسم بن محمد بن ثاني - محاولة تعيين مساعدٍ عثماني للشيخ جاسم بن

محمد بن ثاني - انتصار القطريين على العثمانيين)

.....

.....

.....

.....

.....



الأنشطة والتدريبات

السؤال الخامس: ماذا يحدث لو:

1 - قبل الشيخ جاسم بن محمد بن ثاني مقترحات الدولة العثمانية؟

.....

.....

السؤال السادس: ما الدروس المستفادة من انتصار القطريين في معركة

الوجبة؟

.....

.....

.....

.....

.....

الهوية الوطنية والتحديات العالمية.

🌐 الدرس الأول: الهوية الوطنية (أبعادها - مقوماتها)

🌐 الدرس الثاني: الهوية الوطنية والعولمة



مهارات التقصي والبحث

- استخلاص المعلومات من أنواع مختلفة من المصادر وتقديم ملخصا لأهم الأفكار.
- توظيف الأدلة والبراهين لإثبات صحة نتائج البحث.
- استخدام مهارات الإلقاء في شرح نتائج البحث.

في نهاية الوحدة سوف تتعلم

- تحليل الابعاد العربية والإسلامية والعالمية للهوية الوطنية باستخدام مواد من الدستور القطري.
- التمسك بثوابت الهوية الوطنية والعربية والإسلامية .
- توضيح الآثار الإيجابية والسلبية للعملة الثقافية في الهوية الوطنية .
- التحقق من مصداقية ما ينشر على شبكات الإنترنت العالمية.
- توظيف مواقع التواصل الاجتماعي بشكل إيجابي في عرض معلوماته وأفكاره، وثقافته الوطنية .
- تحليل دور مؤسسات المجتمع المدني في الحفاظ على التراث الوطني والثقافة القطرية .
- المشاركة في فعاليات مؤسسات المجتمع المدني .
- محاربة الإشاعات المؤثرة في المجتمع القطري
- توضيح أهمية مكافحة الجرائم الإلكترونية في تحقيق الأمن الوطني

الدَّرْسُ الأوَّل

الهُوِيَّةُ الوطنِيَّةُ (أَبْعَادُهَا - مَقُومَاتُهَا)



الهوية الوطنية (أبعادها - مقوماتها)

— إذا طلب منك شخص ملء بطاقة ليتعرّف على هويتك، فماذا تكتب فيها؟

— صمّم بطاقة هوية وتبادلها مع زملائك.



الهوية الوطنية تشمل الخصائص التي تُميّز كل مجتمع عن المجتمع الآخر، ومن خلالها يشعر الشخص بالولاء والانتماء لوطنه، كما أنها تعكس مدى تماسك الشعوب بقيم ومبادئ مجتمعاتهم، وتستند الهوية الوطنية إلى أصول تستمد منها قوتها، وإلى معايير قيمية، ومبادئ أخلاقية، وضوابط

اجتماعية، وغايات سامية، تجعلها مركز قوّة للمجتمع في ظل عصر العولمة الذي نعيشه.

فهيّا بنا نسترجع مفهوم الهوية الوطنية:

مفهوم الهوية الوطنية :



الخصائص والسمات التي يتصف بها كل مجتمع، وتميّزه عن غيره من المجتمعات؛ لتعزيز الانتماء لدى أبنائه الذين يجمعهم الدين واللغة والتاريخ المشترك.

— استنتج المقصود بالهوية الوطنية القطرية.



ومن الجدير بالذكر: أن للهوية الوطنية أبعاداً ودعائم أساسية تركز عليها، ولذلك يمكننا تمييز سمات أهل قطر من خلال انتمائهم العربي والإسلامي.

أبعاد الهوية الوطنية القطرية:

إن أهم الأبعاد التي تشكّل الهوية الوطنية القطرية، وتؤثر في محتواها الفكري والثقافي، وتساعد على تنمية الوعي لأهل قطر هي:

- البعد العربي . - البعد الإسلامي . - البعد العالمي .

أولاً: البعد العربي:



شعار جامعة الدول العربية

هو الوعي بالهوية العربية والارتباط بها، والمحافظة عليها، والاهتمام بكافة قضايا أمتنا العربية في المجالات المختلفة. ولقد انضمت دولة قطر إلى جامعة الدول العربية عام 1971م، وذلك بعد إلغاء الحماية البريطانية، وترجع أهمية جامعة الدول العربية إلى كونها المظلة التي تضم جميع الدول العربية، والراعي الأساسي للهوية العربية.

استعن بالموقع الإلكتروني الرسمي لجامعة الدول العربية، وأجب عما يلي:

– متى أنشئت جامعة الدول العربية؟

.....

– ما دور جامعة الدول العربية في دعم الهوية الوطنية للدول؟

.....

– ما الأنشطة التي تقوم بها جامعة الدول العربية لدعم الهوية الوطنية العربية؟

.....

– أين يوجد مقر جامعة الدول العربية؟

.....



ثانياً: البعد الإسلامي:

أضف معلوماتك:

منظمة التعاون الإسلامي:
تُعدُّ المنظمة ثاني أكبر المنظمات الدولية في العالم بعد منظمة الأمم المتحدة، وهي منظمة دولية تجمع سبعة وخمسين دولة كانت تُعرف سابقاً باسم منظمة المؤتمر الإسلامي، تأسست المنظمة في الرباط في 25 سبتمبر 1969م، بعد حريق المسجد الأقصى، واختيرت مدينة جدة في المملكة العربية السعودية مقراً للمنظمة.

يُقصد به الوعي بقضايا العالم الإسلامي، والمشاركة في السعي إلى حل مشكلاته.

ولقد انضمت دولة قطر إلى منظمة التعاون الإسلامي منذ عام 1972م، ومنذ ذلك الوقت لم تتأخر دولة قطر في تقديم المساعدات الإنسانية للدول المهتدة بالأزمات والصراعات والحروب كما في سوريا والعراق واليمن، وإغاثة الشعب الفلسطيني والصومالي.



منظمة التعاون الإسلامي

شعار منظمة التعاون الإسلامي

ادخل على الموقع الإلكتروني الرسمي لمنظمة التعاون الإسلامي، ثم أجب عن الأسئلة التالية:
- أين يوجد المقر الرسمي لمنظمة التعاون الإسلامي، وكم عدد الدول المشاركة بها؟



- اذكر بعض الأنشطة والقضايا التي تقوم بها المنظمة لدعم الهوية الوطنية الإسلامية.

ثالثاً: البعد العالمي:



هيئة الأمم المتحدة

يُقصد به الوعي بالقضايا والتحديات العالمية، والمشاركة الإيجابية في أنشطة ومجالات التعاون الدولي؛ لدعم قيم العيش المشترك والسلام العالمي.

- يتمثل البعد العالمي في تعزيز دور قطر الدولي من خلال:

1- المشاركة في المحافل والأنشطة العالمية.

قيمُ أتعلمها:

الشراكة والتعايش مع المجتمعات ضرورة هامة لتعميق التفاهم بين الشعوب وتبادل المصالح بين الدول.

2- تكثيف التبادل الثقافي وتعزيزه مع شعوب العالم الأخرى.

3- رعاية حوار الحضارات والتعايش بين الأديان والثقافات الأخرى ودعمه.

4- المساهمة في تحقيق الأمن والسلم العالميين من خلال مبادرات سياسية ومعونات تنموية إنسانية.

عزّزت دولة قطر دورها الإقليمي والدولي من خلال تقديم العديد من المبادرات والمساعدات الإنسانية، منها:

أضف معلوماتك:

صندوق قطر للتنمية هو مؤسسة عامة مكلفة بتنفيذ مشروعات التنمية الخارجية بالإنابة عن دولة قطر، ومنها مبادرة دولة قطر لتعليم وتدريب اللاجئين السوريين (كوليست).

1- مبادرة صاحبة السمو الشيخة موزا بنت ناصر المسند بشأن "حماية التعليم في مناطق النزاعات وانعدام الأمن".

2- مبادرة "صلتك" مبادرة اجتماعية لتوسيع فرص التوظيف والأعمال للشباب في العالم العربي بأكمله.

3- تقديم مساعدات إنسانية وتنموية من خلال صندوق قطر للتنمية وإدارة التعاون الدولي.

اكتب تقريراً مختصراً عن مبادرة "صلتك"، وانشره على صفحتك الشخصية على مواقع التواصل الاجتماعي.



– دَلِّل على تمسُّك أهل قطر بهويتهم الوطنية.

– اقرأ موادَّ الدستور القطري، وناقش ما يتضمَّنه من نصوص توضح أبعاد الهوية الوطنية القطرية.



مقومات الهوية الوطنية القطرية:



إن قضية الهوية الوطنية قضية التزام وطني، يُعزّز عملية الانتماء والولاء للوطن من خلال الدين واللغة والثقافة.

تنصُّ المادة الأولى من الدستور القطري على أن:

قطر دولة عربية مستقلة ذات سيادة. دينها الإسلام، والشريعة الإسلامية مصدر رئيسي لتشريعاتها، ونظامها ديمقراطي، ولغتها الرسمية هي اللغة العربية، وشعب قطر من الأمة العربية.

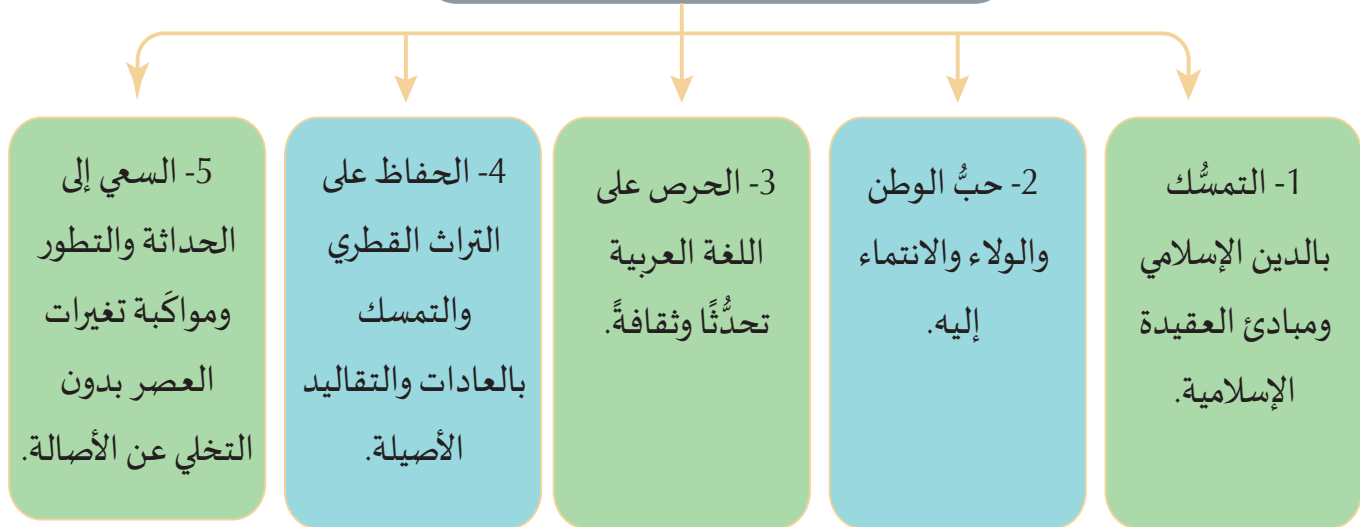
في ضوء العبارة السابقة أجب عما يلي:

- ما مقومات الهوية القطرية في ضوء المادة الأولى من الدستور القطري؟



فكر وناقش

مقومات الهوية الوطنية القطرية



- حدّد جهود دولة قطر في الحفاظ على اللغة العربية والاهتمام بها.



ابحث وتعلم

مظاهر الاهتمام بثوابت الهوية الوطنية والعربية والإسلامية:

تتعدّد مظاهر اهتمام المواطن القطري بثوابت الهوية الوطنية والعربية والإسلامية من خلال:

- 1- المشاركة في الاحتفالات الوطنية للدولة.
- 2- التمسك بعادات وتقاليد المجتمع الأصيلة ونشرها بين الأجيال الجديدة.
- 3- المشاركة في البرامج التي تُعنى بالهوية الوطنية من خلال مؤسسات المجتمع المختلفة.
- 4- الاهتمام باللغة العربية والتوسّع في استخدامها في المدارس؛ باعتبارها أداة الفكر والإبداع والتعبير الأصيل عن اعتزاز الفرد بهويته.



فن العرضة القطرية

دور دولة قطر في الحفاظ على التراث الوطني والثقافة القطرية:

التراث مُكوّن أساسي للهوية، وإن الأمم تُعرّف بهوياتها التراثية التي تعبّر عن ثقافتها وحضارتها. والمحافظة على التراث واجب ورسالة تحرص عليها الدول والشعوب. لذلك اهتمّت دولة قطر بالمحافظة على التراث. وجاء ضمن أهداف رؤية قطر الوطنية 2030م المحافظة على التراث الثقافي الوطني.

ومن أهم إنجازات دولة قطر في هذا المجال:



متحف الفن الإسلامي

أضف لمعلوماتك:

مركز نوماس: هو مركز تربيوي يُسهم في تنمية الشباب باستثمار وقت فراغهم في تعلم وممارسة العديد من الأنشطة ذات الصلة بالتراث والعادات الأصيلة لأهل قطر في الجَل والسفر، وفي البر والبحر وشتى مناحي الحياة.

1- إنشاء العديد من المؤسسات الثقافية مثل المتحف

الإسلامي - متحف قطر الوطني - مكتبة التراث العربي والإسلامي.

2- توعية المجتمع بأهمية المحافظة على الثقافة

والهوية القطرية من خلال إنشاء المراكز الحضارية

مثل مركز وجدان الحضاري، ومركز نوماس.

3- تصنيف منظّمة الأمم المتحدة للتربية والعلوم

والثقافة «اليونسكو» لمدينة الزبارة كموقع تراثي

ضمن التراث العالمي في عام 2013م.

4- إقامة العديد من المعارض عن الثقافة القطرية في

عدد من الدول مثل معرض «اللؤلؤ» في موسكو.

دور مؤسسات المجتمع المدني في الحفاظ على التراث الوطني الثقافي القطري.

1 - تمويل إعداد الدراسات والبحوث، وإقامة المؤتمرات

والندوات والمعارض الهادفة؛ لتعزيز العمل على إحياء

التراث والحفاظ عليه.

2 - إعداد وتنفيذ برامج ثقافية تساعد على تعزيز المواطنة

والقيم القطرية، وتدعم التواصل الحضاري.

3 - وضع آليات لحماية التراث القطري.

قيم أتعلّمها:

الحفاظ على التراث الوطني مسؤولية الجميع، فاحرص على المشاركة في التوعية بالتراث الوطني والمحافظة عليه.

نماذج لمؤسسات المجتمع المدني التي تحافظ على التراث الوطني والثقافي لدولة قطر:

أضف معلوماتك:

“فنار”: هي كلمة تُستعمل في اللهجة القطرية، ومرتبطة ارتباطاً وثيقاً بتراث هذا البلد الذي عُرف بصيد الأسماك واللؤلؤ.



مركز قطر الثقافي الإسلامي - فنار

1 - مركز قطر الثقافي الإسلامي - فنار:

يهدف إلى الحفاظ على التراث الوطني الإسلامي القطري، ومن أهم إنجازاته:

- أ- إقامة المعارض والأنشطة الثقافية لتعزيز التواصل الثقافي.
- ب- تنفيذ معارض للفنون الإسلامية.
- ج- إقامة معرض الخطّ العربي الأصيل بهدف نشر وتعزيز دور الخطّ العربي في حياة الناس.
- د- إقامة معارض إسهامات المسلمين في الحضارة الإنسانية؛ لبيان ما قدّمه المسلمون القدامى للحضارة

2 - نادي الجسرة الثقافي الاجتماعي:

مركز ثقافي اجتماعي يهدف إلى المحافظة على التراث والعادات الشعبية القطرية، ونقل مظاهر التراث والحضارة القطرية إلى مختلف دول العالم عن طريق إقامة الأسابيع الثقافية خارج الدولة، ومن أهم إنجازاته:

- إقامة العديد من الأسابيع الثقافية في عدد من دول العالم منها فرنسا، وألمانيا، واليابان؛ لتعريف شعوب العالم المختلفة بدولة قطر «ماضيها وحاضرها ومستقبلها».
- تنظيم المسابقات الثقافية والدينية؛ سعياً إلى زيادة الوعي والثقافة لدى الشباب القطري.

— قديم عددًا من المقترحات لتطوير أداء وممارسات المجتمع المدني للحفاظ على التراث الوطني.



دور الفرد في تعزيز فعاليات مؤسسات المجتمع المدني:

قيم أتعلّمها:

التطوع من أسمى الأعمال الإنسانية، فاحرص على المشاركة في الأعمال التطوعية لخدمة مجتمعك.

يمكن للفرد أن يساهم بفاعلية في برامج وأعمال مؤسسات المجتمع المدني، مثل:

- المشاركة في مبادرات نشر الثقافة والتراث الوطني، مثل الاشتراك بأنشطة مركز نوماس، والذي يهدف إلى تنمية الشباب باستثمار أوقات فراغهم في ممارسة مختلف الأنشطة ذات الصلة بالتراث.

- اقترح عددًا من المجالات يمكنك المشاركة فيها من خلال مؤسسات المجتمع المدني.



فكر واقتح

مشروع الدرس:

- يُعتبر العمل التطوعي أساسًا مهمًا لبناء المجتمعات، كما أنه يمنح الفرد فرصًا كثيرة للتفاعل والمشاركة، وقد حثَّ الإسلام على ممارسة العمل التطوعي؛ لأنه سبيلٌ لتكافل المجتمعات وتعزيز القيم الاجتماعية بين أفرادها.
- ناقش مع معلمك أهمية العمل التطوعي للفرد والمجتمع.
 - اذكر تجربتك في مجال المشاركة في أحد الأعمال التطوعية.



الأنشطة والتدريبات

أولاً:
الأنشطة

النشاط الأول: ابحث واكتشف:

بمساعدة زملائك قم بتجميع بعض الصور عن الأنشطة التي قامت بها دولة قطر في المؤسسات التابعة للأمم المتحدة.



النشاط الثاني: ابحث وتعرّف:

قم بزيارة مركز مصادر التعلم بمدرستك، ثم أجب:

وضّح دور دولة قطر في أنشطة منظمة التعاون الإسلامي:

النشاط الثالث: قدّم نصيحة لمن يقوم بالآتي:

أ- أحد الزملاء يتحدث باللغة الإنجليزية مع زملائه العرب في الصف.

ب- يفتخر زميلك بتقليد الغرب في اللباس، وقصّة الشّعْر بكامل تفاصيلها.

النشاط الرابع: ابحث وتعلم:

اكتب نبذة عن مركز وجدان الحضاري، موضّحاً دوره في تعزيز القيم في المجتمع القطري، واعرضها أمام زملائك في الصف.



الأنشطة والتدريبات

السؤال الأول: اختر الإجابة الصحيحة للعبارات الآتية:

ثانيًا:

التدريبات

1- كلُّ مما يلي يُعدُّ من أبعاد تشكيل الهوية الوطنية القطرية ما عدا البُعد:

- أ- العربي.
- ب- الغربي.
- ج- العالمي.
- د- الإسلامي.

2- أول منظّمة انضمت إليها دولة قطر بعد حصولها على الاستقلال هي:

- أ- مجلس التعاون الخليجي.
- ب- منظّمة التعاون الإسلامي.
- ج- جامعة الدول العربية.
- د- منظّمة الأمم المتحدة.

3- انضمت دولة قطر عام 1971م إلى منظمة:

- أ- اليونسكو.
- ب- دول عدم الانحياز.
- ج- جامعة الدول العربية.
- د- الاتحاد التساعي.

4- تتعدّد مقومات الهوية الوطنية القطرية، ومنها:

- أ- الحرص على تعلم اللغة الإنجليزية.
- ب- التمسُّك بالدين الإسلامي.
- ج- الحفاظ على التراث الغربي.
- د- المشاركة في الاحتفالات العالمية.

5- صَنَّفَت منظّمة اليونسكو كموقع تراثي مدينة:

- أ- الريان.
- ب- الوكرة.
- ج- الزبارة.
- د- الشمال.



السؤال الثاني: أجب عن الأسئلة التالية:

1- وَضِّحْ مظاهر الاهتمام بثوابت الهوية الوطنية العربية والإسلامية.

- أ-
- ب-
- ج-
- د-

2. اذكر مقومات الهوية الوطنية القطرية.

- أ-
- ب-
- ج-
- د-

السؤال الثالث: دِلِّل على صحة العبارات التالية:

1 - هناك العديد من مؤسسات المجتمع المدني المهتمة بالثقافة والتراث القطري.

-
-

2 - تتعدّد مظاهر اهتمام المواطن القطري بثوابت الهوية العربية والإسلامية.

-
-
-

3 - حقّقت دولة قطر تقدّمًا في مجال المحافظة على التراث الوطني والثقافة القطرية.

-
-

الدَّرْسُ الثَّانِي :

الهوية الوطنية والعولمة



■ سوق واقف

الهوية الوطنية والعولمة

أضف لمعلوماتك:

العولمة نظام عالمي حديث يعتمد على إزالة كل الحدود بين الدول من خلال تبادل التقنيات التكنولوجية، والمنتجات الإعلامية والفكرية... وغيرها؛ ليصبح العالم بمثابة القرية الصغيرة، ومن أنواعها: الثقافية - الاقتصادية - السياسية.

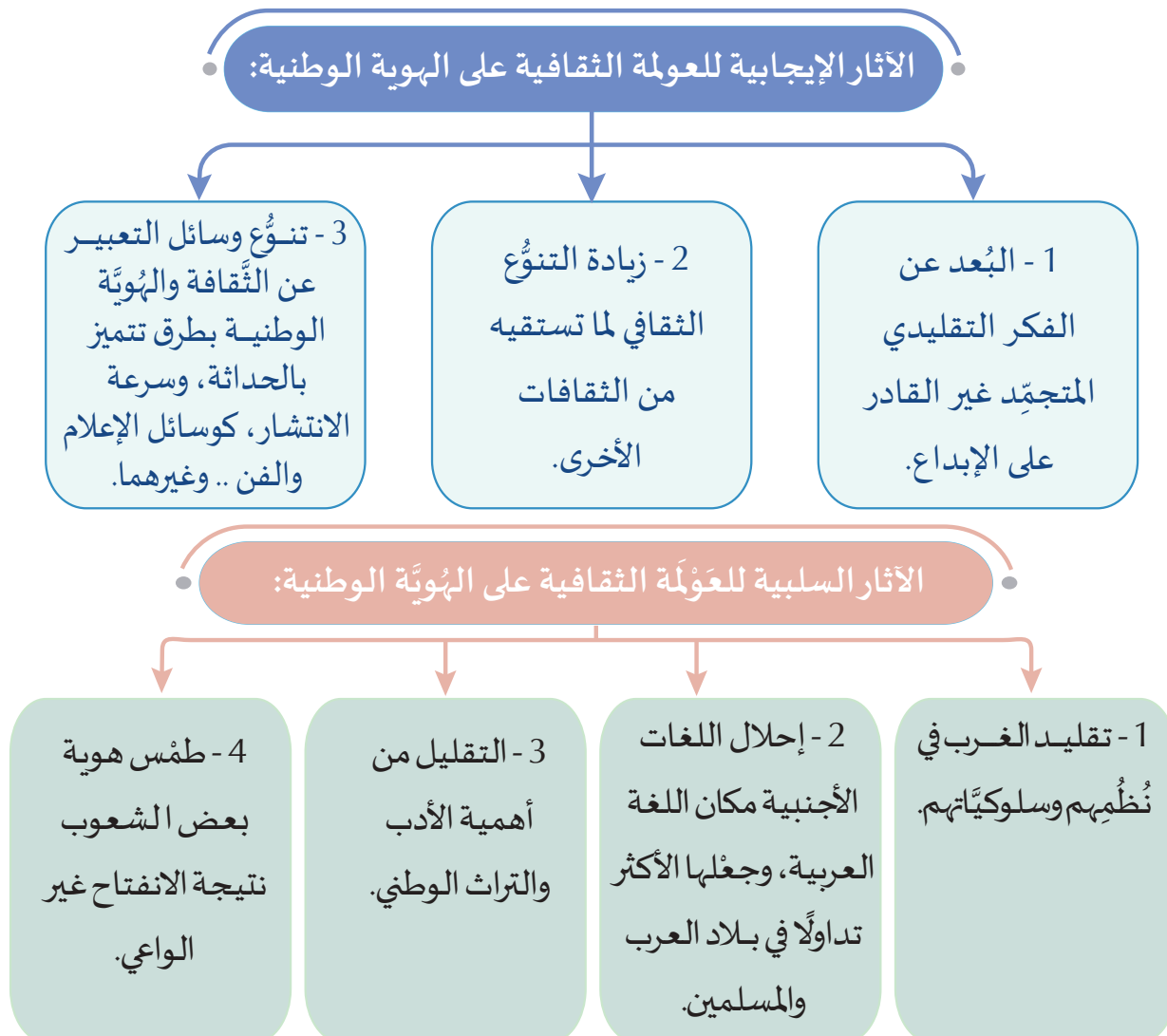
تُعَدُّ العولمة من أعظم التحديات التي تواجه المجتمعات؛ لما تحمل في طياتها من تأثير في الهوية الوطنية، سواء كان تأثيرًا إيجابيًا يعزِّز سبل التعاون والعيش المشترك مع كافة الشعوب والدول، أو تأثيرًا سلبيًا يتمثل في الغزو الثقافي الذي يجب السيطرة عليه لصالح المجتمع، ومن ثمَّ فالعولمة سلاح ذو حدين؛ إما أن يكون داعمًا للدولة، أو مهددًا لهويتها وثقافتها.

- ما تأثير العولمة الثقافية في الهوية الوطنية؟



فكر واستنتج

إن للعولمة الثقافية آثارًا عديدة في الهوية الوطنية، والتي تتباين بين الآثار الإيجابية والسلبية كالآتي:

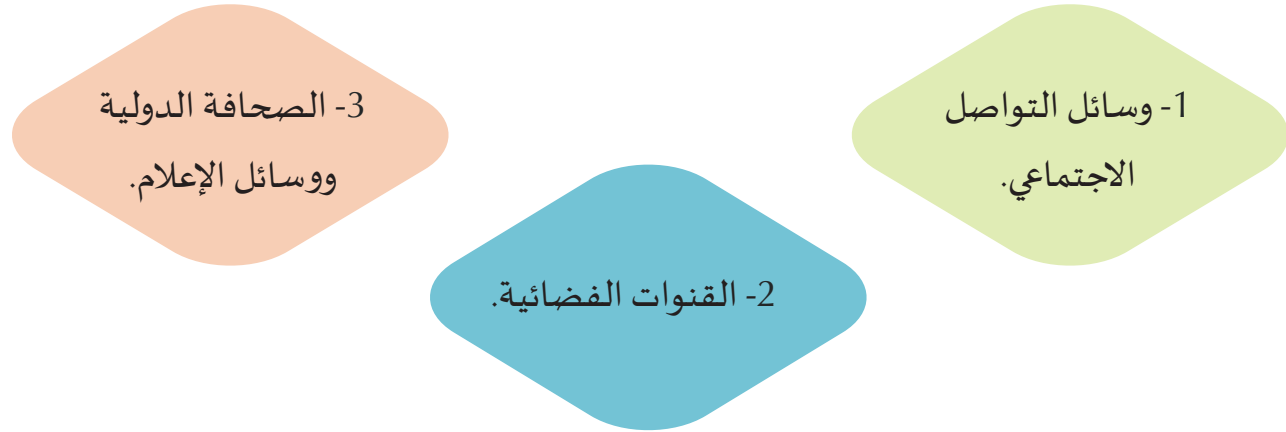




- من وجهة نظرك، كيف يمكن مواجهة الآثار السلبية للعولمة الثقافية؟
- اقترح أوجه الاستفادة من الآثار الإيجابية للعولمة.

وسائل انتقال العولمة :

تتنوع وسائل انتقال العولمة الثقافية وتتعدد أساليبها، ومنها:



ويمكن تناول وسائل التواصل الاجتماعي كأحد وسائل نشر العولمة كما يلي:

وسائل التواصل الاجتماعي :

هي مجموعة كبيرة من التطبيقات الحديثة والمواقع الإلكترونية التي تساعد الأشخاص على التواصل فيما بينهم، وتبادل الرسائل والصور والمعلومات عبر شبكة الإنترنت.

تأثير وسائل التواصل الاجتماعي في الفرد والمجتمع :

من ثمرات النهضة العلمية والتكنولوجية المعاصرة، هذه النقلة النوعية في وسائل الاتصال والتواصل، والتي كان لها العديد من الآثار السلبية والإيجابية بالنسبة للفرد والمجتمع.

إيجابيات وسائل التواصل الاجتماعي :


- 1 - تساعد طلاب العلم والباحثين.
- 2 - تداول الأفكار والمعلومات في وقت أسرع.
- 3 - فضاء كبير للنقاش الحر حول مختلف القضايا.
- 4 - تساعد في إنجاز بعض الأعمال الخيرية والتطوعية.

قيم أتعلمها :

قال رسول الله ﷺ: «من حسن إسلام المرء تركه ما لا يعنيه» [رواه الترمذي]، لذلك احرص على تحري الدقة في الأخبار التي تقوم بنشرها، وتأكد من مدى صحتها.

سلبيات وسائل التواصل الاجتماعي:

- 1- التحايل والتزوير.
- 2- نشر الأفكار الهدامة.
- 3- نشر الشائعات والأكاذيب.
- 4- إدمان الإنترنت وإهدار الوقت.
- 5- انتهاك الخصوصية وانتحال الشخصيات.



- ما العقوبات التي توجّه لمن يساهم أو يروج أخبارًا غير صحيحة؟
- قدّم نصيحة لشخص ينشر الأخبار دون التأكد من صحتها.

الحد من الآثار السلبية لوسائل التواصل الاجتماعي:

اتضح مما سبق أن الاستخدام السلبي والعشوائي لوسائل التواصل الاجتماعي سوف يترتب عليه العديد من الجوانب السلبية التي يمكننا تجنبها بعدة طرق، منها:

- 1- مراقبة الأبناء أثناء استخدامهم للإنترنت عمومًا.
- 2- سنّ القوانين والتشريعات التي تجرم الاستخدام السيئ لها.
- 3- إجراء المزيد من الأبحاث والدراسات عن سلبيات هذه الوسائل.
- 4- إنشاء مواقع مفيدة خاصة؛ لمتابعة الجديد من الأفكار والمعلومات الأجنبية وترجمتها إلى العربية.
- 5 - التوعية بأهمية وسائل التواصل الاجتماعي والاستخدام الأمثل لها، وضرورة التوعية بمخاطرها.

قيمّ اتعلمها:

التزامك بالقوانين والتشريعات
يُسهم في أمن واستقرار وطنك.

ولذلك نجد أن دول العالم -ومن بينها دولة قطر- تسعى إلى الحد من الآثار السلبية لتلك الوسائل بسنّ القوانين والتشريعات الرادعة.



– وضح دور الأسرة في الحد من الآثار السلبية لوسائل التواصل الاجتماعي.

قانون الجرائم الإلكترونية في دولة قطر:



تحرص الدولة على أمن وسلامة المجتمع وحمايته من الجرائم الإلكترونية التي باتت واقعًا ملموسًا يعرض مصالح الدول وأمنها واقتصادها وأفرادها للخطر؛ لذلك أصدرت قانون الجرائم الإلكترونية رقم 14 لسنة 2014.

وشمل القانون كافة الجوانب الخاصة بمكافحة الجريمة الإلكترونية، وأفرد العديد من المواد التي تُعاقب على أعمال وأفعال تتعرض للحياة الشخصية والمجتمع وحقوق الدولة؛ حيث نصت المادة رقم (6) على أنه يعاقب بالحبس مدة لا تتجاوز ثلاث سنوات، وبالغرامة التي لا تزيد على 500 ألف ريال، أو بإحدى هاتين العقوبتين، كل من أنشأ أو أدار موقعًا إلكترونيًا عن طريق الشبكة المعلوماتية لنشر أخبار غير صحيحة، بقصد تعريض سلامة الدولة أو نظامها العام أو أمنها الداخلي أو الخارجي للخطر.

- اقرأ بعض نصوص قانون الجرائم الإلكترونية في دولة قطر، وحدد الجرائم التي تناولها وأهم العقوبات.
- وضح أهمية إصدار قانون لمكافحة الجرائم الإلكترونية.



طرق مواجهة العولمة:



- 1- الاعتزاز بالهوية الوطنية وقيم الدين الإسلامي.
- 2- تزكية روح حب الوطن، والبُعد عن اتخاذ الغرب مثلاً أعلى.
- 3- ضرورة مراقبة مناهج الجامعات والمدارس الأجنبية لتفادي تضمُّنها موضوعات تتعارض مع تعاليم الدين الإسلامي.

قضية الدرس:

انتشر في الفترة الأخيرة تداول العديد من الأخبار غير الصحيحة من خلال وسائل التواصل الاجتماعي، ويجب على كل فرد تحري الدقة، وعدم تداول أخبار ورسائل من خلال وسائل التواصل الاجتماعي غير الموثوق بها؛ لما في ذلك من خطر يهدد استقرار المجتمع.

في ضوء ذلك ناقش ما يلي:

- ما واجبك كمواطنٍ تجاه نشر الأخبار على مواقع التواصل الاجتماعي؟
- حدّد الخطوات الصحيحة المتّبعة في نشر الأخبار.
- استخلص القيم التي يمكن أن تسود في المجتمع إذا التزم الجميع بتحري الدقة تجاه ما يُنشر من أخبار.



الأنشطة والتدريبات

أولاً:
الأنشطة

النشاط الأول: تخيّل أنك أصبحت مسؤولاً عن برنامج يهدف إلى تعزيز الهوية الوطنية والإفادة من إجابيات العولمة في ضوء العناصر التالية:

عاجل (مهم)	عاجل (غير مهم)	غير عاجل (مهم)	غير عاجل (غير مهم)

النشاط الثاني: وجّه رسالة من سطرين لمن يُسيء استخدام وسائل التواصل الاجتماعي.

.....

.....

النشاط الثالث: تطبيقات حياتية:

بعد تعلّمك لهذا الدرس أجب عمّا يلي:

- ما الفكرة الرئيسة التي يدور حولها الدرس؟

.....

- ابحث عن بعض المصطلحات التي اكتشفت أنك لا تعرفها، وحاول أن تضع تعريفاً لها.

.....

.....

- ما الهدف من تعلّم هذا الدرس من وجهة نظرك؟

.....

- أخبر صديقك عن حقيقتين / فكرتين جديدتين تعلّمتَهما من خلال هذا الدرس.

.....

.....



الأنشطة والتدريبات

السؤال الأول: اختر الإجابة الصحيحة للعبارات الآتية:

ثانيًا:
التدريبات

- 1 - أيُّ مما يأتي من إيجابيات مواقع التواصل الاجتماعي؟
- أ- التحايل والتزوير.
ب- نشر الأفكار الهدامة.
ج- إدمان الإنترنت وإهدار الوقت.
د- أسرع وسيلة لتداول الأفكار والمعلومات.

- 2- أحد تأثيرات سلبيات العولمة الثقافية تجاه الهوية الوطنية:
- أ- التنوع الثقافي.
ب- البعد عن الفكر التقليدي.
ج- إحلال اللغات الأجنبية مكان اللغة العربية.
د- تنوع وسائل التعبير الثقافي .

السؤال الثاني: أجب عن الأسئلة الآتية:

- 1 - وضح طرق الحد من سلبيات مواقع التواصل الاجتماعي.

.....

.....

- 2 - ارسم خريطة ذهنية لوسائل انتقال العولمة الثقافية.

.....

.....



السؤال الثالث:

1- قارن بين إيجابيات العولمة الثقافية وسلبياتها في الهوية الوطنية:

سلبيات العولمة الثقافية	إيجابيات العولمة الثقافية
.....
.....
.....

2- قارن بين إيجابيات وسلبيات وسائل التواصل الاجتماعي:

سلبيات وسائل التواصل الاجتماعي	إيجابيات وسائل التواصل الاجتماعي
.....
.....
.....

الخصائص العامة للسكان في دولة قطر

الدرس الأول: نمو وتركيب السُّكَّان في دولة قطر

الدرس الثاني: توزيع السُّكَّان وكثافتهم بدولة قطر

مهارات التقصي والبحث

- استخلاص المعلومات من أنواع مختلفة من المصادر وتقديم ملخصا لأهم الأفكار .
- عرض المعلومات ونتائج البحث باستخدام الخرائط والرسوم البيانية -المخططات - وسائل التكنولوجيا

في نهاية الوحدة سوف تتعلم

- استخدام مفاهيم سكانية وبيئية .
- توزيع الظواهر الطبيعية والبشرية .
- تحليل معدلات النمو السكاني في دولة قطر في فترات مختلفة.
- استخلاص تركيب السكان من حيث العمر والنوع .
- تحليل تركيب القوى العاملة في دولة قطر .
- استخدام الأدوات الجغرافية والتطبيقات التكنولوجية في جمع المعلومات وعرض الأفكار والآراء.
- تحليل الجداول الإحصائية والبيانات والأشكال ، لاستخلاص المعلومات الجغرافية المختلفة .

الدَّرس الأول:

نمو وتركيب السُّكَّان في دولة قطر



■ السكان في بلادي

نمو وتركيب السُّكَّان في دولة قطر

تُعَدُّ دراسة السُّكَّان من أهم البيانات التي يُعتمد عليها في وضع خطط التنمية الاقتصادية والاجتماعية للدول؛ لذلك اهتمت دولة قطر بالدراسات السُّكانية، وخاصة بعد الطفرة الاقتصادية التي أعقبت اكتشاف النفط واستغلال موارده في إقامة العديد من مشروعات التنمية، الأمر الذي أدَّى إلى استقبال أعداد كبيرة من العمالة الوافدة التي كان لها تأثير كبير في نمو السُّكَّان وتركيبهم.

- هل تشهد دولة قطر تطورًا ملحوظًا في عدد سكانها؟



فكر وتوقع

أولاً: التطور والنمو السُّكاني في دولة قطر:

أضف معلوماتك:

كانت أولى التقديرات التي أُورِدت بياناتٍ عن حجم السُّكَّان في دولة قطر هي تقديرات لوريمر؛ عام 1907م.

لقد شهدت دولة قطر تطورًا ملحوظًا في عدد السُّكَّان خلال القرن العشرين ومطلع القرن الحادي والعشرين. لاحظ الجدول الآتي لتطور عدد سكان دولة قطر فيما بين عام 1907م وحتى مارس 2019م، ثم حلل البيانات الواردة به:

السنة	عدد السُّكَّان (ألف نسمة)	ملاحظات
1907م	27	تقدير
1920م	20	تقدير
1950م	30	تقدير
1960م	50	تقدير
1970م	111	تعداد
1986م	370	تعداد
1997م	522	تعداد
2004م	744	تعداد
2010م	1.699	تعداد
2015م	2.404	تعداد
2020م	2.846	تعداد

أضف معلوماتك:

يمكنك الحصول على البيانات السُّكانية من خلال جهاز التخطيط والإحصاء: <https://www.mdps.gov.qa/ar/statistics1/pages/default.aspx>

بعد قراءتك لبيانات الجدول السابق، أجب عما يأتي:

- عدد التعدادات السكانية التي أجرتها دولة قطر.



حلّ وأجب

- الزيادة السكانية قبل عام 1950م كانت بطيئة للغاية. دّل على صحة ذلك.

- احسب مقدار الزيادة السكانية بين عامي (2010 - 2020م).

يتضح لنا بعد قراءة الجدول السابق الحقائق السكانية الآتية:

- 1- انخفض عدد سكان دولة قطر في مطلع العشرينيات من القرن الماضي، بسبب كساد تجارة اللؤلؤ، وتقلص أنشطة الغوص عليه لظهور اللؤلؤ الياباني؛ مما أدى إلى هجرة العديد من سكان قطر إلى المناطق المجاورة بحثاً عن العمل.
- 2- شهدت معدلات النمو السكاني قبل عام 1950م بطأً شديداً بسبب محدودية الموارد الاقتصادية؛ مما أدى إلى انخفاض مستوى المعيشة والأحوال الصحية للسكان.
- 3- بدأت الزيادة السكانية تنمو بشكل ملحوظ لتدفع البترول واستقدام أعداد كبيرة من العمالة الوافدة للمشاركة في نهضة البلاد.
- 4- اعتمدت دولة قطر على التعدادات السكانية الشاملة منذ عام 1970م؛ حيث بلغت سبعة تعدادات؛ مما أدى إلى تصنيف ودقة البيانات السكانية.
- 5- تضاعف عدد سكان دولة قطر منذ عام 1960م وحتى ديسمبر 2020م نحو أكثر من 55 ضعفاً.

مفاهيم أتعلمها:

التعداد السكاني يُقصد به إحصاء السكان من حيث العدد والنوع والسن والمهنة في فترة زمنية محددة.

قيم أتعلمها:

كلما كانت التعدادات السكانية دقيقة كلما ساعد ذلك على وضع خطط تنموية حقيقية، فاحرص على الإدلاء بالمعلومات الصحيحة، والمشاركة في نجاح التعداد السكاني الذي تقوم به دولة قطر.

مفاهيم أتعلّمها:

النمو السكاني:

هو تغير عدد السكان في منطقة معينة خلال فترة زمنية محدّدة.

مفاهيم أتعلّمها:

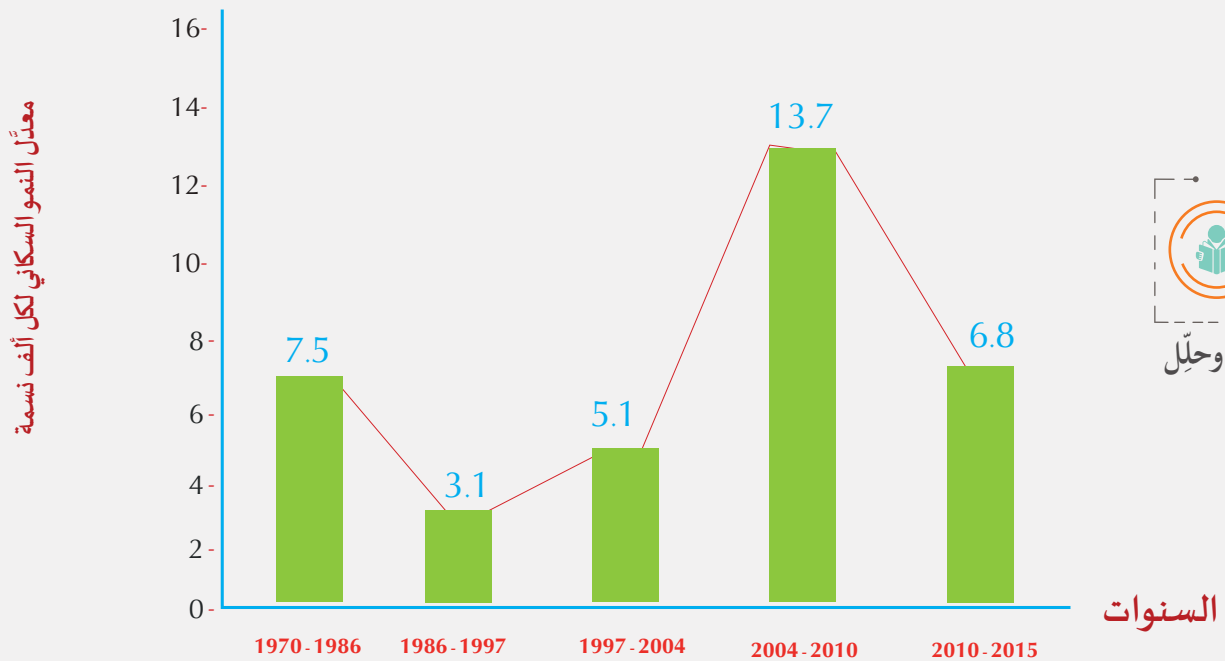
التحول الديموغرافي:

عبارة عن مرحلة الانتقال من نظام ديموغرافي تقليدي يتّسم بارتفاع معدل المواليد والوفيات، إلى نظام ديموغرافي حديث يتّسم بانخفاض معدل المواليد والوفيات.

والآن.. هيا بنا نتعرّف على النمو السكاني لدولة قطر.

ارتبط النمو السكاني لدولة قطر بمجموعة من التغيرات الاقتصادية؛ التي تمثلت في التحول من اقتصاد تقليدي يعتمد على التجارة والصيد والغوص على اللؤلؤ، إلى اقتصاد حديث بدأ مع ظهور النفط، واعتمد على عوائده المتزايدة، وقد كان لهذا التحول أثره في حدوث تغيرات ديموغرافية سريعة، كان لها مردوداتها في التركيب السكاني للدولة.

اقرأ وحلّل الشكل (1) الذي يمثّل معدّل النمو السكاني لدولة قطر بحسب التعدادات السكانية.



بعد قراءة الشكل السابق شكل (1) أجب عما يأتي:

- حدّد الفترة الزمنية التي سجّلت أقلّ معدّل نمو سكاني بدولة قطر.
- حدّد الفترة الزمنية التي سجلت أعلى معدّل نمو سكاني بدولة قطر، وتوقّع سبب ذلك.

نستنتج من الشكل (1): الآتي:

1. شهدت الفترة (1970 - 1986م) معدّل نمو مرتفعاً، حيثُ بلغ نحو 7.5 نسمة لكل ألف نسمة من السكان، ويرجع ذلك إلى أن هذه الفترة شهدت بداية التحول الاقتصادي؛ بسبب ارتفاع عوائد النفط للبلاد، وظهور الطفرة العمرانية التي تطلبت استقدام أعداد كبيرة من العمالة الوافدة.
2. تراجع معدل النمو السُّكاني في الفترة (1986 - 1997م)؛ حيثُ بلغ حوالي 3.1 نسمة لكل ألف نسمة من السكان، ويعود ذلك إلى الانخفاض الكبير في أسعار النفط الذي أثر في حركة الهجرة الوافدة، وقلّل من حجمها.
3. شهدت الفترة (1997 - 2004م) بداية ارتفاع تدريجي في معدل النمو السُّكاني؛ حيثُ ارتفع إلى حوالي 5.1 نسمة لكل ألف نسمة من السكان؛ وذلك يرجع إلى حالة الاستقرار السياسي في المنطقة، بالإضافة إلى استقرار أسعار النفط.
4. ارتفع معدل النمو السُّكاني في الفترة (2004 - 2010م)؛ حيثُ سجّل معدل النمو السُّكاني 13.7 نسمة لكل ألف نسمة من السكان، وهو بذلك يُعدُّ مرتفعاً جداً؛ ويرجع السبب الرئيس إلى الأعداد الكبيرة للعمالة الوافدة المشاركة في مشروعات التنمية العملاقة؛ التي تبنتها الدولة من خلال العائدات الكبيرة من استغلال حقل غاز الشّمال.
5. شهدت الفترة (2010 - 2015م) معدّل نمو سكاني بلغ حوالي 6.8 نسمة لكل ألف نسمة من السكان؛ حيثُ بدأت الدولة في تنفيذ البنية التحتية لمشروع استضافة مونديال كأس العالم عام 2022م.

ناقش مع معلمك..

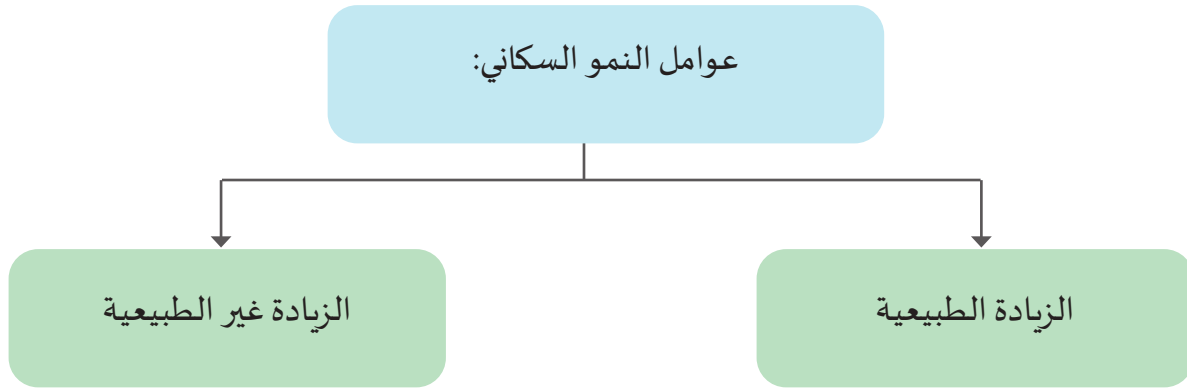
- أسباب زيادة معدلات النمو السُّكاني في دولة قطر.

- هل تتوقع أن ترتفع معدلات النمو السُّكاني لدولة قطر في الفترة القادمة؟



توقّع وناقش

يتأثر النمو السكاني لدولة قطر بعاملين رئيسيين:



1 - الزيادة الطبيعية لسكان دولة قطر:

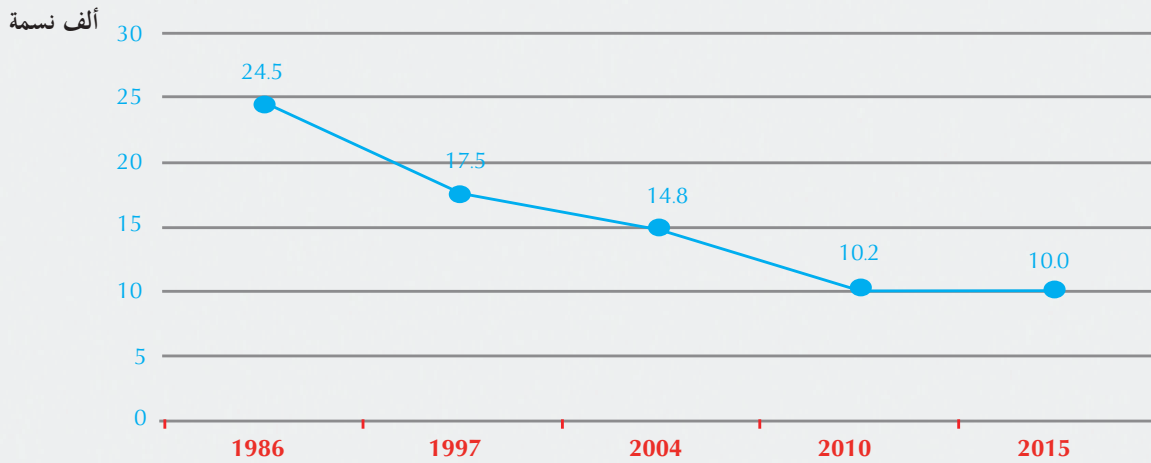
ويُقصد بها الفرق بين عدد المواليد وعدد الوفيات.

تأمل الشكل (2) الذي يوضح معدّل الزيادة الطبيعية لدولة قطر عبر فترات مختلفة، ثم أجب عن الأسئلة التالية:



تأمل وحلّل

- أقل معدّل للزيادة السكانية بدولة قطر.
- أعلى معدّل للزيادة الطبيعية بدولة قطر.



شكل (2): شكل بياني يوضح تطور معدّل الزيادة الطبيعية لكل ألف نسمة

نستنتج من الشكل (2):

« أن هناك انخفاضاً في معدّل الزيادة الطبيعية في دولة قطر.

ففي عام 1986م بلغ معدّل الزيادة الطبيعية حوالي 24,5 لكل ألف من السّكان، بينما في عام 2015م بلغ معدّل الزيادة الطبيعية حوالي 10 لكل ألف نسمة من السّكان.

هل تعرف أسباب انخفاض معدّل الزيادة الطبيعية في دولة قطر؟

يمكننا معرفة الأسباب التي تقف وراء انخفاض معدل الزيادة الطبيعية بشكل واضح بعد استعراضنا لمكوّنات الزيادة الطبيعية (المواليد والوفيات) في دولة قطر.

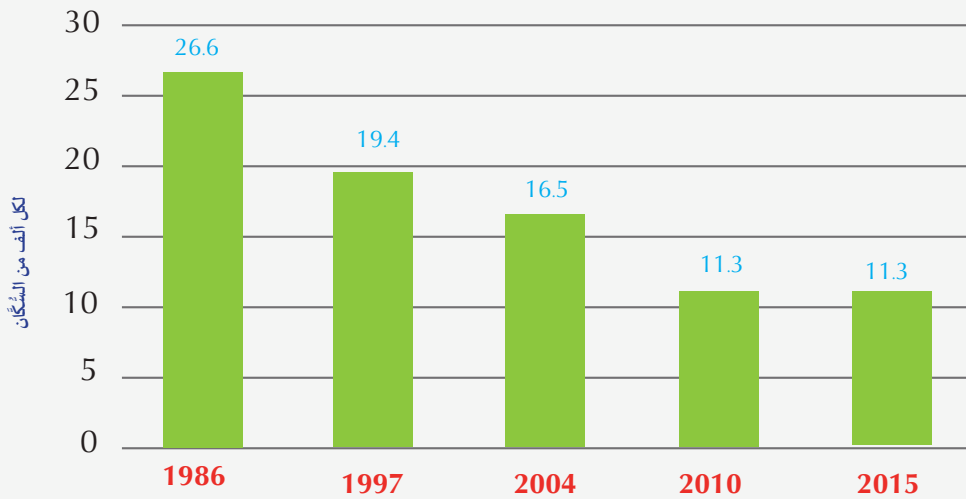
معدّل المواليد:

يشير معدل المواليد إلى عدد المواليد لكل ألف من السكّان.

- هل تعرف كيف يتم حساب معدّل المواليد؟

لاحظ الشكل (3) الذي يمثّل معدّل المواليد لدولة قطر في الفترة (1986م – 2015م)، ثم أجب عما يلي:

معدّل المواليد في دولة قطر



شكل (3): شكل بياني يوضّح تطور معدّل المواليد في دولة قطر

أضف معلوماتك:

يتم حساب معدل المواليد من
المعادلة الآتية:
عدد المواليد الأحياء في العام $\times 1000$
عدد السكّان في منتصف العام

- ما الفرق بين معدل المواليد لدولة قطر في الفترة من عام 1986م إلى عام 2015م؟

- توقّع السبب في انخفاض معدّل المواليد.

- في رأيك، هل يؤثّر انخفاض معدل المواليد على معدّل النمو السكاني؟

نستنتج من الشكل (3): الآتي:

انخفض معدل المواليد بدولة قطر من 26.9 لكل ألف من السُّكَّان في عام 1986م؛ إلى نحو 11.3 لكل ألف نسمة من السُّكَّان في عام 2015م.

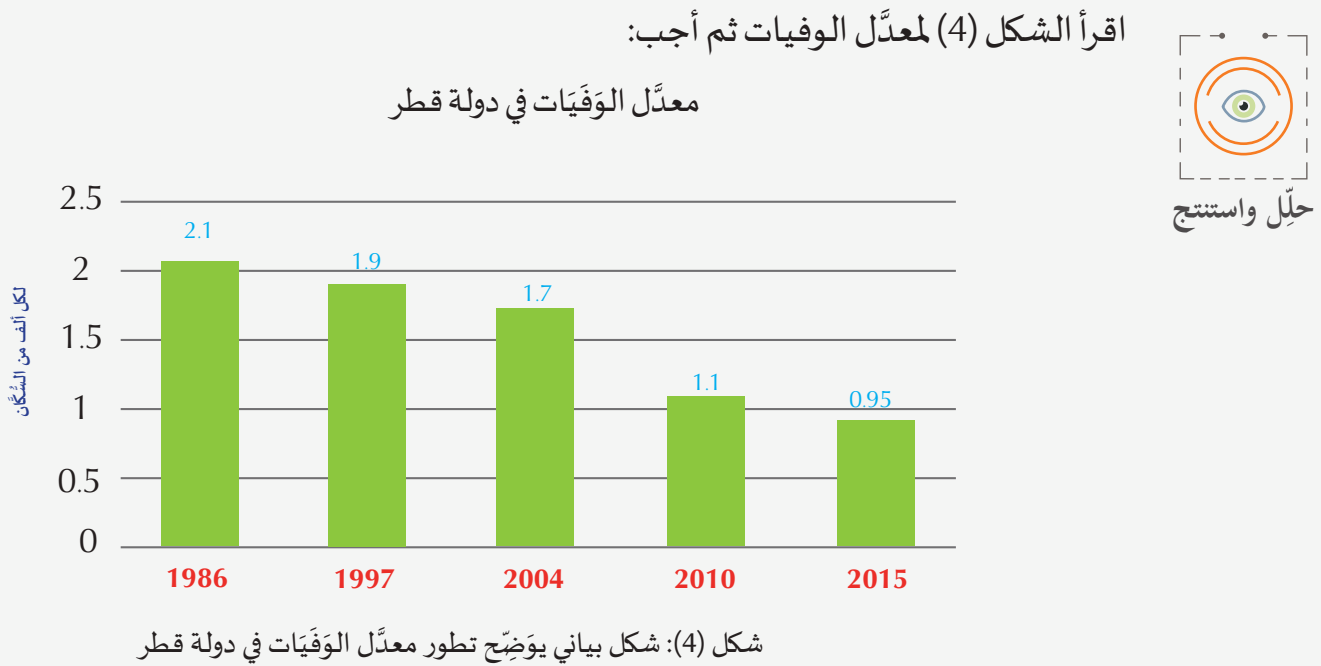
يرجع الانخفاض في معدلات المواليد بدولة قطر إلى عدة أسباب، منها:

- « خروج المرأة للعمل.
- « تأخر سن الزواج لبعض الشباب لارتفاع تكاليف الزواج.
- « عودة الكثير من عائلات المقيمين إلى بلادهم، وبقاء الآباء للعمل.

معدّل الوَفَيّات:

يشير معدّل الوَفَيّات إلى عدد الوَفَيّات لكل ألف من السُّكَّان.

يمكننا التعرف على معدل الوَفَيّات في دولة قطر من خلال قراءتنا للشكل (4) التالي:



« ما أعلى معدل للمواليد والوفيات؟

« ما سبب انخفاض معدل الوفيات في الفترة الأخيرة؟

نستنتج من الشكل (4) أنّ هناك انخفاضاً في معدّل الوَفَيّات في دولة قطر؛ فقد انخفض معدّل الوَفَيّات

من 2.1 لكل ألف من السُّكَّان عام 1986م، إلى 0.95 لكل ألف نسمة من السُّكَّان في عام 2015م.

ويرجع ذلك إلى:

قيم اتعلمها:

تحرص دولة قطر على مبدأ التعايش السلمي، وحسن معاملة كل من يعيش على أرضها، وعدم التمييز بينهم، سواء على أساس الدين أو العرق أو الثقافة.

- أ. القضاء على أمراض الطفولة بتوفير الأمصال.
- ب. الارتفاع الكبير في مستوى الوعي الصحي والدخل والمعيشة.
- ج. الرعاية الصحية العلاجية والوقائية التي وفّرتها الدولة للمواطنين والمقيمين.

2 - الزيادة غير الطبيعية:

تتسم العمالة في دولة قطر بالزيادة المستمرة، فكانت تمثل حوالي 88.7 % من حجم السّكان النّشطين اقتصاديًا في عام 2006م، بينما بلغت نسبتها حوالي 95 % في عام 2015م، في المقابل نجد انخفاضًا في نسبة السّكان القطريين النّشطين اقتصاديًا؛ فقد بلغت نسبتهم حوالي 5 % للعام نفسه.

وتتعدد أسباب ارتفاع نسبة العمالة الوافدة بدولة قطر، ومنها:

1. توفّر فرص العمل، وارتفاع مستوى الأجور.
 2. النهضة الاقتصادية والعمرانية الهائلة التي تشهدها البلاد.
 3. عدم كفاية العمالة الوطنية للحجم الكبير لمشروعات التنمية.
- وللتغلب على مشكلة زيادة نسبة العمالة الوافدة لجأت دولة قطر إلى عملية إحلال العمالة الوطنية محلّ العمالة الوافدة تدريجيًا، وهو ما يُعرف بالتقطير.

- استنتج عوامل الجذب المسيّبة للهجرة الوافدة لدولة قطر:

- اقترح أكبر عدد من الأفكار لحل مشكلة زيادة العمالة الوافدة.



ثانيًا: التركيب السكاني:

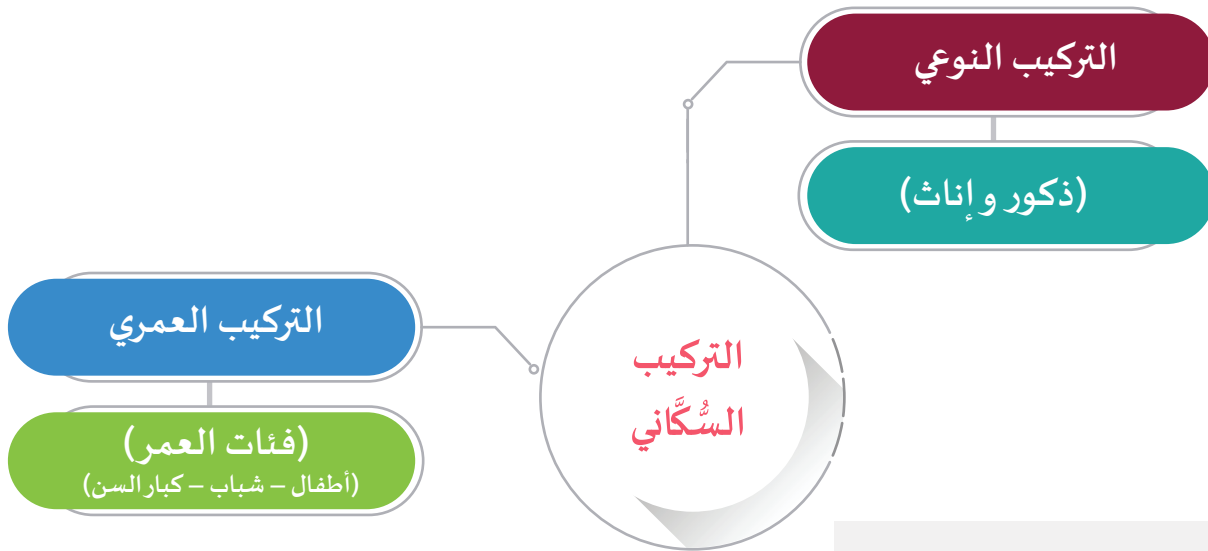
هو دراسة الخصائص العمرية والنوعية والقوى العاملة للسكان التي يمكن التعرف عليها من بيانات التعداد، والإحصاءات الحيوية؛ مثل: العمر، والنوع.

وترجع أهمية دراسة التركيب السكاني إلى:

- أ. معرفة مدى قدرة المجتمعات على توفير القوة العاملة اللازمة لتنمية وإعالة باقي أفراد المجتمع.
- ب. حل كثير من المشكلات الاقتصادية والاجتماعية التي تواجه المجتمع.
- ج. تحديد نسبة العمالة ومعدل البطالة وحجم القوة العاملة في المستقبل.

أضف معلوماتك:

تعريف علم الديمغرافيا: هو علم السُّكَّان أو الدراسات السُّكَّانية، يقوم على دراسة علمية لخصائص السُّكَّان، ومنها: (الحجم، والتوزيع، والكثافة، والتركيب، والأعراق، ومكونات النمو: الإنجاب والوفيات والهجرة).



التركيب النوعي للسكان:

صُغْ تعريفًا مناسبًا بأسلوبك للتركيب النوعي:

.....

.....

يوضِّح التركيب النوعي للسكان الملامح (الديموغرافية) للمجتمع ذكورًا وإناثًا. ويمكن حسابه من خلال تحديد نسبة النوع إلى إجمالي عدد السُّكَّان.

والجدول الآتي يوضح التركيب النوعي لسكان دولة قطر حسب تعداد 2015م.

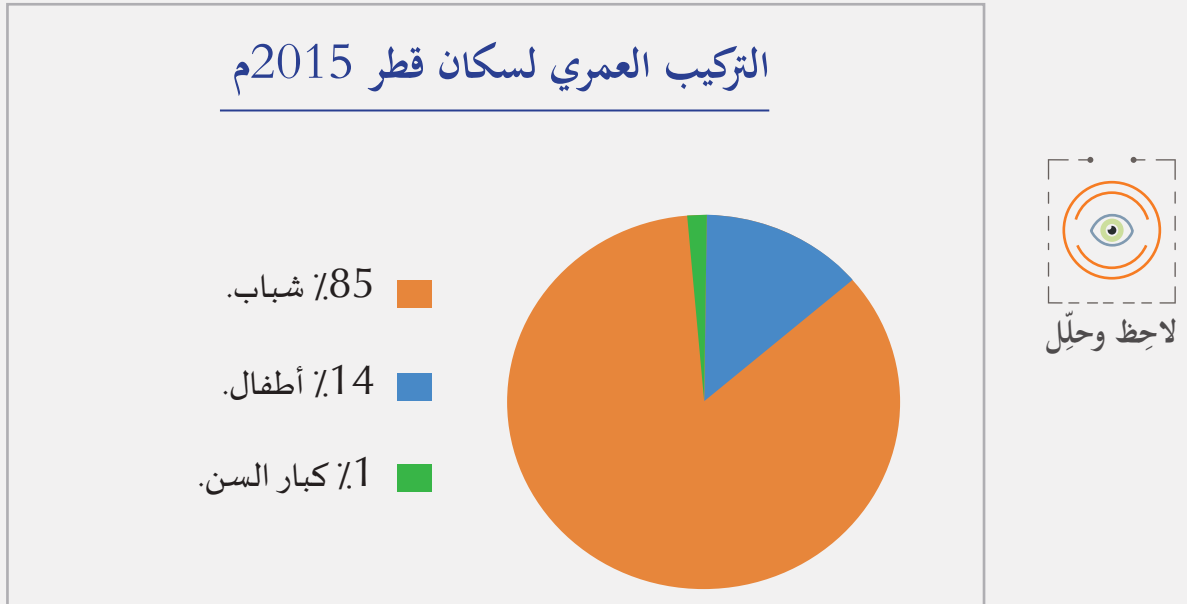
التركيب النوعي لسكان دولة قطر حسب تعداد 2015م		
النوع	العدد	النسبة
ذكور	1816981	75.5%
إناث	587795	24.5%
المجموع	2404776	100%

من دراستنا للجدول السابق يتضح لنا ما يأتي:

- « ترتفع نسبة الذكور في دولة قطر عن الإناث؛ حيث سجلت نسبة الذكور حوالي 75.5 % من جملة سكان قطر لعام 2015م.
- « ويرجع سبب ذلك إلى أن معظم العمالة الوافدة من الذكور؛ لأن غالبية الأعمال في مشاريع البنية التحتية تناسب الذكور أكثر من الإناث.
- « على الرغم من انخفاض نسبة الإناث بصفة عامة، إلا أن للمرأة القطرية دورًا ملحوظًا في عملية التنمية في دولة قطر في شتى المجالات، وخاصة التعليمية والصحية، بل وصلت إلى أعلى المناصب.

التركيب العمري للسكان:

يُعَدُّ التركيب العمري للسكان من أكثر العوامل تأثيراً في قوة العمل، وينقسم السُّكَّان بصفة عامة في تركيبهم السُّكَّاني إلى ثلاث فئات رئيسة. تعرّف عليها من الشَّكل التَّالي (5):



من خلال الرسم البياني:

- حدّد الفئة الأكثر تمثيلاً لسكان دولة قطر مع ذكر السبب؟

نستنتج من الشكل السابق (5)؛ الآتي:

1. تمثّل فئة الشباب أكثر من 85 % من سكان قطر؛ لأن معظم العمالة الوافدة تكون من الشباب.
 2. انخفاض نسبة كبار السن؛ لأن معظم الوافدين يرحلون لبلادهم بعد سن التقاعد.
 3. تُمثّل نسبة الأطفال وصغار السن أقل من 14 %. هل تعرف سبب ذلك؟
- « يرجع انخفاض نسبة الأطفال إلى أنّ معظم العمالة الوافدة لا تصطحب أطفالها وعائلاتها؛ لارتفاع مستوى المعيشة في السنوات الأخيرة، وكذلك ارتفاع تكلفة التعليم الخاص بالجاليات.

حدّد نسبة الفئة القادرة على العمل والإنتاج.



الهرم السكاني لدولة قطر:

يُعرف الهرم السكاني بأنه أحد الأشكال البيانية لتمثيل البيانات السكانية الخاصة بالعمر والنوع.

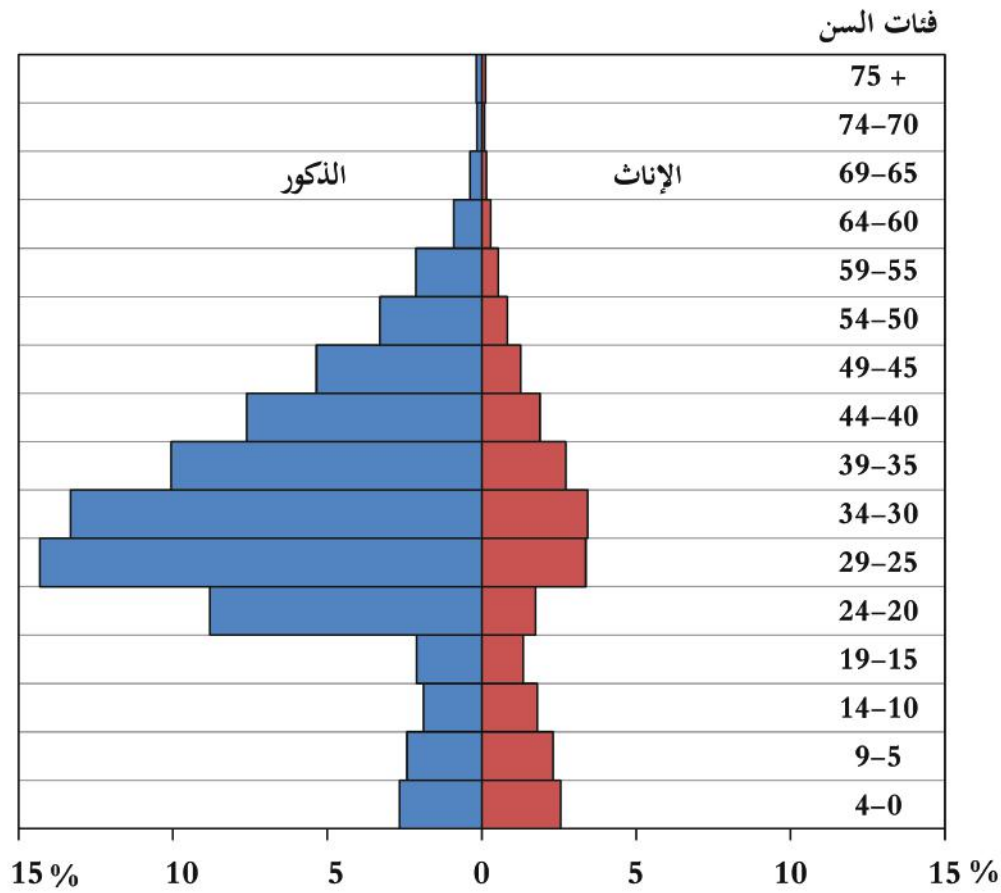
قيمُ اتعلمها:

لا بد من احترام كبار السن.

شارك زملاءك في تحليل بيانات الهرم السكاني لدولة قطر 2015م شكل 6، واستنتج أكبر كمٍ من الأفكار حول البيانات المتضمنة به.



شارك وحلّل



شكل (6): الهرم السكاني في دولة قطر

- نلاحظ في الهرم السكاني أن قاعدة الهرم تضم الأطفال أقل من 15 سنة.
- أما منتصف الهرم فيضم السكان الذين تتراوح أعمارهم من 15 إلى أقل من 65 سنة، ويمثلون قوة العمل، وهي نسبة مرتفعة؛ لذا تُعدّ دولة قطر في مرحلة الشباب مما يزيد من قدرتها على تحقيق معدلات تنمية عالية.
- أما قمة الهرم فتمثل كبار السن الذين تبلغ أعمارهم أكثر من 65 سنة، ونلاحظ أنها نسبة قليلة.

قامت دولة قطر في السنوات الأخيرة باستخدام العديد من البرامج والتطبيقات، في حساب الخصائص الديموغرافية؛ مثل: معدلات النمو السكاني، ومعدلات المواليد والوفيات، وبيانات التركيب السكاني؛ ومن بين هذه البرامج (SPSS-MS.EXCEL) تعتبر نظم المعلومات الجغرافية «Arc GIs» من أشهر التقنيات المستخدمة في إنتاج الخرائط المختلفة؛ ومنها خرائط السكان.

مشروع الدرس:

استخدم الموقع الإلكتروني الرسمي لجهاز التخطيط والإحصاء في قطر، وتعرّف على البيانات السكانية لدولة قطر التي ينشرها الموقع، واكتب ملخصاً لأهم البيانات التي حصلت عليها موضّحاً دلالتها.

.....

.....

.....

.....

.....

.....

.....

.....

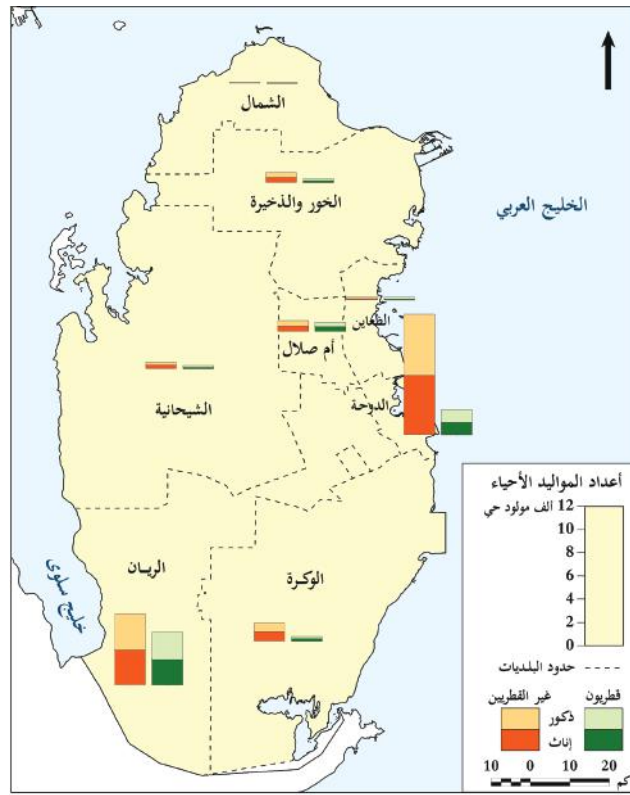


الأنشطة والتدريبات

النشاط الأول: اقرأ وحلّل:

أولاً: الأنشطة

اقرأ بيانات الخريطة التي أمامك جيداً، ثم أجب:



شكل (7): معدل المواليد في دولة قطر

1 - حدّد البلدية التي سجّلت أكبر عدد للمواليد الذكور من القطريين.

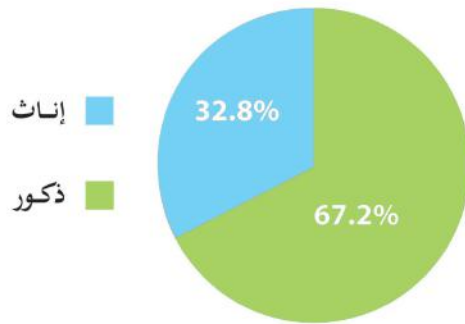
2 - وضح العلاقة بين معدّل المواليد ومعدّل الزيادة الطبيعية بدولة قطر.



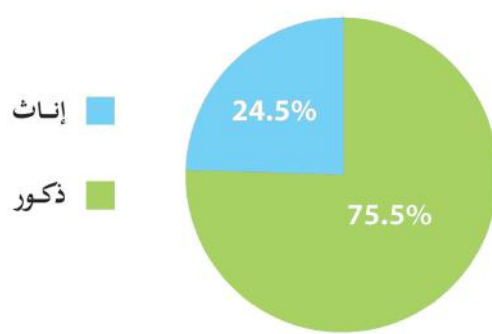
الأنشطة والتدريبات

النشاط الثاني: لاحظ وحلل: لاحظ الأشكال الآتية التي تُمثّل التركيب النوعي لسكان دولة قطر لفترات مختلفة:

سكان دولة قطر 1986



سكان دولة قطر 2015



لاحظ وأجب:

1 - استنتج من الأشكال السابقة أكبر عدد ممكن من الحقائق الخاصة بالتركيب النوعي للسكان.

2 - بم تفسّر: ارتفاع نسبة الذكور عن الإناث بدولة قطر؟



الأنشطة والتدريبات

السؤال الأول: اختر الإجابة الصحيحة من بين البدائل الآتية:

ثانيًا: التدريبات

1 - أكثر الفترات الزمنية التي شهدت معدل نمو سكاني مرتفعاً بدولة قطر:

- أ- (1970 - 1986 م).
 ب- (1986 - 1997 م).
 ج- (1997 - 2004 م).
 د- (2004 - 2010 م).

2- تتمثل الزيادة الطبيعية للسكان في الفرق بين:

- أ- عدد المواليد والوفيات.
 ب- الهجرة الداخلية والخارجية.
 ج- الخصوبة العامة والخاصة.
 د- المواليد والخصوبة.

3- تمثل نسبة الذكور في تعداد 2015 م من إجمالي سكان دولة قطر:

- أ- 55.5 %
 ب- 65.5 %
 ج- 75.5 %
 د- 85.5 %

4- يرجع انخفاض نسبة الأطفال بدولة قطر إلى:

- أ- معظم الوافدين لا يصطحبون أطفالهم.
 ب- ارتفاع معدل وفيات الأطفال.
 ج- وجود قوانين تحد من الإنجاب.
 د- عدم الرغبة في إنجاب الأطفال.



الأنشطة والتدريبات

السؤال الثاني: عرّف المفاهيم الآتية:

1- النمو السكاني.

.....

2- الهرم السكاني.

.....

السؤال الثالث: اقرأ ثم أجب عما يأتي:
"اعتمدت دولة قطر على التعدادات السكانية منذ عام 1970م".
في ضوء هذه العبارة:

- وضح أهمية دراسة التركيب السكاني.

.....

.....

السؤال الرابع: بم تفسّر:

1 - انخفاض معدّل المواليد في دولة قطر؟

.....

.....

2 - انخفاض عدد سكان دولة قطر في مطلع العشرينيات من القرن الماضي؟

.....

.....



الأنشطة والتدريبات

3 - ارتفاع نسبة العمالة الوافدة بدولة قطر؟

.....

.....

4 - تمثل فئة الشباب أكثر من 85 % من سكان قطر؟

.....

.....

السؤال الخامس: وضح العلاقة بين كلٍّ من:

1 - الرعاية الصحية ومعدّل الوَفَيَّات.

.....

2 - خروج المرأة للعمل والنمو السكاني.

.....

السؤال السادس: تُشير التعدادات القطرية إلى أن نسبة الذكور أكبر من نسبة الإناث. دِلّل على صحة ذلك:

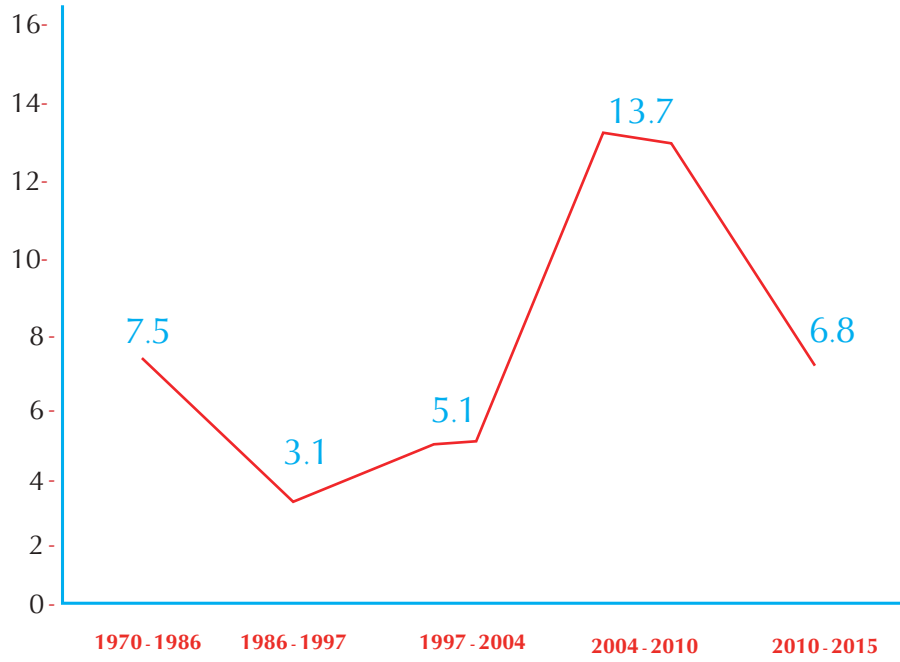
.....

.....



الأنشطة والتدريبات

السؤال السابع: حلّ بيانات الشكل البياني الذي أمامك، ثم أجب:



1- بم تفسّر انخفاض معدّل النمو السكاني في الفترة (1986 - 1997م)؟

.....

2- اذكر أسباب ارتفاع معدّل النمو السكاني في الفترة (2004 – 2010م).

.....

3- بيّن أثر العمالة الوافدة على معدلات النمو السكاني بدولة قطر.

.....

الدَّرسُ الثَّاني:

توزيع السُّكَّان وكثافتهم بدولة قطر



توزيع السُّكَّان وكثافتهم بدولة قطر

يتوزع سكان دولة قطر والبالغ عددهم حوالي 2,760 مليون نسمة حسب تقديرات مارس 2019م على مساحة من اليابس تقدَّر بحوالي 11,610 كم²، ويتباين توزيع السُّكَّان من منطقة إلى أخرى.

أولاً: التوزيع السُّكَّاني؛

أضف معلوماتك:

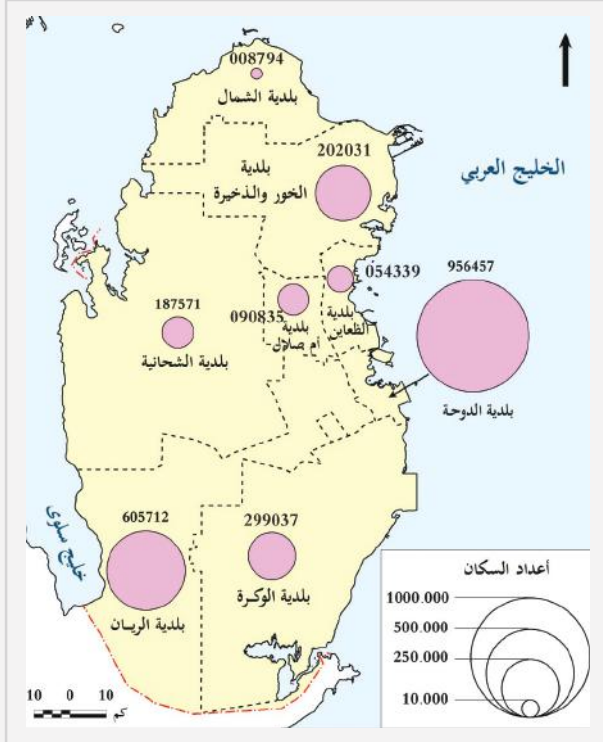
تعيش دولة قطر حالة يُطلق عليها: الدولة المدينة «City - State»؛ حيث إن الدَّوْحَة تستحوذ على النسبة الأكبر من السُّكَّان وال عمران والخدمات.

يتخذ التوزيع السُّكَّاني في قطر شكل التَّركُّز الشديد في العاصمة وبعض المدن الصغيرة، بينما تكاد تخلو بقية المناطق من السُّكَّان؛ مما جعل البعض يُطلق عليها «الدولة المدينة»؛ لأن العاصمة هي مركز الثقل السُّكَّاني والاقتصادي والعمراني للدولة.

البلدية	المناطق التابعة للبلدية	عدد السُّكَّان حسب تعداد 2015م
الدَّوْحَة	خليفة - بن عمران - كليب - السد - المرخية - الهلال - المطار - المنصورة - الدفنة	956.457
الريان	الريان القديم - الريان الجديد - الوجبة - معيدر - الغرافة - السيلية - الكرعانة	605.712
الوكرة	الوكرة - الوكير - مسيعيد - العديد - عقلة المناصير - ترينة - الخرامة	299.037
الخور والذخيرة	الخور - الذخيرة - رأس لفان - الغويرية	202.031
الشيخانية	الشيخانية - الجميلية - دخان - النصرانية - أم باب - روضة راشد - العطورية	187.571
أم صلال	أم صلال محمد - أم صلال علي - الخريطيات - أزغوى - أم العمد - أم عبيرية	090.835
الظعائن	لوسيل - الخيسة - أم قرن - سميسمة - رأس النوف - الصخامة - روضة الحمامة	054.339
الشَّمَال	الرويس - العريش - أبو ظلوف - الكعبان - عين سنان - فويرط - الغارية - الزبارة	008.794
الإجمالي		2.404.776

جدول (1) توزيع عدد سكان دولة قطر على البلديات حسب تعداد 2015م

- من خلال جدول (1) وخريطة شكل (1) لتوزيع سكان دولة قطر (تعداد 2015م) أجب عن الأسئلة التالية:



شكل (1) عدد السُّكَّان حسب البلديات تعداد 2015م

- احسب نسبة السكان في كل بلدية من البلديات بالجدول.
- ما أكبر البلديات من حيث عدد السكان؟ ولماذا؟
- ما رأيك في توزيع السكان في دولة قطر؟



بعد قراءة الجدول (1) والخريطة شكل (1) يتضح لنا أن توزيع السُّكَّان يميل إلى التركُّز الشديد على الساحل الشرقي؛ وخاصة في المدن، كما أنه يختلف من مكان إلى آخر أضِفْ إلى ذلك أن حوالي 85 % من السُّكَّان يعيشون فقط على مساحة تتراوح نسبتها بين (10 - 15 %) من مجموع المساحة الجغرافية للدولة، كما يتبين ما يلي.

1 - احتلت **بلدية الدُّوْحَة** المرتبة الأولى في عدد السُّكَّان لعام 2015م؛ حيثُ سجلت حوالي 956,5 ألف نسمة، وهي بذلك تستحوذ على حوالي 40٪ من سكان دولة قطر؛ هل تعرف سبب ذلك؟

يرجع ذلك إلى:

- أ - كون مدينة الدُّوْحَة عاصمة البلاد، وفيها مقرُّ الحُكْم، والوزارات، ومعظم المؤسَّسات الحكومية.
- ب - موقعها الجغرافي وسط البلاد على الساحل الشرقي، وسهولة المواصلات؛ حيثُ تربطها بالمدن القطرية الأخرى شبكةٌ من الطرق البرية.





مدينة قطر التعليمية بمدينة الريان

ج- تركز الخدمات العامة (المالية، والتعليمية، والصحية، والرياضية) فيها.

د- توافر فرص العمل فيها بشكل كبير؛ حيث سوق العمل التجاري والصناعي والخدمي.

هـ- يوجد بها مطار جوي حديث يستوعب 30 مليون مسافر سنوياً، وميناء الدوحة البحري.

2 - احتلت **بلدية الريان** المرتبة الثانية بعد الدوحة في عدد السكّان؛ حيث بلغ عدد سكانها حوالي 605,7 ألف نسمة، وهم يمثلون حوالي (2,25٪) من سكان دولة قطر لعام 2015م؛ ويرجع سبب زيادة عدد سكانها إلى مساحتها الكبيرة، وقربها من مدينة الدوحة، وتركز بعض الخدمات بها.

3 - ازداد عدد سكان **بلدية الوكرة** في السنوات الأخيرة؛ حيث بلغ حوالي 299 ألف نسمة، وهي بذلك احتلت المرتبة الثالثة بالنسبة لبلديات دولة قطر من حيث عدد السكّان؛ والذين يمثلون (4,12٪) من سكان الدولة؛ يرجع ذلك إلى الآتي:



ملعب الجنوب بالوكرة

أ - تعاظم أهمية الوكرة كمدينة تجارية وسكنية قريبة من الدوحة.

ب- رخص إيجارات المساكن فيها.

ج- كما أنها تضم منطقة مسيعة الصناعية؛ حيث هناك أعداد كبيرة من العمال الذين يعملون في المصانع الحديثة، وتضم العديد من المنشآت السياحية كما في سيلين.

4 - احتلت **بلدية الخور والذخيرة** المرتبة الرابعة من حيث عدد السكّان، فقد سجلت (4,8٪) من سكان الدولة؛ وترجع الزيادة في أعداد سكانها إلى:

أ - أنها تضم مدينة الخور والذخيرة.

ب - التجمعات السكانية المرتبطة بالنهضة الصناعية لمنطقة رأس لفان لصناعات الغاز الحديثة، واستغلال حقل الشمال.

ج - المناطق الزراعية في الغورية وروضة الفرس والماجدة.



ملعب البيت في الخور

أضف معلوماتك:

تقع مدينة رأس لفان على بُعد 80 كم شمال العاصمة القطرية الدوحة، وهي تمتد على مساحة 294 كم²، وتتضمن المدينة مرفأً صناعياً وعدة منشآت صناعية.

5 - أما **بلدية الشىحانية** فهي أحدث بلديات دولة قطر، وسجلت 7.8% من جملة سكانها؛ ويرجع ذلك إلى مساحتها الكبيرة، حيث تُعدُّ أكبر بلديات دولة قطر من حيث المساحة، كما أنها تضمُّ مناطق جغرافية وسُكَّانية شاسعةً ومتنوعة في الأنشطة البشرية من (مزارع، ومناطق إنتاج البترول في دخان، ومصنع للأسمنت في أم باب).

- اذكر بعض المشكلات الناتجة عن التوزيع السكاني غير المتوازن لبلديات دولة قطر.



فكر وأجب



قلعة برزان ببلدية أم صلال

6 - تحتلُّ **بلدية أم صلال** المرتبة السادسة بنسبة (3,8%) من سكان دولة قطر؛ حيث استفادت من قربها من الدوحة، وشهدت نهضة عمرانية تمثلت في ازدهار عمراني لمناطق عديدة، أهمها: أم صلال محمد، والخريطات، وأزغوى، وأم العمد، وأم عبيرية؛ حيث يُفضِّل المواطنون سُكنى المناطق الجديدة بعيداً عن الازدحام وغلاء الأراضي في الدوحة.



بلدية الظعائن

7 - سجلت **بلدية الظعائن** (2,3%) من جملة سكان دولة قطر، وقد تفوّقت في عدد السُكَّان على بلدية الشَّمَال؛ حيث تضمُّ مناطق سكنية جديدة في الخيسة، وأم قرن، ولوسيل، وسميسة.

8 - تُعدُّ **بلدية الشَّمَال** الأقل في عدد السُكَّان؛ حيث هاجر العديد من السُكَّان إلى الدوحة في السنوات الأخيرة؛ لوفرة فرص العمل والخدمات العامة.

- في ضوء دراستك للسكان في بلديات دولة قطر.
أ - قَدِّم مقترحات تُساعد على جذب السُّكَّان إلى بلدية الشَّمال.



ب - استنتج العوامل المؤثرة في توزيع السُّكَّان في دولة قطر.

فكر وناقش

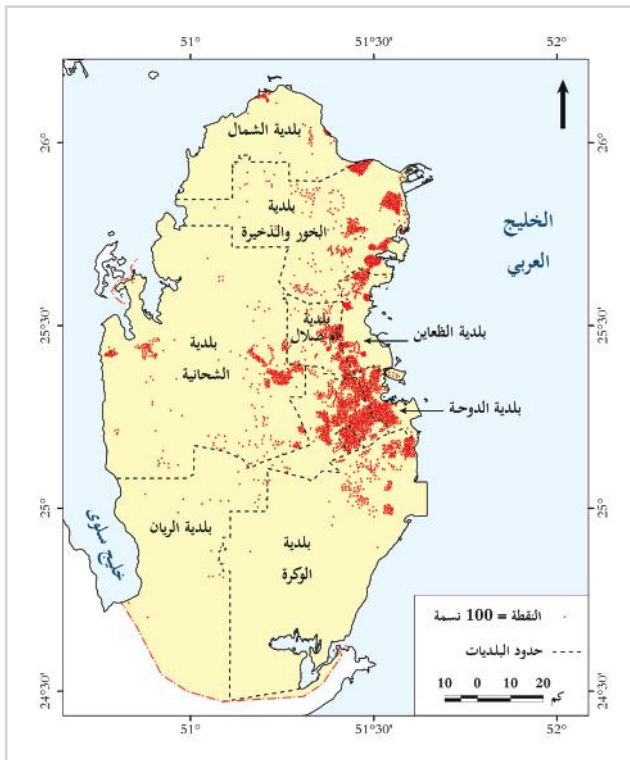
مفاهيم أتعلمها:

الكثافة العامة للسكان:
هي جملة عدد السُّكَّان في
وحدة مساحة معيَّنة.
يتمُّ حساب الكثافة السُّكانية
العامة في الكيلومتر المربع
الواحد بتقسيم سكان المنطقة
على مساحتها الجغرافية.

ثانيًا: الكثافة السُّكانية:

لقد ارتفعت الكثافة السُّكانية العامة لدولة قطر من 32,1 نسمة/كم² عام 1986م؛ إلى حوالي 207 نسمة/كم² عام 2015م، ممَّا يعني أنها زادت عمَّا كانت عليه قبل 29 سنة أكثر من 6 مرات في الفترة (1986م – 2015م).

- لاحظ الخريطة شكل (2) والجدول (2) الذي يوضح منهما الكثافة السكانية لبلديات دولة قطر، ثم تعاون مع زميلك في تحليل البيانات والإجابة على الأسئلة.



شكل (2) عدد السُّكَّان بالنقاط حسب تعداد 2015م

جدول (2) الكثافة السُّكانية على مستوى بلديات دولة قطر طبقًا لبيانات تعداد 2015م

اسم البلدية	المساحة (كم ²)	عدد السُّكَّان (نسمة)	الكثافة السُّكانية - (نسمة/كم ²)
الدُّوْحَة	235	956,457	4070
أم صلال	318	90,835	286
الظعنين	238	54,339	228
الشَّمال	899	8,794	10
الشيخانية	3,360	187,571	56
الخور والذخيرة	1,561	202,031	129
الريان	2,463	605,712	246
الوكرة	2,536	299,037	118
الإجمالي	11,610	2,404,776	207

1- اكتب أكبر كمّ من المعلومات يمكنك استنتاجها عن الكثافة السكانية في بلديات دولة قطر.

2 - حدّد أكثر ثلاث بلديات ترتفع بها الكثافة السكانية.

3 - استنتج البلدية التي تنخفض بها الكثافة السكانية مع ذكر السبب.

4 - لماذا تنخفض الكثافة السكانية ببلدية الشىحانية؟



نستنتج من الجدول السابق شكل (2) والخريطة شكل (2) ما يلي:

- 1 - سجلت بلدية الدوحة أعلى كثافة سكانية؛ حيث بلغت أكثر من 4 آلاف نسمة/ كم².
- 2 - تأتي المناطق القريبة جغرافياً من الدوحة في المرتبة الثانية؛ حيث تُعدّ نطاق الامتداد العمراني للدوحة، مثل: أم صلال، والظعائن، والريان، وتُعرف بمدينة الدوحة الكبرى.
- 3 - سجّلت بعض بلديات دولة قطر كثافات سكانية منخفضة؛ (اذكر أمثلة على ذلك).

العوامل المؤثرة في توزيع السكان:

من خلال دراستك السابقة لتوزيع السكّان حسب البلديات:
- ما أكثر العوامل تأثيراً في توزيع السكّان في دولة قطر؟ ولماذا؟

تتمثل العوامل المؤثرة في توزيع السكّان في دولة قطر فيما يلي:

1 - العوامل الطبيعية:

تُعتبر من أكثر العوامل المؤثرة في توزيع السكّان؛ حيث:
أ- يتركّز معظم السكّان على امتداد الساحل الشرقي لدولة قطر في مناطق الرؤوس والأخوار والدوحات، حيث كانت الحرفة الرئيسة لمعظم السكّان منذ القدم الصيد والغوص على اللؤلؤ؛ مما يوضّح مدى ارتباط السكّان بالمسطحات المائية.

- اذكر أهم المدن القطرية على الساحل الشرقي.

ب- يتركز بعض السُّكَّان في مناطق الروضات الزراعية وخاصة في الشَّمال والوسط؛ حيثُ النشاط الزراعي والحيواني.

- عدّد بعض الروضات التي سبق دراستها في الوحدة الأولى.

ج- يقلُّ ويندر السُّكَّان في مناطق السبخات، والكثبان الرملية. (هل تعرف السبب؟) ناقِش معلّمك.

2 - العوامل الاقتصادية والاجتماعية:

للعوامل الاقتصادية والاجتماعية دور مؤثّر في توزيع سكان دولة قطر؛ حيثُ:

- أ - كان للنشاط الاقتصادي القائم على الصيد البحري واستغلال ثروات البحر دور رئيسي في تركّز السُّكَّان على امتداد السواحل وظهور أهم مدن وموانئ دولة قطر، مثل: الدَّوْحَة - الخور - الوكرة.
- ب - تَرَكَّز السُّكَّان في أماكن توافر مصادر الطاقة والصناعة مثل: مدينتي مسيبيدورأس لفان الصناعيتين.
- ج - يتركز السُّكَّان في مناطق وجود الخدمات الأساسية؛ كالخدمات التعليمية والصحية والإدارية والتجارية، كما في مدينة الدَّوْحَة.

مشروع الدرس: اليوم القطري للسكان.

بتاريخ 2017/10/31م، عُقد في الدوحة (اليوم القطري للسكان 2017)، الذي خصّص هذه السنة لإشهار السياسة السكانية الجديدة تحت شعار: "نحو تطبيق فعّال للسياسة السكانية لدولة قطر (2017 - 2022)".

وهدفت الاحتفالية إلى التعريف بالمراحل التي مرت بها عملية إعداد وثيقة السياسة السكانية والبرامج والخطط والآليات التي وضعتها اللجنة الدائمة للسكان من أجل تنفيذها، كما هدفت للتوصل إلى أفضل السبل وأنجحها لترجمة وثيقة السياسة السكانية إلى واقع عملي ترعاه وتدعمه الجهات المعنية بتنفيذ السياسة السكانية في الدولة.

خَطِّط مع زملائك للاحتفال باليوم القطري للسكان لهذا العام بهدف التوعية بالسياسة السكانية القطرية.

اقترح شعارًا للاحتفال.

حدّد أهداف الاحتفال ومكان الاحتفال.

حدّد الأشخاص الذين سوف تدعوهم للمشاركة في الاحتفال.

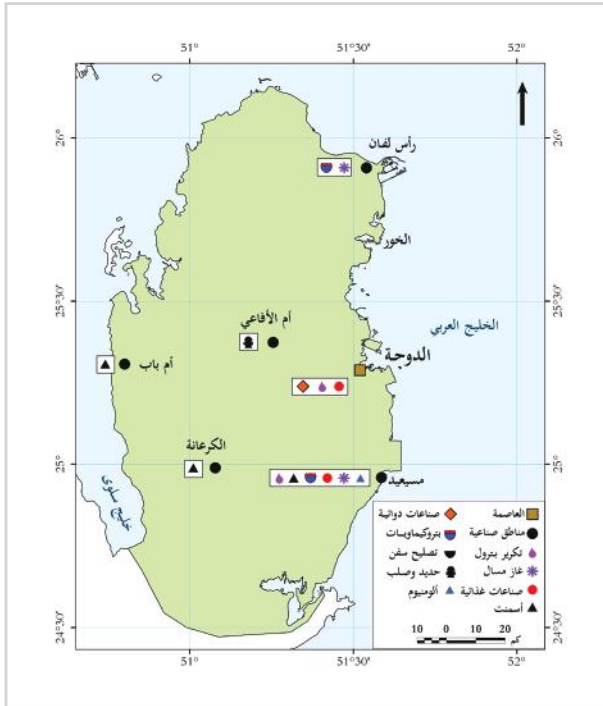


الأنشطة والتدريبات

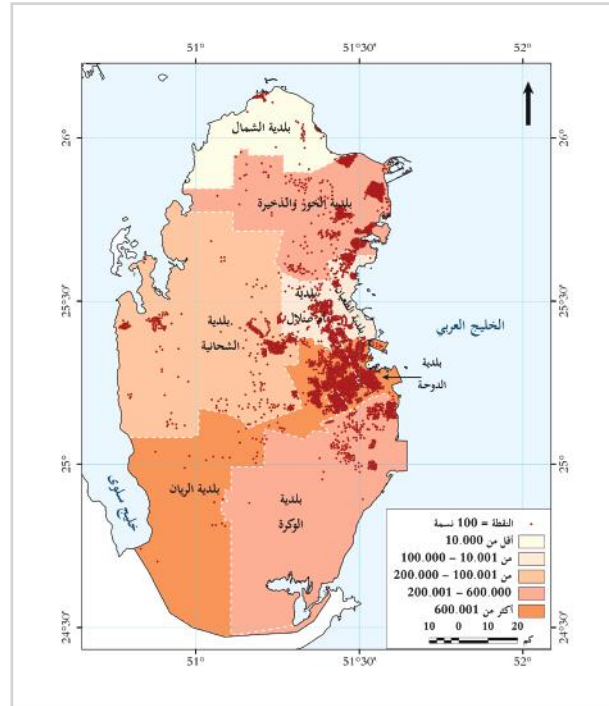
النشاط الأول: اقرأ واكتب:

أولاً: الأنشطة

لاحظ الخريطين الآتيين ثم أجب:



توزيع الصناعات في دولة قطر



الكثافة السكانية بدولة قطر

1 - أوجد أوجه التشابه بين الخريطين من حيث توزيع وتركز السكّان.

2 - على أيّ سواحل دولة قطريتركز السكّان؟ ولماذا؟

3 - استنتج ثلاثة من العوامل المؤثرة في توزيع سكان دولة قطر.

4 - عدّد المناطق التي يقلّ ويندُر السكّان بها في دولة قطر.



الأنشطة والتدريبات

النشاط الثاني: لاحظ الجدول الآتي ثم أجب:

اسم البلدية	المساحة (كم ²)	عدد السُّكَّان (نسمة)	نسبة السُّكَّان %	الكثافة السُّكَّانية
.....	235	956,457	39.8	4070
أم صلال	318	90,835	286
.....	238	54,339	2.3	228
الشَّمال	899	8,794	0.4	10
الشيخانية	3,360	187,571	56
الخور والذخيرة	1,561	202,031	8.4	129
.....	2,463	605,712	25.2	246
الوكرة	2,536	299,037	118
الإجمالي	11,610	2,404,776	100.0

(أ) استكمل بيانات الجدول.

(ب) حوّل نسبة سكان البلديات إلى شكل بياني.



الأنشطة والتدريبات

النشاط الثالث: شارك وناقش:

يختلف توزيع السكان في دولة قطر من منطقة لأخرى، وتُعدُّ مدينة الدوحة أكثر المدن من حيث تركُّز السكان.

شارك زملاءك في حلقة نقاشية حول مشكلة التَّركُّز السُّكَّاني بمدينة الدَّوْحَة على أن يتم تناول الأسئلة الآتية:

- أسباب تركُّز السُّكَّان في مدينة الدَّوْحَة.

.....

.....

.....

.....

.....

- في رأيك، ما أهم المشكلات الناتجة عن ارتفاع الكثافة السُّكَّانية بمدينة الدَّوْحَة؟

.....

.....

- قدِّم أمثلة على جهود الدولة لحل مشكلة التَّركُّز السُّكَّاني بمدينة الدَّوْحَة.

.....

.....

- استخدم مهاراتك الإبداعية في تقديم مقترحات تساعد على إعادة توزيع السُّكَّان على بلديات دولة قطر بشكل عادل.

.....

.....



الأنشطة والتدريبات

ثانيًا: التدريبات

السؤال الأول: اختر الإجابة الصحيحة من بين البدائل التالية:

- 1- البلدية التي تحتلُّ المرتبة الثَّانية في عدد السُّكَّان هي:
 - أ- الوكرة.
 - ب- الدَّوْحَة.
 - ج- الريان.
 - د- الشَّيْخَانِيَة.
- 2- أقلُّ بلديات دولة قطر من حيثُ عدد السُّكَّان:
 - أ- الشَّيْخَانِيَة.
 - ب- الشَّمَال.
 - ج- الوكرة.
 - د- أم صلال.
- 3- أكثر بلديات دولة قطر من حيثُ الكثافة السُّكَّانية:
 - أ- الدَّوْحَة.
 - ب- الظَّعَايْن.
 - ج- الخور.
 - د- الريان.
- 4- تحتل بلدية الخور المرتبة الرَّابعة من حيثُ عدد السُّكَّان بدولة قطر؛ لأنها تضم مدينة:
 - أ- مسيَّعِد.
 - ب- دخان.
 - ج- رأس لفان.
 - د- أم باب.
- 5- يتركز معظم سكان دولة قطر على امتداد الساحل:
 - أ- الشرقي.
 - ب- الغربي.
 - ج- الجنوبي.
 - د- الشمالي.



الأنشطة والتدريبات

السؤال الثاني: بم تفسّر:

1 - زيادة عدد سكان بلدية الوكرة في السنوات الأخيرة؟

.....

2 - تركّز 40 % من سكان دولة قطر في بلدية الدّوحة؟

.....

3 - انخفاض الكثافة السُّكانية في بلدية الشّيحانية؟

.....

السؤال الثالث: ما النتائج المترتبة على:

1 - تبعية مدينة رأس لفان الصناعية لبلدية الخور والذخيرة؟

.....

2 - ارتفاع الكثافة السكانية بمدينة الدوحة؟

.....

السؤال الرابع:

اذكر العوامل المؤثرة في توزيع السكان بدولة قطر.

.....

.....

.....

.....

.....

.....

تاريخ قطر بين عامي 1913 و 1949م

● الدَّرسُ الأوَّل: الشيخ عبد الله بن جاسم آل ثاني وأهم أعماله.

● الدَّرس الثاني: الأحوال السياسية والاقتصادية والاجتماعية

في عهد الشيخ عبد الله بن جاسم آل ثاني.

مهارات التقصي والبحث

- استخلاص المعلومات من أنواع مختلفة من المصادر وتقديم ملخصا لأهم الأفكار.
- التمييز بين الرأي والحقيقة تجاه قضية بحثية محددة.
- عرض معلومات ونتائج البحث باستخدام التكنولوجيا الحديثة .
- استخدام مهارات الإلقاء في شرح نتائج البحث.

في نهاية الوحدة سوف تتعلم

- توظيف الجداول والخطوط الزمنية لتوضيح توالي فترات حكام أسرة آل ثاني.
- استخدام الخطوط والجداول الزمنية لتتبع أبرز الاحداث التاريخية خلال فترات حكام أسرة آل ثاني.
- تحليل بنود معاهدة 1913م و1916م و1935م.
- توضيح أهم الأحداث السياسية والاقتصادية والاجتماعية في عهد الشيخ عبد الله بن جاسم آل ثاني.
- تفسير أسباب اتفاقيات 1913م و1916م و 1935م ونتائجها .

الدَّرْسُ الأوَّلُ :

الشيخ عبد الله بن جاسم آل ثاني
وأهم أعماله



■ الشيخ عبد الله بن

جاسم آل ثاني

الشيخ عبد الله بن جاسم آل ثاني وأهم أعماله

نجح الشيخ جاسم بن محمد بن ثاني في تأسيس إمارة سياسية راسخة وقوية، تتمتع بشخصية مستقلة ذات كيان متكامل داخليًا وخارجيًا، لها وضعها وتوجهاتها الخاصة وسط الظروف الصعبة، والمتمثلة في الصراع الدائر بين القوى الدولية في المنطقة،

اذكر أهم هذه القوى:

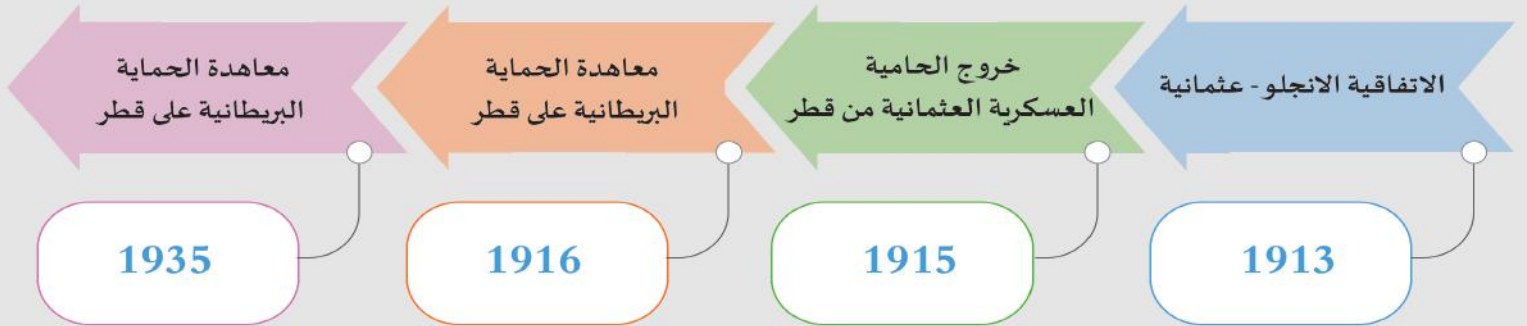
- ناقش العبارة السابقة موضحًا جهود الشيخ جاسم بن محمد بن ثاني في تأسيس الإمارة.



الشيخ عبد الله بن جاسم آل ثاني

الشيخ عبد الله بن جاسم آل ثاني:

يُعدُّ الشيخ عبد الله بن جاسم آل ثاني ثالث حكام إمارة قطر، فقد تولّى الحكم خلفًا لوالده الشيخ جاسم بن محمد بن ثاني في 17 يوليو عام 1913م، في فترة شهدت الكثير من الأحداث التاريخية، لاحظ أهم الأحداث التاريخية من خلال الخط الزمني التالي:



أولاً: الاتفاقية الأنجلو - عثمانية عام 1913م:

شهدت العلاقات القطرية البريطانية العديد من الأزمات في عهد الشيخ جاسم، لكن لم تكدُ تمضي عدة شهور على تولي الشيخ عبد الله بن جاسم آل ثاني الحكم في إمارة قطر، حتى تمَّ الاتفاق بين بريطانيا والدولة العثمانية على توقيع اتفاقية في نوفمبر عام 1913م، التي نصّت على عدّة بنود منها:

1. إلغاء كل الارتباطات العثمانية في قطر.
 2. حكم إمارة قطر وراثي في أسرة آل ثاني.
- وكان من نتائج هذه الاتفاقية أن شهدت العلاقات البريطانية القطرية تحسُّناً ملحوظاً، مما مهَّد الطريق لتوقيع معاهدة الحماية البريطانية على قطر 1916م.

في ضوء دراستك السابقة؛

- كم استمرَّ وجود القوات العثمانية في قطر؟



اقرأ وحلّل

- ما رأيك في المعاهدة؟

- ما أثر المعاهدة على كُليّ من قطر وبريطانيا؟

● ثانياً: معاهدة الحماية البريطانية على قطر؛ نوفمبر عام 1916م؛

مفاهيم أتعلَّمها:

الحماية:

هي نظام فرضته الدول الاستعمارية على البلاد المستعمرة؛ بحيث تتمتع هذه البلاد باستقلالها الداخلي، بينما تتولَّى الدولة الاستعمارية أمور الأمن، والدفاع عنها ضد أي اعتداء خارجي.

لعبت الظروف السياسية التي شهدتها منطقة الخليج العربي خلال الربع الأول من القرن العشرين، دوراً مهماً لصالح بريطانيا، خاصّة بعد اندلاع الحرب العالمية الأولى عام 1914م، وانضمام الدولة العثمانية في نفس العام إلى جانب دول الوسط ضد دول الحلفاء.

ناقش معلمك في:

- أطراف الحرب العالمية الأولى.

- تأثير الحرب العالمية الأولى على منطقة الخليج العربي.

تعرّضت الدولة العثمانية لهزائم كثيرة؛ مما اضطرَّها إلى سحب قواتها من عدة مناطق ومنها قطر 1915م، ممَّا ترتَّب عليه اضطراب الأمن وازدياد القرصنة البحرية على الساحل القطري، وازدهار تجارة السلاح.

أضف معلوماتك:

القرصنة البحرية:

هي الأفعال غير المشروعة ضد سلامة الملاحة في البحار، وقد تكون هذه الأعمال مُوجَّهة ضد السفن أو طاقمها أو مسافريها أو حمولتها.

استغلَّت بريطانيا خروج الدولة العثمانية عام 1915م، وأسَّرت في توقيع معاهدة الحماية على قطر؛ حتى تضمَّن المحافظة على وجودها ومصالحها في منطقة الخليج العربي.

وقد أقدمت بريطانيا على توقيع هذه المعاهدة لعدة أسباب؛ هي:

1. محاربة بريطانيا لتجارة الرقيق.
 2. انتشار أعمال القرصنة في المياه القطرية.
 3. ازدهار تجارة السلاح في قطر، واضطراب الأمن.
 4. سقوط منطقة الأحساء في قبضة عبد العزيز آل سعود عام 1913م.
- وبذلك قد رأت بريطانيا أن هذه الأمور جميعها تهدد المصالح البريطانية وخطوط مواصلاتها.



وضّح كيف ساهمت الظروف الدولية في عقد معاهدة 1916م؟

وقد نصّت معاهدة الحماية البريطانية على قطر؛ نوفمبر عام 1916 م، على أحد عشر بنداً؛ منها:



الكولونيل
(بي. زد. كوكس)

1. يتعهد الشيخ عبد الله بن جاسم آل ثاني بالتعاون مع الحكومة البريطانية في القضاء على تجارة العبيد وأعمال القرصنة، وبالحفاظ على السلام البحري عمومًا.
2. يتعهد الشيخ عبد الله بن جاسم آل ثاني بألا يقيم علاقات مع أي دولة أخرى دون موافقة الحكومة البريطانية.
3. يتعهد الشيخ عبد الله بن جاسم آل ثاني بالسماح للرعايا البريطانيين بالإقامة في قطر بغرض التجارة.

4. تتعهد الحكومة البريطانية بأن تمنح سفن الشيخ عبد الله بن جاسم آل ثاني وسفن رعاياه جميع الحصانات والامتيازات التي تمنحها لشيخو إمارات الساحل.
5. تتعهد الحكومة البريطانية بحماية إمارة قطر من جهة البحر.
6. يُمنع استيراد وبيع الأسلحة في قطر؛ في مقابل أن تمنح الحكومة البريطانية للشيخ عبد الله بن جاسم آل ثاني تسهيلات لشراء واستيراد الأسلحة اللازمة لقواته.

وقد تحفّظ الشيخ عبد الله بن جاسم آل ثاني على بعض البنود؛ منها:

أ- تعيين معتمد بريطاني في قطر.

ب- إقامة مركز بريد بريطاني، وتمديد خطوط البرق على أرض قطر.

ج- السماح لرعايا بريطانيا بالعمل في التجارة بداخل دولة قطر.

قيم أتعلمها:

تتطلب قيمة التفاوض الهدوء
والحكمة لتحقيق المصلحة، فاحرص
على التحلي بها في سلوكياتك اليومية.

وقد أقرّت الحكومة البريطانية على تحفّظات الشيخ عبد الله بن جاسم آل ثاني وتمّ التوقيع على المعاهدة في نوفمبر 1916م، بين الشيخ عبد الله بن جاسم آل ثاني، وبين الكولونيل (بي. زد. كوكس) المقيم السياسي البريطاني في الخليج العربي.

وقد ترتّب على معاهدة 1916م حماية بريطانيا لقطر ضد أي اعتداء بحري.

بعد قراءتك لبنود هذه الاتفاقية:

- برأيك ما مزايا المعاهدة لكل من بريطانيا وقطر؟

- إذا تعرّضت إمارة قطر لهجمات برية أو جوية؛ هل توقّر هذه الاتفاقية الحماية اللازمة لقطر من هذه الهجمات؟



اقرأ وحلّل

⊙ ثالثاً: معاهدة الحماية عام 1935م:

لم تكن معاهدة الحماية التي وقعت 1916م مع بريطانيا شاملة لحماية البلاد؛ حيث اقتصرّت على حماية قطر من جهة البحر، ونظراً لرغبة الشيخ عبد الله بن جاسم آل ثاني في حماية حدوده من التهديدات الخارجية؛ فقد بدأ التفاوض مع المقيم البريطاني في الخليج الكولونيل (تي سي فاوّل) 1935م على تجديد الحماية البريطانية.

الأسباب التي دفعت كلاً من بريطانيا والشيخ عبد الله بن جاسم آل ثاني إلى توقيع معاهدة الحماية عام 1935م:

- أ - رغبة بريطانيا في فرض مزيدٍ من السيطرة على المنطقة، وسدّ الطريق أمام الدول الأوروبية وأمريكا في الحصول على حق امتياز البحث والتنقيب عن النفط في قطر.
- ب - رغبة بريطانيا المُلِحّة في إنشاء مطار في قطر لهبوط طائراتها؛ ولتغطي بذلك المجال الجوي لكل منطقة الخليج العربي.
- ج - حاجة الشيخ عبد الله بن جاسم آل ثاني إلى السلاح، والحماية البريطانية الشاملة لبلاده.
- د - مطالبة الشيخ عبد الله بن جاسم آل ثاني لبريطانيا بالاعتراف بولي عهده ابنه الشيخ حمد، وتأييده عندما يخلفه.



من خلال ما سبق:

- صنّف أسباب المعاهدة إلى أسباب اقتصادية وسياسية وعسكرية.

● بنود معاهدة الحماية عام 1935م:

1. تعيين معتمد بريطاني في البلاد، وإقامة دائرة للبريد، ومنشآت للبرق واللاسلكي.
 2. منح بريطانيا امتياز حق التنقيب عن البترول في قطر.
 3. استخدام القوة الجوية الملكية البريطانية للدفاع عن قطر ضد أي هجمات قد تتعرّض لها.
- بتوقيع هذه الاتفاقية أصبحت قطر تحت الحماية البريطانية الشاملة ضد أي اعتداء.

بعد قراءتك لبنود هذه الاتفاقية:

1- في رأيك، ما الفائدة التي عادت على قطر من توقيع هذه الاتفاقية؟



2- استنتج المكاسب الاقتصادية التي عادت على بريطانيا من توقيع معاهدة 1935م.

كما تعهّد الشيخ عبد الله بن جاسم آل ثاني بالالتزام بنصوص معاهدة 1916م ومعاهدة 1935م هو وورثته من بعده.



الأنشطة والتدريبات

أولاً: الأنشطة

النشاط الأول: أمامك جزء من وثيقة تجديد الحماية 1935م أرسلها المقيم البريطاني في الخليج إلى الشيخ عبد الله بن جاسم آل ثاني:

مكتب المقيم السياسي البريطاني في الخليج.

11 مايو 1935م.

إلى الشيخ عبد الله بن جاسم آل ثاني المحترم،

بعد التحيات:

بالإشارة إلى رسالتكم حول موضوع الحماية ...

فإن تعليماتي من حكومة الجلالة تخوّلي إجابته بما يلي:

أ- سوف تُمنح الحماية لكم على شرط أن تعطوا امتياز النفط لشركة الزيت الأنجلو-فارسية.

ب- إن الحماية سوف تتعلّق بأي اعتداء خارجي مثل تلك الغزوات أو الاعتداءات الخطيرة من خارج حدودكم.

ج- أما بشأن الأساليب التي نقترحها لهذا الأمر من خلال سلاح الجو الملكي، فإنكم تعلمون أنه لكي تتمكّن الطائرات المجرى لمساعدتكم في أسرع وقت ممكن ... فإنه من الضروري لسلاح الجو الحصول على تسهيلات مُعيّنة، ومنها حرية استعمال التلغراف اللاسلكي عند الضرورة لسرعة الاتصال ... وإعداد أماكن لنزول الطائرات والترتيب لتخزين الوقود وتفضّلوا بقبول فائق الاحترام.

ليوتنانت كولونيل بي. سي. فاوول

المقيم السياسي بالخليج

المصدر: كتاب فصول من تاريخ قطر السياسي / أحمد زكريا الشلق ص 242 (بتصرف)

حلّل الوثيقة السابقة.

- من هم أطراف الوثيقة؟

- ما الشرط الذي عرضته بريطانيا مقابل الحماية؟

- ارتبطت الحماية البريطانية الجوية لقطر بحصولها على امتيازات أخرى. وضح ذلك.



الأنشطة والتدريبات

النشاط الثاني: ابحث وحلّل:

شارك زملائك وابحث في مكتبة قطر الوطنية عن وثيقة معاهدة 1916م، وقم بعرض تحليل مناسب لأهم بنودها، يتناول الأفكار الآتية:

- الظروف السياسية في قطر قبل المعاهدة.

.....

- أسباب عقد المعاهدة.

.....

- إبداء الرأي في المعاهدة وتقييمها.

.....



الأنشطة والتدريبات

ثانيًا:

التدريبات

السؤال الأول: اختر الإجابة الصحيحة من بين البدائل الآتية:

- 1- تمّ توقيع الاتفاقية الأنجلو عثمانية في عهد الشيخ:
 - أ- محمد بن ثاني.
 - ب- جاسم بن محمد بن ثاني.
 - ج- عبد الله بن جاسم آل ثاني.
 - د- علي بن عبد الله آل ثاني.
- 2- ترتّب على خروج القوات العثمانية من قطر:
 - أ- ازدياد القرصنة البحرية.
 - ب- كساد تجارة اللؤلؤ.
 - ج- قلة تجارة السلاح.
 - د- سوء الأحوال المعيشية.
- 3- تعهّدت الحكومة البريطانية ضمن بنود معاهدة 1916م بحماية إمارة قطر من جهة:
 - أ- البر.
 - ب- البحر.
 - ج- البر والبحر.
 - د- البر والبحر والجو.
- 4- تمّ إلغاء ارتباط قطر بالدولة العثمانية من خلال الاتفاقية:
 - أ - العثمانية القطرية 1915م.
 - ب - البريطانية القطرية عام 1916م.
 - ج - البريطانية القطرية عام 1935م.
 - د - البريطانية العثمانية عام 1913م.

السؤال الثاني: بِمَ تُفسّر؟

1- تحسّن العلاقات القطرية البريطانية منذ عام 1913م؟

2- توقيع بريطانيا معاهدة الحماية مع قطر عام 1916م؟



الأنشطة والتدريبات

3- توقيع الشيخ عبد الله بن جاسم آل ثاني على معاهدة 1935م مع بريطانيا؟

السؤال الثالث: أجب عن الأسئلة الآتية:

1- ما النتائج المترتبة على اتفاقية 1913م؟

2- ما النتائج المترتبة على خروج الحماية العثمانية من قطر 1915م؟

3- ما المقصود بالحماية؟

السؤال الرابع: قارن بين معاهدة 1916م وبين معاهدة 1935م.


معاهدة 1935م	معاهدة 1916م	وجه المقارنة
1-	1-	بنود المعاهدة
2-	2-	

السؤال الخامس: رتب الأحداث التاريخية الآتية وفقاً لتسلسلها الزمني الصحيح، وصمّم خطأ زمنياً ومثلّها عليه.

- التزام بريطانيا بحماية قطر بحرًا.
- حصول بريطانيا على حق التنقيب عن النفط في قطر.
- اندلاع الحرب العالمية الأولى.
- الاتفاقية الأنجلو عثمانية بخصوص قطر.

الدّرس الثّاني :

الأحوال السياسية والاقتصادية والاجتماعية
في عهد الشيخ عبد الله بن جاسم آل ثاني



الأحوال السياسية والاقتصادية والاجتماعية في عهد الشيخ عبد الله بن جاسم آل ثاني

شهدت قطر تغيراً في الأحوال السياسية والاقتصادية والاجتماعية، التي مرّت بها دولتنا الحبيبة خلال فترة حكم الشيخ عبد الله بن جاسم آل ثاني، والتي كان لها الأثر الكبير في سكان قطر آنذاك: فهل تعرف تلك الأحوال السياسية والاقتصادية والاجتماعية التي حدثت في قطر بين عامي 1913م إلى 1949م؟

أولاً: الأحوال السياسية في عهد الشيخ عبد الله بن جاسم آل ثاني:

سَلَّمَ الشيخ عبد الله بن جاسم آل ثاني مقاليد الحكم لولي عهده ابنه الشيخ حمد؛ لمرضه وكِبَرِ سِنِّهِ، وقد اشتهر الشيخ حمد بن عبد الله آل ثاني بالحكمة وبُعد النظر، وعُرِفَ بالتدبُّن، وكان يتمتّع بشعبية واسعة بين أهل قطر؛ بفضلِ تسامُحه، وعُمُقِ إيمانه، ولكن وافته المنية في مايو عام 1948م. عيّن الشيخ عبد الله بن جاسم آل ثاني، ابنه الشيخ علي بن عبد الله آل ثاني وليّاً للعهد في يونيو 1948م، بعد مبايعة أسرة آل ثاني وأهل الحل والعقد من وجهاء قطر، ثم تنازل الشيخ عبد الله بن جاسم آل ثاني له عن الحكم عام 1949م.

ثانياً: الأحوال الاقتصادية؛ في عهد الشيخ عبد الله بن جاسم آل ثاني:

لم يكد يمضي على تسَلُّم الشيخ عبد الله بن جاسم آل ثاني فترة من الزمن في الحكم حتى بدأت تُعاني البلاد من سوء الأحوال الاقتصادية عقب تدهور حرفة الغوص على اللؤلؤ، وكساد تجارتها؛ وذلك لأسباب عديدة؛ منها:

1. ظهور اللؤلؤ الصناعي الياباني منذ مطلع القرن العشرين، وإغراق الأسواق العالمية به؛ ممّا أدّى إلى انخفاض أسعار اللؤلؤ الطبيعي.
2. إغلاق الأسواق الأوروبية أمام تصريف اللؤلؤ القطري بسبب الحرب العالمية الثانية، حيثُ كانت فرنسا هي المستورد الرئيس له.

التنقيب عن البترول:



حقل دخان

بدأت عملية التنقيب عن النفط عام 1935م في حقل دخان البري غرب قطر من خلال الشركة الأنجلو فارسية، ولكن توقفت عمليات التنقيب بسبب قيام الحرب العالمية الثانية؛ مما ترتب عليه قلّة مصادر الدخل، ثم عادت عملية التنقيب عن النفط مرة أخرى مع انتهاء الحرب العالمية الثانية، وبدأت الأحوال الاقتصادية والاجتماعية في التحسّن.

في ضوء ما سبق أجب عن الأسئلة الآتية:

1- اذكر الحرفة التي ارتكزت عليها الحياة الاقتصادية في قطر قبل النفط.

2- كان لظهور اللؤلؤ الصناعي آثار سلبية على الاقتصاد القطري. وضح ذلك.



فكر وأجب

ثالثاً: الأحوال الاجتماعية في قطر؛ في عهد الشيخ عبد الله بن جاسم آل ثاني؛

نتج عن تدهور الأحوال الاقتصادية في بداية عهد الشيخ عبد الله بن جاسم آل ثاني أن شهدت البلاد انخفاضاً كبيراً في عدد السكّان؛ لهجرة أعداد كبيرة منهم إلى المناطق المجاورة بحثاً عن فرص العمل، وقد قدّرت الهجرة بحوالي ربع سكان إمارة قطر. كما ساءت الأوضاع الاجتماعية؛ فقد ارتفعت الأسعار، وعمّ الغلاء.

وصف أحد الكُتّاب الأوضاع الاجتماعية والاقتصادية خلال فترة كساد تجارة اللؤلؤ، قائلاً:

«بلغ سوء الحال بالناس أنّ الكثيرين ضاقوا ذرعاً بحاجتهم لتدبير المؤونة، وأنّ أوعية التمر كانت تُؤخذ وتُبَلُّ بالماء؛ ليدوب ما علّق بقاعها وأطرافها من بقايا التمر؛ ليكون من ذلك عصير باهت يُعين بعض الشيء على الجوع».



اقرأ وأجب


من خلال فهمك لما سبق:

- ما تقديرك لتحمل الشعب القطري هذه الفترة العصيبة؟

- لو كنت من مواطني ذلك العصر؛ ماذا كنت ستفعل حيال هذه الأزمات؟

● مظاهر الحياة الاجتماعية :

● أولاً: التعليم:



الكتاتيب

بدأ التعليم في قطر أهلياً؛ حيث تولى التُّجَّار والقضاة الإنفاق عليه لحاجتهم إليه من أجل التدوين والتسجيل والحساب؛ لتنظيم أعمالهم ومعاملاتهم الاقتصادية بالداخل والخارج، ومن هنا عرفت قطر على يد رجالها من التُّجَّار وعلماء الدين ظهور بوادر للتعليم القائم أساساً على الكتاتيب التي يُدرَّس فيها فقط القراءة والكتابة وحفظ القرآن الكريم وتجويده.

- اذكر أسباب الحاجة إلى التعليم قبل النفط.

- وضح دور الكتاتيب في التعليم قبل ظهور النفط.

اهتمَّ الشيخ عبدالله بن جاسم آل ثاني بعد توليه الحكم بالتعليم، فوسَّع من الكتاتيب، ودعا الشيخ محمد بن مانع من نجد، وأوكله مهمة إنشاء المدرسة الأثرية التي تمَّ افتتاحها سنة 1913م، وشملت مناهجها العلوم الشرعية واللغة العربية، وألحقَ بالمدرسة مكتبة ساهمَ تجار قطر بإنشائها من خلال جلب العديد من الكتب من الخارج.

وتُعد السيدة آمنة محمود الجيدة -إحدى أبرز المُعلِّمات المتطوعات- رائدة العمل النسائي بقطر؛ فهي أول مُعلمة قطرية، وأول مديرة لأول مدرسة قطرية نظامية للبنات بقطر، وذلك بعد أن تحوَّل كُتَّابها لأول مدرسة حديثة لتعليم البنات في عام 1956م.

- دَلِّلْ على اهتمام قطر بتعليم المرأة.



- ما مسؤولية المجتمع في نهضة التعليم؟

ثانياً: دور المجالس ثقافياً واجتماعياً واقتصادياً:

قيمُ أتعلّمها:

شارك في بناء وطنك؛ لأن الأمم
تُبنى بحكمة قادتها وسواعد
أبنائها.

تُمثِّل المجالس عنصراً أساسياً في الحياة الاجتماعية والثقافية للمجتمع القطري في تلك الفترة، فقد كانت بمثابة الأندية الثقافية التي اهتمت بإنعاش الحركة الفكرية، حيث كانت تدور في المجالس المناقشات الأدبية والفكرية، وإلقاء الشعر، وقراءة الروايات، ومناقشة بعض المسائل الفقهية والدينية.

وقد حرص الآباء كثيراً على اصطحاب أبنائهم للمجالس للاستماع إلى أحاديث الكبار والتعلُّم من مُجالستهم أساسيات الحياة، وعادات وتقاليد استقبال الضيوف، وبخلاف ذلك كان للمجلس دور اقتصادي؛ حيث اعتُبرت مكاناً للتبادل التجاري، ففيها يجتمع النواخذة والتُّجَّار، ويتمُّ عقد العديد من الصفقات التجارية بين التُّجَّار المحليين أنفسهم وبين التجار الأجانب.

اقترح بعض الأفكار الجديدة لتعزيز الدور الثقافي للمجالس حالياً.



ثالثاً: القضاء:

أضف معلوماتك:

اشتقت تسمية محكمة السالفة من الكلمة العامية «السالفة» وهي أن المشتكي يعرض قضيته شفويًا على المحكمة، وهذه المحكمة متخصصة بالنظر في منازعات الغوص.

كان المجتمع القطري قبل النفط مجتمعًا بسيطًا، وكذلك كان الحال بالنسبة للقضاء، حيث جرت العادة أن يعيّن شيخ قطر شخصًا لسماع شكاوى الخصوم، والذي غالبًا ما يُتخذ مجلس في السوق أو بالقرب من مقرّ الحاكم، فيفد إليه المتخاصمون للنظر في شكاويهم، ويحاول أن يجد لهم الحلول المُرضية والصلح بين المختصمين، وفي حالة عدم رضا الأطراف المتخاصمة بحلول

الشيخ، فإنه يبعثهم إلى القاضي، كل حسب نوع شكواه وقضيته، وانقسمت المحاكم في قطر إلى:

أ- المحاكم الشرعية.

ب- محكمة السالفة.

قيمّ اتعلمها:

كن مصلحًا بين الناس وعونًا لهم في حل مشاكلهم.

ومن أشهر القضاة في قطر في تلك الفترة الشيخ عبد الرحمن بن عبد الله الدرهم، القاضي محمد بن جابر الجابر، ثم بعد ذلك تمّ تعيين الشيخ محمد بن مانع كبير القضاة في الدوحة، فكان يعمل مُعلِّمًا وإمامًا وقاضيًا، وفي الخور كان الشيخ إبراهيم الأنصاري.

من خلال فهمك لما سبق:

ما تقييمك لدور التعليم والقضاء في بناء المجتمع؟



حلّل وأجب



الأنشطة والتدريبات

النشاط الأول: ابحث من خلال شبكة المعلومات الدولية عن فيلم "اللؤلؤ والنפט في قطر" ثم أجب

أولاً:
الأنشطة

- ما الحرف الرئيسة قبل ظهور النفط؟
- صف وضع تجارة اللؤلؤ في قطر في بداية القرن العشرين كما جاء في الفيلم.
- اكتشاف النفط كان المنقذ لقطر من استمرار تدهور أوضاعها الاقتصادية والاجتماعية. وضح ذلك.
- كيف يمكن أن تواجه الدولة مشكلة الاعتماد على مصدر واحد في الاقتصاد؟

النشاط الثاني: قم بزيارة مكتبة قطر الوطنية وقراءة كتاب: (السيدة أمينة محمود الجيدة (1913-2000): رائدة تعليم البنات والعمل النسائي في دولة قطر).

- لخص أهم الأفكار التي أعجبتك في شخصية السيدة أمينة محمود الجيدة.
- صمم ملخصاً للكتاب في عرض تقديمي.
- قم بعقد حلقة نقاشية مع زملائك حول موضوع الكتاب.



الأنشطة والتدريبات

ثانيًا: التدريبات

السؤال الأول: اختر الإجابة الصحيحة من بين البدائل التالية:

- 1- شهدت قطر في بدايات حكم الشيخ عبد الله بن جاسم:
- أ- هجرات وافدة للبلاد. ب- هجرات خارجة من البلاد.
- ج- نموًا عمرانيًا كبيرًا. د- تصدير النفط للخارج.

- 2- توقفت عملية التنقيب عن النفط 1939م في قطر بسبب:
- أ - قيام الحرب العالمية الأولى. ب- قيام الحرب العالمية الثانية.
- ج- إفلاس الشركة البريطانية. د- عمليات القرصنة البحرية.

- 3- من أسباب كساد تجارة اللؤلؤ في قطر:
- أ - ظهور اللؤلؤ الياباني. ب - اتجاه السُّكَّان إلى الصناعة.
- ج - ظهور النفط. د- انخفاض مستوى المعيشة.

- 4- بدأت عملية التنقيب عن النفط في قطر في حق:
- أ - دخان. ب - الوكرة.
- ج - مسيعيد. د - الرويس.

- 5- تنازل الشيخ عبد الله عن الحكم عام 1949م للشيخ:
- أ - حمد بن عبد الله آل ثاني. ب - علي بن عبد الله آل ثاني
- ج - أحمد بن علي آل ثاني. د - خليفة بن حمد آل ثاني

- 6- كانت أكثر الدول الأوروبية استيرادًا للؤلؤ الطبيعي من قطر:
- أ - بريطانيا. ب- فرنسا.
- ج- إيطاليا. د- إسبانيا.



الأنشطة والتدريبات

السؤال الثاني: أجب عن الأسئلة الآتية:

- 1- بِمَ تفسّر تدهور حرفة الغوص على اللؤلؤ وكساد تجارته؟
.....
- 2- أثّرت الحرب العالمية الثانية سلباً على الأحوال الاقتصادية القطرية، وضح ذلك.
.....
- 3- علّل تحسّن الأحوال الاقتصادية في قطر نسبياً منذ عام 1949م.
.....
- 4- اذكر أبرز الأحداث السياسية التي شهدتها فترة حكم الشيخ عبد الله بن جاسم آل ثاني.
.....
- 5- ما النتائج المترتبة على تدهور الأحوال الاقتصادية في بداية عهد الشيخ عبد الله بن جاسم آل ثاني؟
.....
- 6- صفّ أحوال القضاء في عهد الشيخ عبد الله بن جاسم آل ثاني.
.....

السؤال الثالث: برهن على صحة العبارات التالية تاريخياً:

- 1- لعبت المجالس دوراً ثقافياً واجتماعياً واقتصادياً مهماً في المجتمع القطري. وضح ذلك.
.....
- 2- بدأ التعليم في قطر أهلياً.
.....

الديمقراطية

الدرس الأول: الشورى والديمقراطية 🌐

الدرس الثاني: النزاهة والشفافية 🌐

مهارات التقصي والبحث

- استخلاص المعلومات من أنواع مختلفة من المصادر
ويقدم ملخصاً لأهم الأفكار.
- توظيف الأدلة والبراهين لإثبات صحة نتائج
البحث.
- استخدام مهارات الإلقاء في شرح نتائج البحث.

في نهاية الوحدة سوف تتعلم

- أهمية مبدأ الفصل بين السلطات.
- توضيح مبدأ سيادة القانون كمظهر من مظاهر
الديمقراطية .
- تقدير أهمية مبدأ الشورى كأساس من أسس
الديمقراطية.
- دور الفرد في محاربة الفساد والجريمة.

الدَّرسُ الأوَّلُ :

الشورى والديمقراطية



الشورى والديمقراطية

الشورى:

ماذا تعني لك قيمة الشورى؟



الشورى مبدأ من مبادئ الحكم منذ القدم، فقد كانت الشورى بديلاً سياسياً واجتماعياً عن السلطة عند العرب قبل

الإسلام؛ فقد كانت دار الندوة التي يجتمع فيها أهل قريش مثلاً واضحاً على تطبيق مبدأ الشورى في

قيم أتعلّمها:

من أقوال علي بن أبي طالب
عليه السلام: (مَنْ شَاوَرَ النَّاسَ شَارَكَهُمْ
فِي عَقُولِهِمْ).
فاحرص على تطبيق مبدأ
الشورى في حياتك.

كما عرفت أطراف الجزيرة العربية أنظمة كثيرة للحكم في القرون التي سبقت الإسلام، فمثلاً في اليمن ظهرت مملكة سبأ التي شهدت نظاماً ملكياً فيه نوع من الشورى، قال الله تعالى: ﴿قَالَتْ يَتَأْتِيَ الْأَمْلَأُ أَفْتُونِي فِي أَمْرِي مَا كُنْتُ قَاطِعَةً أَمْرًا حَتَّى تَشْهَدُونِ﴾ [النمل: 32].

– أيُّهما أفضل، أن تتخذ قراراً بمفردك؟ أم تُشاور فيه الآخرين؟ وضح فائدة ذلك على الفرد والمجتمع.



عزّز الإسلام بعد مجيئه مبدأ الشورى، فقد قال الله تعالى: ﴿وَشَاوِرْهُمْ فِي الْأَمْرِ﴾ [آل عمران: 159] فكانت سياسة النبي ﷺ قائمة على أساس الشورى، فلا يتخذ قراراً في أمر من أمور الدنيا إلا بالمشورة؛ حيث اتخذ الشورى أسلوباً للحياة.

وقد طبّق الرسول ﷺ الشورى تطبيقاً عملياً في كثير من المواقف والأحداث، ومنها:

- عندما علّم النبي ﷺ أن قريشاً قد جاءت لحربه ووصلت إلى مشارف المدينة، فاستشار أصحابه،

وكان رأيهُ ﷺ عدمَ الخروج من المدينة، ولكن أغلبيّة المسلمين أرادوا الخروج إلى أحد لمواجهة المشركين هناك، فوافق النبي ﷺ على رأي الأغلبية، وقرّر الخروج إلى أحد.

- ما أهمية تطبيق الشورى في المجتمع؟
- اذكر موقفًا من حياتك طبّقت فيه الشورى.
- اجمع بعض الأدلّة على تطبيق الشورى في الإسلام.
- بماذا تنصح شخصًا يصرُّ على رأيه ولا يفضّل استشارة الآخرين؟



فكّر وناقش

أضف معلوماتك:

مجلس الشورى:

يرجع تاريخ مجلس الشورى في دولة قطر إلى عام 1972م، ويمثّل مجلس الشورى بها أحد جناحي السلطة؛ فالقوانين لا تُصدّر إلا بعد عرض مشروعاتها على مجلس الشورى، ودراستها، وإبداء رأيه وتوصياته حولها، والجناح الآخر للسلطة هو مجلس الوزراء الذي يتولى اقتراح القوانين، وإعداد مشروعاتها، وإحالتها إلى مجلس الشورى.

1 - تحقّق العدل والمساواة في المجتمع.

2 - تعزيز من الثقة وحرية الرأي بين أفراد المجتمع.

3 - تمنح الحرية والتعبير عن الرأي ونبذ الديكتاتورية.

4 - تُسهم في اتخاذ القرارات السليمة التي تخدم المجتمع في مختلف المجالات.

أهمية مبدأ الشورى:

تتشابه الشورى مع الديمقراطية؛ حيث يقومان على مبدأ «التشاور الجماعي» ودوره في تحقيق الصالح العام، ويُشير تطبيق الديمقراطية في أيّة دولة إلى مدى الوعي السياسي الذي يتوفر لدى أبنائها، ومدى توفر مجموعة من الحقوق الإنسانية التي يتمتعون بها، فمشاركة الأفراد في إدارة شؤون بلادهم، والتعبير عن أفكارهم، يساعد على دعم مبادئ الديمقراطية، وإرساء قيم المواطنة لديهم.

«إن الديمقراطية هي سبيلنا إلى فكرة التقدم، ولا نستطيع غيرها أن نجد لأنفسنا موضعاً في زماننا. إننا بحاجة إلى تهيئة البيئة المناسبة لخلق روح الابتكار والتجديد، وذلك لن يتحقق إلا عن طريق المشاركة الشعبية، واحترام حقوق الإنسان».

من كلمة سمو الأمير الوالد الشيخ حمد بن خليفة آل ثاني في منتدى الدوحة للديمقراطية والتجارة الحرة 2008.

– ناقش كلمة سمو الأمير الوالد، موضِّحاً أهمية الديمقراطية وآثارها على الفرد والمجتمع.



مبادئ الديمقراطية :

ترتكز الديمقراطية على عدة مبادئ مهمة، بدونها لا تتحقق العدالة والمساواة بين أبناء الشعب الواحد.

اقرأ النصَّ الآتي ثم أجب عن التساؤلات التي تليه:

إن الديمقراطية التي نتحدث عنها ونسعى لترسيخها كقاعدة للحكم في بلدنا، تستمدُّ قاعدتها وعناصرها من تراث عقيدتنا، وتطبيقات وتجارب الديمقراطيات الراسخة في العالم، آخذين في الاعتبار التقاليد الحافلة بالقيم الإسلامية، والعلاقات والوشائج الأسرية التي نعتزُّ بها. ومنذ عدة أعوام وقطر تشهد عملية الديمقراطية التي تسعى لتعزيزها وتطويرها.

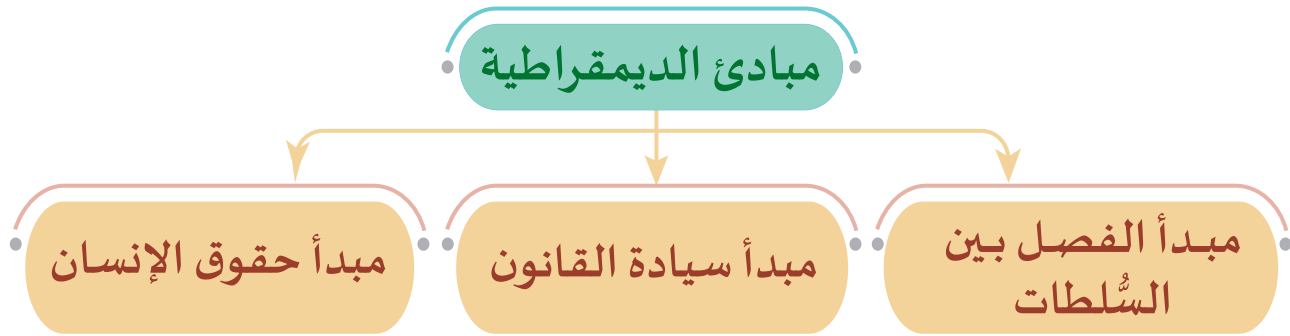
من كلمة سمو الأمير الوالد حمد بن خليفة آل ثاني في منتدى الدوحة الخامس للديمقراطية والتجارة الحرة 2005م.

– ما الأسُس التي اعتمدت عليها الديمقراطية في دولة قطر؟

– ما أهمية الحفاظ على القيم والثوابت الوطنية في المجتمع؟

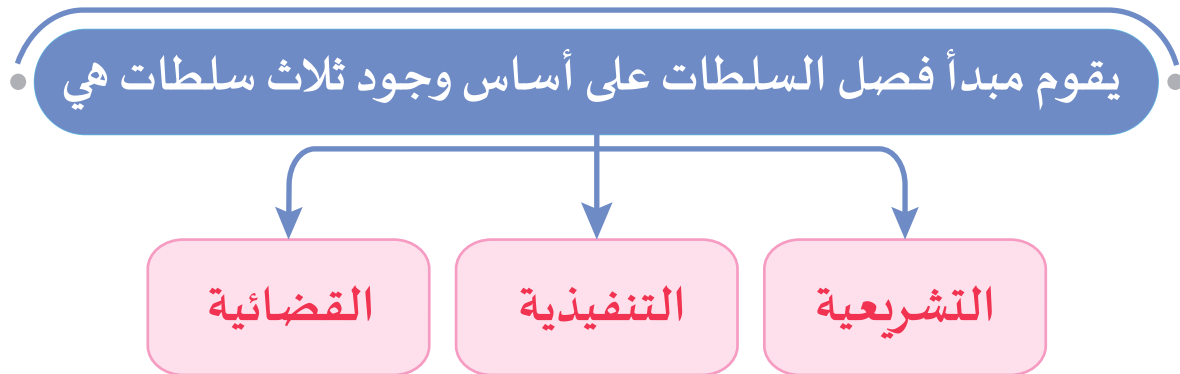


انظر الشكل التالي لتتعرف على بعض مبادئ الديمقراطية:



1- مبدأ الفصل بين السلطات:

يُعدُّ مبدأ الفصل بين السلطات أهمَّ مبادئ الديمقراطية على الإطلاق، والركن الأساسي الذي تنجح به أيَّة دولة تسعى لتطبيق النظام الديمقراطي في الحكم، ويُقصد به أن تُمارس كل سلطة صلاحياتها أو وظيفتها بصفة مستقلة عن الأخرى، ولكن تتعاون فيما بينها.



وإذا حدث الفصل بين تلك السلطات، فإن النظام السياسي في الدولة يكون أقرب إلى النظام الديمقراطي.

– في رأيك، ما أهمية مبدأ الفصل بين السلطات؟



تساؤل ذاتي

أهمية مبدأ فصل السلطات:

- 1- ضمان الاستقلالية والنزاهة من خلال فصل مجلس الشورى عن الحكومة من جهة، وفصل القضاء عن الحُكام من جهة أخرى.
- 2- إيجاد رقابة فعّالة لضمان عدم انحراف أيٍّ من سلطات الدولة الثلاث عن الحدود القانونية المرسومة لها، أو التعسّف في استخدام الحقوق المقرّرة لها.
- 3- الحفاظ على الحقوق والحريات.
- 4- أداء الدولة لوظائفها بإتقان؛ نتيجة تقسيم العمل، ومباشرة كل سلطة من سلطات الدولة لوظيفتها، والتركيز عليها.

ادخل على الموقع الرسمي الإلكتروني لمجلس الشورى القطري، وأجب عن التساؤلات التالية:

- ما أهم اختصاصات المجلس؟
- كم عدد لجان المجلس؟
- ما أهمية مجلس الشورى من وجهة نظرك؟
- ما مقترحاتك لتطوير منظومة العمل بالمجلس؟



2- مبدأ سيادة القانون:

سيادة القانون هي إحدى العناصر الرئيسية التي تقوم عليها الدولة الديمقراطية؛ وذلك لأن القانون يصدر عن هيئة منتخبة تمثل الشعب، وتمارس السيادة باسمه كما نصّ على ذلك الإعلان العالمي لحقوق الإنسان.



أهمية مبدأ سيادة القانون:

ولمبدأ سيادة القانون أهمية كبيرة، تتمثل في:

- 1- تطبيق أحكام القانون بعدالة ومساواة على كل المواطنين في المجتمع، بغض النظر عن انتماءاتهم السياسية أو الدينية أو العرقية، أو المناصب التي يشغلونها في المجتمع.
- 2- ضمان وجود حكومة شرعية عادلة، تضع قواعد العمل، وتلتزم بمراعاتها.
- 3- تنظيم حماية حقوق الإنسان وحُرِّيَّاته.

أضف معلوماتك:

الإعلان العالمي لحقوق الإنسان لعام 1948م: يعطي سيادة القانون مكانة بارزة، وينصُّ على أنه من الضروري أن تتمتع حقوق الإنسان بحماية سيادة القانون، إذا أريد للبشر ألا يُضطَّروا آخر الأمر إلى اللجوء بالتمرد على الطغيان والاضطهاد.

اقرأ المادة التالية، ثم أجب عمَّا يلي:

تنصُّ المادة 129 من الدستور القطري على أن:

«سيادة القانون أساس الحكم في الدولة، وشرف القضاء ونزاهة القضاة وعدلهم ضمان للحقوق والحريات».

1 - ما أهمية هذه المادة القانونية من وجهة نظرك؟



3- مبدأ حقوق الإنسان:

تُعدُّ حقوق الإنسان أحد أهمِّ المبادئ التي تستند عليها الديمقراطية، فحقوق الإنسان والديمقراطية متلازمان ومتَّمانٍ لبعضهما البعض، ولا يمكن الفصل بينهما، حيث إن الديمقراطية تُعدُّ النظام الداعم لحقوق الإنسان، كما أن وجود الحقوق الإنسانية هو خير دليل على نمو الديمقراطية وتعزيزها، ومن خلال تلك العلاقة التكاملية، تصبح كل دولة بمثابة كيان واحد يتمتع بالقوة والاستقلال، ويتمتع أفرادها بالحقوق الإنسانية وفق ما ورد في الإعلان العالمي لحقوق الإنسان، وذلك على نحو متساوٍ، وبغض النظر عن الاختلافات بينهم، سواء في النوع أو المستوى الاقتصادي والاجتماعي.

أضف معلوماتك :

الإعلان العالمي لحقوق الإنسان، وثيقة تاريخية هامة في تاريخ حقوق الإنسان، صاغه ممثلون من مختلف الخلفيات القانونية والثقافية من جميع أنحاء العالم، واعتمدت الجمعية العامة الإعلان العالمي لحقوق الإنسان في باريس في 10 كانون الأول/ ديسمبر 1948م. وهو يحدّد (وللمرة الأولى) حقوق الإنسان الأساسية التي يتعيّن حمايتها عالميًا. وتُرجمت تلك الحقوق إلى 500 لغة من لغات العالم.

أنواع حقوق الإنسان :

تتعدّد أنواع الحقوق الإنسانية، لاحظ الشكل التالي لتتعرف بعض هذه الحقوق:



1 - حقوق مدنية وسياسية؛ كالحق في الترشح والانتخاب.



2 - حقوق اجتماعية وثقافية؛ كالحق في التعليم والرعاية الصحية.



3 - حقوق اقتصادية؛ كالحق في العمل.

الحقوق المدنية والسياسية :

يُطلق على مجموعة الحقوق المدنية والسياسية الجيل الأول من الحقوق، ويمكن القول: إن هذه الحقوق يجب أن يتمتع بها جميع أفراد المجتمع، وتشمل الحق في:

- حرية التنقل.

- المساواة أمام القانون.

- حرية الرأي والتعبير.

- المشاركة في الشؤون العامة والانتخابات.

- حماية حقوق الأقليات.

قيم أتعلمها :

صوتك أمانة، فاحرص دائماً
على المشاركة برأيك، والتعبير
بحرية عن أفكارك.

الحقوق الاجتماعية والثقافية :

يُطلق عليها الجيل الثاني لحقوق الإنسان، وهي حقوق أساسية من حقوق الإنسان، وجزء لا يتجزأ منها. وكثيراً ما يُنظر إليها على أنها حقوق جماعية وليست فردية. ومن أمثلتها ما يلي:

- الحق في رعاية صحية شاملة.

- الحق في الحماية الاجتماعية ومستوى معيشي لائق.

- الحق في الاستفادة من حماية المصالح المعنوية والمادية المترتبة على أي عمل علمي أو أدبي أو فني ينتجه شخص ما.

أضف لمعلوماتك :

الحقوق البيئية والتنمية:

نتيجة تزايد حجم الصراعات والنزاعات، وتنامي ظاهرة الإخلال بالتوازن البيئي، وانتشار المجاعات والأمراض، والثورة التكنولوجية ... ظهرت حقوق أخرى يُطلق عليها الجيل الثالث لحقوق الإنسان، ومن الأمثلة على هذه الحقوق: الحق في السلام - والحق في بيئة نظيفة وخالية من التدمير - والحق في تداول المعلومات.

الحقوق الاقتصادية :

يُعدّ الحق في ممارسة النشاط الاقتصادي والحق في إشباع الحاجات من الحقوق التي لا يمكن التهاون فيها أو التخلي عنها؛ لأنها تتعلق بمصير وحياة الإنسان، ومن أمثلة هذه الحقوق:

- حق الملكية.

- الحق في العمل في ظروف عادلة ومُرضية.

- الحق في الحصول على مُعدّل دخل يوفر للإنسان حياة كريمة.

مشروع الدرس:

- ابحث في دستور دولة قطر عن بعض المواد الدستورية التي تتضمن حقوق الإنسان من جهة، والتي تعكس الديمقراطية من جهة أخرى.
- استخرج الحقوق التي يكفلها الدستور للمواطن القطري.
- ما علاقة هذه المواد بتحقيق الديمقراطية؟
- كل حق يقابله واجب، فما واجبك تجاه وطنك؟



الأنشطة والتدريبات

أولاً: الأنشطة

النشاط الأول: صمّم وشارك:
بالتعاون مع زملائك، صمّم شعاراً يعبر عن الديمقراطية، وانشُرْه على صفحتك الشخصية بأحد مواقع التواصل الاجتماعي.



النشاط الثاني: فكّر وقيّم:

تخيّل أنك أصبحت مسؤولاً عن تقييم النظام الديمقراطي في إحدى البلدان، وطلّب منك الحكم على جودة تطبيق الديمقراطية في تلك الدولة.

حدّد الأدلة المرتبطة بمعايير تطبيق الديمقراطية على النحو التالي:

أدلة تطبيقها	المعايير
.....	دستور ديمقراطي مستفتى عليه.
.....	فصل واضح ما بين السلطات الثلاث.
.....	مجتمع مدني فاعل.



الأنشطة والتدريبات

السؤال الأول: اختر الإجابة الصحيحة من بين البدائل الآتية:

ثانيًا:
التدريبات

1- يُعَدُّ أحد مبادئ الديمقراطية، ويُقصد به أن تمارس كل سلطة اختصاصاتها بشكل مستقلٍّ عن السلطات الأخرى مبدأً:

- أ - سيادة القانون. ب - الفصل بين السلطات.
ج - الشورى. د - المساواة أمام القانون.

2- يُعَدُّ الحقُّ في المساواة أمام القانون من الحقوق:

- أ - الاجتماعية. ب - المدنية.
ج - الدينية. د - الاقتصادية.

3- يُعَدُّ الحق في التعليم من الحقوق:

- أ - المدنية. ب - السياسية.
ج - الاقتصادية. د - الاجتماعية.

السؤال الثاني: أجب عن الأسئلة الآتية:

1- قارن بين مبدأي: الفصل بين السلطات، وسيادة القانون من حيث أهمية كلٍّ منهما.

المبدأ	فصل السلطات	سيادة القانون
الأهمية



2- ما علاقة الديمقراطية بحقوق الإنسان؟

.....

3- ما النتائج المترتبة على:

- تطبيق مبدأ الفصل بين السلطات؟

.....

- العمل وفق مبدأ سيادة القانون؟

.....

4- بم تُفسر:

- اتجاه بعض الدول نحو تطبيق الديمقراطية؟

.....

- أهمية مبدأ الشورى؟

.....

الدُّرس الثَّاني : النزاهة والشفافية



هيئة الرقابة الإدارية والشفافية

ADMINISTRATIVE CONTROL & TRANSPARENCY AUTHORITY

النزاهة والشفافية

تُعَدُّ كُلُّ من النزاهة والشفافية مبادئ أصيلة متضمّنة في كافة الأديان والتشريعات؛ لذا تحرص كافة الدول على تطبيق النزاهة والشفافية بكل مؤسساتها، بهدف الحفاظ على مُقدّراتها ومكتسباتها، وتحقيق التنمية الشاملة بها، ومن ثَمَّ منع انتشار الفساد.

أولاً: مفهوم النزاهة:

مجموعة القيم المتعلقة بالصدق والأمانة والإخلاص في العمل، والالتزام بالسلوك القويم لتجنّب تضارب المصالح والاهتمام بالمصلحة العامة.

ثانياً: مفهوم الشفافية:

هي اطلاع الجمهور على السياسات العامة للدولة وكيفية إدارتها من قِبَل القائمين عليها.

أهمية تطبيق مبادئ النزاهة والشفافية:

- 1 - التقليل من انتشار الفساد على المستوى المحلي.
- 2 - تحسين جودة الخدمات المقدّمة من الدولة للمواطنين.
- 3 - التقليل من هدر المال العام، مع المحافظة على الممتلكات العامّة.
- 4 - رفع مستوى الوعي الحقوقي لدى المواطنين، وتحفيزهم على المشاركة في التنمية والمطالبة باحتياجاتهم.
- 5 - الالتزام بجودة العمل في ضوء معايير الجودة.

- يمكن رصد عدد من المؤشرات الضرورية لضمان شفافية المؤسسة التي تُعنى بالشأن العام كالتالي:

- 1 - سيادة القانون على الجميع.
 - 2 - وجود دستور للدولة يُحدّد العلاقة بين مؤسسات المجتمع وأفرادها.
 - 3 - تحديد السلطات، والأخذ بمبدأ الفصل بين السلطات.
 - 4 - معرفة المواطنين بأنشطة المؤسسة وبرامجها، وكيفية الحصول على خدماتها.
 - 5 - توافر وثائق واضحة حول أهداف المؤسسة، وفلسفة عملها، وبرامجها وإتاحتها للجمهور.
- ولضمان تطبيق واحترام مؤشرات الشفافية لا بد من وجود سياسة عامة للنشر، والإفصاح عن المعلومات للجمهور المَعْنِي، وإتاحة الفرصة لهم للاطلاع على القرارات العامّة الصادرة عن المؤسسة.

صنّف مؤشرات النزاهة والشفافية على مستوى الدولة والعمل في المؤسسة:

مؤشرات وجود النزاهة
والشفافية في المؤسسة

.....

.....

.....

مؤشرات وجود النزاهة
والشفافية في الدولة

.....

.....

.....



فكّر وأجب

دور دولة قطر في تعزيز النزاهة والشفافية ومكافحة الفساد:

يحظى موضوع مكافحة الفساد، والعمل على استئصاله، والحدّ من انتشاره، باهتمام الأمم المتحدة والمجتمع الدولي، الذي سعى في سبيل مواجهة هذه الظاهرة، إلى وضع إستراتيجية دولية شاملة ومستدامة لمكافحته، والحد من استشرائه.

وفي هذا الصدد اتخذت دولة قطر العديد من الخطوات الهامة للتجاوب مع الجهود الدولية في سبيل مكافحة الفساد، والتي يمكن توضيحها في النقاط التالية:



- 1- مصادقتها على اتفاقية الأمم المتحدة لمكافحة الفساد.
- 2- إنشاء هيئة الرقابة الإدارية والشفافية التي أنشئت بالقرار الأميري رقم (75) لسنة 2011م كهيئة متخصصة في تعزيز النزاهة والشفافية.
- 3- تنفيذ إعلان الدوحة الصادر من مؤتمر الأمم المتحدة الثالث عشر لمنع الجريمة والعدالة الجنائية، والذي عقد في دولة قطر في أبريل 2015م، ركّز إعلان الدوحة على أربعة عناصر محدّدة ومترابطة تتمثل في:
 - أ- تعزيز النزاهة القضائية ومنع الفساد.
 - ب- إعداد وتأهيل السُجّناء والاندماج الاجتماعي.
 - ج - منع جرائم الشباب من خلال التوعية بأهمية الرياضة.
 - د - تشجيع ثقافة سيادة القانون في المدارس والجامعات من خلال مبادرة «التعليم من أجل العدالة».
 - هـ - إنشاء شبكة عالمية للنزاهة القضائية.

من خلال الاستعانة بمركز مصادر التعلم في مدرستك أجب عن الاسئلة التالية:

- حدّد أهم الإنجازات التي حققتها دولة قطر في تطبيق مبادئ النزاهة والشفافية.

- استخلص القيم المرتبطة بتحقيق النزاهة والشفافية.

- اكتب نبذة عن اتفاقية الأمم المتحدة لمكافحة الفساد موضّحاً أهدافها وأهم بنودها.

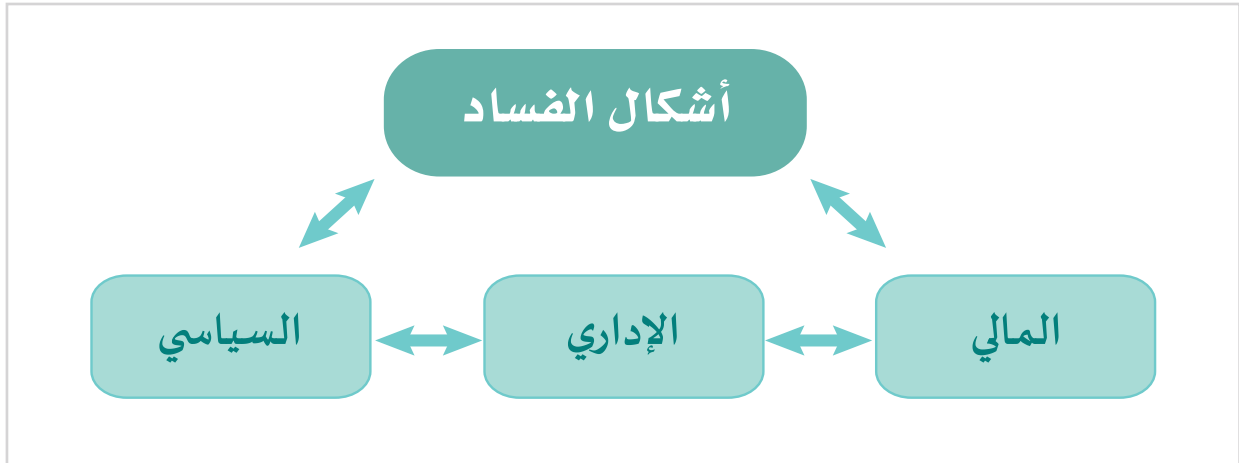


قيمُ أتعلمها:

مساهمتك في منع انتشار الفساد بالمجتمع واجب قومي من شأنه الحفاظ على ثروات ومقدّرات وطنك.

مما سبق يتضح أن للفساد تكلفةً اجتماعية واقتصادية وسياسية باهظة، وأنه يعمل على تأخير عملية التنمية وتحقيق الازدهار للشعوب، وأنه يقوّض بناء الديمقراطية، فإن محاربته تصبح مصلحة جماعية تضمُّ جميع أفراد المجتمع. وتتعدّد الصور التي يظهر فيها الفساد في حياة المجتمعات.

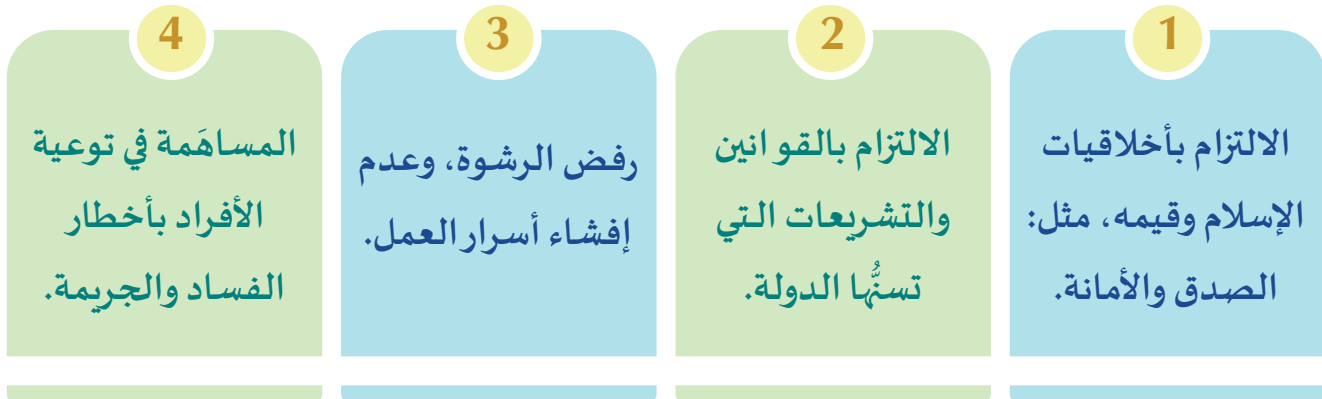
وبشكل عامّ يمكن تحديد مجموعة من الصور والأشكال التي يظهر فيها الفساد كما في الشكل الذي أمامك:



ويندرج تحت هذه الأشكال الرئيسية عدد من الصور والأشكال الفرعية للفساد، على سبيل المثال: الرشوة - المحسوبية - الاعتداء على المال العام - الاعتداء على الممتلكات العامة.

① دور الفرد في مكافحة الفساد:

مما سبق يتضح أن مكافحة الفساد والجريمة مسؤولية مجتمعية يشارك فيها الجميع، وذلك بهدف إصلاح المجتمع، والمحافظة على استقراره، ويمكن للفرد مكافحة الفساد من خلال:-



بالتعاون مع مجموعتك، قم بتوضيح شكل الفساد في القضايا الآتية:

- تعيين شخص في منصب معين لأسباب تتعلق بالقرابة، رغم كونه غير كفء أو مستحق. (.....)
- رأيت أحد الزملاء في الصف يكتب على جدران المدرسة. (.....)
- موظف يتقاضى مبلغاً من المال لتسهيل معاملة ما. (.....)
- تخيل أنك أصبحت مسؤولاً عن مكافحة الفساد في دولتك، أي أنواع الفساد ستبدأ في إصلاحه: (الإداري - السياسي - المالي)؟ ولماذا؟





الأنشطة والتدريبات

النشاط الأول: اقرأ وحلل:

أولاً:
الأنشطة

اقرأ العبارة التالية، ثم أجب عما يليها من تساؤلات:

"نحو عالم يَنعَم بالسلام والأمن والعدل، وتَحْكُمه سيادة القانون".

- 1 - ما رأيك في تلك العبارة؟
- 2 - استخلص القيم المتضمنة في تلك العبارة.
- 3 - ما دور الأمم المتحدة في مكافحة الفساد؟

النشاط الثاني: فكّر وقيّم:

بعد دراستك لموضوع الدرس، أجب عن التساؤلات التالية:

- 1 - ما التساؤلات التي أثارت تفكيرك أثناء هذا الدرس؟
- 2 - ما المصادر التي يمكنك الاستعانة بها للحصول على إجابات لأسئلتك؟
- 3 - ما الشيء الذي أعجبك في هذا الدرس؟ ولماذا؟ (معلومة - فكرة - قرار - ...)
- 4 - ما الإيجابيات التي تضمنها الدرس؟
- 5 - ما السلبيات التي عالجها الدرس من وجهة نظرك؟
- 6 - ما الشيء الذي يمثل تحدياً بالنسبة لك؟ وكيف ستتغلب عليه؟

النشاط الثالث: اقرأ واستنتج:

"تُعَدُّ النزاهة والشفافية وجهين لعملة واحدة؛ فكلُّ منهما يهدف إلى مكافحة الفساد بكافة أشكاله وصوره، ومنع انتشاره".

بعد قراءتك للفقرة السابقة أجب عما يلي:

- 1 - ما العلاقة بين كل من النزاهة والشفافية؟
- 2 - ماذا يحدث إذا لم يتم تطبيق النزاهة والشفافية في المجتمع؟



السؤال الأول: أثبت بالأدلة:

ثانيًا: التدريبات

1 - للفساد أضرار اقتصادية واجتماعية وسياسية.

.....

2 - الاهتمام بمكافحة الفساد على المستوى الدولي.

.....

3 - اهتمام قطر بمكافحة الفساد على المستوى المحلي والدولي.

.....

4 - اذكر جهود دولة قطر في تعزيز النزاهة والشفافية ومكافحة الفساد.

.....

السؤال الثاني: حدّد المقصود بكلّ من:

1 - النزاهة.

.....

2 - الشفافية.

.....



السؤال الثالث: بَمَ تُفسِّر:

1 - يُعدُّ إعلان الدوحة أحدَ الدلائل على دور قطر الفعَّال في تطبيق مبادئ النزاهة والشفافية؟

2 - لا بد من وجود سياسة عامة للنشر والإفصاح عن المعلومات التي تهتمُّ المواطنين في كافة الدول؟

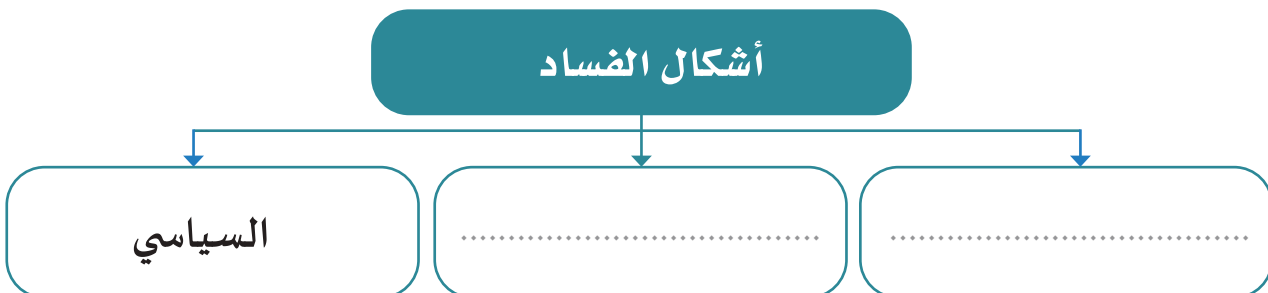
3 - أهمية تطبيق مبادئ النزاهة والشفافية؟

السؤال الرابع: ما النتائج المترتبة على:

1 - تطبيق مبادئ النزاهة والشفافية في الدول؟

2 - الاهتمام بمكافحة ومنع انتشار الفساد؟

السؤال الخامس: أكمل الشكل الذي أمامك:



المصادر والمراجع



محمد أحمد الرويثي، مصطفى خولجي، السمات الديموغرافية لدولة قطر: دراسة في جغرافية السكان. الجمعية الجغرافية الكويتية. كلية الآداب، جامعة الكويت، العدد (214). الكويت، 1998.

أحمد عبدالعزيز النجار، القوى العاملة بدولة قطر (1986-2010) م، دراسة في جغرافية السكان، رسالة ماجستير غير منشورة. القاهرة. كلية الآداب جامعة القاهرة. القاهرة 2016. إسحاق يعقوب القطب، التوزيع السكاني والتنمية في دولة قطر، حلقة بحث عن التوزيع السكاني والتنمية في الوطن العربي، المعهد العربي للتخطيط، الكويت، 1981م.

إبراهيم شهداد، جاسم الكبير وسياسته في فرض الشخصية الاستقلال لإمارة قطر، في: جاسم بن محمد آل ثاني، أبحاث الندوة التاريخية المصاحبة لاحتفالات اليوم الوطني لدولة قطر، الدوحة: دار الكتب القطرية، 2008.

سيار الجميل، شخصية الشيخ جاسم بن محمد بن ثاني وعلاقته مع القوى المحيطة به، في: جاسم بن محمد آل ثاني، أبحاث الندوة التاريخية المصاحبة لاحتفالات اليوم الوطني لدولة قطر، الدوحة: دار الكتب القطرية، 2008.

عبد العزيز محمد المنصور، التطور السياسي لقطر في الفترة ما بين 1916-1868م، ط2، الكويت: ذات السلاسل، 1980م.

عبد العزيز المنصور، التطور السياسي لقطر 1916 - 1949، الكويت 1979.

محمد حمدان، قطر الآن، في جذور قطر التاريخية التطور السياسي والاقتصادي، ج3، القاهرة: مركز الراية للنشر والإعلام، 2013م.

منصور عبد العزيز الخريجي، الغزو الثقافي ماضيه وحاضره