



ورقة عمل (التمثيلات البيانية)


المادة: الرياضيات

الاسم -----


الصف والشعبة: الثالث. ()

جودة - تميز - قيم أصيلة

السؤال الأول: بين الجدول التالي الأكلات المفضلة لبعض الطلاب :

الأكلات المفضلة	
التكرار	الأكلة
المفتاح: كل  = 2 طلاب	

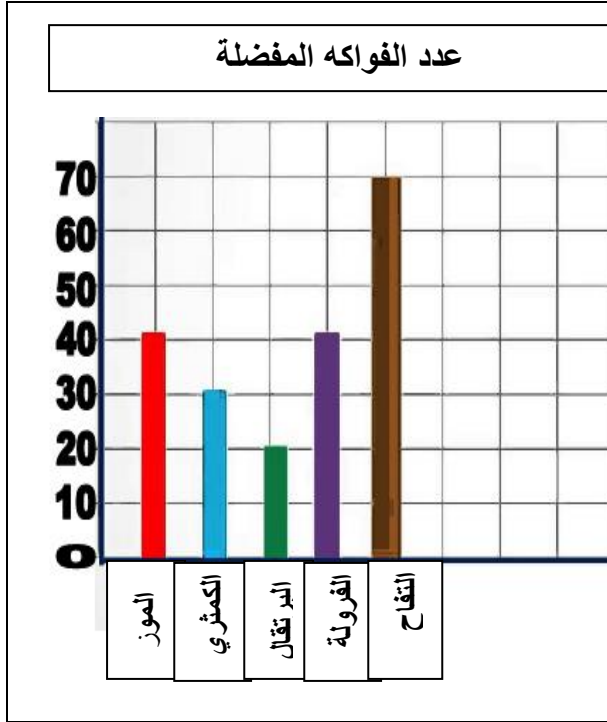
التكرار	الأكلة
6	المعكرونة
1	الأرز
12	البيتزا
8	الفتائر

- (1)- أي الأكلات أكثر تفضيلاً؟
- (2)- أيها أقل تفضيلاً المعكرونة أم الفتائر؟
- (3)- بكم يزيد عدد الذين يفضلون البيتزا عن الذين يفضلون الأرز و الفتائر معا؟
- (4)- إذا كان كل  يمثل 5 طلاب فكم عدد الذين يفضلون المعكرونة؟
- (5)- ارسم التمثيل السابق بعلامات الاحصاء.

العلامات	الأكلة

الرؤية: تعليم ابتكاري لمجتمع معرفي رياضي عالمي

السؤال الثاني : أجب عن الأسئلة التالية من خلال التمثيل البياني بالأعمدة:



(1)- كم عدد اللذين يفضلون التفاح ؟

.....

(2)- أقل الفاكهة تفضيلاً؟

.....

(3)- الفرق بين عدد اللذين يفضلون التفاح و الفرولة ؟

.....


(4)- العدد الإجمالي للفواكه المفضلة؟

(5)- بكم يزيد عدد اللذين يفضلون التفاح عن اللذين

يفضلون البرتقال و الموز مجتمعين ؟

.....

(6)- ارسم التمثيل السابق تمثيل بياني بالصور .

.....	
الفاكهة	الطلاب
المفتاح:  = 10 طلاب	

(7)- اكتب جملة تفسر البيانات :

الرؤية: تعليم ابتكاري لمجتمع معرفي رياضي عالمي