

وَقُلْ رَبِّ

أَدْخِلْنِي مَدْخَلَ صِدْقٍ

وَأَخْرِجْنِي مَخْرَجَ صِدْقٍ

وَأَجْعَلْ لِي مِنْ لَدُنْكَ سُلْطَانًا نَصِيرًا



وزارة التربية والتعليم
MINISTRY OF EDUCATION

تعتبر الحصة الإلكترونية حصة رسمية ينطبق عليها
ما ينطبق على الحصة في الغرفة
الصفية من تعليمات
لذلك يتوجب عليك عزيزي الطالب

الجلوس في مكان مناسب للتعلم



عدم الأكل أو الشرب اثناء الحصة



No food
allowed

تجهيز الكتاب والدفتري واحضار
الأدوات اللازمة



احترام المعلم وعدم التشويش على
الحصة



عدم ترك الحصة اثناء الدرس



عدم تبادل الكلمات الغير مناسبة



الالتزام بالمحافظة على جهاز اللاب توب



معرفة جدول وأوقات الحصص الإلكترونية

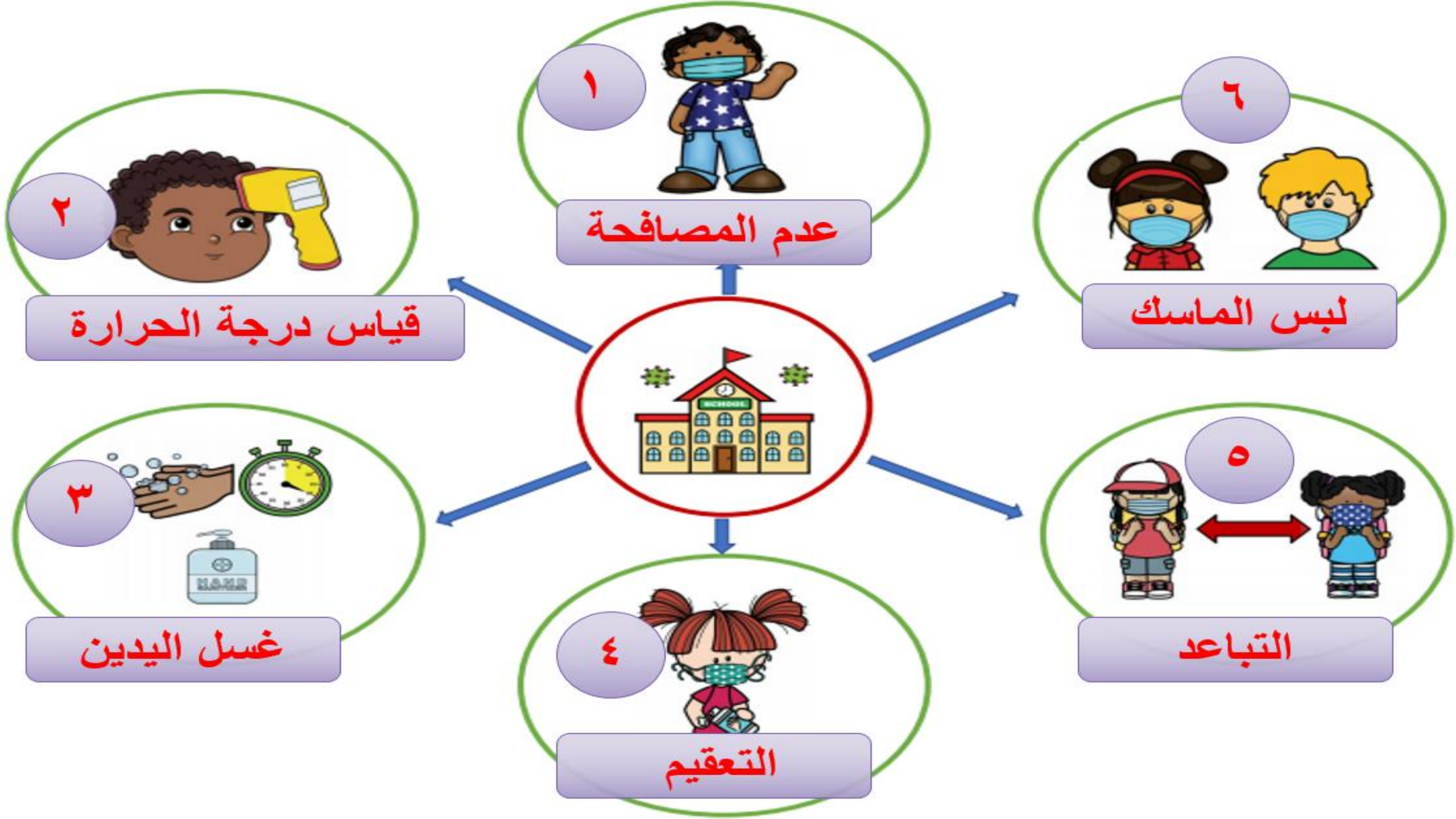


التأكد من جاهزية الاتصال قبل الحصة بوقت كاف



الالتزام باللبس المحتشم





الدراسات الاجتماعية والتربية الوطنية الصف السادس الفصل الدراسي الثالث

الدَّرْسُ 2:
الإمارات وأمريكا الشماليّة

الدّراسات الاجتماعيّة والتّربية الوطنيّة

كتاب الطالب



غرس الإمارات بيد أم الإمارات

الدَّرْسُ 2:

الإماراتُ وأمريكا الشماليَّةُ

نَوَائِجُ التَّعَلُّمِ:

- * يتعرَّفُ المفاهيمَ والمصطلحاتِ الواردةَ في الدِّرسِ.
- * يقارنُ بينَ الملامحِ الطَّبيعيَّةِ والبشريَّةِ لقارَّةِ أمريكا الشماليَّةِ.
- * يستنتجُ العواملَ المؤثِّرةَ في التَّوزيعِ السُّكَّانيِّ لقارَّةِ أمريكا الشماليَّةِ.
- * يشرحُ العلاقاتَ المُتجذِّرةَ التي تربطُ دولةَ الإماراتِ العربيَّةِ المتَّحدةَ بالولاياتِ المتَّحدةِ الأمريكيَّةِ.

مفاهيمٌ ومُصطلحاتٌ:

- * المؤثِّراتُ القطبيَّةُ
- * المواردُ الاقتصاديَّةُ
- * اقتصادٌ معرفيٌّ

قيمٌ ومواطنة:

- * التَّعاونُ
- * الصِّداقةُ
- * الاحترامُ المُتبادلُ
- * التسامحُ والانفتاحُ

مُخَطَّطُ الدَّرْسِ


أَوَّلًا: قَارَّةُ أَمْرِيكَ الشَّمَالِيَّةِ «طَبِيعِيًّا».

ثَانِيًا: قَارَّةُ أَمْرِيكَ الشَّمَالِيَّةِ «بَشَرِيًّا».

ثَالِثًا: الْعِلَاقَاتُ الْإِمَارَاتِيَّةُ مَعَ الْوِلَايَاتِ الْمُتَّحِدَةِ الْأَمْرِيكِيَّةِ.

Mohammed bin Rashid

الإمارات و أمريكا الشمالية



أولاً: قارة أمريكا الشماليّة «طبيعيّاً»

الملامح العامّة لقارة أمريكا الشماليّة:

الموقع الجغرافي:

تقع قارة أمريكا الشماليّة في نصف الكرة الشماليّ، ويحدها من الشمال المحيط المتجمّد الشماليّ، ومن الغرب والجنوب الغربيّ المحيط الهاديّ، ومن الشرق المحيط الأطلنطيّ، ومن الجنوب تتصلّ مع دول أمريكا اللاتينية.

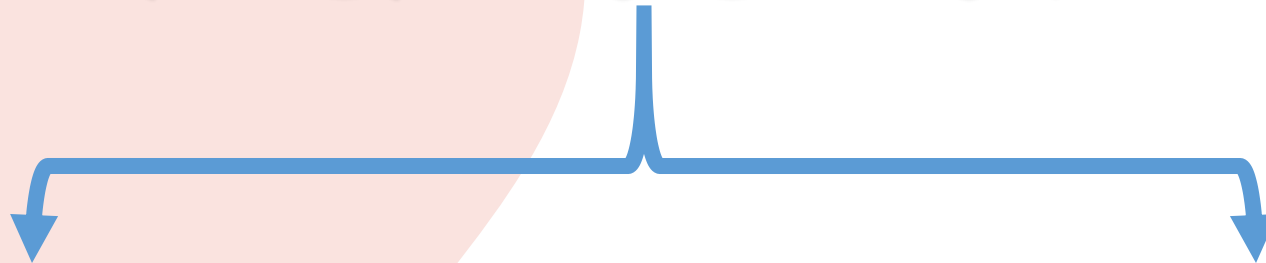
تمتدّ أمريكا الشماليّة بين دائرتي عرض 25° و 83° شمالاً، وخَطّي طول 51° و 170° غرباً، مما ترتّب عليه:

1. وقوع أمريكا الشماليّة بأكملها في نصف الكرة الشماليّ.
2. مرور مدار السرطان جنوبها، والدائرة القطبيّة الشماليّة شمالها.



الإمارات العربية المتحدة
UNITED ARAB EMIRATES

قارة امريكا عبارة عن وحدتين سياسيتين هما





موقع أمريكا الشمالية

♦ تتمتع أمريكا الشماليّة بموقع جغرافيٍّ مهمٍّ، فموقعُها بينَ مُحيطيّينِ واسعينِ أعطاهَا الحمايةَ مِنْ أطماعِ وصراعاتِ الدّولِ القويّةِ فِي العالَمِ القديمِ.



أهمية الموقع الجغرافي لقارة أمريكا الشمالية

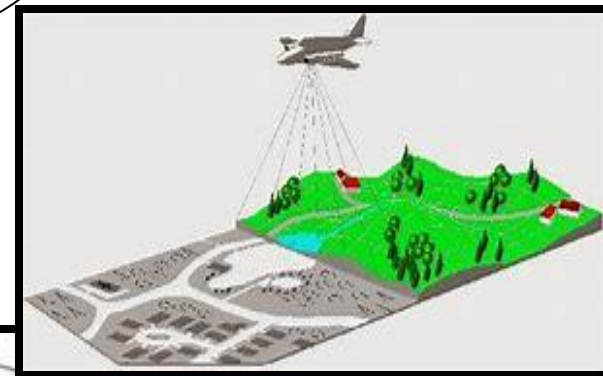


إستراتيجية العصف الذهني

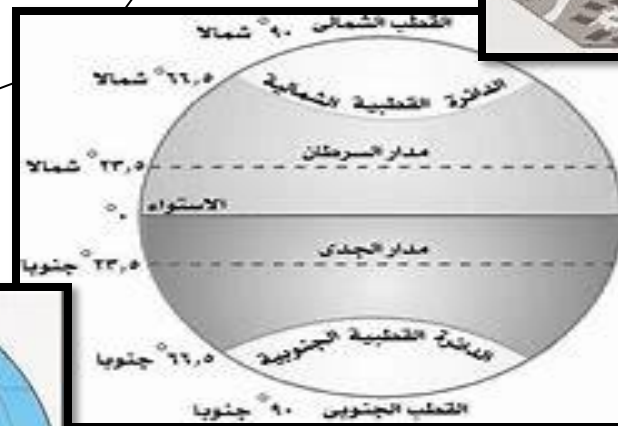


أقسام الموقع الجغرافي

الموقع المكاني



الموقع الفلكي



الموقع النسبي



بمعمل
فردى

أهمية الموقع الجغرافى لقارة أمريكا الشمالية



من خلال النظر لخريطة العالم
حدد قارة أمريكا الشمالية
ثم
استكشف أهمية موقع القارة

أهمية موقع قارة أمريكا الشمالية

١ - أمريكا الشمالية من قارات
العالم الجديد وتعد رابع قارات
العالم مساحة

٢ - تطل على العديد من المسطحات المائية

٣ - تنوع أشكال التضاريس والاقاليم المناخية

بفعل
فردى

الموقع الفلكى لقارة أمريكا الشمالية



- تقع بين دائرتي عرض ٢٥ و ٨٣ شمالا وبين
خطي طول ٥١ و ١٧٠ غربا
- تقع ما بين نصف قارتي الكرة الشمالي
والجنوبي
- مليون كم ٢ تقريبا 18.4- تبلغ مساحتها حوالي
- يعتمد سكانها على حرفة الزراعة بدرجة
رئيسية في حياتهم

أكمل عزيزي الطالب

تعد أمريكا الشمالية قارات
العالم من حيث المساحة

الملايح العامة لقارة أمريكا الشمالية

الموقع الجغرافي:



1- تقع قارة أمريكا الشمالية في نصف الكرة الشمالي

2 تمتد أمريكا الشمالية بين دائرتي عرض 25-83 شمالاً، وخطي طول 51-170 غرباً مما ترتب عليه

1- وقوع أمريكا الشمالية بأكملها في نصف الكرة الشمالي.

2- مرور مدار السرطان جنوبها، والدائرة القطبية الشمالية شمالها

2- اعطاء الموقع المتميز بين محيطين لأمريكا الشمالية الحماية من أطماع وصراعات الدول القوية في العالم القديم



الموقع الفلكي لقارة أمريكا الشمالية



أربط مع الرياضيات :

أحسب عدد دوائر العرض التي تمتد عليها قارة
أمريكا الشمالية
اذ علمت ان القارة تمتد بين دائرتي عرض من
٢٥ و ٨٣ شمالا



.....

هي نلعب ونكتشف معنا

أهم المسطحات المائية التي تشرف عليها القارة
امريكا الشمالية

..... من الشرق

..... من الغرب

..... من الشمال

هي نلعب ونكتشف معنا من أنا


باستخدام استراتيجية من أنا :

-أنا قارة من قارات العالم الجديد

-تقدر مساحتي بحوالي ١٨,٤ مليون كم^٢

-وأنا رابع قارات العالم مساحة بعد آسيا
وأفريقيا وأمريكا اللاتينية

من
أنا ؟





باستخدام البطاقات المروحية

أكمل عزيزي
الطالب

تعد أمريكا
الشمالية
قارات العالم من
حيث المساحة

سجل أسماء المسطحات
المائية التي تطل عليها
قارة أمريكا الشمالية
من جهة الشرق :.....
جهة الغرب :.....؟

سمي دوائر
العرض الرئيسية
التي تمر بقارة
أمريكا الشمالية ؟

بم تفسر أهمية الموقع
الجغرافي لقارة أمريكا
الشمالية

تتنوع أشكال التضاريس في قارة أمريكا الشمالية

المرتفعات والسهول الساحلية الشرقية:

تنقسم إلى قسمين وهما:

- **هضبة (لبرادور) في الشمال:** وهي هضبة قليلة الارتفاع، وتكثر بها البحيرات.
- **مرتفعات (الأبلاش):** هي جبال قديمة النشأة، قليلة الارتفاع في الجنوب، وتحصر بينها وبين سواحل المحيط الأطلنطي سهول رسوبية خصبة.



مظاهر السطح:

1- المرتفعات والسهول الساحلية في الشرق:

تنقسم إلى قسمين، وهما:

(أهضبة لبرادور) في الشمال: وهي هضبة قليلة الارتفاع، وتكثر بها البحيرات.

(بمرتفعات الأبلاش): هي جبال قديمة النشأة، قليلة الارتفاع في الجنوب، وتحصر بينها وبين

سواحل المحيط الأطلنطي سهول رسوبية خصبة.



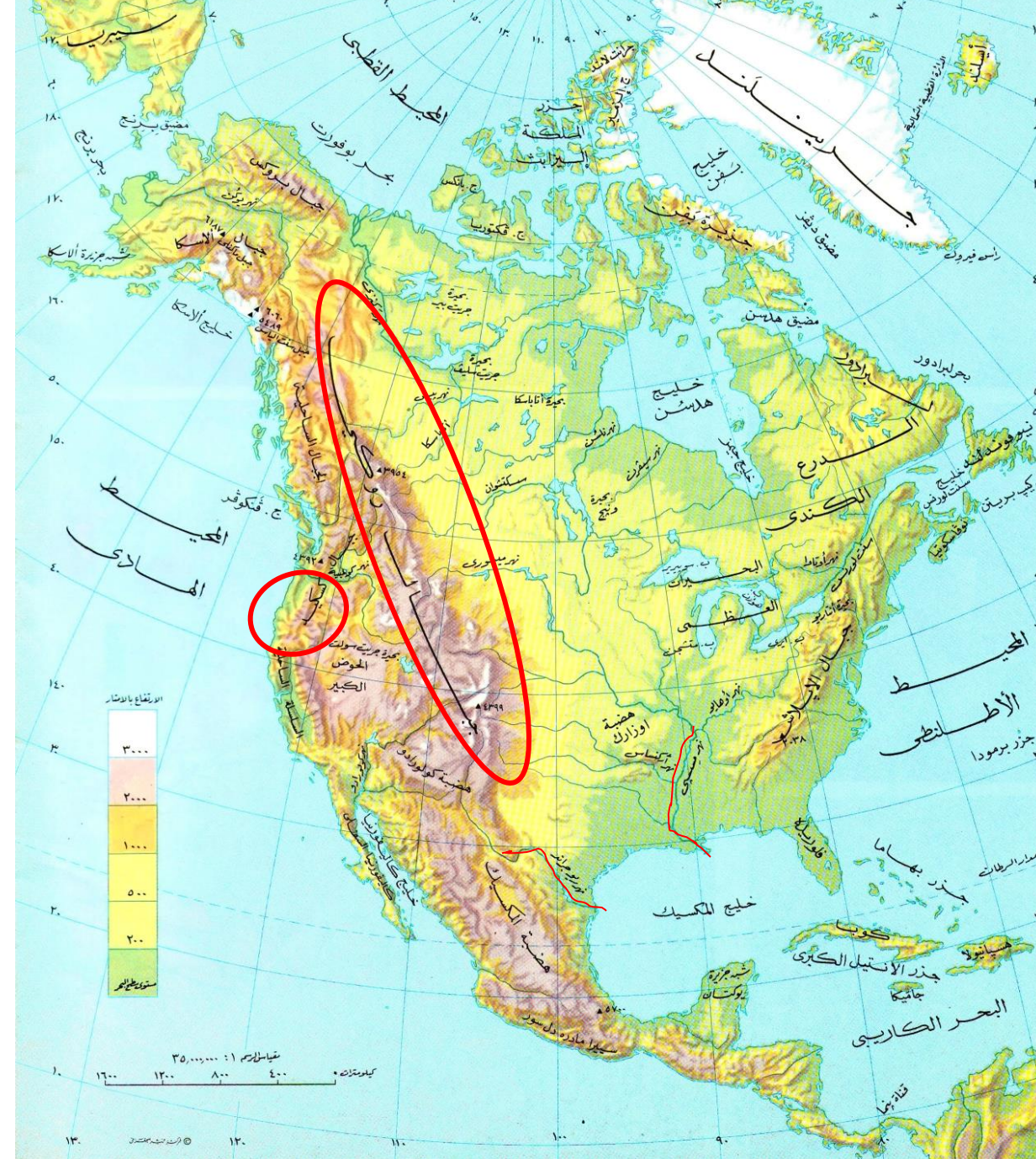
مظاهر السطح:

2- المرتفعات والسواحل الغربية:

تتكوّن من جبالٍ عاليةٍ حديثة التّكوين، وتقعُ في غربِ القارّةِ من أقصى الشّمالِ إلى أقصى الجنوبِ. تتركُ بينها وبين المحيط الهادي سهولٌ ساحليّةٌ ضيّقةٌ. تُعرفُ السّلسلةُ الداخليّةُ منها باسمِ (جبال روكي) والسّلسلةُ الأخرى بمحاذاةِ السّاحلِ تُعرفُ بأسماءٍ مختلفةٍ مثلِ (جبال كسكيد- سييرا انيفادا).

3- السّهول الوسطى:

تقعُ بين المرتفعاتِ الشّرقيةِ والمُرتفعاتِ الغربيّةِ، وهي مُتّسعةٌ. يجري بها نهرُ (المسيبي)



استراتيجية حدد الهدف

- ١ - لونى المسطحات المائية على الخريطة
- ٢ - قومي بقطع ولصق المطلوب منك على الخريطة



أمامك خريطة لقارة امريكا الشمالية
المطلوب منك :

- ١ - المحيط الهادي
- ٢ - خليج المكسيك - خليج هدسن
- ٣ - المحيط المتجمد الشمالي
- ٤ - المحيط الاطلسي





٢.

مرتفعات الأبلش



١.

جبال روكي



جولة سياحية



شلالات (نياجرا)

تُعَدُّ شَلَّالَاتُ (نِيَاغِرَا)
مِنْ أَشْهَرِ شَلَّالَاتِ الْعَالَمِ
وَأَجْمَلِهَا، وَهِيَ مَعْلَمٌ
سِيَّاحِيٌّ عَالَمِيٌّ، كَمَا أَنَّهَا
الْأَسْرَعُ فِي حَرَكَةِ الْمِيَاهِ عَلَى
سَطْحِ الْأَرْضِ، الْأَمْرُ الَّذِي
جَعَلَهَا مِنْ أَقْوَى الشَّلَّالَاتِ
انْدِفَاعًا فِي أَمْرِيكَ الشَّمَالِيَّةِ.

تُعَدُّ شَلَّالَاتُ (نِيَاغِرَا) مِنْ أَشْهَرِ شَلَّالَاتِ الْعَالَمِ وَأَجْمَلِهَا، وَهِيَ مَعْلَمٌ سِيَّاحِيٌّ عَالَمِيٌّ، كَمَا أَنَّهَا الْأَسْرَعُ فِي
حَرَكَةِ الْمِيَاهِ عَلَى سَطْحِ الْأَرْضِ، الْأَمْرُ الَّذِي جَعَلَهَا مِنْ أَقْوَى الشَّلَّالَاتِ انْدِفَاعًا فِي أَمْرِيكَ الشَّمَالِيَّةِ

2. المرتفعاتُ والسَّواحلُ الغربيَّةُ:

- ♦ تتكوَّنُ مِنْ جبالٍ عاليةٍ حديثةِ التَّكوينِ، وتقعُ في غربِ القارَّةِ مِنْ أَقصى الشَّمالِ إلى أَقصى الجنوبِ.
- ♦ تتركُ بينها وبينَ المحيطِ الهاديِّ سهولٌ ساحليَّةٌ ضيقةٌ.
- ♦ تُعرفُ السَّلسلةُ الدَّاخليَّةُ منها باسمِ (جبالِ روكي)، والسَّلسلةُ الأخرى بمحاذاةِ السَّاحلِ تُعرفُ بأسماءٍ مختلفةٍ مثلِ (جبالِ كسكيد - سيرانيفادا).

3. السَّهولُ الوسطى:

- ♦ تقعُ بينَ المُرتفعاتِ الشَّرقيَّةِ والمُرتفعاتِ الغربيَّةِ، وهي مُتَّسعةٌ.
- ♦ يجري بها نهرُ (المسيسبي).

:

٣.



جبال كاسكيد سيرانيفادا

٤.



هضبة ليرادور

٥.



نهر المسيسيبي

قارن بين المرتفعات الشرقية والمرتفعات الغربية

المرتفعات الغربية	المرتفعات الشرقية	وجه المقارنة
حديثة النشأة	قديمة النشأة	النشأة
كثيرة الارتفاع	قليلة الإرتفاع	الارتفاع

عدد مظاهر
السطح في قارة
أمريكا الشمالية ؟

اذكر أهم جبال أمريكا
الشمالية ؟

بم تفسر تنوع
الأقاليم المناخية
في قارة أمريكا
الشمالية

أكمل عزيزي الطالب من
أهم الهضاب الموجودة
في القارة
.....و.....



أربط بالعلوم

تمَّ إنشاءُ محطّتين كبيرتينِ
لتوليدِ الكهرباءِ في (أونتاريو)
وفي ولايةِ (نيويورك) بهدفِ
استغلالِ شلّالاتِ (نياجرا)
في توليدِ الطّاقةِ الكهربائيّةِ،
كما تُزوّدُ مياهُ الشّلّالاتِ
كُلَّاً من أمريكا وكندا بمياهِ
الشّربِ، وعلى الرّغمِ من
قوّةِ مياهِ الشّلّالاتِ إلّا أنّها
تحتوي في أسفلّها على
أسماكٍ يبقى 90% منها
على قيدِ الحَيَاةِ، حيثُ
يُعتقدُ أنّ الرّغوةَ البيضاءَ
تعملُ كوسادةٍ لَهُمْ.

* موقع القارة بين دوائر العرض أدّى إلى وقوع معظمها في المنطقة المعتدلة، ماعدا الأجزاء الشماليّة التي تقع في المنطقة الباردة لمُرور الدائرة القطبيّة بها، والأجزاء الجنوبيّة تقع في المنطقة الحارة لمُرور مدار السرطان بها.

* أدّى اتّخاذ التّضاريس اتّجاهًا شماليًا جنوبيًا إلى توغّل المؤثّرات المناخيّة إلى الجزء الأوسط من القارة، وإيجاد أقاليم مناخيّة متنوّعة.

* كما جعل اتّجاه الجبال الرّئيسة في أمريكا الشماليّة من الشّمال إلى الجنوب الجزء الأوسط منها مفتوحًا أمام المؤثّرات القطبيّة الشماليّة، والمؤثّرات البحريّة الجنوبيّة، فأواسط أمريكا الشماليّة ليست قاحلة كأواسط قارة آسيا.



أستكشف لأتعلّم

أبحث في مصادر المعرفة
عن مفهوم:
المؤثّرات القطبيّة

.....

.....

.....

.....

مظاهر السطح:

المناخ:

- ١- تقع قارة أمريكا في المنطقة المعتدلة----- ما عدا الأجزاء الشمالية التي تقع في المنطقة الباردة لمرور الدائرة القطبية بها، والأجزاء الجنوبية تقع في المنطقة الحارة لمرور مدار السرطان بها.
- ٢- أدى اتخاذ التّضاريس اتجاهاً شمالياً جنوبياً إلى توغل المؤثرات المناخية إلى الجزء الأوسط من القارة، وإيجاد أقاليم مناخية متنوّعة.
- ٣- كما جعل اتّجاه الجبال الرئيسة الجزء الأوسط منها مفتوحاً أمام المؤثرات القطبية الشمالية والمؤثرات البحرية الجنوبية، فأواسط أمريكا الشمالية ليست قاحلة



أتاح الموقع الجغرافي لها سهولة الاتصال بأكبر منطقتين من مناطق التّجمّع السّكانيّهما: غرب أوروبا من ناحية، الشرق و آسيا من جهة الغرب وجنوبها، أمريكا اللّتينيّة، ممّا أعطاهما مركزاً عالمياً في التّجارة.

الفهم والاستيعاب:

أفسرُ الآتي:

1. تعرّض الأجزاء الوسطى من الولايات المتحدة الأمريكية للمؤثرات القطبية والبحريّة الرّطبة صيفًا.

2. تنوّع الأقاليم المناخية في قارة أمريكا الشماليّة.

3. ضيق السّهول الساحليّة الشرقيّة في قارة أمريكا الشماليّة.

ألاحظ خريطة قارة أمريكا الشماليّة الطّبيعيّة، وأُجيبُ عَنِ الآتي:



الأنشطة

تابع / التطبيقات:

1. أسجّل أسماء المسطحات المائية التي تُطلُّ عليها قارة أمريكا الشماليّة من الجهات الآتية:

الشمال:

الشرق: الجنوب:

الغرب:

2. استخرج اسم النهر الذي يفصل بين قارة أمريكا الشماليّة وأمريكا اللاتينيّة.

3. تتألف قارة أمريكا الشماليّة من وحدتين سياسيتين، هما: و

4. أُقارِنُ بَيْنَ المَرْتَفَعَاتِ الشَّرْقِيَّةِ وَبَيْنَ المَرْتَفَعَاتِ الْغَرْبِيَّةِ لِقَارَّةِ أَمْرِيكَا الشَّمَالِيَّةِ مِنْ حَيْثُ الْمُعْطِيَاتُ الْوَارِدَةُ فِي الْجَدُولِ الْآتِي:

وَجْهُ الْمُقَارَنَةِ	الْمُرْتَفَعَاتُ الشَّرْقِيَّةُ	الْمُرْتَفَعَاتُ الْغَرْبِيَّةُ
النَّشَأَةُ
الارتفاعُ

ثانيًا: قارة أمريكا الشماليّة «بشريًا»

♦ تتميز قارة أمريكا الشماليّة ببساطةٍ بتركيبها السّياسيِّ، حيثُ تتكوّنُ مِنْ وحدتينِ سياسيّتينِ فقط، هما: كندا والولاياتُ المتّحدةُ الأمريكيّةُ.

♦ أتاحَ الموقعُ الجغرافيُّ لها سهولةَ الاتّصالِ بأكبرِ منطقتينِ مِنْ مناطقِ التّجمّعِ السّكّانيِّ في العالمِ، هما: منطقةُ غَربِ أوروبّا مِنْ ناحيةٍ، ومنطقةُ شَرقِ آسيا وجنوبِها مِنْ ناحيةٍ أُخرى، إلى جانبِ مُجاورتها لأمريكا اللّاتينيّةِ مِنَ الجنوبِ، ممّا أعطاهَا مَركَزًا عالميًّا في التّجارةِ.

الخصائص البشرية لقارة أمريكا الشماليّة:

1. السكّان

◆ سُكَّانُ قَارَةِ أَمْرِيكَ الشَّمَالِيَّةِ هُمْ خَلِيطٌ مِنْ عِدَّةِ مَجْمُوعَاتٍ بَشَرِيَّةٍ التَّقَّتْ فِي هَذِهِ الْقَارَةِ، وَتَفَاعَلَتْ مَعَ بَعْضِهَا وَمَعَ بِيئَاتِهَا الطَّبِيعِيَّةِ، فَانصَهَرَتْ فِي بَوْتَقَةٍ جَدِيدَةٍ.

◆ بَلَغَ عَدْدُ سُكَّانِ الْقَارَةِ فِي 2020 م 370 مليون نسمة، أي 5% من سكان العالم.

◆ تُعَدُّ قَارَةُ أَمْرِيكَ الشَّمَالِيَّةِ مِنْ أَكْثَرِ قَارَاتِ الْعَالَمِ تَقَدُّمًا، وَيَتِمَّتُّعُ سُكَّانُهَا بِمُسْتَوًى مَعِيشِيٍّ مُرْتَفِعٍ، وَيُعَدُّ دَخْلُ الْفَرْدِ فِيهَا مِنْ أَعْلَى مُسْتَوِيَاتِ الدَّخْلِ فِي الْعَالَمِ؛ وَذَلِكَ نَتِيجَةً غِنَاها بِالْمَوَارِدِ الطَّبِيعِيَّةِ الْوَفِيرَةِ مِنْ مِثْلِ: الْغَلَّتِ الزَّرَاعِيَّةِ وَالثَّرْوَةِ الْحَيَوَانِيَّةِ وَالْمَعْدِنِيَّةِ وَمَصَادِرِ الطَّاقَةِ الْمُتَنَوِّعَةِ.

أزداؤ معرفة:

سُكَّانُ قَارَةِ أَمْرِيكَ الشَّمَالِيَّةِ جَمِيعُهُمْ يَتَكَلَّمُونَ اللُّغَةَ الْإِنْجِلِيزِيَّةَ، مَا عدا سُكَّانَ إِقْلِيمِ (كُوِيْبِك) فِي كَنْدَا الَّذِي يَتَحَدَّثُ سُكَّانُهُ اللُّغَةَ الْفَرَنْسِيَّةَ.





مفاهيم ومصطلحات

الاقتصاد المعرفي

فرع من فروع علم الاقتصاد الذي يعتمد نموه على اكتساب المعرفة وتوليدها ونشرها واستثمارها بفاعلية لتحقيق تنمية مستدامة.



حقائق وأرقام:

الأجندة الوطنية: اقتصاد معرفي تنافسي مبني على الابتكار

احتلت الولايات المتحدة الأمريكية المركز الرابع ضمن أفضل 10 دول في العالم في البحث والتطوير والابتكار لعام 2020م، واحتلت دولة الإمارات العربية المتحدة المركز الأول عربياً ضمن أفضل الدول العربية في البحث والتطوير والابتكار لعام 2020م.

ويختلف توزيع السُّكَّانِ في قارّة أمريكا الشَّمالِيَّة نتيجة مجموعةٍ منَ العواملِ الطَّبيعيَّة والبشريَّة، ويتوزَّع السُّكَّانُ في القارّة وفق الآتي:

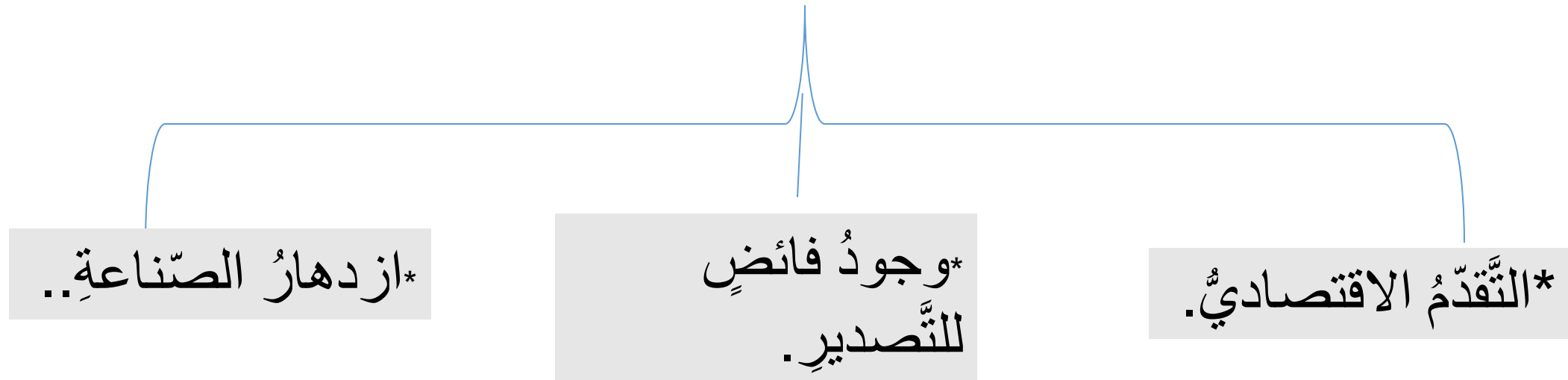
العوامل المؤثرة في توزيع السُّكَّانِ

1 مناطق مُزدحمة السُّكَّانِ: وتتمثّل في السّهول الشَّرقيَّة، وعلى السَّاحلِ الغَربيِّ بسببِ اعتدالِ المُناخ وقيامِ الصَّناعة.

2 مناطق متوسّطة الكثافة: في السّهول الوسطى بسببِ وجودِ الزَّراعةِ الواسعة، كما توجدُ مناطقُ متوسّطة الكثافة في المَراعي.

3 مناطق نادرة السُّكَّانِ: في شمالِ القارّة بسببِ الصَّحارى الجليديَّة، وفي جنوبِ غربِ القارّة بسببِ الصَّحارى الحارّة، كذلك في غربِ القارّة بسببِ الجبالِ العالية.

2 يتضح غنى قارة قارّة أمريكا الشماليّة بالموارد الاقتصاديّة من خلال :



وَلَا: الإنتاج الزراعيّ: تتميز قارّة أمريكا الشماليّة بخصامة إنتاجها الزراعيّ بسبب: اتّساع مساحة القارّة، وتنوّع المناخ. استخدام الأساليب العلميّة الحديثة في الزراعة.


ثانيًا: الإنتاج الحيواني والسّمكي:

زيادة إنتاجها الحيواني؛ لوفرة العلف والدّرة ووفرة الحشائش.
زيادة الإنتاج السّمكي؛ لأنه يعتمدُ على الصّيد البحريّ المُتقدّم،
وبسبب طول السّواحل، ووجود معظم مصايد العالم حول القارّة،
واتّباع الوسائل العلميّة في صيد الأسماك ومُروور التّيّارات البحريّة



ثالثًا: مصادر الطّاقة والإنتاج الصّناعي:

تُعَدُّ أغنى قارّات العالم في مصادر الطّاقة (الفحم - البترول -
الكهرباء).
من أهمّ الصّناعات: صناعة السيّارات - الحديد والصلب -
أجهزة الحاسب الآلي.



ثالثًا: العلاقات الإماراتية مع الولايات المتحدة الأمريكية

شراكة تعليمية:

افتتاح جامعة نيويورك أبوظبي



الشراكة التجارية بين دولة الإمارات العربية المتحدة والولايات المتحدة الأمريكية:

الشراكة الاقتصادية بين
الإمارات وأمريكا
الأكثر نموًا عالميًا

27.5 مليار دولار

حجم الاستثمارات الإماراتية في أمريكا
موزعة في أسواق المال الأمريكية والاستثمارات المباشرة

الإمارات العربية المتحدة

أكبر شريك تجاري لأمريكا في الشرق الأوسط

الإمارات

تحتضن أكثر من ألف

شركة أمريكية يعمل

فيها 60 ألف أمريكي



111.1

مليار درهم

حجم التبادل التجاري
بين الإمارات وأمريكا
خلال عام 2016

30 مليار دولار

حجم التبادل التجاري غير النفطي

الشراكة الاقتصادية بين دولة الإمارات العربية المتحدة والولايات المتحدة الأمريكية



2. الموارد الاقتصادية

قارة أمريكا الشمالية غنية بالموارد الاقتصادية، وقد نتج عن ذلك:

* التقدم الاقتصادي.

* ازدهار الصناعة.

* وجود فائض للتصدير.



استكشف لتعلم

أبحث في مصادر المعرفة
عن مفهوم:

الموارد الاقتصادية:

.....

.....

.....

.....

أولاً: الإنتاج الزراعي:

تتميزُ قارةُ أمريكا الشماليّةِ بضخامةِ إنتاجِها الزراعيِّ بسببِ:

♦ اتّساعِ مساحةِ القارةِ، وتنوّعِ المناخِ.

♦ استخدامِ الأساليبِ العلميّةِ الحديثةِ في الزراعةِ.

الإنتاج الزراعي
بسبب اتساع المساحة وتنوع المناخ
واستخدام الأساليب العلمية الحديثة
في الزراعة

الموارد الاقتصادية

الإنتاج الصناعي
أهم الصناعات :- صناعة
السيارات والحديد والصلب

الإنتاج الحيواني والسمكي
-الحيواني بسبب وفرة الحشائش
والعلف
-السمكي بسبب طول السواحل
ويعتمد علي الصيد البحري المتقدم

ثانيًا: الإنتاج الحيواني والسّمكي:

تشتهر قارة أمريكا الشماليّة بـ:

- ◆ زيادة إنتاجها الحيواني؛ لوفرة العلف والذرة ووفرة الحشائش.
- ◆ زيادة الإنتاج السّمكي؛ لأنه يعتمد على الصيد البحريّ المتقدّم، وبسبب طول السّواحل، ووجود معظم مصايد العالم حول القارة، واتباع الوسائل العلميّة في صيد الأسماك ومُروِر التّيّارات البحريّة.

ثالثاً: مصادِرُ الطَّاقةِ والإنتاجِ الصَّنَاعِيّ:

♦ تُعَدُّ أَغْنَى قَارَاتِ الْعَالَمِ فِي مَصَادِرِ الطَّاقَةِ (الفحم - البترول -
الكهرباء).

♦ مِنْ أَهَمِّ الصَّنَاعَاتِ: صِنَاعَةُ السِّيَّارَاتِ - الْحَدِيدُ وَالصَّلْبُ - أَجْهَظَةُ
الْحَاسِبِ الْآلِيِّ.

بطارية (أكسيد الليثيوم والحديد
طوّر فريق من جامعة
(نورث وسترن) بطارية مرّة
(أكسيد الليثيوم والحديد)
قادرة على تشغيل
السّيّارات والأجهزة الذكيّة
لساعاتٍ أطول مقارنةً
البطاريّات التقليديّة، علاوةً
على أنّها مُنخفضة التّكلفة
وقابلة لإعادة الشّحن.



ابتكارات

أذكر أهم
الصناعات
الموجودة في قارة
أمريكا الشمالية ؟

بم تفسر
ضخامة الإنتاج
الزراعي في قارة
أمريكا الشمالية؟

بم تفسر
ارتفاع المستوى
المعيشي لسكان
قارة أمريكا
الشمالية ؟

أكمل عزيزي الطالب
تد قارة أمريكا الشمالية
من أغني قارات العالم في
مصادر الطاقة مثل
.....و.....



□ أفسر الآتي:


1. ضخامة الإنتاج الزراعي في قارة أمريكا الشماليّة.

2. ارتفاع المستوى المعيشي لسكان قارة أمريكا الشماليّة.

3. زيادة الإنتاج السمكي في قارة أمريكا الشماليّة.

التطبيقات:

□ أبينُ كلاً ممّا يأتي من خلالِ الصّور:
1. أهمّ الصّناعاتِ في قارّة أمريكا الشّماليّة:



.....



.....



.....

الأنشطة

2. أَدَدُ مَنَاطِقَ تَوَظِيعِ السُّكَّانِ فِي قَارَّةِ أَمْرِيكَ الشَّمَالِيَّةِ، مَوْضَحًا السَّبَبَ:

المنطقةُ

.....

السَّبَبُ

.....

المنطقةُ

.....

السَّبَبُ

.....

المنطقةُ

.....

السَّبَبُ

.....

العلاقات الأماراتية مع الولايات المتحدة الأمريكية



العلاقات الإماراتية مع الولايات المتحدة الأمريكية



- من مجالات الشراكة التجارية بين دولة الإمارات العربية المتحدة والولايات المتحدة الأمريكية ؟
- الطيران والطاقة
 - والبنى التحتية
 - والعلاقات الثقافية والعلمية ولاسيما مجال التعليم العالي والبحث العلمي والتدريب

