



السلام عليكم و رحمة الله
و بركاته ...
أهلاً و سهلاً بكم ف
حصة الرياضيات



اليوم :

التاريخ : 2022 - 5 -

المادة : رياضيات




أعتمد على نفسي
أثناء الدرس



أحدث وأشارك
عندما يسمح لي المعلم.



أجلس جلسة صحيحة مقابل
جهاز العرض وألتزم الهدوء.



أحرص على إغلاق المايكروفون و
فتحه عندما يسمح لي المعلم.

قوانين
الصف
الافتراضي



أحرص على إغلاق
الكاميرا



سير الحصة الدراسية



الملاحظة
و الحساب

الاستكشاف
و الشرح

التهيئة

التغذية
الراجعة

التقويم
الختامي

التعليم
المتمايز

التقويم
البنائي

التطبيق
العملي




مرحباً يا عباقرة
الرياضيات
هل أنتم جاهزون
لدرس جديد و
ممتع ؟

التهيئة

أنا أحب أن اصنع
كعكة الشوكولاته
ماذا عنكم يا
أصدقائي هل
تحبون ان تصنعوا
الكعكة؟



التهيئة



قُمْتُ أَنَا وَ أُمِّي
بخبز كعكة ! و الآن
هي في الفرن



التهيئة



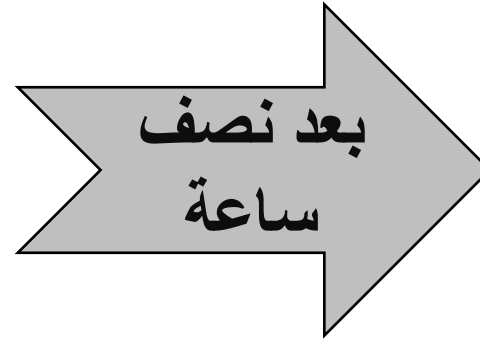
ستنضج كعكتنا
بعد نصف
ساعة

التهيئة

في أي
ساعة
سننضج
كعكتنا؟



التهيئة



الوقت الآن

الساعة ١

الوقت بعد نصف ساعة

الساعة ١:٣٠



عنوان الدرس: الوقت بنصف الساعة: الساعة الرقمية

• سنتعلم اليوم:
(١) يقرأ ويكتب الطالب الوقت بنصف الساعة:
الساعة الرقمية.



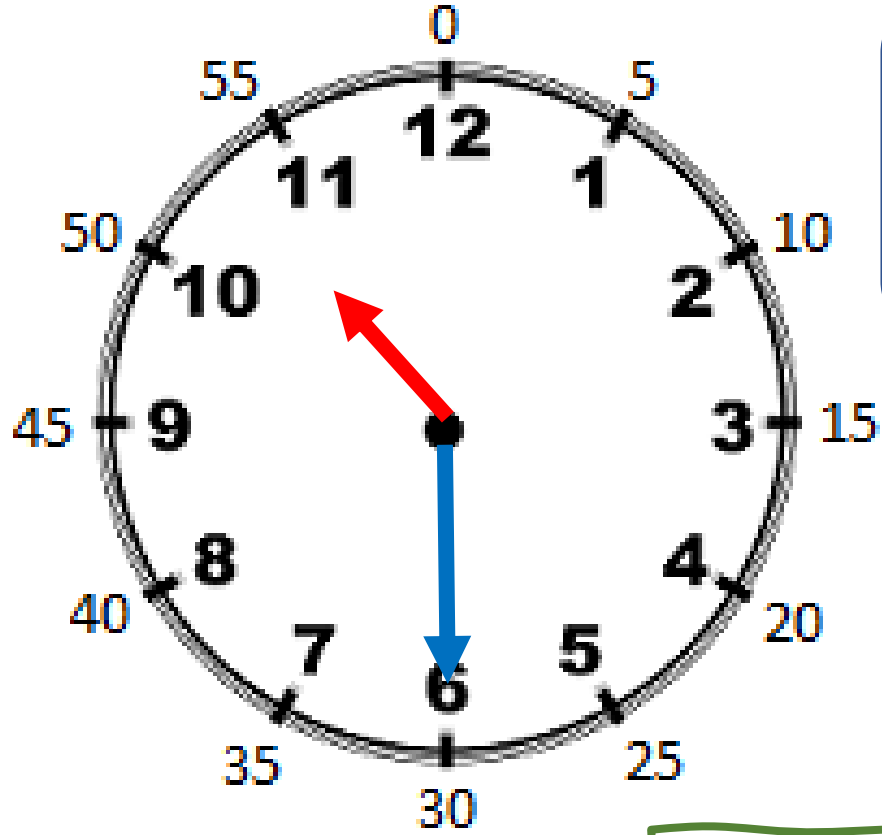
مفردات الدرس الجديدة

الساعة الرقمية

نصف ساعة

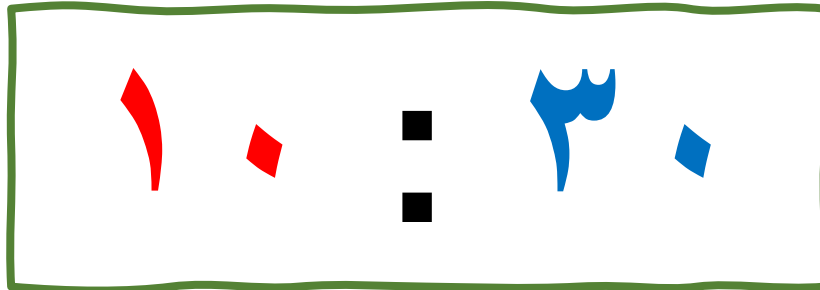


هدف اليوم : أن يقرأ ويكتب الطالب الوقت بنصف ساعة

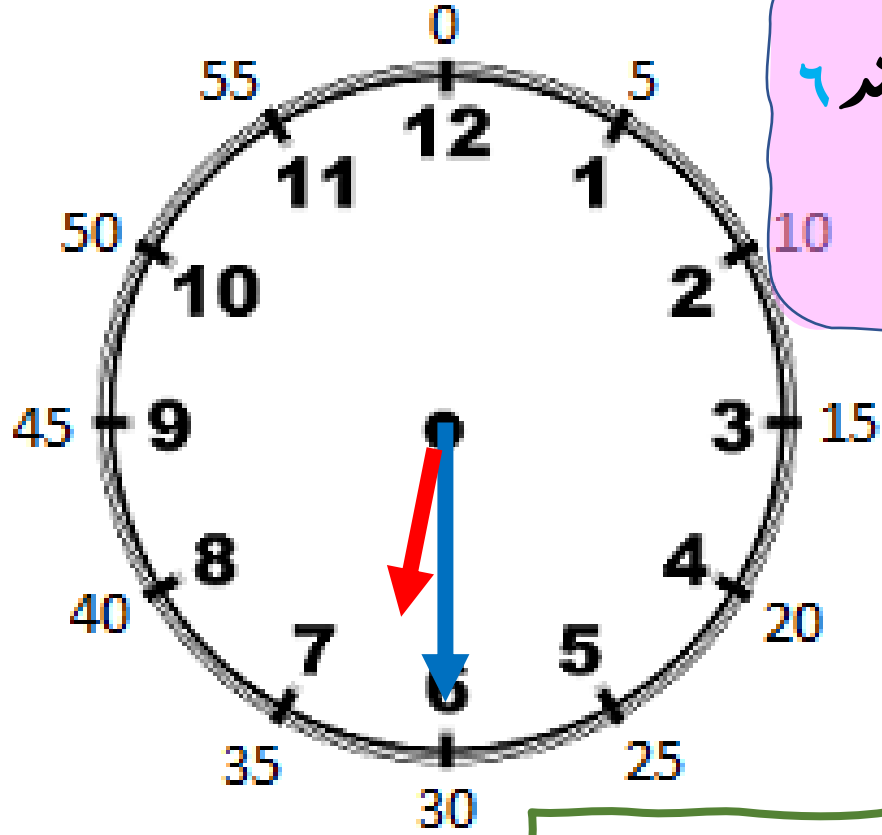


يقف عقرب الساعة بين ١٠ و ١١ ويقف عقرب الدقائق عند ٦ إذا كم الساعة ؟

كم الساعة ؟



هدف اليوم : أن يقرأ ويكتب الطالب الوقت بنصف ساعة



يقف عقرب الساعة بين ٦ و٧ ويقف عقرب الدقائق عند ٦
إذا كم الساعة ؟

كم الساعة ؟

٦ : ٣



هدف اليوم : أن يقرأ ويكتب الطالب الوقت بنصف ساعة

إجاباتكم
رائعة !



هدف اليوم : أن يقرأ ويكتب الطالب الوقت بنصف ساعة


هيا بنا يا
أصدقائي لننقل
للاستكشاف
والشرح مع أخي
خلف




هدف اليوم: أن يقرأ ويكتب الطالب الوقت بنصف ساعة

صفحة

٦١٣

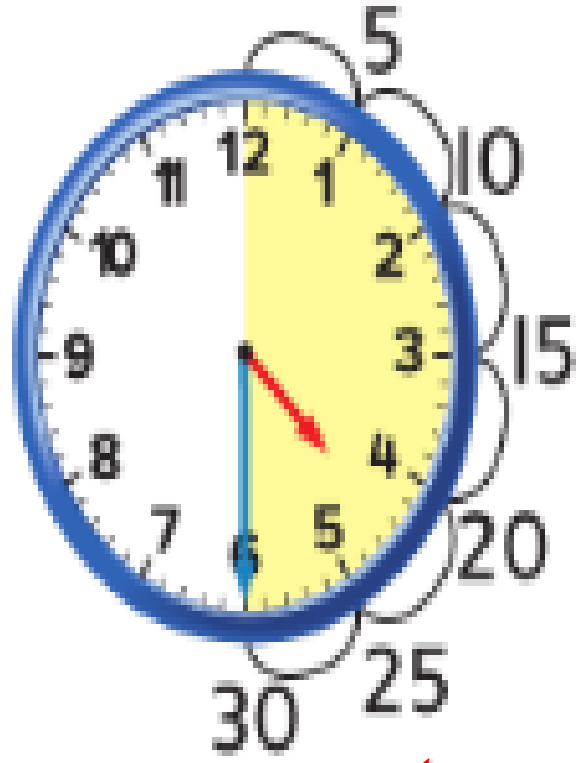


ينتهي تمرين خلف لكرة القدم في الساعة ٤ والنصف استخدم  لعرض الوقت . اكتب هذا الوقت على الساعة الرقميه الموضحة على الهاتف . أخبر أحد الزملاء بالوقت على الهاتف

هدف اليوم : أن يقرأ ويكتب الطالب الوقت بنصف ساعة

الملاحظة و الحساب





الساعة التناظرية تُظهر الوقت
بنصف الساعة، ونصف الساعة
يساوي 30 دقيقة.

إرشاد مُفيد

يَقِفْ عَشْرَتِ السَّاعَاتِ بَيْنَ 4
و 5 ، وَتَقِفْ عَشْرَتِ الدَّقَائِقِ
عِنْدَ 6. إِذَا السَّاعَةُ 4:30.

الساعة ونصف
أو 4:30

الملاحظة والحساب

المعلمة الصغيرة شيخة
الحرش ستقوم بشرح
درس نصف ساعة..

وسام
المعلم الصغير



هدف اليوم : أن يقرأ ويكتب الطالب الوقت بنصف ساعة

الممارسات الرياضية

الملاحظة والحساب

يُمكنُ للساعة الرقمية أيضًا أن تُظهر الوقت بنصف الساعة.
كلنا ساعتين نَظهران بنصف الساعة.



6:30 أو 30 دقيقة أو 6
ساعة دقائق

الملاحظة والحساب

أريد من طالب أن يشرح
لنا الوقت بنصف ساعة
بالساعة الرقمية

وسام
المعلم الصغير



هدف اليوم : أن يقرأ ويكتب الطالب الوقت بنصف ساعة

حان الآن وقت التطبيق العملي



هدف اليوم : أن يقرأ ويكتب الطالب الوقت بنصف ساعة

هيا يا عباقرة
الرياضيات
لنفتح الكتاب
صفحة ٦١٤



هدف اليوم : أن يقرأ ويكتب الطالب الوقت بنصف ساعة




بارك الله فيكم
يا أصدقائي
فأنت دائما
مبدعون في
الحل

هدف اليوم: أن يقرأ ويكتب الطالب الوقت بنصف ساعة

حان وقت الأسئلة و المرح

التقويم البنائي

مع صديقي راكون !



هدف اليوم: أن يقرأ ويكتب الطالب الوقت بنصف ساعة

What do you know?



Read the clock.
Click on the
answer!

6:30

4:30

6:00

5:30



هدف اليوم: أن يقرأ ويكتب الطالب الوقت بنصف ساعة

What do you know?



Read the clock.
Click on the
answer!



6:00

10:30

11:30

9:30

هدف اليوم: أن يقرأ ويكتب الطالب الوقت بنصف ساعة

What do you know?



Read the clock.
Click on the
answer!

3:30

5:30

4:30


2:30



هدف اليوم : أن يقرأ ويكتب الطالب الوقت بنصف ساعة

أنتم متميزون

في قراءة
وقت بنصف
الساعة
الرقمية !




هدف اليوم : أن يقرأ ويكتب الطالب الوقت بنصف ساعة


الآن !
حان وقت التعليم
المتمايز



هدف اليوم : أن يقرأ ويكتب الطالب الوقت بنصف ساعة





التفكير الناقد: فكر ، ناقش، ثم شارك




□ تقول مريم أن الوقت الموضح في الساعة 12:06، بينما عزة 12:30،

فأيهما على صواب . ولماذا؟



عزة

مريم



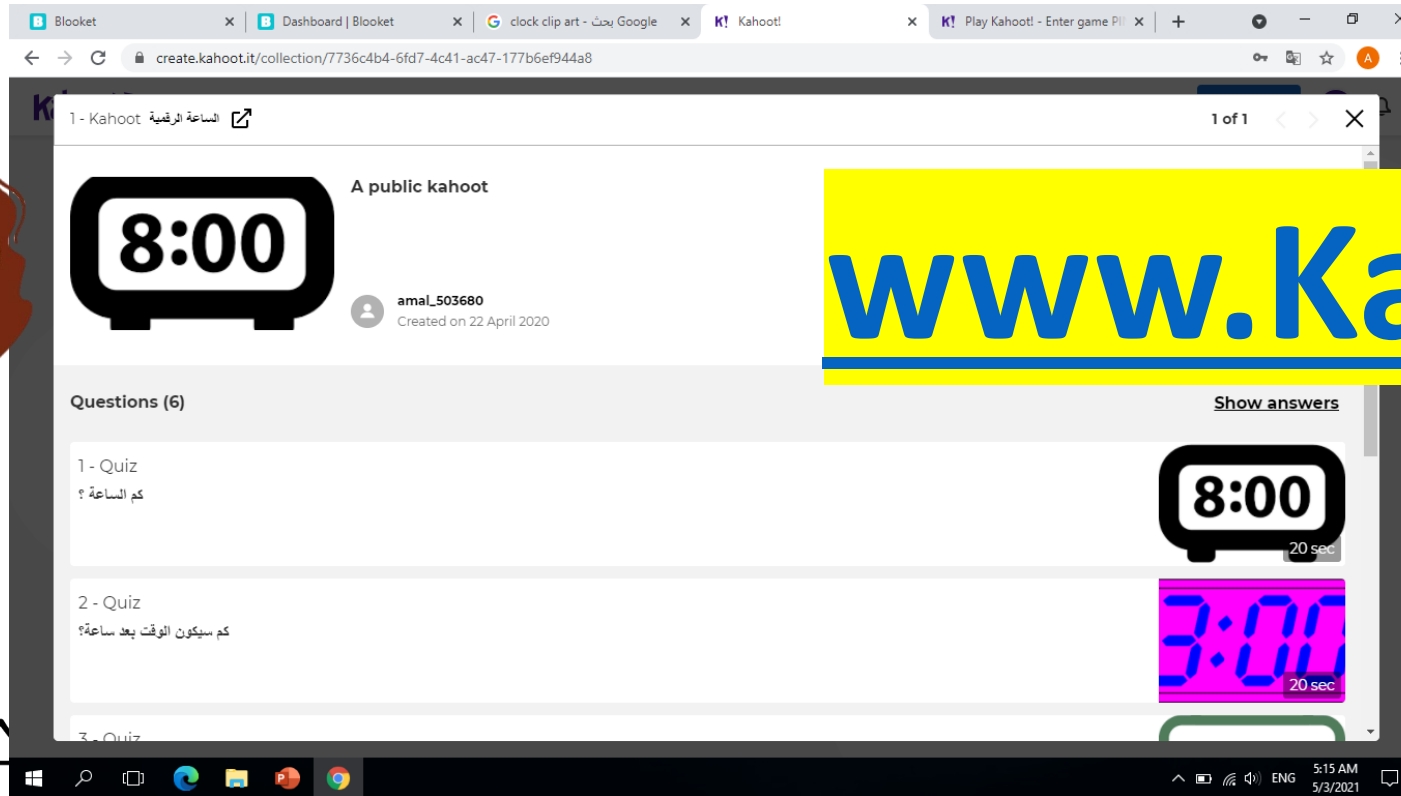
هدف اليوم: أن يقرأ ويكتب الطالب الوقت بنصف ساعة

استراتيجية التعلم
باللعب

التقويم الختامي

Kahoot!

برنامج



www.Kahoot.it



هدف اليوم : أن يقرأ ويكتب الطالب الوقت بنصف ساعة

فخورة بكم يا أبطال الصغار !
شكراً على مجهودكم اليوم !

