

مدرسة النعیمیة للتعلیم الاساسی ح ١		 مؤسسة الإمارات للتعليم المدرسي EMIRATES SCHOOLS ESTABLISHMENT	 United Arab Emirates	مؤسسة الإمارات للتعليم المدرسي قطاع العمليات المدرسية مجلس ٢ نطاق ٢,٦	
الاول /	الصف				
توقيع ولي الامر		الاختبار التكويني الأول الفصل الدراسي الثالث للصف الاول الاساسي للعام الدراسي ٢٠٢٢ – ٢٠٢٣ م			
الدرجة النهائية					
٣٠		المادة الرياضيات			
		الوسم			

لكل مفردة صحيحة درجة

السؤال الأول : اكتب الإجمالي و استخدم التمثيل البياني في الإجابة عن الأسئلة :

اللعبة المفضلة		
الإجمالي	علامات الاحصاء	اللعبة
		
		
		

١- كم عدد الذين اختاروا كرة القدم ؟

٢- هل من اختاروا الدراجة أكثر أم من اختاروا نط الحبل؟


نط الحبل




الدراجة

٣- كم شخصاً شارك في استطلاع الرأي؟

لكل مفردة صحيحة درجة

السؤال الثاني : اكتب القيم الإجمالية في جدول العلامات لاستخدامه لرسم التمثيل البياني بالصور :

الفاكهة المفضلة							
							
							
							

الفاكهة المفضلة		
الإجمالي	علامات الاحصاء	الفاكهة
		
		
		

١- كم يزيد عدد من اختاروا الموز عن من اختاروا التفاح ؟

لكل مفردة صحيحة درجتين

السؤال الثالث : حل المسألة التالية :

قطفت سعاد ١٠ أزهار و قطفت سلوى ٣ أزهار، كم يزيد عدد الأزهار التي قطفتها سعاد عن سلوى ؟

.....



لكل مفردة صحيحة درجتين

السؤال الرابع: رتب الأجسام تبعا للطول. اكتب ١ للجسم الطويل، و ٢ للجسم الأطول، ٣ للأطول على الإطلاق :



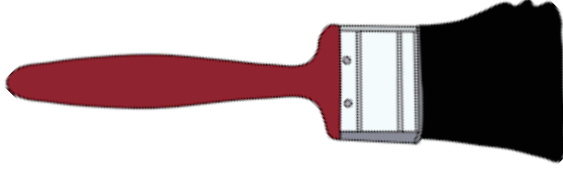


لكل مفردة صحيحة درجتين

السؤال الخامس: قارن بين الأجسام ثم حوّل المطلوب:


٢- أيهما أطول؟

١- أيهما أقصر؟




لكل مفردة صحيحة درجة

السؤال السادس: فاطمة لديها ثلاثة أجسام رتبها من الأقصر إلى الأطول :



لكل مفردة صحيحة درجتين

السؤال السابع: ما هو طول الجزرة بالمكعبات، حوّل الإجابة الصحيحة:



٩ مكعبات

٧ مكعبات

مع دعواتنا لكم بالتوفيق،