

اسم الطالب/ة:.....  
 الصف :...الثالث .... الشعبة : .....  
 التاريخ : / / 2024




100

مادة الدراسات الاجتماعية  
 الاختبار الختامي - الفصل الدراسي الثاني  
 الصف الثالث - العام الدراسي 2024/2023

**1- صنف الكلمات الآتية في مكانها الصحيح في الجدول .(البحر -البنر -الينابيع -البحيرات )**  
 (خمس عشرة درجة/.....)

المياه الجوفية	المياه السطحية

**2 - اكتب يا مبدع أشكال الطاقة تحت الصورة المناسبة لها .(حركية -ضوئية -حرارية)**  
 (خمس عشرة درجة/.....)

 <p>ت.</p>	 <p>ب.</p>	 <p>أ.</p>

**3- حوِّط يا ذكي من خلال الصور التي أمامك على مصادر الطاقة المتجددة.**  
 (خمس درجات/.....)

 <p>ت.</p>	 <p>ب.</p>	 <p>أ.</p>
---	---	---

4- ضع إشارة صح أو خطأ أمام العبارة المناسبة . (عشرون درجة/.....)

- أ- لعبة المَريخانة، لعبة تُعصَّب فيها عينا اللاعب .  
ب- تقع مدينة مصدر في إمارة أبو ظبي .  
ت- شعار دولة الإمارات العربية المتحدة هو النسر .  
ث- تم إعلان قيام اتحاد دولة الإمارات العربية المتحدة عام 1971م .

5- اذكر يا مبدع أنواع الحيوانات والخضراوات والأسماك الموجودة في دولة الإمارات العربية المتحدة .

(الخيار -الإبل -الجزر- الهامور - الدواجن- الصافي ) (خمس عشرة درجة/.....)

أ- الخضراوات :

ب -الحيوانات :

ت - الأسماك :

6- استكمل البطاقة التعريفية للشيخ زايد -رحمه الله -مستعيناً بالكلمات الآتية :

أبو ظبي - زايد - الوحدة - الطرق (عشرون درجة/.....)



- 1 أنا الشيخ .....
- 2 حكمت عام 1966م إمارة .....
- 3 سعت لخدمة الناس بوضع أساس .....
- والأمن والاستقرار.
- 4 حققت إنجازات عظيمة في أبوظبي في مجال .....

7- أصل بين العبارة والتصرف المناسب لها . (عشر درجات/.....)

تصرف صحيح

أ- عثرت على نقود في ساحة المدرسة فوضعتها في جيبى

تصرف غير صحيح

ب- تدكرت أنني لم أدفع ثمن الكتاب، فرجعت إلى المكتبة لأدفعه.