

استبدل الرموز بالحروف للوصول إلى عنوان الدرس



الكلمة الأولى : (×] > (~ ؟)



| | | | | |
|--------|--------|--------|--------|-------|
| { = ب | ؛ = ش | x = ا | ~ = ر | % = ت |
| ? = س |) = ض | ^ = ط | ! = م | @ = د |
| # = هـ | ((= غ | [= ن | z = لا | & = ك |
| " = ف | \$ = ي | // = ح | < = ي |] = ل |
| } = و | ÷ = ج | * = د | + = خ | > = ت |

أخلاقيات التعلم عن بعد للطالب

(1) اختيار مكان مناسب للتعلم
عن بعد خالي من الضجيج
والمشتتات والتأكد من الجاهزية
قبل وقت الحصة بفترة مناسبة

(2) الالتزام بالوقت المحدد
للحصة الإلكترونية

(3) المشاركة والتفاعل وتقديم
التغذية الراجعة من خلال القنوات
الموضحة من قبل المعلم

(4) اتباع تعليمات المعلم خلال
الحصة وعدم التردد في السؤال
عن أي استفسار

(5) تحمل المسؤولية واحترام
الآخرين وعدم الإساءة لهم
أو التعدي على حقوقهم



(10) عدم استخدام أي وسيلة
لتسجيل صوت أو فيديو أو التقاط
صور للمتواجدين التزاماً بقانون الدولة
لمكافحة الجريمة الإلكترونية

(9) التذكر دائماً بأن الحصة
الإلكترونية تخضع لقوانين
الجريمة الإلكترونية في الحكومة
الاتحادية رقم 12 للعام 2016


(8) حضور الحصة كاملة وعدم
الخروج مع تقديم طلب الاستئذان
في حال الحاجة للخروج
من المجموعة

(7) عدم استخدام الهاتف
أو المواقع الأخرى والانشغال
عن الدرس

(6) عدم استخدام برامج القرصنة
أو سرقة هوية الآخرين



تضاريس الوطن العربي



أهداف الدرس :

الهدف الأول : يتعرف المفاهيم و المصطلحات الواردة في الدرس

الهدف الثاني : يستنتج العوامل المؤثرة في تشكيل التضاريس .

الهدف الثالث : يناقش أشكال التضاريس في الوطن العربي

الهدف الرابع : يحدد على الخريطة أشكال التضاريس في الوطن العربي

الهدف الخامس : يستخلص من الخرائط و الأشكال و الجداول البيانية الحقائق و المعلومات .



المجموعة البرونزية
يربط العوامل المؤثرة بالصورة
المناسبة



المجموعة الفضية
تصنف العوامل المؤثرة في تشكيل
التضاريس



المجموعة الذهبية
يستنتج العوامل المؤثرة في تشكيل
التضاريس و يحل الأشكال

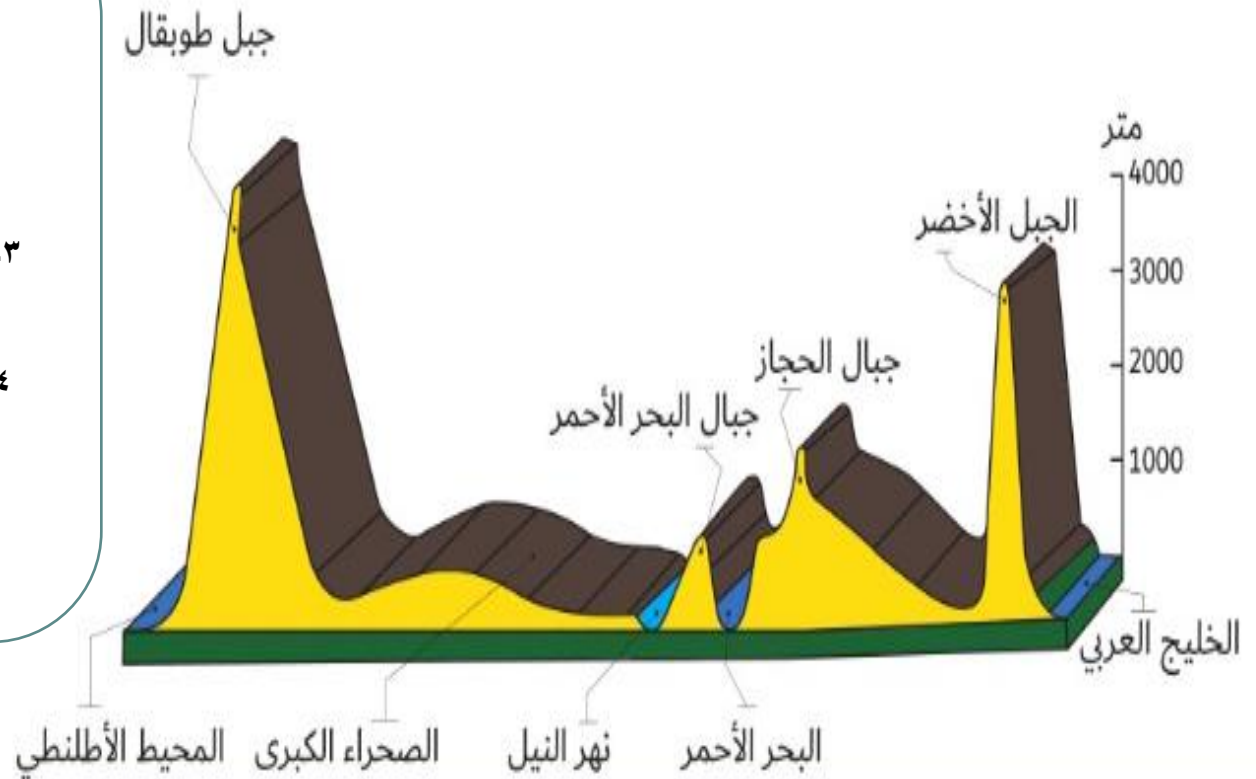


حل المقطع التضاريسي يبين مظاهر التضاريس في الوطن العربي



حل هذا المقطع التضاريسي :

- ١- أعلى قمة جبلية في الوطن العربي جبل طوبقال
- ٢- يبلغ إرتفاع الجبل الأخضر حوالي ٣٠٠٠ م
- ٣- تطل جبال الحجاز من جهة الغرب على البحر الأحمر
- ٤- أكثر أشكال التضاريس انتشارا في هذا المقطع الجبال
- ٥- المنطقة التي يمثلها هذا المقطع من الخليج العربي إلى المحيط الأطلنطي



عوامل تشكيل سطح الوطن العربي



العوامل الباطنية

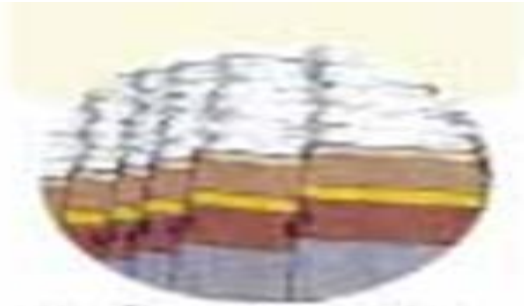
الثورات
البركانية

الحركات
الانكسارية

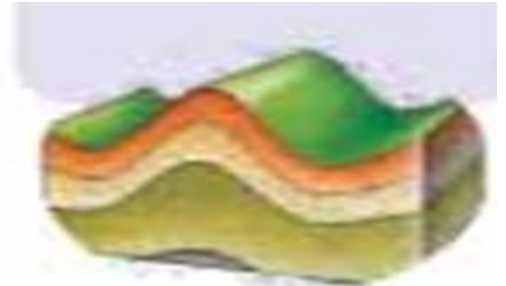
الحركات
الإلتوائية



بركان فانو



انكسار طبقات الأرض



التواء طبقات الأرض

An aerial photograph of a hillside covered in terraced agricultural fields. The terraces are arranged in a series of concentric, curved steps that follow the natural contours of the land. The fields are in various stages of cultivation, with some appearing green and others brown. The background shows more hills and a clear blue sky.

العوامل التي اسهمت في تشكيل تضاريس الوطن العربي

العوامل الخارجية التعرية

درجة الحرارة

الرياح

المياه

العوامل الداخلية

الحركات
الالتوائية

الحركات
الانكسارية

الزلازل
والبراكين

التعرية



عملية طبيعية تؤدي إلى انفصال الصخور أو التربة عن
سطح الأرض في منطقة ما
وانتقالها إلى منطقة أخرى بتأثير العوامل الجوية .



أُفسر المفاهيم و المصطلحات الواردة في الدرس

أستنتج العوامل المؤثرة في تشكيل الجبال .

أحدد على الخريطة أشكال التضاريس في الوطن العربي (الجبال)

معيـار النـجـاح



المجموعة البرونزية
يحدد العوامل الخارجية التي شكلت
الجبـال



المجموعة الفضية
تحدد العوامل الداخلية التي كونت
الجبـال

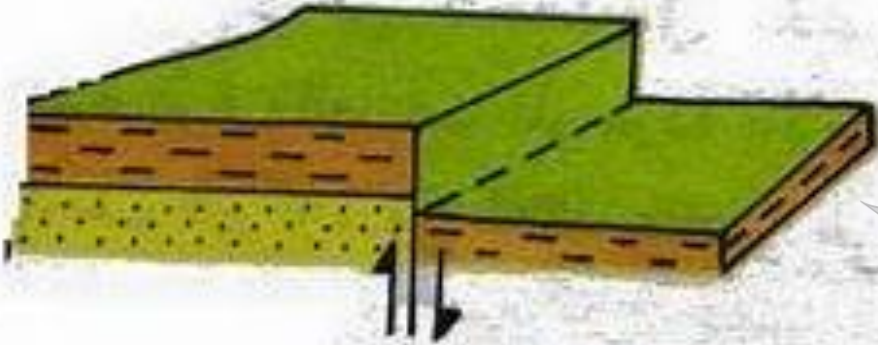


المجموعة الذهبية
يحدد العوامل التي كونت الجبال



تمعن الصور التالية ثم استنتج
العوامل الداخلية التي شكلت
الجبال الوطن العربي

الحركات الالتوائية



الحركات الانكسارية



الزلازل والبراكين



تمعن الصور التالية ثم استنتج
العوامل الخارجية التي شكلت
الجبال الوطن العربي

درجة الحرارة



الرياح



المياه

تقويم مرحلي (تقويم بنائي)



<https://app.nearpod.com/?pin=ZUDBH>



الجبال الالتوائية

جبال أطلس تمتد
من الغرب إلى
الشرق في ثلاث
دول هي المغرب
والجزائر
وتونس أعلى
قممها جبل
طوبقال ٤١٦٥ م

أنواع الجبال

الجبال الانكسارية

أ) مرتفعات البحر
الأحمر : تمتد
على جانبي البحر
الأحمر أعلى جبالها
جبل النبي شعيب
٣٧٦٦

ب) مرتفعات الشام :
تمتد على
طول الساحل الشرقي
للبحر
المتوسط .

معيـار النـجـاح



المجموعة البرونزية
يحدد الجبال الإلتوائية و يلونها



المجموعة الفضية
تحدد الجبال الإنكسارية و يلونها



المجموعة الذهبية
يحدد الجبال الإلتوائية و الإنكسارية و
يلونها

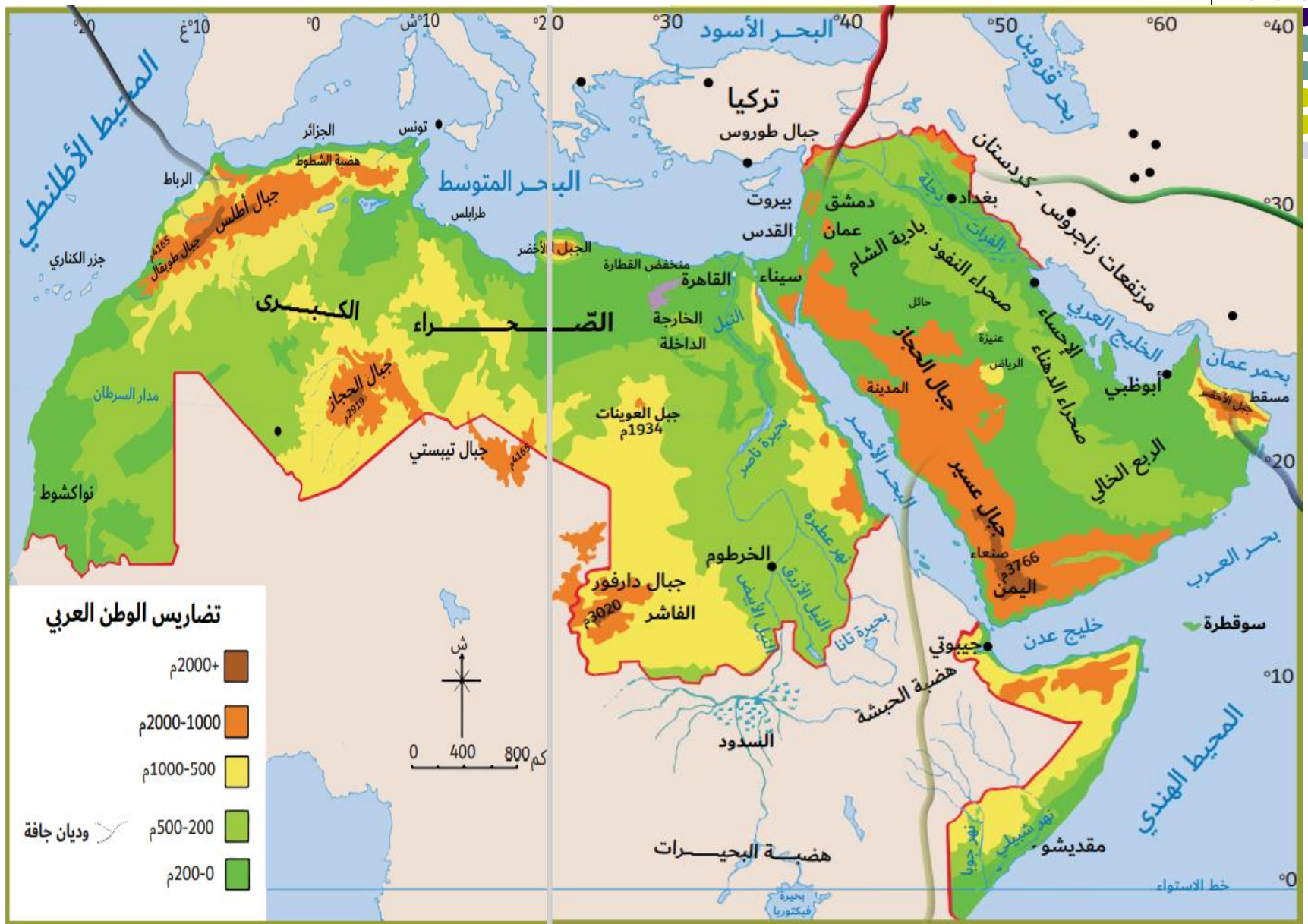
الوطن العربي (طبيعية)

الجبال الانكسارية



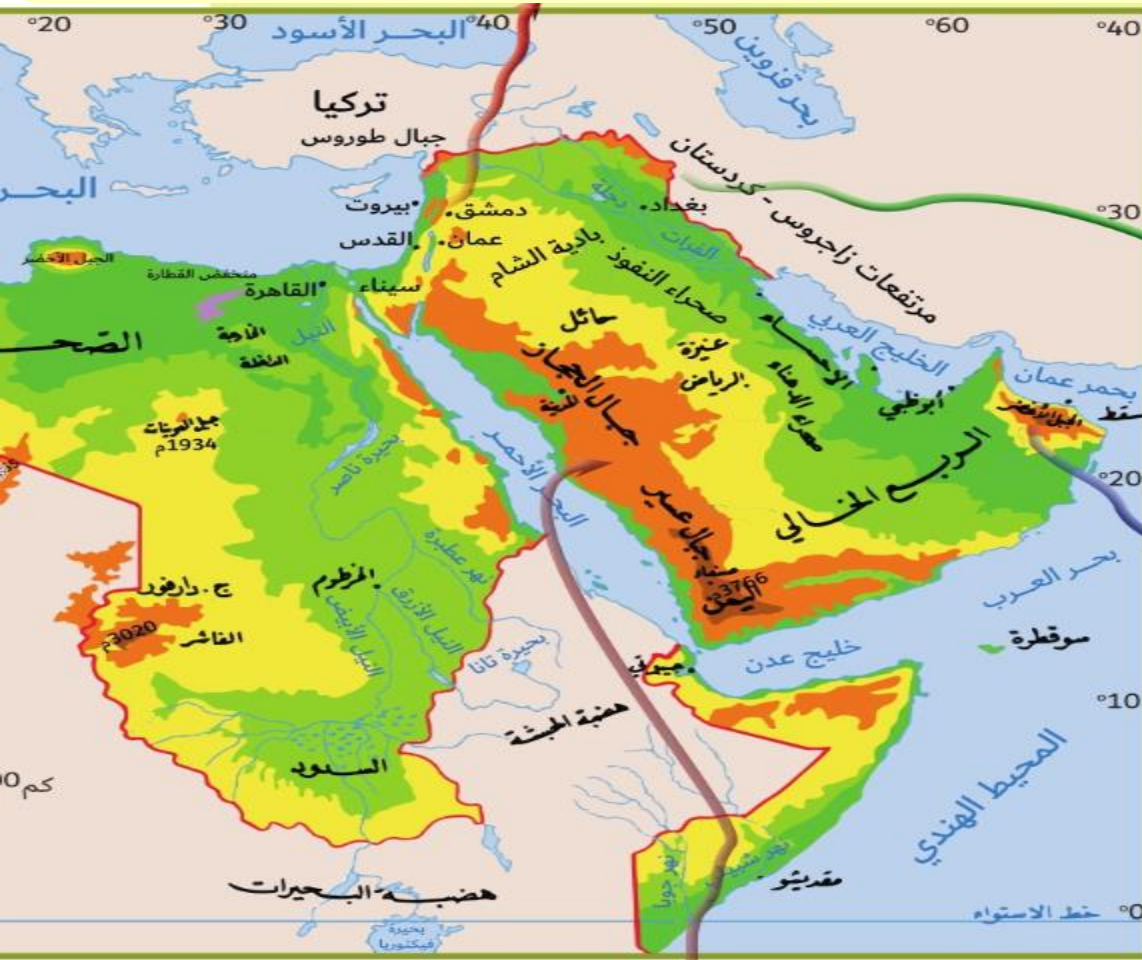
الجبال الالتوائية





جبال بلاد الشام

جبال انكسارية تمتد بمحاذاة الساحل الشرقي للبحر المتوسط كسلسلتين موازيتين تمتد من جبال طوروس إلى العقبة ويعتبر البحر الميت أخفض بقعة في العالم



جبال كردستان وجبال زاغروس

جبال التوائية تقع قرب الحدود التركية وإيران وتوجد فيها أعلى قمم العراق (هكرد) بارتفاع ٣٠٦٧ م

سلسلة جبال عُمان

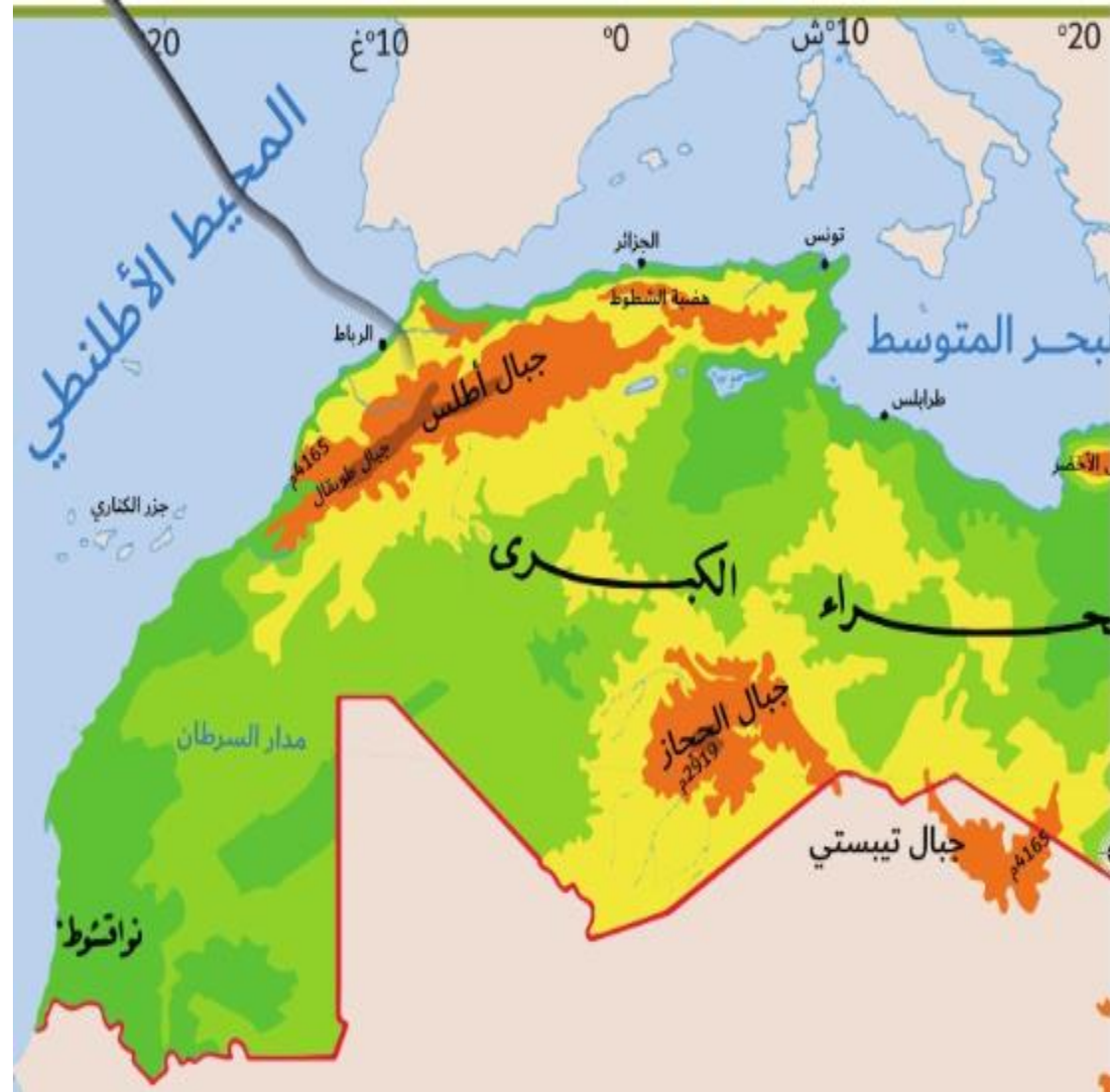
- جبال التوائية تقع جنوب شرق شبه الجزيرة
- وتشكل سلسلة متصلة ويعد جبل الأخضر أهم مناطقها بارتفاع ٣٠٠٠ م

جبال البحر الأحمر

جبال انكسارية نتجت عن حركات بطيئة أصابت الصخور الصلبة فأدت لارتفاع بعضها وانخفاض البعض الآخر أعلى ارتفاع جبل النبي شعيب ٣٧٦٦ م

جبال أطلس

وهي جبال التوائية، تتألف من مجموعة من السلاسل، تبدأ من الجنوب الغربي قرب ساحل المحيط الأطلسي، وتتجه نحو الشمال الشرقي بموازاة ساحل البحر المتوسط، وتوجد ضمن هذه الجبال أعلى قمة جبلية في الوطن العربي وهي قمة جبل طوبقال (4165م).



تضاريس دولة الإمارات

تتميز الجبال
بأنها التوائية متوسطة الارتفاع
و هي امتداد لجبال عمان
وتقسم إلى:

مرتفعات رؤوس الجبال أعلى قمة جبل
جيس ١٩٣٤ م

مرتفعات الشمالية أعلى قممها جبال
مسافي ١١٥٣ م

المرتفعات الوسطى أعلى قمة جبل
الحجر ١٥٠٠ م



أهداف الدرس :

الهدف الأول : يتعرف المفاهيم و المصطلحات الواردة في الدرس

الهدف الثاني : يوضح أشكال التضاريس في الوطن العربي (السهول)

الهدف الثالث : يستخلص من الخرائط و الأشكال و الجداول البيانية الحقائق و المعلومات .



المجموعة البرونزية
تعدد أهم السهول في الوطن العربي



المجموعة الفضية
تصنف أهم السهول في الوطن العربي




المجموعة الذهبية
تقارن بين السهل الساحلي الشرقي و
السهل الساحلي الغربي في الإمارات

ما التغيير الذي سيحدث في الإمارات إذا كانت
تمتلك أنهارا

سؤال التحدي

تقويم قبلي



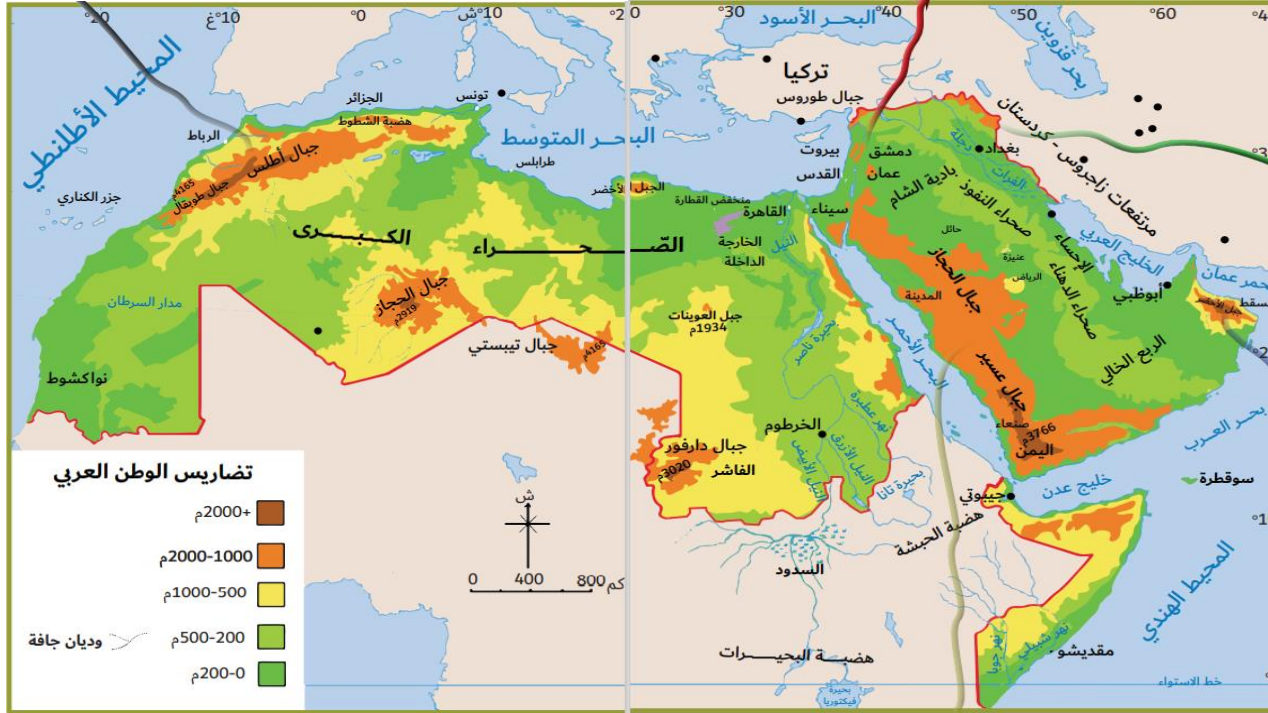
<https://forms.gle/PPr9kigJkSntmxna8>

لاحظ الصور واستنتج تعريف السهول



أراضي قليلة الإرتفاع مستوية السطح

ثالثا : السهول



السهول الفيضية

هي السهول التي كونتها
الارسابات النهرية

السهول الساحلية

هي الأراضي المنبسطة المطلة على
المسطحات المائية تضيق وتتسع تبعا
لقرب أو بعد الجبال من الساحل



مهارة قراءة و تحليل الخريطة استنتج التالي

| السهول الساحلية | السهول الفيضية |
|--------------------------------|----------------|
| سهول الخليج العربي | سهول النيل |
| سهول بحر عمان | سهول دجلة |
| سهول البحر المتوسط | سهول الفرات |
| سهول البحر الأحمر (تهامة) | سهول جوبا |
| سهول المحيط الأطلنطي | سهول شبيلي |



السّهول الفيضيّة

هي السّهول التي تكوّنت بفعل الإرسابات النّهريّة مثل: سهول النّيل في مصر والسّودان، وسهول دجلة والفرات في العراق وأراضيها خصبة منبسطة وكثيرة السّكّان وكانت موطنًا للحضارات القديمة.

فكر برأيك
سبب قيام
الحضارات
في مناطق
السّهول
الفيضيّة

السّهول الساحليّة

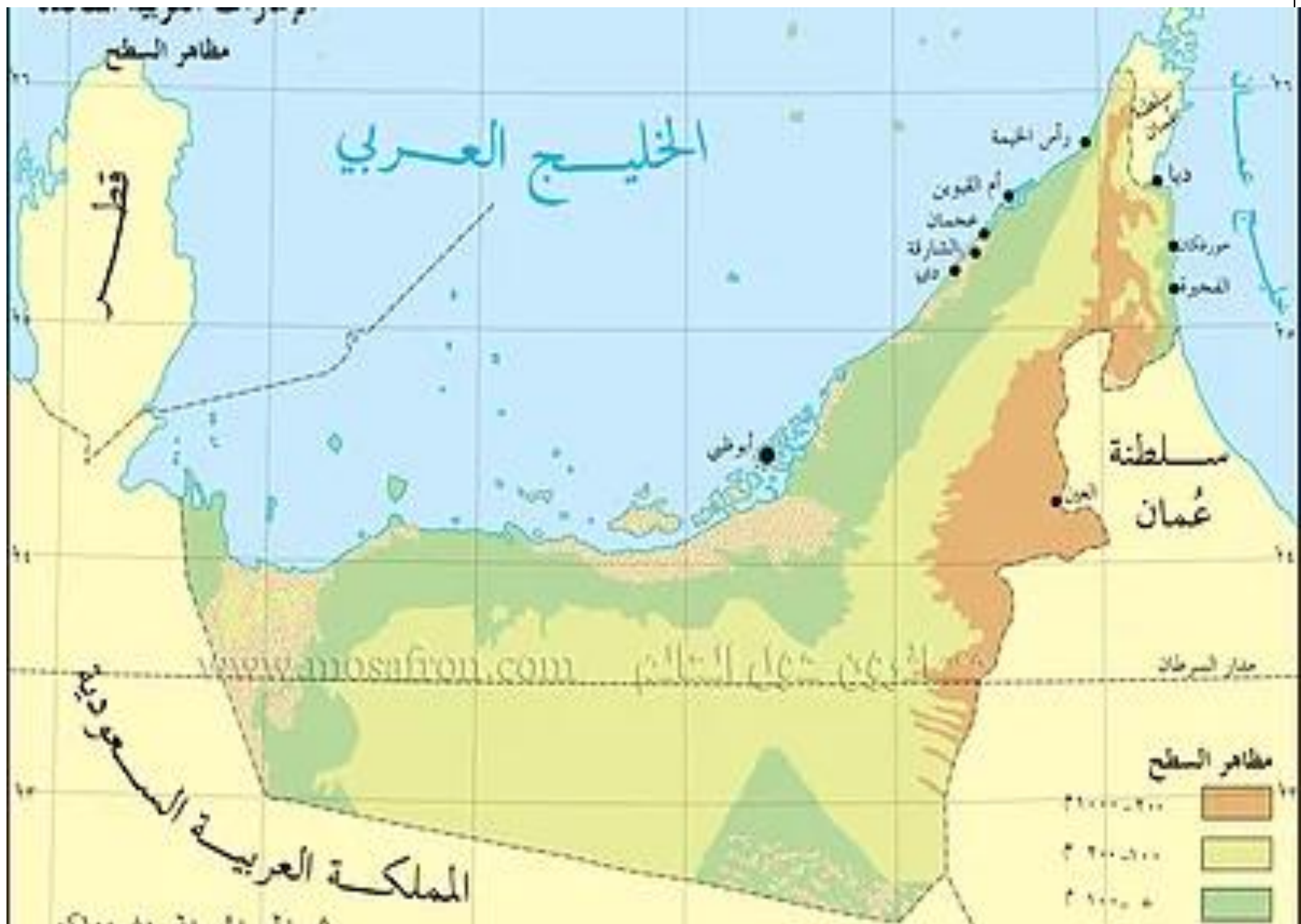

وهي الأراضي المنبسطة المطلة على المسطحات المائيّة في الوطن العربي، وهي تضيق وتتّسع تبعًا لقرب


أو بعد الجبال من السّاحل ومن أمثلتها سهول الخليج العربي وسهول البحر المتوسّط وسهول تهامة على البحر الأحمر.

ولدولة الإمارات العربيّة المتّحدة سهلان ساحليّان هما:

السّهل السّاحلي الشّرقى الذي يمتدّ من دبا شمالًا إلى خطم الملاحة جنوبًا وهو سهل يمتاز بالطّول وقلة التّعرج والضّيق، بينما يمتاز السّهل السّاحلي الغربى الذي يمتدّ على الخليج العربي بالاتّساع كلما اتّجهنا جنوبًا باتجاه أبوظبى.







قارن بين السهل الساحلي الشرقي و السهل الساحلي الغربي


| وجه المقارنة | السهل الساحلي الغربي | السهل الساحلي الشرقي |
|--------------------------|------------------------|-------------------------|
| المسطح المائي المطل عليه | الخليج العربي | بحر عمان |
| الإتساع | متسع | ضيق بسبب قرب الجبال |
| الطول | طويل ٦٤٠ كم | قصير ٩٠ كم |
| المدن المطل الواقعة عليه | أبوظبي - دبي - الشارقة | دبا - خورفكان - الفجيرة |


توقع التغيرات في دولة الإمارات لو كان لديها أنهارا

التقويم الختامي

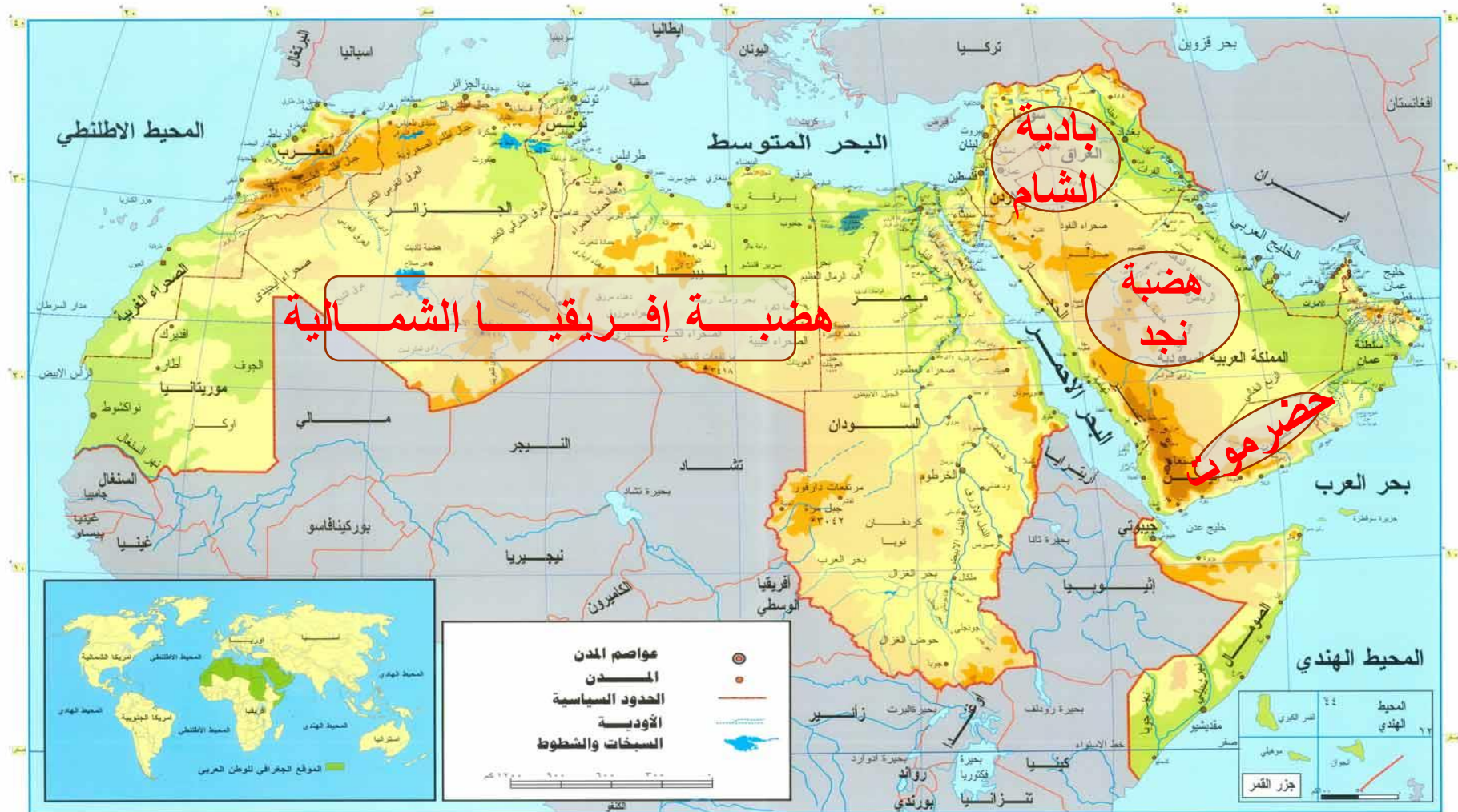


<https://quizizz.com/join?gc=00034049>





الوطن العربي (طبيعية)



هضبة إفريقيا الشمالية

بإبادة
الشام

هضبة نجد

حضرت مولانا

ثانيا : الهضاب



تحتل الهضاب مساحات واسعة من الوطن العربي بنحو ٨٠% وتشمل

هضبة
بلاد الشام

هضبة شبه
الجزيرة العربية

هضبة افريقيا
الشمالية

هضبة بادية الشام:

وتشمل الأجزاء الغربية من العراق وجنوب سوريا والأجزاء الشرقية من الأردن، وتقع إلى الشمال من صحراء النفود، وتتكوّن معظم أجزائها من التّكوينات البركانيّة كما هو الحال في حوران جنوب سوريا وشمال الأردن.

*تشغل الجزء الأكبر من الجناح الآسيوي
*تتكون من عدة هضاب:
هضبة نجد – حضر موت
*غطي سطحها الكثبان الرملية في الامارات الممتدة من صحراء الربع الخالي
*تتخللها عدة واحات مثل العين والذيد

متوسطة الارتفاع واسعة المساحة تمتد من الشرق للغرب وتشكل الصحراء الكبرى الجزء الأكبر بها مظاهر السطح : المنخفضات والواحات والأودية المرتفعات التكوينات الكلسية والصوانية والرملية



ظواهر طبيعية تنتشر بالهضاب العربية

٣

التكوينات الرملية

تجمعات رملية مختلفة
الأشكال والأحجام مثل
بحر الرمال العظيم بين
مصر وليبيا



٢

الأودية الجافة

أوديه كانت تملأها المياه
قديما ثم جفت وتستخدم
كطرق للمواصلات
واستخراج المياه
الجوفية مثل وادي
العلاقى فى مصر



١

الواحات

منخفضات خضراء فى
وسط الصحراء يعيش
بها السكان وتربى
فيها الحيوانات (واحة
سيوه فى مصر وواحة
الكفرة بليليا)

