



العام الدراسي 2023-2024م

الصف السابع \_ عام

الدراسات الاجتماعية



# أهم القواعد والقوانين والأدوات

## لنتفق معاً على قواعد محددة

المشاركة والتفاعل وتقديم التغذية الراجعة من خلال القنوات الموضحة من قبل المعلم.

تحمل المسؤولية واحترام الآخرين وعدم الإساءة لهم أو التعدي على حقوقهم.

حضور الحصة كاملة و الاستئذان في حال الحاجة إلى مغادرة الحصة.

عدم استخدام المواقع الأخرى والإنشغال عن الدرس.

لا تتردد في السؤال عن أي استفسار.

اتبع تعليمات معلمك دائماً استمع الى المتحدث جيداً واستأذن قبل التكلم.

## تأكد من وجود جميع احتياجاتك بجانبك



## تأكد من الدخول الى بوابة التعلم الإلكتروني ومعدة الفيد



## السلامة الرقمية

أخبر دائماً شخصاً بالغاً إذا ظهر شيء لست متأكداً منه

لا تنقر على الروابط التي تشعر أنها غريبة ولا يجب أن تكون على الصفحة.

كيف نستخدم الإنترنت بأمان؟

## سجل الحضور اليومي والغياب

قيام الاتحاد :  
٢ ديسمبر ١٩٧١م

تتكون دولة  
الإمارات من :  
سبع إمارات



نائب حاكم دولة

الإمارات ،  
و حاكم اماره  
دبي ،  
و رئيس مجلس  
الوزراء :  
الشيخ محمد بن  
راشد بن سعيد آل



تولى حكم دولة الإمارات  
العربية المتحدة في  
١٤ مايو ٢٠٢٢م


المساحة  
: ٨٣,٦٠٠ كم مربع

عاصمة دولة  
الإمارات :  
أبو ظبي

الإمارات  
و حاكم اماره  
أبو ظبي :  
الشيخ محمد بن زايد  
بن سلطان



الروتين اليومي



مؤسسة الإمارات للتعليم المدرسي  
EMIRATES SCHOOLS ESTABLISHMENT



## أهلا وسهلا بطالبات الصف السابع المتميزات

<https://www.thinglink.com/video/1489343837766680579>



هيا نخرج ونلعب  
بعبة الحاسوب من الانترنت





# السؤال الأول

## يحد شبه الجزيرة العربية من الغرب





# السؤال الثاني

هو موقع المكان بالنسبة لخطوط الطول ودوائر العرض



حاول مرة أخرى



حاول مرة أخرى



رائعة يابطة



اضغط هنا





# السؤال الثالث

تعد شبه الجزيرة العربية موطن العرب ومهد الحضارات





# السؤال الرابع

## مضيق يربط بين بحر عمان والخليج العربي .....





# السؤال الخامس

من عوامل قيام الحضارة توفر الماء والتربة



حاول مرة أخرى





شكراً لكن طالباتي الجميلات  
تم الحصول على الكنز بكل نجاح



هيا بنا يا رائعات نسترجع معلوماتنا

أين تقع شبه الجزيرة العربية بالنسبة لآسيا؟

جنوب  
الغربي



الشمال



الجنوب  
الشرقي



هيا بنا يا رائعات نسترجع معلوماتنا

حدد صحة العبارة بنعم أو لا

تبلغ مساحة شبه الجزيرة العربية ٣ ملايين كم ٢

لا



نعم





ما الذي تلاحظونه أمامكم




# مظاهر التضاريس

الدرس الثاني

# عناصر

# الدرس

الجبال :



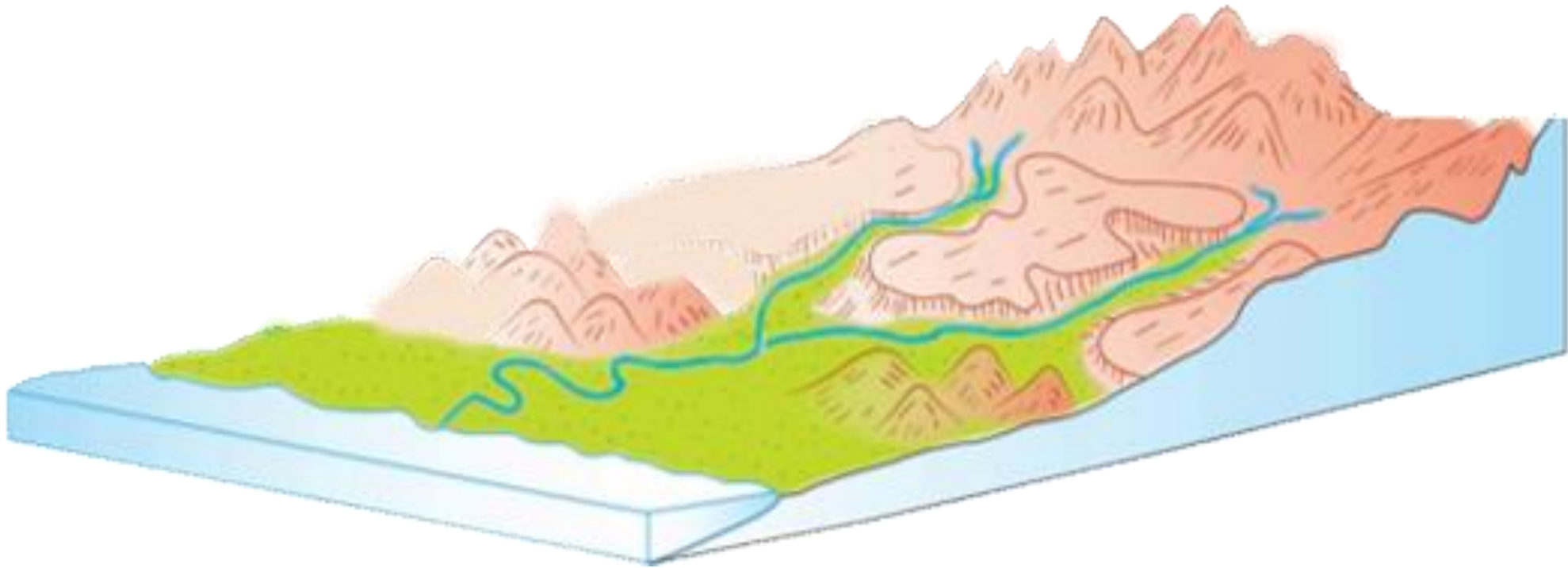
الهضاب :



السهول :

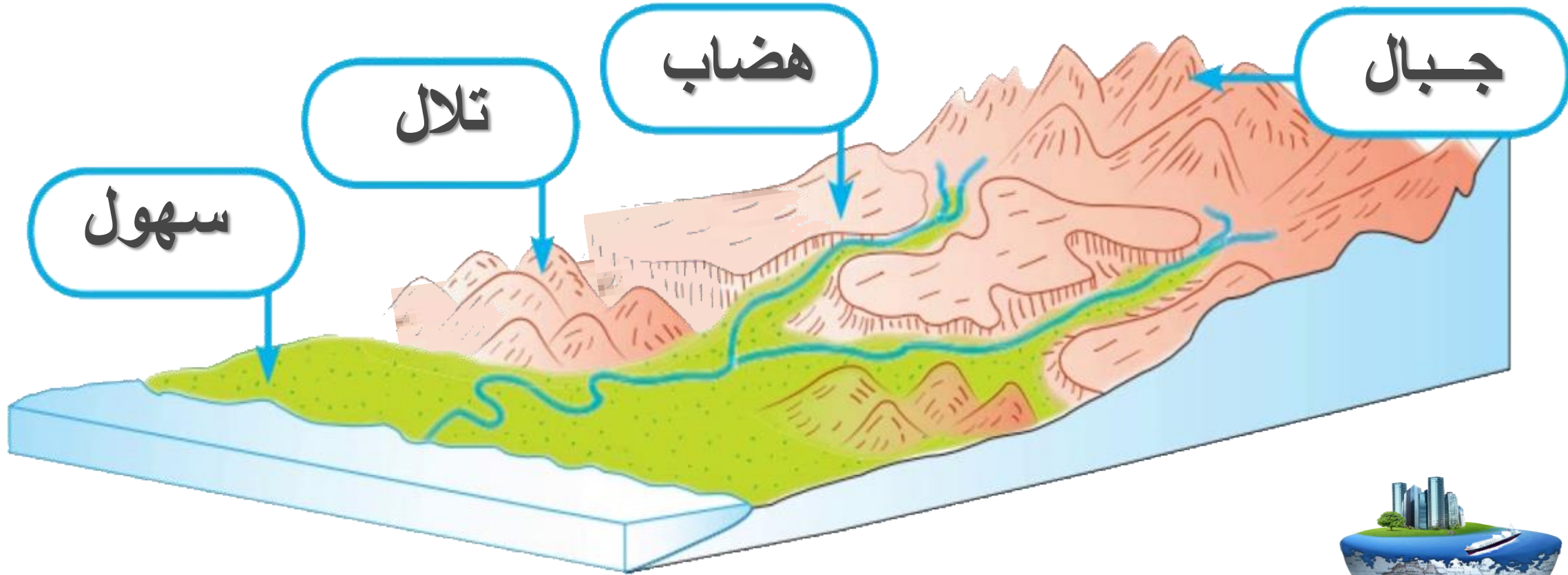


## أيقونة الدرس:





«التضاريس: هي الأشكال السطحية التي تتكون منها القشرة الأرضية من:





## المفاهيم والمصطلحات الجديدة

◊ الجبال الانكسارية ◊ الجبال الالتوائية ◊ السهول

- يُفسر المفاهيم والمصطلحات الواردة في الدرس.
- يبيّن الخصائص الطبيعية لشبه الجزيرة العربية (التضاريس).
- يحدّد أشكال التضاريس على خريطة شبه الجزيرة العربية.
- يصنّف الظواهر التضاريسية في شبه الجزيرة العربية.

نواتج التعلّم






# التضاريس



السهول الساحلية



المرتفعات




الصحاري



الأودية



# المرتفعات:





تضاريس شبه الجزيرة العربية



## الجبال الالتوائية:

نشأت نتيجة لحركات باطنية بطيئة، أدت لضغوط جانبية. كسلسلة جبال عُمان.

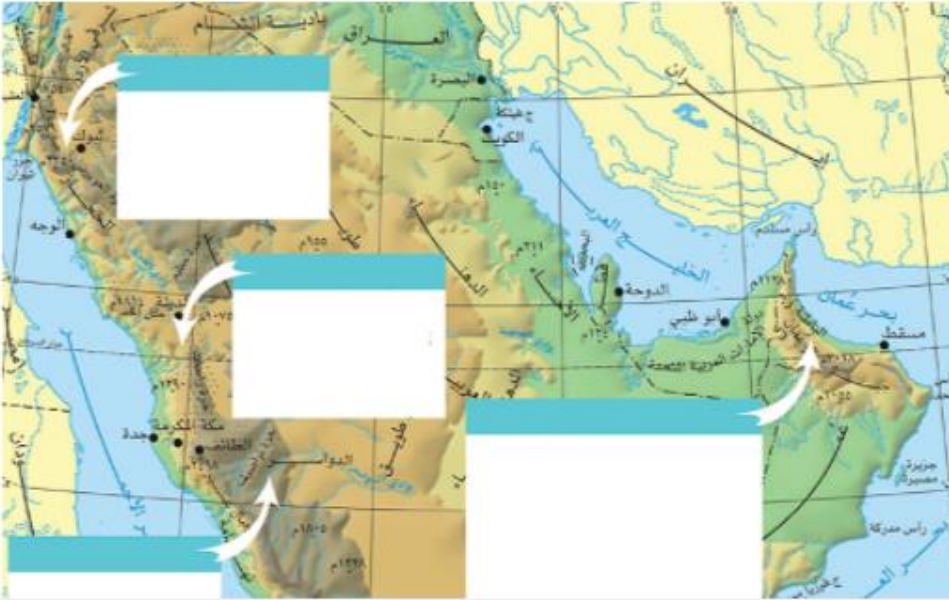
## الجبال الانكسارية:

وهي الجبال التي نتجت عن حركات باطنية بطيئة، أصابت الصخور الصلبة فأدّت لارتفاع بعضها وانخفاض البعض الآخر، تمتد الجبال الانكسارية من رأس خليج العقبة شمالاً وحتى اليمن جنوباً لمسافة 2240 كم، وتعرف هذه المرتفعات بأسماء مختلفة منها: جبال مدين، جبال الحجاز، جبال عسير، جبال اليمن.



نواصلُ معَ (جبالِ شبه الجزيرة العربية).

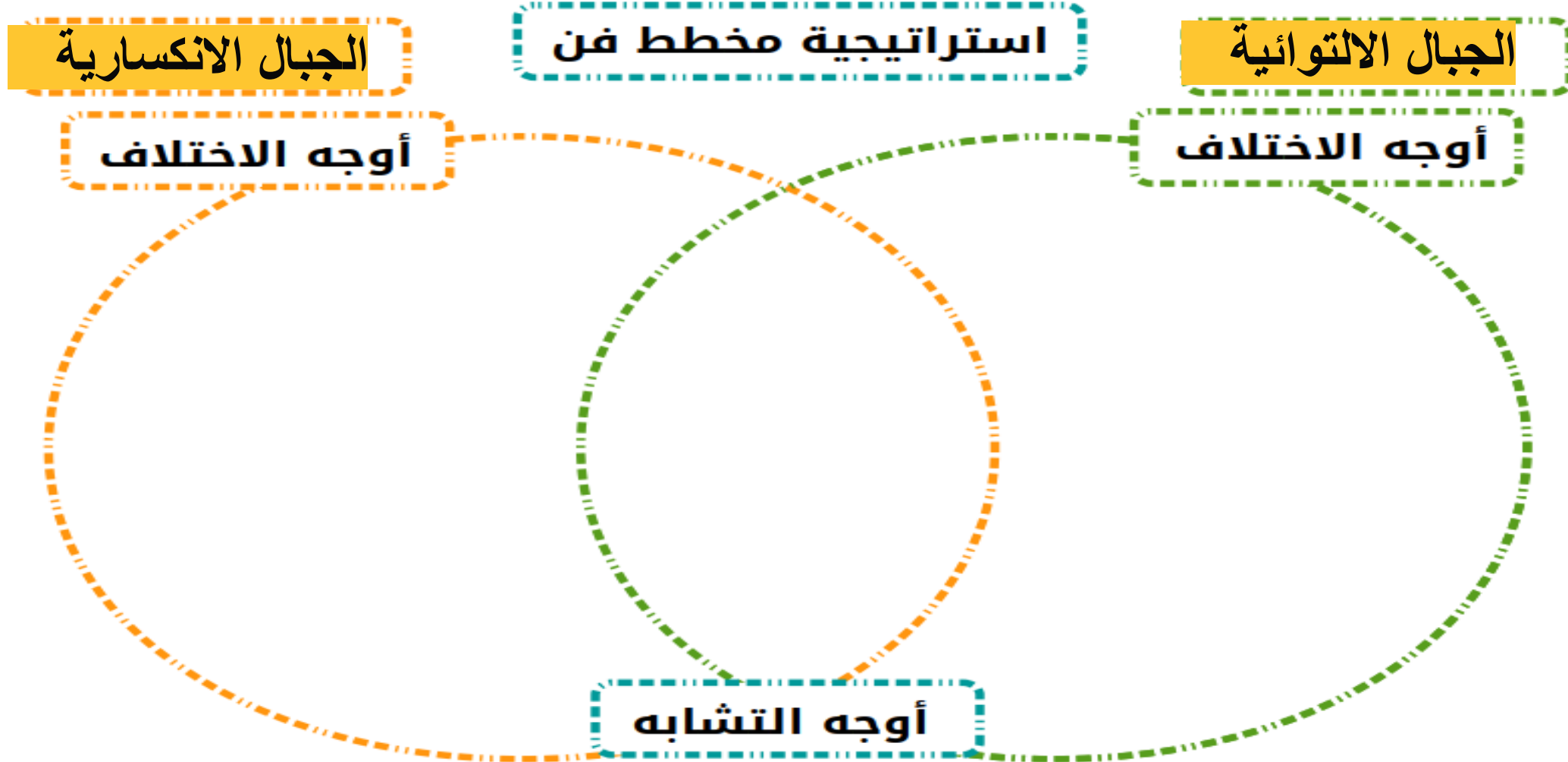
تفاعل



- جبال مدين
- جبال الحجاز
- سلسلة جبال عُمانَ
- مرتفعات اليمنَ
- جبال عسير



**الخطوات:** يقارن الطلبة بين كل من الجبال الالتوائية والانكسارية .



# الهضاب (الصحاري):





## ٤- الهضاب:



هضبة نجد





### ٣- الهضاب:

تتفاوت الهضاب من حيث الارتفاع، وتقطع هذه الهضاب الأودية الجافة وتشغل مساحات كبيرة من شبه الجزيرة العربية وتمتد هذه الهضاب من الجوانب الغربية للخليج العربي حتى الجبال الشرقية للبحر الأحمر ومن شمال شبه الجزيرة العربية إلى جوانبها وهي عظمة الاتساع منبسطة قرب الخليج العربي بينما يزداد ارتفاعها كلما اتجهنا غربا

ومن أبرز هذه الهضاب :-

- ١- هضبة نجد في المملكة العربية السعودية
- ٢- هضبة حضرموت في اليمن .



خريطة تضاريس شبه الجزيرة العربية



# السهول الساحلية



ساحل البحر الأحمر



ساحل الخليج العربي





## ثانياً: الهضاب

- # هضبة نجد.
- # هضبة حصرموت.

## ثالثاً: السهول

**السهول:** اراض منخفضة مستوية السطح، وتنقسم إلى سهول ساحلية وسهول فيضية، ومن أهم هذه السهول:

- # سهول تهامة.
- # سهول الأحساء.



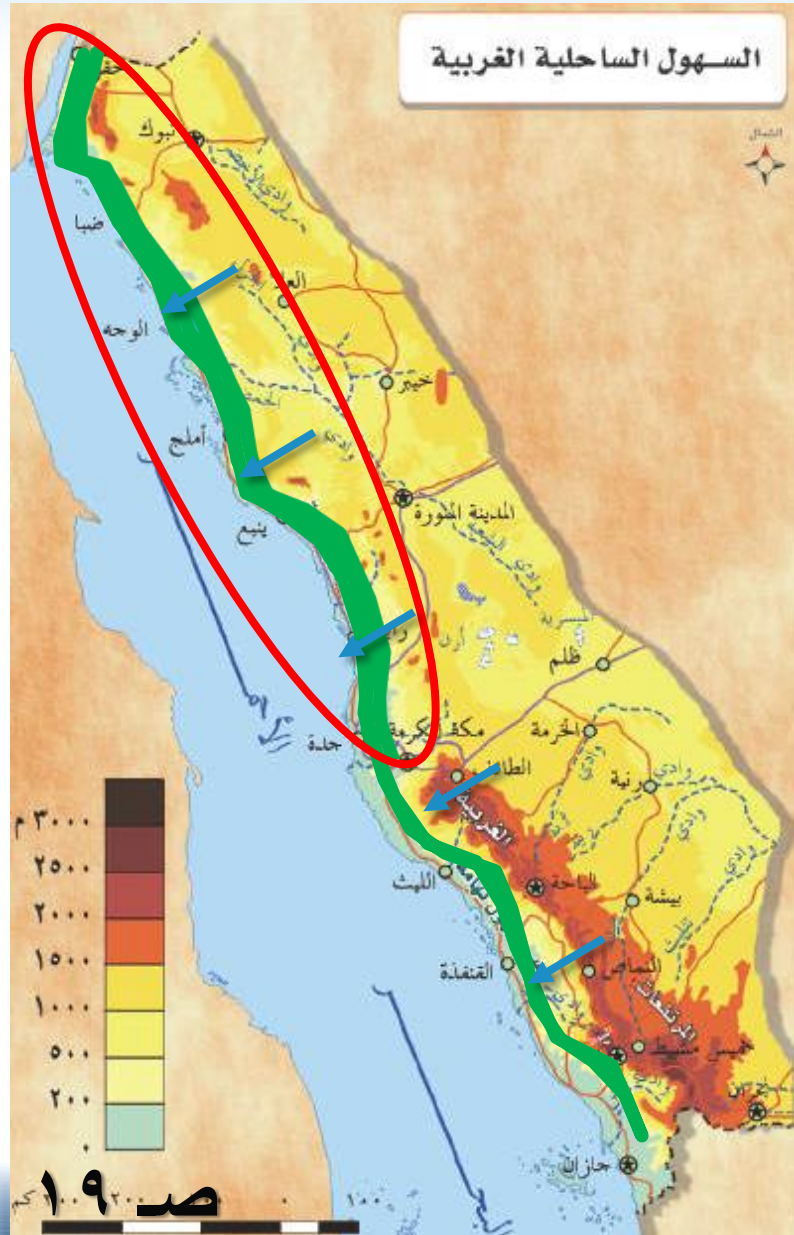


# السهول الساحلية:

للمملكة العربية السعودية سهلان ساحليان:

١- السهل الساحلي للبحر الأحمر:

- يعرف باسم سهل تهامة على طول البحر الأحمر.
- ويمتد من الشمال إلى الجنوب؛ حيث ينحصر بين البحر الأحمر والمرتفعات الغربية المجاورة له.





# الأنشطة:



خريطة تضاريس شبه الجزيرة العربية

ألاحظ الخريطة التي أمامي، ثم أحدد في المُستطيل نوع الجبال المشار إليها بالسهم، من حيثُ النشأة.

أفسر قلة السُّكَّان في جبال مدين رَعَم سقوتِ الأمطارِ عليها.

وعورة السطح،

صعوبة المواصلات،



○ أستخرج أبرز الخصائص التي تميّز سلسلة جبال عُمان عن بقية جبال شبه الجزيرة العربيّة.

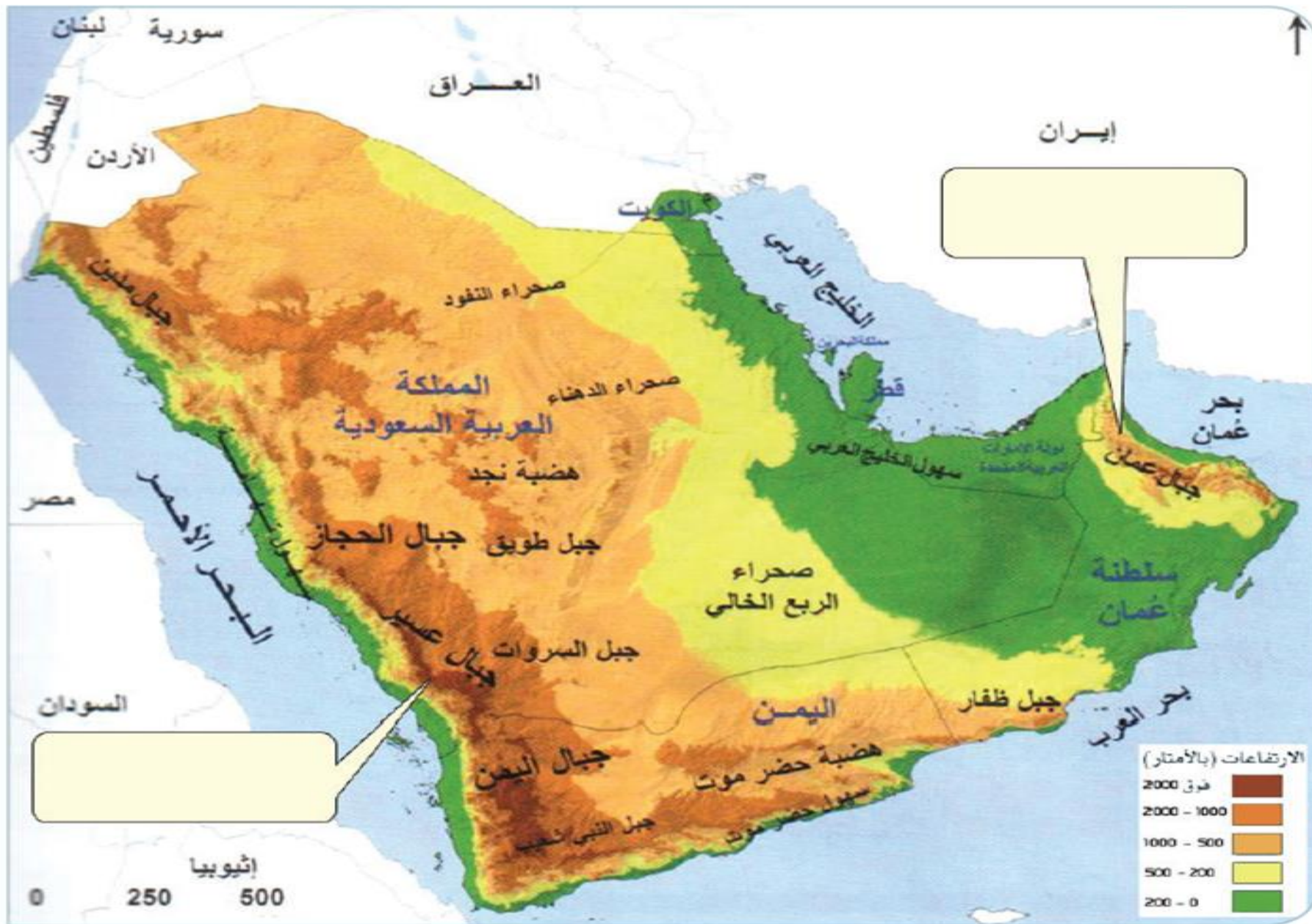
جبال التوائيه | صخورها لينة  
وهي أراضي جبلية وعرة وعريضة تشكل سلسلة متصلة لا  
يفصل بينها سوى وادي سمائل

○ أفسّر ما يأتي:

• ضيق السهل الساحليّ الممتدّ بمحاذاة ساحل البحر الأحمر.  
بسبب قرب الجبال من الساحل

• قلّة الموانئ على ساحل البحر الأحمر.  
ضيق السهل الساحليّ | وجود الجبال | صعوبة المواصلات





خريطة تضاريس شبه الجزيرة العربية



# المرتفعات:

الدرس الثاني

مظاهر التضاريس

الوحدة الأولى  
الدرس الثاني






خريطة صماء لشبه الجزيرة العربية

ألاحظ الخريطة التي  
أمامي، ثمَّ أستخدمُ  
مهاراتي الفنيَّة في  
تحديدِ وتلوينِ:  
• جبالِ مَدِينِ.  
• جبالِ الحِجَازِ.  
• جبالِ عَسِيرِ.  
• مرتفعاتُ اليَمَنِ.





شارك برفع اليد

ماذا تعلمت من درس اليوم؟

بطاقة الخروج من الحصة  
-استطلاع رأي على بوابة التعلم الذكي

استراتيجية تذكرة الخروج

استراتيجية تذكرة الخروج

تذكرة الخروج.....

الانتطباع العام عن الدرس

👍 🤔 😬 🙌

