



الاسم:


الصف:

مادة الدراسات الاجتماعية

اختبار التقويم الأول

للفصل الدراسي الأول

السؤال الأول :- إستعن بالصورتالية ثم أجب عن الاسئلة:



الشمس



عطارد



الزهرة



الأرض



المريخ



المشتري



زحل



نبتون أورنوس



أصغر كوكب	الكوكب الذي نعيش فيه	الكوكب الأحمر
.....

السؤال الثاني :- ضع علامة (✓) امام العبارة الصحيحة وعلامة (x) امام العبارة الخاطئة :

()

1- توجد كائنات حيه في كوكب المريخ

()

2- البحار من المياة المالحة

()

3- إقامة محطات تحلية المياة لحل مشكلة نقص الماء

()

4- اترك صنبور المياة مفتوحا بعد الوضوء

السؤال الثالث :- صل الكلمة بما يناسبها من الصور :



(1)- تلوث الهواء



(2)-تلوث الماء





(3)-المياة الجوفية



(4)-السدود

السؤال الرابع :- ضع دائرة حول الصورة التي تمثل الكائن الحي :



إنتهت الأسئلة مع تمنياتي بالتوفيق و النجاح