

العام الأكاديمي 2022/2023

نهاية الفصل الدراسي الأول



أوراق العمل الإثرائية (1)

مادة الدراسات الاجتماعية

الصف السادس الابتدائي

	اسم الطالب
	الصف والشعبة

السؤال الأول :- اختر الإجابة الصحيحة بوضع علامة [X] في المربع المقابل لها.

1- يمتد الوطن العربي في قارتي آسيا و:

☐ أ- أمريكا الشمالية    ☐ ب- أوروبا    ☒ ج- إفريقيا    ☐ د- أستراليا

2- تبلغ مساحة الوطن العربي:

☐ 11.3 مليون كم2    ☐ 12.3 مليون كم2    ☒ 13.3 مليون كم2    ☐ 14.3 مليون كم2

3 - المسطح المائي الذي يصل مضيق هرمز بالخليج العربي هو.

☒ أ- بحر عمان    ☐ ب- بحر العرب    ☐ ج- البحر الأحمر    ☐ د- البحر المتوسط
السؤال الثاني :- وضح الأهمية الاستراتيجية للموقع الجغرافي للوطن العربي.

1- توسطه قارات العالم القديم جعله مهدًا للحضارات القديمة

2- امتداده الكبير واتساع أراضيه أدى إلى تنوع موارده الاقتصادية

3- إشرافه على بحار ومحيطات هامة ووجود ممرات مائية

السؤال الثالث :- بم تفسر اتجاه دول الوطن العربي لتحلية مياه البحر.

1- قلة موارد المياه العذبة

2- زيادة عدد السكان    3- وفرة مصادر الطاقة

السؤال الرابع :- عدد أهم الأنهار في الوطن العربي.

- نهر النيل    - نهر دجلة    - نهر الفرات    - نهر مجردة

- نهر جوبا    - نهر شبيلي    - نهر أم الربيع

**السؤال الأول :- اختر الإجابة الصحيحة بوضع علامة [X] في المربع المقابل لها.**

**1- يحد الوطن العربي من جهة الشمال جبال :**

- ☐ أ- زاغروس ☒ ب- طوروس ☐ ج- أطلس ☐ د- كردستان

**2- أي من الهضاب التالية تقع في وسط شبه الجزيرة العربية:**

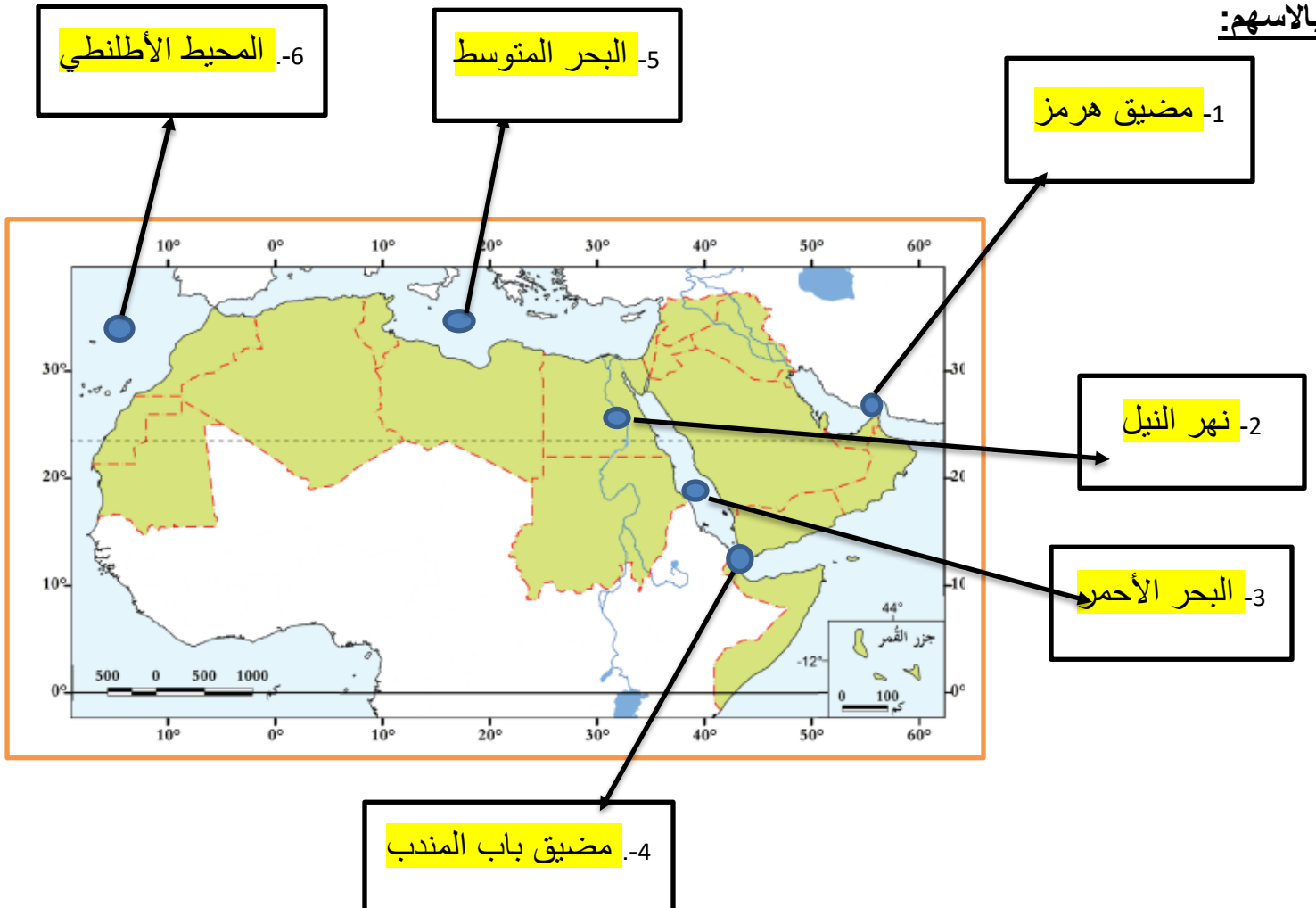
- ☒ أ- نجد ☐ ب- حضرموت ☐ ج- الشطوط ☐ د- بادية الشام

**3- تمتد جبال الحجاز وعسير على طول ساحل :**

- ☐ خليج عمان ☐ الخليج العربي ☒ البحر الأحمر ☐ البحر المتوسط

**السؤال الثاني :- أمامك خريطة صماء لدول الوطن العربي اكتب عليها الظواهر الطبيعية المشار إليها**

**بالاسهم:**



**السؤال الأول :- اختر الإجابة الصحيحة بوضع علامة [X] في المربع المقابل لها.**

1- ترتفع درجة الحرارة صيفاً في وسط وشمال الوطن العربي لتعتمد الشمس على :

- ☐ أ- مدار الجدي ☒ ب- مدار السرطان ☐ ج- خط الاستواء ☐ د- خط غرينتش

2- تسقط الأمطار الشتوية على بلاد المغرب العربي بسبب هبوب الرياح:

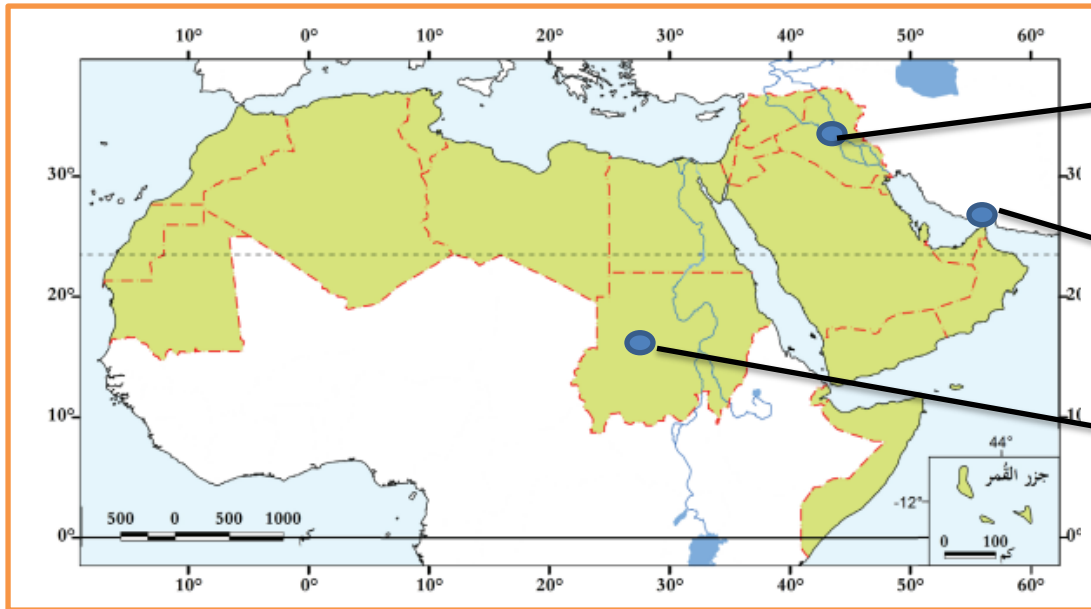
- ☐ أ- الموسمية الممطرة ☐ ب- التجارية الجافة ☒ ج- العكسية الغربية ☐ د- القطبية الشمالية

3- من أهم أنهار الوطن العربي والذي يجري في مصر والسودان نهر :

- ☐ جوبا ☒ النيل ☐ دجلة ☐ الفرات

**السؤال الثاني :- أمامك خريطة صماء لدول الوطن العربي اكتب عليها الظواهر الطبيعية المشار إليها**

**بالأسهم**



1- نهر دجلة والفرات

2- مضيق هرمز

3- جمهورية السودان

**السؤال الثالث :- عدد موارد المياه في الوطن العربي.**

2- مياه الأنهار

1- الأمطار

4- مياه البحر ( المياه المحلاة)

3- المياه الجوفية

العام الأكاديمي 2022/2023

نهاية الفصل الدراسي الأول



أوراق العمل الإثرائية (1)

مادة الدراسات الاجتماعية

الصف السادس الابتدائي

	اسم الطالب
	الصف والشعبة

السؤال الأول :- اختر الإجابة الصحيحة بوضع علامة [X] في المربع المقابل لها.

1- أصغر دول الوطن العربي من حيث المساحة :

- ☒ أ- البحرين ☐ ب- جزر القمر ☐ ج- لبنان ☐ د- جيبوتي

2- أكبر دول الوطن العربي من حيث المساحة:

- ☐ أ- السعودية ☐ ب- السودان ☒ ج- الجزائر ☐ د- ليبيا

3- يقع على الساحل الشرقي لدولة قطر الموقع الأثري المعروف بـ:

- ☐ أ- مروب ☒ ب- لوسيل ☐ ج- عسيلة ☐ د- رأس بروق

السؤال الثاني :- عدد أهم الجبال في الوطن العربي.

- جبال الحجاز - جبال عسير - جبال لبنان - الجبل الأخضر

- جبال البحر الأحمر - جبال كردستان - جبال زاغروس

- جبال أطلس - جبال عمان - جبال اليمن - جبال طوروس

السؤال الثالث :- عدد أهم الهضاب في الوطن العربي.

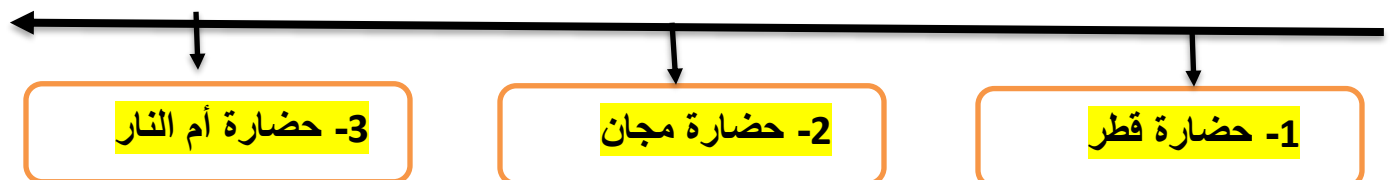
- هضبة نجد - هضبة الصمان

- هضبة حضرموت - هضبة بادية الشام

- الشطوط - هضبة الصحراء الأفريقية الكبرى

السؤال الرابع :- رتب حضارات الخليج العربي حسب ظهورها من الأقدم الى الأحدث..؟

( حضارة أم النار - حضارة قطر - حضارة مجان )



**السؤال الأول :- اختر الإجابة الصحيحة بوضع علامة [X] في المربع المقابل لها.**

1- نشأت حضارة مجان في المنطقة التي تشغل حاليًا.

- ☐ أ- الكويت ☐ ب- البحرين ☒ ج- سلطنة عمان ☐ د- الامارات العربية

2- أطلق السومريون اسم أرض الفردوس على حضارة.

- ☒ أ- دلمون ☐ ب- مجان ☐ ج- الجراء ☐ د- أم النار

3- أقدم حضارات منطقة الخليج العربي هي حضارة.

- ☐ أ- دلمون ☐ ب- مجان ☒ ج- قطر ☐ د- أم النار

4- يقع بالقرب من أم باب الموقع الأثري :

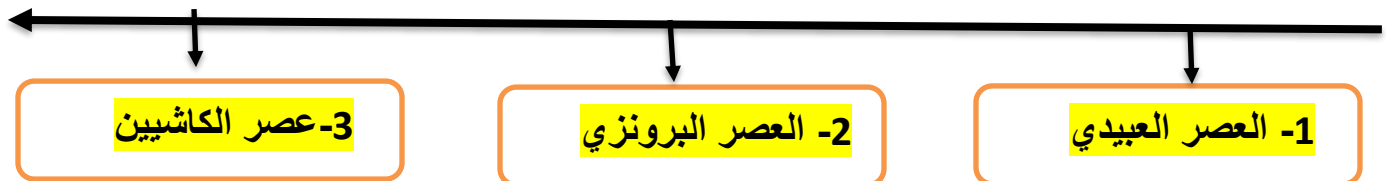
- ☒ أ- عسيلة ☐ ب- رأس بروق ☐ ج- برجا برزان ☐ د- مدافن تلال الخور

**السؤال الثاني :- قارن بين المواقع الأثرية القديمة والحديثة في دولة قطر في الجدول التالي :**

المواقع الأثرية الحديثة	المواقع الأثرية القديمة
<p>1- قلعة الزبارة</p> <p>2- قلعة الوجبة</p> <p>3- برجا برزان - قلعة الدوحة (الكوت)</p>	<p>1- مدافن تلال الخور</p> <p>2- موقع رأس بروق - قلعة مروب</p> <p>3- موقع عسيلة - موقع لوسيل</p>

**السؤال الثالث: رتب العصور الحضارية القديمة التي مرت بها قطر من الأقدم الى الأحدث باستخدام الخط الزمني التالي ؟**

( عصر الكاشيين - العصر العبيدي - العصر البرونزي )



السؤال الأول :- اختر الإجابة الصحيحة بوضع علامة [X] في المربع المقابل لها.

1- من قلاع دولة قطر التي تنتمي للعصر العباسي قلعة:

- ☐ أ- الزبارة ☒ ب- مروب ☐ ج- الشقب ☐ د- الوجبة

2- ما توارثه المجتمع عن الأسلاف من مظاهر مادية ومعنوية يسمى :

- ☒ أ- التراث ☐ ب- الفنون ☐ ج- الآثار ☐ د- العادات

3- تؤثر ثقافة المجتمع على الأفراد في :

- ☐ أ- الصحة ☒ ب- السلوك ونمط الحياة ☐ ج- الانتاج ☐ د- التعليم

4- مجموعة متنوعة من الأنشطة المميزة للمجتمع تشتمل على العادات والقيم والدين والأخلاق .

- ☐ أ- الصحة ☐ ب- التعليم ☒ ج- الثقافة ☐ د- الإنتاج

السؤال الثاني :- اذكر العوامل التي ساعدت على قيام الحضارات في منطقة الخليج العربي قديماً :

1- أهمية الموقع الجغرافي

2- وفرة المياه العذبة

3- وفرة الموارد الطبيعية

السؤال الثالث :- وضح عناصر ثقافة المجتمع القطري :

1- اللغة العربية

2- الدين الإسلامي

3- القيم والعادات والتقاليد - التراث والفنون

السؤال الرابع :- اذكر دور الأفراد في الحفاظ على ثقافة المجتمع :

1- التمسك بالقيم المستمدة من الدين الإسلامي

2- الالتزام بالعادات الحسنة

3- احترام الآخرين 4- التمسك بعادات وتقاليد المجتمع



العام الأكاديمي 2022/2023

نهاية الفصل الدراسي الأول



أوراق العمل الإثرائية (1)

مادة الدراسات الاجتماعية

الصف السادس الابتدائي

	اسم الطالب
	الصف والشعبة

السؤال الأول :- اختر الإجابة الصحيحة بوضع علامة [X] في المربع المقابل لها.

1- أكثر دول الوطن العربي سكاناً:

- ☒ أ- مصر ☐ ب- تونس ☐ ج- الجزائر ☐ د- السعودية

2- أقل دول الوطن العربي سكاناً:

- ☐ أ- قطر ☐ ب- تونس ☐ ج- الكويت ☒ د- جزر القمر

3- من العوامل غير الطبيعية المؤثرة في النمو السكاني للوطن العربي.

- ☐ أ- المواليد ☐ ب- الكثافة ☒ ج- الهجرة ☐ د- الوفيات

4- الخصائص السكانية التي يمكن قياسها مثل العمر والنوع يطلق عليها اسم:

- ☐ أ- النمو السكاني ☒ ب- التركيب السكاني ☐ ج- التوزيع السكاني ☐ د- الكثافة السكانية

5- تصنيف السكان إلى فئات عمرية يشير التعريف إلى:

- ☒ أ- التركيب العمري ☐ ب- التركيب النوعي ☐ ج- الهرم السكاني ☐ د- التركيب الاقتصادي

6- تصنيف السكان إلى ذكور وإناث هو.

- ☐ أ- التركيب العمري ☒ ب- التركيب النوعي ☐ ج- الهرم السكاني ☐ د- التركيب الاقتصادي

السؤال الثاني بم تفسر:- انخفاض معدل الوفيات في الوطن العربي.

1- ارتفاع مستوى المعيشة

2- التقدم الطبي في بعض الدول العربية

3- تقدم الرعاية الصحية

4- الاهتمام بصحة الأمهات والمواليد

**السؤال الأول :- اختر الإجابة الصحيحة بوضع علامة [X] في المربع المقابل لها.**

**1- أقل دول الوطن العربي في الكثافة السكانية:**

- ☐ أ- قطر ☒ ب- ليبيا ☐ ج- فلسطين ☐ د- البحرين

**2- الدولة التي لا تُعد ضمن منطقة الهلال الخصيب .**

- ☐ أ- سوريا ☐ ب- العراق ☐ ج- الأردن ☒ د- الكويت

**3- من العوامل الطبيعية المؤثرة في توزيع السكان**

- ☒ أ- موارد المياه ☐ ب- النقل والمواصلات ☐ ج- الأحداث السياسية ☐ د- الأنشطة الاقتصادية

**4- تبلغ نسبة سكان منطقة شبه الجزيرة العربية من جملة سكان الوطن العربي نحو:**

- ☐ أ- 10% ☒ ب- 20% ☐ ج- 30% ☐ د- 40%

**السؤال الثاني :- قارن بين العوامل الطبيعية والعوامل البشرية المؤثرة في توزيع السكان في الوطن العربي في الجدول التالي :**

العوامل البشرية	العوامل الطبيعية
1- الأنشطة الاقتصادية	1- المناخ
2- النقل والمواصلات	2- التضاريس
3- الأحداث السياسية	3- موارد المياه

**السؤال الأول :- اختر الإجابة الصحيحة بوضع علامة [X] في المربع المقابل لها.**

**1- من خلفاء الدولة الأموية وأول من قام بتنظيم الصوائف والشواتي:**

☐ أ- عمر بن عبد العزيز ☒ ب- معاوية بن أبي سفيان

☐ ج- عبد الملك بن مروان ☐ د- الوليد بن عبد الملك

**2- بنى الوليد بن عبد الملك المسجد .**

☐ أ- النبوي ☒ ب- الأموي ☐ ج- الأقصى ☐ د- قبة الصخرة

**3- بنى عبد الملك بن مروان المسجد .**

☐ أ- الأموي ☐ ب- النبوي ☐ ج- الأقصى ☒ د- قبة الصخرة

**السؤال الثاني:- عدّد أعمال الخليفة معاوية بن أبي سفيان.**

1- أسس الدولة الأموية

2- أسس الدواوين 3- اهتم بنظام الحسبة

4- اهتم بتقوية الجيش والأسطول 5- اهتم بالصوائف والشواتي

**السؤال الثالث:- عدّد أعمال الخليفة عبد الملك بن مروان..**

1- أمر بتنقيط المصحف الشريف

2- أنشأ أول دار لسك العملة الإسلامية 3- أمر بتعريب الدواوين

4- اهتم بالعمارة والفنون وبنى مسجد قبة الصخرة بالقدس الشريف

العام الأكاديمي 2022/2023

نهاية الفصل الدراسي الأول



أوراق العمل الإثرائية (1)

مادة الدراسات الاجتماعية

الصف السادس الابتدائي

	اسم الطالب
	الصف والشعبة

**السؤال الأول :- اختر الإجابة الصحيحة بوضع علامة [X] في المربع المقابل لها.**

1- اهتم بنشر العدل بين الناس وعمل على رد المظالم إلى أهلها:

☐ أ- معاوية بن أبي سفيان ☒ ب- عمر بن عبد العزيز

☐ ج- عبد الملك بن مروان ☐ د- الوليد بن عبد الملك

2- من أهم انجازات عبد الملك بن مروان:

☒ أ- سك العملة الإسلامية ☐ ب- بناء مدينة دمشق

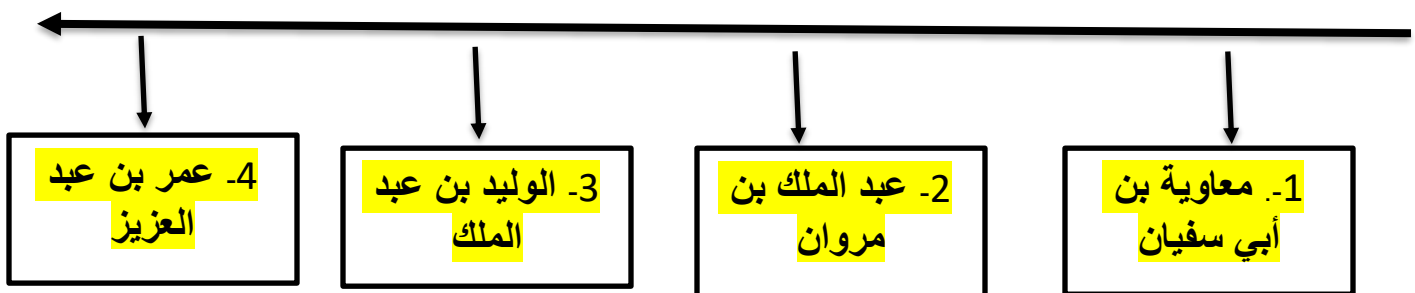
☐ ج- استحدث نظام ولاية العهد ☐ د- تدوين الحديث النبوي

3- قُتل مروان بن محمد آخر خلفاء بني أمية في .

☐ أ- العراق ☐ ب- بلاد الشام ☒ ج- مصر ☐ د- الاندلس

**السؤال الثاني:- رتب خلفاء الدولة الأموية على الخط الزمني من الأقدم إلى الأحدث.**

( عبد الملك بن مروان - عمر بن عبد العزيز - معاوية بن أبي سفيان - الوليد بن عبد الملك )



**السؤال الثالث:- اذكر عوامل ضعف الدولة الأموية وسقوطها..**

1- ضعف بعض الخلفاء والصراع على منصب ولاية العهد

2- الصراع بين فئات المجتمع في الدولة الأموية وإيثار العرب على غيرهم

3- كثرة الثورات ضد الدولة الأموية 4- ظهور الدعوة العباسية في بلاد فارس

**السؤال الأول :- اختر الإجابة الصحيحة بوضع علامة [X] في المربع المقابل لها.**

1- بلغت الدولة الإسلامية أقصى اتساع لها في عهد:

- ☐ أ- النبي ﷺ ☒ ب- الأمويين ☐ ج- العباسيين ☐ د- الخلفاء الراشدين

2- أيّ البلاد الآتية فُتحت في عهد معاوية بن أبي سفيان .

- ☐ أ- السند ☐ ب- الأندلس ☒ ج- شمال إفريقيا ☐ د- ما وراء النهر

3- فُتحت بلاد المغرب الأقصى في عهد الخليفة:

- ☐ أ- معاوية بن أبي سفيان ☐ ب- عمر بن عبد العزيز

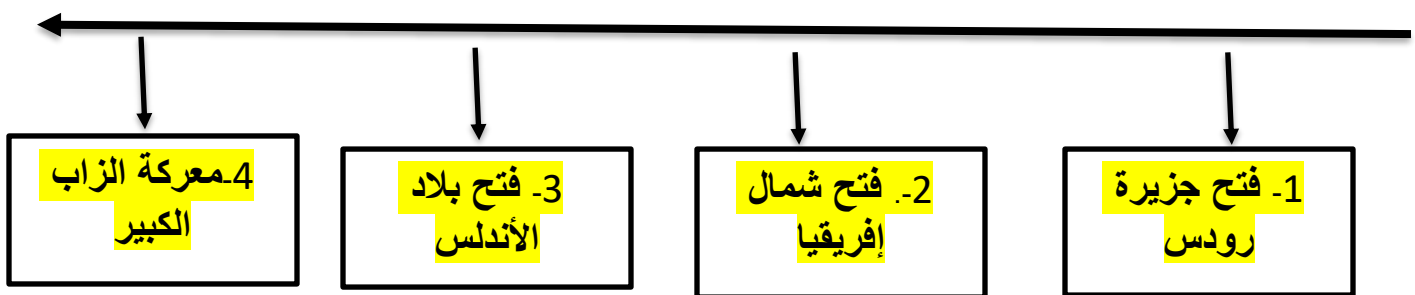
- ☒ ج- عبد الملك بن مروان ☒ د- الوليد بن عبد الملك

4- تمكن طارق بن زياد من فتح بلاد .

- ☐ أ- مصر ☒ ب- الأندلس ☐ ج- العراق ☐ د- بلاد الشام

**السؤال الثاني:- رتب الفتوحات الآتية على الخط الزمني من الأقدم إلى الأحدث.**

( فتح بلاد الأندلس - معركة الزاب الكبير - فتح جزيرة رودس - فتح شمال إفريقيا )



**السؤال الثالث:- عدّد نتائج الفتوحات الإسلامية في العهد الأموي.**

1- اعتناق عدد كبير الدين الإسلامي

2- ازدياد مساحة الدولة الإسلامية 3- انتشار اللغة العربية

4- انتشار الأمن والطمأنينة 5- زيادة الموارد المالية

السؤال الأول :- اختر الإجابة الصحيحة بوضع علامة [X] في المربع المقابل لها.

1- من مظاهر احترام التنوع والاختلاف .

☒ حرية التعبير عن الرأي ☐ السخرية بالآخرين ☐ التعصب للرأي ☐ التمييز في المعاملة

2- نقاش بين طرفين أو أكثر للوصول إلى الحقيقة يشير التعريف إلى مفهوم .

☐ أ- الجدل ☒ ب- الحوار ☐ ج- المناظرة ☐ د- المحاضرة

السؤال الثاني:- اذكر جوانب التنوع والاختلاف بين البشر.

1- اللغة والديانة

2- العادات والتقاليد والأفكار

3- الأوضاع الاقتصادية والاجتماعية

4- اختلاف الآراء ووجهات النظر

السؤال الثالث:- وضح مظاهر احترام التنوع والاختلاف بين البشر..

1- احترام الآخرين وتقبل آرائهم

2- تأكيد مبدأ المساواة وسيادة القانون

3- حرية الرأي والتعبير

السؤال الرابع:- اذكر أسس الحوار الناجح.

1- تحديد هدف واضح للحوار

2- اختيار الزمان والمكان المناسبين ومراعاة ظروف الطرف الآخر

3- الاستماع للطرف الآخر والابتعاد عن التعصب والغضب.