



الثقة بالنفس والعمل الجاد
سيحققان لك النجاح دائماً



التدريبات الإثرائية لصف السادس

الفصل الأول (جغرافيا)

2023 - 2022



كلي ثقة بنجاحك وتفوقك
طالبتى المتميزة

اسم الطالبة :

الصف :

منسقة المادة : قمزة النوره

معلمة المادة : ساره القحطاني



الوحدة الأولى : (جغرافيا) الدرس الثاني (الوطن العربي الموقع والخصائص الطبيعية)





السؤال الأول : اختار الإجابة الصحيحة من بين البدائل

- 1- يبلغ عدد خطوط الطول التي يمتد خلالها الوطن العربي :
أ- 44 ب- 55 ج- 66 د- 77
- 2- يمتد الوطن العربي في قارتي آسيا و:
أ- أوروبا ب- إفريقيا ج- أستراليا د- أمريكا الشمالية
- 3- تبلغ مساحة الوطن العربي :
أ- 11.3 مليون كم² ب- 12.3 مليون كم² ج- 13.3 مليون كم² د- 14.3 مليون كم²
- 4- المسطح المائي الذي يصل مضيق هرمز بالخليج العربي هو :
أ- بحر عمان ب- بحر العرب ج- البحر الأحمر د- البحر المتوسط
- 5- يحد الوطن العربي من جهة الشمال جبال :
أ- زاغروس ب- أطلس ج- كردستان د- طوروس
- 6- أي من الهضاب التالية تقع في وسط شبه الجزيرة العربية :
أ- الشطوط ب- بادية الشام ج- نجد د- حضرموت
- 7- تمتد جبال الحجاز وعسير على طول ساحل :
أ- البحر الأحمر ب- الخليج العربي ج- خليج عمان د- البحر المتوسط
- 8- ترتفع درجة الحرارة صيفا في وسط وشمال الوطن العربي لتعتمد الشمس على :
أ- مدار الجدي ب- خط الاستواء ج- خط غرينتش د- مدار السرطان
- 9- تسقط الامطار الشتوية على بلاد المغرب العربي بسبب هبوب الرياح :
أ- الموسمية الممطرة ب- العكسية الغربية ج- التجارية الجافة د- القطبية الشمالية
- 10- من اهم أنهار الوطن العربي والذي يجري في مصر والسودان نهر:
أ- دجله ب- الفرات ج- النيل د- جوبا



السؤال الثاني : أكمل الفراغات التالية بكلمات مناسبة:

1- مضيق يربط بين البحر المتوسط والمحيط الاطلنطي:

مضيق جبل طارق

2- أصغر الدول العربية مساحة : البحرين

3- أكبر الدول العربية مساحة : . الجزائر

4- مضيق يربط بين الخليج العربي وبحر عمان : مضيق هرمز

ب- أجب عن ما يلي :

5- اذكر أهم الممرات المائية الهامة والتي يتحكم فيها الوطن العربي :

1- مضيق هرمز 2- مضيق باب المندب 3- قناة السويس 4 - مضيق جبل طارق

6- وضح الأهمية الاستراتيجية للموقع الجغرافي للوطن العربي :

1- توسطه قارات العالم القديم جعله مهذا للحضارات القديمة

2- امتداده الكبير واتساع أراضيه أدى لتنوع الأنشطة الاقتصادية

إشرافه على بحار ومحيطات هامة أدى لتحكمه طرق تجاريه عالمية

السؤال الرابع : ما النتائج المترتبة على :

1- إشراف الوطن العربي على مسطحات وممرات بحرية هامة

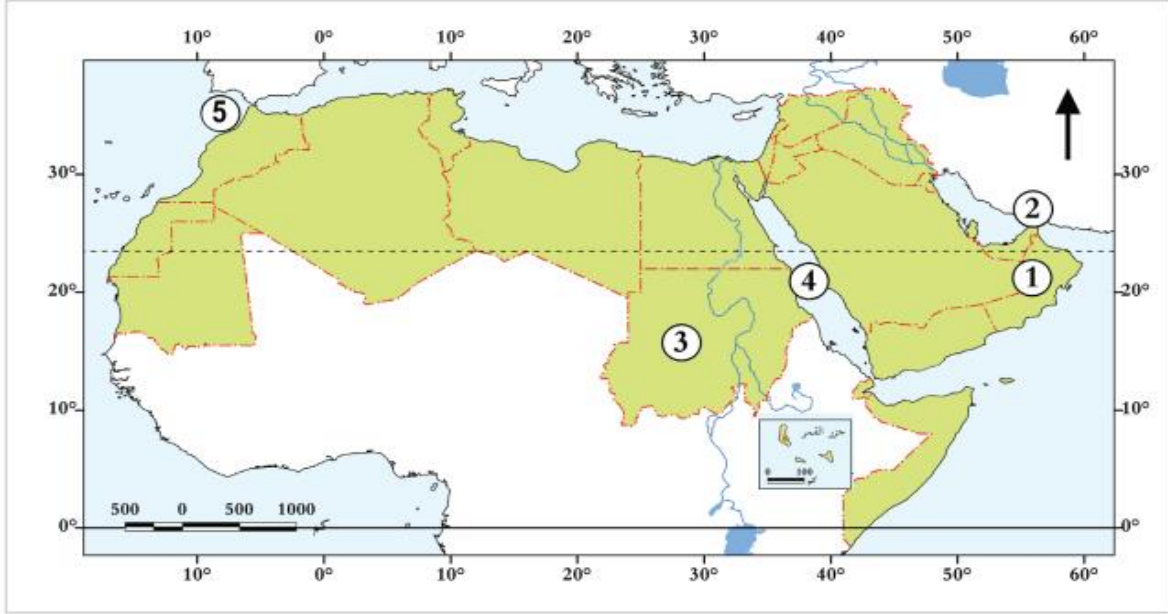
أدى لتحكمه لطرق التجارة العالمية

2- اتساع أراضي الوطن العربي : . تنوع في أنشطته الاقتصادية

3- توسط الوطن العربي قارات العالم القديم :

. جعله مهذاً للحضارات القديمة ..

السؤال الخامس : اكتب دلالات الأرقام الموجودة على الخريطة الصماء التالية :



- 1- سلطنة : عمان
- 2- مضيق :. هرمز
- 3- جمهورية :. السودان
- 4- البحر الأحمر
- 5- مضيق جبل طارق

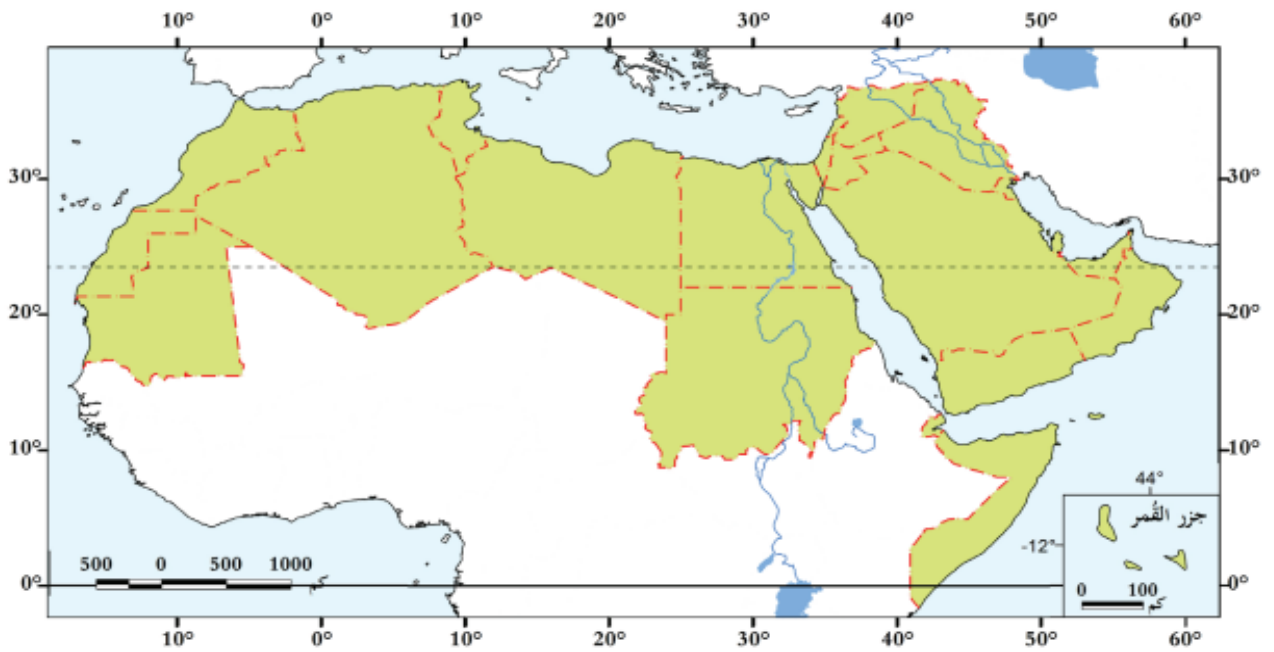
السؤال السادس : بم تفسر

- 1- ضيق سهول البحر الأحمر ؟
بسبب اقتراب الجبال من ساحل البحر
- 2- اتجاه دول الوطن العربي لتحلية مياه البحر ؟
 - 1- قلة موارد المياه العذبة
 - 2- زيادة عدد السكان
 - 3- وفرة مصادر الطاقة لتشغيل محطات التحلية

السؤال السابع : قارن بين السهول الفيضية والسهول الساحلية في الوطن العربي

وجه المقارنة	السهول الفيضية	السهول الساحلية
المفهوم	هي أرض واسعة منبسطة كونتها الأنهار	هي أرض واسعة منبسطة بجوار البحار والمحيطات والسواحل
مثال	نهر النيل – نهر دجلة والفرات	سهول البحر الأحمر سهول عمان

السؤال الثامن : حدد الظاهرات التالية على الخريطة :



- 1- جبال عمان 2- سهول الخليج العربي 3- سهول دجلة والفرات 4- جبال البحر الاحمر



السؤال التاسع : اكتب اسم المفهوم الذي تدل عليه العبارات التالية :

- 1- (السهول الفيضية) أراض واسعة منبسطة كونتها الأنهار.
- 2- (السهول الساحلية) أراض واسعة منبسطة توجد بجوار سواحل البحار والمحيطات

السؤال العاشر : أعط امثلة على كل مما يأتي:

- 1- الجبال في الوطن العربي :
 - ا- .جبال الحجاز ب- جبال عسير ج- جبال اليمن
- 2- الأنهار في الوطن العربي :
 - ا- نهر النيل ب- .نهر دجلة والفرات ج- نهر جوبا
- 3- محطات تحلية المياه في الوطن العربي :
 - ا- .محطة راس لفان في قطر ب- .محطة صحار في عمان
- 4- هضاب في الوطن العربي :
 - ا- .هضبة نجد ب- هضبة الشطوط ج- هضبة حضر موت



طالبتي الجميلة ادرسي جيداً أنت قدها



الوحدة الرابعة : (جغرافيا)

الدرس الأول: نمو السكان وتركيبه في الوطن العربي

الدرس الثاني : توزيع السكان وكثافته في الوطن العربي



السؤال الأول : اختار الإجابة الصحيحة من بين البدائل

- 11- أكثر دول الوطن العربي سكاناً دولة :
ب- مصر ب- تونس ج- الجزائر د- السعودية
- 12- أقل دول الوطن العربي سكاناً دولة:
ب- جزر القمر ب- تونس ج- الكويت د- قطر
- 13- من العوامل غير الطبيعية المؤثرة في النمو السكاني للوطن العربي :
ب- المواليد ب- الوفيات ج- الكثافة د- الهجرة
- 14- الخصائص السكانية التي يمكن قياسها مثل العمر والنوع يطلق عليها اسم :
ب- النمو السكاني ب- التركيب السكاني ج- التوزيع السكاني د- الكثافة السكانية
- 15- تصنيف السكان الى فئات عمرية يشير هذا التعريف الى :
ب- التركيب العمري ب- التركيب النوعي ج- التركيب الاقتصادي د- الهرم السكاني
- 16- تصنيف السكان الى ذكور وإناث هو :
ب- التركيب العمري ب- التركيب الاقتصادي ج- التركيب النوعي د- الهرم السكاني
- 17- بلغ عدد سكان الوطن العربي سنة 2019 :
ب- 278.2 مليون نسمة ب- 310 مليون نسمة ج- 404.7 مليون نسمة د- 430.5 مليون نسمة
- 18- يمثل سكان الوطن العربي من جملة سكان العالم حوالي:
ب- 5.8% ب- 4.7% ج- 3.5% د- 2.4%
- 19- أقل دول الوطن العربي في الكثافة السكانية :
ب- فلسطين ب- البحرين ج- قطر د- ليبيا
- 20- الدولة التي لاتعد ضمن منطقة الهلال الخصيب هي:
ب- سوريا ب- العراق ج- الكويت د- الأردن



11- من العوامل الطبيعية المؤثرة في توزيع السكان:

أ- موارد المياه ب- الأنشطة الاقتصادية ج- الأحداث السياسية د- النقل والمواصلات

12- تبلغ نسبة سكان منطقة شبة الجزيرة العربية من جملة سكان الوطن العربي نحو:

أ- 35.5% ب- 24.8% ج- 19.7% د- 20%

13- من العوامل البشرية في توزيع السكان :

أ- التضاريس ب- المناخ ج- الأحداث السياسية د- موارد المياه

14- تبلغ نسبة سكان منطقة وادي النيل والقرن الإفريقي من جملة سكان الوطن العربي نحو:

أ- 35.5% ب- 24.8% ج- 19.7% د- 20%

15- مقدار الزيادة في عدد السكان في منطقة ما خلال فترة زمنية محددة:

أ- الكثافة السكانية ب- الهرم السكاني ج- التركيب السكاني د- النمو السكاني

السؤال الثاني : ما النتائج المترتبة على :

1- الزيادة غير الطبيعية للسكان بدول الوطن العربي:

زيادة النمو السكاني في الدولة المستقلة لها مثل دول الخليج العربي.



السؤال الثالث : بم تفسر :

4- انخفاض معدلات الوفيات في الوطن العربي:

1- ارتفاع مستوى المعيشة 2- تقدم الرعاية الصحية 3- تقدم الطبي في بعض دول العربية

2- ارتفاع معدلات المواليد في الوطن العربي:

العادات والتقاليد الاجتماعية مثل الاسر الريفية

3- تركيز السكان في منطقة وادي النيل والحوض الإفريقي:

توفر المياه العذبة - خصوبة التربة ساعد على قيام الزراعة

4- تركيز السكان في عواصم ومدن شبة الجزيرة العربية:

توافر فرص العمل - وجود الأماكن المقدسة مكة المكرمة

السؤال الرابع : اجب عن الأسئلة التالية

3- اذكر أسباب تركيز السكان في منطقة إقليم المغرب العربي:

1- اعتدال المناخ 2- توافر الأنشطة الاقتصادية

4- عدد العوامل المؤثرة في النمو السكاني للوطن العربي:

عوامل طبيعية : ارتفاع المواليد - انخفاض الوفيات

عوامل غير طبيعية : مثل الهجرة

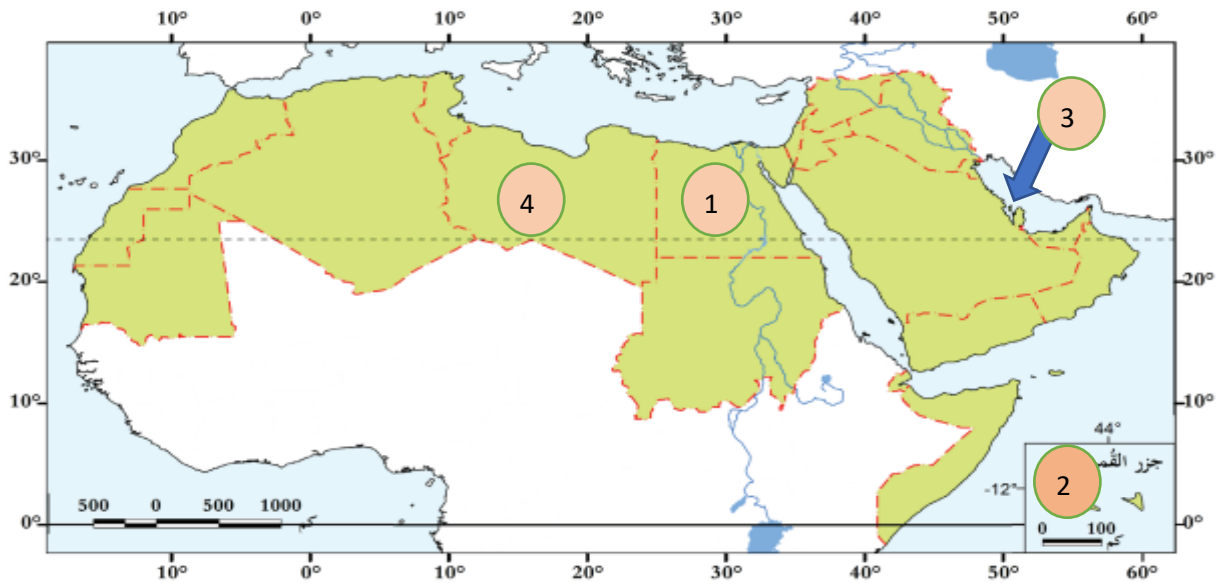
السؤال الخامس : صنف العوامل المؤثرة في توزيع سكان الوطن العربي إلى عوامل طبيعية وعوامل بشرية كما في الجدول التالي:

(المناخ - الأنشطة الاقتصادية - النقل والمواصلات - الأحداث السياسية - التضاريس - موارد المياه)

العوامل الطبيعية	العوامل البشرية
المناخ - التضاريس - موارد المياه	النقل والمواصلات - الأنشطة الاقتصادية - الأحداث السياسية

السؤال السادس : حدد على خريطة الوطن العربي الآتي :

- 1- أكثر دول الوطن العربي سكاناً : مصر
- 2- أقل دول الوطن العربي سكاناً : جزر القمر
- 3- الدولة الأكثر كثافة بالسكان : البحرين
- 4- الدولة الأقل كثافة بالسكان : ليبيا





طالبي الجميلة اجتهدي لتحصلي على
التفوق والنجاح انت قدها معلمتك فخوره
بك كثيراً



طالبي المتميزة كلي ثقة بنجاحك
الى الامام دائماً

معلمتك فخوره بك كثيراً
وتثق بنجاحك دائماً

