


أوراق العمل الإثرائية

مادة العلوم

الصف الأول الابتدائي

	اسم الطالب
	الصف والشعبة


السؤال الأول: اختر الإجابة الصحيحة:

	أي مما يلي يعتبر كائن حي؟	1.1
	(الطاولة) A	
	(الأسد) B	
	(اللعبة) C	

			أي من الكائنات الحية الموجودة بالصورة ينمو داخل البيضة أولاً؟	1.2
(ت)	(ب)	(ا)	(ا) A	
		(ب) B		
		(ت) C		

أي من الأشياء الموجودة بالصورة ينمو ويتكاثر؟

1.3



(أ) A

(ب) B

(ت) C

الصورة الموجودة توضح مرحلة من مراحل دورة حياة
كائن حي ما هو؟

1.4




الضب A

الفراشة B

السلحفاة C

ما هي الخاصية التي تعبر عنها الصورة؟

1.5



يتكاثر A

يتغذى B

يتحرك C

1.6 ما التشابه الوحيد بين دورتي حياة الفراشة والإنسان؟

1.6

مرحلة البالغ

A

مرحلة الصغير

B

مرحلة البيضة

C

1.7 ما هي المرحلة التي توضحها الصورة أدناه من مراحل دورة حياة الإنسان؟

1.7



الطفل

A

شاب

B

حديث الولادة

C

1.8 ما الوصف الصحيح لشكل الحركة التي يقوم بها هذا الطفل؟

1.8



يقفز

A

يدور

B

يركض

C

1.9 أي مما يلي يوضح كيف تتحرك النحلة؟




تركض A

تطير B

تمشي C

1.10 إلى أي اتجاه تتحرك السيارة في الصورة؟



الامام A

الخلف B

باتجاه الامام والخلف C

1.11 أي الأشياء التالية يعمل بمحرك؟




(أ) A

(ب) B

(ت) C

1.12 ما الوصف الصحيح للمسار الذي تتحرك فيه السيارة؟

1.12



منحنٍ

A

مستقيم

B

متعرج

C

1.13 ما الذي يساعد الأشياء الثقيلة والكبيرة لكي تتحرك؟

1.13

العجلات

A

الانسان

B

الوقود

C

1.14 ما المواد التي تدخل في صناعة الكرسي الموجود أمامك بالصورة؟



زجاج وطين

A

مطاط وورق

B

بلاستيك ومعدن

C

1.15 أي الأشياء التالية مصنوع من مادة طرية؟



(أ)

A

(ب)


B

(ت)

C

أي المواد التالية لا يمكن أن نضع منها لعبة للأطفال؟

1.16



(أ) A

(ب) B

(ت) C

ما الحاسة التي استخدمها عندما أقرر يدي على غطاء ناعم؟

1.17

الشم A

اللمس B

التذوق C

ما المادة التي تُصنع منها عدسات النظارة الطبية؟

1.18

المعدن A

الخشب B

الزجاج C

السؤال الثاني

أكمل الجمل التالية باستخدام الكلمات الموجودة في صندوق الكلمات:

صلبة - الطرية - الخشنة - أقفز - الأرنب - الحركة - الأوراق - البذور - مرحلة - مختلفة
العجلات - طرية

1- جزء النبات الذي يتحرك باتجاه الضوء هو (-----).

2- تنتج النباتات (-----).

3- كل جزء من دورة الحياة يسمى ب (-----).

4- تتحرك الأشياء بطرق (-----).

5- (-----) هي الانتقال من مكان إلى آخر.

6- يستطيع (-----) أن يتحرك من تلقاء نفسه.

7-أستطيع أن (-----) على رجل واحدة.

8-تساعد (-----) الأشياء كي تتحرك

9-استخدم حاسة اللمس لتمييز المواد (-----).

10-يمكن تصنيف المواد الى مواد (-----) وقاسية.


11-يمكننا استخدام المواد (-----) لحماية أكواب زجاجية عند نقلها.

12-المواد التي لا تنحني بسهولة تعتبر مواد (-----).

الثالث السؤال

صل العبارات من العمود (أ) مع الصور التي تناسبها من العمود (ب).

العمود (ب)



العمود (أ)

1) يتحرك من تلقاء نفسه دون مساعدة.

2) لا يتحرك من تلقاء نفسه ويحتاج للوقود كي يتحرك.

3) شيء مصنوع من المطاط.

4) آخر مرحلة من دورة حياتها هي مرحلة الفراشة البالغة.

5) مرحلة متشابهة بين كثير من دورات الحياة للكائنات الحية.

6) شيء مصنوع من الطين

السؤال الرابع

ضع علامة (✓) أمام العبارة الصحيحة، وعلامة (X) أمام العبارة الخاطئة.

(-----)	1)المراهق مرحلة في دورة حياة الإنسان، والشتلة مرحلة في دورة حياة النبات.
(-----)	2)سرعتي عند المشي أكبر من سرعتي عند الركض.
(-----)	3)تتحرك الأشياء بسرعات مختلفة، بعضها سريع وبعضها بطيء.
(-----)	4)عند رمي كرة التنس للأمام فإنها تنزلق.
(-----)	5)من المسارات التي تتحرك فيها الأشياء المسار المتعرج.
(-----)	6) المادة الطرية يصعب ضغطها وعصرها
(-----)	7) كل الأشياء مصنوعة من مواد

السؤال الخامس

1) عندما أراد جاسم دفع الصندوق وجده ثقيلًا جدًا ولم يستطع تحريكه، اقترح على جاسم شيء يمكنه تركيبه بالصندوق حتى يسهل حركة الصندوق ويمكنه دفعه للأمام؟

(-----)



2) صنف الأشياء الموجودة بالصورة في الجدول الموجود بالأسفل حسب الملمس، وذلك بكتابة رقم الشيء في مكانه الصحيح.



ناعم	خشن
-----	-----

3) تختلف دورة حياة الفراشة عن دورات حياة الكائنات الحية الأخرى بمرحلة واحدة ماهي هذه المرحلة

(-----)



4) صنف الحركات التي يقوم بها الطفلين في الصور التالية بكتابة رقم الصورة في الحركة المناسبة



الصورة (2)

يمشي	يدور
-----	-----