

# الْفَرْدُ وَالْمُجْتَمَعُ



الفكرة العامة

التَّعَرُّفُ إِلَى فِئَاتِ الْمُجْتَمَعِ الْأُرْدُنِيِّ، بِالإِضَافَةِ إِلَى الْأَخْلَاقِ وَالْعَادَاتِ وَالتَّقَالِيدِ وَالْأَزْيَاءِ الشَّعْبِيَّةِ.



العلامة المستحقة.

العلامة الكلية


أوراق عمل لمادة الدراسات الاجتماعية  
الفصل الدراسي الأول للصف الرابع.

الاسم : .....

الوحدة الاولى : الفرد والمجتمع    الدرس الاول : المجتمع الاردني . ورقة عمل رقم (1)

المجتمع: مجموعة من الافراد يعيشون في وطن واحد يشاركون ويرتبطون بعدد من الروابط

السؤال الثاني: أكمل/ي الشكل المفاهيمي التالي:



السؤال الثاني: أكمل/ي الفراغات التالية بالإجابة الصحيحة. :

- ١- بلغ عدد سكان الاردن عام (2022) م ..... مليون نسمة .
- ٢- من الروابط التي يرتبط بها المجتمع الاردني أ..... ب .....
- ٣- يزداد عدد سكان المدن نتيجة أ..... ب.....
- ٤- يعتمد عمل سكان الريف على ..... و.....
- ٥- من أكبر مخيمات الأجنيين في الشرق الأوسط.....
- ٦- يسود لدى سكان البادية ما يسمى بالنظام .....

إنتهت ورقة العمل بالتوفيق للجميع

معلمة المادة: .....

العلامة المُستحقة.

العلامة الكلية

## أوراق عمل لمادة الدراسات الاجتماعية الفصل الدراسي الأول للصف الرابع.

الاسم : .....

### ورقة عمل رقم (٢) للتدريب على مهارات الخريطة

### مهارات الخريطة

أتعلم

تبلغ مساحة الاردن تقريباً (٨٩) الف كيلو متر مربع ؛ وتقسم إلى اثني عشرة محافظة ؛ والمحافظات تقسيم ادري يضم عدد من الأودية والاقضية والنواحي؛ ويحد الاردن (سوريا ؛ العراق ؛ السعودية ؛ فلسطين) ؛ ولقراءة الخريطة بصورة افضل اتذكر:  
● لكل خريطة اسم يدل على ما وضعت الخريطة لأجله ● يوضح مفتاح الخريطة دلالات الرموز في الخريطة ● مؤشر الاتجاهات



١ المملكة الأردنية الهاشمية - المحافظات.

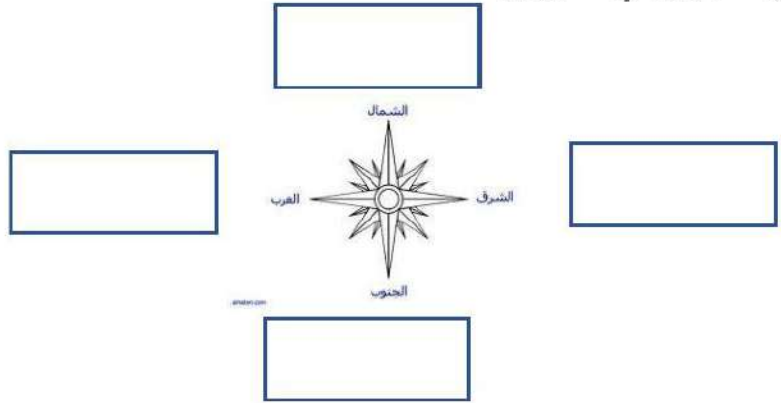
#### التطبيق

تأمل/ي خريطة المملكة الأردنية الهاشمية ثم اجيب/ي عن الأسئلة :

● ما أكبر المحافظات مساحة.....

● ما المحافظة التي تطل على حدود سوريا والعراق والسعودية.....

● احدد الدول التي تحد الاردن



● ما المحافظة التي لها أكبر حدود مع بقية المحافظات.....

● أحدد على الخريطة المحافظة التي اعيش فيها

إنتهت ورقة العمل بالتوفيق للجميع

معلمة المادة:

العلامة المستحقة.

العلامة الكلية

## أوراق عمل لمادة الدراسات الاجتماعية الفصل الدراسي الأول للصف الرابع.

الاسم : .....

### ورقة عمل رقم (٣)

### الدرس الثاني : الأخلاق.

الأخلاق: مجموعة من القواعد والسلوك التي تحكم علاقة الفرد بالآخرين وإذا مارسناها بصورة متكررة أصبحت عادة

السؤال الأول: حددي المصطلح المناسب من بنك الكلمات لكل من الجمل الآتية:

الشجاعة

الاحترام.

صندوق الكلمات

التعاون.

الأمانة

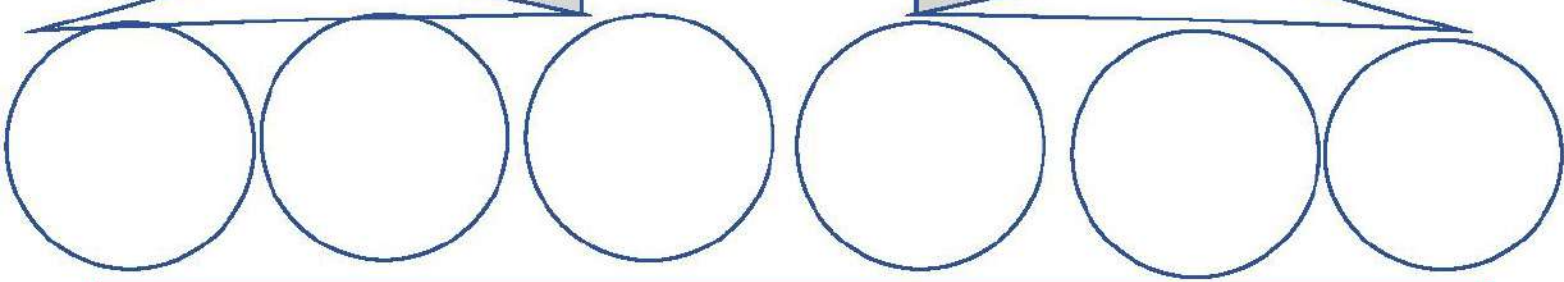
- ١- ..... القيام بالواجبات المطلوبة والمحافظة على الممتلكات العامة والخاصة
- ٢- ..... المحافظة على حقوق الآخرين وأموالهم
- ٣- ..... الثبات والمرأة في قول الحق ورفع الظلم ونصرة المظلوم ومساعدة المحتاج

السؤال الثاني : صنف/ي الجمل الآتية إلى ما يناسبها من أخلاق

- احرص بالتعاون مع زملائي على المشاركة بالأعمال التطوعية
- احرص على نظافة غرفتي وممتلكاتي الخاصة
- اخبر والدي بما يحدث معي في المدرسة بدون زيادة او نقصان.
- اعيد النقود التي أجدتها إلى اصحابها.

السؤال الثالث : اكمل/ي الشكل المفاهيمي التالي:

أهم الأخلاق التي يجب أن نتصف بها



إنتهت ورقة العمل بالتوفيق للجميع

معلمة المادة: .....

العلامة المستحقة.

العلامة الكلية

أوراق عمل لمادة الدراسات الاجتماعية  
الفصل الدراسي الأول للصف الرابع.

الاسم : .....

## الدرس الثالث : العادات والتقاليد. ورقة عمل رقم (٤)

العادات والتقاليد مجموعة القواعد والسلوكيات المتوارثة تتناقلها جيلاً بعد جيل

السؤال الأول : اكمل/ي الشكل المفاهيمي التالي:



تقدم القهوة العربية في المناسبات الاجتماعية ولها قيمة كبيرة بالمجتمع

السؤال الثاني: اكمل/ي الفراغات التالية بالإجابة الصحيحة

- ١- من أشهر الوجبات التقليدية في الأردن أ..... ب.....
- ٢- يرافق شهر رمضان العديد من الممارسات والعادات الاجتماعية مثل أ.....
- ٣- يحتفل أبناء وبنات الاردن بالعديد من المناسبات الوطنية منها أ.....
- ٤- من أهمية العادات والتقاليد أ..... ب.....

إنتهت ورقة العمل بالتوفيق للجميع

معلمة المادة: .....

العلامة المستحقة.

العلامة الكلية

أوراق عمل لمادة الدراسات الاجتماعية  
الفصل الدراسي الأول للصف الرابع.

الاسم : .....

ورقة عمل رقم (٥)

الدرس الرابع : الأزياء الشعبية.

الأزياء الشعبية: هي الأزياء التراثية التي يرتديها الاردنيون في حياتهم اليومية ومناسباتهم الاجتماعية وتمثل جزء مهم من هويتنا وثقافتنا الاردنية ونتاجنا الحضاري عبر القرون

**السؤال الأول : اكمل/ى الأشكال التالية بالإجابة الصحيحة :**

لكل منطقة زي شعبي خاص من حيث

--	--	--

يعود سبب تنوع الأزياء الشعبية في الأردن إلى

--

الملابس التي يرتديها الرجال وتشكل جزء مهم من تاريخ وثقافة المجتمع الاردني

--	--	--


يضم المجتمع الاردني في تركيبه السكاني تنوعاً ثقافياً يشمل

--	--	--

إنتهت ورقة العمل بالتوفيق للجميع

معلمة المادة: .....

## الأردن: تاريخ وحضارة



تتناول هذه الوحدة إضاءاتٍ مُختلفةً عن الأردن، منها التعرفُ إلى جزءٍ من تاريخ الأردن القديم، بالإضافة إلى أهم إنجازات ملوك الأردن، وبطولات القوات المسلحة الأردنية - الجيش العربي.



العلامة المستحقة.

العلامة الكلية

أوراق عمل لمادة الدراسات الاجتماعية  
الفصل الدراسي الأول للصف الرابع.

الاسم : .....

الوحدة الثانية: الأردن تاريخ وحضارة. الدرس الاول: الحضارات القديمة في الأردن. ورقة عمل رقم (٦)

قامت على أرض الأردن العديد من الحضارات التي ما زالت اثارها باقية لليوم ومنها  
العمونية والأدومية والنبطية والموابية

\*اكمل/ ي الجدول الآتي بالمعلومات المناسبة :

وجه المقارنة	النشأة	العاصمة	أشهر ملوكها	المعالم الأثرية
الحضارة الأدومية				
الحضارة العمونية				
الحضارة الموابية				
الحضارة النبطية				

إنتهت ورقة العمل بالتوفيق للجميع

معلمة المادة: .....

العلامة المستحقة.

العلامة الكلية

أوراق عمل لمادة الدراسات الاجتماعية  
الفصل الدراسي الأول للصف الرابع.

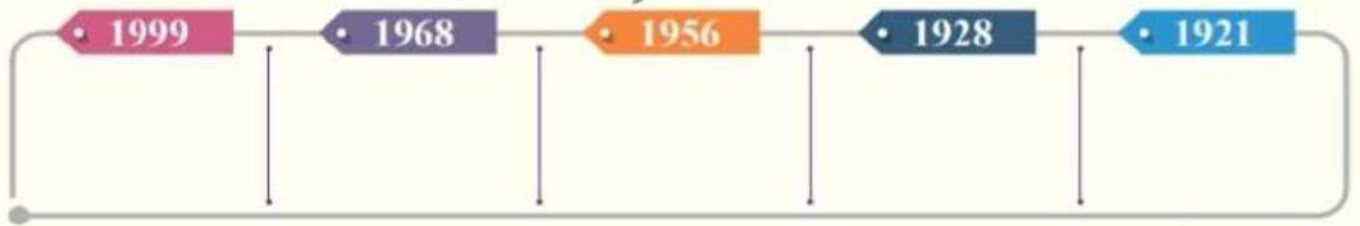
الاسم : .....

ورقة عمل رقم (٧)

الدرس الثاني : ملوك الاردن

اسهم الهاشميون منذ قيام الدولة الاردنية في بناء الأردن الحديث بمختلف مؤسساته  
واستمر في الدفاع عن قضايا الأمة العربية عامة والقضية الفلسطينية خاصة

السؤال الأول : اكمل/ي المخطط الزمني الآتي



السؤال الثاني: صل/ي بخط بين الإنجازات الواردة واسم الملك الذي تحقق بعهده الإنجاز.



1. الأستقلال.

2. تعريب قيادة الجيش.

3. إصدار دستور 1952م.

4. توسع برامج الحماية الاجتماعية.

إنتهت ورقة العمل بالتوفيق للجميع

معلمة المادة: .....

العلامة المستحقة.

العلامة الكلية

أوراق عمل لمادة الدراسات الاجتماعية  
الفصل الدراسي الأول للصف الرابع.

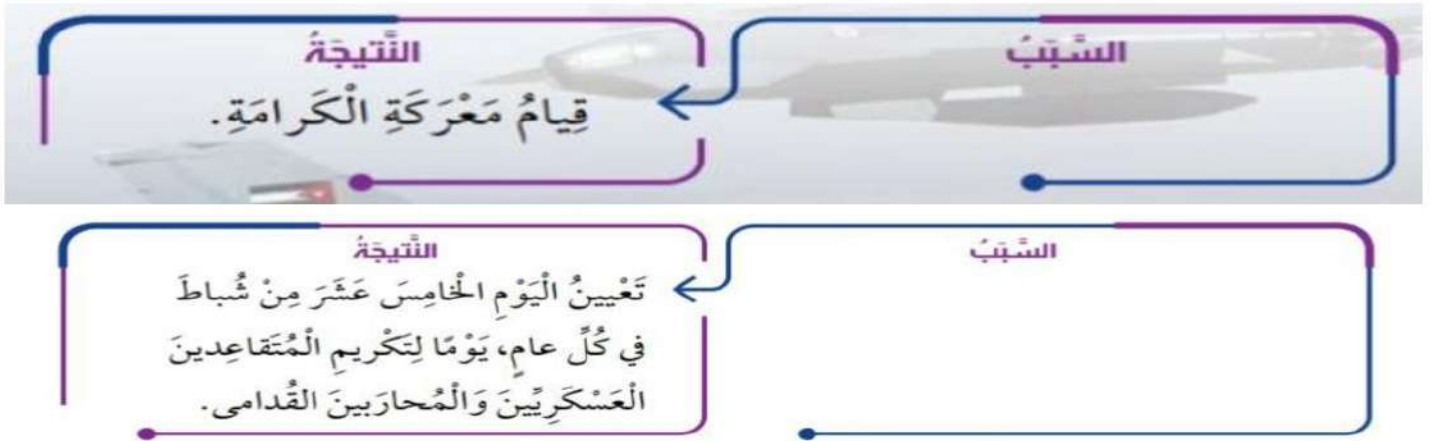
الاسم : .....

## ورقة عمل رقم (٨)

## الدرس الثالث : بطولات الجيش الأردني

خاضت القوات المسلحة الأردنية (الجيش العربي) العديد من المعارك ضد العدو الصهيوني دفاعاً عن فلسطين وشعبها

السؤال الأول: اكمل/ ي الاشكال المفاهيمية بالإجابة الصحيحة لكل مما يلي:



السؤال الثاني : وضح/ي دور الجيش الأردني في الدفاع عن فلسطين

السؤال الثالث : تحدث/ي باختصار عن متحف صرح الشهيد:

إنتهت ورقة العمل بالتوفيق للجميع

معلمة المادة: .....

# السُّلْطَةُ وَالْحُكْمُ فِي الْأُرْدُنِ

الفكرة العامة

تتناول الوحدة التعريف بنظام الحكم في الأردن، والتعرف إلى مفاهيم الدستور والقانون والنظام.



العلامة المستحقة.

العلامة الكلية

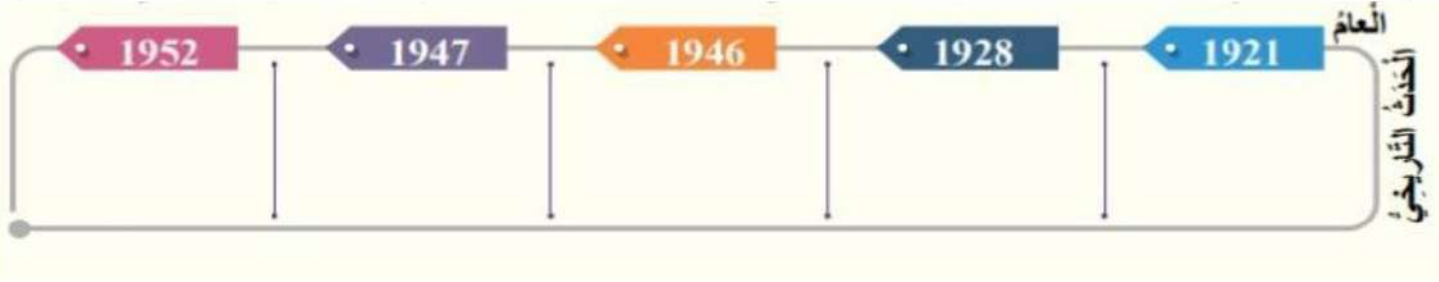
أوراق عمل لمادة الدراسات الاجتماعية  
الفصل الدراسي الأول للصف الرابع.

الاسم : .....

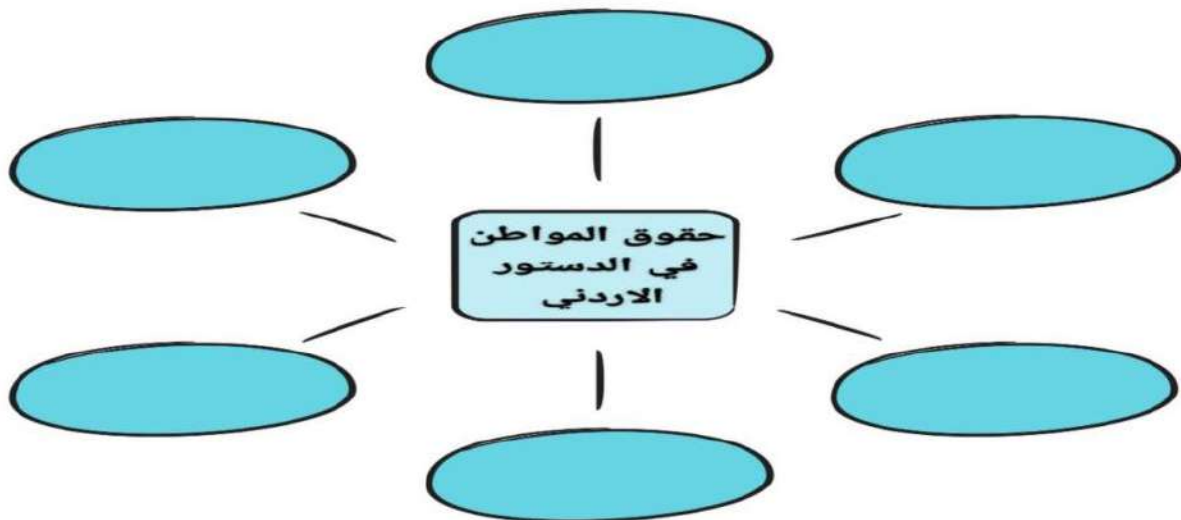
## الوحدة الثالثة: السلطة والحكم في الأردن. درس الاول: الدستور ورقة عمل رقم (٩)

الدستور: الوثيقة الأساسية التي تحدد نظام الحكم في الدولة وتنبثق عنه مجموعة من القوانين التي تنظم العلاقة بين الدولة والمواطنين والمواطنين أنفسهم كما يكفل العديد من الحقوق للمواطنين

السؤال الاول: أكتب/ي أهم الأحداث على الخط الزمني وبين/ي مراحل تطور الدستور الاردني



السؤال الثاني : اكمل/ي الخارطة المفاهيمية الآتية بالإجابة الصحيحة:



إنتهت ورقة العمل بالتوفيق للجميع

معلمة المادة: .....

العلامة المستحقة.

العلامة الكلية

أوراق عمل لمادة الدراسات الاجتماعية  
الفصل الدراسي الأول للصف الرابع.

الاسم : .....

## ورقة عمل رقم (١٠)

## الدرس الثاني : نظام الحكم

حدد الدستور الاردني نظام الحكم في الدولة نيابي ملكي وراثي ويترأس الملك عبدالله الثاني بن الحسين الدولة ويوجد ثلاث سلطات دستورية ، التنفيذية والتشريعية والقضائية

### السؤال الأول: اكمل/ي الفراغات التالية بالإجابة الصحيحة

١- يتصف نظام الحكم الملكي ب أ..... ب.....

٢- تولى جلالة الملك عبدالله الثاني سلطاته الدستورية في عام .....

٣- تولى سمو الأمير الحسين بن عبدالله الثاني ولاية العهد في عام .....

٤- مؤسسة ولي العهد هي .....

٥- تضم السلطة التنفيذية ..... و..... و.....

٦- تتكون السلطة التشريعية من مجلس..... و..... ويشكلان .....

### السؤال الثاني: اكمل/ي الجدول الآتي الذي يوضح مهام كل من السلطات الدستورية الثلاثة :

الرقم	السلطة	المهام
١	التنفيذية	
٢	التشريعية	
٣	القضائية	

إنتهت ورقة العمل بالتوفيق للجميع

معلمة المادة: .....

العلامة المستحقة.

العلامة الكلية

أوراق عمل لمادة الدراسات الاجتماعية  
الفصل الدراسي الأول للصف الرابع.

الاسم : .....

ورقة عمل رقم ( ١١ )

الدرس الثالث : القوانين والانظمة

إن إنترام الأفراد بالقانون والنظام يحمي المرافق العامة والممتلكات  
الخاصة وينظم العلاقة بين الأفراد ويحقق العدالة والمساواة بينهم

**السؤال الأول: حددي المصطلح المناسب من بنك الكلمات لكل من الجمل الآتية:**

بنك الكلمات

القانون

الانظمة

العدالة والمساواة

التنفيذية

- ١- مجموعة من الاسس التي تنظم العلاقة بين مؤسسات المجتمع والأفراد .....
- ٢- السلطة التي تشرف على تنفيذ القوانين وتطبيقاتها على الأفراد والجماعات هي .....
- ٣- تطبيق القانون على الجميع يعني .....
- ٤- تنبثق .....

**السؤال الثاني: اذكر/ي نقطتين لكل مما يلي**

أ- من الآثار الإيجابية لتطبيق القوانين والانظمة في حياتنا

١- .....  
٢- .....

ب- تطبيق النظام في المدرسة

١- .....  
٢- .....

ج- تطبيق النظام في الحي (الحارة)

١- .....  
٢- .....

إنتهت ورقة العمل بالتوفيق للجميع

معلمة المادة: .....

# الْبَيْئَةُ وَالْمَوَارِدُ وَالسُّكَّانُ



الفكرة العامة

تتناول الوحدة بعض أنشطة السكان، وتطور علاقة الإنسان مع البيئة.



العلامة المستحقة.

العلامة الكلية

## أوراق عمل لمادة الدراسات الاجتماعية الفصل الدراسي الأول للصف الرابع.

الاسم : .....

### الوحدة الرابعة : البيئة والموارد والسكان الدرس الاول : الزراعة ورقة عمل رقم (١٢)

تعد الزراعة هي فلاحه الأرض ونتاج المحاصيل وتربية المواشي وتعد من اهم وأقدم الأنشطة الاقتصادية التي مارسها الانسان.

#### السؤال الأول: اكمل/ ي الفراغات التالية بالإجابة الصحيحة

- ١- اعتمدت الزراعة في المجتمعات القديمة على .....
- ٢- نشأت القرى الزراعية على ضفاف .....
- ٣- من أهمية الزراعة أ..... ب.....
- ٤- ..... إحدى أنظمة الري الحديثة التي تستعمل لري المناطق قليلة الأمطار
- ٥- يعد القمح من المحاصيل الحقلية التي تزرع في المناطق..... في الاردن
- ٦- من المشكلات التي يعاني منها قطاع الزراعة في الاردن أ.....

#### السؤال الثاني : قارن/ ي بين الزراعة المروية والبعلية

الزراعة المروية :

الزراعة البعلية :

#### السؤال الثالث : انظر/ ي إلى الشكلين الآتيين ثم اجيبى عما يليه من اسئلة



- أ- ما الشكل الذي يمثل النمط القديم في الزراعة .....
- ب- ما الشكل الذي يعطي إنتاج وفير ولماذا .....

إنتهت ورقة العمل بالتوفيق للجميع

معلمة المادة: .....

العلامة المستحقة.

العلامة الكلية

أوراق عمل لمادة الدراسات الاجتماعية  
الفصل الدراسي الأول للصف الرابع.

الاسم : .....

## ورقة عمل رقم ( ١٣ )

## الدرس الثاني : الصناعة

السؤال الأول: اكمل/ ي الفراغات التالية بالإجابة الصحيحة

١- من أهمية الصناعة أ.....

٢- من مشكلات القطاع الصناعي أ.....

٣- من الأمثلة على الصناعات الرقمية أ.....

٤-..... هي الصناعات التي تعتمد علي التكنولوجيا الرقمية الحديثة

٥- يسهم القطاع الصناعي في تطوير القطاعات الاقتصادية الأخرى مثل .....

٦- ..... هي الصناعات التي تعتمد على تحويل المادة الخام لتصبح أكثر فائدة للإنسان

٧- ..... هي الصناعات التي تعتمد على استخراج المواد الطبيعية من باطن الأرض

السؤال الثاني : اكمل/ ي المخطط المفاهيمي الآتي بالإجابة الصحيحة



السؤال الثالث: صنف/ ي الصناعات التالية إلى استخراجية وتحويلية:

( المواد الغذائية / الإسمنت / الأدوية / النفط / البوتاسيوم / المنسوجات ) .

الصناعات التحويلية	الصناعات الاستخراجية

إنتهت ورقة العمل بالتوفيق للجميع

معلمة المادة: .....

العلامة المستحقة.

العلامة الكلية

أوراق عمل لمادة الدراسات الاجتماعية  
الفصل الدراسي الأول للصف الرابع.

الاسم : .....

## ورقة عمل رقم ( ١٤ )

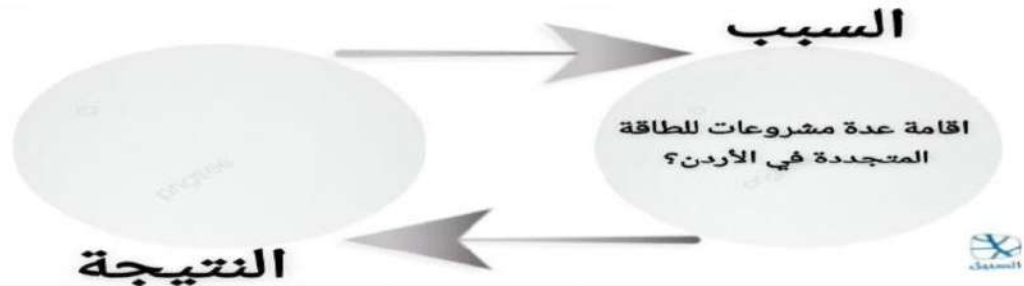
## الدرس الثالث : الطاقة

يعتمد الانسان على المصادر الطبيعية للحصول على الطاقة وتقسم مصادر الطاقة إلى قسمين متجددة وغير متجددة

### السؤال الأول: اكمل/ي الفراغات التالية بالإجابة الصحيحة.

- ١- موارد موجودة بالطبيعة بعضها اساسي لاستمرار حياة الإنسان .....
- ٢- تعد الطاقة..... عصب الحياة في الوقت الحالي
- ٣- يطلق على الطاقة المولدة من مصادر متعددة لا تنضب ب ..... وتعتبر.....
- ٤- يطلق على الطاقة الناتجة من الوقود الاحفوري ب ..... وتمتاز ب.....
- ٥- من الطرق التي تسهم في المحافظة على البيئة أ .....

### السؤال الثاني : اكمل/ي الشكل المفاهيمي التالي بالإجابة الصحيحة.



### السؤال الثالث: صنف/ي الموارد الطبيعية التالية إلى موارد متجددة وغير متجددة

(الشمس / الفحم الحجري / الغاز الطبيعي / الهواء / الماء / النفط ) .

المصادر غير المتجددة

المصادر المتجددة

إنتهت ورقة العمل بالتوفيق للجميع

معلمة المادة: .....

**الدرس الرابع : الأنشطة البشرية وأثرها في البيئة ورقة عمل رقم ( ١٥ )**

أثرت الأنشطة البشرية في معظم الأحيان بالبيئة بشكل سلبي وهذا ما أركه الانسان في الوقت الحاضر فسعى إلى المحافظة عليها وإعادة التوازن إليها .

**السؤال الأول: اكمل/ي الفراغات التالية بالإجابة الصحيحة.**

- ١- يشمل النظام البيئي مكونات ..... ومكونات .....
- ٢- عاش الانسان قديماً ..... واعتمد على ..... وسكن .....
- ٣- من الأسباب التي أدت إلى إزالة الغابات أ .....
- ٤- يعد استعمال البلاستيك بعد استخدامه ملوثاً للبيئة وذلك ل .....
- ٥- يؤثر غاز ثاني أكسيد الكربون الناتج عن حرق الوقود الاحفوري إلى .....

**السؤال الثاني: صنف/ي مكونات البيئة التالية إلى مكونات حية وغير حية**

(الشمس / الانسان / النبات / الكائنات الحية الدقيقة / الانسان / المناخ ) .

مكونات حية	مكونات غير حية

**السؤال الثالث : اكمل/ي المخطط المفاهيمي التالي بالإجابة الصحيحة.**

إنتهت ورقة العمل بالتوفيق للجميع

معلمة المادة: .....

العلامة المستحقة.

العلامة الكلية

## أوراق عمل لمادة الدراسات الاجتماعية الفصل الدراسي الأول للصف الرابع.

الاسم : .....

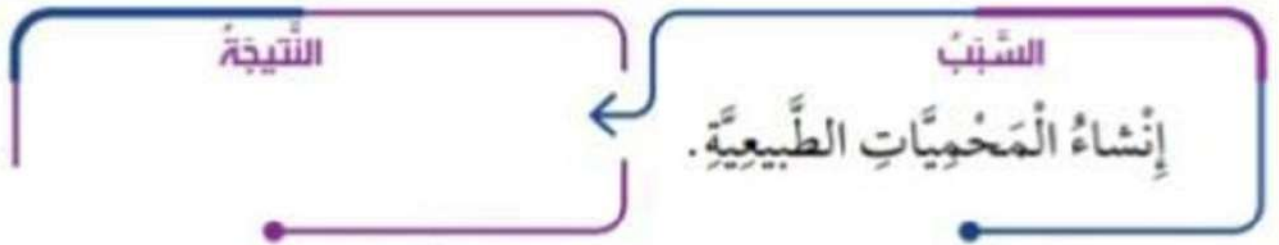
### الدرس الخامس : الحياة البرية في الأردن. ورقة عمل رقم ( ١٦ )

بدأ الاهتمام بالبيئة في الاردن بإنشاء الجمعية الملكية لحماية الطبيعة عام ١٩٦٦ ومن أهم إنجازاتها إنشاء المحميات الطبيعية

#### السؤال الأول: اكمل/ي الفراغات التالية بالإجابة الصحيحة.

- ١- يبلغ عدد المحميات الطبيعية في الأردن .....
- ٢- تعد من الاشجار المعمرة وتحمل الظروف المناخية الصعبة .....
- ٣- من رموز الحياة البرية في الأردن أ ..... ب .....
- ٤- تشرف على المحميات الطبيعية في الأردن.....

#### السؤال الثاني: اكمل/ي الشكل المفاهيمي التالي بالإجابة الصحيحة :



#### السؤال الثالث: اكمل/ي الجدول التالي بالإجابة الصحيحة:

المحمية	اهم ما يميزها.	الموقع.	الحياة النباتية والحيوانية
ضانا			
الشومري			
الموجب			

إنتهت ورقة العمل بالتوفيق للجميع

معلمة المادة: .....