

ملخص الوحدة الأولى

النقل والمواصلات والتجارة

علوم إجتماعية / الصف السابع ٢٠١٩ الترم الثاني

السؤال الأول: عرف ما يلي ؟

النقل : هو عملية إنتقال الأفراد والبضائع من مكان الى آخر .

السؤال الثاني: وضح أهمية النقل في حياة البشرية ؟

وتتمثل أهمية النقل في الأسباب الآتية

١-تسهيل إنتقال الأفراد من مكان لآخر داخل وخارج الدولة .

٢-يساعد على حركة التجارة داخليا وخارجيا .

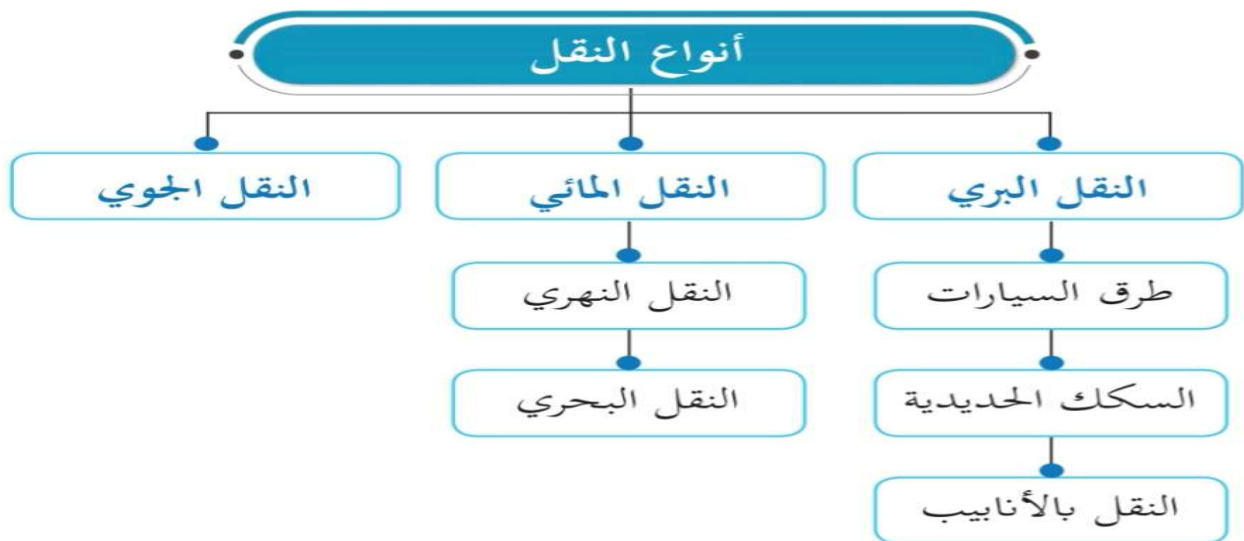
٣-يعمل على إعادة توزيع السكان وإعمار المناطق المعزولة

٤-يساعد على تحقيق التنمية الإقتصادية في مناطق الدولة من خلال الربط بين مناطق الإنتاج والإستهلاك

٥-تيسير التبادل الثقافي والمعرفي بين الشعوب

السؤال الثالث وضح أنواع النقل المختلفه ؟

أنواع النقل المختلفة كما تظهر على الجدول الآتي :



أولا النقل البري :

وينقسم النقل البري الى ثلاثة أقسام

١- طرق السيارات ٢- السكك الحديدية ٣- النقل بالانابيب

١- طريق السيارات: وهي عبارة عن طرق معبدة ومنها

طرق داخلية: تربط بين أجزاء الدولة ببعضها

وطرق خارجية: تربط بين الدول وبعضها ومن أمثلة تلك الطرق الخارجية والداخلية

(طريق سلوى بدولة قطر)

٢- السكك الحديدية :

وتعد السكك الحديدية أحد أهم طرق النقل البري وذلك للإسباب الآتية

١- تنقل الركاب والبضائع بسرعة ولمسافات طويلة .

٢- تعد أقل وسائل النقل تأثراً بالظروف المناخية .

٣- توفر عنصر السلامة والأمان بدرجة عالية .

ومن خطوط السكك الحديدية في العالم :

-خط سيبيريا : ويبلغ طوله ١٢ ألف كم ويوجد في روسيا

-مترو الدوحة : شبكة سكك حديدية متطورة تمتد معظمها تحت الأرض تربط دولة قطر ببعضها ببعض

٣- النقل بالأنابيب

أستخدم الانسان الانابيب منذ القدم في نقل المياه وزادت أهميتها بعد إستخدامها في نقل المواد السائلة
مثل: البترول والغاز

ومن أشهر خطوط الأنابيب :

-خط الدولفين : وهو خط يستخدم لنقل الغاز الطبيعي من دولة قطر إلى دولة الإمارات وسلطنة عمان .

-خط التابلاين: وهو خط يربط بعض حقول البترول في شرق شبه الجزيرة العربية بساحل البحر المتوسط

-ويوجد هناك بعض وسائل النقل البرى الأخرى عن طريق خطوط نقل الطاقة الكهربائية وهى تربط بين محطات توليد الكهرباء ومناطق إستهلاكها ومنها شبكات علوية وشبكات أرضية.

ثانيا : النقل المائى :

ويعد أرخص أنواع النقل كما أنه يمكنه حمل أحجام وكميات كبيرة من المنتجات المختلفة وتعد السفن بأنواعها المختلفة الوسيلة الرئيسة للنقل المائى

وينقسم إلى

١-النقل النهري :على الرغم من أنتشار الأنهار فى العالم إلا أن معظمها لا يصلح للملاحة النهرية

وذلك لوجود العوائق الطبيعية الاتية

- ١ - قلة عمق المياه فى النهار
- ٢ - وجود الشلالات النهرية الكثيرة
- ٣ - أنتشار السدود على إمتداد الأنهار لتوليد الكهرباء

ومن أهم الطرق الملاحية النهرية فى العالم :

-طريق نهر الراين ونهر الدانوب فى قارة أوروبا .

-طريق نهر النيل وروافده فى مصر والسودان بقارة إفريقيا .

١-النقل البحرى :

بما تفسر يعد النقل البحرى من أهم أنواع النقل المستخدمة لنقل البضائع ولماذا؟

وذلك لما له من دور فعال ومؤثر فى حركة التجارة بين أقاليم العالم المختلفة حيث يتميز بضخامة حمولته وقلة تكلفته.

أذكر اثنين من الطرق الملاحية العالمية ؟

المحيط الهندى ويربط بين مؤانى قارة اسيا وافريقيا

والمحيط الأطلنطى مؤانى أوروبا وافريقيا بامريكا الشالمية والجنوبية

ومن أشهر الموانئ البحرية العالمية :

-ميناء حمد بقطر وميناء شتغهاى بالصين وميناء هامبورغ بألمانيا.

وضح متى تم إفتتاح ميناء حمد وما الهدف من ربط ميناء حمد بالعديد من المرافئ الدولية ؟

تم الافتتاح في ١٤ نوفمبر عام ٢٠١٧ والهدف منه زيادة النشاط الاقتصادي والتبادل التجاري بين قطر وكافة المؤانى العالمية .

ثالثا النقل الجوى :

أغلى أنواع النقل وتعد الطائرات الوسيلة الرئيسة للنقل الجوى وهى إما مخصصة لنقل الركاب أو لنقل البضائع

أذكر مميزات النقل الجوى ؟

١-تجاوز النقل الجوى للكثير من العقبات الطبيعية التى تعترض أنواع النقل الأخرى لها كمناطق الصحارى والغابات الكثيفة وسلاسل الجبال العالية

٢-سرعة النقل حيث تستغرق الرحلات وقتا قصيرا مقارنة بالأنواع الاخرى للنقل.

أجب عن الاسئلة الاتية :

١-وضح المشكلات البيئية المترتبة على النقل والمواصلات؟

١-تلوث الهواء بعوادم السيارات والطائرات

٢-إرتفاع مستوى الضوضاء فى المدن .

٣-التوسع فى مساحة الطرق على حساب المساحات الخضراء .

٢-وضح كيف يمكن التغلب على المشكلات البيئية المترتبة على النقل والمواصلات؟

١-التصميم المناسب للطرق ومراعاة حجم المدن وكثافة السكان .

٢-التوسع فى إنشاء المساحات الخضراء على جانبى الطرق لتنقية الهواء وتجميل المدينة .

٣-تخطيط مناطق إنتظار السيارات وأماكن عبور المشاة .

٤-الإهتمام بالجانب الجمالى للطرق والمطارات والمؤانى .

أكمل ما يلي :

- ١- يطلق على عملية إنتقلا الأفراد والبضائع من مكان الى آخر مصطلح النقل
- ٢- من أنواع النقل البرى عن طريق السيارات و السكك الحديدية و النقل بالانابيب
- ٣- أهم شبكات النقل النهري فى أوروبا نهر الراين
- ٤- أى من خطوط الانابيب التالية تمتد فى دولة قطر خط الدولفين يربط بين قطر والامارات وعمان
- ٥- أرخص أنواع النقل هو النقل المائى

بما تفسر :

١-الأهمية الكبرى للنقل فى حياتنا ؟

وترجع تلك الأهمية للأسباب الآتية

- ١-تسهيل إنتقال الأفراد من مكان لآخر داخل وخارج الدولة .
- ٢-يساعد على حركة التجارة داخليا وخارجيا .
- ٣-يعمل على إعادة توزيع السكان وإعمار المناطق المعزولة
- ٤-يساعد على تحقيق التنمية الإقتصادية فى مناطق الدولة من خلال الربط بين مناطق الإنتاج والإستهلاك
- ٥-تيسير التبادل الثقافى والمعرفى بين الشعوب
- ٢-تعد السكك الحديدية من أهم أنواع النقل البرى؟

وذلك للأسباب الآتية

- ١-تنقل الركاب والبضائع بسرعة ولمسافات طويلة .
- ٢-تعد أقل وسائل النقل تأثرا بالظروف المناخية .
- ٣-توفر عنصر السلامة والأمان بدرجة عالية
- ٣-عدم صلاحية بعض النهار للملاحة النهرية ؟

وذلك لوجود العوائق الطبيعية الآتية

- ١-قلة عمق المياه فى النهار
- ٢-وجود الشلالات النهرية الكثيرة
- ٣-انتشار السدود على إمتداد النهار لتوليد الكهرباء

٤- يتميز النقل الجوي عن باقي أنواع النقل ؟

وذلك للأسباب الآتية

١- تجاوز النقل الجوي للكثير من العقبات الطبيعية التي تعترض أنواع النقل الأخرى لها كمناطق الصحارى والغابات الكثيفة وسلاسل الجبال العالية

٢- سرعة النقل حيث تستغرق الرحلات وقتا قصيرا مقارنة بالأنواع الأخرى للنقل

٥- قلة أهمية طريق المحيط الهادى للملاحة البحرية ؟

وذلك بسبب اتساعه الكبير والبعد بين مؤانئه .

٦- أهمية طريق المحيط الأطلسى للملاحة البحرية ؟

حيث يتم من خلاله نقل ٦٠% من التجارة الدولية بين القارات .

أجب عن الاسئلة التالية :

١- أذكر أنواع طرق السيارات :

طرق داخلية : تربط بين أجزاء الدولة بعضها ببعض

طرق خارجية : تربط بين الدول بعضها ببعض

٢- قارن بين مميزات وعيوب النقل المائى والجوى من خلال الجدول التالى :

| أوجه المقارنة | النقل المائى | النقل الجوى |
|---------------|---|---|
| المميزات | ١- يعد أرخص أنواع النقل ٢- يمكنه حمل أحجام وكميات كبيرة من المنتجات المختلفة | ١- تجاوز النقل الجوى للكثير من العقبات الطبيعية التي تعترض أنواع النقل الأخرى لها كمناطق الصحارى والغابات الكثيفة وسلاسل الجبال العالية ٢- سرعة النقل حيث تستغرق الرحلات وقتا قصيرا مقارنة بالأنواع الأخرى للنقل |
| العيوب | يحتاج الى وقت طويل جدا لتوصيل البضائع | يعتبر من أغلى وسائل النقل |

الدرس الثاني التجارة

عرف التجارة: هي عملية تبادل السلع والخدمات بواسطة عملية البيع والشراء

وضح ما هي أكبر السلع إسهاما في التجارة الخارجية لدولة قطر ؟

تعد تجارة الغاز الطبيعي والنفط من أكبر الأنشطة التجارية بدولة قطر حيث تمثل صادرات الغاز أكبر نسبة على مستوى العالم كدولة مصدرة له

وتمثل هذه التجارة أكبر دخل لدولة قطر من التجارة الخارجية.

وضح أهمية التجارة لإى دولة ؟

١- تصريف فائض الإنتاج المحلى فى الأسواق الخارجية .

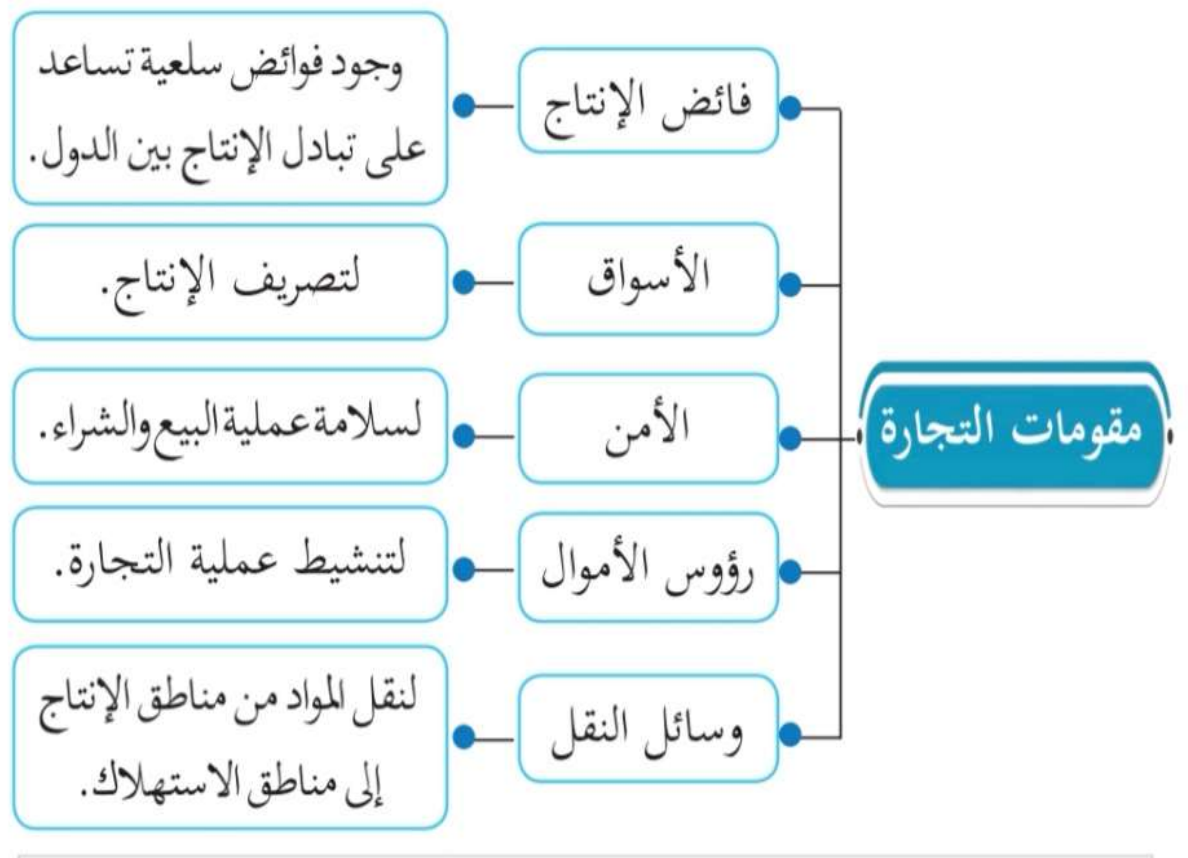
٢- سد حاجة الأسواق المحلية من المنتجات المختلفة

٣- توفير فرص العمل

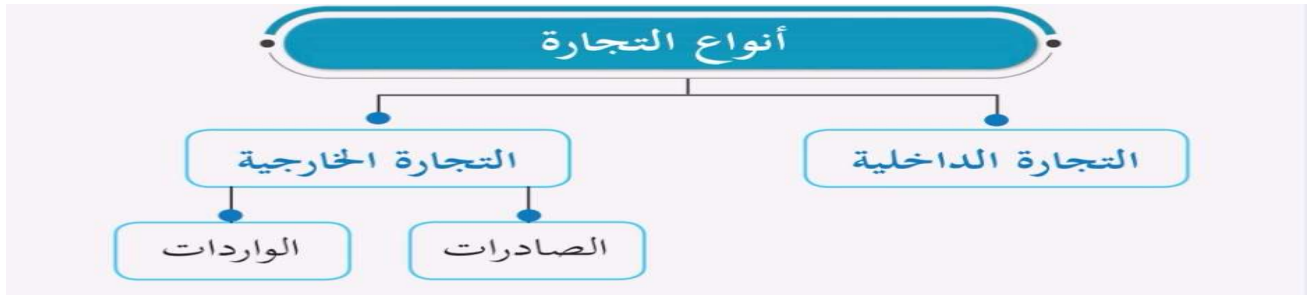
٤- زيادة الدخل القومى

٥- توثيق العلاقات بين شعوب العالم

وضح ما هي مقومات التجارة :



وضح أنواع التجارة :



١- التجارة الداخلية :

هي تبادل السلع والخدمات داخل حدود الدولة مثل التجارة التي تتم داخل المدن أو بينها

٢- التجارة الخارجية :

هي تبادل السلع والخدمات بين دول العالم على شكل صادرات وواردات.

-ولا تتم التجارة الخارجية إلا إذا توفرت شروط منها التباين الإنتاجي بين الدول ووجود فوائض سلعية.

وضح الفرق بين الصادرات والواردات ؟

الصادرات : هي السلع والخدمات التي تصدرها الدولة للأسواق الخارجية

الواردات : هي السلع والخدمات التي تستوردها الدولة من الخارج لسد حاجة الأسواق المحلية .

وضح مكونات التجارة الدولية

| مكونات التجارة الدولية | |
|------------------------|---|
| السلع | أمثلة لها |
| مصادر الطاقة | النفط - الغاز - الفحم |
| السلع الغذائية | الحبوب الغذائية - الزيوت - اللحوم - الألبان - السكر |
| السلع الصناعية | وسائل النقل - الملابس - الأسمدة - الآلات - الأجهزة الكهربائية |
| المحاصيل النقدية | المطاط - القطن - القمح |
| السلع المعدنية | الحديد - المنجنيز - الفوسفات - النحاس - الرصاص |

أجب عن الاسئلة الآتية :

١-تبادل السلع والخدمات داخل حدود الدولة يشير المفهوم التجارة هي التجارة الداخلية

٢-من أهم صادرات العالم من المحاصيل النقدية محصول القطن

٣-أكثر دول العالم إستقبالا للصادرات القطرية هي اليابان

٤-النسبة الأكبر من واردات دولة قطر تأتي من الولايات المتحدة الأمريكية

السؤال :قارن بين مساهمة الدول في التجارة الخارجية من خلال الجدول التالي

| المركز | الصادرات | الواردات |
|--------|----------------------------|----------------------------|
| ١ | الصين | الولايات المتحدة الأمريكية |
| ٢ | الولايات المتحدة الأمريكية | الصين |
| ٣ | ألمانيا | ألمانيا |

وضح العلاقة بين التطور في وسائل النقل وحركة التجارة ؟

تتطور وسائل النقل في الوقت الحالي وبخاصة البحرية لها دور مميز في تفعيل حركة التبادل التجاري وقد وفر النقل المائي أكثر من ثلاثة أرباع التبادل التجاري العالمي وربط مراكز الإنتاج العالمية بمراكز الإستهلاك بأقل كلفة ممكنة وتخصص في نقل البضائع الثقيلة الوزن أو الكبيرة الحجم.