



تدريبات اثرائية نهاية الفصل الثاني الصف الثالث مادة الحوسبة وتكنولوجيا المعلومات



(3)

السؤال الثالث:



-1-

A. اذكر نوعين من أنواع الملفات.....

B. اذكر اثنين من أجهزة التخزين.....

C. ضع علامة صح أسفل الصورة التي تمثل القرص الصلب




d. ضع علامة صح أسفل الصورة المناسبة التي تمثل طابعة راسمة:

		
---	---	---

--	--	--

e. ضع علامة صح أسفل الصورة المناسبة التي تمثل لبنة التقدم للامام

في برنامج Turtle Art

f. ضع علامة صح أسفل الصورة المناسبة التي تمثل بطاقة الذاكرة:

2-رتب خطوات الخوارزمية التالية:

A. خوارزمية إعداد عصير الفواكه:

.... ضع الحليب في الخلاط

..... ضع الفواكه في الخلاط وأغلق غطاء الخلاط

..... ضع الخلاط في وضع التشغيل لمدة دقيقتين

..... اسكب العصير في الكوب

B. خوارزمية إعداد الشاي

..... ضع الماء المغلي في الكوب

..... قم بغلي الماء

..... اترك كيس الشاي داخل الكوب لبضعة دقائق

..... قم بإزالة كيس الشاي من الماء

3- ما هي لبنة الرجوع للخلف في برنامج Turtle Art

4- اكتشاف الخطأ في خوارزمية رسم المربع بوضع دائرة حول الخطأ،

ثم قم بتصحيحها

<u>الخوارزمية</u>	<u>تصحيح الخوارزمية</u>
1- كرر الخطوات التالية 3 مرات 2- ارسم خطا بطول 100 3- استدر لليمين بمقدار 90	
1- كرر الخطوات التالية 3 مرات 2- ارسم خطا بطول 100 3- استدر لليمين بمقدار 100	

4- رتب الخوارزمية التالية "لتناول الحليب والحبوب معا في طبق" ترتيبا صحيحا

بكتابة الارقام (1- أقوم بسكب الحليب داخل الطبق / 2- أقوم بوضع الحبوب

داخل الطبق /3- أقوم بإحضار الحبوب /4-أقوم بفتح عبوة الحليب/5- أقوم
بإحضار الطبق)