



بنك الأسئلة الوحدة السابعة – تمثيل البيانات وتفسيرها

1- اختر الإجابة الصحيحة بوضع دائرة حول رمز الإجابة الصحيحة:

1

أستعمل جدول الإشارات التالي، وأجب عن السؤال التالي:
ما عدد الطلاب الذين يفضلون اللون الأخضر؟

الألوان المفضلة		
الأزرق	الأخضر	الأحمر
IIII II	IIII I	III

3

A

6

B

7

C

2

أي مجموعة إشارات عد توضح عدد القبعات في التمثيل بالمصورات؟

 قُبْعَةٌ				
 قُفَّازٌ				

IIII

A

III


B

IIII












C

3-أجب عن كل مما يلي :

طرح خالد سؤالاً استطلاعياً على أصدقائه

الفاكهة المفضلة		
الكمثرى 	الموز 	التفاح 

A. (أستمع البيانات التي جمعها لتمثيلها بالمصورات

الفاكهة المفضلة									
الكمثرى 									
الموز 									
التفاح 									

B) ما الفاكهة الأقل تفضيلاً لدى الطلاب؟

.....

C) ما العدد الكلي للطلاب الذين شاركوا في التصويت؟




.....

اختر الإجابة الصحيحة بوضع دائرة حول رمز الإجابة الصحيحة:

4

أستعمل جدول الإشارات التالي، وأجب عن السؤال التالي
أي نكهة مثلجات حصلت على معظم الأصوات ؟

نكهة المثلجات المفضلة

الفانيليا	الشوكولاتة	الفراولة
		

الفراولة

A

الشوكولاتة










B

الفانيليا

C

5

أستعمل التمثيل بالمصورت التالي، وأجب عن السؤال التالي
أبكم يزيد عدد الأشخاص الذين يفضلون السباحة عن عدد الذين يفضلون ركوب الدرجات ؟

الأنشطة المفضلة في الرحلة		
		
		
		
		
السباحة	التيّزة	ركوب الدراجة

1

A

4


B

3

C

6- أجب عن الأسئلة مستعملا جدول المصورات التالي.

الأنشطة المفضلة عند طلاب الصف الأول

ركوب الدراجة 					
 كرة القدم					
 التزلج					

(A) ما عدد الطلاب الذين يفضلون كرة القدم؟

.....

(B) ما النشاط الأقل تفضيلا لدى الطلاب؟

.....

(C) ما العدد الكلي للطلاب الذين شاركوا في التصويت؟




.....

أستعمل البيانات في جدول الإشارات لإنشاء
تفصيل بالمصوّرات.

الألوان المفضّلة

الأخضر 	الأزرق 	البنفسجي 
	 	

الألوان المفضّلة

2- بكم يزيد عدد الطلاب الذين يفضلون اللون البنفسجي عن الذين يفضلون اللون الأحمر؟

.....

3- ما اللون الأكثر تفضيلاً؟

.....