




بنك الأسئلة – الوحدة الخامسة : استخدام المواد

اختر الإجابة الصحيحة بوضع علامة (X) داخل المربع:-

أي الصور التالية توضح شيء طري؟		<b>1</b>
	<input type="checkbox"/> A	
	<input type="checkbox"/> B	
	<input type="checkbox"/> C	

ما هو ملمس الحجارة؟		<b>2</b>
		
طري	<input type="checkbox"/> A	
خشن	<input type="checkbox"/> B	
ناعم	<input type="checkbox"/> C	

أي مما يأتي يصف ملمس الريش؟		<b>3</b>
		
ناعم	<input type="checkbox"/> A	
خشن	<input type="checkbox"/> B	
قاسي	<input type="checkbox"/> C	

		أي مما يأتي يصف خصائص المسمار؟	4
طري	A		
باهت	B		
قاسي	C		




		أي المواد التالية قاسية ولامعة؟	5
المعدن	A		
الورق	B		
القماش	C		

		أي المواد التالية لا يمر الضوء من خلالها؟	6
الشفافة	A		
شبه الشفافة	B		
المعتمة	C		

		أي مادة يمكن أن تصنع منها عدسات النظارات الطبية؟	7
المعدن	A		
الورق	B		
الزجاج	C		

أي الأشياء التالية مصنوع من المعدن؟		8
القلم	A	
المسمار	B	
الكتاب	C	

أي الأشياء التالية يستخدم القماش في صناعته؟		9
الكتب	A	
الملابس	B	
الطاوله	C	


أي من الأشياء التالية شفافة؟		10
	A	
	B	
	C	

ما المادة الأكثر تفضيلاً لصنع لعب الأطفال؟		11
الزجاج	A	
البلاستيك	B	
المعدن	C	

12		ما الشيء المصنوع من أكثر من مادة ؟
	A	
	B	
	C	

13		بأي حاسة أستطيع أن أميز بين المواد الخشنة والمواد الناعمة ؟
اللمس	A	
التذوق	B	
الشم	C	

14		ما هي المادة التي نستخدمها لنصنع أشياء نحتاج أن نرى من خلالها بوضوح ؟
المادة المعتمة	A	
المادة الشفافة	B	
المادة شبه الشفافة	C	

15		ما المادة التي صنع منها الباب في الصورة الموضحة ؟
		
الزجاج	A	
الخشب	B	
المعدن	C	

ضع علامة (✓) أمام العبارة الصحيحة وعلامة (x) أمام العبارة الخطأ:

( )	تصنع جميع الأشياء من مواد شفافة.	1
( )	يمكن أن نميز بين المواد الناعمة والخشنة بواسطة حاسة اللمس.	2
( )	الزجاج مناسب لصنع لعب الأطفال .	3
( )	الورق مادة قاسية وليست طرية.	4
( )	لا نستطيع أن نحدد المواد المختلفة التي صنعت منها الأشياء.	5
( )	نستخدم المواد المعتمدة لنصنع أشياء لا نحتاج أن نرى من خلالها .	6
( )	يستخدم الحديد في بناء المنازل لأنه قاس .	7
( )	تصنع النافذة من الزجاج لأنه شفاف.	8
( )	الأشياء اللامعة يمكن أن تعكس الضوء .	9
( )	يمكن تحديد المادة التي صنع منها الشيء باستخدام حاسة التذوق.	10
( )	لا يستطيع الشخص الذي يرتدي نظارة طبية أن يرى من خلالها .	11

أصل بخط بين الصور والمفردات التي تناسبها :



(1) شيء لامع



(2) شيء خشن



(3) شيء يغوص



(4) شيء باهت



(5) شيء شفاف

## الأسئلة المقالية

1- ما الخاصية التي تجعل الزجاج مناسب لصنع النظارات الطبية؟



.....

---

2- ما هي الخاصية التي تجعل الحديد مناسب لصنع سياج المنزل؟

.....

---

3- اكتب اسم شيء ملمسه قاسي .

.....

---

4- اذكر أسماء المواد المصنوع منها هذا الكرسي في الصورة؟



.....

5- اذكر اسم المادة المستخدمة في صناعة الأشياء التالية :



.....



.....



.....



.....