



ورقة عمل (1)

الاسم: ..... الصف: .....

السؤال رقم 1		
أوجد ناتج الطرح: هل تحتاج إلى إعادة تجميع؟	نعم - لا	$81-5=$

السؤال رقم 2		
أوجد ناتج الطرح: هل تحتاج إلى إعادة تجميع؟	نعم - لا	$29-3=$

السؤال رقم 3		
أوجد ناتج الطرح: هل تحتاج إلى إعادة تجميع؟	نعم - لا	$60-7=$

السؤال رقم 3		
لدى سلوى 45 كرة زجاجية. أعطت 3 كرات منها لأختها. كم كرة زجاجية أصبح لدى سلوى؟ _____ كرة زجاجية		



ورقة عمل (2)

الاسم: .....

الصف: .....

السؤال رقم 1

أو جد ناتج الطرح برسم قوالب القيمة المنزلية.

عشرات	آحاد
<input type="text"/>	<input type="text"/>
6	2
<hr/>	
<input type="text"/>	<input type="text"/>

عشرات	آحاد
<input type="text"/>	<input type="text"/>
<input type="text"/>	<input type="text"/>
<hr/>	
<input type="text"/>	<input type="text"/>

السؤال رقم 2

أو جد ناتج الطرح فيما يلي. أعد التجميع إذا لزم الأمر.

1. 

عشرات	آحاد
<input type="text"/>	<input type="text"/>
2	5
<hr/>	
<input type="text"/>	<input type="text"/>

2. 

عشرات	آحاد
<input type="text"/>	<input type="text"/>
4	1
<hr/>	
<input type="text"/>	<input type="text"/>

3. 

عشرات	آحاد
<input type="text"/>	<input type="text"/>
6	5
<hr/>	
<input type="text"/>	<input type="text"/>

السؤال رقم 3

على الرف 67 كتاباً.  
أخذ عماد 5 كتب منها.  
كم كتاباً بقي على الرف؟

عشرات	آحاد
<input type="text"/>	<input type="text"/>
<input type="text"/>	<input type="text"/>
<hr/>	
<input type="text"/>	<input type="text"/>

كتاباً. \_\_\_\_\_



ورقة عمل (3)

الاسم: .....

الصف: .....

السؤال رقم 1	
ما هو ناتج طرح: $45 - 19 = \underline{\quad}$	
A 40	
B 26	
C 23	

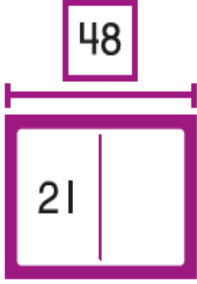
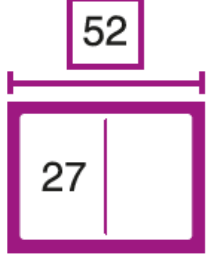
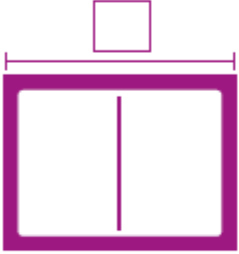
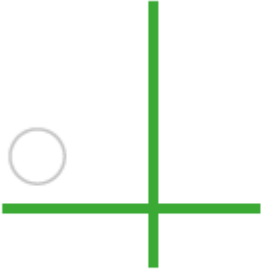
السؤال رقم 2					
أكتب المسألة. أجد ناتج الطرح فيما يلي:					
1. $37 - 14$					
<table border="1"><thead><tr><th>عشرات</th><th>آحاد</th></tr></thead><tbody><tr><td><input type="text"/></td><td><input type="text"/></td></tr></tbody></table>	عشرات	آحاد	<input type="text"/>	<input type="text"/>	
عشرات	آحاد				
<input type="text"/>	<input type="text"/>				
2. $52 - 36$					
<table border="1"><thead><tr><th>عشرات</th><th>آحاد</th></tr></thead><tbody><tr><td><input type="text"/></td><td><input type="text"/></td></tr></tbody></table>	عشرات	آحاد	<input type="text"/>	<input type="text"/>	
عشرات	آحاد				
<input type="text"/>	<input type="text"/>				

السؤال رقم 3					
لدى فاطمة 63 حبة عنب. أعدت نورة 36 حبة. كم حبة بقيت لدى فاطمة؟					
<table border="1"><thead><tr><th>عشرات</th><th>آحاد</th></tr></thead><tbody><tr><td><input type="text"/></td><td><input type="text"/></td></tr></tbody></table>	عشرات	آحاد	<input type="text"/>	<input type="text"/>	
عشرات	آحاد				
<input type="text"/>	<input type="text"/>				
حبة عنب. _____					



ورقة عمل ( 4 )

الاسم: ..... الصف: .....

السؤال رقم 1	
أطرح، أتحقق من خلال الجمع واكتب العدد الناقص	
1. $\begin{array}{r} 48 \\ - 21 \\ \hline \end{array}$	
2. $\begin{array}{r} 52 \\ - 27 \\ \hline \end{array}$	
السؤال رقم 2	
طرحت هيا ليجاد ناتج $52 - 39$ أي جملة جمع استعملتها للتحقق من إجابتها؟	
<p>Ⓐ <math>13 + 26 = 39</math></p> <p>Ⓑ <math>39 + 52 = 91</math></p> <p>Ⓒ <math>13 + 39 = 52</math></p>	
السؤال رقم 3	
 	
اشترى عبدالله صندوقًا فيه 96 مشبك ورقي. استعمل منها 34 مشبكًا. كم مشبكًا بقي في الصندوق؟	
مشبك ورقي _____	

