

اولا: ضع كل من المفاهيم والمصطلحات في مكانها المناسب لكل من العبارات التالية:

(كثافة السكان - الاحياء العشوائية - البطالة - الازدحام السكاني - التركيب العمري للسكان - التركيب النوعي للسكان - الهجرة الداخلية - تركيب السكان - الهجرة الخارجية - النمو غير الطبيعي للسكان - النمو الطبيعي للسكان - البطالة المقنعة - السهل الفيضي)

1. (.....) الفرق بين معدل المواليد ومعدل الوفيات.
2. (.....) الزيادة الناجمة عن هجرة السكان من دولة الى اخري.
3. (.....) انتقال المواطنين العرب من دولة عربية الى اخري.
4. (.....) انتقال المواطنين العرب من الوطن العربي الى الدول الأجنبية.
5. (.....) الخصائص السكانية التي يمكن قياسها مثل العمر والنوع.
6. (.....) توزيع السكان وفق فئات الاعمار المختلفة.
7. (.....) نسبة عدد الذكور الى نسبة عدد الإناث.
8. (.....) قسمة عدد السكان على المساحة الكلية.
9. (.....) ذلك الجزء من الوادي الذي يغمر بالمياه خلال فيضان النهر.
10. (.....) ارتفاع عدد السكان في الكيلومتر المربع الواحد.
11. (.....) مناطق سكنية غير منظمة بنيت بدون ترخيص .
12. (.....) عدم تو قرف فرص العمل للمقادرين عليه.
13. (.....) العمال الذين يحصلون على أجور اورو تب دون ان يكون هناك

احتياج حقيقي لأعمالهم.

ثانيا : سجل سببين لكل مما يأتي :

14. أسباب ارتفاع معدلات المواليد في الوطن العربي؟

.....

15. ارتفاع معدلات النمو السكاني في الوطن العربي؟

.....

16. هجرة السكان من الريف إلى الحضر بالوطن العربي؟

.....

17. تزيد الهجرة العربية إلى دول الخليج منذ بداية السبعينات؟

.....

18. سمات الهجرة إلى الدول العربية النفطية؟

.....

ثالثا: اجب عن الأسئلة التالية:

19. صنف الدول التالية الي دول مرسلة للكفاءات ودول مستقبلة:

(مصر – الامارات – السعودية – الكويت – الأردن – السودان)

دول مرسلة للكفاءات والقوي العاملة	دول مستقبلة للكفاءات والقوي العاملة
..... - -
..... - -
..... - -

20. اكمل المخطط الذهني التالي:

- ما العوامل المؤثرة في توزيع السكان ؟

العوامل البشرية

العوامل الطبيعية

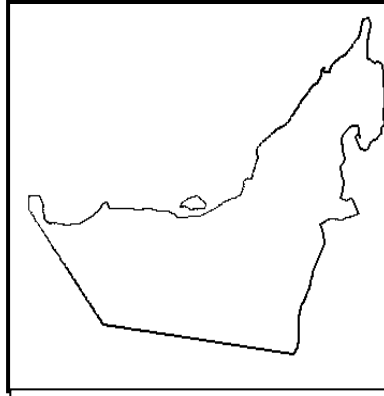
-
-
-

-
-
-

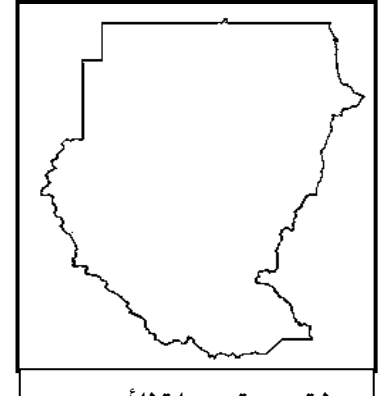
21. : اقرا الخرائط التالية واجب عن الاسئلة التي تليها:-



دولة عربية شهدت هجرات
قسرية



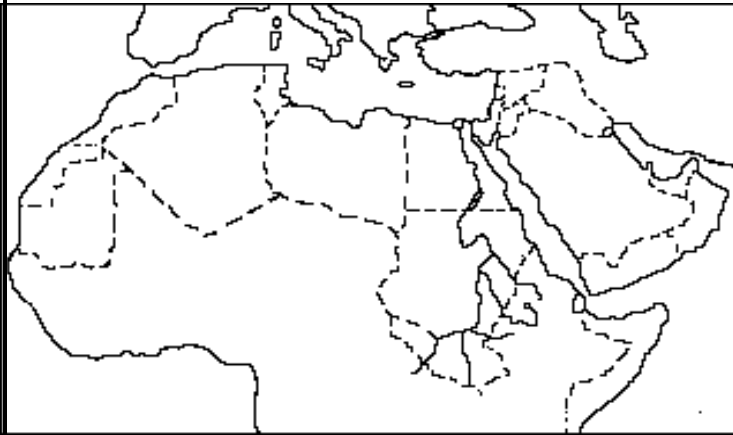
دولة عربية مستقبلية للأيدي
العاملة



دولة عربية مرسله للأيدي
العاملة

22. س/ لاحظ الخريطة المقابلة ثم أجب عن الأسئلة بوضع الرمز المناسب وفق عدد

السكان عام 2017م:



أ. الدولة العربية الأولى في عدد السكان.

ب. الدولة العربية الأولى في معدل النمو السكاني.

ج. منطقة تزدهم فيها كثافة السكان.

د. منطقة تقل فيها كثافة السكان.

رابعاً: أكمل الفراغ في العبارات التالية: -

23. أولي الدول العربية في عدد السكان لعام 2017م

24. نسبة سكان الجناح العربي الإفريقي من سكان الوطن العربي %.....

25. نسبة سكان الجناح العربي الآسيوي من سكان الوطن العربي

26. أصغر الدول العربية في عدد السكان لعام 2017م دولة

27. أولي الدول العربية في معدل النمو السكاني لعام 2017م دولة

28. اقل الدول العربية في معدل النمو السكاني لعام 2017م دولة

29. الدولة العربية التي تحتل المركز الأول في معدل المواليد لعام 2017م دولة

30. الدولة العربية التي تحتل المركز الأول في معدل الوفيات لعام 2017م دولة

خامسا - اجب عن الأسئلة التالية:

31. صنف الدول العربية من حيث معدلات نموها السكاني وفق معطيات الجدول: -

البحرين - المغرب - قطر - لبنان - الامارات - السعودية - الصومال - جيبوتي - الجزر

معدلات النمو السكاني		
نمو سكاني مرتفع أكثر من 4%	نمو سكاني مرتفع من 2% - 4%	نمو سكاني أقل من 2%
.....---
.....---

كون تعميمات توضح العلاقة بين المفاهيم التالية:

32. (المياه - درجة الحرارة - السكان.)

التعميم:

33. (الحرارة - صحراء الربع الخالي - التربة - السكان.)

التعميم:

34. (فرص العمل - المواصلات - السكان.)

التعميم:

35. ما أسباب تركيز السكان في الجهات التالية:

36. دلتا النيل في مصر.

.....-

37. السهول الساحلية على الخليج العربي.

.....-

38. المدن العربية من مثل : القاهرة.

.....-

ما أسباب قلة السكان في الصحراء الكبرى:

.....-

سادسا: - اجب عن الأسئلة التالية:

لاحظ الشكل المقابل ثم أجب عن الأسئلة التالية:

39. ما أسباب تركيز السكان في:

*- المنطقة (س)

.....

.....

*- المنطقة (ص)

.....

.....

40. ما أسباب قلة السكان في:

*- المنطقة (ع)

.....

.....

*- المنطقة (هـ)

.....

.....

41. ما مقترحاتك للحد من المشكلات السكانية بالوطن العربي ؟

.....

.....

.....

42. احسب الكثافة السكانية لدولة الامارات العربية المتحدة علما بان عدد السكان بالغ في عام 2017 م

(9.300.000 نسمة) والمساحة الكلية (600.83 كم²).

المساحة =

سابعاً:

طبق نموذج اكتشاف المشكلة وتحديد الأسباب والآثار المترتبة عليها من خلال دراسة النص التالي والاجابة عن الأسئلة التي تلية.

تزدت مشكلة الازدحام الساني (ويقصد به ارتفاع عدد السكان في الكيلومتر المربع الواحد) واصحت تمثل عبئاً اقتصادياً واجتماعياً علي حكومات الدول العربية لما لها من نتائج سلبية علي خطط التنمية والاستدامة فبعض الدول العربية بلغت فيها نسب الكثافة السكانية معدلات مرتفعة ، نتيجة لسوء توزيع السكان وارتفاع معدلات النمو السكاني وزيادة اعداد المهاجرين وتركز الخدمات في المدن الرئيسية مما يترتب عليه عدد من المشكلات البيئية مثل التلوث والاحياء العشوائية ونقص الخدمات والازدحام المروري وارتفاع الأسعار.

43. ما المقصود بالازدحام السكاني

44. من خلال النص أكمل المخطط التالي:

المشكلة	السبب	النتيجة	مقترحات الحل
.....
.....
.....

ثامنا: اجب عن الأسئلة التالية:

(اقرأ الشكل المقابل الذي يعبر عن نسبة عدد الذكور إلى عدد

الإناث في الوطن العربي.. ثم أجب عن الأسئلة التالية)



45. الشكل المقابل يوضح تركيب السكان؟

-

46. كم بلغت نسبة الذكور إلى عدد الإناث؟

-

47. س/ لماذا تختلف نسبة النوع في الدول العربية المستقبلية للعمالة

عن باقي الدول العربية؟

-

48. ما المشكلات الاقتصادية الناجمة عن التركيب النوعي والعمري للسكان في الوطن العربي؟

-

-

49. ما أبرز المشكلات السكانية في الوطن العربي؟

-

50. لماذا تعد الزيادة السكانية ظاهرة ايجابية في دولة الإمارات العربية المتحدة؟

-

51. ما المقصود بالبطالة؟

-

52. ما مقترحاتك للحد من النتائج السلبية للبطالة بالدول العربية؟ -

-