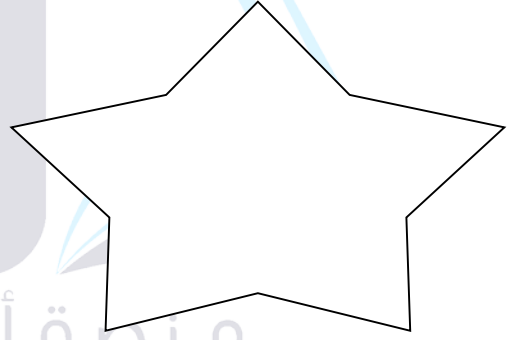


السؤال الأول: اكتب الأعداد المناسبة في المربعات عامودي العد عشرات وألفي العد واحداث:

	325	

السؤال الثاني: اكتب الأعداد الزوجية داخل النجمة والأعداد الفردية داخل القلب:
500 - 144 - 257 - 345



السؤال الثالث: اكتب العدد السابق يا بطل:

	888
--	-----

	245
--	-----

السؤال الرابع: اكتب العدد التالي يا بطل:

444	
-----	--

587	
-----	--

السؤال الخامس: اكتب $>$ أو $<$ أو $=$ في \square :

255 \square 214

385 \square 385

789 \square 879

السؤال السادس: رتب الأعداد الآتية حسب المطلوب:

تصاعدياً (598 - 589 - 412) .

تنازلياً (147 - 587 - 657) .

السؤال السابع: قرب الأعداد الآتية حسب المطلوب:

إلى أقرب عشرة 257 : _____

إلى أقرب مئة 547 : _____

منصة أساس التعليمية

لنفكر معاً (من أنا ؟)



أنا عدد أكبر من 850 مئة، فمن أنا؟

أنا عدد أصغر من 350 بعشرة، فمن أنا؟

أنا العدد التالي للعدد 500، فمن أنا؟

أنا العدد السابق للعدد 700، فمن أنا؟

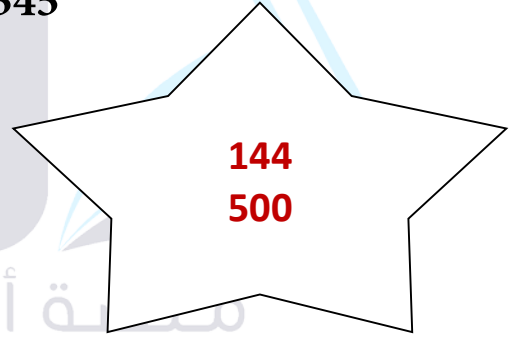
انتهت الأسئلة

الإجابات

السؤال الأول: اكتب الأعداد المناسبة في المربعات عامودي العد عشرات وألفي العد واحدا:

	315	
324	325	326
	335	


السؤال الثاني: اكتب الأعداد الزوجية داخل النجمة والأعداد الفردية داخل القلب:
500 - 144 - 257 - 345



السؤال الثالث: اكتب العدد السابق يا بطل:



السؤال الرابع: اكتب العدد التالي يا بطل:



السؤال الخامس: اكتب > أو < أو = في :

255 > 214

385 = 385

789 < 879

السؤال السادس: رتب الأعداد الآتية حسب المطلوب:

تصاعدياً (412 - 589 - 598). من الصغير إلى الكبير 598 - 589 - 412

تنازلياً (657 - 587 - 147). من الكبير إلى الصغير 657 - 587 - 147

ملاحظة تكتب الأعداد بالترتيب التصاعدي والتنازلي من اليسار

السؤال السابع: قرب الأعداد الآتية حسب المطلوب:

إلى أقرب عشرة 257 : 260

إلى أقرب مئة 547 : 500

لنفكر معاً (من أنا ؟)



950 أنا عدد أكبر من 850 مئة، فمن أنا؟

340 أنا عدد أصغر من 350 بعشرة، فمن أنا؟

501 أنا العدد التالي للعدد 500، فمن أنا؟

699 أنا العدد السابق للعدد 700، فمن أنا؟

معاً نحو التميز