



# أوراق عمل في التربية الاجتماعية والوطنية

للمعلمة إعداد  
للصف الرابع الأساسي

إعداد المعلمة : أسيل أبو الحاج



الوحدة الأولى : المملكة الأردنية الهاشمية : الأرض والسكان

الدرس الأول : موقع وطني

الدرس الثاني : أشكال سطح الأرض في وطني

الدرس الثالث : السكان في وطني

عداد المعلمة : أسيل أبو الحاج



## الدرس الأول : موقع وطني

عزيزي الطالب : أجب عن الأسئلة الآتية وعددها (٣)

السؤال الأول :

املأ الفراغات في العبارات الآتية بما يناسبها

- ١- تتألف المملكة الأردنية الهاشمية من \_\_\_\_\_ محافظة
- ٢- عاصمة المملكة الأردنية الهاشمية هي \_\_\_\_\_
- ٣- أكبر محافظات الأردن مساحةً \_\_\_\_\_ وأصغرها \_\_\_\_\_
- ٤- يمتد الوطن العربي بين قارتي \_\_\_\_\_ و \_\_\_\_\_
- ٥- تتصف حدود الأردن بأنها حدوداً \_\_\_\_\_
- ٦- المنفذ البحري الوحيد للملكة الأردنية الهاشمية \_\_\_\_\_
- ٧- يطل خليج العقبة على البحر \_\_\_\_\_
- ٨- يتميز الأردن بموقع المتوسط بين قارات \_\_\_\_\_ و \_\_\_\_\_
- ٩- يقع الأردن في قارة \_\_\_\_\_
- ١٠- القارتين اللتان يربط بينهما الأردن \_\_\_\_\_ و \_\_\_\_\_




السؤال الثاني :

أكمل الجدول الآتي بما يناسبه :

محافظات الشمال	محافظات الوسط	محافظات الجنوب

السؤال الثالث :

حدّد على الشكل الآتي الدول التي تحد المملكة الأردنية الهاشمية من جهاتها الأربع



## الدرس الثاني : أشكال سطح الأرض في وطني

السؤال الأول : ما هي أشكال سطح الأرض في الأردن ؟

----- ،  
----- ،

السؤال الثاني : صل بخط بين الشكل الأرضي و( مكان انتشاره أو امتداده )

- |                      |                                     |
|----------------------|-------------------------------------|
| أ- المرتفعات الجبلية | يمتد من شمال الأردن إلى البحر الميت |
| ب- الصحراء الأردنية  | جنوب الأردن ( رم )                  |
| ج- السهول            | عجلون ، البلقاء ، الكرك ، الشراة    |
| د- الغور الأردني     | إربد ، مادبا                        |

السؤال الثالث : ضع المصطلح المناسب لكل من المفاهيم التالية

- 1- هي أراضي مرتفعة تشرف عمًا حولها من أشكال سطح الأرض  
\_\_\_\_\_
- 2- هي مناطق تمتاز بقلّة الأمطار والنباتات  
\_\_\_\_\_
- 3- هي أراضي منبسطة يسهل السكن والزراعة فيها  
\_\_\_\_\_

السؤال الرابع : فسر العبارات الآتية

- أ- يعتبر الغور الأردني سلة خضار الأردن  
-----

- ب- يرتاد السياح المناطق الصحراوية في الأردن  
-----

السؤال الخامس : أكمل الفراغ في العبارات الآتية

- 1- أعلى قمة في الأردن هي \_\_\_\_\_ وتقع في \_\_\_\_\_
- 2- أخفض بقعة في العالم هي \_\_\_\_\_
- 3- تعتبر محافظة عجلون منطقة \_\_\_\_\_
- 4- تعتبر محافظة إربد منطقة \_\_\_\_\_

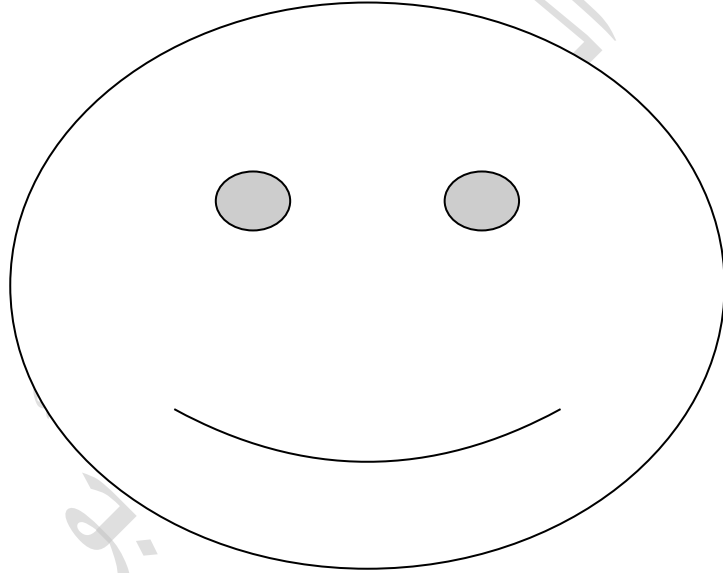
٥- يمتاز مناخ المرتفعات الجبلية في وطني \_\_\_\_\_ ،

\_\_\_\_\_ تمتاز الصحراء الأردنية بـ

٦- يصب نهر الأردن في \_\_\_\_\_

٧- أبرز المحاصيل الزراعية في المناطق السهلية \_\_\_\_\_

٨- أبرز المحاصيل الزراعية في غور الأردن \_\_\_\_\_



## الدرس الثالث : السكان في وطني

كم يبلغ عدد سكان الأردن ؟

أين يعيش أغلب السكان في الأردن ؟

أذكر الفئات العمرية التي تمثل سكان الأردن ؟

إذا كان عمرك عشر سنوات إلى أي فئة عمرية تنتمي ؟

ما هي أنماط معيشة السكان في الأردن ؟

على ماذا يعتمد نمط الحياة في البادية ؟ وبماذا يرتبط ؟

لماذا يتناقص عدد السكان في البادية ؟

فسر : تعتبر المدن مناطق جاذبة للسكان

قارن بين البادية والريف والمدينة من حيث العمل الذي يمارسه سكان كل منها

	البادية
	الريف
	المدينة

ما أهمية الأسرة في المجتمع ؟

أعط أمثلة على القيم الاجتماعية الحسنة . وعلى العادات الاجتماعية

تدين النسبة الأكبر من سكان المملكة الأردنية ب ؟

ما العوامل المشتركة بين المسلمين والمسيحيين في وطني ؟

خريطة المملكة الأردنية الهاشمية

على خريطة الأردن حدد كل من المحافظات الأردنية وما يحدها



الوحدة الثانية : بيتي الكبير ( وطني )

الدرس الأول : وطني بيتي

الدرس الثاني : المحافظة على الموارد في وطني

الدرس الثالث : المحافظة على المياه في وطني

الدرس الرابع : ترشيد استهلاك الطاقة في وطني




## الدرس الأول : وطني بيتي

السؤال الأول : ضع المصطلح المناسب أمام العبارات الآتية

- ١- هو المكان الذي يعيش فيه الفرد مع أسرته والذي تحكمه أنظمة تضعها الأسرة ويلتزم بها الجميع .  
( )
- ٢- هو بيتي الكبير الذي تعيش فيه، والذي ينتمي أبناؤه إلى أسرة الأردن الكبيرة، التي يسعى الجميع إلى الحفاظ على تماسكها وتعاضدها، والإسهام في بناء الوطن والدفاع عنه.  
( )
- ٣- جميع المرافق التي تبنيتها وتشيدها الدولة من أجل المصلحة العامة، مثل المستشفيات والمدارس والجامعات.  
( )

السؤال الثاني : أذكر ٣ من أهم المرافق العامة المتوفرة في منطقتك



السؤال الثالث: ما هي أهم وظائف الأسرة

السؤال الرابع: كيف يمكن أن نحافظ على ممتلكات وطننا الحبيب؟

## الدرس الثاني : المحافظة على الموارد في وطني

السؤال الأول : ضع إشارة  $\surd$  أو  $\times$  أمام كل عبارة من العبارات الآتية

- ١- يطفى محمد المصابيح في غرفته قبل مغادرتها ( )
- ٢- يستخدم شخص سخان الكهرباء دوماً بدلاً من السخان الشمسي لتسخين المياه  
( )
- ٣- اعتاد طفل على تمزيق قصه بعد قراءتها ( )
- ٤- تتبرع أم بالملابس الزائدة عن حاجة أسرتها ( )
- ٥- وضع المخلفات في الحاويات الخاصة بها ليتم تدويرها مجدداً ( )

السؤال الثاني : كيف يمكن الاستفادة من المواد والأدوات المستخدمة ؟

- ١-
- ٢-

السؤال الثالث : اقترح طرقاً لترشيد استخدام الموارد الطبيعية

- ١-
- ٢-

السؤال الرابع : ما المقصود بالتدوير : -----

السؤال الخامس : ما هي فوائد التدوير

- ١-
- ٢-



الدرسین الثالث والرابع : المحافظة على المياه وترشيد استهلاك الطاقة

السؤال الأول : عرف الترشيح :

---

---

السؤال الثاني :

اقترح حلاً للتقليل من هدر المياه

- ١
- ٢

السؤال الثالث :

ما هي طرق ترشيح استهلاك الكهرباء

- ١
- ٢

السؤال الرابع :

ما هي طرق ترشيح الوقود

- ١
- ٢



السؤال الخامس

مميز السلوكيات الصحيحة من السلوكيات الخاطئة :

١- تشارك أسماء في حملة الحفاظ على الماء

- ٢- تغسل والدة مايا الأطباق في وعاء مملوء بالماء
  - ٣- استخدم خالد خرطوم المياه لغسل سيارة والده
  - ٤- لم يخبر سامر عن صنوبر الماء المكسور في ساحة المدرسة
  - ٥- استعمال غسالة الملابس لغسل كمية قليلة من الثياب
  - ٦- إنارة المصابيح في بعض الشوارع نهاراً
  - ٧- استخدام زميلين سيارتهما يومياً في الذهاب إلى المؤسسة التي يعملان فيها
  - ٨- تشغيل سلاالم الكهرباء غير المستخدمة في الأسواق العامة
  - ٩- إنارة أسوار المنزل الخارجية طوال الليل
- السؤال السادس
- علل ما يأتي : ينصح بعدم ري المزروعات وقت الظهيرة .



الوحدة الثالثة : رحلة في وطني

الدرس الأول : المواقع السياحية في وطني

الدرس الثاني : القلاع والقصور الصحراوية



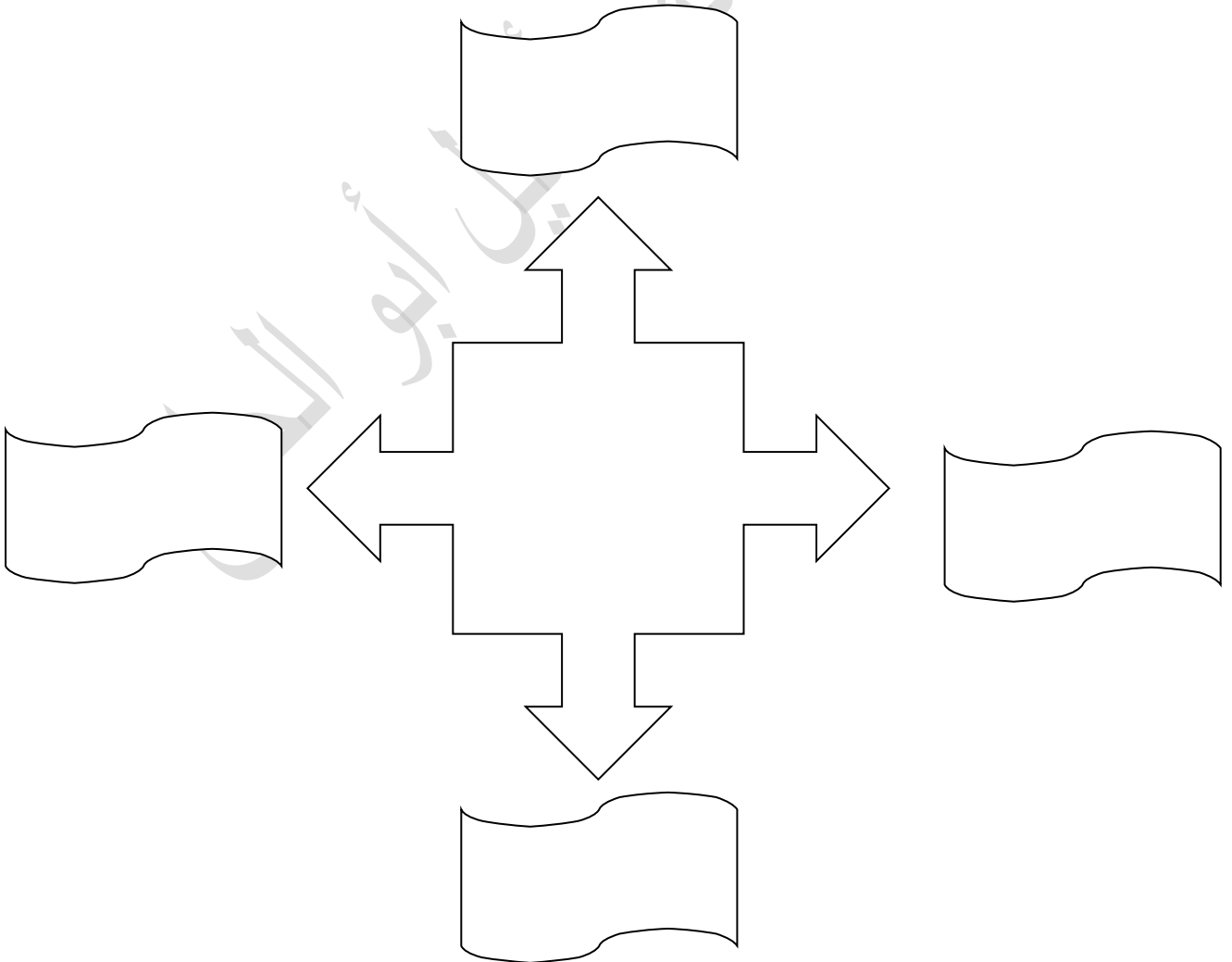
## الدرس الأول : المواقع السياحية في وطني

السؤال الأول : املأ الفراغات في العبارات الآتية .

- ١- المكان المعروف باسم وادي القمر هو -----
- ٢- أخفض بقعة في العالم هي -----
- ٣- تقع مدينة العقبة على ساحل البحر -----
- ٤- من الأنشطة التي يستطيع السائح القيام بها في وادي رم -----
- ٥- يمتاز مناخ العقبة بأنه ----- شتاءً
- ٦- يستطيع الزائر مشاهدة الشعاب المرجانية والأسماك الملونة في -----

السؤال الثاني :

سمِّ ٤ أشهر المواقع السياحية في الأردن



الدرس الثاني : القلاع والقصور الصحراوية

السؤال الأول : سمّ قصران وقلعتان في الأردن

السؤال الثاني : ما سبب بناء القلاع على قمم الجبال

السؤال الثالث : قارن في الجدول الآتي بين قلعة عجلون وقلعة الشوبك وقلعة الكرك من حيث بانيها ، وسبب بناءها.

وجه المقارنة	قلعة الشوبك	قلعة عجلون	قلعة الكرك
الباني			
سبب البناء			

السؤال الثالث : ضع إشارة صح أو خطأ أمام كل عبارة من العبارات الآتية

- ١- كان قصر البرقع قلعة عسكرية يونانية ( )
- ٢- يقع قصر المشتى قرب مطار ماركا ( )
- ٣- بنيت القصور الصحراوية في الأردن على طريق الحج والتجارة الممتد بين بلاد الشام والحجاز ( )
- ٤- الهدف من بناء القصور الصحراوية أن تكون مسكناً للملوك ( )
- ٥- أطلق على قلعة عجلون اسم مونتريال أي الجبل الملوكي ( )