



التاريخ:

الاسم:

الوحدة الأولى: مواطن الكائنات الحية

أي مما يلي يوفرها الموطن للكائن الحي؟		1
الغذاء فقط.	A	
الماء فقط.	B	
الغذاء والماء والمأوى.	C	

أي الخصائص التالية تساعد المها العربي على العيش في موطنه؟		2
زعانف تساعد على الحركة في الماء.	A	
أرجل سوداء تمتص الحرارة لتبقيه دافئاً.	B	
خف عريض يساعده على المشي في الرمال.	C	

لماذا لنباتات الصحراء جذور طويلة؟		3
لتمتص ضوء الشمس.	A	
لتنساقط منها الثلوج بسهولة.	B	
لتصل إلى الماء الموجود عميقاً في الأرض.	C	



التاريخ:

الاسم:

أي مما يلي يعد ضاراً بمواطن الكائنات الحية؟		4
إعادة التدوير	A	
ترشيد الاستهلاك	B	
رمي النفايات في الطريق	C	

أي من النباتات التالية مهددة بالانقراض في دولة قطر؟		5
الموز	A	
النخلة	B	
العوسج	C	

أي من الطرق التالية اتبعتها دولة قطر للمحافظة على مواطن الحيوانات والنباتات؟		6
قطع الأشجار	A	
صيد الحيوانات	B	
إنشاء المحميات	C	



التاريخ:

الاسم:

أي الحيوانات التالية له فراء سميك يحميه من البرد؟		7
الدب القطبي	A	
الصقر	B	
القرود	C	

أي الحيوانات التالية له شفة مشقوقة ليأكل النباتات الشوكية؟		8
الفهد	A	
الجمال	B	
السمكة	C	

أي مما يلي موطن جاف وقليل الأمطار؟		9
الصحراء.	A	
الغابة المطيرة.	B	
المنطقة العشبية.	C	



التاريخ:

الاسم:

ما هي خصائص موطن الغابة؟		10
حار وجاف.	A	
معتدل كثير الأمطار.	B	
بارد وفيه ثلوج.	C	

أي مما يلي يساعد الأسماك على الحركة في الماء؟		11
فراء.	A	
زعانف.	B	
خُف عريض.	C	

ما هو الموطن الذي يكثر به الأمطار، وهو معتدل الحرارة؟		12
الصحراء.	A	
الغابة المطيرة.	B	
المنطقة العشبية.	C	

أين يعيش الفهد؟		13
الصحراء.	A	
الغابة المطيرة.	B	
المنطقة العشبية.	C	



الاسم: التاريخ:

أي من النباتات التالية مهدد بالانقراض في دولة قطر؟		14
شجرة النخيل	A	
نبات الصبار	B	
نبات العوسج	C	

ما خصائص مناخ المنطقة القطبية؟		15
بارد جداً.	A	
كثير الأمطار.	B	
حار وجاف.	C	

أي من التالي يساعد الجمل على العيش في موطنه؟		16
له أنف حساس يساعده على شم الماء من بعد.	A	
له شفاء مشققة تساعده على أكل النباتات الشوكية.	B	
له فراء سميك يتحمل البرودة.	C	



التاريخ:

الاسم:

أي مما يلي يساعد الفهد على التخفي بين الأعشاب؟		17
زعانف.	A	
فراء ملون.	B	
خُف عريض.	C	

ما الذي يساعد الجمل على المشي على الرمال؟		18
السنام.	A	
الخف العريض.	B	
الشفاه المشقوقة.	C	

ما فائدة الفراء السميك للأرنب القطبي؟		19
يوفر له الغذاء.	A	
يحافظ على حرارة جسمه.	B	
يساعده على المشي على الرمال.	C	



التاريخ:

الاسم:

أي مما يلي يميز نبات الصبار؟		20
جذور طويلة.	A	
أوراق صغيرة.	B	
أوراق عبارة عن أشواك.	C	

ما شكل أوراق النخيل؟		21
أوراق لامعة	A	
أوراق منتفخة.	B	
أوراق صغيرة.	C	

كيف يؤذى الانسان الموطن؟		22
رمي النفايات التي تسبب التلوث	A	
إعادة الاستخدام	B	
إعادة التدوير	C	



التاريخ:

الاسم:

ما هو الحيوان المهدد بالانقراض في دولة قطر؟		23
الاطوم	A	
الجمل	B	
الاسد	C	

ماذا فعلت دولة قطر لحماية النباتات والحيوانات؟		24
شجعت على قطع الاشجار	A	
أنشأت المحميات الطبيعية	B	
سمحت بصيد الحيوانات	C	

كيف يحافظ الانسان علي الموطن؟		25
هدر الماء	A	
ترشيد الاستهلاك	B	
رمي النفايات على الطريق	C	











الاسم: التاريخ:




26	أي الحيوانات التالية تعيش في المنطقة القطبية؟
A	البطريق
B	السنجاب
C	الأسد

27	ضع علامة (✓) أمام العبارة الصحيحة وعلامة (×) أمام العبارة الخاطئة.
1-	للأسماك زعانف تساعد على الحركة في الماء. ()
2-	موطن الصحراء بارد جداً وتغطيه الثلوج. ()
3-	يعيش نبات البرتقال في الصحراء. ()
4-	يعيش الدب القطبي في مناخ حار وجاف. ()
5-	الفراء الملون للفهد يساعده على التخفي بين الأعشاب. ()
6-	رمي النفايات في الطريق يضر بمواطن الكائنات الحية. ()
7-	طائر الحبارى من الطيور المهددة بالانقراض في دولة قطر. ()
8-	قامت دولة قطر بإنشاء المحميات للمحافظة على مواطن الكائنات الحية. ()
9-	أنشأت دولة قطر العديد من المحميات كمحمية الريم والذخيرة. ()
10-	يجب علينا صيد الحيوانات للمحافظة عليها من الانقراض. ()

التاريخ:




الاسم:

أصل بخط كل حيوان بموطنه	28
<p>المَوْطِنُ</p>    	<p>الْحَيَوَانُ</p>    

صل كل أرنب بالمناخ الذي يعيش فيه:	29
<p>حار جداً</p> <p>معتدل</p> <p>بارد جداً</p>	  

التاريخ:


الاسم:


		صل العمود (أ) بما يناسبه في العمود (ب) :	29
	(ب)		(أ)
		زعانف لتدفعها في الماء	
		غطاء ملون يساعد على التخفي	
		فراء كثيف وطبقة من الدهن تحت الجلد	
		أوراق شوكية، وساق سميكة لتخزين الماء	

التاريخ:

الاسم:

(30) أنظر إلى الصور ثم أجب على الأسئلة التالية :

(أ)	
<p>ما اسم الموطن؟-----</p> <p>أكتب خاصية تساعد الحيوان للعيش فيه:-----</p> <p>-----</p>	

(ب)	
<p>اسم الموطن:-----</p> <p>أكتب خاصية تساعد الحيوان للعيش فيه:-----</p> <p>-----</p>	



التاريخ:

الاسم:

31 - الأسئلة المقالية أجب عن الأسئلة التالية:

1- اذكر اسم نبات مهدد بالانقراض في دولة قطر؟

.....

2- اذكر اسم حيوان مهدد بالانقراض في دولة قطر؟

.....

3- اذكر طريقتين من طرق المحافظة على الموطن؟

1-

2-

4- ما الذي يساعد الجمل للمشي على الرمال في الصحراء؟

.....

5- ما الذي يساعد نبات الصبار لتحمل الحرارة المرتفعة في الصحراء؟

.....

6- اذكر ثلاث طرق يؤدي بها الانسان الموطن.

1-


2-

3-

التاريخ:

الاسم:

7- أجب عن الأسئلة التالية:



أ. ما اسم الكائن الحي الذي يظهر في الصورة؟

.....

ب. ما اسم الموطن الذي تعيش فيه؟

.....

ج. ما وظيفة الجزء المشار إليه في الصورة؟

.....

8- أجب عن الأسئلة التالية:



أ. ما اسم الكائن الحي الذي يظهر في الصورة؟

.....

ب. ما اسم الموطن الذي يعيش فيه؟

.....

ج. لماذا يعد هذا الكائن الحي مهدد بالانقراض في دولة قطر؟

.....



التاريخ:

الاسم:

9- أذكر خصائص الحيوانات التي تعيش في المنطقة القطبية؟

.....

10 - اذكر اثنان من المحميات الطبيعية في دولة قطر؟

.....

.....

11- اكمل الفراغ:

..... من النباتات المهددة بالانقراض في دولة قطر.

..... من الحيوانات المهددة بالانقراض في دولة قطر.

التاريخ:


الاسم:

12- اذكر اسم كل موطن من المواطن الاتية وصف مناخها.



اسم الموطن

المناخ



اسم الموطن

المناخ



اسم الموطن

المناخ



اسم الموطن

المناخ