

العام الأكاديمي 2020/2021


أسم الطالبة: الصف: أول ١

تدريبات اثرائية لمادة الرياضيات

للصف الأول الابتدائي



أجب عن الأسئلة الآتية :

السؤال 1	
<p>ما عدد الأسماك في الصورة ؟</p> 	
11	A <input type="checkbox"/>
12	B <input type="checkbox"/>
13	C <input type="checkbox"/>

السؤال 2	
<p>قطف فارس 10 زهور و قطفت أخته 2 من الزهور . ما العدد الكلي للزهور ؟</p> 	
10	A <input type="checkbox"/>
11	B <input type="checkbox"/>
12	C <input type="checkbox"/>

السؤال 3

ما العدد الكلي للسيارات ؟




11 A ☐

12 B ☐

13 C ☐

السؤال 4

أي مما يلي يمثل عدد الأرانب ؟




12 A ☐

13 B ☐

14 C ☐

السؤال 5

ما هو عدد الأشياء الموجودة أمامك ؟




15 A ☐

13 B ☐

10 C ☐

السؤال 6

ما هو عدد الأشياء الموجودة أمامك ؟



15 A ☐

13 B ☐

10 C ☐

السؤال 7

أي من الأعداد التالية هو العدد ثمانية عشر ؟

11 A ☐

14 B ☐

18 C ☐

السؤال 8

كم عدد الدجاج الموجود أمامك ؟



13 A ☐

16 B ☐

12 C ☐

السؤال 9

ما هو عدد الأشياء الموجودة أمامك ؟



20 A ☐

17 B ☐

19 C ☐

السؤال 10

ما هو عدد الأشياء الموجودة أمامك ؟



16 A ☐

18 B ☐

20 C ☐

السؤال 11

أي من التالي يمثل عدد الفراشات ؟



20 A ☐

18 B ☐

19 C ☐


السؤال 12

أي مما يلي يمثل عدد الخراف ؟

10 A ☐11 B ☐12 C ☐

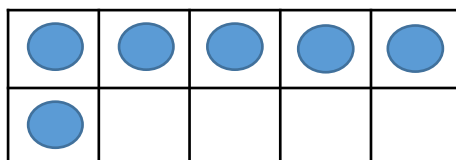
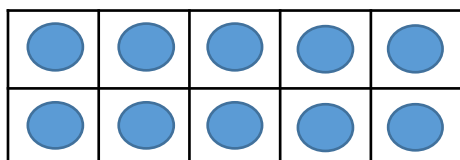
السؤال 13

أي مما يلي يمثل عدد المكعبات ؟

19 A ☐18 B ☐20 C ☐

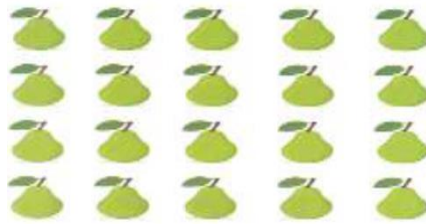
السؤال 14

أي من التالي يمثل عدد قطع العد ؟

20 A ☐16 B ☐19 C ☐

السؤال 15

أي من التالي يمثل عدد حبات الكمثرى ؟



20 A ☐

18 B ☐

19 C ☐

السؤال 16

أي مما يلي يمثل عدد النجوم ؟




11 A ☐

13 B ☐

15 C ☐

السؤال 17

أي مما يلي يمثل عدد المربعات الملونة ؟



12 A ☐

13 B ☐

14 C ☐


السؤال 18

أرسم أربعة عشر قطعة عد في المربع ، ثم اكتب العدد في الفراغ .



السؤال 19

أحط ستة عشر قطعة عد ، ثم اكتب العدد في الفراغ .



السؤال 20

أعد المكعبات في كل مجموعة ، ثم اكتب العدد في الفراغ :



2.




1.

السؤال 21

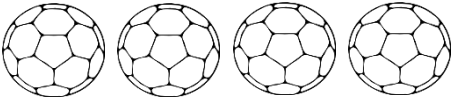
أكتب عدد الأشياء في كل مجموعة .






السؤال 22


أعد الكرات ، ثم ارسم المزيد منها حتى يصبح عددها 11.



السؤال 23

أعد الأشياء التالية ، ثم اكتب العدد .





السؤال 24


أرسم مجموعة من الدوائر تمثل العدد 19 .





19


السؤال 25


أعد الأشياء ، واكتب العدد .











السؤال 26

أجب عن الأسئلة التالية :

(2) لدى محمد 5 ريالات . أعطاه أبوه 6 ريالات إضافية ، كم أصبح عدد الريالات لدى محمد ؟

(1) لدى محمد 14 قلمًا . أعطاه أخوه 1 قلمًا إضافيًا ، كم أصبح عدد الأقلام لدى محمد ؟