


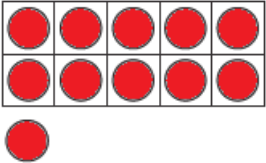
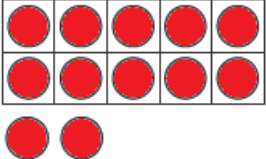
10


التقييم القصير (الرابع)
العام الأكاديمي 2021-2022م
المادة : رياضيات
الصف : الأول الابتدائي

الشعبة:

اسم الطالب:

تعليمات عند الإجابة على الأسئلة من 1 إلى 3 ، ضع علامة X على الإجابة الصحيحة.

السؤال الأول	2/.....
أي مما يلي يمثل العدد 12 ؟	
A	
B	
C	

السؤال الثاني	2/.....
أي مما يلي يمثل عدد السيارات؟	
	
A	14
B	15
C	16

السؤال الثالث	2/.....
أي مما يلي يمثل عدد المكعبات؟	
A	18
B	19
C	20

تعليمات عند الإجابة على الأسئلة 4 و 5، اكتب إجاباتك في المساحات المخصصة لذلك.

السؤال الرابع	2/.....
أجب على ما يلي:	
أ- ارسم مجموعة من الدوائر التي تمثل العدد <u>ثلاثة عشر</u> .	ب - اكتب العدد <u>سبعة عشر</u> .
	الإجابة

السؤال الخامس	2/.....
عدّ تصاعدياً باستعمال خط الأعداد لإيجاد ناتج الجمع .	
$13 + 2 = \underline{\hspace{2cm}}$	

انتهت الأسئلة