

# مدرسة الخور الابتدائية للبنات

الرؤية: الريادة في توفير فرص تعلم دائمة ومبتكرة وذات جودة عالية للمجتمع


العام الأكاديمي 2022/2021

## تدريبات إثرائية للوحدة الأولى للصف الأول في مادة الرياضيات

### 1- الأسئلة الموضوعية:-

اختر الاجابة الصحيحة بوضع علامة x في المربع :

|   |   |   |
|---|---|---|
| 1 | كم عدد الأرانب في الصورة؟   |   |
|   |  |   |
| 6 | <input type="checkbox"/>  | A |
| 7 | <input type="checkbox"/>  | B |
| 8 | <input type="checkbox"/>  | C |

|    |  |   |
|----|--|---|
| 2  | ما العدد الكلي للطيور في الصورة ؟  |   |
|    |  |   |
| 8  | <input type="checkbox"/>   | A |
| 9  | <input type="checkbox"/>   | B |
| 10 | <input type="checkbox"/>   | C |

رسالتنا :

"تنظيم ودعم فرص تعلم ذات جودة عالية لكافة المراحل والمستويات، وذلك بهدف تنمية المعارف والمهارات والاتجاهات اللازمة لأفراد المجتمع القطري، بما يناسب إمكاناتهم وقدراتهم وفق القيم والاحتياجات الوطنية."

3

أي مما يلي يمثل العدد 5 ؟



A



B



C

4

أي مما يلي يمثل الترتيب الصحيح للأعداد؟

الثاني، الثالث، الخامس، السابع

A

الأول، الثاني، الثالث، الرابع




B


الرابع، السابع، الخامس، الثاني

C

رسالتنا :




"تنظيم ودعم فرص تعلم ذات جودة عالية لكافة المراحل والمستويات، وذلك بهدف تنمية المعارف والمهارات والاتجاهات اللازمة لأفراد المجتمع القطري، بما يناسب إمكاناتهم وقدراتهم وفق القيم والاحتياجات الوطنية."


|   |   |
|---|---|
| 5 | أي شكل مما يلي يمثل الكرة بين الصندوقين ؟   |
| A |  |
| B |  |
| C |  |

|   |   |
|---|---|
| 6 | ما ترتيب الثعبان في الصورة التالية؟   |
|   | <p>الأول</p>  <p>بقرة قرود جمل نمر فيل كنغر زأكون ثعلب خروف ثعبان</p> |
| A | العاشر  |
| B | التاسع  |
| C | الثامن  |

رسالتنا :

"تنظيم ودعم فرص تعلم ذات جودة عالية لكافة المراحل والمستويات، وذلك بهدف تنمية المعارف والمهارات والاتجاهات اللازمة لأفراد المجتمع القطري، بما يناسب إمكاناتهم وقدراتهم وفق القيم والاحتياجات الوطنية."

|   |   |
|---|---|
| 7 | أي مما يلي يمثل العدد 0 ؟   |
| A |  |
| B |  |
| C |  |

|   |   |
|---|---|
| 8 | أي مما يلي لا يمثل طرق تكوين العدد 6  |
| A |  |
| B |   |
| C |   |

رسالتنا :

"تنظيم ودعم فرص تعلم ذات جودة عالية لكافة المراحل والمستويات، وذلك بهدف تنمية المعارف والمهارات والاتجاهات اللازمة لأفراد المجتمع القطري، بما يناسب إمكاناتهم وقدراتهم وفق القيم والاحتياجات الوطنية."

|   |   |
|---|---|
| <div data-bbox="235 346 414 468">8</div> أَي من الأعداد التالية أصغر من العدد الموجود على البطاقة | 9 |
| 5   | A |
| 9   | B |
| 10  | C |

رسالتنا :

"تنظيم ودعم فرص تعلم ذات جودة عالية لكافة المراحل والمستويات، وذلك بهدف تنمية المعارف والمهارات والاتجاهات اللازمة لأفراد المجتمع القطري، بما يناسب إمكاناتهم وقدراتهم وفق القيم والاحتياجات الوطنية."

## الأسئلة المقالية :

### السؤال الأول

أكتب العدد الذي يمثل الصورة ؟



\_\_\_\_\_

-----

\_\_\_\_\_



\_\_\_\_\_

-----

\_\_\_\_\_



\_\_\_\_\_

-----

\_\_\_\_\_



\_\_\_\_\_

-----

\_\_\_\_\_



\_\_\_\_\_

-----

\_\_\_\_\_



\_\_\_\_\_

-----

\_\_\_\_\_

رسالتنا :

"تنظيم ودعم فرص تعلم ذات جودة عالية لكافة المراحل والمستويات، وذلك بهدف تنمية المعارف والمهارات والاتجاهات اللازمة لأفراد المجتمع القطري، بما يناسب إمكاناتهم وقدراتهم وفق القيم والاحتياجات الوطنية."

## السؤال الثاني

ما ترتيب السمكة السوداء؟

.....



## السؤال الثالث

حوط 8 فراشات في الصورة التالية:




رسالتنا :


"تنظيم ودعم فرص تعلم ذات جودة عالية لكافة المراحل والمستويات، وذلك بهدف تنمية المعارف والمهارات والاتجاهات اللازمة لأفراد المجتمع القطري، بما يناسب إمكاناتهم وقدراتهم وفق القيم والاحتياجات الوطنية."

## السؤال الرابع

استكملي رسم الدوائر حتى تصلي للرقم المطلوب بالأسفل



7



5

## السؤال الخامس

اكتب الأعداد بالترتيب من 1 إلى 10

|       |       |       |       |       |
|-------|-------|-------|-------|-------|
| _____ | _____ | _____ | _____ | _____ |
| ----- | ----- | ----- | ----- | ----- |
| _____ | _____ | _____ | _____ | _____ |
| _____ | _____ | _____ | _____ | _____ |
| ----- | ----- | ----- | ----- | ----- |
| _____ | _____ | _____ | _____ | _____ |


رسالتنا :

"تنظيم ودعم فرص تعلم ذات جودة عالية لكافة المراحل والمستويات، وذلك بهدف تنمية المعارف والمهارات والاتجاهات اللازمة لأفراد المجتمع القطري، بما يناسب إمكاناتهم وقدراتهم وفق القيم والاحتياجات الوطنية."



السؤال  
السادس

انظر إلى الصورة وأجب عن الأسئلة



- ضع إشارة x على القارب أمام الصندوق
- حوِّط السيارة التي تقع إلى جهة اليسار
- ضع إشارة x على الدب داخل الصندوق
- حوِّط الدب تحت الطاولة

رسالتنا :

"تنظيم ودعم فرص تعلم ذات جودة عالية لكافة المراحل والمستويات، وذلك بهدف تنمية المعارف والمهارات والاتجاهات اللازمة لأفراد المجتمع القطري، بما يناسب إمكاناتهم وقدراتهم وفق القيم والاحتياجات الوطنية."