



تدريبات دعم وإثراء



1443 هـ & 22-21 م

خطط رفع كفاءة الطلاب

الصف/6-

الاسم/

أولاً : السؤال الأول :

1- اختر الإجابة الصحيحة بوضع علامة × في المربع المقابل لها:-

تعد دولة الجزائر أكبر دول الوطن العربي من حيث :

1

المساحة

عدد السكان

إنتاج البترول

عدد رؤوس الأغنام

يبلغ عدد خطوط الطول 360 و خط الطول الرئيسي :

2

الاستواء

جرينتش

مدار الجدي

مدار السرطان

دائرة العرض الرئيسية التي تقسم الأرض إلى نصفين شمالي وجنوبي :

3

مدار الجدي

خط الاستواء

خط جرينتش

مدار السرطان

يحد الوطن العربي من جهة الشمال :

4

خليج عمان

المحيط الهندي

الصحراء الكبرى

جبال طوروس والبحر المتوسط

يحد الوطن العربي من جهة الشرق :

5

خليج عدن

الخليج العربي

المحيط الأطلنطي

الصحراء الكبرى

يربط بين البحر المتوسط والمحيط الأطلنطي مضيق :

6

هرمز

البسفور

باب المندب

جبل طارق

يربط بين الخليج العربي وبحر عمان مضيق:

7

هرمز

البسفور

باب المندب

جبل طارق

يربط بين خليج عدن والبحر الأحمر مضيق :

8

برنج

هرمز

جبل طارق

باب المندب

يبلغ عدد النطاقات الزمنية في العالم :

9

24

90

180

360

يوجد فارق زمني بين كل خطي طول

10

دقيقة

4 دقائق

24 دقيقة

60 دقيقة

المحيط الأطلنطي يحد الوطن العربي من جهة :

11

الشمال

الجنوب

الشرق

الغرب

من السهول الساحلية في الوطن العربي :

12

نهر النيل

جوبا وشبيلي

دجلة والفرات

الخليج العربي

الهضبة التي تقع بين جبال أطلس :

13

نجد

الشطوط

حضر موت

بادية الشام

من مظاهر حضارة تاريخ دولة قطر استقرار الإنسان في قطر منذ العصر :

14

النحاسي

الساساني

البرونزي

الحجري الحديث

من مظاهر حضارة تاريخ دولة قطر براعة أهل قطر قديماً في حرفة :

15

الزراعة

الرعي

صناعة السجاد

الغوص على اللؤلؤ

تم بناء قلعة مروب في العصر

16

العبيدي

العباسي

البرونزي

الحجري الحديث

في عام 2016 م تم إنشاء :

17

وزارة الصحة

مكتبة قطر الوطنية

وزارة الثقافة والرياضة

الحي الثقافي (كتارا)

في عام 2018 تم افتتاح :

18

وزارة الصحة

مكتبة قطر الوطنية

وزارة الثقافة والرياضة

الحي الثقافي (كتارا)

من المؤسسات الثقافية في دولة قطر :

19

الحي الثقافي كتارا

مكتبة قطر الوطنية

وزارة الثقافة والرياضة

جميع ما سبق صحيح

من عوامل قيام الحضارات في منطقة الخليج العربي قديماً :

20

الموقع الجغرافي

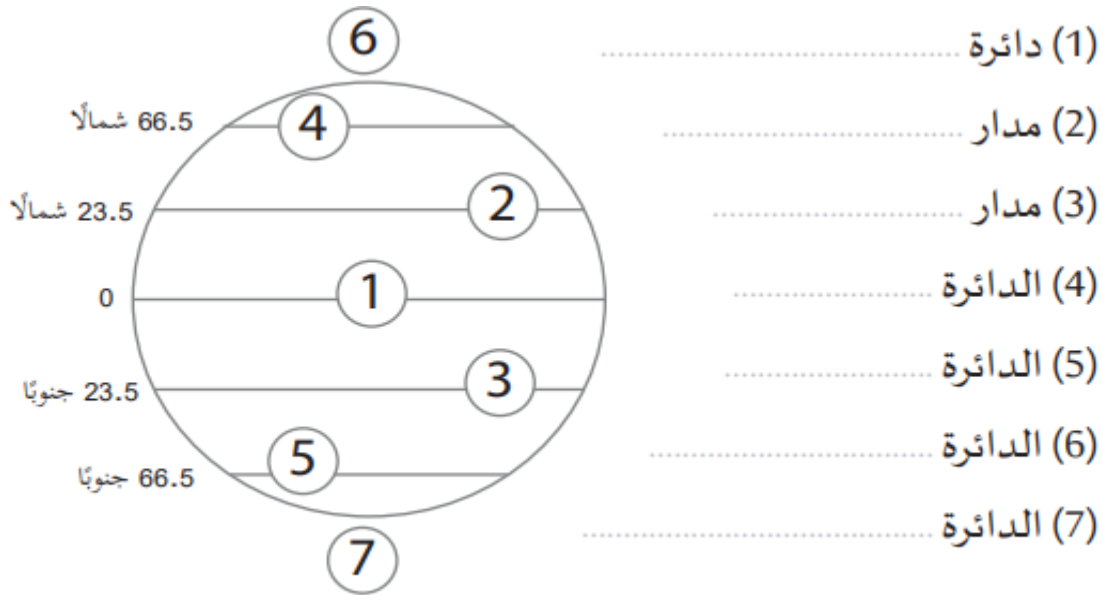
وفرة المياه العذبة

وفرة الموارد الطبيعية

جميع ما سبق صحيح

السؤال الثانى : أجب عن الأسئلة الآتية :

1- اكتب مدلول الأرقام الآتية



2- حول الخطوط التالية إلى دقائق .

1- 15 خط طول = دقيقة

2- 30 خط طول = دقيقة

2- 45 خط طول = دقيقة

3- تقع مدينة القاهرة على خط طول 25 شرقاً والساعة فيها 6 مساءً

كم تكون الساعة في مدينة طهران التي تقع على خط 55 شرقاً ؟

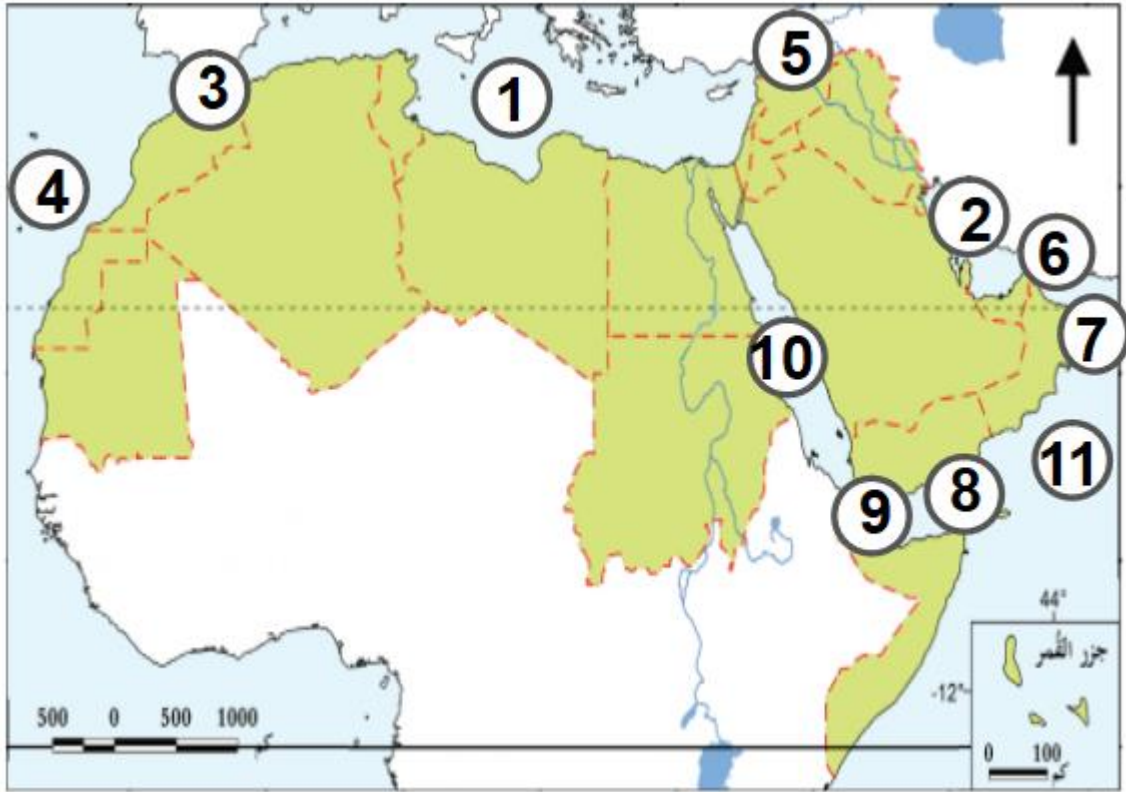
مع كتابة خطوات الحل

..... -1

..... -2

..... -3

4- أكتب ما تشير إليه الأرقام الموجودة على الخريطة التي أمامك .



- 1- البحر
- 2- الخليج
- 3- مضيق
- 4- المحيط
- 5- جبال
- 6- مضيق
- 7- بحر
- 8- خليج
- 9- مضيق
- 10- البحر
- 11- بحر

5- قارن بين أهم الهضاب وأهم الجبال بالجزء الآسيوي بالوطن العربي .

أهم الهضاب في الجزء الآسيوي	أهم الجبال في الجزء الآسيوي
..... -1 -1
..... -2 -2
..... -3 -3
..... -4 -4

6- قارن بين السهول الساحلية والسهول الفيضية في الوطن العربي .

السهول الساحلية في الوطن العربي	السهول الفيضية في الوطن العربي
..... -1 -1
..... -2 -2
..... -3 -3
 -4
 -5

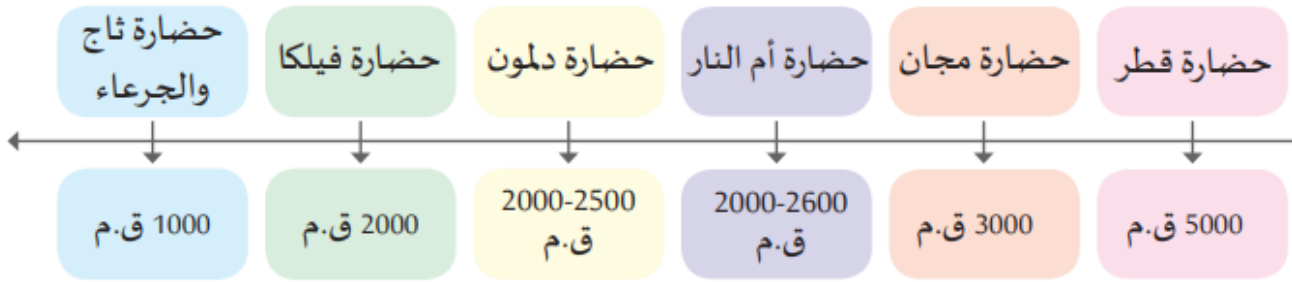
7- قارن بين المواقع الأثرية القديمة والمواقع الأثرية الحديثة في دولة قطر .

المواقع الأثرية الحديثة	المواقع الأثرية القديمة
.....1 -1
..... -7 -4
..... -8 -5
..... -9 -6

السؤال الثالث (أ) : أكمل الجمل الآتية بكلمات مناسبة :

- 1- يبلغ عدد خطوط الطول بينما عدد دوائر العرض
- 2- خط الطول الرئيسي بينما خط العرض الرئيسي
- 3- أكبر دول الوطن العربي مساحة بينما أصغرها
- 4- من السهول الساحلية في الوطن العربي سهول الخليج وسهول
- التي تطل على البحر الأحمر وسهول البحر وسهول البحر
- 5- من الأهمية الاستراتيجية لموقع الوطن العربي أنه مهد
- 6- من الأهمية الاستراتيجية لموقع الوطن العربي تنوع بسبب اتساع أراضيه
- 7- من الأهمية الاستراتيجية لموقع الوطن العربي تحكمه في
- 8- يمتد الوطن العربي في قارتي و
- 9- حضارة مجان تشغل مكانها حالياً دولة بينما حضارة فيلكا دولة
- 10- من عوامل قيام حضارات منطقة الخليج ووفرة العذبة
ووفرة الطبيعية
- 11- من مظاهر حضارة تاريخ دولة قطر بداية استقرار الإنسان في العصر
كما برع أهل قطر في حرفة
- 12- تم بناء قلعة مروب في العصر
- 13- تم إنشاء وزارة الثقافة والرياضة عام وتم إنشاء مكتبة قطر الوطنية عام
- 14- من المؤسسات الثقافية في دولة قطر وزارة ومكتبة
والحي
- 15- يحد المحيط الوطن العربي من جهة الغرب كما يحده من جهة الشرق
الخليج وبحر

السؤال الثالث (ب) من خلال ملاحظتك للخط الزمني الذي أمامك أكمل العبارات التالية .



- 1- تبدأ حضارة قطر سنة.....ق.م بينما حضارة مجان سنةق.م
- 2- تبدأ حضارة أم النار ق م وحتى سنة ق.م
- 3- تبدأ حضارة دلمون سنةق.م حتى سنةق.م
- 4- تبدأ حضارة فيلكا سنة.....ق.م وحضارة ثاج والجرعاء سنةق.م

السؤال الرابع (أ) 1- قارن بين السهول الفيضية والسهول الساحلية حسب الجدول الآتي .

وجه المقارنة	السهول الفيضية	السهول الساحلية
<u>المفهوم</u>
<u>مثال</u>

السؤال الرابع (أ) 2- قارن بين مناخ الوطن العربي صيفاً وشتاءً حسب الجدول الآتي .

وجه المقارنة	مناخ الوطن العربي صيفاً	مناخ الوطن العربي شتاءً
درجة الحرارة
الأمطار

السؤال الرابع (ب) : اكتب ما تدل عليه كل عبارة مما يأتي .

- 1- حضارة تشغل مكانها دولة سلطنة عمان
.....
- 2- حضارة تشغل مكانها حالياً دولة الكويت
.....
- 3- حضارة تشغل مكانها حالياً دولة البحرين
.....
- 4- الموقع الجغرافي الهام ووفرة المياه العذبة ووفرة الموارد الطبيعية
.....
- 5- حضارة أطلق عليها السومريون أرض الفردوس
.....
- 6- قلعة الوجبة وقلعة الكوت وقلعة الزبارة وبرجا برزان
.....
- 7- مؤسسة ثقافية قطرية تم افتتاحها عام 2018 م
.....
- 8- مضيق يربط بين الخليج العربي وبحر عمان
.....
- 9- مضيق يربط بين البحر المتوسط والمحيط الأطلسي
.....
- 10- بحر يحد الوطن العربي من جهة الشمال
.....

11- خليج يحد الوطن العربي من جهة الشرق

.....

12- خط الطول الرئيسي

.....

13- أكبر دول الوطن العربي من حيث المساحة

.....

14- هضبة تقع وسط شبه الجزيرة العربية

.....

15- محطات لتحلية المياه في دولة قطر

.....

16- رياح تسبب سقوط الأمطار صيفاً على جنوب الوطن العربي في السودان واليمن

.....

17- رياح تسبب سقوط الأمطار شتاءً على شمال الوطن العربي في بلاد المغرب والشام

.....

18- محطة لتحلية المياه في الكويت

.....

19- محطة لتحلية المياه في سلطنة عمان

.....

20 – القارات التي يمتد فيها الوطن العربي

.....

21 – أقدم حضارات منطقة الخليج العربي وتبدأ عام 5000 ق.م

.....

22- حضارة من حضارات منطقة الخليج العربي تبدأ في العام 3000 ق.م

.....