



## مدرسة المنارة الخاصة / 1 محمد بن زايد

الفصل الدراسي: الاول

التاريخ / .....

الصف: الثالث

7- درس : دورات حياة الحيوانات

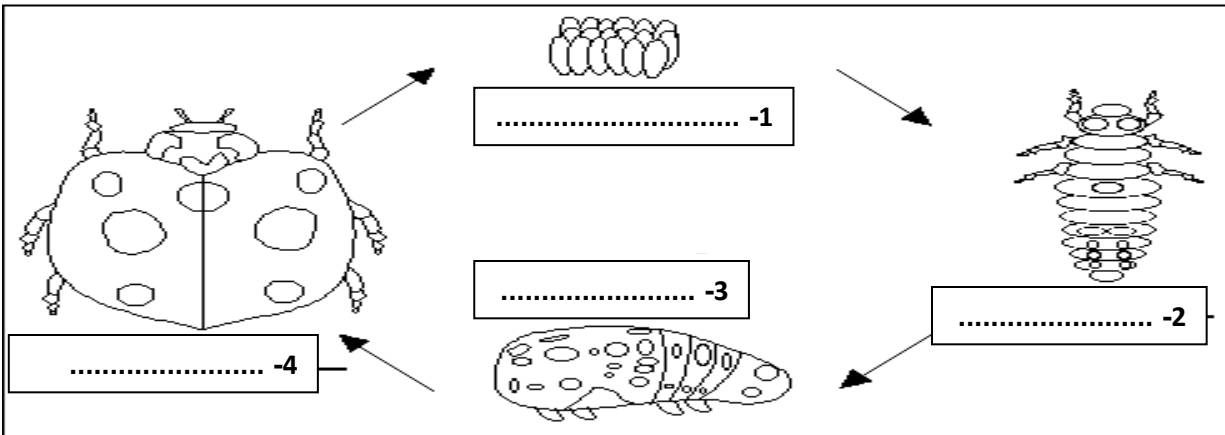
ورقة عمل في مادة: العلوم

اسم الطالب: .....

### 1- ضع علامة ( √ ) أو علامة ( × ) :-

- 1- جميع الحيوانات تولد شبيهة بالأبوين . ( )
- 2- تمر الزواحف بعملية التحول . ( )
- 3- تعتنى معظم البرمائيات والحشرات بصغارها . ( )
- 4- لا تعتنى الزواحف والأسماك بصغارها . ( )
- 5- تولد صغار الثدييات حية . ( )
- 6- تضع الزواحف بيضها في الماء . ( )
- 7- تضع الاسماك بيضها في الماء . ( )
- 8- الشرغوف هو ضفدع كبير . ( )
- 9- تمر الزواحف والاسماك بدورات حياة متشابهة . ( )
- 10- تمر الثدييات بمرحلة التحول . ( )

### 2- اكتب مراحل دورة حياة الدعسوقة :

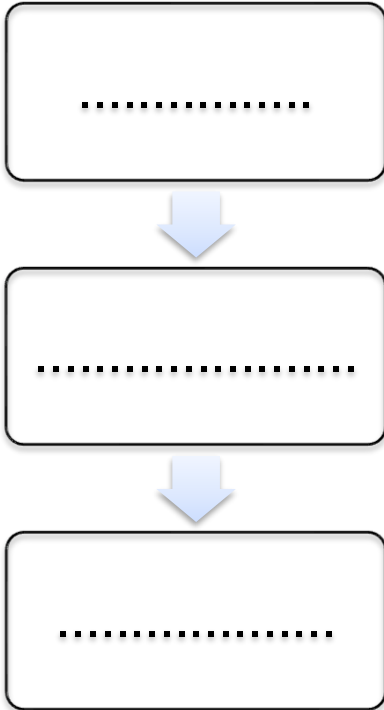


### 3- أكمل الفراغ بالكلمة المناسبة :

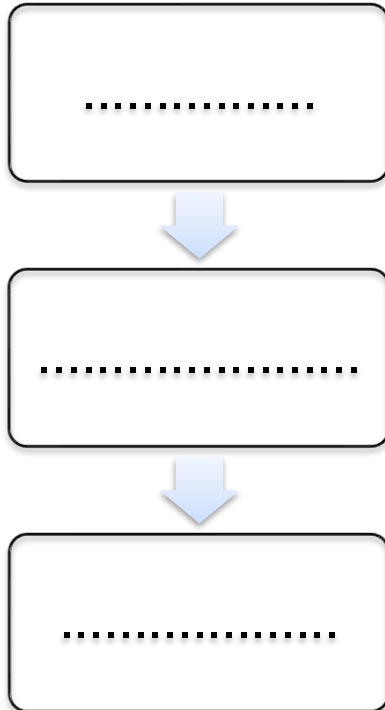
- 1- تضع انثى الضفدع البيض في .....
- 2- تفقس بيضة الدعسوقة ويخرج منها .....
- 3- في دورة حياة الدعسوقة تتحول اليرقة إلى .....
- 4- تتغذى يرقة الدعسوقة على .....
- 5- تبدأ البرمائيات حياتها ك .....
- 6- يعيش الشرغوف في ..... ويتنفس عن طريق .....
- 7- تتحول يرقة الدعسوقة إلى .....
- 8- ..... هو تغير شكل بعض الحيوانات .

### 4- أكمل دورات الحياة الآتية :

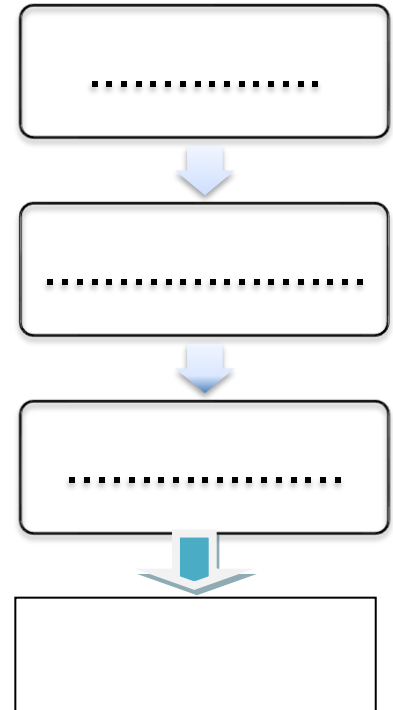
#### دورة حياة السلحفاة البحرية



#### دورة حياة الفهد



#### دورة حياة الضفدع



## 5- اختر الاجابة الصحيحة

1- تعني ..... بصغارها

الزواحف - الاسماك - الطيور

2- دورة حياة الكلب تشبه دورة حياة ..... ( امتحان 2017 )

الفهد - السلحفاة - الدعسوقة

3- حيوان يتنفس عن طريق الخياشيم ..... ( امتحان 2016 )

القرد - الاسماك - النمر

4- ستشبه دورة حياة أفعى الأغوانة إلى حد كبير دورة حياة :

الذبابة - السلحفاة - الدب

## 6- ضع الرقم الصحيح في كل مربع لترتب دورة حياة الضفدع (امتحان 2017)

