



مدرسة المنارة الخاصة - الشامخة

AL-MANARA PRIVATE SCHOOL - SHAMKHA

مُراجَعَةُ دراسات إجتماعية للصف الثاني  
( العام الدِّراسي ٢٠٢٠-٢٠١٩ )  
الفصل الدراسي الأول



عام الاستعداد للخمسين

مُعَلِّم المادة: هالة سلام

اسم الطالب

الصف والشعبة

استكمل البطاقة التعريفية الآتية :

( دائري - اليابسة - الأزرق - الكائنات الحية - الكرة الأرضية )


..... أنا .

..... شكلي : .

..... لون الماء هو اللون : .

..... تعيش على سطحي : .

..... اللون الأخضر هو لون : .



• ضع علامة (صح ) أمام العبارة الصحيحة وعلامة (خطأ) أمام العبارة الخطأ فيما يأتي:

- ١- يرمز اللون الأخضر للماء واللون الأزرق لليابسة. ( )
- ٢- ينتج عن دوران الأرض حول نفسها الليل والنهار. ( )
- ٣- ينتج عن دوران الأرض حول الشمس الفصول الأربعة. ( )
- ٤- الكرة الأرضية كبيرة جدًا وهي تدور ثم تتوقف. ( )
- ٥- كوكب الأرض شكله دائري. ( )
- ٦- في فصل الربيع تتساقط الأوراق. ( )
- ٧- تظهر الشمس في الليل. ( )
- ٨- أذهب إلى المدرسة في النهار. ( )
- ٩- كوكب الأرض يُسمّى بالكوكب الأخضر. ( )
- ١٠- تحدث فصول السنة عندما تدور الأرض حول نفسها. ( )
- ١١- يحدث تعاقب الليل والنهار عندما تدور الأرض حول الشمس. ( )
- ١٢- تدور الأرض حول نفسها كل ٢٤ ساعة. ( )
- ١٣- عدد قارات العالم تسعة. ( )
- ١٤- أستراليا أصغر قارات العالم من حيث المساحة. ( )

- ١٥- تقع دولة الإمارات العربية المتحدة في قارة أوروبا. ( )
- ١٦- قارة أستراليا تحيط بها المياه من جميع الجهات. ( )
- ١٧- الماء العذب هو ماء يحتوي على ملح. ( )
- ١٨- الأنهار من أنواع المياه العذبة. ( )
- ١٩- تُشرف دولة الإمارات العربية المتحدة على الخليج العربي. ( )
- ٢٠- القارة القطبية الجنوبية يعيش عليها الكثير من السكان. ( )
- ٢١- نسبة الماء أكثر من نسبة اليابسة على سطح الأرض. ( )
- ٢٢- تمثل نسبة اليابسة ٧١% من الكرة الأرضية. ( )
- ٢٣- أكبر المحيطات مساحة المحيط الهندي. ( )
- ٢٤- تغطي المياه القسم الأكبر من سطح الأرض. ( )
- ٢٥- نسبة المياه المالحة أكبر من المياه العذبة. ( )
- ٢٦- الجبال أرض مرتفعة لها قمم واضحة. ( )
- ٢٧- السهل الساحلي الغربي لدولة الإمارات يطل على بحر عُمان. ( )
- ٢٨- تجاور دولة الإمارات من الغرب والجنوب المملكة العربية السعودية. ( )
- ٢٩- قارات العالم القديم هي أستراليا وأوروبا وأمريكا الشمالية. ( )
- ٣٠- السهول أرض مرتفعة تمتد بالقرب من البحار. ( )

## من أنا ؟ ( الصحراء / السهول / الجبل / الواحة )

1. أرض مرتفعة لها قمة ويرمز لها باللون البني : \_\_\_\_\_
2. أرض منخفضة مستوية بالقرب من البحار ويرمز لها باللون الأخضر : \_\_\_\_\_
3. كثبان رملية تغطي مساحة كبيرة من بلاد طقسها حار ولونها أصفر : \_\_\_\_\_
4. أرض منخفضة وسط الصحراء فيها المياه والأشجار : \_\_\_\_\_

## من أنا ؟ ( القارة / آسيا / البطريق / إفريقيا )

- ١- أعلى قمة جبلية في العالم . (.....)
- ٢- ثاني قارات العالم من حيث المساحة . (.....)
- ٣- طائر يعيش في القارة القطبية الجنوبية . (.....)
- ٤- تقع دولة الإمارات في قارة . (.....)
- ٥- قطعة كبيرة من اليابس . (.....)

## من أنا ؟

( المحيط / الخليج / المضيق /  
البحار )

1- مسطحات مائية أصغر من المحيطات (.....)

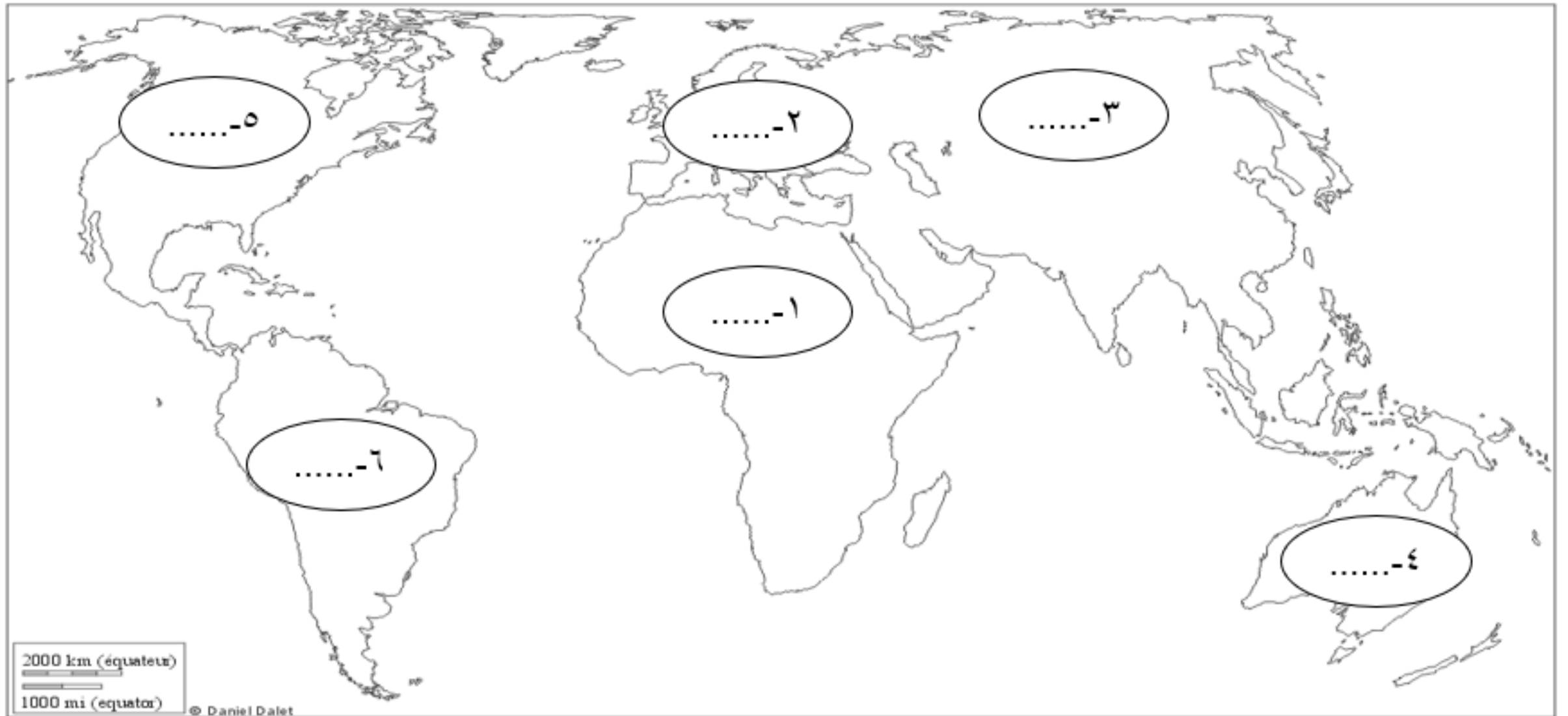
2- فتحات ضيقة تصل بين الخليج و المحيط (.....)

3- مسطحات مائية كبيرة من المياه المالحة (.....)

5- مسطح مائي يحيط به اليابس من ثلاث جهات (.....)

\* اكتب اسماء القارات حسب الأرقام التالية مع تلوين كل من :

\* آسيا ( أحمر ) \* أفريقيا ( أخضر ) \* أمريكا الشمالية ( أزرق ) \* أمريكا الجنوبية ( أصفر ) \* أستراليا ( برتقالي ) \* أوروبا ( الوردي )

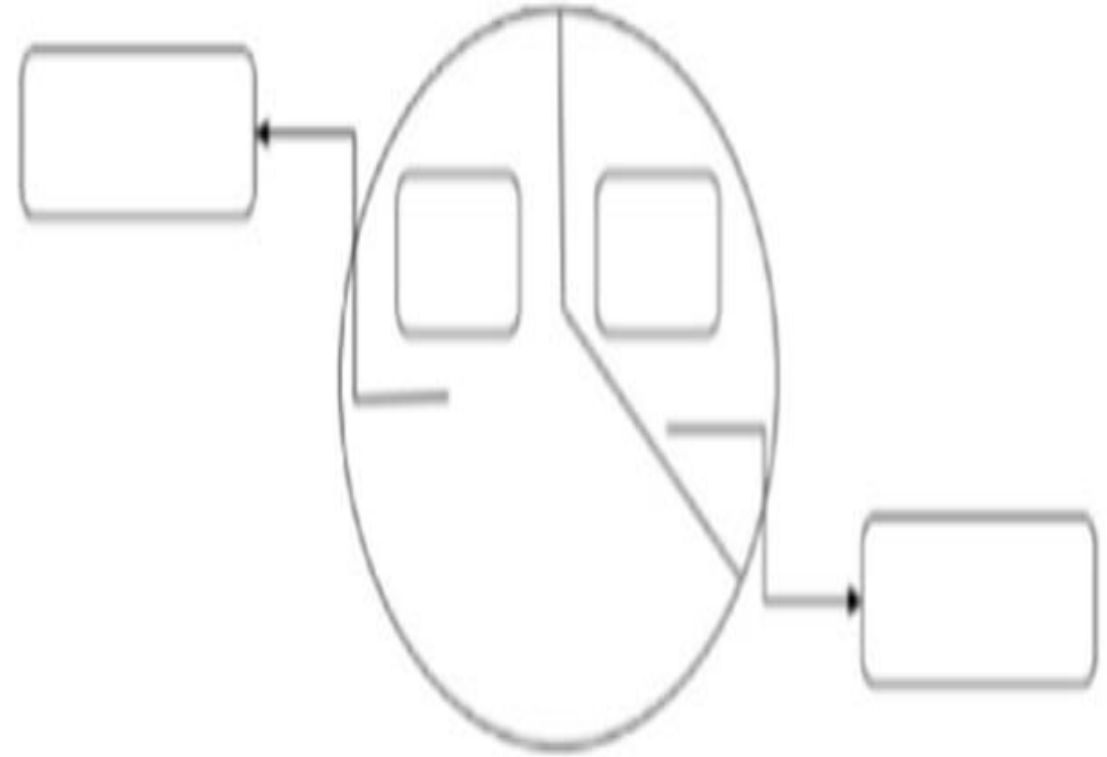


\* اكتب اسماء المحيطات الخمس حسب الأرقام التالية مع تلوين المحيطات باللون الأزرق:



أكمل الشكل الآتي مستعيناً بالكلمات :

اليابسة - 71% - الماء - 29%



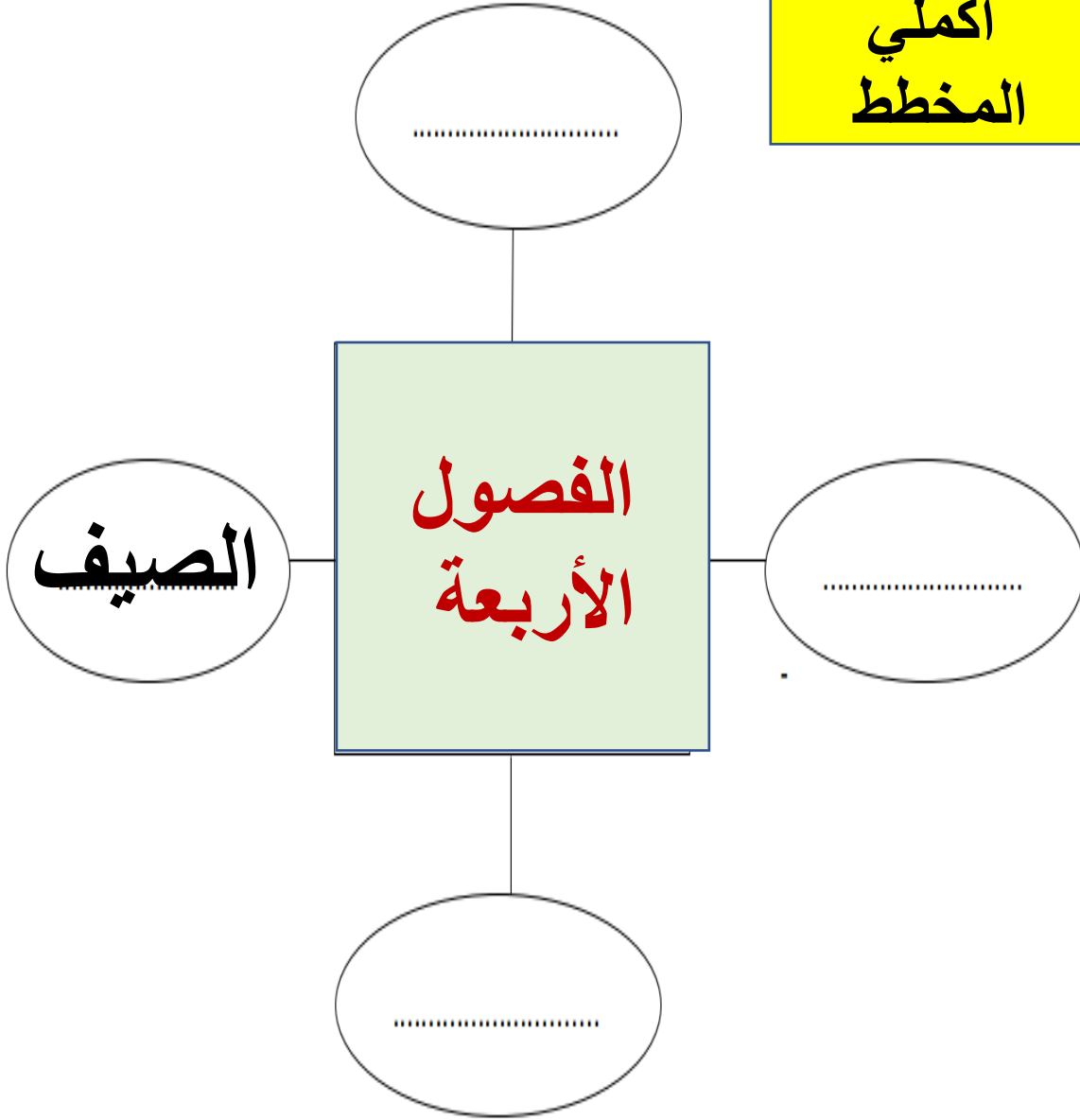
## صنفى الكلمات الآتية بالجدول

٢٤ ساعة / الفصول الأربعة / الليل والنهار /  
سنة كاملة

الحركة اليومية	الحركة السنوية



أكملي  
المخطط



- أكملي الجمل التالية بالكلمات التالية :

★ الصيف      ★ الخريف      ★ الشتاء      ★ الربيع

1- تتساقط أوراق الأشجار في فصل .....

2- ترتفع درجة الحرارة في فصل .....

3- تسقط الأمطار في فصل .....

4- تتفتح الأزهار في فصل .....

صغیرتی المیزة لونی المربع الصحیح باللون الأصفر :

1- نحن نعيش على كوكب	الأرض	عطارد	المريخ
2- يسمى كوكب الأرض بالكوكب	البني	الأحمر	الأزرق
3- شكل الكرة الأرضية	مستطیل	مربع	دائري
4- تقع دولة الإمارات في قارة	آسيا	أفريقيا	أوروبا
5- أكبر القارات هي	أمريكا الشمالية	آسيا	أفريقيا
6- أصغر القارات هي	أستراليا	أوروبا	آسيا
7- القارة المتجمدة هي	آسيا	أفريقيا	القطبية الجنوبية
8- عدد قارات العالم	7	8	9
9- أكبر المحيطات هو	الهندي	الهادي	الأطلسي
10- يجاور دولة الامارات	الخليج العربي	بحر العرب	البحر الأحمر

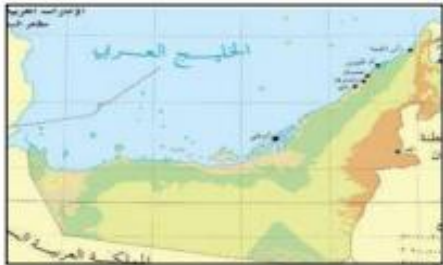
## صلى بين المفهوم والصورة الدالة عليه



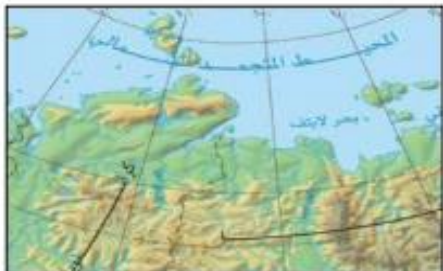
بحر



مضيق



محيط



خليج

\*صنفي يا صغيرتي الكلمات التالية :

( آسيا - الهندي - أفريقيا - أوروبا - الهادي - الأطلنطي )

المحيطات	القارات
1-.....	1-.....
2-.....	2-.....
3-.....	3-.....
4-.....	4-.....

- ضع الكلمة في مكانها المناسب : ( الشمس - النهار - القمر - الفضاء )

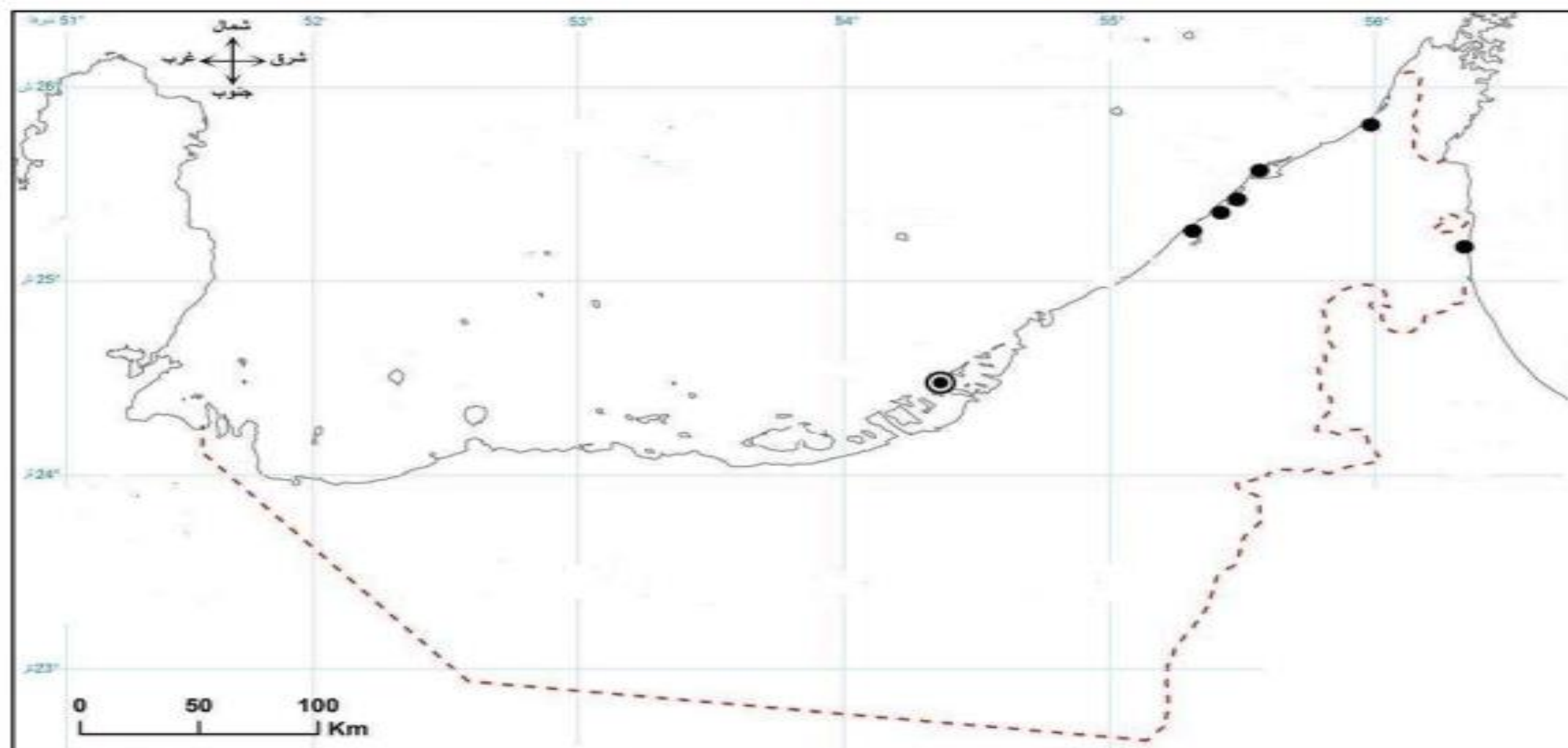
- أنا ..... أشكل المصدر الرئيس للحرارة.

- أنا ..... أثير الأرض ليلاً.

- أبدأ عند طلوع الشمس، فأنا .....

- ..... هو المكان الذي توجد به الأرض والشمس والقمر.

ضع البيانات التالية على الخريطة :



4- الخليج العربي

3- العاصمة أبو ظبي

2- سلطنة عمان

1- السعودية

5- بحر عمان

أختار الإجابة الصحيحة للجمل التالية :

- 1- تقع دولة الإمارات العربية المتحدة في قارة:  
( أفريقيا - آسيا - أوروبا - أستراليا )
- 2- القارة التي تحيط بها المياه من جميع الجهات:  
( - أفريقيا - آسيا - أوروبا - أستراليا )
- 3- القارة الباردة، ولا يوجد فيها سكان هي:  
( أفريقيا - آسيا - أوروبا - القطبية الجنوبية )
- 4- عدد القارات في العالم هو:  
( 4 - 5 - 6 - 7 )
- 5- هي أرض منخفضة مستوية، تمتد بالقرب من البحار.  
( السهول الساحلية - الجبال - الصحراء )
- 6- هي كثبان رملية صفراء اللون تغطي مساحة كبيرة من أرض دولتي الحبيبة  
( السهول الساحلية - الواحة - الصحراء )
- 7- هي أرض مرتفعة، لها قمة واضحة.  
( السهول الساحلية - الجبال - الصحراء )
- 8- أرض منخفضة وسط الصحراء، تتوفر المياه العذبة  
( الصحراء - السهول - الواحة )

ضعي الكلمات التالية في مكانها الصحيح :

الماء العذب - الغلاف المائي - الغلاف الأرضي - المياه المالحة - الموقع الجغرافي  
- العالم القديم - الوطن العربي

القسم الذي تعطيه اليابسة	
القسم الذي تعطيه المياه	
ماء لا يحتوي على ملح.	
تتكوّن من المحيطات والبحار والخلجان والبحيرات المالحة	
(آسيا - أوروبا - أفريقيا)	
هو موقع المكان بالنسبة للمناطق المجاورة له	
هي دولة لغتها العربية و توجد في قارة آسيا و افريقيا	

# صل بين المظاهر التضاريسية والصورة



صحراء

واحة

سهل

جبل

أصل بين الكلمة و الصورة المناسبة :

الواحة

السهل الساحلي

الجبال

الصحراء





# أقارنُ بينَ السَّاحِلِ الشرقي و الغربي في دولة الإمارات العربيّة المتّحدة وفق مُعطيات الجدول التالي :

السَّاحِلُ الغربي	السَّاحِلُ الشرقي	وَجْهُ المُقارَنة
		الطول(طويل - قصير )
		الاتساع (ضيّق - واسع )
الخليج .....	بحر .....	يقع على
عجمان و .....	خورفكان و .....	المدن

# صل بين المعلم والإمارة

أَصِلْ بِخَطِّ بَيْنِ الصُّورَةِ وَالْعِبَارَةِ الْمُنَاسِبَةِ لَهَا لِلتَّعَرُّفِ عَلَى حَاكِمِ كُلِّ إِمَارَةٍ:

رَأْسُ الْخَيْمَةِ

صَاحِبُ السُّمُو:  
السَّيِّدُ خَلِيفَةُ بْنُ زَايِدٍ آلِ نَهْيَانَ  
رَئِيسُ دَوْلَتِنَا الْخَبِيرَةِ - حَفِظَهُ اللَّهُ.



أَبُو ظَبْيٍ

صَاحِبُ السُّمُو:  
السَّيِّدُ مُحَمَّدُ بْنُ رَاشِدٍ آلِ مَكْتُومٍ  
نَائِبُ رَئِيسِ الدَّوْلَةِ رَئِيسُ مَجْلِسِ  
الْوُزَرَاءِ - رَعَاهُ اللَّهُ.



الْمُجَبَّرَةُ

صَاحِبُ السُّمُو:  
السَّيِّدُ سُلْطَانُ بْنُ مُحَمَّدٍ الْقَاسِمِيُّ  
- حَفِظَهُ اللَّهُ.



دُبَيِّ

صَاحِبُ السُّمُو:  
السَّيِّدُ حَمِيدُ بْنُ رَاشِدٍ التَّعِيمِيُّ  
- حَفِظَهُ اللَّهُ.



السَّارِقَةُ

صَاحِبُ السُّمُو:  
السَّيِّدُ سُعُودُ بْنُ رَاشِدٍ الْمُعْلَا  
- حَفِظَهُ اللَّهُ.



عَجْمَانُ

صَاحِبُ السُّمُو:  
السَّيِّدُ حَمْدُ بْنُ مُحَمَّدٍ الشَّرْقِيُّ  
- حَفِظَهُ اللَّهُ.



أُمُّ الْقَيَّوِينِ

صَاحِبُ السُّمُو:  
السَّيِّدُ سُعُودُ بْنُ صَفَرٍ الْقَاسِمِيُّ  
- حَفِظَهُ اللَّهُ.



دبي

أبو ظبي

الشارقة

عجمان

أم القيوين

راس الخيمة

الفجيرة

## \* رتب خطوات قيام اتحاد دولة الإمارات العربية المتحدة:

دبي الثاني - الاتحاد - عرقوب السديرة - دبي الأول



2-اجتماع



1-اجتماع



3-اجتماع



4-اجتماع

أَصْعُ تَحْتَ كُلِّ صَوْرَةٍ فِي الْقَائِمَةِ (أ) رَقَمَ الصَّوْرَةَ الَّتِي تُنَاسِبُهَا فِي الْقَائِمَةِ (ب) لِاتَّعَرَّفَ أَنْوَاعَ الْمَوَادِّ وَالْأَدَوَاتِ الَّتِي اسْتَحْدَمَهَا الْمَرْأَةُ قَدِيمًا فِي دَوْلَةِ الْإِمَارَاتِ الْعَرَبِيَّةِ الْمُتَّحِدَةِ.

(ب)



(أ)



1. الرّجى



2. الكاجوجة



3. الخوص

**السؤال الأول : ضع علامة ( ✓ ) أو علامة ( ✕ ) أمام العبارات الآتية :**

- 1- أعيش في أمن وأمان في ظل الشيخ خليفة بن زايد آل نهيان حفظه الله. ( )
- 2- إمارة عجمان بها أكبر الأسواق سوق الجمعة. ( )
- 3- دبي هي الأكبر مساحة بين مدن دولة الإمارات. ( )
- 4- رأس الخيمة فيها جبل جيس وهو أعلى جبل. ( )
- 5- مسجد البدية أقدم مسجد في الفجيرة. ( )

---

**السؤال الثاني : أكمل الفراغ باسم الإمارة المناسبة :**

- 1- عاصمة الثقافة والفن وتهتم بالعمارة الإسلامية : .....
- 2- أصغر الإمارات مساحة عرفت قديما بصناعة القوارب : .....
- 3- إمارة عرفت بصيد الأسماك وتجارة اللؤلؤ : .....
- 4- ثاني أكبر إمارة وهي المدينة الاقتصادية : .....
- 5- عاصمة دولة الإمارات العربية المتحدة : .....



♦ عبر عن رأيك برسم الشكل ☺ أو الشكل ☹ أمام العبارات الآتية:

6. أحافظ على بطاقة الهوية لأنها وثيقة هامة.

7. أحتفل بالمناسبات الوطنية بمفردي دون مشاركة أحد.

8. أدخر جزءاً من نقودي كل يوم.

تعرف على أسرة فهد وأسرّة عهود، ثم أجب:

أسرة عهود



أسرة فهد



♦ ضع إشارة ( ✓ ) أمام العبارة الصحيحة وإشارة ( × ) أمام العبارة غير الصحيحة:

9. تسمى أسرة فهد، بالأسرة الصغيرة.

10. أتعلم عادات السنع من جدي وجدتي.

11. تهتم أم عهود بترتيب المنزل.

12. خالي هو أخو والدي.

36

لاحظ الأشكال والرموز الآتية، ثم أجب:



♦ ظلل الشكل عند العبارة الصحيحة في كل مما يلي:

1. ☐ تحتفل دولتي الإمارات كل عام بيوم العلم في يوم 3 نوفمبر.

2. ☐ الشيخ خليفة بن زايد آل نهيان - حفظه الله - أول رئيس لدولة الإمارات.

3. ☐ واجبي أن أحمي دولتي وأحافظ على ممتلكاتها.

4. ☐ تجاور المملكة العربية السعودية دولة الإمارات من جهة الجنوب.

5. ☐ اكتب فيما يلي التاريخ الذي تحتفل به دولة الإمارات العربية المتحدة في عيدها الوطني:

أولاً: لاحظ الصور التالية، ثم استكمل العبارات مستعيناً بالكلمات التي بين القوسين:

( الخريف - أفريقيا - الجزيرة - الهواء - الجبل - الطائرة )

- جزء من اليابس تحيط به المياه من جميع الجهات،

أنا .....



1.

- ثاني قارات العالم من حيث السكان والمساحة،

أنا قارة .....



2.

- لا يُمكنك رؤيتي، وتحتاجني الكائنات للتنفّس،

أنا .....



3.

- أرضي مرتفعة ولي قمة واضحة، أنا .....



4.

- أخلق في الفضاء ويستخدمني الناس للسفر،

أنا .....



5.

- تتساقط أوراق الأشجار في فصلي، أنا فصل .....



6.

تابع امتحان نهاية الفصل الدراسي الأول لمادة الدراسات الاجتماعية والتربية الوطنية للصف الثاني للعام الدراسي 2018/2019م

7. ثانياً: صل بين الكلمات الآتية والصورة المناسبة لها:

الماء

الكرة الأرضية

الشمس

القمر



د



ج



ب



أ



\* أختار الكلمة المناسبة من بين القوسين، وأسجلها تحت كل صورة:  
(المستشفيات - المدارس - الجيش - المباني)



إنجازات تعليمية:

إنجازات صحية:



إنجازات عسكرية:

إنجازات عمرانية:



الرعي



الغوص



الزراعة

من صفات الباني المؤسس: ألاحظ الصور الآتية وأستكمل من بين القوسين الصفات المناسبة  
(التواضع – التشاور – يحب شعبه)



\* ألاحظ صور البيئات الآتية وأستكمل من بين القوسين المهنة المناسبة (الرعي، الصيد، الزراعة).



الزراعة





# ضع دائرة على الإجابة الصحيحة

- 1- انتم جميعاً تعيشون على سطحي ، هي :  
A- الأرض      B- المريخ      C- القمر      D- عطار د
- 2 يتكون كوكب الأرض من قسمين الماء م :  
A- اليابس      B- القمر      C- البحر      D- المريخ
- 3 يحيط بكوكب الأرض :  
A- الماء      B- الهواء      C- التراب      D- النباتات
- 4 واحدة من الاتية لا تعتبر من الكائنات الحية :  
A- النبات      B- الحيوان      C- الانسان      D- الجمار
- 5 الكوكب الازرق هو كوكب :  
A- الأرض      B- المريخ      C- القمر      D- عطار د
- 6 أساس الحياة هو :  
A- الماء      B- الهواء      C- الرمل      D- الغاز
- 7 تحتاج له كل الكائنات الحية للتنفس :  
A- الماء      B- الهواء      C- الرمل      D- الغاز
- 8 شكل الكرة الأرضية :  
A- دائرة      B- كروي      C- مربع      D- مستطيل
- 9 عمري 12 سنة تظهر عندي الشمس  
A- الليل      B- النهار      C- اليوم      D- الشهر
- 10 اللون الأخضر والأصفر والبني على نموذج الرض هو لون :  
A- اليابس      B- القمر      C- البحر      D- المريخ

# استكمل الجُمْل الأتية بالكلمات المناسبة

الصيف - أستراليا - العربي - جيس - الكتاتيب

..... أعلى قمة جبلية في بلادي هي قمة جبل .....

..... المكان الذي كان يتعلم فيه الصغار القرآن الكريم .....

..... تُشرف بلادي على الخليج .....

..... أصغر القارات هي .....

## اقرأ الفقرة التالية ، ثم أجب عن الأسئلة

تضم الأرض قارات و محيطات ضخمة ، مثل قارات آسيا و إفريقيا و أستراليا ، و تقع الإمارات في قارة آسيا ، و هي أكبر القارات ، و تُطل دولة الإمارات على الخليج العربي و بحر عُمان .

1 . في أي قارة تقع بلادي الإمارات ؟.....

2 . تُطل الإمارات على الخليج ..... و بحر .....

3 . اذكر اسم قارة أخرى : .....

4 . أكبر القارات هي : .....