

رويتنا : إعدَادُ جِيلٍ مُنْتَمٍ لِدِينِهِ وَوَطَنِهِ مُتَسَلِّحٍ بِالْعِلْمِ وَالْقِيَمِ فِي بِيئَةٍ آمنةٍ وَمُحَفَّزَةٍ

تدريبات إثرائية لمادة الدراسات الاجتماعية الصف السادس (1)

السؤال الأول :- اختر الإجابة الصحيحة بوضع علامة [X] في المربع المقابل لها.

1- يبلغ عدد دوائر العرض على سطح الأرض .

- ☐ أ- 360      ☐ ب- 180      ☐ ج- 100      ☐ د- 90

2- دائرة العرض الرئيسية التي تقسم الكرة الأرضية إلى قسمين شمالي وجنوبي.

- ☐ أ- دائرة الاستواء      ☐ ب- خط جرينتش      ☐ ج- مدار السرطان      ☐ د- مدار الجدي

3- يبلغ عدد خطوط الطول على سطح الأرض .

- ☐ أ- 180      ☐ ب- 360      ☐ ج- 99      ☐ د- 90

السؤال الثاني :- اذكر أهمية خطوط الطول ودوائر العرض.

1- .....

2- .....

3- .....

السؤال الثالث :- عدد أهم الأنهار في الوطن العربي.

1- .....

2- .....

3- .....

رويتنا : إَعْدَادُ جِيلٍ مُنْتَمٍ لِدِينِهِ وَوَطَنِهِ مُتَسَلِّحٍ بِالْعِلْمِ وَالْقِيَمِ فِي بِيئَةٍ آمنةٍ وَمُحَفَّزَةٍ

تدريبات إثرائية لمادة الدراسات الاجتماعية الصف السادس (2)

السؤال الأول :- اختر الإجابة الصحيحة بوضع علامة [X] في المربع المقابل لها.

1- يبلغ عدد خطوط الطول التي تمتد خلال الوطن العربي :

أ- 44 ☐ ب- 55 ☐ ج- 66 ☐ د- 77 ☐

2- يمتد الوطن العربي في قارتي آسياو:

أ- أمريكا الشمالية ☐ ب- أوروبا ☐ ج- إفريقيا ☐ د- أستراليا ☐

3- تبلغ مساحة الوطن العربي:

أ- 11.3 مليون كم2 ☐ ب- 12.3 مليون كم2 ☐ ج- 13.3 مليون كم2 ☐ د- 14.3 مليون كم2 ☐

4 - المسطح المائي الذي يصل مضيق هرمز بالخليج العربي هو.

أ- بحر عمان ☐ ب- بحر العرب ☐ ج- البحر الأحمر ☐ د- البحر المتوسط ☐

السؤال الثاني :- وضح الأهمية الاستراتيجية للموقع الجغرافي للوطن العربي.

1-.....

2-.....

3-.....

السؤال الثالث :- بم تفسر اتجاه دول الوطن العربي لتحلية مياه البحر.

1-.....

2-..... 3-.....

رؤيتنا : إَعْدَادُ جِيلٍ مُنْتَمٍ لِدِينِهِ وَوَطَنِهِ مُتَسَلِّحٍ بِالْعِلْمِ وَالْقِيَمِ فِي بِيئَةٍ آمنةٍ وَمُحَفَّزَةٍ

تدريبات إثرائية لمادة الدراسات الاجتماعية الصف السادس (3)

السؤال الأول :- اختر الإجابة الصحيحة بوضع علامة [X] في المربع المقابل لها.

1- يحد الوطن العربي من جهة الشمال جبال :

☐ أ- زاجروس ☐ ب- طوروس ☐ ج- أطلس ☐ د- كردستان

2- أي من الهضاب التالية تقع في وسط شبه الجزيرة العربية:

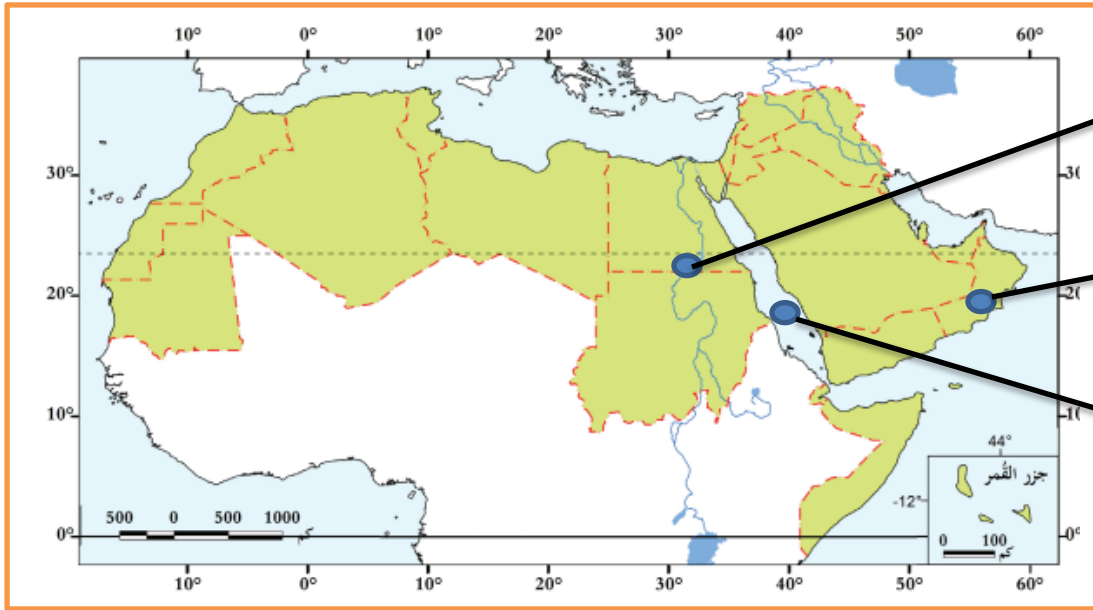
☐ أ- نجد ☐ ب- حضرموت ☐ ج- الشطوط ☐ د- بادية الشام

3- تمتد جبال الحجاز وعسير على طول ساحل :

☐ خليج عمان ☐ الخليج العربي ☐ البحر الأحمر ☐ البحر المتوسط

السؤال الثاني :- أمامك خريطة صماء لدول الوطن العربي اكتب عليها الظواهر الطبيعية المشار إليها

بالأسهم



1- نهر .....

2- سلطنة .....

3- البحر .....

رؤيتنا : إَعْدَادُ جِيلٍ مُتَمِّمٍ لِدِينِهِ وَوَطَنِهِ مُتَسَلِّحٍ بِالْعِلْمِ وَالْقِيَمِ فِي بِيئَةٍ آمِنَةٍ وَمُحَفَّزَةٍ

### تدريبات إثرائية لمادة الدراسات الاجتماعية الصف السادس (4)

السؤال الأول :- اختر الإجابة الصحيحة بوضع علامة [X] في المربع المقابل لها.

1- ترتفع درجة الحرارة صيفاً في وسط وشمال الوطن العربي لتعتمد الشمس على :

- ☐ أ- مدار الجدي ☐ ب- مدار السرطان ☐ ج- خط الاستواء ☐ د- خط غرينتش

2- تسقط الأمطار الشتوية على بلاد المغرب العربي بسبب هبوب الرياح:

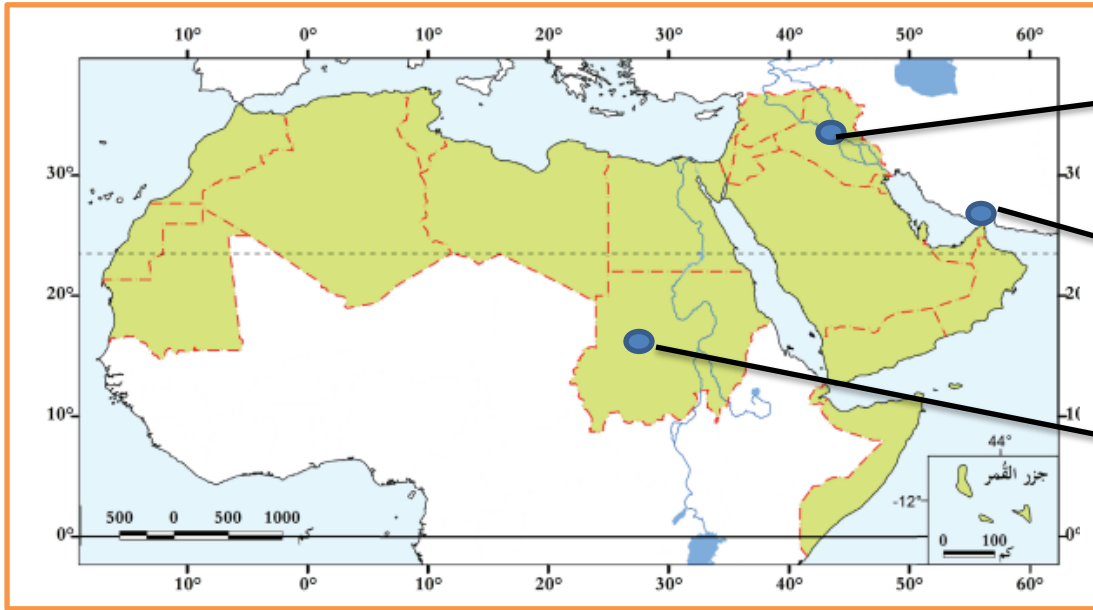
- ☐ أ- الموسمية الممطرة ☐ ب- التجارية الجافة ☐ ج- العكسية الغربية ☐ د- القطبية الشمالية

3- من أهم أنهار الوطن العربي والذي يجري في مصر والسودان نهر :

- ☐ أ- جوبا ☐ ب- النيل ☐ ج- دجلة ☐ د- الفرات

السؤال الثاني :- أمامك خريطة صماء لدول الوطن العربي اكتب عليها الظواهر الطبيعية المشار إليها

بالأسهم



1- نهر.....

2- مضيق.....

3- جمهورية.....

رويتنا : إعداد جيل مُنتمٍ لِدِينِهِ وَوَطَنِهِ مُتسلِّحٍ بِالْعِلْمِ وَالْقِيَمِ فِي بِيئَةٍ آمنةٍ وَمُحَفَّزَةٍ

تدريبات إثرائية لمادة الدراسات الاجتماعية الصف السادس (5)

السؤال الأول :- اختر الإجابة الصحيحة بوضع علامة [X] في المربع المقابل لها.

1- أصغر دول الوطن العربي من حيث المساحة :

- ☐ أ- البحرين ☐ ب- جزر القمر ☐ ج- لبنان ☐ د- جيبوتي

2- أكبر دول الوطن العربي من حيث المساحة:

- ☐ أ- السعودية ☐ ب- السودان ☐ ج- الجزائر ☐ د- ليبيا

السؤال الثاني :- عدد أهم الجبال في الوطن العربي.

1-.....

2-.....

3-.....

السؤال الثالث :- عدد أهم الهضاب في الوطن العربي.

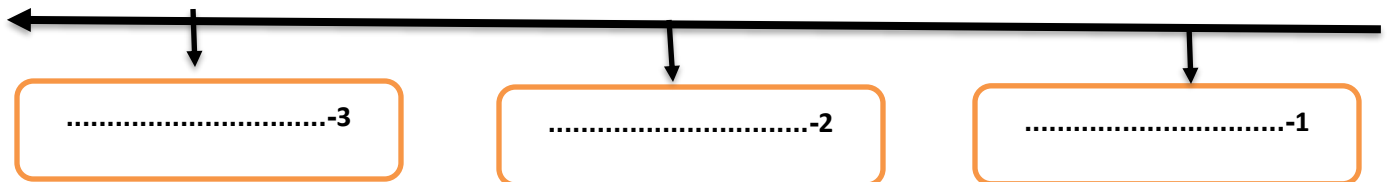
1-.....

2-.....

3-.....

السؤال الرابع :- رتب حضارات الخليج العربي حسب ظهورها من الأقدم الى الأحدث..؟

( حضارة أم النار - حضارة قطر - حضارة مجان )



رويتنا : إعدَادُ جِيلٍ مُنْتَمٍ لِديْنِهِ وَوَطَنِهِ مُتَسَلِّحٍ بِالْعِلْمِ وَالْقِيَمِ فِي بَيْئَةٍ آمنةٍ وَمُحَفَّزَةٍ

تدريبات إثرائية لمادة الدراسات الاجتماعية الصف السادس (6)

السؤال الأول :- اختر الإجابة الصحيحة بوضع علامة [X] في المربع المقابل لها.

1-نشأت حضارة مجان في المنطقة التي تشغل حالياً.

☐ أ- الكويت ☐ ب- البحرين ☐ ج- سلطنة عمان ☐ د- الامارات العربية

2-أطلق السومريون اسم أرض الفردوس على حضارة.

☐ أ- دلمون ☐ ب- مجان ☐ ج- الجرعاء ☐ د- أم النار

3-أقدم حضارات منطقة الخليج العربي هي حضارة.

☐ أ- دلمون ☐ ب- مجان ☐ ج- قطر ☐ د- أم النار

السؤال الثاني :- وضح العوامل التي ساعدت على قيام الحضارات في منطقة الخليج العربي قديماً.

1-.....

2-.....

3-.....

السؤال الثالث :- عدّد موارد المياه في الوطن العربي.

1-.....

2-..... 3-.....

السؤال الرابع :- عدّد أهم المواقع الأثرية الحديثة في دولة قطر.

1-.....

2-..... 3-.....

رؤيتنا : إَعْدَادُ جِيلٍ مُنْتَمٍ لِدِينِهِ وَوَطَنِهِ مُتَسَلِّحٍ بِالْعِلْمِ وَالْقِيَمِ فِي بَيْئَةٍ آمِنَةٍ وَمُحَفَّزَةٍ

### تدريبات إثرائية لمادة الدراسات الاجتماعية الصف السادس (7)

السؤال الأول :- اختر الإجابة الصحيحة بوضع علامة [X] في المربع المقابل لها.

1- يقع بالقرب من أم باب الموقع الأثري :

- ☐ أ- عسيلة ☐ ب- رأس بروق ☐ ج- برجا برزان ☐ د- مدافن تلال الخور

2- يقع على الساحل الشرقي لدولة قطر الموقع الأثري المعروف بـ:

- ☐ أ- لوسيل ☐ ب- مروب ☐ ج- عسيلة ☐ د- رأس بروق

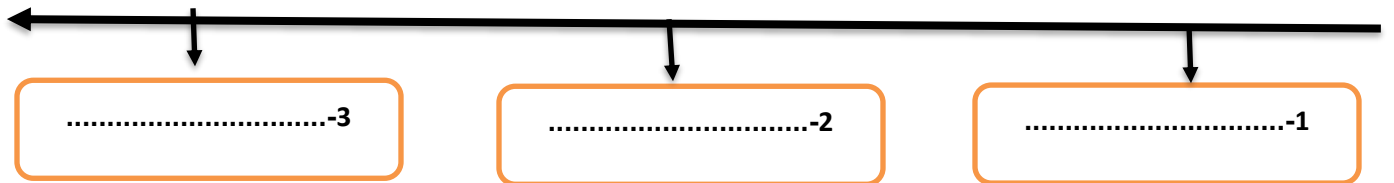
السؤال الثاني :- صنف المواقع الأثرية القديمة والحديثة في دولة قطر في الجدول التالي :

- قلعة الزبارة - مدافن تلال الخور - قلعة الوجبة - موقع عسيلة -  
موقع رأس بروق - برجا برزان

المواقع الأثرية الحديثة	المواقع الأثرية القديمة
1-.....	1-.....
2-.....	2-.....
3-.....	3-.....

السؤال الثالث: رتب العصور الحضارية القديمة التي مرت بها قطر من الأقدم الى الأحدث باستخدام الخط الزمني التالي ؟

( عصر الكاشيين - العصر العبيدي - العصر البرونزي )



رويتنا : إعدَادُ جِيلٍ مُنْتَمٍ لِديْنِهِ وَوَطَنِهِ مُتَسَلِّحٍ بِالْعِلْمِ وَالْقِيَمِ فِي بِيئَةٍ آمنةٍ وَمُحَفَّزَةٍ

تدريبات إثرائية لمادة الدراسات الاجتماعية الصف السادس (8)

السؤال الأول :- اختر الإجابة الصحيحة بوضع علامة [X] في المربع المقابل لها.

1- من قلاع دولة قطر التي تنتمي للعصر العباسي قلعة:

- ☐ أ- الزبارة ☐ ب- مروب ☐ ج- الشقبة ☐ د- الوجبة

2- تأسست وزارة الثقافة والرياضة عام.

- ☐ أ- 2015م ☐ ب- 2016م ☐ ج- 2017م ☐ د- 2018م

3- مؤسسة قطرية أنشئت عام 2018م بهدف نشر المعرفة.

- ☐ أ- وزارة الثقافة ☐ ب- الحي الثقافي ☐ ج- المكتبة الوطنية ☐ د- المسرح الوطني

السؤال الثاني :- عدد أهم المؤسسات الثقافية في دولة قطر.

- 1-.....  
2-.....  
3-.....

السؤال الثالث :- اذكر ثلاث اختصاصات لوزارة الثقافة والرياضة.

- 1-.....  
2-.....  
3-.....

السؤال الرابع :- وضح أهم الخدمات التي تقدمها مكتبة قطر الوطنية.

- 1-.....  
2-.....  
3-.....



رويتنا : إعداد جيل مُنتمٍ لِدِينِهِ وَوَطَنِهِ مُتسلِّحٍ بِالْعِلْمِ وَالْقِيَمِ فِي بِيئَةٍ آمنةٍ وَمُحَفَّزَةٍ

تدريبات إثرائية لمادة الدراسات الاجتماعية الصف السادس (9)

السؤال الأول :- اختر الإجابة الصحيحة بوضع علامة [X] في المربع المقابل لها.

1- أكثر دول الوطن العربي سكاناً:

☐ أ- مصر ☐ ب- تونس ☐ ج- الجزائر ☐ د- السعودية

2- أقل دول الوطن العربي سكاناً:

☐ أ- قطر ☐ ب- تونس ☐ ج- الكويت ☐ د- جزر القمر

3- من العوامل غير الطبيعية المؤثرة في النمو السكاني للوطن العربي.

☐ أ- المواليد ☐ ب- الكثافة ☐ ج- الهجرة ☐ د- الوفيات

4- الخصائص السكانية التي يمكن قياسها مثل العمر والنوع يطلق عليها اسم:

☐ أ- النمو السكاني ☐ ب- التركيب السكاني ☐ ج- التوزيع السكاني ☐ د- الكثافة السكانية

5- تصنيف السكان إلى فئات عمرية يشير التعريف إلى:

☐ أ- التركيب العمري ☐ ب- التركيب النوعي ☐ ج- الهرم السكاني ☐ د- التركيب الاقتصادي

6- تصنيف السكان إلى ذكور وإناث هو.

☐ أ- التركيب العمري ☐ ب- التركيب النوعي ☐ ج- الهرم السكاني ☐ د- التركيب الاقتصادي

السؤال الثاني بم تفسر:- انخفاض معدل الوفيات في الوطن العربي.

1-.....

2-.....

3-.....

رؤيتنا : إَعْدَادُ جِيلٍ مُنْتَمٍ لِدِينِهِ وَوَطَنِهِ مُتَسَلِّحٍ بِالْعِلْمِ وَالْقِيَمِ فِي بِيئَةٍ آمِنَةٍ وَمُحَفَّزَةٍ

تدريبات إثرائية لمادة الدراسات الاجتماعية الصف السادس (10)

السؤال الأول :- اختر الإجابة الصحيحة بوضع علامة [X] في المربع المقابل لها.

1- أقل دول الوطن العربي في الكثافة السكانية:

☐ أ- قطر ☐ ب- ليبيا ☐ ج- فلسطين ☐ د- البحرين

2- الدولة التي لا تُعد ضمن منطقة الهلال الخصيب .

☐ أ- سوريا ☐ ب- العراق ☐ ج- الأردن ☐ د- الكويت

3- من العوامل الطبيعية المؤثرة في توزيع السكان

☐ أ- موارد المياه ☐ ب- النقل والمواصلات ☐ ج- الأحداث السياسية ☐ د- الأنشطة الاقتصادية

السؤال الثاني :- صنف العوامل المؤثرة في توزيع سكان الوطن العربي إلى عوامل طبيعية وبشرية كما في الجدول :

المناخ - الأنشطة الاقتصادية - النقل والمواصلات - الأحداث السياسية -  
التضاريس - موارد المياه

العوامل الطبيعية	العوامل البشرية
1-.....	1-.....
2-.....	2-.....
3-.....	3-.....

رؤيتنا : إعدَادُ جِيلٍ مُنْتَمٍ لِدِينِهِ وَوَطَنِهِ مُتَسَلِّحٍ بِالْعِلْمِ وَالْقِيَمِ فِي بَيْئَةٍ آمنةٍ وَمُحَفَّزَةٍ

تدريبات إثرائية لمادة الدراسات الاجتماعية الصف السادس (11)

السؤال الأول :- اختر الإجابة الصحيحة بوضع علامة [X] في المربع المقابل لها.

1- تبلغ نسبة سكان منطقة شبه الجزيرة العربية من جملة سكان الوطن العربي نحو:

☐ أ- 10% ☐ ب- 20% ☐ ج- 30% ☐ د- 40%

السؤال الثاني:- عدد العوامل الطبيعية المؤثرة في توزيع السكان.

1-.....

2-.....

3-.....

السؤال الثالث:- عدد العوامل البشرية المؤثرة في توزيع السكان.

1-.....

2-.....

3-.....

السؤال الرابع :- بم تفسر:- تركيز السكان في منطقة وادي النيل والحوض الإفريقي .

1-.....

2-.....

السؤال الخامس :- بم تفسر:- تركيز السكان في عواصم ومدن منطقة شبه الجزيرة العربية .

1-.....

2-.....

رويتنا : إعداد جيل مُنتَمٍ لِدِينِهِ وَوَطَنِهِ مُتَسَلِّحٍ بِالْعِلْمِ وَالْقِيَمِ فِي بِيئَةٍ أَمْنَةٍ وَمُحَفَّزَةٍ

تدريبات إثرائية لمادة الدراسات الاجتماعية الصف السادس (12)

السؤال الأول :- اختر الإجابة الصحيحة بوضع علامة [X] في المربع المقابل لها.

1- من خلفاء الدولة الأموية وأول من قام بتنظيم الصوائف والشواتي:

☐ أ- عمر بن عبد العزيز ☐ ب- معاوية بن أبي سفيان

☐ ج- عبد الملك بن مروان ☐ د- الوليد بن عبد الملك

2- بنى الوليد بن عبد الملك المسجد .

☐ أ- النبوي ☐ ب- الأموي ☐ ج- الأقصى ☐ د- قبة الصخرة

3- بنى عبد الملك بن مروان المسجد .

☐ أ- الأموي ☐ ب- النبوي ☐ ج- الأقصى ☐ د- قبة الصخرة

السؤال الثاني:- عدّد أعمال الخليفة معاوية بن أبي سفيان.

1-.....

2-.....

3-.....

السؤال الثالث:- عدّد أعمال الخليفة عبد الملك بن مروان..

1-.....

2-.....

3-.....

رويتنا : إَعْدَادُ جِيلٍ مُنْتَمٍ لِدِينِهِ وَوَطَنِهِ مُتَسَلِّحٍ بِالْعِلْمِ وَالْقِيَمِ فِي بَيْئَةٍ أَمْنَةٍ وَمُحَفَّزَةٍ

### تدريبات إثرائية لمادة الدراسات الاجتماعية الصف السادس (13)

السؤال الأول :- اختر الإجابة الصحيحة بوضع علامة [X] في المربع المقابل لها.

1- اهتم بنشر العدل بين الناس وعمل على رد المظالم إلى أهلها:

☐ أ- معاوية بن أبي سفيان ☐ ب- عمر بن عبد العزيز

☐ ج- عبد الملك بن مروان ☐ د- الوليد بن عبد الملك

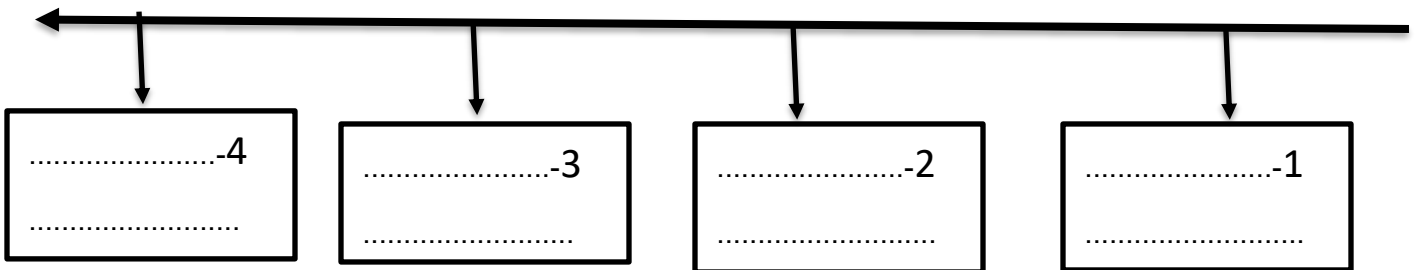
2- من أهم إنجازات عبد الملك بن مروان:

☐ أ- سك العملة الإسلامية ☐ ب- بناء مدينة دمشق

☐ ج- استحدث نظام ولاية العهد ☐ د- تدوين الحديث النبوي

السؤال الثاني:- رتب خلفاء الدولة الأموية على الخط الزمني من الأقدم إلى الأحدث.

( عبد الملك بن مروان - عمر بن عبد العزيز - معاوية بن أبي سفيان - الوليد بن عبد الملك )



السؤال الثالث:- اذكر عوامل ضعف الدولة الأموية وسقوطها..

1-.....

2-.....

3-.....

رويتنا : إَعْدَادُ جِيلٍ مُنْتَمٍ لِدِينِهِ وَوَطَنِهِ مُتَسَلِّحٍ بِالْعِلْمِ وَالْقِيَمِ فِي بَيْئَةٍ آمِنَةٍ وَمُحَفَّزَةٍ

### تدريبات إثرائية لمادة الدراسات الاجتماعية الصف السادس (14)

السؤال الأول :- اختر الإجابة الصحيحة بوضع علامة [X] في المربع المقابل لها.

1- بلغت الدولة الأموية أقصى اتساع لها في عهد:

- ☐ أ- النبي ﷺ ☐ ب- الأمويين ☐ ج- العباسيين ☐ د- الخلفاء الراشدين

2- أيّ البلاد الآتية فُتحت في عهد معاوية بن أبي سفيان .

- ☐ أ- السند ☐ ب- الأندلس ☐ ج- شمال إفريقيا ☐ د- ما وراء النهر

3- فُتحت بلاد المغرب الأقصى في عهد الخليفة:

- ☐ أ- معاوية بن أبي سفيان ☐ ب- عمر بن عبد العزيز

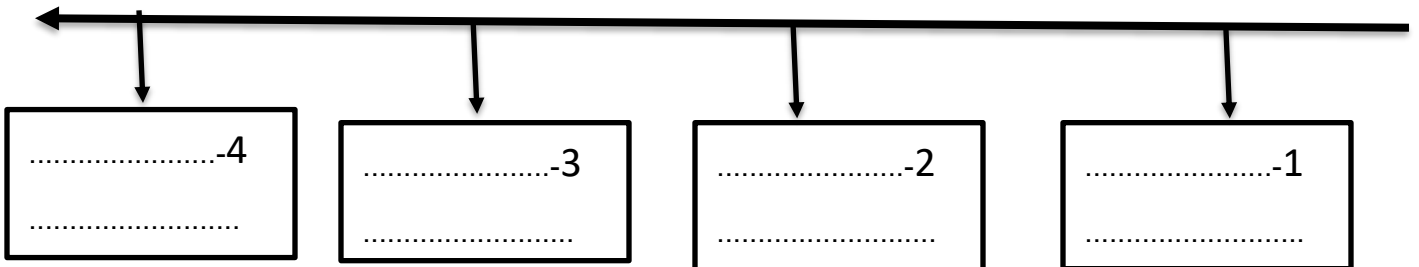
- ☐ ج- عبد الملك بن مروان ☐ د- الوليد بن عبد الملك

4- تمكن طارق بن زياد من فتح بلاد .

- ☐ أ- مصر ☐ ب- الأندلس ☐ ج- العراق ☐ د- بلاد الشام

السؤال الثاني:- رتب الفتوحات الآتية على الخط الزمني من الأقدم إلى الأحدث.

( فتح بلاد الأندلس - معركة الزاب الكبير - فتح جزيرة رودس - فتح شمال إفريقيا )



رويتنا : إعداد جيلٍ مُتمِّمٍ لِدِينِهِ وَوَطَنِهِ مُتَسَلِّحٍ بِالْعِلْمِ وَالْقِيَمِ فِي بَيْئَةٍ آمِنَةٍ وَمُحَفَّزَةٍ

تدريبات إثرائية لمادة الدراسات الاجتماعية الصف السادس (15)

السؤال الأول :- اختر الإجابة الصحيحة بوضع علامة [X] في المربع المقابل لها.

1- قُتِلَ مروان بن محمد آخر خلفاء بني أمية في .

☐ أ- العراق      ☐ ب- بلاد الشام      ☐ ج- مصر      ☐ د- الاندلس

السؤال الثاني :- عدد نتائج الفتوحات الإسلامية في العهد الأموي.

1-.....

2-.....

3-.....

السؤال الثالث :- انسب الأعمال الآتية إلى خلفاء الدولة الأموية في الجدول الآتي

( بنى مسجد قبة الصخرة - أسقط الجزية عمَّن أسلم - أسس الدولة الأموية )

عمر بن عبد العزيز	عبد الملك بن مروان	معاوية بن أبي سفيان
.....	.....	.....

رويتنا : إعدادُ جيلٍ مُتمِّمٍ لِدِينِهِ وَوَطَنِهِ مُتَسَلِّحٍ بِالْعِلْمِ وَالْقِيَمِ فِي بِيئَةٍ آمنةٍ وَمُحَفَّزَةٍ

تدريبات إثرائية لمادة الدراسات الاجتماعية الصف السادس (16)

السؤال الأول :- اختر الإجابة الصحيحة بوضع علامة [X] في المربع المقابل لها.

1- هي مشاركة المواطنين في تدبير شؤون مجتمعهم والقيام بمبادرات تهدف إلى تحقيق المنفعة .

☐ أ- الولاء ☐ ب- الوطن ☐ ج- الانتماء ☐ د- المواطنة الفعالة

2- الانتساب إلى الوطن والإخلاص له فكرًا وعملاً يشير التعريف إلى مفهوم .

☐ أ- الانتماء ☐ ب- الولاء ☐ ج- الوطن ☐ د- التسامح

السؤال الثاني:- اذكر مقومات المواطنة الفاعلة.

1-.....

2-.....

3-.....

السؤال الثالث:- وضح مظاهر المواطنة الفاعلة على مستوى المدرسة..

1-.....

2-.....

3-.....

السؤال الرابع:- اذكر صفات المواطن الصالح.

1-.....

2-.....

3-.....