

رؤيتنا : إعدَادُ جِيلٍ مُنْتَمٍ لِدِينِهِ وَوَطَنِهِ مُتَسَلِّحٍ بِالْعِلْمِ وَالْقِيَمِ فِي بِيئَةٍ آمِنَةٍ وَمُحَفَّزَةٍ

تدريبات إثرائية لمادة الدراسات الاجتماعية الصف السادس (1)

السؤال الأول :- اختر الإجابة الصحيحة بوضع علامة [X] في المربع المقابل لها.

1- يبلغ عدد دوائر العرض على سطح الأرض .

- ☐ أ- 360 ☒ ب- 180 ☐ ج- 100 ☐ د- 90

2- دائرة العرض الرئيسية التي تقسم الكرة الأرضية إلى قسمين شمالي وجنوبي.

- ☒ أ- دائرة الاستواء ☐ ب- خط جرينتش ☐ ج- مدار السرطان ☐ د- مدار الجدي

3- يبلغ عدد خطوط الطول على سطح الأرض .

- ☐ أ- 180 ☒ ب- 360 ☐ ج- 99 ☐ د- 90

السؤال الثاني :- اذكر أهمية خطوط الطول ودوائر العرض.

1- تحديد المواقع على سطح الأرض بدقة

2- التعرف على حالة المناخ

3- معرفة الزمن وفروق التوقيت بين مختلف البلدان

السؤال الثالث :- عدد أهم الأنهار في الوطن العربي.

- نهر النيل - نهر دجلة - نهر الفرات

- نهر مجردة - نهر جوبا

- نهر شبيلي - نهر أم الربيع

رؤيتنا : إَعْدَادُ جِيلٍ مُنْتَمٍ لِدِينِهِ وَوَطَنِهِ مُتَسَلِّحٍ بِالْعِلْمِ وَالْقِيَمِ فِي بِيئَةٍ أَمْنَةٍ وَمُحَفَّزَةٍ

تدريبات إثرائية لمادة الدراسات الاجتماعية الصف السادس (2)

السؤال الأول :- اختر الإجابة الصحيحة بوضع علامة [X] في المربع المقابل لها.

1- يبلغ عدد خطوط الطول التي تمتد خلال الوطن العربي :

- ☐ أ- 44 ☐ ب- 55 ☐ ج- 66 ☒ د- 77

2- يمتد الوطن العربي في قارتي آسياو:

- ☐ أ- أمريكا الشمالية ☐ ب- أوروبا ☒ ج- إفريقيا ☐ د- أستراليا

3- تبلغ مساحة الوطن العربي:

- ☐ 11.3 مليون كم ☐ 12.3 مليون كم ☒ 13.3 مليون كم ☐ 14.3 مليون كم

4 - المسطح المائي الذي يصل مضيق هرمز بالخليج العربي هو.

- ☒ أ- بحر عمان ☐ ب- بحر العرب ☐ ج- البحر الأحمر ☐ د- البحر المتوسط

السؤال الثاني :- وضح الأهمية الاستراتيجية للموقع الجغرافي للوطن العربي.

- توسطه قارات العالم القديم جعله مهذا للحضارات القديمة

2- امتداده الكبير واتساع أراضيه أدى إلى تنوع موارده الاقتصادية

3- اشرافه على بحار ومحيطات هامة ووجود ممرات مائية

السؤال الثالث :- بم تفسر اتجاه دول الوطن العربي لتحلية مياه البحر.

1- قلة موارد المياه العذبة

2- زيادة عدد السكان

3- وفرة مصادر الطاقة

رؤيتنا: إعداد جيل مُنتَمٍ لِدِينِهِ وَوَطَنِهِ مُتَسَلِّحٍ بِالْعِلْمِ وَالْقِيَمِ فِي بِيئَةٍ آمنةٍ وَمُحَفَّزَةٍ

تدريبات إثرائية لمادة الدراسات الاجتماعية الصف السادس (3)

السؤال الأول :- اختر الإجابة الصحيحة بوضع علامة [X] في المربع المقابل لها.

1- يحد الوطن العربي من جهة الشمال جبال :

- ☐ أ- زاجروس ☒ ب- طوروس ☐ ج- أطلس ☐ د- كردستان

2- أي من الهضاب التالية تقع في وسط شبه الجزيرة العربية:

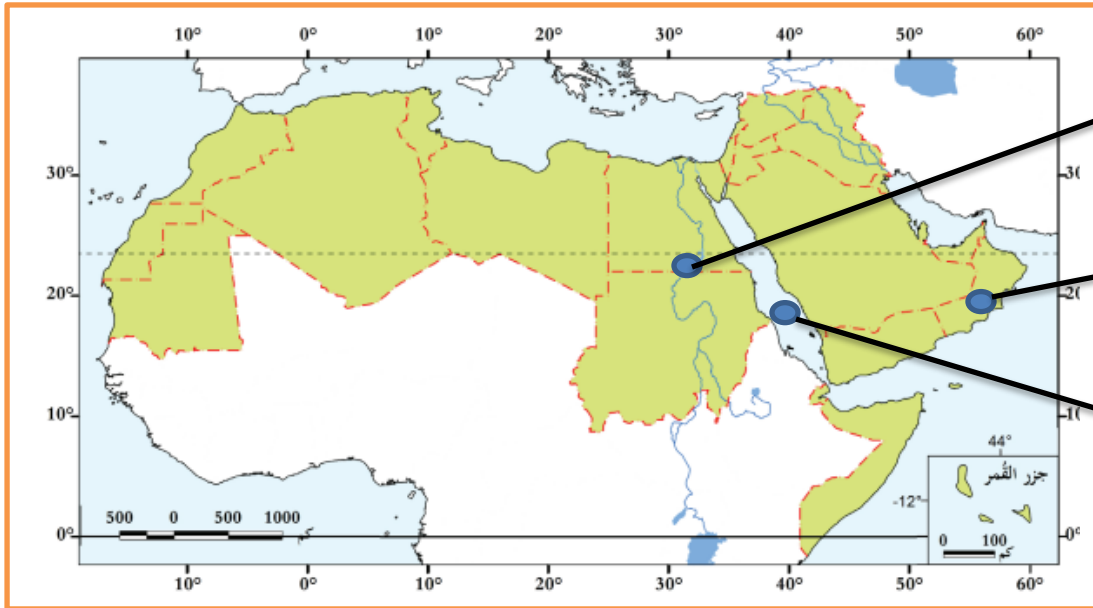
- ☒ أ- نجد ☐ ب- حضرموت ☐ ج- الشطوط ☐ د- بادية الشام

3- تمتد جبال الحجاز وعسير على طول ساحل :

- ☐ خليج عمان ☐ الخليج العربي ☒ البحر الأحمر ☐ البحر المتوسط

السؤال الثاني :- أمامك خريطة صماء لدول الوطن العربي اكتب عليها الظاهرات الطبيعية المشار إليها

بالأسهم



1- نهر النيل.

2- سلطنة عمان

3- البحر الأحمر

رؤيتنا : إَعْدَادُ جِيلٍ مُنْتَمٍ لِدِينِهِ وَوَطَنِهِ مُتَسَلِّحٍ بِالْعِلْمِ وَالْقِيَمِ فِي بَيْنَةِ أَمْنٍ وَمُحَفَّرَةٍ

تدريبات إثرائية لمادة الدراسات الاجتماعية الصف السادس (4)

السؤال الأول :- اختر الإجابة الصحيحة بوضع علامة [X] في المربع المقابل لها.

1- ترتفع درجة الحرارة صيفاً في وسط وشمال الوطن العربي لتعتمد الشمس على :

- ☐ أ- مدار الجدي ☒ ب- مدار السرطان ☐ ج- خط الاستواء ☐ د- خط غرينتش

2- تسقط الأمطار الشتوية على بلاد المغرب العربي بسبب هبوب الرياح:

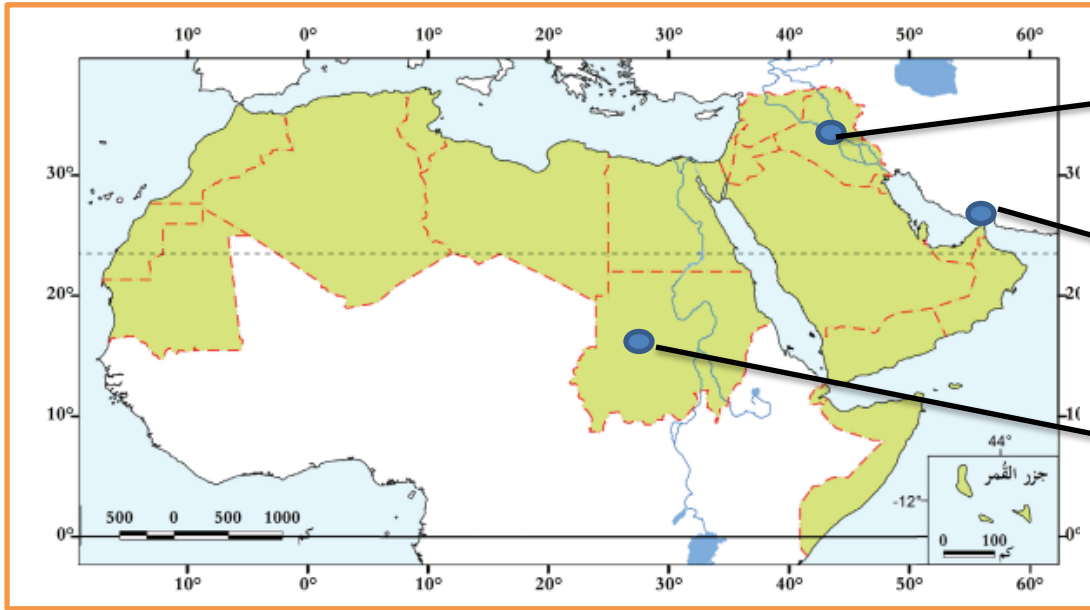
- ☐ أ- الموسمية الممطرة ☐ ب- التجارية الجافة ☒ ج- العكسية الغربية ☐ د- القطبية الشمالية

3- من أهم أنهار الوطن العربي والذي يجري في مصر والسودان نهر :

- ☐ أ- جوبا ☒ ب- النيل ☐ ج- دجلة ☐ د- الفرات

السؤال الثاني :- أمامك خريطة صماء لدول الوطن العربي اكتب عليها الظواهر الطبيعية المشار إليها

بالأسهم



1- نهر دجلة والفرات

2- مضيق هرمز

3- جمهورية السودان

رويتنا : إَعْدَادُ جِيلٍ مُنْتَمٍ لِدِينِهِ وَوَطَنِهِ مُتَسَلِّحٍ بِالْعِلْمِ وَالْقِيَمِ فِي بَيْئَةٍ آمِنَةٍ وَمُحَفَّزَةٍ

تدريبات إثرائية لمادة الدراسات الاجتماعية الصف السادس (5)

السؤال الأول :- اختر الإجابة الصحيحة بوضع علامة [X] في المربع المقابل لها.

1- أصغر دول الوطن العربي من حيث المساحة :

☒ أ- البحرين ☐ ب- جزر القمر ☐ ج- لبنان ☐ د- جيبوتي

2- أكبر دول الوطن العربي من حيث المساحة:

☐ أ- السعودية ☐ ب- السودان ☒ ج- الجزائر ☐ د- ليبيا

السؤال الثاني :- عدد أهم الجبال في الوطن العربي.

جبال الحجاز - جبال عسير - جبال لبنان

جبال البحر الأحمر - جبال كردستان - جبال زاغروس

جبال أطلس - جبال عمان - جبال اليمن - جبال طوروس

السؤال الثالث :- عدد أهم الهضاب في الوطن العربي.

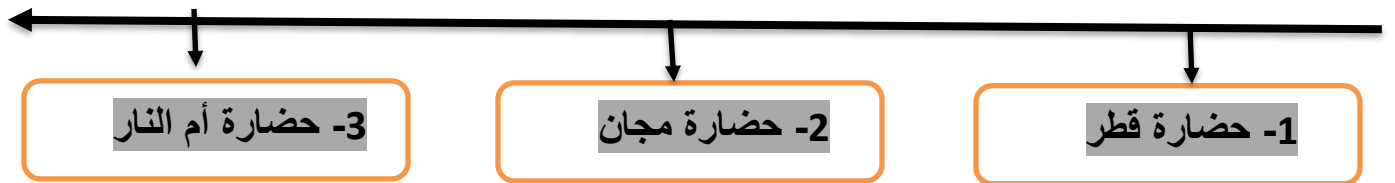
هضبة نجد - هضبة الصمان

- هضبة حزموت - هضبة بادية الشام

هضبة الشطوط - هضبة الصحراء الأفريقية الكبرى

السؤال الرابع :- رتب حضارات الخليج العربي حسب ظهورها من الأقدم الى الأحدث..؟

(حضارة أم النار - حضارة قطر - حضارة مجان)



رؤيتنا : إَعْدَادُ جِيلٍ مُنْتَمٍ لِدِينِهِ وَوَطَنِهِ مُتَسَلِّحٍ بِالْعِلْمِ وَالْقِيَمِ فِي بِيئَةٍ آمِنَةٍ وَمُحَفِّزَةٍ

تدريبات إثرائية لمادة الدراسات الاجتماعية الصف السادس (6)

السؤال الأول :- اختر الإجابة الصحيحة بوضع علامة [X] في المربع المقابل لها.

1- نشأت حضارة مجان في المنطقة التي تشغل حالياً.

☐ أ- الكويت ☐ ب- البحرين ☒ ج- سلطنة عمان ☐ د- الامارات العربية

2- أطلق السومريون اسم أرض الفردوس على حضارة.

☒ أ- دلمون ☐ ب- مجان ☐ ج- الجرعاء ☐ د- أم النار

3- أقدم حضارات منطقة الخليج العربي هي حضارة.

☐ أ- دلمون ☐ ب- مجان ☒ ج- قطر ☐ د- أم النار

السؤال الثاني :- وضح العوامل التي ساعدت على قيام الحضارات في منطقة الخليج العربي قديماً.

1- أهمية الموقع الجغرافي

2- وفرة المياه العذبة

3- وفرة الموارد الطبيعية

السؤال الثالث :- عدّد موارد المياه في الوطن العربي.

1- الأمطار 2- مياه الأنهار

3- المياه الجوفية 4- مياه البحر (المياه المحلاة)

السؤال الرابع :- عدّد أهم المواقع الأثرية الحديثة في دولة قطر.

1- قلعة الزبارة

2- قلعة الكوت

3- قلعة الوجبة 4- برجاً برزان

رؤيتنا : إَعْدَادُ جِيلٍ مُنْتَمٍ لِدِينِهِ وَوَطَنِهِ مُتَسَلِّحٍ بِالْعِلْمِ وَالْقِيَمِ فِي بِيئَةٍ آمِنَةٍ وَمُحَفَّزَةٍ

تدريبات إثرائية لمادة الدراسات الاجتماعية الصف السادس (7)

السؤال الأول :- اختر الإجابة الصحيحة بوضع علامة [X] في المربع المقابل لها.

1- يقع بالقرب من أم باب الموقع الأثري :

- ☒ أ- عسيلة ☐ ب- رأس بروق ☐ ج- برجا برزان ☐ د- مدافن تلال الخور

2- يقع على الساحل الشرقي لدولة قطر الموقع الأثري المعروف بـ:

- ☒ أ- لوسيل ☐ ب- مروب ☐ ج- عسيلة ☐ د- رأس بروق

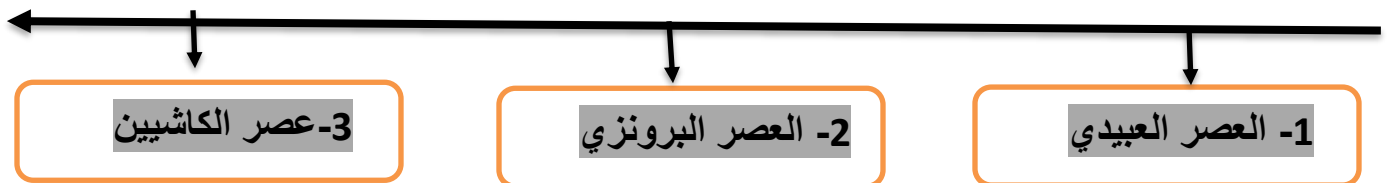
السؤال الثاني :- صنف المواقع الأثرية القديمة والحديثة في دولة قطر في الجدول التالي :

- قلعة الزبارة - مدافن تلال الخور - قلعة الوجبة - موقع عسيلة -
موقع رأس بروق - برجا برزان

المواقع الأثرية الحديثة	المواقع الأثرية القديمة
1- قلعة الزبارة	1- مدافن تلال الخور
2- قلعة الوجبة	2- موقع رأس بروق
3- برجا برزان	3- موقع عسيلة

السؤال الثالث: رتب العصور الحضارية القديمة التي مرت بها قطر من الأقدم الى الأحدث باستخدام الخط الزمني التالي ؟

(عصر الكاشيين - العصر العبيدي - العصر البرونزي)



رويتنا : إعداد جيلٍ مُنتَمٍ لِدِينِهِ وَوَطَنِهِ مُتَسَلِّحٍ بِالْعِلْمِ وَالْقِيَمِ فِي بِيئَةٍ آمنةٍ وَمُحَفَّزَةٍ

تدريبات إثرائية لمادة الدراسات الاجتماعية الصف السادس (8)

السؤال الأول :- اختر الإجابة الصحيحة بوضع علامة [X] في المربع المقابل لها.

1- من قلاع دولة قطر التي تنتمي للعصر العباسي قلعة:

- ☐ أ- الزبارة ☒ ب- مروب ☐ ج- الشقب ☐ د- الوجبة

2- تأسست وزارة الثقافة والرياضة عام.

- ☐ أ- 2015م ☐ ب- 2016م ☐ ج- 2017م ☐ د- 2018م

3- مؤسسة قطرية أنشئت عام 2018م بهدف نشر المعرفة.

- ☐ أ- وزارة الثقافة ☐ ب- الحي الثقافي ☒ ج- المكتبة الوطنية ☐ د- المسرح الوطني

السؤال الثاني :- عدد أهم المؤسسات الثقافية في دولة قطر.

1 1- وزارة الثقافة والرياضة

2- مؤسسة الحي الثقافي (كتارا)

3- مكتبة قطر الوطنية

السؤال الثالث :- اذكر ثلاث اختصاصات لوزارة الثقافة والرياضة.

1- رعاية شؤون الثقافة والفنون والتراث

2- تنظيم الفعاليات والاحتفال بالمناسبات الوطنية

1- الترخيص بإنشاء الفرق الفنية ومحطات البث الإذاعي

السؤال الرابع :- وضح أهم الخدمات التي تقدمها مكتبة قطر الوطنية.

1- توفير المصادر الالكترونية التي تحتوي على نصوصاً كاملة.

2- توفير أكثر من مليون كتاب مطبوع وأكثر من 500 ألف مادة الكترونية

3- إتاحة كافة مصادر ها للجميع

رويتنا : إَعْدَادُ جِيلٍ مُنْتَمٍ لِدِينِهِ وَوَطَنِهِ مُتَسَلِّحٍ بِالْعِلْمِ وَالْقِيَمِ فِي بَيْئَةٍ آمنةٍ وَمُحَفَّزَةٍ

تدريبات إثرائية لمادة الدراسات الاجتماعية الصف السادس (9)

السؤال الأول :- اختر الإجابة الصحيحة بوضع علامة [X] في المربع المقابل لها.

1- أكثر دول الوطن العربي سكاناً:

☒ أ- مصر ☐ ب- تونس ☐ ج- الجزائر ☐ د- السعودية

2- أقل دول الوطن العربي سكاناً:

☐ أ- قطر ☐ ب- تونس ☐ ج- الكويت ☒ د- جزر القمر

3- من العوامل غير الطبيعية المؤثرة في النمو السكاني للوطن العربي.

☐ أ- المواليد ☐ ب- الكثافة ☒ ج- الهجرة ☐ د- الوفيات

4- الخصائص السكانية التي يمكن قياسها مثل العمر والنوع يطلق عليها اسم:

☐ أ- النمو السكاني ☒ ب- التركيب السكاني ☐ ج- التوزيع السكاني ☐ د- الكثافة السكانية

5- تصنيف السكان إلى فئات عمرية يشير التعريف إلى:

☒ أ- التركيب العمري ☐ ب- التركيب النوعي ☐ ج- الهرم السكاني ☐ د- التركيب الاقتصادي

6- تصنيف السكان إلى ذكور وإناث هو.

☐ أ- التركيب العمري ☒ ب- التركيب النوعي ☐ ج- الهرم السكاني ☐ د- التركيب الاقتصادي

السؤال الثاني بم تفسر:- انخفاض معدل الوفيات في الوطن العربي.

1- ارتفاع مستوى المعيشة

2- التقدم الطبي في بعض الدول العربية

3- تقدم الرعاية الصحية 4- الاهتمام بصحة الأمهات والمواليد

رؤيتنا: إعداد جيل مُنتمٍ لِدِينِهِ وَوَطَنِهِ مُتسلِّحٍ بِالْعِلْمِ وَالْقِيَمِ فِي بِيئَةٍ آمنةٍ وَمُحَفَّزَةٍ

تدريبات إثرائية لمادة الدراسات الاجتماعية الصف السادس (10)

السؤال الأول :- اختر الإجابة الصحيحة بوضع علامة [X] في المربع المقابل لها.

1- أقل دول الوطن العربي في الكثافة السكانية:

☐ أ- قطر ☒ ب- ليبيا ☐ ج- فلسطين ☐ د- البحرين

2- الدولة التي لا تُعد ضمن منطقة الهلال الخصيب .

☐ أ- سوريا ☐ ب- العراق ☐ ج- الأردن ☒ د- الكويت

3- من العوامل الطبيعية المؤثرة في توزيع السكان

☒ أ- موارد المياه ☐ ب- النقل والمواصلات ☐ ج- الأحداث السياسية ☐ د- الأنشطة الاقتصادية

السؤال الثاني :- صنف العوامل المؤثرة في توزيع سكان الوطن العربي إلى عوامل طبيعية وبشرية كما في الجدول :

المناخ - الأنشطة الاقتصادية - النقل والمواصلات - الأحداث السياسية -
التضاريس - موارد المياه

العوامل الطبيعية	العوامل البشرية
1- المناخ	1- الأنشطة الاقتصادية
2- التضاريس	2- النقل والمواصلات
3- موارد المياه	3- الأحداث السياسية

رويتنا : إعدَادُ جِيلٍ مُنْتَمٍ لِديْنِهِ وَوَطَنِهِ مُتَسَلِّحٍ بِالْعِلْمِ وَالْقِيَمِ فِي بِيئَةٍ أَمْنَةٍ وَمُحَفَّزَةٍ

تدريبات إثرائية لمادة الدراسات الاجتماعية الصف السادس (11)

السؤال الأول :- اختر الإجابة الصحيحة بوضع علامة [X] في المربع المقابل لها.

1- تبلغ نسبة سكان منطقة شبه الجزيرة العربية من جملة سكان الوطن العربي نحو:

- ☐ أ- 10% ☒ ب- 20% ☐ ج- 30% ☐ د- 40%

السؤال الثاني:- عدد العوامل الطبيعية المؤثرة في توزيع السكان.

1- المناخ

2- التضاريس

3-موارد المياه

السؤال الثالث:- عدد العوامل البشرية المؤثرة في توزيع السكان.

1-الأنشطة الاقتصادية

2-النقل والمواصلات

3-الأحداث السياسية

السؤال الرابع :- بم تفسر:- تركيز السكان في منطقة وادي النيل والحوض الإفريقي .

1- توافر المياه العذبة

2-خصوبة التربة

السؤال الخامس :- بم تفسر:- تركيز السكان في عواصم ومدن منطقة شبه الجزيرة العربية .

1- تركيز الخدمات

2- توفر فرص العمل

رويتنا : إَعْدَادُ جِيلٍ مُنْتَمٍ لِدِينِهِ وَوَطَنِهِ مُتَسَلِّحٍ بِالْعِلْمِ وَالْقِيَمِ فِي بَيْئَةٍ آمنةٍ وَمُحَفَّزَةٍ

تدريبات إثرائية لمادة الدراسات الاجتماعية الصف السادس (12)

السؤال الأول :- اختر الإجابة الصحيحة بوضع علامة [X] في المربع المقابل لها.

1- من خلفاء الدولة الأموية وأول من قام بتنظيم الصوائف والشواتي:

☐ أ- عمر بن عبد العزيز ☒ ب- معاوية بن أبي سفيان

☐ ج- عبد الملك بن مروان ☐ د- الوليد بن عبد الملك

2- بنى الوليد بن عبد الملك المسجد .

☐ أ- النبوي ☒ ب- الأموي ☐ ج- الأقصى ☐ د- قبة الصخرة

3- بنى عبد الملك بن مروان المسجد .

☐ أ- الأموي ☐ ب- النبوي ☐ ج- الأقصى ☒ د- قبة الصخرة

السؤال الثاني:- عَدَد أعمال الخليفة معاوية بن أبي سفيان.

1- أسس الدولة الأموية

2- أسس الدواوين 3- اهتم بنظام الحسبة

4- اهتم بتقوية الجيش والأسطول 5- اهتم بالصوائف والشواتي

السؤال الثالث:- عَدَد أعمال الخليفة عبد الملك بن مروان..

1- أمر بتنقيط المصحف الشريف

2- أنشأ أول دار لسك العملة الإسلامية 3- أمر بتعريب الدواوين

4- اهتم بالعمارة والفنون وبنى مسجد قبة الصخرة بالقدس الشريف

رؤيتنا : إَعْدَادُ جِيلٍ مُنْتَمٍ لِدِينِهِ وَوَطَنِهِ مُتَسَلِّحٍ بِالْعِلْمِ وَالْقِيَمِ فِي بَيْئَةٍ آمِنَةٍ وَمُحَفَّزَةٍ

تدريبات إثرائية لمادة الدراسات الاجتماعية الصف السادس (13)

السؤال الأول :- اختر الإجابة الصحيحة بوضع علامة [X] في المربع المقابل لها.

1- اهتم بنشر العدل بين الناس وعمل على رد المظالم إلى أهلها:

☐ أ- معاوية بن أبي سفيان ☒ ب- عمر بن عبد العزيز

☐ ج- عبد الملك بن مروان ☐ د- الوليد بن عبد الملك

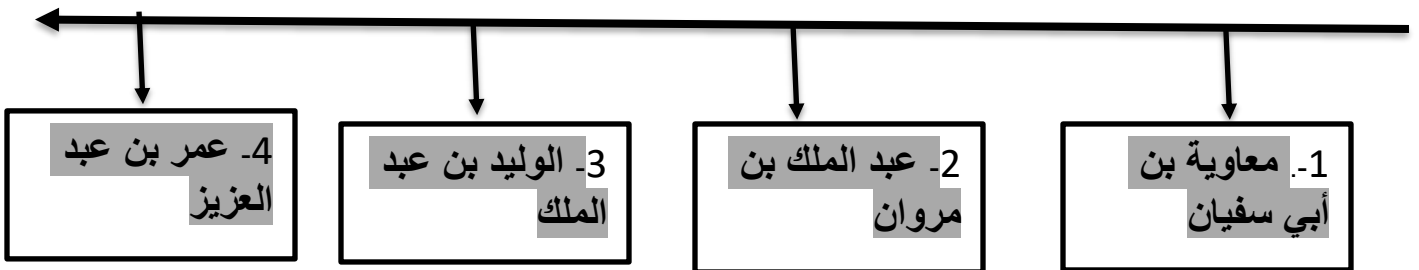
2- من أهم إنجازات عبد الملك بن مروان:

☒ أ- سك العملة الإسلامية ☐ ب- بناء مدينة دمشق

☐ ج- استحدث نظام ولاية العهد ☐ د- تدوين الحديث النبوي

السؤال الثاني:- رتب خلفاء الدولة الأموية على الخط الزمني من الأقدم إلى الأحدث.

(عبد الملك بن مروان - عمر بن عبد العزيز - معاوية بن أبي سفيان - الوليد بن عبد الملك)



السؤال الثالث:- اذكر عوامل ضعف الدولة الأموية وسقوطها..

1- ضعف بعض الخلفاء والصراع على منصب ولاية العهد

2- الصراع بين فئات المجتمع في الدولة الأموية وإيثار العرب على غيرهم

3- كثرة الثورات ضد الدولة الأموية 4- ظهور الدعوة العباسية في بلاد فارس

رويتنا: إَعْدَادُ جِيلٍ مُنْتَمٍ لِدِينِهِ وَوَطَنِهِ مُتَسَلِّحٍ بِالْعِلْمِ وَالْقِيَمِ فِي بَيْئَةٍ آمِنَةٍ وَمُحَفَّزَةٍ

تدريبات إثرائية لمادة الدراسات الاجتماعية الصف السادس (14)

السؤال الأول :- اختر الإجابة الصحيحة بوضع علامة [X] في المربع المقابل لها.

1- بلغت الدولة الأموية أقصى اتساع لها في عهد:

- ☐ أ- النبي ﷺ ☒ ب- الأمويين ☐ ج- العباسيين ☐ د- الخلفاء الراشدين

2- أيّ البلاد الآتية فُتحت في عهد معاوية بن أبي سفيان .

- ☐ أ- السند ☐ ب- الأندلس ☒ ج- شمال إفريقيا ☐ د- ما وراء النهر

3- فُتحت بلاد المغرب الأقصى في عهد الخليفة:

- ☐ أ- معاوية بن أبي سفيان ☐ ب- عمر بن عبد العزيز

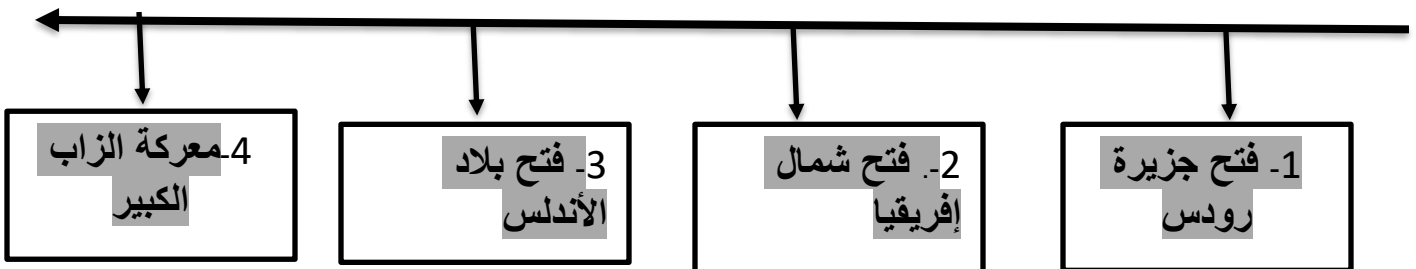
- ☐ ج- عبد الملك بن مروان ☒ د- الوليد بن عبد الملك

4- تمكن طارق بن زياد من فتح بلاد .

- ☐ أ- مصر ☒ ب- الأندلس ☐ ج- العراق ☐ د- بلاد الشام

السؤال الثاني:- رتب الفتوحات الآتية على الخط الزمني من الأقدم إلى الأحدث.

(فتح بلاد الأندلس - معركة الزاب الكبير - فتح جزيرة رودس - فتح شمال إفريقيا)



رؤيتنا : إَعْدَادُ جِيلٍ مُنْتَمٍ لِدِينِهِ وَوَطَنِهِ مُتَسَلِّحٍ بِالْعِلْمِ وَالْقِيَمِ فِي بَيْئَةٍ أَمْنَةٍ وَمُحَفَّزَةٍ

تدريبات إثرائية لمادة الدراسات الاجتماعية الصف السادس (15)

السؤال الأول :- اختر الإجابة الصحيحة بوضع علامة [X] في المربع المقابل لها.

1- قُتِلَ مروان بن محمد آخر خلفاء بني أمية في .

☐ أ- العراق ☐ ب- بلاد الشام ☒ ج- مصر ☐ د- الاندلس

السؤال الثاني:- عدّد نتائج الفتوحات الإسلامية في العهد الأموي.

1-اعتناق عدد كبير الدين الإسلامي

2-ازدياد مساحة الدولة الإسلامية 3- انتشار اللغة العربية

4-انتشار الأمن والطمأنينة 5- زيادة الموارد المالية

السؤال الثالث:- انسب الأعمال الآتية إلى خلفاء الدولة الأموية في الجدول الآتي

(بنى مسجد قبة الصخرة - أسقط الجزية عمن أسلم - أسس الدولة الأموية)

عمر بن عبد العزيز	عبد الملك بن مروان	معاوية بن أبي سفيان
أسقط الجزية عمن أسلم	بنى مسجد قبة الصخرة	أسس الدولة الأموية

رؤيتنا : إَعْدَادُ جِيلٍ مُنْتَمٍ لِدِينِهِ وَوَطَنِهِ مُتَسَلِّحٍ بِالْعِلْمِ وَالْقِيَمِ فِي بِيئَةٍ آمِنَةٍ وَمُحَفَّزَةٍ

تدريبات إثرائية لمادة الدراسات الاجتماعية الصف السادس (16)

السؤال الأول :- اختر الإجابة الصحيحة بوضع علامة [X] في المربع المقابل لها.

1- هي مشاركة المواطنين في تدبير شؤون مجتمعهم والقيام بمبادرات تهدف إلى تحقيق المنفعة .

☐ أ- الولاء ☐ ب- الوطن ☐ ج- الانتماء ☒ د- المواطنة الفعالة

2- الانتساب إلى الوطن والإخلاص له فكرًا وعملاً يشير التعريف إلى مفهوم .

☒ أ- الانتماء ☐ ب- الولاء ☐ ج- الوطن ☐ د- التسامح

السؤال الثاني:- اذكر مقومات المواطنة الفاعلة.

1- الولاء والانتماء

2- المساواة والعدالة

3- تكافؤ الفرص

السؤال الثالث:- وضح مظاهر المواطنة الفاعلة على مستوى المدرسة..

1- الالتزام بالقوانين المدرسية 2- احترام العلم والنشيد الوطني

3- الالتزام بالزي المدرسي والحضور مبكرًا للمدرسة 4- المشاركة في الأنشطة المختلفة

5- الاجتهاد في طلب العلم 6- احترام العاملين في المدرسة

السؤال الرابع:- اذكر صفات المواطن الصالح.

1- القيام بالواجبات والمسؤوليات

2- احترام حقوق الآخرين

3- المحافظة على الممتلكات العامة