



# نواتج التعلم :



المقارنة بين السهول الساحلية  
والسهول الداخلية – استنتاج  
الأهمية الاقتصادية للجبال

حان وقت  
المراجعة يا  
أبطال






لعبة

البالونات



هيا يا بطل اختر أحد البالونات :





# السهول الساحلية قريبة من البحر



الخليج العربي

1- السهل الساحلي الشرقي

2- السهل الساحلي الغربي

بحر عمان

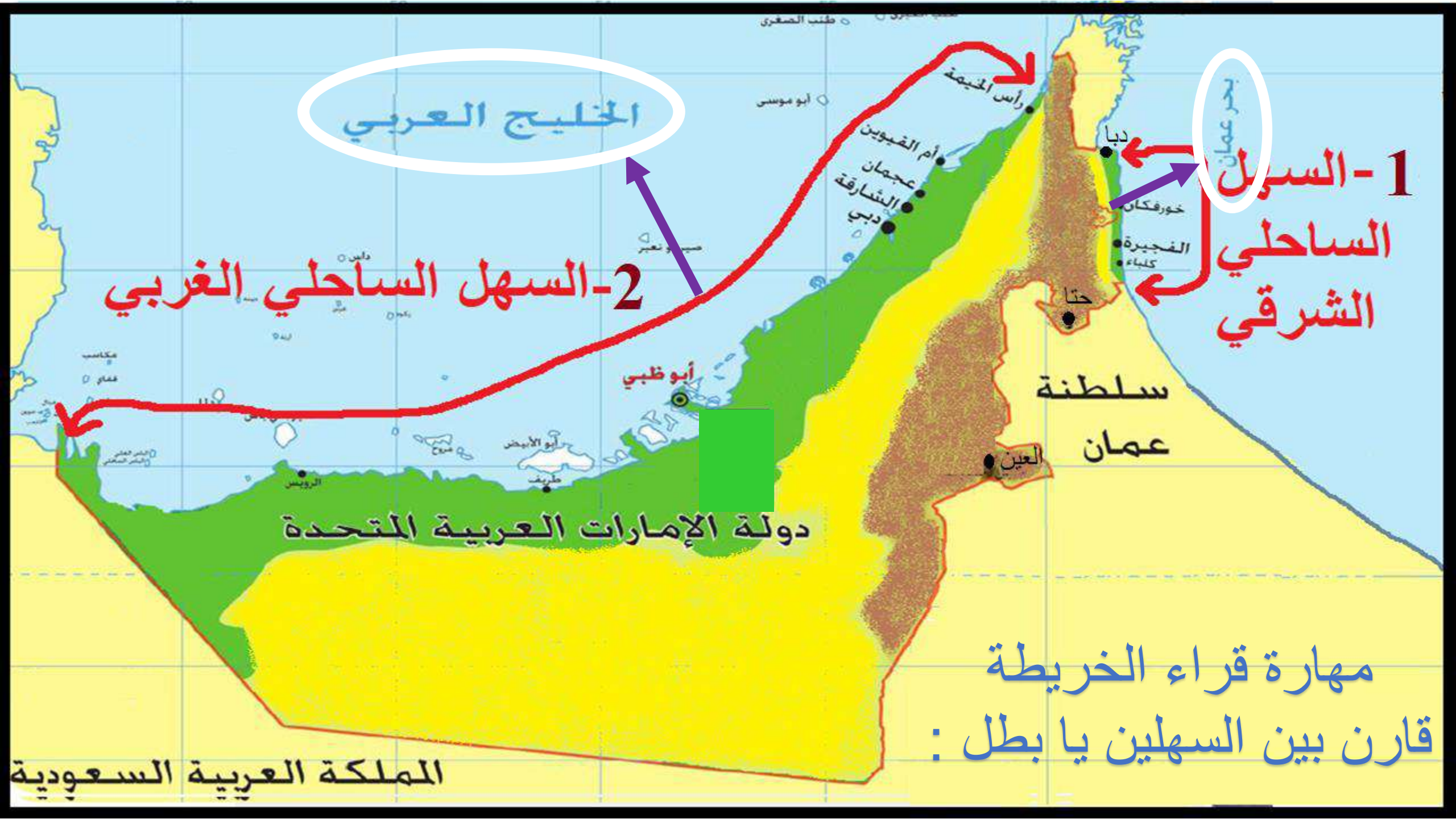
سلطنة عمان

دولة الإمارات العربية المتحدة

مهارة قراءة الخريطة

قارن بين السهلين يا بطل :

المملكة العربية السعودية



تُقَسَّمُ الشُّهُولُ فِي الْإِمَارَاتِ إِلَى قِسْمَيْنِ:

أ. الشُّهُولُ السَّاحِلِيَّةُ:

ص 117

• هِيَ الْأَرْضُ الْمُنْبَسِطَةُ الَّتِي تَقَعُ عَلَى الْبَحْرِ.

وَتُقَسَّمُ هَذِهِ الشُّهُولُ فِي الْإِمَارَاتِ إِلَى سَهْلِ السَّاحِلِ الشَّرْقِيِّ الَّذِي يُطِلُّ عَلَى ~~خَلِيجِ عُمَانَ~~ **بِحَرِّ** وَيَتَمَيَّزُ بِقَصْرِهِ،

وَضَيْقِهِ بِسَبَبِ وُجُودِ الْجِبَالِ الَّتِي تَحُدُّهُ مِنْ جِهَةِ الْغَرْبِ. وَسَهْلِ السَّاحِلِ الْغَرْبِيِّ الَّذِي يُطِلُّ عَلَى الْخَلِيجِ

الْعَرَبِيِّ، وَيَتَمَيَّزُ بِاتْسَاعِهِ وَطَوْلِهِ، وَكَثْرَةِ تَعَرُّجَاتِهِ. تَرْتَبِطُ بِالشُّهُولِ السَّاحِلِيَّةِ بَعْضُ الْمَعَالِمِ الطَّبِيعِيَّةِ الْأُخْرَى،

كَالْأَخْوَارِ، وَالْجُزُرِ، وَالسَّبَخَاتِ.

لِلسُّهُولِ السَّاحِلِيَّةِ أَهْمِيَّةٌ اِقْتِصَادِيَّةٌ كَبِيرَةٌ بِالنِّسْبَةِ لِدَوْلَةِ اإِمَارَاتِ؛ فَفِيهَا تَقَعُ أَهَمُّ الْمَدَنِ اإِمَارَاتِيَّةِ ذَاتِ

الكثافة السكانية، والمواقع الحيوية. كما أنها تُشكّل مَصْدَرًا أَساسِيًّا لِلصَّيْدِ البَحْرِيِّ، وَلِحَرَكَةِ االِستِيرادِ

والتَّصديرِ، نَظَرًا لِوِجُودِ المَوانِيءِ والمَطاراتِ فِيها. كما أَنَّها تُعَدُّ مَناطِقَ جَدِبِ سِياحِيٍّ؛ لِما تَمْتازُ بِهِ مِنْ

شَواطِئَ بَحْرِيَّةٍ اأَحادَةِ الجَمالِ.

ص 117





ص 118 - 119



# كتاب الطالب ص 118



## ب. السُّهُولُ الدَّاخِلِيَّةُ:

هِيَ الأَرْضِي المُنْبَسِطَةُ الَّتِي تَمْتَدُّ مِنْ سُفُوحِ  
الجِبَالِ الشَّرْقِيَّةِ حَتَّى بَدَايَةِ الكَثْبَانِ الرَّقْمِيَّةِ، وَمِنْهَا  
سُهُولُ الدَّقْدَاقَةِ وَالمَدَامِ وَالدِّيدِ.

# السهول الداخلية بعيدة عن البحر



تَخْتَلِفُ هَذِهِ الشُّهُولُ عَنِ الشُّهُولِ السَّاحِلِيَّةِ فِي  
أَنَّهَا تُعَدُّ مَصْدَرًا لِاسْتِخْرَاجِ الْمِيَاهِ الْعَذْبَةِ، وَأَرْضًا

صَالِحَةً لِلزَّرَاعَةِ، فَتَنْشُرُ فِيهَا مَزَارِعَ النَّخِيلِ

وَالْفَوَاكِهِ وَالخَضِرَاوَاتِ، وَتَكْثُرُ فِيهَا مَزَارِعُ تَرْبِيَةِ

الْمَاشِيَةِ وَالذُّوَابِجِنِ.

1- تنتشرُ فيها مزارعُ  
النخيلِ والخضرواتِ  
والفواكهِ والماشيةِ  
والدواجنِ.






2- تُعتبرُ مصدرًا

هامًا لاستخراج

المياه العذبة.





وَقَدْ اسْتَفَادَ سُكَّانُ هَذِهِ الْمَنَاطِقِ مِنَ الْبَيْئَةِ الزَّرَاعِيَّةِ  
بِعَمَلِ **صِنَاعَاتٍ** تَقْلِيدِيَّةٍ كَصِنَاعَةِ الْأَدْوَاتِ  
الْفُخَّارِيَّةِ، وَالصِّنَاعَاتِ الَّتِي تَرْتَبِطُ بِالنَّخِيلِ،  
وَتَقُومُ عَلَى اسْتِغْلَالِ كُلِّ أَجْزَاءِ النَّخْلَةِ فِي صِنَاعَةِ  
الْعَرِيشِ وَالْأَوَانِي الْمَنْزِلِيَّةِ، وَأَثَاثِ الْبَيْتِ. وَلَا تَقْتَصِرُ  
أَهْمِيَّةُ هَذِهِ الصِّنَاعَاتِ عَلَى الْبُعْدِ الْاِقْتِصَادِيِّ،  
لَكِنَّهَا تَتَجَاوَزُ ذَلِكَ إِلَى كَوْنِهَا مُرْتَبِطَةً بِالْأَرْضِ  
وَأَهْلِهَا، وَتَحْكِي قِصَّةَ كِفَاحِهِمْ وَعَزْمِهِمْ وَحُبِّهِمْ  
لِلْأَرْضِ الَّتِي تَحْمِلُهُمْ بِدِفْءٍ، وَلَا تَبْخُلُ عَلَيْهِمْ  
مِنْ خَيْرَاتِهَا.



3- تتركز فيها

الصناعات التقليدية

مثل صناعة الأدوات

الفخارية وصناعات

مرتبطة بالنخيل.



من يذكرنا يا أبطال على ماذا يدل اللون البني في الخريطة ؟



الجبال

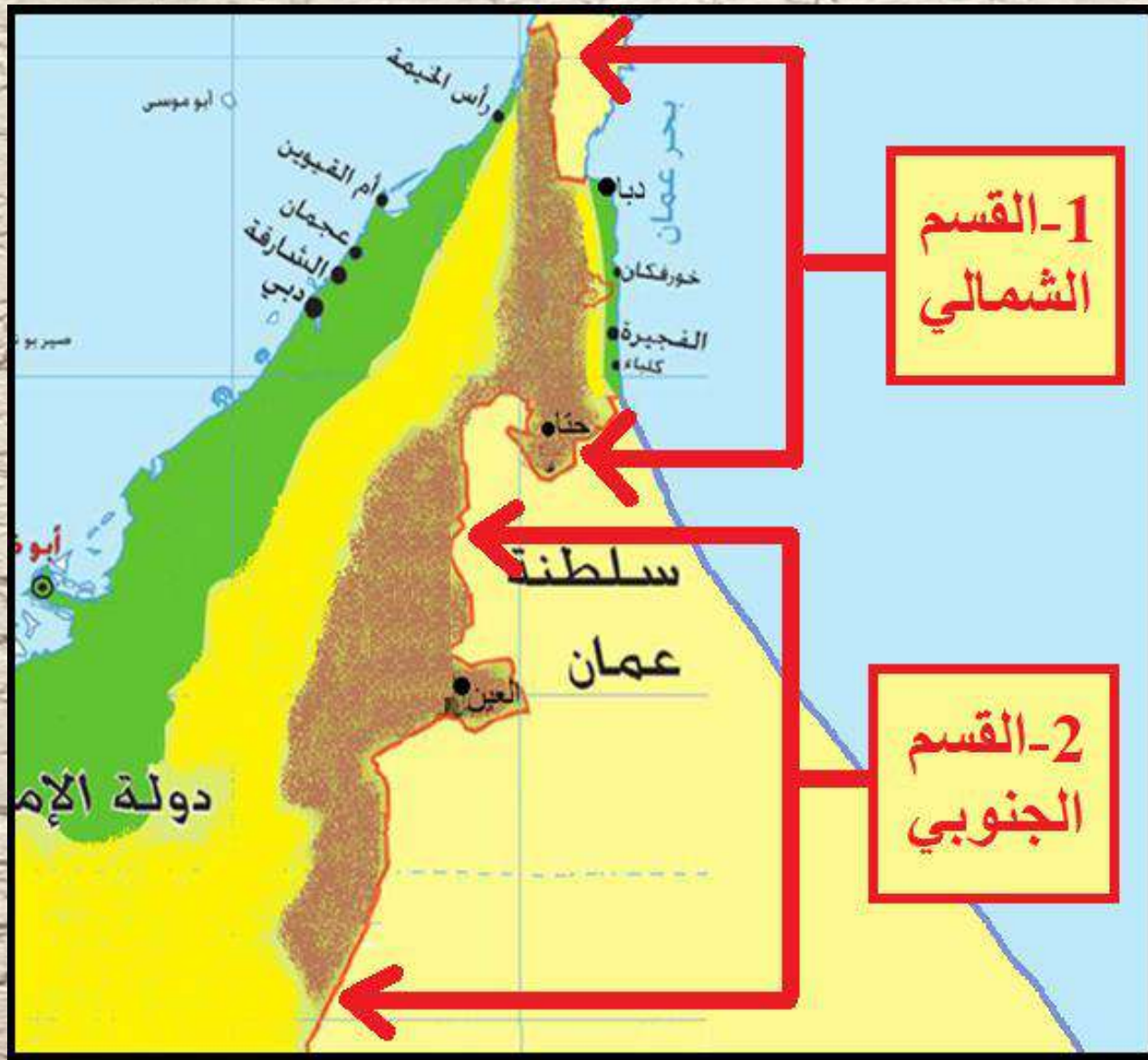
ماذا تعرف عن الجبال؟



أَرْضٌ مُرْتَفِعَةٌ لَهَا قِمَّةٌ وَاضِحَةٌ.








## 1- القسم الشمالي

## 2- القسم الجنوبي

تتركز الجبال في الإمارات في المنطقة الشرقية، من منطقة شعم شمالاً إلى العين جنوباً، وتتخللها بعض الأودية، مثل: وادي حام والسيجي، وهي تنقسم إلى قسمين:

- القسم الشمالي: الذي يمتد بمحاذاة السهل الشرقي المطل على خليج عُمان، ويقع فيه جبل جيس.
- القسم الجنوبي: الذي يشمل المناطق الجبلية متوسطة الارتفاع، والتي تنتهي قرب مدينة العين، ويقع فيه جبل حفيت.

# جبل جيس في رأس الخيمة





# جبل جيس رأس الخيمة

# الربط مع المجتمع المحلي ( جبل جيس )





# جبل حفيت في العين




# الخليج العربي




## الخارطة الطبيعية

الارتفاع بالأمتار	
مناطق مرتفعة	{ 1000-0 متر
	{ 1000-500 م
مناطق متوسطة الارتفاع	{ 500-200 م
	{ 200-100 م
مناطق قليلة الارتفاع	{ 100-0 م
سبخات	أودية



المملكة العربية السعودية

# ما الأهمية الاقتصادية للجبال؟





تُعَدُّ الجِبَالُ مَصْدَرًا مِنْ مَصَادِرِ مَوَادِّ البِنَاءِ  
الأَوَّلِيَّةِ، وَبَعْضُ المَعَادِنِ المِهْمَةِ، كَمَا أَنَّهَا تُمَثِّلُ  
مَخَازِنَ طَبِيعِيَّةً لِمِيَاهِ الأَمْطَارِ، الَّتِي تَسْقُطُ  
عَلَيْهَا بِكَمِّيَّاتٍ أَكْبَرَ مِنْ بَاقِي مَنَاطِقِ الدَّوَلَةِ،  
بِالإِضَافَةِ إِلَى ائْتِشَارِ الزَّرَاعَةِ فِي القُرَى الجَبَلِيَّةِ،  
وَازْدِهَارِ السِّيَاحَةِ فِيهَا؛ إِذْ تُعَدُّ الرِّيَاضَاتُ الجَبَلِيَّةُ  
والمُنْتَجَعَاتُ فِي هَذِهِ الجِبَالِ مَنَاطِقَ جَذِبٍ كَبِيرٍ  
لِلسِّيَاحِ مِنْ كُلِّ دَوْلِ العَالَمِ.

كتاب الطالب ص 119

# مفتاح التفكير

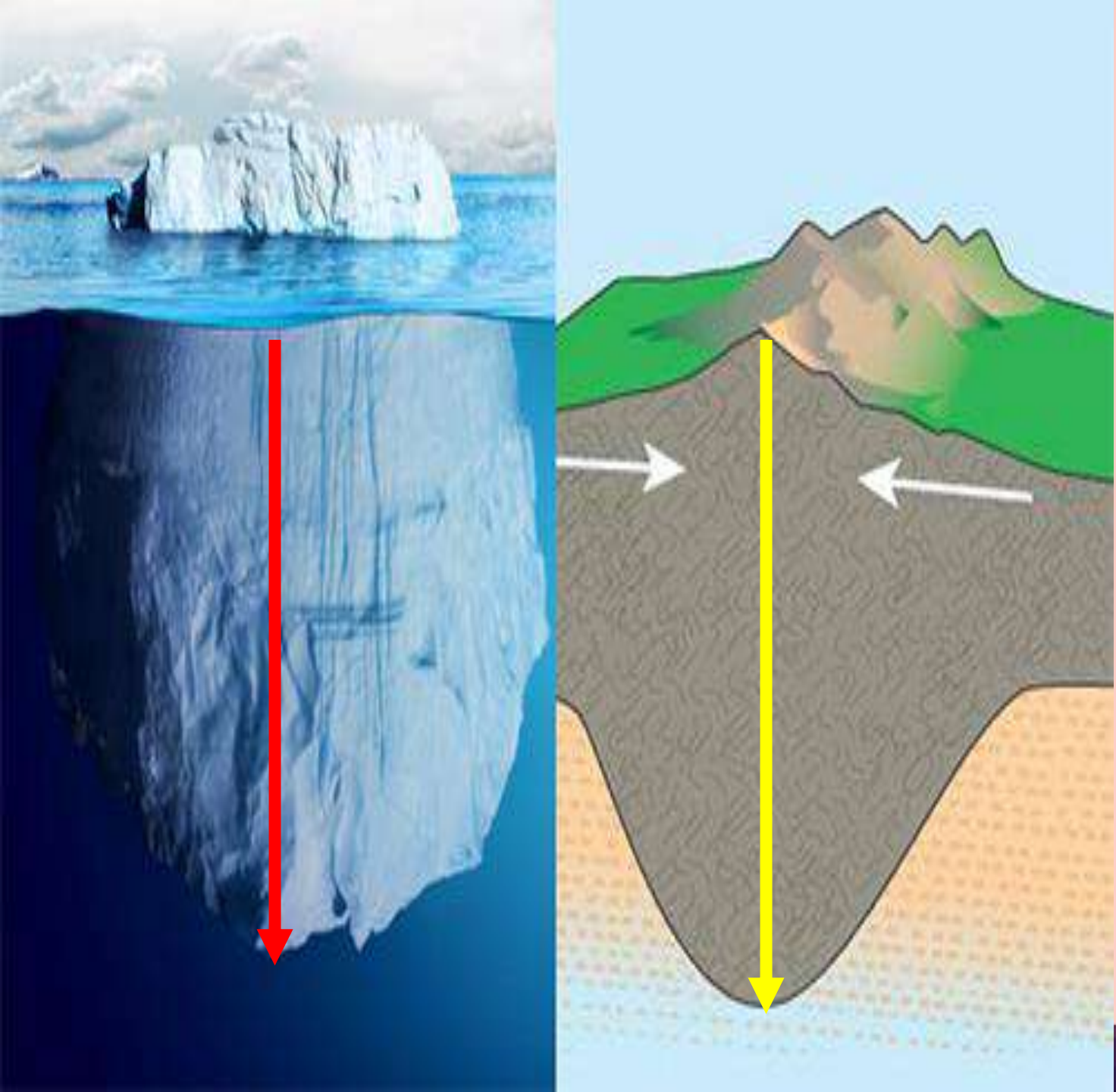

ما أهمية الجبال؟




# الربط مع مادة التربية الإسلامية



﴿ أَلَمْ نَجْعَلِ الْأَرْضَ مِهْدًا ﴿٦﴾ وَالْجِبَالَ أَوْتَادًا ﴿٧﴾ ﴾





استخراج مواد البناء

ماالمادة التي تستخدم لبناء المنزل ؟

# تخزين مياه الأمطار





انتشار الزراعة



# ازدهار السياحة

# تأشيرة الخروج



<https://quizizz.com/join>

شكراً لكم أطفالي الحلويين كنتم رائعين جداً

