



علوم : أول (م ف 2) 20-21

تدريبات دعم وإثراء



1442 هـ & 20-21م

خطط رفع كفاءة الطلاب


الاسم/ الصف/1-

السؤال الأول:

اختر الإجابة الصحيحة بوضع علامة (X) داخل المربع: -

1

ما نوع الطعام المعروض في الصورة؟




A طازج

B متعفن

C محفوظ

2

ما اسم الطريقة الموضحة التي تم بها حفظ الطعام لمدة أطول؟



A التخليل

B التعليب

C التجفيف

نموذج (1)

أي من الآتي ملمس الحصى الموضح في الصورة؟

3



A ناعم

B خشن

C لين

ما خصائص المادة المصنوع منها الشكل المعروض أمامك؟

4



A شفاف

B لامع

C معتم

ما المادة التي صنعت منها هذه المقاعد ؟

5



A الخشب

B المعدن

C الورق

نموذج (1)

أي من المواد صنعت منها هذه النافذة وتسمح بمرور الضوء؟

6



A الزجاج


B البلاستيك

C المطاط

صل كل عبارة من العمود (1) بالصورة المناسبة من العمود (2).

العمود (2)

العمود (1)



1- الصورة التي توضح إبقاء الطعام طازجاً
عبر تبريده.

2- الصورة التي توضح طعام ممكن أن يصيب
الإنسان بالتسمم.

3- ما الصورة التي توضح شيء مصنوع من
مادة طرية يسهل الكتابة عليها.

4- ما الصورة التي توضح شيء مصنوع من
مادة قاسية.

السؤال الثالث:

ضع علامة (✓) أمام العبارة الصحيحة وعلامة (x) أمام العبارة الخطأ.

- 1- الطعام الفاسد يصيب الإنسان بالتسمم الغذائي عند تناوله. ()
- 2- من الأشياء الباهتة المرأة. ()
- 3- البلاستيك من المواد التي تستخدم في صنع الألعاب. ()

أجب عن الأسئلة التالية: اكتب المفردة المناسبة

(أ)

1- طريقة يتم بها حفظ الطعام لمدة طويلة عن طريق خفض درجة حرارته.

.....

2 – طريقة يتم بها حفظ الأطعمة عن طريق إزالة بعض السائل منها

.....

(ب)

1- مادة مناسبة لصنع الأشياء القاسية ويستخدم في المباني والجسور.

.....

2- مادة طرية يسهل الكتابة عليها وتستخدم في صناعة الكتب

.....

السؤال الأول :

اختر الإجابة الصحيحة بوضع علامة (X) داخل المربع: -

1

ما نوع الطعام المعروض في الصورة ؟



A طازج

B متعفن

C محفوظ

2

ما اسم الطريقة التي تم بها حفظ الطعام لمدة أطول؟



A التجميد

B التجفيف

C التعليب

3

أي من الآتي من خصائص المادة التي صنع منها هذا السخان؟



A شفاف

B لامع

C لين

نموذج (2)

4

أي من الآتي يصنع من مادة شبه شفافة؟



A



B



C

أي من المواد الآتية صنع منها الكتاب ؟

5



A القماش.

B المعدن

C الورق .

أي من المواد صنع منه الباب؟

6



A المطاط

B الخشب

C الزجاج

صل كل عبارة من العمود (1) بالصورة المناسبة من العمود (2).

العمود (2)

العمود (1)



1- ما الصورة التي توضح طعام متعفن.

2- الصورة التي توضح طعام محفوظ بالتغليف

3- من الأشياء التي لها ملمس طري.

4- من الأشياء المصنوعة من مادة شفافة.

السؤال الثالث:

ضع علامة (✓) أمام العبارة الصحيحة وعلامة (x) أمام العبارة الخطأ.

1- أتأكد من أن الطعام مطهو جيداً قبل تناوله. ()

2- تصنع الستائر من مادة شفافة غالباً. ()

3- المواد المعتمدة لا تسمح بمرور الضوء. ()

أجب عن الأسئلة التالية: اكتب المفردة المناسبة

(أ)

1- طريقة يتم بها حفظ الطعام لمدة طويلة عن طريق وضعه في محلول ماء وملح وخل.

.....

2 – طريقة يتم بها حفظ الطعام عن طريق وضعه في معلبات محكمة الغلق.

.....

(ب)

1- مادة قاسية ومعتمدة مناسبة لصنع الأبواب والأثاث المنزلي.

.....

2- مادة شفافة وتستخدم في صناعة النوافذ والنظارات.

.....