

# الْوَحْدَةُ 1 الأَعْدَادُ



أَسْرَتِي الْكَرِيمَةَ

بَدَأْتُ الْيَوْمَ دِرَاسَةَ الْوَحْدَةِ الْأُولَى الَّتِي سَأَتَعَلَّمُ فِيهَا الْأَعْدَادَ ضِمْنَ أَرْبَعِ مَنَازِلَ.

لِنَتَقَدَّمَ مَعَ النَّشَاطِ الْآتِي الَّذِي سَيُسَاعِدُنِي عَلَى مُرَاجَعَةِ الْمَفَاهِيمِ الرِّيَاضِيَّةِ الَّتِي دَرَسْتُهَا سَابِقًا، وَتَلَزِمُنِي فِي أَثْنَاءِ دِرَاسَةِ هَذِهِ الْوَحْدَةِ.

أُحِبُّكُمْ .....



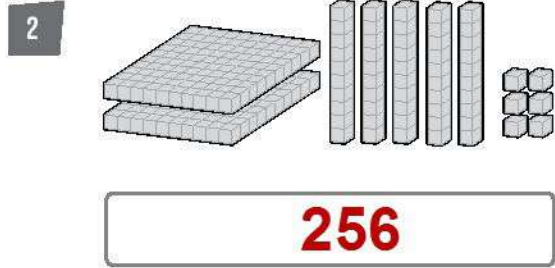
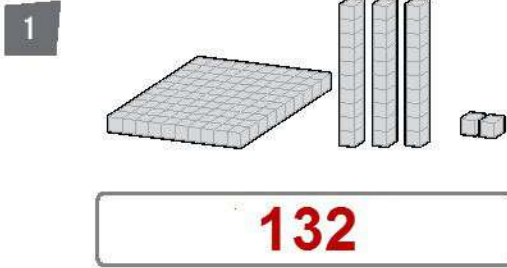
**نشاط منزلي:** في هذا النشاط، سِيرَاجِعُ طِفْلِي الْأَعْدَادَ ضِمْنَ 3 مَنَازِلَ.



- أَصْعُ أَمَامَ طِفْلِي 10 بَطَاقَاتٍ مَكْتُوبٍ عَلَيْهَا الْأَرْقَامُ مِنْ 0 إِلَى 9، ثُمَّ أَطْلُبُ إِلَيْهِ أَنْ يَخْتَارَ 3 بَطَاقَاتٍ، وَيَكْتُبَ الْأَعْدَادَ الَّتِي يَسْتَطِيعُ تَكْوِينَهَا مِنَ الْأَرْقَامِ الَّتِي اخْتَارَهَا، ثُمَّ يَكْتُبُ الْأَعْدَادَ بِالْكَلِمَاتِ وَبِالصِّيغَةِ التَّحْلِيلِيَّةِ، وَيُرَتِّبُهَا نَصَاعِدِيًّا.
- أُكْرِّرُ النَّشَاطَ بِإِعَادَةِ اخْتِيَارِ 3 بَطَاقَاتٍ أُخْرَى.

أَسْتَعِدُّ لِدِرَاسَةِ الْوَحْدَةِ

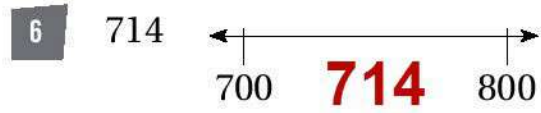
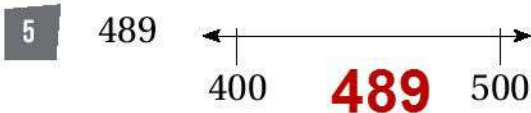
أَكْتُبِ الْعَدَدَ الَّذِي يُمَثِّلُهُ كُلُّ نَمُوذَجٍ:



أَعُدُّ تَصَاعُدِيًّا بِحَسَبِ الْمَطْلُوبِ:



أُمَثِّلِ الْعَدَدَ عَلَى خَطِّ الْأَعْدَادِ، ثُمَّ أَرَسِّمُ سَهْمًا يُبَيِّنُ اتِّجَاهَ التَّقْرِبِ إِلَى الْأَعْلَى أَوْ إِلَى الْأَسْفَلِ عِنْدَ



أَكْتُبِ < أَوْ > أَوْ = فِي □ لِأَكُونَ عِبَارَةً صَحِيحَةً:



حلول كتاب الطالب للصف الثالث

الوحدة الأولى : الاعداد

الدرس 1 : الاعداد ضمن اربع منازل

ملاحظات	الاجابة	رقم السؤال
	2541	1
	4183	2
	3819	3
	أخطأت عبير بعدم التمييز بين المئات والالوف والعدد الصحيح هو 2434	4



الدرس 2 : القيمة المنزلية

ملاحظات	الاجابة	رقم السؤال
	70	1
	5000	2
	900	3
	8000	4
	اربعة الاف وثمانئة وسبعة	5
	سنة الاف ومئتان وتسعة واربعون	6
	2764	7
	8019	8
	$5000 + 200 + 70 + 3$	9
	$8000 + 40 + 2$	10
	الاعداد الاتية : 7230 , 5331 , 4432, 1533	11

الدرس 3 : مقارنة الأعداد

ملاحظات	الاجابة	رقم السؤال
	=	1
	<	2
	<	3
	=	4
	<	5
	>	6
	=	7
	>	8
	<	9
	>	10
	اجابة ممكنه : $5644 < 5730$	11

الدرس 4 : ترتيب الاعداد

ملاحظات	الاجابة	رقم السؤال
	2501 , 5021 , 5201	1
	2417 , 2471 , 3417	2
	7831 , 7838 , 8713	3
	3025 , 2897 , 2528	4
	5430 , 4927 , 3708	5
	7889 , 7354 , 6845	6
	اخطأت في موقع العدد 989 والصحيح ان موقعه هو اخر الاعداد	7

الدرس 5 : تقريب الاعداد

ملاحظات	الاجابة	رقم السؤال
	3540	1
	7210	2
8080		3
4650		4
2900		5
5800		6
6100		7
9100		8
	4000	9
	2000	10
7000		11
5000		12
7499		13



الدرس 6: العد القفزي

ملاحظات	الاجابة	رقم السؤال																
	3544 , 3554 , 3564	1																
	4631 , 4731 , 4831	2																
	7508 , 8508 , 9508	3																
	8369 , 8359 , 8349	4																
	6153 , 6013 , 5913	5																
	3817 , 2817 , 1817	6																
	<table border="1"> <tr> <td>3210</td> <td>2210</td> <td>1210</td> <td>0210</td> </tr> <tr> <td>3110</td> <td></td> <td></td> <td></td> </tr> <tr> <td>3010</td> <td>4010</td> <td>5010</td> <td>6010</td> </tr> <tr> <td>2910</td> <td></td> <td></td> <td></td> </tr> </table>	3210	2210	1210	0210	3110				3010	4010	5010	6010	2910				7
3210	2210	1210	0210															
3110																		
3010	4010	5010	6010															
2910																		



## اختبار نهاية الوحدة 1

ملاحظات	الاجابة	رقم السؤال
	5	1
	30	2
	2000	3
	700	4
	3163	5
	6921 , 7021 , 7121	6
	5082 , 6082 , 7082	7
	الصيغة اللفظية : ثلاثة الاف وثلاثمئة وثلاثة وخمسون الصيغة التحليلية : $3000 + 300 + 50 + 3$	8
	<	9
	>	10
	6108 , 6208 , 6280	11
	3721 , 3217 , 3215	12
	8000	13
	3000	14
	3807	15
	5761	16
	للمصمم حوط الاعداد : 794 , 918 , 616	17
	629	18
	80	19
	81	20

حلول كتاب الطالب للصف الثالث

الوحدة السادسة : الهندسة

الدرس 1 : النقطة والمستقيم والشعاع

رقم السؤال	الاجابة	ملاحظات
1	شعاع	
2	مستقيم	
3	قطعة مستقيمة	
4	غير ذلك	
5	غير ذلك	
6	نقطه	
7	شعاع	
8	غير ذلك	
9	<ul style="list-style-type: none"><li>- للمصمم صل بين شعاع والشكل الذي بالمنتصف</li><li>- صل بين نقطه وفتكل الاول من اليسار وهو قلم الرصاص</li><li>- صل بين مستقيم والشكل الاول من اليمين</li></ul>	
10	<p>عدد المستقيمات : 1</p> <p>عدد القطع المستقيمة : 9</p> <p>عدد الاشعة : 13</p> <p>عدد النقاط : 7</p>	

الدرس 2 : الزوايا





ملاحظات	الاجابة	رقم السؤال
	منفرجة	1
	قائمة	2
	حاددة	3
	حاددة	4
	منفرجة	5
	قائمة	6
	لا ؛ لانه لا يوجد زاوية قائمة كل الزوايا حاده	7

الدرس 3 : مستقيمت خاصة

ملاحظات	الاجابة	رقم السؤال
	متعلمدين	1
	متوازيين	2
	متقاطعين	3
	متقاطعين	4
	متعلمدين	5
	متوازيين	6
	متقاطعين لانه اذا استمرا فانهما سيتقاطعين	7

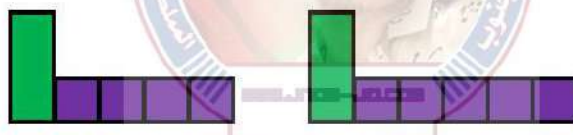
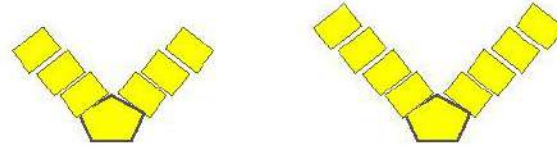


الدرس 4 : الانماط

ملاحظات	الاجابة	رقم السؤال
		1
		2
		3
		4

## اختبار نهاية الوحدة



ملاحظات	الاجابة	رقم السؤال
	مستقيم	1
	شعاع	2
	غير ذلك	3
	قطعة مستقيمه	4
	منفرجه	5
	قائمة	6
	حاده	7
	متوازيين	8
	متقاطعين	9
	متعامدين	10
		11
		12
	للمصمم : الشكل الاول من جهة اليسار	13
	للمصمم : الشكل الاول من جهة اليسار	14
	36	15
	56	16
	7	17
	9	18

حلول كتاب التمارين للصف الثالث

الوحدة الأولى : الاعداد

استعد لدراسة الوحدة

ملاحظات	الاجابة	رقم السؤال
	132	1
	256	2
	339 , 349 , 359 , 369	3
	693, 793 , 893 , 993	4
	للمصمم يكتب العدد 489 ويكون قريب من العدد 500	5
	للمصمم يكتب العدد 714 ويكون قريب من العدد 700	6
	>	7
	>	8




الدرس 1 : الاعداد ضمن اربع منازل

ملاحظات	الاجابة	رقم السؤال
	1165	1
	3256	2
	3850	3
	6354	4
	2613	5
	3482	6
	3200	7
	5020	8
	2319	9
	4984	10



الدرس 2 : القيمة المنزلية

ملاحظات	الاجابة	رقم السؤال
	$3000 + 600 + 30 + 4$	1
	$5000 + 200 + 10 + 7$	2
	$3000 + 500 + 90 + 2$	3
	للمصمم - صل بين 9465 و تسعة الاف واربعمئة وخمس وستون - صل بين 9542 و تسعة الاف وخمس واثان واربعون - صل بين 7463 وسبعة الاف واربعمئة وثلاث وستون - صل بين 7604 و سبعة الاف وستمئة واربعة	4
	 5300 5030 5003 5210 5021 5012 5120 5102	5

ملاحظات	الاجابة	رقم السؤال
	<	1
	<	2
	>	3
	<	4
	<	5
	>	6
		7
	6284	
	3805	8
	9999	9
	1000	10



الدرس 4 : ترتيب الاعداد

ملاحظات	الاجابة	رقم السؤال
	2736 , 2720 , 2574 , 2473 , 2428	1
	5279 , 5346 , 5349 , 5462 , 5463	2
	1801 , 1824 , 1835 , 1876 , 1889	3
	6534 , 6135 , 5631 , 4325	4

ملاحظات	الاجابة	رقم السؤال
	للمصمم : ضع العدد 3782 عند الجزء الثاني بعد العدد 3780 ثم ارسم منه سهمًا باتجاه العدد 3780	1
	للمصمم : ضع العدد 4297 عند الجزء السابع بعد العدد 4290 ثم ارسم منه سهمًا باتجاه العدد 4300	2
	للمصمم : ضع العدد 5614 عند الجزء الرابع بعد العدد 6510 ثم ارسم منه سهمًا باتجاه العدد 6510	3
	للمصمم : ضع العدد 1025 عند الجزء الخامس بعد العدد 5200 ثم ارسم منه سهمًا باتجاه العدد 1030	4
	للمصمم : ضع العدد 5294 بعد الجزء التاسع مباشرة بعد العدد 3780 ثم ارسم منه سهمًا باتجاه العدد 5300	5
	للمصمم : ضع العدد 1852 بعد الجزء الخامس مباشرة بعد العدد 1852 ثم ارسم منه سهمًا باتجاه العدد 1900	6
	للمصمم : ضع العدد 4407 بعد العدد 1800 مباشرة وقريب من الجزء الاول ثم ارسم منه سهمًا باتجاه العدد 1800	7
	2000	8
	5000	9
	7000 للمصمم تكون على اليمين	10
	9000 للمصمم تكون على اليمين	11
	7000 للمصمم تكون على اليسار	12
	6000 للمصمم تكون على اليسار	13
	6000 للمصمم تكون على اليمين	14
	9000 للمصمم تكون على اليمين	15
	8000 للمصمم تكون على اليسار	16
	3000 للمصمم تكون على اليمين	17
	8962	18

ملاحظات	الاجابة	رقم السؤال
	1055	1
	4938	2
	7923 , 7924 , 7925 , 7926	3
	3569 , 3570 , 3571 , 3572	4
	2414 , 2415 , 2416 , 2417	5
	1976 , 1977, 1978 , 1979	6
	2790 , 2890 , 2990, 3090 , 3190	7
	1529 , 1429 , 1329 , 1229 , 1129	8
	3597 , 4597 , 5597 , 6597	9
	7305 , 6305 , 5305 , 4305 , 3305	10
	273 , 283 , 293 , 303 , 313 , 323 , 333 , 343	11
	4969 , 5069 , 5169 , 5269 , 5369 , 5469 , 5569 , 5669 , 5769	12
	4306 , 5306 , 6306 , 7306 , 8306 , 9306	13
	2183 , 2193 , 2203 , 2213 , 2223	14
	6629 , 7629 , 8629 , 9629	15