


المعلمة آمال عمايرة

الدرس الأول تمثيل البيانات بالصور

أمثل بالصور البيانات الآتية التي يمثل عدد النجوم التي حصل عليها خمس طلاب ؟

الطالب	عدد النجوم
محمد	
مازن	
ليلى	
أمل	
طارق	
المفتاح:	كل  تمثل نجمتين

محمد: 6 نجوم مازن: 4 نجوم ليلى: 8 نجوم أمل: 10 نجوم طارق: نجمتين

=====

أمثل بالصور البيانات الآتية التي يمثل عدد المربعات التي حصل عليها أربع طلاب ؟

الطالب	عدد المربعات
يوسف	
عمر	
علياء	
بتول	
المفتاح:	كل  يمثل 5 مربعات

يوسف: 10 مربعات عمر: 15 مربع علياء: 20 مربع بتول: 25 مربعات

=====

















الاسم -----

الدرس الثاني تفسير البيانات الممثلة بالصور

المعلمة آمال عمايرة

يمثل التمثيل بالصور المجاورة القصص التي يفضلها الطلاب؟

عدد القصص	
     	القصص الخيالية
   	القصص الاسلامية
  	القصص الحقيقية
يمثل طالبين	المفتاح: كل 

1- ما نوع القصص التي يفضلها أكبر عدد من الطلاب؟-----







2- ما نوع القصص الأقل تفضيلا؟-----

3- كم عدد الطلاب جميعهم؟-----

4- ما القصص التي تفضلها؟-----





أمثل البيانات باستعمال اشارات العد ؟

		مربع
		مثلث
		زهرة
		هلال
		نجمة
		سهم

أمثل البيانات التالية في الجدول حيث أن عدد الطلاب الذين يحبون الخضروات كما يأتي؟

8 يفضلون الخيار 4 يفضلون الخس 10 يفضلون البطاطا 9 يفضلون الجزر

نوع الخضار	الاشارات	المجموع
الخيار		
الخس		
البطاطا		
الجزر		



الاسم ----- الدرس الرابع جمع البيانات وتنظيمها المعلمة آمال عمايرة

لدى معلمة الرياضة لوحة بعدد الهوايات لطلاب الصف الثاني ، فقامت بعد هذه الهوايات وتصنيفها في جدول البيانات الآتي ؟

سباحة ، رسم ، قراءة القصص، سباحة ، سباحة ، رسم ، قراءة القصص، رسم ، سباحة ، سباحة

سباحة، رسم،قراءة القصص سباحة،رسم ، قراءة القصص ،سباحة ،رسم

سباحة ، قراءة القصص سباحة ، قراءة القصص، سباحة، رسم

نوع الهواية	الاشارات	المجموع
سباحة		
رسم		
قراءة القصص		

1-عدد الذين يحبون السباحة -----

2-عدد الذين يحبون الرسم -----

3-عدد الذين يحبون قراءة القصص-----

4- كم يزيد عدد الذين يحبون السباحة عن الذين يحبون قراءة القصص-----



الاسم ----- الدرس الخامس

المعلمة آمال عمايرة

تفسير البيانات الممثلة بجدول الاشارات

أجيب عن الأسئلة بالاعتماد على الاشارات في الشكل الآتي؟

الأماكن السياحية المفضلة للطلاب	
البتراء	//// //
العقبة	//// // // //
البحر الميت	//// //
وادي رم	//// //

1- كم عدد الطلاب الذين يحبون زيارة العقبة -----

2- كم عدد الطلاب الذين يحبون زيارة البحر الميت -----

3- أي الأماكن حصلت على العدد نفسه من الأصوات -----

4- أي الأماكن الذي حصلت على أقل عدد أصوات -----

5- أي الأماكن الذي حصلت على أعلى أصوات -----