

أعد تصاعديا (بزيادة)

العد بالواحدات 1+	653	654					
العد بالعشرات 10+	232	242					
العد بالمئات 100+	356	456					

أعد تنازليا (بنقصان)

العد بالواحدات 1-	439	438					
العد بالعشرات 10-	490	480					
العد بالمئات 100-	855	755					


100 200 -----

10 20 -----



الوحدة الثانية الدرس الثانية

ورقة عمل درس الأعداد الفردية والزوجية



المعلمة آمال عميرة

الأعداد الزوجية هي 0/2/4/6/8

الأعداد الفردية هي 1/3/5/7/9

عند تحديد العدد الزوجي أو الفردي انظر الى منزلة الآحاد وأحدد حسب الرقم



١- أضع دائرة حول العدد الزوجي:

174

741

936

659

178

250

496

671

493

462

٢- أضع دائرة حول العدد الفردي :

660

945

183

198

366

729

547

251

3- أكتب زوجي أو فردي تحت الرقم فيما يلي :





167

158

483

371

290



4- أكتب ثلاث أعداد زوجي

أكتب ثلاث أعداد فردي

العدد السابق والعدد التالي

العدد السابق	العدد	العدد التالي
	564	
	987	
	213	
	119	
	753	
	430	

=====

أكتب العدد الواقع بين العددين ؟

864 ----- 866

510 ----- 512


938 ----- 940

116----- 118

892 -----894

744-----746

=====



أقارن بين الأعداد بوضع اشارة $>$ أصغر من أو أكبر من $<$ أو يساوي $=$

956

754

614

814

354

ثلاث مئة

مئتان وأربع وعشرون

227

456

542

745

635

986

982

ستمئة وتسعون

694

145

275

345

185



الترتيب التصاعدي

ترتيب الأعداد تصاعدياً من العدد الأصغر إلى الأكبر

654	142	378
-----	-----	-----



أبدأ من هنا

--	--	--

562	517	536
-----	-----	-----



--	--	--

856	859	852
-----	-----	-----



--	--	--



الترتيب التنازلي

ترتيب الأعداد تنازليا من العدد الأكبر الى الأصغر

123	756	413
-----	-----	-----



أبدأ من هنا

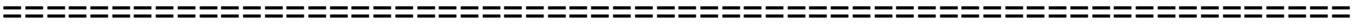
--	--	--



985	904	963
-----	-----	-----



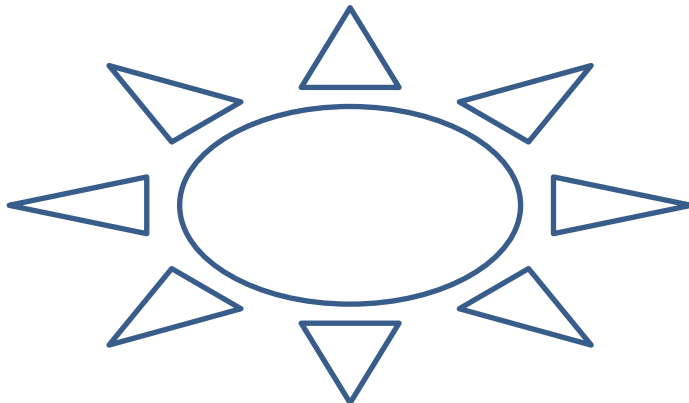
--	--	--



326	321	325
-----	-----	-----

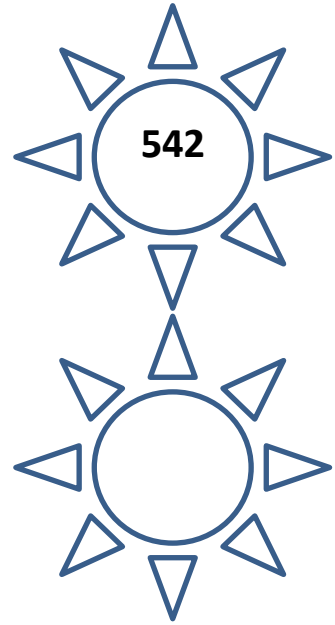
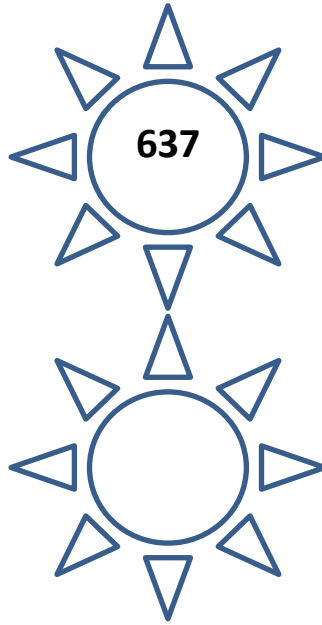
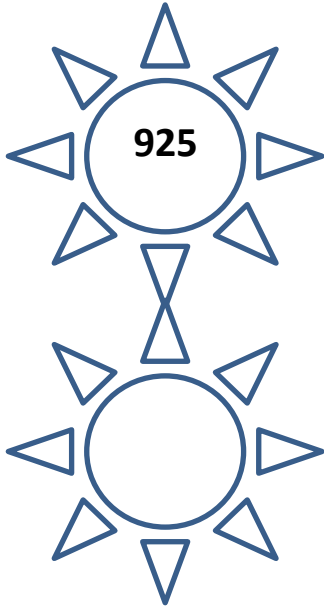


--	--	--



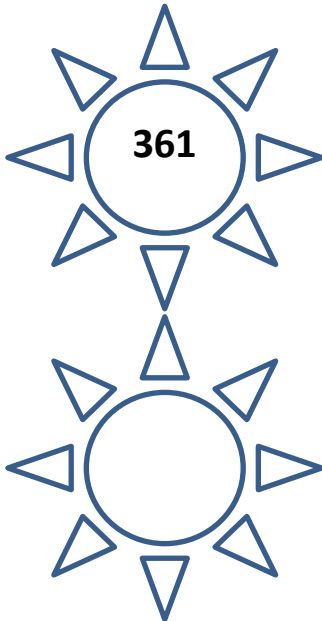


تقريب الأعداد لأقرب 10 ولأقرب 100

أقرب الأعداد التالية لأقرب 10



أقرب الأعداد التالية لأقرب 100



لأقرب 100	لأقرب 10	العدد
		956
		321
		648
		278

1- أعد واحداث وعشرات ومئات حسب الجدول؟

561	562			
950	960			
470	460			

2- أحوط العدد الزوجي والفردى فىما يلى ؟

(زوجى ، فردى) 845 (زوجى ، فردى) 169 (زوجى ، فردى) 564

3- أكتب العدد السابق والتالى فىما يلى؟



العدد السابق	العدد	العدد التالى
	536	
	820	
	413	

4- قارن بين الأعداد بوضع إشارة > أو < أو = ؟

749 745 456 985

236 236 630 632

5- أرتب الأعداد مرة تصاعديا ومرة تنازليا؟

	754	374	129
تصاعديا 			
تنازليا 			

6- أقرب الأعداد التالية لأقرب 10 ولأقرب 100

564----- 987 ----- 465 -----  لأقرب 10

326----- 657----- 182-----  لأقرب 100