

تدريب تهيئة ؟

أكتب الأعداد بالكلمات ؟

96

78

45

32

30

15

58

64

أكتب بخط واضح الأسعار ومثلها على لوحة المنازل ومن ثم أكتبها بالكلمات ؟



573

340

256

آحاد عشرات مئات

آحاد عشرات مئات

آحاد عشرات مئات

--	--	--

--	--	--

--	--	--



أبدأ من هنا



أكتب من 1 الى 50

1									10
									50

أكمّل الفـ راغ بالاعـ داد فيمـ ا يا يـ ؟

0 -----2-----4----- 6 ----- 8-----10

----- 12-----14-----16-----18----- 20

-----22-----24-----26-----28-----30

-----32-----34-----36-----38-----40

-----42-----44-----46-----48-----50



أبدأ من هنا

أكتب من 51 الى 100

51									60

أكمل ما يلي :

50-----52-----54-----56-----58-----60






-----62-----64-----66-----68-----70

-----72-----74-----76-----78-----80




-----82-----84-----86----- 88-----90

-----92-----94-----96-----98-----100





10=




العدد	عشرات	آحاد
14	-----	-----
60	-----	-----
98	-----	-----
35	-----	-----
7	-----	-----

أكتب العدد:



عشرات

آحاد



عشرات

آحاد



3 آحاد و5 عشرات



ثلاثة وستون



8 آحاد و9 عشرات



سبعة وأربعون



اثنا عشر




ثمانون

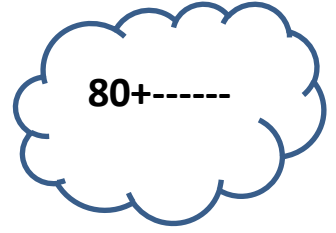
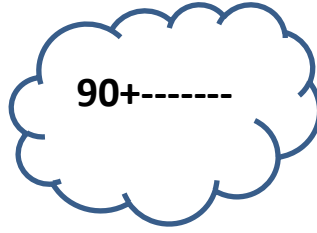
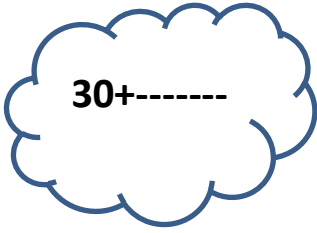
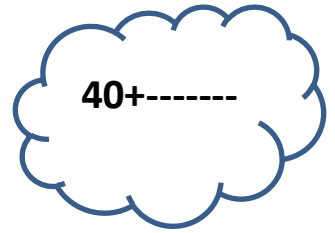




واحد وعشرون





أكمل ماييلي لتكوين العدد 100



=====

كم عشرة في كل مائيلي :

عشرة = 100 -----

عشرة = 800 -----

عشرة = 500 -----

عشرة = 600 -----

=====

كم مئة في كل مائيلي :

700 = -----

400 = -----

أكمل:

100								
-----	--	--	--	--	--	--	--	--

الاسم -----

الوحدة الاولى الدرس الثاني

المعلمة آمال عمايرة

الأعداد ضمن ثلاث منازل


أمثل الأعداد في لوحة المنازل:

568

آحاد	عشرات	مئات

705

آحاد	عشرات	مئات



312

آحاد	عشرات	مئات

980

آحاد	عشرات	مئات



## القيمة المنزلية

أكتب القيمة المنزلية للأعداد التي تحتها خط:

612

986

360

235

741

425

أكتب الأعداد بالصورة التحليلية :

652

=

+

+

509

830

978

=

+

+



500+60+8=

900+0+3=

700+60=

أكتب الأعداد التالية:



## القيمة المنزلية

أملأ الجدول الآتي بما يناسبه

القيمة المنزلية للأعداد				
العدد	الصورة التحليلية	مئات	عشرات	آحاد
564	$500 + \text{-----} + 4$			
320	$300 + 20 + \text{-----}$			
408	$\text{-----} + 0 + 8$			
175	$100 + \text{-----} + \text{-----}$			

=====

5 آحاد و 9 عشرات و 4 مئات = -----

6 آحاد و 2 عشر ومئتان = -----

7 آحاد و 3 مئات = -----


=====

**فكر:** أنا عدد مكون من ثلاث منازل آحادي 3 وعشراتي أكبر من آحادي باثنان ومئاتي يساوي مجموع آحادي وعشراتي فمن أنا ???

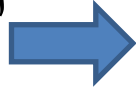


قراءة الأعداد وكتابتها بالأرقام

أكتب الأعداد التالية بالأرقام ؟ أبدأ الكتابة من اليسار



أبدأ الكتابة من هنا



..... خمس مئة وأربع وعشرون

..... مئة وثلاث وستون

..... تسع مئة وسبعة

..... ست مئة وثمانون

..... مئتان وأربع عشر

..... ثلاث مئة

..... سبع مئة وواحد وتسعون

..... أربع مئة وخمسة

=====

قراءة الأعداد وكتابتها بالكلمات



أكتب الأعداد التالية بالكلمات؟ أبدأ الكتابة من اليمين

567 -----



201 -----

475 -----

905 -----

830 -----

400 -----

=====



أكتب الأعداد التالية بالصورة التحليلية ؟

650=-----+-----+-----

987=-----+-----+-----

102=-----+-----+-----

=====

أكتب القيمة المنزلية للرقم الذي تحته خط؟

652 -----

421 -----

317 -----

589 -----

=====

أكتب الأعداد بالأرقام؟

ست مئة وثلاث وخمسون -----

تسع مئة وأربعون -----

=====

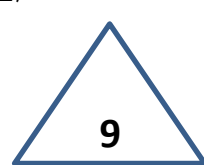
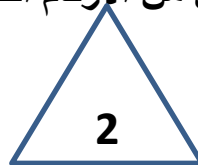
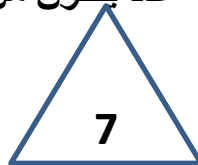
أكتب الأعداد بالكلمات ؟

562-----

678-----

=====

أكون من الأرقام التالية عدد يتكون من ثلاث منازل ؟



----- أكبر عدد

----- أصغر عدد